

Multi Tasking Non Technical Staff and Havaldar CBIC and CBN Examination 2022

| | |
|----------------|---|
| Roll Number | |
| Candidate Name | |
| Venue Name | R K Digital Computer Centre 2 |
| Exam Date | 19/05/2023 |
| Exam Time | 9:00 AM - 10:30 AM |
| Subject | MTS Non Tech Havaldar CBIC and CBN Examination 2022 |

Section : Numerical and Mathematical Ability

Q.1 Rs.56,000 की धनराशि पर दो वर्षों के लिए 15% वार्षिक दर पर चक्रवृद्धि ब्याज (वार्षिक रूप से संयोजित) और साधारण ब्याज के बीच अंतर ज्ञात कीजिए।

- Ans
- 1. Rs. 1300
 - 2. Rs. 1260
 - 3. Rs. 1100
 - 4. Rs. 2410

Question Type : MCQ

Question ID : 264330133767

Option 1 ID : 264330524092

Option 2 ID : 264330524091

Option 3 ID : 264330524094

Option 4 ID : 264330524093

Status : Answered

Chosen Option : 2

Q.2 दो संख्याओं का गुणनफल 38025 है और उनका महत्तम समापवर्तक 65 है। इन संख्याओं का लघुत्तम समापवर्तक क्या है?

- Ans
- 1. 435
 - 2. 455
 - 3. 585
 - 4. 715

Question Type : MCQ

Question ID : 264330137338

Option 1 ID : 264330537982

Option 2 ID : 264330537980

Option 3 ID : 264330537981

Option 4 ID : 264330537979

Status : Answered

Chosen Option : 3

Q.3 एक कार्यालय में 70% कर्मचारी पुरुष हैं, 70% पुरुषों और 30% महिलाओं ने अनुज को मत दिया। अनुज को मत देने वाले लोगों का प्रतिशत ज्ञात कीजिए।

- Ans
- 1. 52%
 - 2. 56%
 - 3. 54%
 - 4. 58%

Question Type : MCQ
Question ID : 264330133760
Option 1 ID : 264330524066
Option 2 ID : 264330524063
Option 3 ID : 264330524064
Option 4 ID : 264330524065
Status : Answered
Chosen Option : 4

Q.4 A अकेले किसी कार्य को 16 दिनों में पूरा कर सकता है और B अकेले उसी कार्य को 96 दिनों में पूरा कर सकता है। A और B दोनों मिलकर इसी कार्य को कितने दिनों में पूरा कर सकते हैं?

- Ans
- 1. 88/13 दिन
 - 2. 96/7 दिन
 - 3. 96/13 दिन
 - 4. 88/14 दिन

Question Type : MCQ
Question ID : 264330135145
Option 1 ID : 264330529517
Option 2 ID : 264330529515
Option 3 ID : 264330529516
Option 4 ID : 264330529518
Status : Answered
Chosen Option : 2

Q.5 एक व्यक्ति एक कार को 8 प्रतिशत के बड़े पर बेचता है। यदि वह 4 प्रतिशत का बड़ा देता है, तो उसे 8 प्रतिशत के बड़े की तुलना में Rs.7200 अधिक प्राप्त होते हैं। कार का अंकित मूल्य क्या है?

- Ans
- 1. Rs. 180000
 - 2. Rs. 160000
 - 3. Rs. 150000
 - 4. Rs. 110000

Question Type : MCQ
Question ID : 264330137334
Option 1 ID : 264330537964
Option 2 ID : 264330537965
Option 3 ID : 264330537963
Option 4 ID : 264330537966
Status : Answered
Chosen Option : 1

Q.6 मोहित और सुनील की वर्तमान आयु का अनुपात 4:5 है। मोहित, सुनील से 7 वर्ष छोटा है। 7 वर्षों के बाद मोहित की आयु और सुनील की आयु का अनुपात क्या होगा?

- Ans
- 1. 5 : 6
 - 2. 8 : 9
 - 3. 6 : 7
 - 4. 7 : 8

Question Type : MCQ

Question ID : 264330137330

Option 1 ID : 264330537950

Option 2 ID : 264330537949

Option 3 ID : 264330537947

Option 4 ID : 264330537948

Status : Answered

Chosen Option : 1

Q.7 दो स्टेशन L और M एक-दूसरे से 720 km की दूरी पर हैं। एक रेलगाड़ी L से M की ओर जाती है और उसी समय एक दूसरी रेलगाड़ी M से L की ओर जाती है। दोनों रेलगाड़ियाँ 24 घंटों के बाद मिलती हैं। यदि पहली रेलगाड़ी की चाल दूसरी रेलगाड़ी से 10 km/hr अधिक है, तो धीमी गति से चल रही रेलगाड़ी की चाल क्या है?

- Ans
- 1. 20 km/hr
 - 2. 10 km/hr
 - 3. 14 km/hr
 - 4. 16 km/hr

Question Type : MCQ

Question ID : 264330137323

Option 1 ID : 264330537922

Option 2 ID : 264330537921

Option 3 ID : 264330537920

Option 4 ID : 264330537919

Status : Answered

Chosen Option : 2

Q.8 यदि $(1/2)$ of 20 + $(1/4)$ of 28 - $(1/3)$ of x = 10, तो X का मान क्या है?

- Ans
- 1. 21
 - 2. 10
 - 3. 28
 - 4. 7

Question Type : MCQ

Question ID : 264330133628

Option 1 ID : 264330523535

Option 2 ID : 264330523537

Option 3 ID : 264330523538

Option 4 ID : 264330523536

Status : Answered

Chosen Option : 1

Q.9 एक घन का आयतन 2.197 cm^3 है। घन की भुजा ज्ञात कीजिए।

- Ans
- 1. 1.2 cm
 - 2. 1.1 cm
 - 3. 1.3 cm
 - 4. 1.4 cm

Question Type : MCQ

Question ID : 264330135149

Option 1 ID : 264330529534

Option 2 ID : 264330529533

Option 3 ID : 264330529532

Option 4 ID : 264330529531

Status : Answered

Chosen Option : 3

Q.10 अजय Rs. 7560 में एक स्कूटर खरीदता है और उसकी मरम्मत पर Rs. 540 खर्च करता है। वह इसे Rs. 9000 में बेच देता है। उसका लाभ प्रतिशत कितना है?

- Ans
- 1. 6.25%
 - 2. 11.11%
 - 3. 9.09%
 - 4. 8.33%

Question Type : MCQ

Question ID : 264330138375

Option 1 ID : 264330542109

Option 2 ID : 264330542107

Option 3 ID : 264330542108

Option 4 ID : 264330542110

Status : Answered

Chosen Option : 2

Q.11 एक थैले में 2 रुपए, 5 रुपए और 10 रुपए के सिक्कों के रूप में Rs.840 हैं। 2 रुपए, 5 रुपए और 10 रुपए के सिक्कों की संख्या 5 : 7 : 6 के अनुपात में है। थैले में सिक्कों की कुल संख्या कितनी है?

- Ans
- 1. 132
 - 2. 158
 - 3. 102
 - 4. 144

Question Type : MCQ

Question ID : 264330137331

Option 1 ID : 264330537951

Option 2 ID : 264330537952

Option 3 ID : 264330537953

Option 4 ID : 264330537954

Status : Answered

Chosen Option : 4

Q.12 एक रेलगाड़ी 85 km/hr की औसत चाल से चलती है। 1275 km की दूरी तय करने में रेलगाड़ी द्वारा लिया गया समय ज्ञात कीजिए।

- Ans
- 1. 14 घंटे
 - 2. 17 घंटे
 - 3. 15 घंटे
 - 4. 12 घंटे

Question Type : MCQ

Question ID : 264330135069

Option 1 ID : 264330529212

Option 2 ID : 264330529213

Option 3 ID : 264330529214

Option 4 ID : 264330529211

Status : Answered

Chosen Option : 3

Q.13 शिवम ने दो घड़ियाँ खरीदीं, पहली Rs.12000 में और दूसरी Rs.10000 में। उसने दोनों घड़ियों को बेच दिया, पहली को 10 प्रतिशत के लाभ पर और दूसरी को 10 प्रतिशत की हानि पर। उसे कुल कितना लाभ या हानि हुई?

- Ans
- 1. 0.909 प्रतिशत हानि
 - 2. 0.909 प्रतिशत लाभ
 - 3. 2.25 प्रतिशत लाभ
 - 4. 2.25 प्रतिशत हानि

Question Type : MCQ

Question ID : 264330137329

Option 1 ID : 264330537945

Option 2 ID : 264330537946

Option 3 ID : 264330537944

Option 4 ID : 264330537943

Status : Answered

Chosen Option : 3

Q.14 A और B मिलकर एक कार्य को 7.2 घंटों में पूरा कर सकते हैं। यदि B अकेले उसी कार्य को 18 घंटों में पूरा कर सकता है, तो A अकेले उस कार्य को कितने घंटों में कर सकता है?

- Ans
- 1. 18 घंटों में
 - 2. 10 घंटों में
 - 3. 12 घंटों में
 - 4. 15 घंटों में

Question Type : MCQ

Question ID : 264330138450

Option 1 ID : 264330542407

Option 2 ID : 264330542408

Option 3 ID : 264330542409

Option 4 ID : 264330542410

Status : Answered

Chosen Option : 3

Q.15 यदि एक बेलन का आयतन $5000 m^3$ है और इसकी त्रिज्या $10 m$ है, तो बेलन का अनुमानित वक्र पृष्ठीय क्षेत्रफल कितना है? ($\pi = 3.14$)

- Ans
- 1. $1024 m^2$
 - 2. $954 m^2$
 - 3. $1000 m^2$
 - 4. $968 m^2$

Question Type : MCQ

Question ID : 264330138455

Option 1 ID : 264330542428

Option 2 ID : 264330542430

Option 3 ID : 264330542427

Option 4 ID : 264330542429

Status : Answered

Chosen Option : 3

Q.16 Rs.14400 की राशि पर 12 महीनों के लिए 11% वार्षिक ब्याज दर पर साधारण ब्याज कितना है?

- Ans
- 1. Rs. 1440
 - 2. Rs. 1584
 - 3. Rs. 1331
 - 4. Rs. 1680

Question Type : MCQ

Question ID : 264330138047

Option 1 ID : 264330540796

Option 2 ID : 264330540795

Option 3 ID : 264330540797

Option 4 ID : 264330540798

Status : Answered

Chosen Option : 2

Q.17 दो संख्याएँ 9 : 7 के अनुपात में हैं। यदि उनका महत्तम समापवर्तक (HCF) 6 है, तो उनका लघुत्तम समापवर्तक (LCM) ज्ञात कीजिए।

- Ans
- 1. 252
 - 2. 189
 - 3. 378
 - 4. 126

Question Type : MCQ

Question ID : 264330135414

Option 1 ID : 264330530566

Option 2 ID : 264330530565

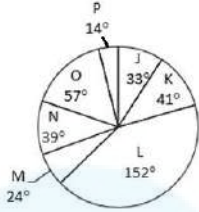
Option 3 ID : 264330530564

Option 4 ID : 264330530563

Status : Answered

Chosen Option : 3

Q.18 नीचे दिए गए वृत्त आलेख में 7 अलग-अलग कंपनियों की बिक्री को दर्शाया गया है। इन सभी 7 कंपनियों की कुल बिक्री 1080 है। एक कंपनी की बिक्री को इन सभी 7 कंपनियों की कुल बिक्री के सापेक्ष डिग्री में दर्शाया गया है।



J, L, M और N की कुल बिक्री और K, N, O और P की कुल बिक्री का अनुपात कितना है?

- Ans
- ✗ 1. 129 : 252
 - ✗ 2. 151 : 248
 - ✓ 3. 248 : 151
 - ✗ 4. 231 : 149

Question Type : MCQ

Question ID : 264330137342

Option 1 ID : 264330537998

Option 2 ID : 264330537995

Option 3 ID : 264330537997

Option 4 ID : 264330537996

Status : Answered

Chosen Option : 3

Q.19 निम्नलिखित तालिका में दिए गए वर्षों में एक कंपनी द्वारा किए गए वार्षिक व्यय को (लाख रुपये में) दर्शाया गया है। इन वर्षों में परिवहन (transport) पर किए गए कुल व्यय और वेतन (salary) पर किए गए कुल व्यय के बीच कितना अंतर है?

| Year | Item of Expenditure | | | |
|------|---------------------|-----------|--------|-----|
| | Fuel | Transport | Salary | Tax |
| 2011 | 100 | 150 | 400 | 60 |
| 2012 | 92 | 140 | 380 | 64 |
| 2013 | 84 | 145 | 420 | 74 |
| 2014 | 102 | 155 | 450 | 78 |
| 2015 | 110 | 158 | 490 | 84 |

Year = वर्ष

Item of Expenditure = व्यय के प्रयोजन

Fuel = ईंधन, Transport = परिवहन, Salary = वेतन, Tax = कर

- Ans
- ✗ 1. Rs.2140 लाख
 - ✗ 2. Rs.748 लाख
 - ✓ 3. Rs.1392 लाख
 - ✗ 4. Rs.896 लाख

Question Type : MCQ

Question ID : 264330133642

Option 1 ID : 264330523593

Option 2 ID : 264330523594

Option 3 ID : 264330523591

Option 4 ID : 264330523592

Status : Answered

Chosen Option : 3

Q.20 A, B और C का औसत भार 40 kg है। यदि A और B का औसत भार 35 kg है और B और C का औसत भार 31 kg है, तो B का भार कितना है?

- Ans
- 1. 50 kg
 - 2. 24 kg
 - 3. 12 kg
 - 4. 36 kg

Question Type : MCQ
Question ID : 264330137324
Option 1 ID : 264330537924
Option 2 ID : 264330537926
Option 3 ID : 264330537923
Option 4 ID : 264330537925
Status : Answered
Chosen Option : 3

Section : Reasoning Ability and Problem Solving

Q.1 एक निश्चित कूट भाषा में, 'AGEING' को '1H23OH' लिखा जाता है। उस भाषा में 'UTOPIA' को कैसे लिखा जाएगा?

- Ans
- 1. 54UQ31
 - 2. 5U4R31
 - 3. 5S4R31
 - 4. 5U4Q31

Question Type : MCQ
Question ID : 264330134937
Option 1 ID : 264330528684
Option 2 ID : 264330528685
Option 3 ID : 264330528686
Option 4 ID : 264330528683
Status : Answered
Chosen Option : 4

Q.2 उस विकल्प को चुनिए जो तीसरी संख्या से ठीक उसी प्रकार संबंधित है जिस प्रकार दूसरी संख्या पहली संख्या से संबंधित है।
434 : 33 :: 125 : ?

- Ans
- 1. 21
 - 2. 27
 - 3. 24
 - 4. 30

Question Type : MCQ
Question ID : 264330133479
Option 1 ID : 264330522947
Option 2 ID : 264330522949
Option 3 ID : 264330522948
Option 4 ID : 264330522950
Status : Answered
Chosen Option : 3

Q.3 उस विकल्प को चुनिए जो पाँचवे पद से ठीक उसी प्रकार संबंधित है जिस प्रकार दूसरा पद पहले पद से संबंधित है और चौथा पद तीसरे पद से संबंधित है।

AF14 : FO28 :: RH13 : WQ27 :: LC26 : ?

- Ans**
- 1. QM40
 - 2. QL40
 - 3. QL54
 - 4. QM54

Question Type : **MCQ**

Question ID : **264330137368**

Option 1 ID : **264330538101**

Option 2 ID : **264330538100**

Option 3 ID : **264330538102**

Option 4 ID : **264330538099**

Status : **Answered**

Chosen Option : **2**

Q.4 उस विकल्प को चुनिए जो पाँचवे पद से ठीक उसी प्रकार संबंधित है जिस प्रकार दूसरा पद पहले पद से संबंधित है और चौथा पद तीसरे पद से संबंधित है।

NP3 : PS27 :: AQ4 : CT64 :: FE5 : ?

- Ans**
- 1. HH125
 - 2. II125
 - 3. HI125
 - 4. IH125

Question Type : **MCQ**

Question ID : **264330137367**

Option 1 ID : **264330538097**

Option 2 ID : **264330538095**

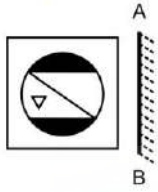
Option 3 ID : **264330538098**

Option 4 ID : **264330538096**

Status : **Answered**


Chosen Option : **1**

Q.5 दी गई आकृति के उस सही दर्पण प्रतिबिंब को चुनिए, जो नीचे दर्शाए गए अनुसार दर्पण को AB पर रखने पर बनेगा।




Ans

✗ 1.



✗ 2.



✗ 3.



✓ 4.



Question Type : MCQ

Question ID : 264330133384

Option 1 ID : 264330522567

Option 2 ID : 264330522570

Option 3 ID : 264330522568

Option 4 ID : 264330522569

Status : Answered

Chosen Option : 4

Q.6 निम्नलिखित प्रश्न में, दी गई श्रृंखला में लुप्त संख्या को चुनिए ।

36, 73, 147, 295, 591, ?

- Ans
- 1. 1163
 - 2. 1188
 - 3. 1197
 - 4. 1183

Question Type : MCQ
Question ID : 264330137379
Option 1 ID : 264330538146
Option 2 ID : 264330538144
Option 3 ID : 264330538145
Option 4 ID : 264330538143
Status : Answered
Chosen Option : 4

Q.7 एक श्रृंखला दी गई है जिसमें एक पद लुप्त है। दिए गए विकल्पों में से उस सही विकल्प को चुनिए जो श्रृंखला को पूरा करेगा।

RAQ, TCS, VEU, ?, ZIY

- Ans
- 1. XGX
 - 2. XHX
 - 3. XGW
 - 4. XHW

Question Type : MCQ
Question ID : 264330137365
Option 1 ID : 264330538089
Option 2 ID : 264330538090
Option 3 ID : 264330538087
Option 4 ID : 264330538088
Status : Answered
Chosen Option : 3

Q.8 यदि A का अर्थ 'जोड़', B का अर्थ 'गुणा', C का अर्थ 'घटाव' और D का अर्थ 'भाग' हो, तो निम्नलिखित समीकरण का मान क्या होगा?

15 C 9 A 7 B 2 = ?

- Ans
- 1. 15
 - 2. 36
 - 3. 20
 - 4. 45

Question Type : MCQ
Question ID : 264330137848
Option 1 ID : 264330540002
Option 2 ID : 264330540001
Option 3 ID : 264330540000
Option 4 ID : 264330539999
Status : Answered
Chosen Option : 3

Q.9 आठ खिलाड़ी अनिल, कमल, राम, संजय, आकाश, विवेक, राहुल और रामू एक वृत्ताकार मेज के चारों ओर केंद्र की ओर मुख करके बैठे हैं (परंतु जरूरी नहीं कि वे इसी क्रम में बैठें हों)। संजय, अनिल के बाईं ओर से दूसरे स्थान पर है। राहुल, अनिल के दाईं ओर से चौथे स्थान पर है। राम, राहुल या संजय का निकटतम पड़ोसी नहीं है। आकाश, राम के दाईं ओर से दूसरे स्थान पर है। कमल, विवेक के दाईं ओर से दूसरे स्थान पर है। रामू के दाईं ओर से तीसरे स्थान पर कौन है?

- Ans
- 1. कमल
 - 2. संजय
 - 3. विवेक
 - 4. राहुल

Question Type : MCQ
Question ID : 264330137373
Option 1 ID : 264330538119
Option 2 ID : 264330538121
Option 3 ID : 264330538120
Option 4 ID : 264330538122
Status : Answered
Chosen Option : 3

Q.10 उस विकल्प को चुनिए जिसमें समुच्चय की संख्याएँ वही संबंध साझा करती हैं जो दिए गए समुच्चय में संख्याओं द्वारा साझा किया जाता है। (ध्यान दें: संख्याओं को उनके घटक अंकों में अलग-अलग किए बिना, पूर्ण संख्याओं पर संक्रियाएँ की जानी चाहिए। उदा. 13 - 13 पर संक्रियाएँ जैसे 13 को जोड़ना /घटाना /गुणा करना आदि किया जा सकता है। 13 को 1 और 3 में अलग-अलग करने की और फिर 1 और 3 पर गणितीय संक्रियाएँ करने की अनुमति नहीं है)

(15, 25, 35)

(45, 55, 65)

- Ans
- 1. (55, 60, 70)
 - 2. (45, 55, 70)
 - 3. (55, 75, 85)
 - 4. (55, 65, 75)

Question Type : MCQ
Question ID : 264330137381
Option 1 ID : 264330538151
Option 2 ID : 264330538153
Option 3 ID : 264330538152
Option 4 ID : 264330538154
Status : Answered
Chosen Option : 4

Q.11 एक निश्चित कूट भाषा में, 'SOWHF' को 'PLTEC' लिखा जाता है। उस भाषा में 'TQMGD' को कैसे लिखा जाएगा?

- Ans
- 1. QNJDA
 - 2. QNDJD
 - 3. QNJDE
 - 4. QJNDD

Question Type : MCQ
Question ID : 264330133531
Option 1 ID : 264330523156
Option 2 ID : 264330523157
Option 3 ID : 264330523155
Option 4 ID : 264330523158
Status : Answered
Chosen Option : 1

Q.12 दिए गए दो चिन्हों को आपस में बदलने पर दिए गए समीकरण का मान क्या होगा?

\times और \div ; $68 \times 17 + 34 \div 2 - 18$

Ans 1. 54

2. 46

3. 35

4. 60

Question Type : **MCQ**

Question ID : **264330137382**

Option 1 ID : **264330538155**

Option 2 ID : **264330538157**

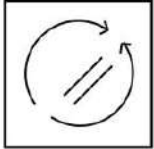
Option 3 ID : **264330538158**

Option 4 ID : **264330538156**

Status : **Answered**

Chosen Option : 1

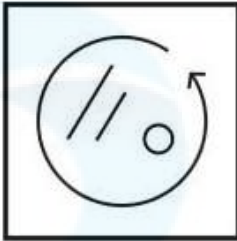
Q.13 Select the option figure in which the given figure (X) is embedded as its part (rotation is NOT allowed).



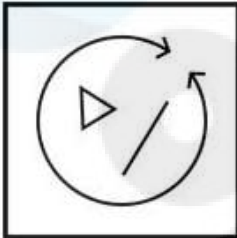
X

Ans


✗ 1.



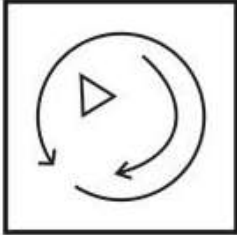
✗ 2.



✓ 3.



✗ 4.



Question Type : MCQ

Question ID : 264330133383

Option 1 ID : 264330522564

Option 2 ID : 264330522563

Option 3 ID : 264330522566

Option 4 ID : 264330522565

Status : Answered

Chosen Option : 3

Q.14 पाँच लड़कियाँ मानसी, काजल, ऋतु, टीना और रिया के अंकों की तुलना की जाती है। रिया के अंक मानसी से कम लेकिन टीना से अधिक हैं। ऋतु के अंक टीना, रिया और मानसी से कम हैं। काजल के अंक ऋतु से कम हैं। कितनी लड़कियों के अंक टीना के अंकों से कम हैं?

Ans ✓ 1. 2

✗ 2. 1

✗ 3. 4

✗ 4. 3

Question Type : MCQ

Question ID : 264330137375

Option 1 ID : 264330538130

Option 2 ID : 264330538129

Option 3 ID : 264330538128

Option 4 ID : 264330538127

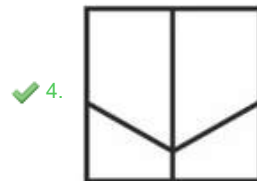
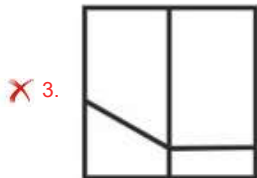
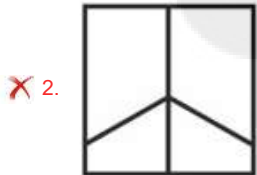
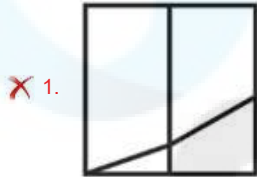
Status : Answered

Chosen Option : 1

Q.15 कौन-सी उत्तर आकृति प्रश्न आकृति में दिए गए पैटर्न को पूरा करेगी?



Ans



Question Type : MCQ

Question ID : 264330137386

Option 1 ID : 264330538172

Option 2 ID : 264330538173

Option 3 ID : 264330538174

Option 4 ID : 264330538171

Status : Answered

Chosen Option : 4

Q.16 एक निश्चित कूट भाषा में, 'HED' को '160' लिखा जाता है, 'FBG' को '84' लिखा जाता है। उस कूट भाषा में 'BEJ' को कैसे लिखा जाएगा?

- Ans
- 1. 80
 - 2. 60
 - 3. 120
 - 4. 100

Question Type : MCQ

Question ID : 264330137520

Option 1 ID : 264330538689

Option 2 ID : 264330538688

Option 3 ID : 264330538687

Option 4 ID : 264330538690

Status : Answered

Chosen Option : 4

Q.17 दी गई श्रृंखला में निम्नलिखित में से कौन-सी संख्या प्रश्न चिन्ह (?) के स्थान पर आएगी?
59, 63, 71, 83, 99, ?

- Ans
- 1. 117
 - 2. 118
 - 3. 119
 - 4. 121

Question Type : MCQ

Question ID : 264330133477

Option 1 ID : 264330522939

Option 2 ID : 264330522942

Option 3 ID : 264330522940

Option 4 ID : 264330522941

Status : Answered

Chosen Option : 3

Q.18 निम्नलिखित प्रश्न में कुछ कथन दिए गए हैं और उन कथनों के आधार पर कुछ निष्कर्ष दिए गए हैं। आपको यह मानना है कि दिए गए कथन सत्य हैं चाहे वे समान्यतः ज्ञात तथ्यों से अलग प्रतीत होते हों। सभी निष्कर्षों को पढ़िए और फिर निश्चय कीजिए कि दिए गए निष्कर्षों में से कौन-सा निष्कर्ष तार्किक रूप से दिए गए कथनों के अनुसार है।

कथन:

- I. सभी S, F हैं।
- II. कुछ S, H हैं।

निष्कर्ष:

- I. कुछ F, S नहीं हैं।
- II. कुछ H, S हैं।

Ans

1. केवल निष्कर्ष I कथनों के अनुसार है
2. दोनों निष्कर्ष I और II कथनों के अनुसार हैं
3. कोई भी निष्कर्ष कथनों के अनुसार नहीं है
4. केवल निष्कर्ष II कथनों के अनुसार है

Question Type : MCQ

Question ID : 264330137376

Option 1 ID : 264330538131

Option 2 ID : 264330538133

Option 3 ID : 264330538134

Option 4 ID : 264330538132

Status : Answered

Chosen Option : 4

Q.19 आठ लड़के अनिल, कमल, राम, संजय, आकाश, विवेक, राहुल और रामू एक वृत्ताकार मेज के चारों ओर केंद्र के विपरीत दिशा में मुख करके बैठे हैं (परंतु जरूरी नहीं कि वे इसी क्रम में बैठें हों)। राम, रामू और अनिल दोनों का निकटतम पड़ोसी है। संजय, रामू के दाईं ओर से तीसरे स्थान पर है। रामू, अनिल के दाईं ओर से दूसरे स्थान पर है। राम, कमल के बाईं ओर से दूसरे स्थान पर है। विवेक, अनिल का निकटतम पड़ोसी नहीं है। आकाश, रामू के दाईं ओर से दूसरे स्थान पर है। विवेक के दाईं ओर से दूसरे स्थान पर कौन है?

Ans

1. आकाश
2. संजय
3. राहुल
4. अनिल

Question Type : MCQ

Question ID : 264330137374

Option 1 ID : 264330538125

Option 2 ID : 264330538123

Option 3 ID : 264330538124

Option 4 ID : 264330538126

Status : Answered

Chosen Option : 4

Q.20 निम्नलिखित प्रश्न में कुछ कथन दिए गए हैं और उन कथनों के आधार पर कुछ निष्कर्ष दिए गए हैं। आपको यह मानना है कि दिए गए कथन सत्य हैं चाहे वे समान्यतः ज्ञात तथ्यों से अलग प्रतीत होते हों। सभी निष्कर्षों को पढ़िए और फिर निश्चय कीजिए कि दिए गए निष्कर्षों में से कौन-सा निष्कर्ष तार्किक रूप से दिए गए कथनों के अनुसार है।

कथन:

I. कुछ M, N हैं।

II कोई J, N नहीं है।

निष्कर्ष:

I. कोई N, J नहीं है।

II कुछ N, M हैं।

III सभी J, M हैं।

Ans

✗ 1. दोनों निष्कर्ष I और III कथनों के अनुसार हैं

✗ 2. दोनों निष्कर्ष II और III कथनों के अनुसार हैं

✓ 3. दोनों निष्कर्ष I और II कथनों के अनुसार हैं

✗ 4. केवल निष्कर्ष II कथनों के अनुसार है

Question Type : MCQ

Question ID : 264330137377

Option 1 ID : 264330538138

Option 2 ID : 264330538136

Option 3 ID : 264330538137

Option 4 ID : 264330538135

Status : Answered

Chosen Option : 1

Section : General Awareness

Q.1 असद अली ख़ाँ एक भारतीय संगीतकार थे जो _____ के वादक थे।

Ans

✗ 1. सितार

✗ 2. संतूर

✓ 3. रुद्र वीणा

✗ 4. बाँसुरी

Question Type : MCQ

Question ID : 264330137393

Option 1 ID : 264330538201

Option 2 ID : 264330538202

Option 3 ID : 264330538199

Option 4 ID : 264330538200

Status : Answered

Chosen Option : 2

Q.2 निम्नलिखित में से किसे व्यापक रूप से संगीत, नाट्य प्रदर्शन, भाषा और 'सविया' नृत्य के नए रूपों को पेश करने का श्रेय दिया जाता है?

- Ans
- 1. उदय शंकर (Uday Shankar)
 - 2. शोवना नारायण (Shovana Narayan)
 - 3. श्रीमंत शंकरदेव (Srimanta Sankardev)
 - 4. पद्मा सुब्रह्मण्यम (Padma Subrahmanyam)

Question Type : MCQ
Question ID : 264330134025
Option 1 ID : 264330525126
Option 2 ID : 264330525124
Option 3 ID : 264330525123
Option 4 ID : 264330525125
Status : Answered
Chosen Option : 3

Q.3 2022 में लोकसभा में पारित कौन-सा विधेयक भारत के एक राज्य /केंद्र शासित प्रदेश के तीन नगर निगमों के एकीकरण से संबंधित है?

- Ans
- 1. दिल्ली नगर निगम (संशोधन) विधेयक
 - 2. कर्नाटक नगर निगम (संशोधन) विधेयक
 - 3. पुडुचेरी नगर निगम (संशोधन) विधेयक
 - 4. चंडीगढ़ नगर निगम (संशोधन) विधेयक

Question Type : MCQ
Question ID : 264330137945
Option 1 ID : 264330540387
Option 2 ID : 264330540389
Option 3 ID : 264330540388
Option 4 ID : 264330540390
Status : Answered
Chosen Option : 1

Q.4 "मेजर ध्यानचंद खेल रत्न पुरस्कार 2021" जीतने वाले एकमात्र क्रिकेट खिलाड़ी कौन हैं?

- Ans
- 1. विराट कोहली
 - 2. रोहित शर्मा
 - 3. हरमनप्रीत कौर
 - 4. मिताली राज

Question Type : MCQ
Question ID : 264330137390
Option 1 ID : 264330538188
Option 2 ID : 264330538187
Option 3 ID : 264330538190
Option 4 ID : 264330538189
Status : Answered
Chosen Option : 4

Q.5 Which among the following is a public sector bank?

- Ans
- 1. Yes Bank
 - 2. ICICI Bank
 - 3. Bank of Baroda
 - 4. Axis Bank

Question Type : MCQ
Question ID : 264330134030
Option 1 ID : 264330525146
Option 2 ID : 264330525145
Option 3 ID : 264330525143
Option 4 ID : 264330525144
Status : Not Answered
Chosen Option : --

Q.6 निम्नलिखित में से किस अवधि को भारत में जनसंख्या विस्फोट की अवधि के रूप में जाना जाता है?

- Ans
- 1. वर्ष 1951 - 1981
 - 2. वर्ष 1921 - 1951
 - 3. वर्ष 1901 - 1921
 - 4. वर्ष 1981 के बाद से अब तक

Question Type : MCQ
Question ID : 264330138265
Option 1 ID : 264330541669
Option 2 ID : 264330541668
Option 3 ID : 264330541667
Option 4 ID : 264330541670
Status : Answered
Chosen Option : 2

Q.7 पृथ्वी पर सबसे बड़ा महासागर _____ है।

- Ans
- 1. अटलांटिक महासागर
 - 2. हिंद महासागर
 - 3. प्रशांत महासागर
 - 4. आर्कटिक महासागर

Question Type : MCQ
Question ID : 264330133939
Option 1 ID : 264330524779
Option 2 ID : 264330524782
Option 3 ID : 264330524780
Option 4 ID : 264330524781
Status : Answered
Chosen Option : 2

Q.8 फाइनेंशियल एक्शन टास्क फोर्स (FATF) ने अक्टूबर 2022 में किस देश को आतंकी वित्तपोषण और मनी लॉन्ड्रिंग पर वैश्विक निगरानी संस्था (global watchdog) की ग्रे सूची (grey list) से बाहर कर दिया है?

- Ans
- ✓ 1. पाकिस्तान
 - ✗ 2. चीन
 - ✗ 3. उत्तर कोरिया
 - ✗ 4. बांग्लादेश

Question Type : MCQ
Question ID : 264330137396
Option 1 ID : 264330538213
Option 2 ID : 264330538214
Option 3 ID : 264330538211
Option 4 ID : 264330538212
Status : Answered
Chosen Option : 1

Q.9 निम्नलिखित में से कौन-सा प्राचीन स्थल भारत में स्थित नहीं है?

- Ans
- ✗ 1. हल्लूर (Hallur)
 - ✓ 2. मेहरगढ़ (Mehrgarh)
 - ✗ 3. इनामगाँव (Inamgaon)
 - ✗ 4. हुँस्गी (Hunsgi)

Question Type : MCQ
Question ID : 264330133877
Option 1 ID : 264330524532
Option 2 ID : 264330524533
Option 3 ID : 264330524531
Option 4 ID : 264330524534
Status : Not Answered
Chosen Option : --

Q.10 निम्न में से कौन-सा देश भारत के साथ समुद्री सीमा रेखा साझा करता है?

- Ans
- ✓ 1. मालदीव
 - ✗ 2. पाकिस्तान
 - ✗ 3. फिलीपींस
 - ✗ 4. फिजी

Question Type : MCQ
Question ID : 264330133660
Option 1 ID : 264330523666
Option 2 ID : 264330523664
Option 3 ID : 264330523665
Option 4 ID : 264330523663
Status : Answered
Chosen Option : 1

Q.11 भारतीय संविधान का अनुच्छेद 40 _____ से संबंधित है।

- Ans
- 1. नागरिकों के लिए समान नागरिक संहिता
 - 2. ग्राम पंचायतों के संगठन
 - 3. जीवन संरक्षण
 - 4. धार्मिक मामलों के प्रबंधन की स्वतंत्रता

Question Type : MCQ
Question ID : 264330137399
Option 1 ID : 264330538224
Option 2 ID : 264330538223
Option 3 ID : 264330538225
Option 4 ID : 264330538226
Status : Answered
Chosen Option : 2

Q.12 क्षेत्रफल की दृष्टि से भारत विश्व का _____ सबसे बड़ा देश है।

- Ans
- 1. सातवाँ
 - 2. तीसरा
 - 3. नौवाँ
 - 4. छठा

Question Type : MCQ
Question ID : 264330137405
Option 1 ID : 264330538249
Option 2 ID : 264330538247
Option 3 ID : 264330538248
Option 4 ID : 264330538250
Status : Answered
Chosen Option : 1

Q.13 जब किसी वस्तु पर धनात्मक आवेश होता है तो इसका क्या अर्थ है?

- Ans
- 1. इसमें प्रोटॉन की तुलना में न्यूट्रॉन अधिक होते हैं
 - 2. इसमें इलेक्ट्रॉन की तुलना में प्रोटॉन अधिक होते हैं
 - 3. इसमें इलेक्ट्रॉन की तुलना में न्यूट्रॉन अधिक होते हैं
 - 4. इसमें प्रोटॉन की तुलना में इलेक्ट्रॉन अधिक होते हैं

Question Type : MCQ
Question ID : 264330133936
Option 1 ID : 264330524768
Option 2 ID : 264330524769
Option 3 ID : 264330524770
Option 4 ID : 264330524767
Status : Answered
Chosen Option : 2

Q.14 निम्नलिखित में से "फ्लड ऑफ फायर (Flood of Fire)" के लेखक कौन हैं?

- Ans
- ✓ 1. अमिताव घोष
 - ✗ 2. तरुण खन्ना
 - ✗ 3. ट्विंकल खन्ना
 - ✗ 4. अरुणिमा सिन्हा

Question Type : MCQ

Question ID : 264330134023

Option 1 ID : 264330525115

Option 2 ID : 264330525118

Option 3 ID : 264330525117

Option 4 ID : 264330525116

Status : Not Attempted and Marked For Review

Chosen Option : --

Q.15 Which of the following is a tertiary consumer?

- Ans
- ✗ 1. Grasshopper
 - ✓ 2. Snake
 - ✗ 3. Grass
 - ✗ 4. Frog

Question Type : MCQ

Question ID : 264330133938

Option 1 ID : 264330524776

Option 2 ID : 264330524778

Option 3 ID : 264330524775

Option 4 ID : 264330524777

Status : Answered

Chosen Option : 2

Q.16 सूर्य का प्रकाश पर्याप्त मात्रा में न मिलने से किस विटामिन की कमी हो जाती है?

- Ans
- ✗ 1. विटामिन C
 - ✓ 2. विटामिन D
 - ✗ 3. विटामिन E और K
 - ✗ 4. विटामिन A

Question Type : MCQ

Question ID : 264330137400

Option 1 ID : 264330538228

Option 2 ID : 264330538230

Option 3 ID : 264330538229

Option 4 ID : 264330538227

Status : Answered

Chosen Option : 2

Q.17 लगभग 2000 साल पहले _____ कुषाणों की दूसरी राजधानी बनी।

Ans ✓ 1. मथुरा

✗ 2. मदुरै

✗ 3. पाटलिपुत्र

✗ 4. वैशाली

Question Type : MCQ

Question ID : 264330133945

Option 1 ID : 264330524803

Option 2 ID : 264330524804

Option 3 ID : 264330524806

Option 4 ID : 264330524805

Status : Answered

Chosen Option : 3

Q.18 मणिपुरी नृत्य का प्रमुख विषय _____ है।

Ans ✓ 1. भक्ति

✗ 2. देश प्रेम

✗ 3. युद्ध

✗ 4. वीरता

Question Type : MCQ

Question ID : 264330137387

Option 1 ID : 264330538177

Option 2 ID : 264330538175

Option 3 ID : 264330538176

Option 4 ID : 264330538178

Status : Answered

Chosen Option : 1

Q.19 मकर संक्रांति का त्योहार निम्नलिखित में से किस देवता को समर्पित है?

Ans ✗ 1. विष्णु

✗ 2. शिव

✓ 3. सूर्य

✗ 4. इंद्र

Question Type : MCQ

Question ID : 264330133857

Option 1 ID : 264330524452

Option 2 ID : 264330524451

Option 3 ID : 264330524454

Option 4 ID : 264330524453

Status : Answered

Chosen Option : 3

Q.20 ब्रिटिश संसद के किस अधिनियम को ईस्ट इंडिया कंपनी अधिनियम 1793 के नाम से भी जाना जाता था?

- Ans
- 1. रेगुलेटिंग एक्ट, 1793
 - 2. भारत सरकार अधिनियम, 1793
 - 3. भारतीय परिषद अधिनियम, 1793
 - 4. चार्टर अधिनियम, 1793

Question Type : MCQ
Question ID : 264330137959
Option 1 ID : 264330540446
Option 2 ID : 264330540445
Option 3 ID : 264330540444
Option 4 ID : 264330540443
Status : Answered
Chosen Option : 1

Q.21 साइमन कमीशन का उद्देश्य _____ था।

- Ans
- 1. भारत का आर्थिक भविष्य निर्धारित करना
 - 2. भारत का धार्मिक भविष्य निर्धारित करना
 - 3. भारत का शैक्षिक भविष्य निर्धारित करना
 - 4. भारत का राजनीतिक भविष्य निर्धारित करना

Question Type : MCQ
Question ID : 264330133880
Option 1 ID : 264330524543
Option 2 ID : 264330524546
Option 3 ID : 264330524545
Option 4 ID : 264330524544
Status : Answered
Chosen Option : 4

Q.22 बौद्ध वास्तुकला में, निम्नलिखित में से कौन-सा एक ध्यान कक्ष और भिक्षुओं के रहने का स्थान है?

- Ans
- 1. विहार (Viharas)
 - 2. स्तूप (Stupas)
 - 3. चैत्य गृह (Chaitya Grihas)
 - 4. पितरा-दूरा (Pietra dura)

Question Type : MCQ
Question ID : 264330137948
Option 1 ID : 264330540401
Option 2 ID : 264330540400
Option 3 ID : 264330540399
Option 4 ID : 264330540402
Status : Answered
Chosen Option : 2

Q.23 निम्नलिखित में से कौन भारत का एक प्रसिद्ध ट्रैक और फील्ड धावक है/था?

- Ans
- ✗ 1. महेश भूपति
 - ✗ 2. टी. सी. योहानन
 - ✓ 3. मिल्खा सिंह
 - ✗ 4. मेजर ध्यानचंद

Question Type : MCQ
Question ID : 264330133954
Option 1 ID : 264330524840
Option 2 ID : 264330524842
Option 3 ID : 264330524839
Option 4 ID : 264330524841
Status : Answered
Chosen Option : 3

Q.24 मोरमुगाओ (Mormugao) बंदरगाह निम्नलिखित में से किस राज्य में स्थित है?

- Ans
- ✗ 1. महाराष्ट्र
 - ✗ 2. तमिलनाडु
 - ✓ 3. गोवा
 - ✗ 4. पश्चिम बंगाल

Question Type : MCQ
Question ID : 264330134015
Option 1 ID : 264330525084
Option 2 ID : 264330525083
Option 3 ID : 264330525085
Option 4 ID : 264330525086
Status : Answered
Chosen Option : 3

Q.25 _____ ने 9 नवंबर 2022 को भारत के 50वें मुख्य न्यायाधीश के रूप में शपथ ली।

- Ans
- ✓ 1. न्यायमूर्ति डी.वाई. चंद्रचूड़
 - ✗ 2. न्यायमूर्ति एन. वी. रमना
 - ✗ 3. न्यायमूर्ति यू.यू. ललित
 - ✗ 4. न्यायमूर्ति रंजन गोगोई

Question Type : MCQ
Question ID : 264330137395
Option 1 ID : 264330538207
Option 2 ID : 264330538209
Option 3 ID : 264330538208
Option 4 ID : 264330538210
Status : Answered
Chosen Option : 1

Q.1 Identify the segment that contains a grammatical error. If there is no error, select 'No error'.
He consolidated control over all the / provinces of the Great Britain and some / of northern Gaul while Maximian dealt with other uprisings.

Ans 1. No Error

2. provinces of the Great Britain and some

3. He consolidated control over all the

4.

of northern Gaul while Maximian dealt with other uprisings.

Question Type : **MCQ**

Question ID : **264330135795**

Option 1 ID : **264330532058**

Option 2 ID : **264330532056**

Option 3 ID : **264330532055**

Option 4 ID : **264330532057**

Status : **Answered**

Chosen Option : **4**

Q.2 Select the most appropriate meaning of the bracketed idiom in the given sentence.
Did you know David went to school with my brother? It's (a small world), isn't it?

Ans 1. Meeting someone not expected to be at a certain place

2. Overwhelmed by what is happening in the moment

3. A two-person conflict where both people are at fault

4. An aggressive and bold confrontation

Question Type : **MCQ**

Question ID : **264330135814**

Option 1 ID : **264330532127**

Option 2 ID : **264330532130**

Option 3 ID : **264330532128**

Option 4 ID : **264330532129**

Status : **Answered**

Chosen Option : **4**

Q.3 Identify the segment that contains a grammatical error. If there is no error, select 'No error'.
Police could not catch / the gunman as he ran off / so very fastly into the woods.

Ans 1. the gunman as he ran off

2. No error

3. Police could not catch

4. so very fastly into the woods.

Question Type : **MCQ**

Question ID : **264330136613**

Option 1 ID : **264330535180**

Option 2 ID : **264330535182**

Option 3 ID : **264330535179**

Option 4 ID : **264330535181**

Status : **Answered**

Chosen Option : **4**

Q.4 Select the most appropriate option to fill in the blank.
The technical vocabulary and foreign words make this text a little more _____.

- Ans
- 1. stagnant
 - 2. feasible
 - 3. difficult
 - 4. futile

Question Type : **MCQ**
Question ID : **264330134344**
Option 1 ID : **264330526365**
Option 2 ID : **264330526366**
Option 3 ID : **264330526364**
Option 4 ID : **264330526363**
Status : **Answered**
Chosen Option : **3**

Q.5 Select the most appropriate antonym to substitute the (bracketed) word in the given sentence.
The negotiations have gotten nowhere, and I see no reason to (continue) with this pointless exercise.

- Ans
- 1. vivacious
 - 2. agitate
 - 3. halt
 - 4. coagulate

Question Type : **MCQ**
Question ID : **264330135812**
Option 1 ID : **264330532122**
Option 2 ID : **264330532119**
Option 3 ID : **264330532121**
Option 4 ID : **264330532120**
Status : **Answered**
Chosen Option : **3**

Q.6 Select the most appropriate option to substitute the bracketed segment in the given sentence. If there is no need to substitute it, select 'no substitution required'.
(Plots to dispose him came) to nothing.

- Ans
- 1. Plots to dispose of him came
 - 2. Plots which dispose him came
 - 3. Plots to dispose off him comes
 - 4. No substitution required

Question Type : **MCQ**
Question ID : **264330136036**
Option 1 ID : **264330532963**
Option 2 ID : **264330532965**
Option 3 ID : **264330532964**
Option 4 ID : **264330532966**
Status : **Answered**
Chosen Option : **1**

Q.7 Select the most appropriate option to fill in the blank.

If someone does not stop the political _____ in that country, a civil war is likely to break out soon.

- Ans**
- 1. rhetoric
 - 2. aleatoric
 - 3. historic
 - 4. anaphoric

Question Type : **MCQ**

Question ID : **264330135799**

Option 1 ID : **264330532074**

Option 2 ID : **264330532073**

Option 3 ID : **264330532072**

Option 4 ID : **264330532071**

Status : **Answered**

Chosen Option : **1**

Q.8 Select the most appropriate word for the given group of words.

The action or offence of speaking sacrilegiously about God or sacred things; profane talk

- Ans**
- 1. Blasphemy
 - 2. Ephemeral
 - 3. Crusade
 - 4. Extempore

Question Type : **MCQ**

Question ID : **264330135808**

Option 1 ID : **264330532103**

Option 2 ID : **264330532106**

Option 3 ID : **264330532104**

Option 4 ID : **264330532105**

Status : **Answered**

Chosen Option : **1**

Q.9 Fill in the blank with the most appropriate choice.

Hard to believe that these people can justify and _____ such sickening behaviour!

- Ans**
- 1. scandalize
 - 2. rationalize
 - 3. essentialize
 - 4. tantalize

Question Type : **MCQ**

Question ID : **264330135818**

Option 1 ID : **264330532144**

Option 2 ID : **264330532146**

Option 3 ID : **264330532145**

Option 4 ID : **264330532143**

Status : **Answered**

Chosen Option : **2**

Q.10 Choose the word that can substitute the given group of words.
The science of foretelling events by mapping stars

- Ans 1. Astrobiology
 2. Astrology
 3. Astrophysics
 4. Astronomy

Question Type : **MCQ**
Question ID : **264330134412**
Option 1 ID : **264330526626**
Option 2 ID : **264330526624**
Option 3 ID : **264330526625**
Option 4 ID : **264330526623**
Status : **Answered**
Chosen Option : **2**

Q.11 A sentence has been given with a blank to be filled with an appropriate option. Choose the correct alternative.

I was always greeted _____ wherever I went in the country.

- Ans 1. warm
 2. warmly
 3. warmth
 4. warming

Question Type : **MCQ**
Question ID : **264330134327**
Option 1 ID : **264330526300**
Option 2 ID : **264330526301**
Option 3 ID : **264330526299**
Option 4 ID : **264330526302**
Status : **Answered**
Chosen Option : **2**

Q.12 Find the part of the given sentence that has an error in it. If there is no error, choose 'No error'.

Fires in California is sounding alarm bells that cannot be ignored.

- Ans 1. that cannot be ignored.
 2. No error
 3. Fires in California is
 4. sounding alarm bells

Question Type : **MCQ**
Question ID : **264330134823**
Option 1 ID : **264330528233**
Option 2 ID : **264330528234**
Option 3 ID : **264330528231**
Option 4 ID : **264330528232**
Status : **Answered**
Chosen Option : **3**

Q.13 Choose the sentence with no spelling error.

- Ans
- 1. Take it up, and write your own story.
 - 2. Take it up, and wrrite your own story.
 - 3. Take it up, and writte your on story.
 - 4. Take it up, and write your own story.

Question Type : MCQ
Question ID : 264330134343
Option 1 ID : 264330526362
Option 2 ID : 264330526360
Option 3 ID : 264330526361
Option 4 ID : 264330526359
Status : Answered
Chosen Option : 4

Q.14 Choose the word that means the same as the given word.
Appropriate

- Ans
- 1. Competent
 - 2. Polarize
 - 3. Gentle
 - 4. Informal

Question Type : MCQ
Question ID : 264330134363
Option 1 ID : 264330526437
Option 2 ID : 264330526438
Option 3 ID : 264330526435
Option 4 ID : 264330526436
Status : Answered
Chosen Option : 1

Q.15 Select the most appropriate synonym of the given word.

Contrite

- Ans
- 1. persistent
 - 2. remorseful
 - 3. advertent
 - 4. renitent

Question Type : MCQ
Question ID : 264330135809
Option 1 ID : 264330532107
Option 2 ID : 264330532110
Option 3 ID : 264330532108
Option 4 ID : 264330532109
Status : Answered
Chosen Option : 2

Q.16 In the following question, out of the given four alternatives, select the alternative which best expresses the meaning of the Idiom/Phrase.
Pros and cons

- Ans**
- 1. Doubtful
 - 2. To advance in harmony
 - 3. Undecided on a topic
 - 4. Arguments for and against something

Question Type : **MCQ**
Question ID : **264330134418**
Option 1 ID : **264330526647**
Option 2 ID : **264330526649**
Option 3 ID : **264330526648**
Option 4 ID : **264330526650**
Status : **Answered**
Chosen Option : **4**

Q.17 Select the most appropriate antonym of the given word.

Tangle

- Ans**
- 1. Coil
 - 2. Simple
 - 3. Jam
 - 4. Labyrinth

Question Type : **MCQ**
Question ID : **264330136402**
Option 1 ID : **264330534372**
Option 2 ID : **264330534373**
Option 3 ID : **264330534374**
Option 4 ID : **264330534371**
Status : **Answered**
Chosen Option : **2**

Q.18 Select the correctly spelt word.

- Ans**
- 1. Minsculee
 - 2. Manscule
 - 3. Minusulle
 - 4. Minuscule

Question Type : **MCQ**
Question ID : **264330135815**
Option 1 ID : **264330532133**
Option 2 ID : **264330532132**
Option 3 ID : **264330532134**
Option 4 ID : **264330532131**
Status : **Answered**
Chosen Option : **4**

Q.19 Select the word segment that substitutes (replaces) the bracketed word segment correctly and completes the sentence meaningfully. Select the option 'no correction required' if the sentence is correct as given.

I received word that you (were attempting) to contact me.

- Ans**
- 1. No correction required
 - 2. has attempting
 - 3. was attempting
 - 4. were strike

Question Type : **MCQ**
Question ID : **264330136616**
Option 1 ID : **264330535194**
Option 2 ID : **264330535193**
Option 3 ID : **264330535191**
Option 4 ID : **264330535192**
Status : **Answered**
Chosen Option : **1**

Q.20 Improve the underlined part of the sentence. Choose 'No improvement' as an answer if the sentence is grammatically correct.

The candidate win the voting by a narrow margin.

- Ans**
- 1. No improvement
 - 2. win a vote
 - 3. won the vote
 - 4. wins the voted

Question Type : **MCQ**
Question ID : **264330134723**
Option 1 ID : **264330527850**
Option 2 ID : **264330527847**
Option 3 ID : **264330527848**
Option 4 ID : **264330527849**
Status : **Answered**
Chosen Option : **3**

Comprehension:

In the following passage some words have been deleted. Fill in the blanks with the help of the alternatives given. Select the most appropriate option for each number.

Were the stories we told each (1) _____ true? Who knows? At the best of (2) _____, a story is a slippery thing. (3) _____ no one had told us this (4) _____ one, though it was the tale we most (5) _____ to know.

SubQuestion No : 21

Q.21 Select the most appropriate option to fill in blank number 1.

- Ans**
- 1. of us
 - 2. another
 - 3. other
 - 4. one other

Question Type : **MCQ**
Question ID : **264330136393**
Option 1 ID : **264330534335**
Option 2 ID : **264330534337**
Option 3 ID : **264330534336**
Option 4 ID : **264330534338**
Status : **Answered**
Chosen Option : **3**

Comprehension:

In the following passage some words have been deleted. Fill in the blanks with the help of the alternatives given. Select the most appropriate option for each number.

Were the stories we told each (1) _____ true? Who knows? At the best of (2) _____, a story is a slippery thing. (3) _____ no one had told us this (4) _____ one, though it was the tale we most (5) _____ to know.

SubQuestion No : 22

Q.22 Select the most appropriate option to fill in blank number 2.

- Ans**
- 1. times
 - 2. clock
 - 3. schedule
 - 4. time

Question Type : **MCQ**
Question ID : **264330136394**
Option 1 ID : **264330534342**
Option 2 ID : **264330534341**
Option 3 ID : **264330534340**
Option 4 ID : **264330534339**
Status : **Answered**
Chosen Option : **1**

Comprehension:

In the following passage some words have been deleted. Fill in the blanks with the help of the alternatives given. Select the most appropriate option for each number.

Were the stories we told each (1) _____ true? Who knows? At the best of (2) _____, a story is a slippery thing. (3) _____ no one had told us this (4) _____ one, though it was the tale we most (5) _____ to know.

SubQuestion No : 23

Q.23 Select the most appropriate option to fill in blank number 3.

- Ans**
- 1. Might be
 - 2. May by
 - 3. Could be
 - 4. Certainly

Question Type : **MCQ**
Question ID : **264330136395**
Option 1 ID : **264330534346**
Option 2 ID : **264330534344**
Option 3 ID : **264330534345**
Option 4 ID : **264330534343**
Status : **Answered**
Chosen Option : **4**

Comprehension:

In the following passage some words have been deleted. Fill in the blanks with the help of the alternatives given. Select the most appropriate option for each number.

Were the stories we told each (1) _____ true? Who knows? At the best of (2) _____, a story is a slippery thing. (3) _____ no one had told us this (4) _____ one, though it was the tale we most (5) _____ to know.

SubQuestion No : 24

Q.24 Select the most appropriate option to fill in blank number 4.

- Ans**
- 1. accurate
 - 2. especial
 - 3. in particular
 - 4. particular

Question Type : **MCQ**

Question ID : **264330136396**

Option 1 ID : **264330534348**

Option 2 ID : **264330534350**

Option 3 ID : **264330534347**

Option 4 ID : **264330534349**

Status : **Answered**

Chosen Option : **4**

Comprehension:

In the following passage some words have been deleted. Fill in the blanks with the help of the alternatives given. Select the most appropriate option for each number.

Were the stories we told each (1) _____ true? Who knows? At the best of (2) _____, a story is a slippery thing. (3) _____ no one had told us this (4) _____ one, though it was the tale we most (5) _____ to know.

SubQuestion No : 25

Q.25 Select the most appropriate option to fill in blank number 5.

- Ans**
- 1. require
 - 2. needed
 - 3. concern
 - 4. had

Question Type : **MCQ**

Question ID : **264330136397**

Option 1 ID : **264330534352**

Option 2 ID : **264330534353**

Option 3 ID : **264330534354**

Option 4 ID : **264330534351**

Status : **Answered**

Chosen Option : **4**