

Multi Tasking Non Technical Staff and Havaldar CBIC and CBN Examination 2022

Roll Number	
Candidate Name	
Venue Name	iON Digital Zone iDZ Kuberpur
Exam Date	19/05/2023
Exam Time	12:00 PM - 2:00 PM
Subject	MTS Non Tech Havaldar CBIC and CBN Examination 2022

Section : Numerical and Mathematical Ability

Q.1 A woman drives a car. During her journey, she travels 20 minutes at a speed of 60 km/hr, another 30 minutes at a speed of 40 km/hr and 1 hour at a speed of 50 km/hr. The average speed of the car is:

- Ans**
- 1. 630/11 kmph
 - 2. 100/11 kmph
 - 3. 90/11 kmph
 - 4. 540/11 kmph

Question Type : MCQ

Question ID : 264330138360

Option 1 ID : 264330542050

Option 2 ID : 264330542049

Option 3 ID : 264330542048

Option 4 ID : 264330542047

Status : Answered

Chosen Option : 4

Q.2 एक वस्तु का विक्रय मूल्य Rs.520 है। यदि हानि प्रतिशत 20 प्रतिशत है, तो वस्तु का क्रय मूल्य क्या है?

- Ans**
- 1. Rs.700
 - 2. Rs.650
 - 3. Rs.720
 - 4. Rs.600

Question Type : MCQ

Question ID : 264330139082

Option 1 ID : 264330544938

Option 2 ID : 264330544936

Option 3 ID : 264330544937

Option 4 ID : 264330544935

Status : Answered

Chosen Option : 2

Q.3 पानी की एक निश्चित मात्रा को Rs. 48 प्रति लीटर मूल्य वाले दूध के साथ मिलाया जाता है। इस मिश्रण का मूल्य Rs. 30 प्रति लीटर है। नए मिश्रण में पानी और दूध का अनुपात _____ है।(पानी मुफ्त में उपलब्ध है)

- Ans
- 1. 2:3
 - 2. 3:2
 - 3. 2:5
 - 4. 3:5

Question Type : MCQ

Question ID : 264330135112

Option 1 ID : 264330529385

Option 2 ID : 264330529383

Option 3 ID : 264330529384

Option 4 ID : 264330529386

Status : Answered

Chosen Option : 4

Q.4 एक फल विक्रेता फलों के 2/5 भाग को 10% के लाभ पर और शेष को 5% की हानि पर बेचता है। यदि कुल लाभ Rs. 1850 है, तो फलों का कुल क्रय मूल्य कितना है?

- Ans
- 1. Rs.176000
 - 2. Rs.185000
 - 3. Rs.198000
 - 4. Rs.205000

Question Type : MCQ

Question ID : 264330138354

Option 1 ID : 264330542026

Option 2 ID : 264330542023

Option 3 ID : 264330542025

Option 4 ID : 264330542024

Status : Answered

Chosen Option : 2

Q.5 निम्नलिखित तालिका में चार वर्षों में विभिन्न देशों में इंजीनियरों की संख्या (सैकड़ों में) को दर्शाया गया है।

दिए गए वर्षों में कनाडा में इंजीनियरों की औसत संख्या ज्ञात कीजिए।

Year	China	Canada	India
2019	210	120	240
2020	420	320	360
2021	540	180	540
2022	620	280	340

Year - वर्ष, China - चीन, Canada - कनाडा, India - भारत

- Ans
- 1. 23000
 - 2. 25000
 - 3. 24500
 - 4. 22500

Question Type : MCQ

Question ID : 264330138385

Option 1 ID : 264330542149

Option 2 ID : 264330542147

Option 3 ID : 264330542150

Option 4 ID : 264330542148

Status : Answered

Chosen Option : 4

Q.6 P अकेले एक कार्य को 25 दिनों में पूरा कर सकता है और Q अकेले उसी कार्य को 50 दिनों में पूरा कर सकता है। यदि वे दोनों साथ मिलकर कार्य करें, तो 12 दिनों में कुल कार्य का कितना प्रतिशत कार्य पूरा होगा?

- Ans
- 1. 60 प्रतिशत
 - 2. 72 प्रतिशत
 - 3. 48 प्रतिशत
 - 4. 80 प्रतिशत

Question Type : MCQ

Question ID : 264330138015

Option 1 ID : 264330540670

Option 2 ID : 264330540669

Option 3 ID : 264330540667

Option 4 ID : 264330540668

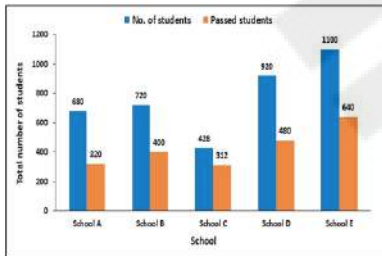
Status : Answered

Chosen Option : 2

Q.7

निम्नलिखित दृढ़ आलेख में पाँच अलग-अलग विद्यालयों से एक परीक्षा में बैठने वाले छात्रों की कुल संख्या को दर्शाया गया

है। परीक्षा में बैठने वाले कुल छात्रों में से लगभग कितने प्रतिशत अनुत्तीर्ण हुए हैं?



total number of students - छात्रों की कुल संख्या

number of students - छात्रों की संख्या

School - विद्यालय

- Ans
- 1. 57%
 - 2. 54%
 - 3. 47%
 - 4. 44%

Question Type : MCQ

Question ID : 264330138364

Option 1 ID : 264330542066

Option 2 ID : 264330542065

Option 3 ID : 264330542064

Option 4 ID : 264330542063

Status : Answered

Chosen Option : 4

Q.8 Rs. 900 की धनराशि को दो भागों में इस प्रकार बाँटा जाता है कि पहले भाग पर 4% वार्षिक साधारण ब्याज और दूसरे भाग पर 2% वार्षिक साधारण ब्याज दर समान है। एक वर्ष में प्रत्येक भाग पर संचित ब्याज कितना है?

- Ans
- ✓ 1. Rs. 12
 - ✗ 2. Rs. 6
 - ✗ 3. Rs. 20
 - ✗ 4. Rs. 18

Question Type : MCQ

Question ID : 264330135120

Option 1 ID : 264330529416

Option 2 ID : 264330529415

Option 3 ID : 264330529417

Option 4 ID : 264330529418

Status : Answered

Chosen Option : 1

Q.9 एक शंकु और एक बेलन की ऊँचाई समान है और शंकु की त्रिज्या बेलन की त्रिज्या की दोगुनी है। शंकु के आयतन और बेलन के आयतन का अनुपात कितना है?

- Ans
- ✓ 1. 4:3
 - ✗ 2. 4:5
 - ✗ 3. 2:5
 - ✗ 4. 3:2

Question Type : MCQ

Question ID : 264330133815

Option 1 ID : 264330524285

Option 2 ID : 264330524283

Option 3 ID : 264330524284

Option 4 ID : 264330524286

Status : Answered

Chosen Option : 1

Q.10 $(9^2 + 4^3 \div 8) \times 5$ का मान ज्ञात कीजिए।

- Ans
- ✗ 1. 400
 - ✓ 2. 445
 - ✗ 3. 450
 - ✗ 4. 420

Question Type : MCQ

Question ID : 264330138369

Option 1 ID : 264330542085

Option 2 ID : 264330542084

Option 3 ID : 264330542083

Option 4 ID : 264330542086

Status : Answered

Chosen Option : 2

Q.11 यदि एक रेलगाड़ी बेंगलोर से मुंबई तक 1000 km की यात्रा करती है और इस यात्रा में 10 घंटे लगते हैं, तो किलोमीटर प्रति घंटे (km per hour) में रेलगाड़ी की औसत चाल क्या है?

- Ans
- 1. 90 km/hr
 - 2. 120 km/hr
 - 3. 80 km/hr
 - 4. 100 km/hr

Question Type : MCQ

Question ID : 264330140997

Option 1 ID : 264330552338

Option 2 ID : 264330552335

Option 3 ID : 264330552337

Option 4 ID : 264330552336

Status : Answered

Chosen Option : 4

Q.12 विहान, मयूर से दोगुना कुशल है और मयूर से 14 दिन कम में किसी कार्य को पूरा कर सकता है। मयूर इस कार्य को कितने दिनों में पूरा कर सकता है?

- Ans
- 1. 28 दिन
 - 2. 21 दिन
 - 3. 7 दिन
 - 4. 14 दिन

Question Type : MCQ

Question ID : 264330133810

Option 1 ID : 264330524265

Option 2 ID : 264330524266

Option 3 ID : 264330524264

Option 4 ID : 264330524263

Status : Answered

Chosen Option : 1

Q.13 $(92 + 14) \div (2 \times 53) - 8 + 16$ का मान ज्ञात कीजिए।

- Ans
- 1. 9
 - 2. 17
 - 3. 11
 - 4. 8

Question Type : MCQ

Question ID : 264330138346

Option 1 ID : 264330541992

Option 2 ID : 264330541994

Option 3 ID : 264330541993

Option 4 ID : 264330541991

Status : Answered

Chosen Option : 1

Q.14 दो संख्याओं का गुणनफल 6552 और उनका महत्तम समापवर्तक (HCF) 6 है। उन संख्याओं का लघुत्तम समापवर्तक (LCM) कितना है?

- Ans
- 1. 1024
 - 2. 1224
 - 3. 1084
 - 4. 1092

Question Type : MCQ
Question ID : 264330138701
Option 1 ID : 264330543413
Option 2 ID : 264330543414
Option 3 ID : 264330543411
Option 4 ID : 264330543412
Status : Answered
Chosen Option : 4

Q.15 35 और एक निश्चित संख्या N के बीच का मध्यानुपाती, 14 और 30 के बीच के मध्यानुपाती का चार गुना है। संख्या N है:

- Ans
- 1. 75
 - 2. 192
 - 3. 124
 - 4. 92

Question Type : MCQ
Question ID : 264330138357
Option 1 ID : 264330542035
Option 2 ID : 264330542038
Option 3 ID : 264330542037
Option 4 ID : 264330542036
Status : Answered
Chosen Option : 2

Q.16 यदि एक कक्षा में लड़कों और लड़कियों का अनुपात 8:5 है, तो निम्न में से कौन-सा विकल्प उस कक्षा में छात्रों की कुल संख्या को दर्शाता है?

- Ans
- 1. 78
 - 2. 57
 - 3. 66
 - 4. 81

Question Type : MCQ
Question ID : 264330138356
Option 1 ID : 264330542031
Option 2 ID : 264330542034
Option 3 ID : 264330542032
Option 4 ID : 264330542033
Status : Answered
Chosen Option : 1

Q.17 यदि एक पुस्तक के मूल्य में पहले 18% की वृद्धि की गई और फिर 18% की कमी की गई, तो पुस्तक के मूल्य में निवल परिवर्तन कितना हुआ?

- Ans
- 1. 18% की कमी
 - 2. कोई परिवर्तन नहीं हुआ
 - 3. 18% की वृद्धि
 - 4. 3.24% की कमी

Question Type : MCQ
Question ID : 264330135396
Option 1 ID : 264330530492
Option 2 ID : 264330530491
Option 3 ID : 264330530494
Option 4 ID : 264330530493
Status : Answered
Chosen Option : 4

Q.18 20 प्रेक्षणों का माध्य 42 था। बाद में यह पाया गया कि एक प्रेक्षण 54 को गलती से 45 मान लिया गया था। संशोधित नया माध्य है:

- Ans
- 1. 45.42
 - 2. 44.25
 - 3. 42.45
 - 4. 43.5

Question Type : MCQ
Question ID : 264330138349
Option 1 ID : 264330542003
Option 2 ID : 264330542006
Option 3 ID : 264330542005
Option 4 ID : 264330542004
Status : Answered
Chosen Option : 3

Q.19 Rs. X पर 7.5% वार्षिक दर पर 2 वर्षों के लिए चक्रवृद्धि ब्याज और साधारण ब्याज के बीच का अंतर Rs. 22.50 है। X का मान ज्ञात कीजिए।

- Ans
- 1. Rs. 4000
 - 2. Rs. 1900
 - 3. Rs. 2000
 - 4. Rs. 5000

Question Type : MCQ
Question ID : 264330135403
Option 1 ID : 264330530521
Option 2 ID : 264330530520
Option 3 ID : 264330530519
Option 4 ID : 264330530522
Status : Answered
Chosen Option : 1

Q.20 पवन ने एक शर्ट खरीदी जिसका अंकित मूल्य Rs. 2200 है। शर्ट पर दिया जा रहा बड़ा 8% है। पवन को शर्ट का कितना मूल्य देना होगा?

- Ans 1. Rs.2024
 2. Rs.2099
 3. Rs.2120
 4. Rs.1999

Question Type : MCQ

Question ID : 264330138355

Option 1 ID : 264330542028

Option 2 ID : 264330542030

Option 3 ID : 264330542027

Option 4 ID : 264330542029

Status : Answered

Chosen Option : 1

Section : Reasoning Ability and Problem Solving

Q.1 निम्नलिखित प्रश्न में कुछ कथन दिए गए हैं और उन कथनों के आधार पर कुछ निष्कर्ष दिए गए हैं। आपको यह मानना है कि दिए गए कथन सत्य हैं चाहे वे समान्यतः ज्ञात तथ्यों से अलग प्रतीत होते हों। सभी निष्कर्षों को पढ़िए और फिर निश्चय कीजिए कि दिए गए निष्कर्षों में से कौन-सा निष्कर्ष तार्किक रूप से दिए गए कथनों के अनुसार है।

कथन:

- I. सभी A, G हैं।
II. कुछ M, G हैं।

निष्कर्ष:

- I. कुछ G, A हैं।
II. कुछ G, M हैं।
III. सभी M, A हैं।

- Ans 1. दोनों निष्कर्ष I और III कथनों के अनुसार हैं
 2. सभी निष्कर्ष कथनों के अनुसार हैं
 3. केवल निष्कर्ष II कथनों के अनुसार है
 4. दोनों निष्कर्ष I और II कथनों के अनुसार हैं

Question Type : MCQ

Question ID : 264330138467

Option 1 ID : 264330542477

Option 2 ID : 264330542476

Option 3 ID : 264330542475

Option 4 ID : 264330542478

Status : Answered

Chosen Option : 4

Q.2 एक निश्चित कूट भाषा में, 'KG' को 'MJ' लिखा जाता है। उस भाषा में 'EI' को कैसे लिखा जाएगा?

- Ans
- 1. JS
 - 2. RS
 - 3. GL
 - 4. RJ

Question Type : MCQ
Question ID : 264330137587
Option 1 ID : 264330538956
Option 2 ID : 264330538958
Option 3 ID : 264330538957
Option 4 ID : 264330538955
Status : Answered
Chosen Option : 3

Q.3 एक निश्चित कूट भाषा में, 'MOVIES' को 'PRYFBP' लिखा जाता है। उस भाषा में 'JACKSY' को कैसे लिखा जाएगा?

- Ans
- 1. MFDHPV
 - 2. MDFHVP
 - 3. MDFHPV
 - 4. MDFVPH

Question Type : MCQ
Question ID : 264330137835
Option 1 ID : 264330539948
Option 2 ID : 264330539947
Option 3 ID : 264330539950
Option 4 ID : 264330539949
Status : Answered
Chosen Option : 3

Q.4 एक श्रृंखला दी गई है जिसमें एक पद लुप्त है। दिए गए विकल्पों में से उस सही विकल्प को चुनिए जो श्रृंखला को पूरा करेगा।

PAKC, NDIF, LGGI, JJEL, ?

- Ans
- 1. HNCO
 - 2. HMCP
 - 3. IMLO
 - 4. HMCO

Question Type : MCQ
Question ID : 264330138456
Option 1 ID : 264330542433
Option 2 ID : 264330542434
Option 3 ID : 264330542431
Option 4 ID : 264330542432
Status : Answered
Chosen Option : 4

Q.5 उस विकल्प को चुनिए जो पाँचवें पद से ठीक उसी प्रकार संबंधित है जिस प्रकार दूसरा पद पहले पद से संबंधित है और चौथा पद तीसरे पद से संबंधित है।

MOL : TIQ :: FIG : MCL :: HAK : ?

- Ans**
- 1. PVP
 - 2. OVP
 - 3. PUQ
 - 4. OUP

Question Type : **MCQ**

Question ID : **264330138459**

Option 1 ID : **264330542446**

Option 2 ID : **264330542444**

Option 3 ID : **264330542443**

Option 4 ID : **264330542445**

Status : **Answered**

Chosen Option : **4**

Q.6 उस विकल्प को चुनिए जो पाँचवें पद से ठीक उसी प्रकार संबंधित है जिस प्रकार दूसरा पद पहले पद से संबंधित है और चौथा पद तीसरे पद से संबंधित है।

HER : GCM :: TOP : SMK :: PIT : ?

- Ans**
- 1. OHO
 - 2. QGP
 - 3. OGQ
 - 4. OGO

Question Type : **MCQ**

Question ID : **264330138458**

Option 1 ID : **264330542440**

Option 2 ID : **264330542439**

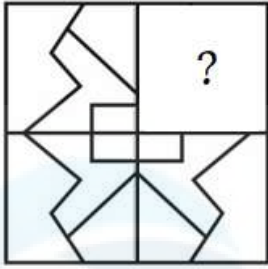
Option 3 ID : **264330542441**

Option 4 ID : **264330542442**

Status : **Answered**

Chosen Option : **4**

Q.7 कौन-सी उत्तर आकृति प्रश्न आकृति में दिए गए पैटर्न को पूरा करेगी?



Ans

✗ 1.



✓ 2.



✗ 3.



✗ 4.



Question Type : MCQ

Question ID : 264330138476

Option 1 ID : 264330542514

Option 2 ID : 264330542513

Option 3 ID : 264330542512

Option 4 ID : 264330542511

Status : Answered

Chosen Option : 2

Q.8 उस विकल्प को चुनिए जिसमें समुच्चय की संख्याएँ वही संबंध साझा करती हैं जो दिए गए समुच्चय में संख्याओं द्वारा साझा किया जाता है। (ध्यान दें: संख्याओं को उनके घटक अंकों में अलग-अलग किए बिना, पूर्ण संख्याओं पर संक्रियाएँ की जानी चाहिए। उदा. 13 - 13 पर संक्रियाएँ जैसे 13 को जोड़ना /घटाना /गुणा करना आदि किया जा सकता है। 13 को 1 और 3 में अलग-अलग करने की और फिर 1 और 3 पर गणितीय संक्रियाएँ करने की अनुमति नहीं है)

(80, 5, 16)

(90, 9, 10)

Ans

✓ 1. (140, 7, 20)

✗ 2. (40, 3, 10)

✗ 3. (200, 20, 25)

✗ 4. (50, 5, 20)

Question Type : **MCQ**

Question ID : **264330138471**

Option 1 ID : **264330542493**

Option 2 ID : **264330542491**

Option 3 ID : **264330542494**

Option 4 ID : **264330542492**

Status : **Answered**


Chosen Option : **1**

Q.9 उस विकल्प आकृति को चुनिए जिसमें दी गई आकृति निहित है। (घूर्णन की अनुमति नहीं है)

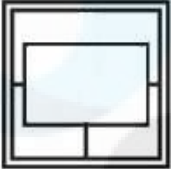


Ans


✓ 1.



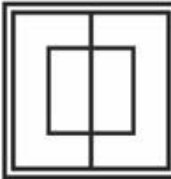
✗ 2.



✗ 3.



✗ 4.



Question Type : MCQ

Question ID : 264330138495

Option 1 ID : 264330542587

Option 2 ID : 264330542590

Option 3 ID : 264330542589

Option 4 ID : 264330542588

Status : Answered

Chosen Option : 1

Q.10 दी गई दो संख्याओं को आपस में बदलने पर, दिए गए समीकरण का मान क्या होगा?

$$2 \text{ और } 3 ; 5 - 3 \div 1 \times 2 + 7$$

Ans ✗ 1. 8

✓ 2. 6

✗ 3. 11

✗ 4. 9

Question Type : MCQ

Question ID : 264330138472

Option 1 ID : 264330542496

Option 2 ID : 264330542495

Option 3 ID : 264330542498

Option 4 ID : 264330542497

Status : Answered

Chosen Option : 2

Q.11 यदि A का अर्थ 'जोड़', B का अर्थ 'गुणा', C का अर्थ 'घटाव' और D का अर्थ 'भाग' है, तो निम्नलिखित समीकरण का मान क्या होगा?
(46 D 23) A 17 C 13 = ?

- Ans
- 1. 9
 - 2. 13
 - 3. 5
 - 4. 6

Question Type : MCQ

Question ID : 264330135016

Option 1 ID : 264330529002

Option 2 ID : 264330529001

Option 3 ID : 264330528999

Option 4 ID : 264330529000

Status : Answered

Chosen Option : 4

Q.12 निम्नलिखित प्रश्न में, दी गई श्रृंखला में लुप्त संख्या को चुनिए।

9, 18, 36, 72, 144, ?

- Ans
- 1. 290
 - 2. 310
 - 3. 280
 - 4. 288

Question Type : MCQ

Question ID : 264330135606

Option 1 ID : 264330531324

Option 2 ID : 264330531325

Option 3 ID : 264330531326

Option 4 ID : 264330531323

Status : Answered

Chosen Option : 4

Q.13 सात शिक्षक अनिल, कमल, राम, संजय, आकाश, विवेक और राहुल एक वृत्ताकार मेज के चारों ओर केंद्र के विपरीत दिशा की ओर मुख करके बैठे हैं (परंतु जरूरी नहीं कि वे इसी क्रम में बैठें हों)। संजय, अनिल के ठीक दाईं ओर है। अनिल, राहुल के दाईं ओर से तीसरे स्थान पर है। विवेक, आकाश का निकटतम पड़ोसी नहीं है। कमल, विवेक के दाईं ओर से दूसरे स्थान पर है। अनिल के दाईं ओर से दूसरे स्थान पर कौन है?

- Ans
- 1. कमल
 - 2. संजय
 - 3. विवेक
 - 4. राम

Question Type : MCQ

Question ID : 264330138464

Option 1 ID : 264330542463

Option 2 ID : 264330542465

Option 3 ID : 264330542466

Option 4 ID : 264330542464

Status : Answered

Chosen Option : 4

Q.14 उस विकल्प को चुनिए जो पाँचवी संख्या से ठीक उसी प्रकार संबंधित है जिस प्रकार दूसरी संख्या पहली संख्या से संबंधित है और चौथी संख्या तीसरी संख्या से संबंधित है।

9 : 727 :: 8 : 510 :: 4 : ?

- Ans
- 1. 58
 - 2. 60
 - 3. 62
 - 4. 67

Question Type : MCQ

Question ID : 264330135608

Option 1 ID : 264330531331

Option 2 ID : 264330531332

Option 3 ID : 264330531333

Option 4 ID : 264330531334

Status : Answered

Chosen Option : 3

Q.15 एक निश्चित कूट भाषा में, 'GLOBAL' को 'EJMZYJ' लिखा जाता है। उस कूट भाषा में 'HONEST' को कैसे लिखा जाएगा?

- Ans
- 1. FMLDQR
 - 2. FNLCQR
 - 3. FMLCQR
 - 4. FMLCQS

Question Type : MCQ

Question ID : 264330135565

Option 1 ID : 264330531160

Option 2 ID : 264330531159

Option 3 ID : 264330531162

Option 4 ID : 264330531161

Status : Answered

Chosen Option : 3

Q.16 छः बाइक T1, T2, T3, T4, T5 और T6 की चाल की तुलना की जाती है। T6 की चाल सिर्फ तीन बाइक से अधिक है। कोई भी दो बाइक की चाल समान नहीं है। T4 की चाल T2 से अधिक लेकिन T6 से कम है। T3 की चाल T5 से कम नहीं है। T2 की चाल सबसे कम नहीं है। किन बाइकों की चाल T4 से अधिक हो सकती है?

I. T3

II. T1

- Ans
- 1. केवल II
 - 2. I और II दोनों
 - 3. केवल I
 - 4. न तो I और न ही II

Question Type : MCQ

Question ID : 264330138465

Option 1 ID : 264330542468

Option 2 ID : 264330542469

Option 3 ID : 264330542467

Option 4 ID : 264330542470

Status : Answered

Chosen Option : 2

Q.17 आठ लड़कियाँ मानसी, श्वेता, मोनिका, पायल, आरती, काजल, लक्ष्मी और रानी एक वृत्ताकार मेज के चारों ओर केंद्र की ओर मुख करके बैठी हैं(परंतु जरूरी नहीं कि वे इसी क्रम में बैठी हों)। मानसी, श्वेता के दाईं ओर से तीसरे स्थान पर है। श्वेता, रानी के दाईं ओर से दूसरे स्थान पर है। काजल, पायल के दाईं ओर से चौथे स्थान पर है। पायल, रानी के ठीक बाईं ओर है। लक्ष्मी, रानी के बाईं ओर से दूसरे स्थान पर है। मोनिका, रानी और श्वेता दोनों की निकटतम पड़ोसी है। मोनिका के बाईं ओर से तीसरे स्थान पर कौन है?

- Ans
- ✓ 1. लक्ष्मी
 - ✗ 2. काजल
 - ✗ 3. आरती
 - ✗ 4. श्वेता

Question Type : MCQ
Question ID : 264330138463
Option 1 ID : 264330542462
Option 2 ID : 264330542461
Option 3 ID : 264330542459
Option 4 ID : 264330542460
Status : Answered
Chosen Option : 1

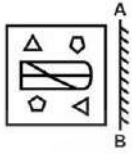
Q.18 निम्नलिखित प्रश्न में, दी गई श्रृंखला में लुप्त संख्या को चुनिए।

5, 9, 17, 33, 65, ?

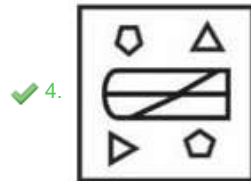
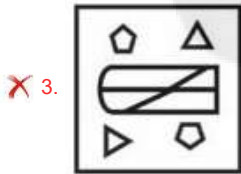
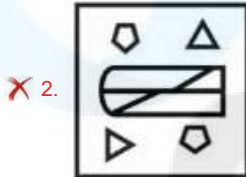
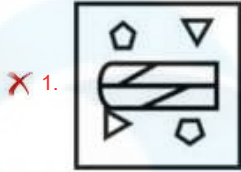
- Ans
- ✗ 1. 128
 - ✗ 2. 140
 - ✓ 3. 129
 - ✗ 4. 130

Question Type : MCQ
Question ID : 264330138469
Option 1 ID : 264330542484
Option 2 ID : 264330542486
Option 3 ID : 264330542485
Option 4 ID : 264330542483
Status : Answered
Chosen Option : 3

Q.19 यदि एक दर्पण को रेखा AB पर रखा जाए, तो दी गई विकल्प आकृतियों में से कौन-सी आकृति प्रश्न आकृति का सही प्रतिबिम्ब होगी?



Ans



Question Type : MCQ

Question ID : 264330138496

Option 1 ID : 264330542594

Option 2 ID : 264330542592

Option 3 ID : 264330542593

Option 4 ID : 264330542591

Status : Answered

Chosen Option : 4

Q.20 निम्नलिखित प्रश्न में कुछ कथन दिए गए हैं और उन कथनों के आधार पर कुछ निष्कर्ष दिए गए हैं। आपको यह मानना है कि दिए गए कथन सत्य हैं चाहे वे समान्यतः ज्ञात तथ्यों से अलग प्रतीत होते हों। सभी निष्कर्षों को पढ़िए और फिर निश्चय कीजिए कि दिए गए निष्कर्षों में से कौन-सा निष्कर्ष तार्किक रूप से दिए गए कथनों के अनुसार है।

कथन:

I. कुछ R, Q हैं।

II. सभी Q, G हैं।

निष्कर्ष:

I. सभी G, R हैं।

II. कोई Q, R नहीं है।

- Ans**
- ✓ 1. कोई भी निष्कर्ष कथनों के अनुसार नहीं है
 - ✗ 2. केवल निष्कर्ष I कथनों के अनुसार है
 - ✗ 3. दोनों निष्कर्ष I और II कथनों के अनुसार हैं
 - ✗ 4. केवल निष्कर्ष II कथनों के अनुसार है

Question Type : MCQ

Question ID : 264330138466

Option 1 ID : 264330542474

Option 2 ID : 264330542471

Option 3 ID : 264330542473

Option 4 ID : 264330542472

Status : Answered

Chosen Option : 1

Section : General Awareness

Q.1 किस नर्तक को प्राचीन नृत्य शैली 'सादिर (Sathir)' के लिए कला बर्ग में पद्म श्री से सम्मानित किया गया था?

- Ans**
- ✗ 1. तृप्ति तिवारी (Tripti Tiwari)
 - ✗ 2. कौशलया रेड्डी (Kaushalya Reddy)
 - ✗ 3. मंजम्मा जोगती (Manjamma Jogati)
 - ✓ 4. आर मुथुकन्नमल (R Muthukannamal)

Question Type : MCQ

Question ID : 264330137780

Option 1 ID : 264330539729

Option 2 ID : 264330539727

Option 3 ID : 264330539730

Option 4 ID : 264330539728

Status : Not Answered

Chosen Option : --

Q.2 निम्नलिखित में से किस राज्य के मुख्यमंत्री ने किसानों के लिए ऋण सुविधा आसान बनाने के लिए सामान्य क्रेडिट पोर्टल - सिम्प्लिफाइड एप्लीकेशन फॉर एग्रीकल्चरल लोन्स (Simplified Application for Agricultural Loans - SAFAL) की शुरुआत की है?

- Ans
- 1. महाराष्ट्र
 - 2. उड़ीसा
 - 3. बिहार
 - 4. पश्चिम बंगाल

Question Type : MCQ
Question ID : 264330138221
Option 1 ID : 264330541491
Option 2 ID : 264330541492
Option 3 ID : 264330541493
Option 4 ID : 264330541494
Status : Not Answered
Chosen Option : --

Q.3 संस्कृत भाषा _____ भाषा-परिवार का हिस्सा है।

- Ans
- 1. भारत-तिब्बती (Indo-Tibetan)
 - 2. भारत-द्रविड़ (Indo-Dravidian)
 - 3. भारत-एशियाई (Indo-Asian)
 - 4. भारत- यूरोपीय (Indo-European)

Question Type : MCQ
Question ID : 264330138267
Option 1 ID : 264330541678
Option 2 ID : 264330541677
Option 3 ID : 264330541676
Option 4 ID : 264330541675
Status : Answered
Chosen Option : 2

Q.4 भारतीय संविधान का अनुच्छेद 19-22 निम्नलिखित में से किस मौलिक अधिकार से संबंधित है?

- Ans
- 1. स्वतंत्रता का अधिकार
 - 2. धार्मिक स्वतंत्रता का अधिकार
 - 3. समानता का अधिकार
 - 4. शोषण के विरुद्ध अधिकार

Question Type : MCQ
Question ID : 264330138241
Option 1 ID : 264330541572
Option 2 ID : 264330541574
Option 3 ID : 264330541571
Option 4 ID : 264330541573
Status : Answered
Chosen Option : 1

Q.5 डेटा संरक्षण विधेयक 2021 किस मौलिक अधिकार को सुनिश्चित करता है?

- Ans
- 1. शिक्षा के अधिकार
 - 2. सूचना प्रौद्योगिकी के अधिकार
 - 3. गोपनीयता के अधिकार
 - 4. अभिव्यक्ति की आजादी के अधिकार

Question Type : MCQ
Question ID : 264330134670
Option 1 ID : 264330527635
Option 2 ID : 264330527637
Option 3 ID : 264330527636
Option 4 ID : 264330527638
Status : Answered
Chosen Option : 3

Q.6 इल्बर्ट बिल (Ilbert Bill) में, _____ का प्रावधान किया गया था ।

- Ans
- 1. राष्ट्रवादी को कड़ी सजा
 - 2. शिक्षा प्रणाली में सुधार
 - 3. सैन्य प्रणाली में सुधार
 - 4. ब्रिटिश और भारतीय न्यायाधीशों के बीच समानता

Question Type : MCQ
Question ID : 264330138270
Option 1 ID : 264330541687
Option 2 ID : 264330541689
Option 3 ID : 264330541690
Option 4 ID : 264330541688
Status : Answered
Chosen Option : 2

Q.7 भारत अपनी अधिकांश पश्चिमी सीमा किस पड़ोसी देश के साथ साझा करता है?

- Ans
- 1. पाकिस्तान
 - 2. भूटान
 - 3. चीन
 - 4. म्यांमार

Question Type : MCQ
Question ID : 264330135446
Option 1 ID : 264330530691
Option 2 ID : 264330530692
Option 3 ID : 264330530693
Option 4 ID : 264330530694
Status : Answered
Chosen Option : 4

Q.8 कोबी ब्रायंट _____ खेल के प्रसिद्ध खिलाड़ी थे।

- Ans
- ✓ 1. बास्केटबॉल
 - ✗ 2. लॉन टेनिस
 - ✗ 3. क्रिकेट
 - ✗ 4. रग्बी

Question Type : MCQ
Question ID : 264330135482
Option 1 ID : 264330530838
Option 2 ID : 264330530837
Option 3 ID : 264330530835
Option 4 ID : 264330530836
Status : Not Answered
Chosen Option : --

Q.9 मध्यप्रदेश का गांधीसागर बांध निम्नलिखित में से किस नदी पर बना है?

- Ans
- ✗ 1. कावेरी
 - ✓ 2. चंबल
 - ✗ 3. बनास
 - ✗ 4. रावि

Question Type : MCQ
Question ID : 264330138231
Option 1 ID : 264330541533
Option 2 ID : 264330541532
Option 3 ID : 264330541534
Option 4 ID : 264330541531
Status : Answered
Chosen Option : 2

Q.10 केलुचरण महापात्र निम्नलिखित में से किस नृत्य शैली से संबंधित एक जानी-मानी शख्सियत हैं?

- Ans
- ✗ 1. मणिपुरी
 - ✓ 2. ओडिसी
 - ✗ 3. कथक
 - ✗ 4. छऊ

Question Type : MCQ
Question ID : 264330138223
Option 1 ID : 264330541501
Option 2 ID : 264330541499
Option 3 ID : 264330541502
Option 4 ID : 264330541500
Status : Answered
Chosen Option : 2

Q.11 निम्नलिखित में से कौन-सा वनस्पति जगत, लिबरवर्ट (liverworts) और माँस (mosses) में विभाजित हैं?

- Ans
- 1. स्पर्मटोफाइटा (Spermatophyta)
 - 2. स्फीनोप्सिडा (Sphenopsida)
 - 3. टेरिडोफाइटा (Pteridophytes)
 - 4. ब्रायोफाइटा (Bryophytes)

Question Type : MCQ

Question ID : 264330138227

Option 1 ID : 264330541517

Option 2 ID : 264330541518

Option 3 ID : 264330541516

Option 4 ID : 264330541515

Status : Answered

Chosen Option : 4

Q.12 Which among the following occur when two tectonic plates are moving past each other with different speeds?

- Ans
- 1. Blizzard
 - 2. Drought
 - 3. Hurricane
 - 4. Earthquake

Question Type : MCQ

Question ID : 264330135467

Option 1 ID : 264330530778

Option 2 ID : 264330530777

Option 3 ID : 264330530776

Option 4 ID : 264330530775

Status : Answered

Chosen Option : 4

Q.13 निम्न में से कौन ओलंपिक पदक जीतने वाला पहला भारतीय और एशियाई टेनिस खिलाड़ी था?

- Ans
- 1. लिण्डर पेस
 - 2. पीवी सिंधु
 - 3. पूरव राजा
 - 4. अंकिता रैना

Question Type : MCQ

Question ID : 264330138243

Option 1 ID : 264330541580

Option 2 ID : 264330541579

Option 3 ID : 264330541581

Option 4 ID : 264330541582

Status : Answered

Chosen Option : 2

Q.14 भारत के किसी राज्य के राज्यपाल के रूप में नियुक्त होने के इच्छुक व्यक्ति की न्यूनतम आयु कितनी होनी चाहिए?

- Ans
- 1. 28 साल
 - 2. 30 साल
 - 3. 40 साल
 - 4. 35 साल

Question Type : MCQ

Question ID : 264330138242

Option 1 ID : 264330541577

Option 2 ID : 264330541576

Option 3 ID : 264330541578

Option 4 ID : 264330541575

Status : Answered

Chosen Option : 4

Q.15 नाबार्ड (NABARD), 1982 में भारत सरकार द्वारा स्थापित एक शीर्ष वित्त संस्थान है। NABARD में 'R' का क्या अर्थ है?

- Ans
- 1. रैंक (Rank)
 - 2. रूरल (Rural)
 - 3. रेगुलेटरी (Regulatory)
 - 4. राईट (Right)

Question Type : MCQ

Question ID : 264330137785

Option 1 ID : 264330539747

Option 2 ID : 264330539748

Option 3 ID : 264330539749

Option 4 ID : 264330539750

Status : Answered

Chosen Option : 2

Q.16 एक आवेशित वस्तु द्वारा किसी दूसरी आवेशित अथवा अनावेशित वस्तु पर लगाया गया बल _____ कहलाता है।

- Ans
- 1. स्थिरवैद्युत बल
 - 2. दाब
 - 3. कोणीय बल
 - 4. पेशीय बल

Question Type : MCQ

Question ID : 264330135464

Option 1 ID : 264330530763

Option 2 ID : 264330530766

Option 3 ID : 264330530765

Option 4 ID : 264330530764

Status : Answered

Chosen Option : 1

Q.17 निम्नलिखित में से कौन-सी वास्तुकला औरंगजेब की पत्नी दिलरास बानो बेगम का स्मारक है?

- Ans
- 1. ताजमहल
 - 2. जामा मस्जिद
 - 3. शाह बेगम का मकबरा
 - 4. बीबी का मकबरा

Question Type : MCQ

Question ID : 264330134673

Option 1 ID : 264330527647

Option 2 ID : 264330527648

Option 3 ID : 264330527649

Option 4 ID : 264330527650

Status : Answered

Chosen Option : 4

Q.18 बृजभूषण काबरा का संबंध निम्नलिखित में से किस वाद्य यंत्र से है?

- Ans
- 1. गिटार
 - 2. वायलिन
 - 3. बाँसुरी
 - 4. शहनाई

Question Type : MCQ

Question ID : 264330138239

Option 1 ID : 264330541564

Option 2 ID : 264330541563

Option 3 ID : 264330541566

Option 4 ID : 264330541565

Status : Not Answered

Chosen Option : --

Q.19 "ए ब्रीफ हिस्ट्री ऑफ टाइम (A Brief History of Time)" पुस्तक किसने लिखी है?

- Ans
- 1. स्टीफन हॉकिंग (Stephen Hawking)
 - 2. जॉन वाटसन (John Watson)
 - 3. अल्बर्ट आइंस्टीन (Albert Einstein)
 - 4. नील डेग्रसे टायसन (Neil Degrasse Tyson)

Question Type : MCQ

Question ID : 264330137778

Option 1 ID : 264330539721

Option 2 ID : 264330539720

Option 3 ID : 264330539719

Option 4 ID : 264330539722

Status : Answered

Chosen Option : 1

Q.20 भारत का कौन-सा शहर चाय उद्योग से जुड़ा है?

- Ans
- 1. मदुरै, तमिलनाडु
 - 2. दार्जिलिंग, पश्चिम बंगाल
 - 3. पानीपत, हरियाणा
 - 4. अहमदाबाद, गुजरात

Question Type : MCQ
Question ID : 264330137770
Option 1 ID : 264330539690
Option 2 ID : 264330539688
Option 3 ID : 264330539689
Option 4 ID : 264330539687
Status : Answered
Chosen Option : 2

Q.21 अलीवर्दी खान के बाद _____ बंगाल का नवाब बना।

- Ans
- 1. सरफराज़ खान
 - 2. सिराजुद्दौला
 - 3. शुजा-उद-दौला
 - 4. मुर्शिद कुली खां

Question Type : MCQ
Question ID : 264330135473
Option 1 ID : 264330530801
Option 2 ID : 264330530800
Option 3 ID : 264330530802
Option 4 ID : 264330530799
Status : Answered
Chosen Option : 2

Q.22 निम्नलिखित में से कौन कोशिकाओं की खोज करने वाला पहला जीवविज्ञानी था?

- Ans
- 1. रॉबर्ट हुक (Robert Hooke)
 - 2. ग्रेगर मेंडल (Gregor Mendel)
 - 3. चार्ल्स डार्विन (Charles Darwin)
 - 4. रॉसलिंड फ्रेंक्लिन (Rosalind Franklin)

Question Type : MCQ
Question ID : 264330135466
Option 1 ID : 264330530771
Option 2 ID : 264330530773
Option 3 ID : 264330530772
Option 4 ID : 264330530774
Status : Answered
Chosen Option : 1

Q.23 निम्नलिखित में से कौन-से कारक जनसंख्या के वितरण को प्रभावित करते हैं?

I. जलवायु (Climate)

II. मृदा (Soil)

III. भौगोलिक स्थिति (Topography)

IV. जल (Water)

Ans ✓ 1. I, II, III, और IV

✗ 2. I, III और IV

✗ 3. II और IV

✗ 4. I और III

Question Type : MCQ

Question ID : 264330138644

Option 1 ID : 264330543186

Option 2 ID : 264330543185

Option 3 ID : 264330543184

Option 4 ID : 264330543183

Status : Answered

Chosen Option : 1

Q.24 किस स्वतंत्रता संग्राम आंदोलन के दौरान महात्मा गांधी जी ने "करो या मरो (Do or Die)" का नारा दिया था?

Ans ✗ 1. असहयोग आंदोलन

✓ 2. भारत छोड़ो आंदोलन

✗ 3. खिलाफत आंदोलन

✗ 4. दांडी मार्च

Question Type : MCQ

Question ID : 264330134684

Option 1 ID : 264330527693

Option 2 ID : 264330527691

Option 3 ID : 264330527692

Option 4 ID : 264330527694

Status : Answered

Chosen Option : 2

Q.25 हैलोवीन(Halloween) हर वर्ष _____ को मनाया जाता है।

- Ans
- 1. 24 नवंबर
 - 2. 1 अक्टूबर
 - 3. 25 दिसंबर
 - 4. 31 अक्टूबर

Question Type : MCQ
Question ID : 264330138247
Option 1 ID : 264330541598
Option 2 ID : 264330541597
Option 3 ID : 264330541596
Option 4 ID : 264330541595
Status : Answered
Chosen Option : 3

Section : English Language and Comprehension

Q.1 Select the most appropriate option to fill in the blank.

I often feel I am an _____, that I would be more at home at the turn of the century than today.

- Ans
- 1. apathy
 - 2. analogous
 - 3. avarice
 - 4. anachronism

Question Type : MCQ
Question ID : 264330136672
Option 1 ID : 264330535409
Option 2 ID : 264330535407
Option 3 ID : 264330535410
Option 4 ID : 264330535408
Status : Answered
Chosen Option : 3

Q.2 The statement below has been given with bracketed text. Select the option with correct Idiom for the bracketed text.

History certainly gives you (something to think about), doesn't it?

- Ans
- 1. golden handshake
 - 2. cup of Joe
 - 3. food for thought
 - 4. forty winks

Question Type : MCQ
Question ID : 264330136608
Option 1 ID : 264330535160
Option 2 ID : 264330535162
Option 3 ID : 264330535161
Option 4 ID : 264330535159
Status : Answered
Chosen Option : 1

Q.3 Select the most appropriate word for the given group of words.

An inscription on or at a tomb or a grave

- Ans
- 1. Ode
 - 2. Epitaph
 - 3. Imprint
 - 4. Carving

Question Type : MCQ
Question ID : 264330136602
Option 1 ID : 264330535135
Option 2 ID : 264330535137
Option 3 ID : 264330535136
Option 4 ID : 264330535138
Status : Answered
Chosen Option : 2

Q.4 Identify the segment that contains a grammatical error. If there is no error, select 'No error'.

Sorry I will be late as a flight / has been delayed due / to bad weather.

- Ans
- 1. Sorry I will be late as a flight
 - 2. No error
 - 3. to bad weather.
 - 4. has been delayed due

Question Type : MCQ
Question ID : 264330136589
Option 1 ID : 264330535087
Option 2 ID : 264330535090
Option 3 ID : 264330535089
Option 4 ID : 264330535088
Status : Answered
Chosen Option : 1

Q.5 Fill in the blank with the most appropriate option.

Even the rules for spelling can cause you to _____.

- Ans
- 1. happen a mistake
 - 2. have a mistake
 - 3. do a mistake
 - 4. make a mistake

Question Type : MCQ
Question ID : 264330136637
Option 1 ID : 264330535272
Option 2 ID : 264330535274
Option 3 ID : 264330535271
Option 4 ID : 264330535273
Status : Answered
Chosen Option : 4

Q.6 Select the most appropriate option to substitute the bracketed segment in the given sentence. If there is no need to substitute it, select 'no substitution required'.

The Bank of New York has increased (interest rates four times from last January.)

- Ans**
- 1. interest rates from last January, four times.
 - 2. No substitution required
 - 3. the interest rates four time from last January.
 - 4. interest rates four times since last January.

Question Type : **MCQ**
Question ID : **264330136721**
Option 1 ID : **264330535597**
Option 2 ID : **264330535598**
Option 3 ID : **264330535595**
Option 4 ID : **264330535596**
Status : **Answered**
Chosen Option : **2**

Q.7 Four sentences are given, out of which three have spelling errors. Choose the sentence with all correctly spelled words.

- Ans**
- 1. He was arrested for drunkenness on his way to the football ground.
 - 2. A dumbbell is a short bar with weigts on either side.
 - 3. His performance exceeded all expectations.
 - 4. He was quite humorous, and I liked that about him

Question Type : **MCQ**
Question ID : **264330136636**
Option 1 ID : **264330535267**
Option 2 ID : **264330535269**
Option 3 ID : **264330535268**
Option 4 ID : **264330535270**
Status : **Answered**
Chosen Option : **3**

Q.8 Improve the underlined part of the sentence. Choose 'No improvement' as an answer if the sentence is grammatically correct.

The dress is too tights around the waist.

- Ans**
- 1. too tightly
 - 2. No improvement
 - 3. too tightest
 - 4. too tight

Question Type : **MCQ**
Question ID : **264330135181**
Option 1 ID : **264330529657**
Option 2 ID : **264330529658**
Option 3 ID : **264330529655**
Option 4 ID : **264330529656**
Status : **Answered**
Chosen Option : **4**

Q.9 Find the part of the given sentence that has an error in it. If there is no error, choose 'No error'.

There were a time when scientists took this myth seriously.

- Ans**
- 1. No error
 - 2. when scientists took
 - 3. this myth seriously.
 - 4. There were a time

Question Type : **MCQ**

Question ID : **264330134451**

Option 1 ID : **264330526778**

Option 2 ID : **264330526776**

Option 3 ID : **264330526777**

Option 4 ID : **264330526775**

Status : **Answered**

Chosen Option : **4**

Q.10 In the following question, out of the given four alternatives, select the alternative which best expresses the meaning of the Idiom/Phrase.

In ones and twos

- Ans**
- 1. Large margin
 - 2. In small numbers
 - 3. By unfair means
 - 4. To count resources

Question Type : **MCQ**

Question ID : **264330135224**

Option 1 ID : **264330529821**

Option 2 ID : **264330529822**

Option 3 ID : **264330529819**

Option 4 ID : **264330529820**

Status : **Answered**

Chosen Option : **2**

Q.11 Select the word from the options which is similar in meaning to the bracketed word given in the sentence below.

He maliciously (damaged) a car with a baseball bat.

- Ans**
- 1. Marred
 - 2. Loaded
 - 3. Corrupted
 - 4. Mended

Question Type : **MCQ**

Question ID : **264330136656**

Option 1 ID : **264330535344**

Option 2 ID : **264330535345**

Option 3 ID : **264330535343**

Option 4 ID : **264330535346**

Status : **Answered**

Chosen Option : **4**

Q.12 Identify the segment that contains a grammatical error. If there is no error, select 'No error'.

Here, in truth, lies / the crux of the / great problem of all.

Ans ✓ 1. great problem of all.

✗ 2. No error

✗ 3. the crux of the

✗ 4. Here, in truth, lies

Question Type : **MCQ**

Question ID : **264330136718**

Option 1 ID : **264330535585**

Option 2 ID : **264330535586**

Option 3 ID : **264330535584**

Option 4 ID : **264330535583**

Status : **Answered**

Chosen Option : **1**

Q.13 Select the word from the options which is exactly opposite in meaning to the bracketed word given in the sentence below.

Having an (active) youngster around the house can be quite wearing.

Ans ✗ 1. Streaming

✗ 2. Progressive

✓ 3. Abeyant

✗ 4. Bustling

Question Type : **MCQ**

Question ID : **264330136606**

Option 1 ID : **264330535152**

Option 2 ID : **264330535151**

Option 3 ID : **264330535153**

Option 4 ID : **264330535154**

Status : **Answered**

Chosen Option : **3**

Q.14 Four words are given, out of which only one word is spelt correctly. Choose the correctly spelt word.

Ans ✓ 1. APPARENT

✗ 2. PLEGE

✗ 3. AQUIRE

✗ 4. CALENDER

Question Type : **MCQ**

Question ID : **264330136609**

Option 1 ID : **264330535164**

Option 2 ID : **264330535166**

Option 3 ID : **264330535163**

Option 4 ID : **264330535165**

Status : **Answered**

Chosen Option : **2**

Q.15 Choose the word that is opposite in meaning to the given word.

Hyped

- Ans
- 1. Upped
 - 2. Reduced
 - 3. Dilate
 - 4. Parlayed

Question Type : MCQ
Question ID : 264330134815
Option 1 ID : 264330528199
Option 2 ID : 264330528200
Option 3 ID : 264330528202
Option 4 ID : 264330528201
Status : Answered
Chosen Option : 2

Q.16 Fill in the blank with the most appropriate option.

She is _____, always submits her assignments on time.

- Ans
- 1. tardy
 - 2. scheduled
 - 3. late
 - 4. punctual

Question Type : MCQ
Question ID : 264330136612
Option 1 ID : 264330535175
Option 2 ID : 264330535176
Option 3 ID : 264330535178
Option 4 ID : 264330535177
Status : Answered
Chosen Option : 4

Q.17 Select the word segment that substitutes (replaces) the bracketed word segment correctly and completes the sentence meaningfully. Select the option 'no correction required' if the sentence is correct as given.

(Those Mount Everests) is Earth's highest mountain above sea level, located in the sub-range of the Himalayas.

- Ans
- 1. Mount Everest
 - 2. No correction required
 - 3. The Mount Everest
 - 4. A Mount Everest

Question Type : MCQ
Question ID : 264330136618
Option 1 ID : 264330535199
Option 2 ID : 264330535202
Option 3 ID : 264330535200
Option 4 ID : 264330535201
Status : Answered
Chosen Option : 1

Q.18 Fill in the blank with the most appropriate option.

The story _____ me to make up fancy names for myself.

- Ans
- 1. told
 - 2. activated
 - 3. inspired
 - 4. declared

Question Type : MCQ
Question ID : 264330136593
Option 1 ID : 264330535105
Option 2 ID : 264330535106
Option 3 ID : 264330535104
Option 4 ID : 264330535103
Status : Answered
Chosen Option : 3

Q.19 Select the most appropriate synonym of the given word.

Opposite

- Ans
- 1. Conspicuous
 - 2. Noticeable
 - 3. Similar
 - 4. Antagonistic

Question Type : MCQ
Question ID : 264330136603
Option 1 ID : 264330535141
Option 2 ID : 264330535142
Option 3 ID : 264330535140
Option 4 ID : 264330535139
Status : Answered
Chosen Option : 4

Q.20 Choose the word that can substitute the given group of words.

A place for wrestling

- Ans
- 1. Arena
 - 2. Premise
 - 3. Hangar
 - 4. Cemetery

Question Type : MCQ
Question ID : 264330135218
Option 1 ID : 264330529796
Option 2 ID : 264330529798
Option 3 ID : 264330529797
Option 4 ID : 264330529795
Status : Answered
Chosen Option : 1

Comprehension:

In the following passage some of the words have been deleted. Read the passage carefully and select the correct answer for the given blank out of the four alternatives.

Workers' compensation benefits in Pennsylvania should pay for your medical (1) _____ and a portion of your lost wages. However, you cannot be (2) _____ for pain and suffering or other non-financial damages that your illness or injury may (3) _____ you. A personal injury or wrongful death lawsuit, on the other hand, (4) _____ compensation for the ill worker or surviving family members. If someone (5) _____ your employer or a co-worker was to blame for your illness, you could pursue such a claim.

SubQuestion No : 21

Q.21 Select the most appropriate option to fill in blank number 1.

- Ans**
- 1. bills
 - 2. rules
 - 3. states
 - 4. regulations

Question Type : **MCQ**

Question ID : **264330134806**

Option 1 ID : **264330528163**

Option 2 ID : **264330528165**

Option 3 ID : **264330528164**

Option 4 ID : **264330528166**

Status : **Answered**

Chosen Option : **1**

Comprehension:

In the following passage some of the words have been deleted. Read the passage carefully and select the correct answer for the given blank out of the four alternatives.

Workers' compensation benefits in Pennsylvania should pay for your medical (1) _____ and a portion of your lost wages. However, you cannot be (2) _____ for pain and suffering or other non-financial damages that your illness or injury may (3) _____ you. A personal injury or wrongful death lawsuit, on the other hand, (4) _____ compensation for the ill worker or surviving family members. If someone (5) _____ your employer or a co-worker was to blame for your illness, you could pursue such a claim.

SubQuestion No : 22

Q.22 Select the most appropriate option to fill in blank number 2.

- Ans**
- 1. signed
 - 2. repudiated
 - 3. paid
 - 4. stiffed

Question Type : **MCQ**

Question ID : **264330134807**

Option 1 ID : **264330528169**

Option 2 ID : **264330528170**

Option 3 ID : **264330528168**

Option 4 ID : **264330528167**

Status : **Answered**

Chosen Option : **3**

Comprehension:

In the following passage some of the words have been deleted. Read the passage carefully and select the correct answer for the given blank out of the four alternatives.

Workers' compensation benefits in Pennsylvania should pay for your medical (1) _____ and a portion of your lost wages. However, you cannot be (2) _____ for pain and suffering or other non-financial damages that your illness or injury may (3) _____ you. A personal injury or wrongful death lawsuit, on the other hand, (4) _____ compensation for the ill worker or surviving family members. If someone (5) _____ your employer or a co-worker was to blame for your illness, you could pursue such a claim.

SubQuestion No : 23

Q.23 Select the most appropriate option to fill in blank number 3.

- Ans**
- 1. has caused
 - 2. causing
 - 3. have caused
 - 4. cause

Question Type : **MCQ**
Question ID : **264330134808**
Option 1 ID : **264330528172**
Option 2 ID : **264330528174**
Option 3 ID : **264330528173**
Option 4 ID : **264330528171**
Status : **Answered**
Chosen Option : **3**

Comprehension:

In the following passage some of the words have been deleted. Read the passage carefully and select the correct answer for the given blank out of the four alternatives.

Workers' compensation benefits in Pennsylvania should pay for your medical (1) _____ and a portion of your lost wages. However, you cannot be (2) _____ for pain and suffering or other non-financial damages that your illness or injury may (3) _____ you. A personal injury or wrongful death lawsuit, on the other hand, (4) _____ compensation for the ill worker or surviving family members. If someone (5) _____ your employer or a co-worker was to blame for your illness, you could pursue such a claim.

SubQuestion No : 24

Q.24 Select the most appropriate option to fill in blank number 4.

- Ans**
- 1. hovers
 - 2. allows
 - 3. boasts
 - 4. hosts

Question Type : **MCQ**
Question ID : **264330134809**
Option 1 ID : **264330528175**
Option 2 ID : **264330528178**
Option 3 ID : **264330528176**
Option 4 ID : **264330528177**
Status : **Answered**
Chosen Option : **2**

Comprehension:

In the following passage some of the words have been deleted. Read the passage carefully and select the correct answer for the given blank out of the four alternatives.

Workers' compensation benefits in Pennsylvania should pay for your medical (1) _____ and a portion of your lost wages. However, you cannot be (2) _____ for pain and suffering or other non-financial damages that your illness or injury may (3) _____ you. A personal injury or wrongful death lawsuit, on the other hand, (4) _____ compensation for the ill worker or surviving family members. If someone (5) _____ your employer or a co-worker was to blame for your illness, you could pursue such a claim.

SubQuestion No : 25

Q.25 Select the most appropriate option to fill in blank number 5.

- Ans**
- 1. beside
 - 2. beyond
 - 3. along
 - 4. besides

Question Type : **MCQ**

Question ID : **264330134810**

Option 1 ID : **264330528179**

Option 2 ID : **264330528182**

Option 3 ID : **264330528180**

Option 4 ID : **264330528181**

Status : **Answered**

Chosen Option : **4**