

## Multi Tasking Non Technical Staff and Havaladar CBIC and CBN Examination 2022

Roll Number	
Candidate Name	
Venue Name	Jaipur Engineering College
Exam Date	19/05/2023
Exam Time	3:30 PM - 5:00 PM
Subject	MTS Non Tech Havaladar CBIC and CBN Examination 2022

### Section : Numerical and Mathematical Ability

**Q.1** एक व्यक्ति 8 km/hr की चाल से चलते हुए एक निश्चित दूरी को 5 घंटे 30 मिनट में तय करता है। यदि वह समान दूरी साइकिल से 4 घंटे में तय करता है, तो साइकिल की चाल क्या है?

- Ans**
- ✓ 1. 11 km/hr
  - ✗ 2. 15 km/hr
  - ✗ 3. 9 km/hr
  - ✗ 4. 8 km/hr

Question Type : **MCQ**

Question ID : **264330137625**

Option 1 ID : **264330539109**

Option 2 ID : **264330539110**

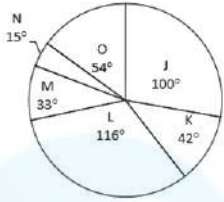
Option 3 ID : **264330539107**

Option 4 ID : **264330539108**

Status : **Answered**

Chosen Option : **1**

Q.2 नीचे दिए गए वृत्त आलेख में 6 अलग-अलग वस्तुओं के मूल्य को दर्शाया गया है। इन सभी 6 वस्तुओं का कुल मूल्य Rs. 5760 है। इनमें से किसी एक विशिष्ट वस्तु के मूल्य को इन सभी 6 वस्तुओं के कुल मूल्य के सापेक्ष में डिग्री के रूप में दर्शाया गया है।



$P1 = K$  और  $L$  के औसत मूल्य और  $J$  और  $N$  के औसत मूल्य के बीच का अंतर।

$P2 = J, M, N$  और  $O$  का कुल मूल्य।

$(P1 + P2)$  का मान क्या है?

- Ans
- ✓ 1. 3576
  - ✗ 2. 5426
  - ✗ 3. 3232
  - ✗ 4. 2426

Question Type : MCQ

Question ID : 264330137644

Option 1 ID : 264330539185

Option 2 ID : 264330539184

Option 3 ID : 264330539183

Option 4 ID : 264330539186

Status : Answered

Chosen Option : 1

Q.3 एक व्यक्ति ने अपनी बाइक 55% लाभ पर Rs. 18,600 में बेची। बाइक को किस मूल्य पर बेचने पर उसे 10% की हानि होगी?

- Ans
- ✗ 1. Rs. 11,200
  - ✗ 2. Rs. 15,000
  - ✓ 3. Rs. 10,800
  - ✗ 4. Rs. 16,600

Question Type : MCQ

Question ID : 264330138419

Option 1 ID : 264330542285

Option 2 ID : 264330542284

Option 3 ID : 264330542283

Option 4 ID : 264330542286

Status : Answered

Chosen Option : 3

Q.4 एक व्यक्ति एक वस्तु को Rs. 325 में बेचकर 30 प्रतिशत का लाभ अर्जित करता है। 40 प्रतिशत का लाभ अर्जित करने के लिए उसे अपने विक्रय मूल्य में कितने प्रतिशत की वृद्धि करनी होगी?

- Ans
- ✓ 1. 7.69 प्रतिशत
  - ✗ 2. 6.66 प्रतिशत
  - ✗ 3. 8.25 प्रतिशत
  - ✗ 4. 5.25 प्रतिशत

Question Type : MCQ

Question ID : 264330137631

Option 1 ID : 264330539133

Option 2 ID : 264330539132

Option 3 ID : 264330539134

Option 4 ID : 264330539131

Status : Answered

Chosen Option : 1

Q.5 X और Y मिलकर किसी कार्य को 10 दिनों में कर सकते हैं। Y और Z मिलकर उसी कार्य को 15 दिनों में कर सकते हैं। Z और X मिलकर उसी कार्य को 12 दिनों में कर सकते हैं। Z अकेले उसी कार्य को कितने दिनों में कर सकता है?

- Ans
- ✗ 1. 50 दिन
  - ✗ 2. 80 दिन
  - ✗ 3. 60 दिन
  - ✓ 4. 40 दिन

Question Type : MCQ

Question ID : 264330137175

Option 1 ID : 264330537346

Option 2 ID : 264330537343

Option 3 ID : 264330537345

Option 4 ID : 264330537344

Status : Answered

Chosen Option : 2

Q.6 नीचे दी गई तालिका में पाँच वस्तुओं की माँग और उत्पादन को दर्शाया गया है।

वस्तुएँ	माँग	उत्पादन
P	400	500
Q	450	650
R	250	550
S	150	850
T	850	1050

निम्नलिखित में से कौन-सा कथन सही है?

- I. सभी वस्तुओं की औसत माँग का मान 420 है।
- II. P और Q का कुल उत्पादन, S और T के कुल उत्पादन का 52.60 प्रतिशत है।

- Ans
- 1. I और II दोनों
  - 2. न तो I और न ही II
  - 3. केवल I
  - 4. केवल II

Question Type : MCQ  
Question ID : 264330137643  
Option 1 ID : 264330539181  
Option 2 ID : 264330539182  
Option 3 ID : 264330539179  
Option 4 ID : 264330539180  
Status : Answered  
Chosen Option : 3

Q.7  $\frac{2.5 \times 2.5 + 0.3 \times 0.3 + 5 \times 0.3}{1.6 \times 1.6 + 0.6 \times 0.6 - 1.2 \times 1.6}$  का मान क्या है?

- Ans
- 1. 7.64
  - 2. 7.84
  - 3. 8.64
  - 4. 2.8

Question Type : MCQ  
Question ID : 264330137642  
Option 1 ID : 264330539176  
Option 2 ID : 264330539178  
Option 3 ID : 264330539175  
Option 4 ID : 264330539177  
Status : Answered  
Chosen Option : 2

Q.8 एक आयताकार फर्श का क्षेत्रफल 600 वर्ग फुट (square feet) है। यदि फर्श की लंबाई 30 फुट है, तो फर्श की चौड़ाई कितनी है?

- Ans
- ✓ 1. 20 फीट
  - ✗ 2. 60 फीट
  - ✗ 3. 10 फीट
  - ✗ 4. 30 फीट

Question Type : MCQ

Question ID : 264330133599

Option 1 ID : 264330523419

Option 2 ID : 264330523421

Option 3 ID : 264330523422

Option 4 ID : 264330523420

Status : Answered

Chosen Option : 1

Q.9 एक आयत की लंबाई और चौड़ाई के बीच का अंतर 40 मीटर है। यदि इसका परिमाप 96 मीटर है, तो आयत का क्षेत्रफल कितना होगा?

- Ans
- ✓ 1. 176 metre<sup>2</sup>
  - ✗ 2. 254 metre<sup>2</sup>
  - ✗ 3. 110 metre<sup>2</sup>
  - ✗ 4. 152 metre<sup>2</sup>

Question Type : MCQ

Question ID : 264330137190

Option 1 ID : 264330537403

Option 2 ID : 264330537406

Option 3 ID : 264330537405

Option 4 ID : 264330537404

Status : Answered

Chosen Option : 4

Q.10 सोनू और मोनू किसी काम को क्रमशः 8 दिनों और 12 दिनों में कर सकते हैं। यदि काम पूरा होने पर उन्हें Rs.8400 मिले, तो उसमें सोनू का हिस्सा कितना है?

- Ans
- ✓ 1. Rs.5040
  - ✗ 2. Rs.3480
  - ✗ 3. Rs.2360
  - ✗ 4. Rs.1680

Question Type : MCQ

Question ID : 264330133594

Option 1 ID : 264330523401

Option 2 ID : 264330523402

Option 3 ID : 264330523400

Option 4 ID : 264330523399

Status : Answered

Chosen Option : 1

Q.11 तीन अंकों की वह सबसे छोटी संख्या कौन-सी है जिसे 2, 3 और 4 से भाग देने पर प्रत्येक स्थिति में शेषफल 1 बचता है?

- Ans
- 1. 101
  - 2. 109
  - 3. 111
  - 4. 105

Question Type : MCQ  
Question ID : 264330137640  
Option 1 ID : 264330539168  
Option 2 ID : 264330539169  
Option 3 ID : 264330539167  
Option 4 ID : 264330539170  
Status : Answered  
Chosen Option : 2

Q.12 यदि प्याज की कीमत Rs.60/kg से बढ़कर Rs.75/kg हो जाती है, तो एक परिवार को प्याज की खपत में कितने प्रतिशत की कमी करनी होगी ताकि उनका खर्च अपरिवर्तित रहे?

- Ans
- 1. 40 प्रतिशत
  - 2. 30 प्रतिशत
  - 3. 25 प्रतिशत
  - 4. 20 प्रतिशत

Question Type : MCQ  
Question ID : 264330139081  
Option 1 ID : 264330544934  
Option 2 ID : 264330544933  
Option 3 ID : 264330544931  
Option 4 ID : 264330544932  
Status : Answered  
Chosen Option : 4

Q.13 एक राशि साधारण ब्याज पर 4 प्रतिशत वार्षिक दर से 2 वर्ष में Rs.12960 हो जाती है। वह राशि क्या है?

- Ans
- 1. Rs.11600
  - 2. Rs.10000
  - 3. Rs.12200
  - 4. Rs.12000

Question Type : MCQ  
Question ID : 264330139086  
Option 1 ID : 264330544952  
Option 2 ID : 264330544951  
Option 3 ID : 264330544954  
Option 4 ID : 264330544953  
Status : Answered  
Chosen Option : 4

Q.14 दो संख्याओं का महत्तम समापवर्तक (HCF) और लघुत्तम समापवर्त्य (LCM) क्रमशः 20 और 2880 है। यदि उनमें से एक संख्या 180 है, तो दूसरी संख्या ज्ञात कीजिए?

- Ans
- 1. 350
  - 2. 300
  - 3. 320
  - 4. 660

Question Type : MCQ  
Question ID : 264330141016  
Option 1 ID : 264330552411  
Option 2 ID : 264330552413  
Option 3 ID : 264330552414  
Option 4 ID : 264330552412  
Status : Answered  
Chosen Option : 3

Q.15 यदि  $a : b : c = 5 : 6 : 4$ , तो  $(a + b + c) : (3a + b - c)$  का मान क्या है?

- Ans
- 1. 15 : 17
  - 2. 18 : 19
  - 3. 25 : 23
  - 4. 18 : 23

Question Type : MCQ  
Question ID : 264330137632  
Option 1 ID : 264330539135  
Option 2 ID : 264330539136  
Option 3 ID : 264330539137  
Option 4 ID : 264330539138  
Status : Answered  
Chosen Option : 1

Q.16 एक कार की औसत चाल 1500 मीटर/मिनट है। एक धावक (sprinter) 30 सेकंड में 200 मीटर की दूरी तय करता है। कार की चाल और धावक की चाल में कितना अंतर है?

- Ans
- 1.  $(65/3)$  m/s
  - 2.  $(54/11)$  m/s
  - 3.  $(55/3)$  m/s
  - 4.  $(64/3)$  m/s

Question Type : MCQ  
Question ID : 264330138417  
Option 1 ID : 264330542278  
Option 2 ID : 264330542276  
Option 3 ID : 264330542275  
Option 4 ID : 264330542277  
Status : Answered  
Chosen Option : 3

Q.17 एक व्यापारी ने Rs. 1800 के अंकित मूल्य वाले ट्रॉली बैग पर 30 प्रतिशत की छूट दी और 20 प्रतिशत का लाभ अर्जित किया। ट्रॉली बैग का क्रय मूल्य क्या है?

- Ans
- 1. Rs. 1440
  - 2. Rs. 1050
  - 3. Rs. 1230
  - 4. Rs. 1160

Question Type : MCQ

Question ID : 264330137636

Option 1 ID : 264330539154

Option 2 ID : 264330539151

Option 3 ID : 264330539153

Option 4 ID : 264330539152

Status : Answered

Chosen Option : 2

Q.18 5 और 29 के बीच की सभी सम संख्याओं का औसत क्या होगा?

- Ans
- 1. 19
  - 2. 14
  - 3. 17
  - 4. 22

Question Type : MCQ

Question ID : 264330137626

Option 1 ID : 264330539112

Option 2 ID : 264330539114

Option 3 ID : 264330539113

Option 4 ID : 264330539111

Status : Answered

Chosen Option : 3

Q.19 64 लीटर मिश्रण में ऐल्कोहॉल (alcohol) और पानी का अनुपात क्रमशः 1 : 3 है। इसमें से 32 लीटर मिश्रण को निकालकर उसके स्थान पर 16 लीटर पानी डाल दिया जाता है। ऐल्कोहॉल और पानी का नया अनुपात क्रमशः क्या है?

- Ans
- 1. 5 : 12
  - 2. 3 : 10
  - 3. 2 : 7
  - 4. 1 : 5

Question Type : MCQ

Question ID : 264330137633

Option 1 ID : 264330539139

Option 2 ID : 264330539140

Option 3 ID : 264330539141

Option 4 ID : 264330539142

Status : Answered

Chosen Option : 4

**Q.20** सुमित ने राम को Rs.5000, 2 वर्ष के लिए और मयूर को Rs.8000, 3 वर्ष के लिए समान ब्याज दर पर साधारण ब्याज पर ऋण पर दिए और उन दोनों से ब्याज के रूप में कुल Rs.1700 प्राप्त किए। वार्षिक ब्याज की दर क्या है?

- Ans**
- 1. 8% प्रति वर्ष
  - 2. 5% प्रति वर्ष
  - 3. 10% प्रति वर्ष
  - 4. 4% प्रति वर्ष

Question Type : **MCQ**

Question ID : **264330133591**

Option 1 ID : **264330523388**

Option 2 ID : **264330523387**

Option 3 ID : **264330523390**

Option 4 ID : **264330523389**

Status : **Answered**

Chosen Option : **2**

Section : Reasoning Ability and Problem Solving

**Q.1** तीन कथन दिए गए हैं और दो निष्कर्ष I और II दिए गए हैं। कथनों को सत्य मानते हुए, चाहे वे सामान्यतः ज्ञात तथ्यों से अलग प्रतीत होते हों, निश्चय कीजिए कि कौन-सा निष्कर्ष तार्किक रूप से कथनों के अनुसार है।

कथन:

सभी ईंटें, दीवार हैं।

कुछ सड़कें, दीवार हैं।

सभी पत्थर, दीवार हैं।

निष्कर्ष:

I. कुछ पत्थर, दीवारें हैं।

II. कुछ दीवारें, ईंटें हैं।

- Ans**
- 1. दोनों निष्कर्ष I और II कथनों के अनुसार हैं
  - 2. सिर्फ निष्कर्ष I कथनों के अनुसार है
  - 3. सिर्फ निष्कर्ष II कथनों के अनुसार है
  - 4. निष्कर्ष I और II में से कोई भी कथनों के अनुसार नहीं है

Question Type : **MCQ**

Question ID : **264330137549**

Option 1 ID : **264330538805**

Option 2 ID : **264330538803**

Option 3 ID : **264330538804**

Option 4 ID : **264330538806**

Status : **Answered**

Chosen Option : **1**

Q.2 दिए गए समीकरण को सही करने के लिए किन दो संख्याओं को आपस में बदला जाना चाहिए?

$$15 - 24 + 63 \div 7 \times 2 = 9$$

- Ans
- 1. 63 और 9
  - 2. 24 और 9
  - 3. 7 और 63
  - 4. 63 और 24

Question Type : MCQ

Question ID : 264330137554

Option 1 ID : 264330538825

Option 2 ID : 264330538826

Option 3 ID : 264330538823

Option 4 ID : 264330538824

Status : Answered

Chosen Option : 2

Q.3 एक निश्चित कूट भाषा में, 'LORD' को '5409' लिखा जाता है, 'MODE' को '4685' लिखा जाता है, 'LOAD' को '5047' लिखा जाता है। उस कूट भाषा में 'M' को कैसे लिखा जाएगा?

- Ans
- 1. 6
  - 2. 5
  - 3. 7
  - 4. 4

Question Type : MCQ

Question ID : 264330138855

Option 1 ID : 264330544028

Option 2 ID : 264330544029

Option 3 ID : 264330544030

Option 4 ID : 264330544027

Status : Answered

Chosen Option : 1

Q.4 उस विकल्प को चुनिए जो तीसरे शब्द से ठीक उसी तरह संबंधित है जिस तरह दूसरा शब्द पहले शब्द से संबंधित है।  
शिशु हत्या : शिशु :: पितृहत्या :

- Ans
- 1. पति
  - 2. माँ
  - 3. पत्नी
  - 4. पिता

Question Type : MCQ

Question ID : 264330137540

Option 1 ID : 264330538770

Option 2 ID : 264330538768

Option 3 ID : 264330538769

Option 4 ID : 264330538767

Status : Answered

Chosen Option : 4

Q.5 छः व्यक्ति P, Q, R, S, T और U दो समानांतर पंक्तियों में इस प्रकार बैठे हैं कि उनमें से तीन उत्तर की ओर मुख करके एक पंक्ति में बैठे हैं और अन्य तीन दक्षिण की ओर मुख करके दूसरी पंक्ति में बैठे हैं। P का मुख दक्षिण की ओर है। U, R के सम्मुख बैठा है। R का मुख P के समान दिशा की ओर है। S का मुख दक्षिण की ओर नहीं है। T उत्तर की ओर मुख करके बैठा है लेकिन P के सम्मुख नहीं बैठा है। T के सम्मुख कौन बैठा है?

- Ans
- 1. R
  - 2. S
  - 3. Q
  - 4. P

Question Type : MCQ  
Question ID : 264330137545  
Option 1 ID : 264330538788  
Option 2 ID : 264330538790  
Option 3 ID : 264330538789  
Option 4 ID : 264330538787  
Status : Answered  
Chosen Option : 3

Q.6 उस विकल्प को चुनिए जो छठी संख्या से ठीक उसी प्रकार संबंधित है जिस प्रकार पहली संख्या दूसरी संख्या से संबंधित है और तीसरी संख्या चौथी संख्या से संबंधित है।  
8 : 72 :: 10 : 110 :: ? : 210

- Ans
- 1. 14
  - 2. 18
  - 3. 12
  - 4. 16

Question Type : MCQ  
Question ID : 264330138864  
Option 1 ID : 264330544064  
Option 2 ID : 264330544066  
Option 3 ID : 264330544063  
Option 4 ID : 264330544065  
Status : Answered  
Chosen Option : 1

Q.7 निम्नलिखित प्रश्न में, दी गई श्रृंखला में लुप्त संख्या को चुनिए।  
110, 131, 153, 176, 200, ?

- Ans
- 1. 218
  - 2. 224
  - 3. 220
  - 4. 225

Question Type : MCQ  
Question ID : 264330138862  
Option 1 ID : 264330544057  
Option 2 ID : 264330544058  
Option 3 ID : 264330544055  
Option 4 ID : 264330544056  
Status : Answered  
Chosen Option : 4

Q.8 दिए गए समीकरण को सही करने के लिए किन दो चिन्हों को आपस में बदला जाना चाहिए?

$$5 \times 6 - 7 + 24 \div 12 = 35$$

Ans  1. + और =

2. + और -

3.  $\times$  और -

4. = और -

Question Type : MCQ

Question ID : 264330133336

Option 1 ID : 264330522379

Option 2 ID : 264330522381

Option 3 ID : 264330522382

Option 4 ID : 264330522380

Status : Answered

Chosen Option : 2

Q.9 दो कथन दिए गए हैं और दो निष्कर्ष I और II दिए गए हैं। कथनों को सत्य मानते हुए, चाहे वे सामान्यतः ज्ञात तथ्यों से अलग प्रतीत होते हों, निश्चय कीजिए कि कौन-सा निष्कर्ष तार्किक रूप से कथनों के अनुसार है।

कथन:

कुछ फल, मीठे हैं।

सभी मीठे, खड़े हैं।

निष्कर्ष:

I. कुछ फल, खड़े हैं।

II. कुछ मीठे, फल नहीं हैं।

Ans  1. निष्कर्ष I और II में से कोई भी कथनों के अनुसार नहीं है

2. दोनों निष्कर्ष I और II कथनों के अनुसार हैं

3. सिर्फ निष्कर्ष I कथनों के अनुसार है

4. सिर्फ निष्कर्ष II कथनों के अनुसार है

Question Type : MCQ

Question ID : 264330137548

Option 1 ID : 264330538802

Option 2 ID : 264330538801

Option 3 ID : 264330538799

Option 4 ID : 264330538800

Status : Answered

Chosen Option : 3

Q.10 छः मित्र अंशु, अमन, आदर्श, आकाश, अर्पित और अंकित एक पंक्ति में दक्षिण की ओर मुख करके बैठे हैं। अर्पित, आदर्श के ठीक दाईं ओर बैठा है। अंशु, अर्पित के दाईं ओर चौथे स्थान पर बैठा है। आकाश, अमन के बाईं ओर दूसरे स्थान पर बैठा है। अंशु के बाईं ओर दूसरे स्थान पर कौन बैठा है?

- Ans
- 1. अमन
  - 2. अंकित
  - 3. आकाश
  - 4. आदर्श

Question Type : MCQ  
Question ID : 264330137546  
Option 1 ID : 264330538791  
Option 2 ID : 264330538793  
Option 3 ID : 264330538794  
Option 4 ID : 264330538792  
Status : Answered  
Chosen Option : 2

Q.11 एक निश्चित कूट भाषा में, 'BOIL' को '152' और 'HOT' को '129' लिखा जाता है। उस भाषा में 'HEATING' को कैसे लिखा जाएगा ?

- Ans
- 1. 844
  - 2. 484
  - 3. 488
  - 4. 448

Question Type : MCQ  
Question ID : 264330134959  
Option 1 ID : 264330528774  
Option 2 ID : 264330528771  
Option 3 ID : 264330528772  
Option 4 ID : 264330528773  
Status : Answered  
Chosen Option : 4

Q.12 सात लड़कों M, N, O, P, Q, R और S के कद निम्न प्रकार दिए गए हैं। केवल एक लड़के का कद Q से छोटा है। S सबसे लंबा है। R, P से लंबा है लेकिन O से छोटा है। P का कद सबसे छोटा नहीं है। N का कद केवल एक लड़के से छोटा है। लड़कों में तीसरा सबसे लंबा कौन है?

- Ans
- 1. O
  - 2. R
  - 3. P
  - 4. N


Question Type : MCQ  
Question ID : 264330137547  
Option 1 ID : 264330538796  
Option 2 ID : 264330538798  
Option 3 ID : 264330538795  
Option 4 ID : 264330538797  
Status : Answered  
Chosen Option : 1

Q.13 उस विकल्प आकृति को चुनिए जिसमें दी गई आकृति इसके भाग के रूप में निहित है। (घूर्णन की अनुमति नहीं है)

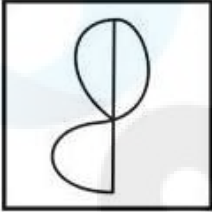


Ans

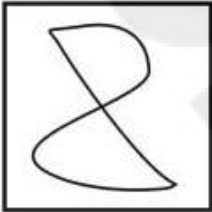
✗ 1.




✗ 2.



✗ 3.



✓ 4.



Question Type : MCQ

Question ID : 264330137556

Option 1 ID : 264330538832

Option 2 ID : 264330538834

Option 3 ID : 264330538833

Option 4 ID : 264330538831

Status : Answered

Chosen Option : 4

Q.14 एक निश्चित कूट भाषा में, 'ENERGY' को 'ZGSEOE' लिखा जाता है। उस कूट भाषा में 'FORMAL' को कैसे लिखा जाएगा?

Ans

✓ 1. MANRPF

✗ 2. BMAPRF

✗ 3. NFRPFL

✗ 4. NAMRPF

Question Type : MCQ

Question ID : 264330138567

Option 1 ID : 264330542876

Option 2 ID : 264330542877

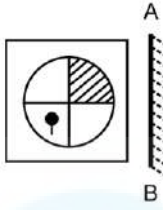
Option 3 ID : 264330542878

Option 4 ID : 264330542875

Status : Answered

Chosen Option : 1

Q.15 दी गई आकृति के उस सही दर्पण प्रतिबिंब को चुनिए, जो नीचे दर्शाए गए अनुसार दर्पण को AB पर रखने पर बनेगा।



Ans

✗ 1.



✗ 2.



✓ 3.



✗ 4.



Question Type : MCQ

Question ID : 264330137557

Option 1 ID : 264330538835

Option 2 ID : 264330538837

Option 3 ID : 264330538836

Option 4 ID : 264330538838

Status : Answered

Chosen Option : 3

Q.16 दी गई श्रृंखला में निम्नलिखित में से कौन-सी संख्या प्रश्न चिन्ह (?) के स्थान पर आएगी?  
38, 17, -2, -19, -34, -47, -58, ?

- Ans
- 1. -72
  - 2. -60
  - 3. -74
  - 4. -67

Question Type : MCQ  
Question ID : 264330137551  
Option 1 ID : 264330538811  
Option 2 ID : 264330538813  
Option 3 ID : 264330538814  
Option 4 ID : 264330538812  
Status : Answered  
Chosen Option : 4

Q.17 दिए गए पैटर्न का ध्यानपूर्वक अध्ययन कीजिए और उस संख्या को चुनिए जो इसमें प्रश्न चिन्ह (?) के स्थान पर आ सकती है?  
प्रथम पंक्ति- 38, 43, 48  
द्वितीय पंक्ति- 76, 81, 86  
तृतीय पंक्ति- 69, 74, ?

- Ans
- 1. 70
  - 2. 84
  - 3. 75
  - 4. 79

Question Type : MCQ  
Question ID : 264330137553  
Option 1 ID : 264330538819  
Option 2 ID : 264330538821  
Option 3 ID : 264330538822  
Option 4 ID : 264330538820  
Status : Answered  
Chosen Option : 4

Q.18 उस विकल्प को चुनिए जो तीसरे अक्षर-समूह से ठीक उसी तरह संबंधित है जिस तरह दूसरा अक्षर-समूह पहले अक्षर-समूह से संबंधित है।  
MEJ : PFK :: SQK : ?

- Ans
- 1. VRL
  - 2. VTL
  - 3. SLV
  - 4. LSV

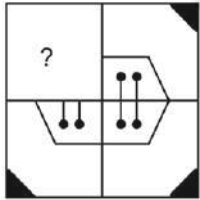
Question Type : MCQ  
Question ID : 264330137539  
Option 1 ID : 264330538764  
Option 2 ID : 264330538766  
Option 3 ID : 264330538763  
Option 4 ID : 264330538765  
Status : Answered  
Chosen Option : 1

Q.19 दी गई श्रृंखला में निम्नलिखित में से कौन-सा अक्षर प्रश्न चिन्ह (?) के स्थान पर आएगा?  
U, R, O, L, I, F, ?

- Ans
- 1. D
  - 2. F
  - 3. A
  - 4. C

Question Type : MCQ  
 Question ID : 264330137537  
 Option 1 ID : 264330538756  
 Option 2 ID : 264330538757  
 Option 3 ID : 264330538758  
 Option 4 ID : 264330538755  
 Status : Answered  
 Chosen Option : 4

Q.20 उस विकल्प आकृति को चुनिए जो नीचे दी गई आकृति में पैटर्न को पूरा करने के लिए प्रश्न चिन्ह (?) के स्थान पर आएगी। (घूर्णन की अनुमति नहीं है)।



Ans

- 1.
- 2.
- 3.
- 4.

Question Type : MCQ  
 Question ID : 264330137558  
 Option 1 ID : 264330538842  
 Option 2 ID : 264330538840  
 Option 3 ID : 264330538839  
 Option 4 ID : 264330538841  
 Status : Answered  
 Chosen Option : 3

Section : General Awareness

Q.1 निम्नलिखित में से कौन-सा उपन्यास विक्रम सेठ के उल्लेखनीय कार्यों में से एक है?

- Ans
- 1. शो बिज़नेस (Show Business)
  - 2. द ग्लास पैलेस (The Glass Palace)
  - 3. एंशिअंट इंडिया (Ancient India)
  - 4. अ सूटेबल बॉय (A Suitable Boy)

Question Type : MCQ  
Question ID : 264330138629  
Option 1 ID : 264330543124  
Option 2 ID : 264330543125  
Option 3 ID : 264330543123  
Option 4 ID : 264330543126  
Status : Answered  
Chosen Option : 4

Q.2 निम्नलिखित में से किस अनुच्छेद में, "मौलिक अधिकारों के साथ असंगत या उनका अल्पीकरण करने वाले क़ानूनों" का उल्लेख किया गया है?

- Ans
- 1. अनुच्छेद 14
  - 2. अनुच्छेद 12
  - 3. अनुच्छेद 13
  - 4. अनुच्छेद 15

Question Type : MCQ  
Question ID : 264330134631  
Option 1 ID : 264330527481  
Option 2 ID : 264330527479  
Option 3 ID : 264330527480  
Option 4 ID : 264330527482  
Status : Answered  
Chosen Option : 3

Q.3 \_\_\_\_\_ के शक्तिशाली गुरुत्वाकर्षण बल के कारण पृथ्वी की सतह पर ज्वार-भाटे आते हैं।

- Ans
- 1. सूर्य, चंद्रमा और अन्य ग्रह
  - 2. केवल सूर्य एवं चंद्रमा
  - 3. केवल सूर्य
  - 4. केवल चंद्रमा

Question Type : MCQ  
Question ID : 264330138936  
Option 1 ID : 264330544354  
Option 2 ID : 264330544353  
Option 3 ID : 264330544351  
Option 4 ID : 264330544352  
Status : Answered  
Chosen Option : 2

Q.4 लड़कों में बढ़ता हुआ 'स्वरयंत्र' गले के सामने की ओर सुस्पष्ट उभरे भाग के रूप में दिखाई देता है, जिसे \_\_\_\_\_ कहते हैं।

- Ans
- 1. कॉर्न (Corn)
  - 2. एड्रिनेलिन (Adrenalin)
  - 3. ग्रसिका (Gullet)
  - 4. कंठमणि (Adam's apple)

Question Type : MCQ  
Question ID : 264330138935  
Option 1 ID : 264330544349  
Option 2 ID : 264330544347  
Option 3 ID : 264330544350  
Option 4 ID : 264330544348  
Status : Answered  
Chosen Option : 4

Q.5 निम्नलिखित में से कौन-सा ज्वलनशील पदार्थ का एक उदाहरण नहीं है?

- Ans
- 1. एलपीजी (LPG)
  - 2. पेट्रोल (Petrol)
  - 3. काँच (Glass)
  - 4. ऐल्कोहॉल (Alcohol)

Question Type : MCQ  
Question ID : 264330138937  
Option 1 ID : 264330544357  
Option 2 ID : 264330544355  
Option 3 ID : 264330544356  
Option 4 ID : 264330544358  
Status : Answered  
Chosen Option : 3

Q.6 वर्ष 2011 की जनगणना के अनुसार, 2001-11 के बीच ऋणात्मक दशकीय जनसंख्या वृद्धि दर वाला एकमात्र भारतीय राज्य \_\_\_\_\_ है।

- Ans
- 1. सिक्किम
  - 2. उत्तराखंड
  - 3. नागालैंड
  - 4. गोवा

Question Type : MCQ  
Question ID : 264330138290  
Option 1 ID : 264330541769  
Option 2 ID : 264330541770  
Option 3 ID : 264330541767  
Option 4 ID : 264330541768  
Status : Answered  
Chosen Option : 1

Q.7 निम्नलिखित में से कौन-सी नृत्य शैली छत्तीसगढ़ से संबंधित नहीं है?

- Ans
- 1. पंथी
  - 2. राउत नाचा
  - 3. गेड़ी
  - 4. कजरी

Question Type : MCQ  
Question ID : 264330137713  
Option 1 ID : 264330539461  
Option 2 ID : 264330539462  
Option 3 ID : 264330539459  
Option 4 ID : 264330539460  
Status : Answered  
Chosen Option : 3

Q.8 मुद्रा गुणक (Money multiplier) की गणना के लिए निम्नलिखित में से किस मौद्रिक लिखत का उपयोग किया जाता है?

- Ans
- 1. आरक्षित नकदी निधि अनुपात
  - 2. रिवर्स रेपो दर
  - 3. रेपो दर
  - 4. बैंक दर

Question Type : MCQ  
Question ID : 264330138634  
Option 1 ID : 264330543144  
Option 2 ID : 264330543145  
Option 3 ID : 264330543143  
Option 4 ID : 264330543146  
Status : Answered  
Chosen Option : 3

Q.9 अक्टूबर 2022 में प्रधानमंत्री भारतीय जन उर्वरक परियोजना- "एक देश-एक उर्वरक (One Nation One Fertiliser)" का शुभारंभ किसने किया?

- Ans
- 1. नरेंद्र सिंह तोमर
  - 2. स्मृति ईरानी
  - 3. अमित शाह
  - 4. नरेंद्र मोदी

Question Type : MCQ  
Question ID : 264330137711  
Option 1 ID : 264330539454  
Option 2 ID : 264330539453  
Option 3 ID : 264330539452  
Option 4 ID : 264330539451  
Status : Answered  
Chosen Option : 1

Q.10 भारतीय संविधान का अनुच्छेद 23-24 निम्नलिखित में से किस मौलिक अधिकार से संबंधित है?

- Ans
- 1. स्वतंत्रता का अधिकार
  - 2. समानता का अधिकार
  - 3. शोषण के विरुद्ध अधिकार
  - 4. संवैधानिक उपचारों का अधिकार

Question Type : MCQ  
Question ID : 264330137731  
Option 1 ID : 264330539534  
Option 2 ID : 264330539532  
Option 3 ID : 264330539533  
Option 4 ID : 264330539531  
Status : Answered  
Chosen Option : 3

Q.11 राष्ट्रीय डोपिंग-रोधी विधेयक (National Anti-Doping Bill), 2021 भारत के \_\_\_\_\_ क्षेत्र को लक्षित करता है।

- Ans
- 1. कृषि
  - 2. वित्त
  - 3. खेल
  - 4. सैन्य

Question Type : MCQ  
Question ID : 264330133649  
Option 1 ID : 264330523619  
Option 2 ID : 264330523621  
Option 3 ID : 264330523620  
Option 4 ID : 264330523622  
Status : Answered  
Chosen Option : 3

Q.12 विधवा पुनर्विवाह संघ (1861) के संस्थापक कौन थे?

- Ans
- 1. राजा राममोहन राय
  - 2. आर.जी. भंडारकर
  - 3. आत्माराम पांडुरंग
  - 4. महादेव गोविंद रानाडे

Question Type : MCQ  
Question ID : 264330137727  
Option 1 ID : 264330539515  
Option 2 ID : 264330539518  
Option 3 ID : 264330539517  
Option 4 ID : 264330539516  
Status : Answered  
Chosen Option : 1

Q.13 वर्ष 2015 के साल्ज़बर्ग महोत्सव (Salzburg Festival) में नृत्य प्रदर्शन करने के लिए किसे एक राजसी भारतीय शास्त्रीय नर्तक के रूप में जाना जाता है?

- Ans
- 1. कुमारी कमला
  - 2. वी.सत्यनारायण सरमा
  - 3. तंजौर बालासरस्वती
  - 4. अलारमेल वल्ली

Question Type : MCQ  
Question ID : 264330138631  
Option 1 ID : 264330543133  
Option 2 ID : 264330543131  
Option 3 ID : 264330543134  
Option 4 ID : 264330543132  
Status : Not Answered  
Chosen Option : --

Q.14 अनेक वर्षों तक भटकने के बाद बाबर ने सन् \_\_\_\_\_ में काबुल पर कब्ज़ा कर लिया।

- Ans
- 1. 1501
  - 2. 1503
  - 3. 1504
  - 4. 1502

Question Type : MCQ  
Question ID : 264330138943  
Option 1 ID : 264330544379  
Option 2 ID : 264330544381  
Option 3 ID : 264330544382  
Option 4 ID : 264330544380  
Status : Answered  
Chosen Option : 4

Q.15 \_\_\_\_\_ के सदस्य सामान्यतः लाल शैवाल कहलाते हैं।

- Ans
- 1. क्लोरोफाइसी (chlorophyceae)
  - 2. रोडोफाइसी (rhodophyceae)
  - 3. फीयोफाइसी (phaeophyceae)
  - 4. पोएसी (poaceae)

Question Type : MCQ  
Question ID : 264330137717  
Option 1 ID : 264330539476  
Option 2 ID : 264330539477  
Option 3 ID : 264330539475  
Option 4 ID : 264330539478  
Status : Not Answered  
Chosen Option : --

Q.16 निम्नलिखित में से कौन-सा "कृषि आधारित उद्योगों (agro based industries)" का एक उदाहरण नहीं है?

- Ans
- 1. वनस्पति तेल उद्योग
  - 2. लोहा एवं इस्पात उद्योग
  - 3. चमड़ा उद्योग
  - 4. सूती वस्त्र उद्योग

Question Type : MCQ  
Question ID : 264330138641  
Option 1 ID : 264330543171  
Option 2 ID : 264330543173  
Option 3 ID : 264330543174  
Option 4 ID : 264330543172  
Status : Answered  
Chosen Option : 2

Q.17 1770 में भारत के बंगाल में किस घटना के परिणामस्वरूप एक तिहाई आबादी की मृत्यु हो गई थी?

- Ans
- 1. नरसंहार
  - 2. गुलामी
  - 3. अकाल
  - 4. रासायनिक विस्फोट

Question Type : MCQ  
Question ID : 264330133663  
Option 1 ID : 264330523676  
Option 2 ID : 264330523678  
Option 3 ID : 264330523675  
Option 4 ID : 264330523677  
Status : Answered  
Chosen Option : 3

Q.18 कुश्ती मैट की मोटाई \_\_\_\_\_ सेंटीमीटर के बीच होनी चाहिए।

- Ans
- 1. 5 से 7
  - 2. 3 से 5
  - 3. 9 से 11
  - 4. 7 से 9

Question Type : MCQ  
Question ID : 264330138925  
Option 1 ID : 264330544308  
Option 2 ID : 264330544307  
Option 3 ID : 264330544310  
Option 4 ID : 264330544309  
Status : Answered  
Chosen Option : 4

Q.19 कर्नाटक का अलमट्टी बाँध निम्नलिखित में से किस नदी पर बना है?

- Ans
- 1. सतलुज
  - 2. पेरियार
  - 3. कावेरी
  - 4. कृष्णा

Question Type : MCQ  
Question ID : 264330137721  
Option 1 ID : 264330539493  
Option 2 ID : 264330539494  
Option 3 ID : 264330539491  
Option 4 ID : 264330539492  
Status : Answered  
Chosen Option : 2

Q.20 दिल्ली में खिलजी वंश के किस स्मारक में लाल बलुआ पत्थर का उपयोग हुआ है?

- Ans
- 1. विक्टोरिया मेमोरियल
  - 2. अलाई-दरवाजा
  - 3. मोती मस्जिद
  - 4. चारमीनार

Question Type : MCQ  
Question ID : 264330133652  
Option 1 ID : 264330523634  
Option 2 ID : 264330523631  
Option 3 ID : 264330523632  
Option 4 ID : 264330523633  
Status : Answered  
Chosen Option : 2

Q.21 निम्नलिखित में से किसने फीफा अंडर-17 महिला विश्व कप 2022 जीता?

- Ans
- 1. जापान
  - 2. न्यूज़ीलैंड
  - 3. कोलंबिया
  - 4. स्पेन

Question Type : MCQ  
Question ID : 264330137733  
Option 1 ID : 264330539542  
Option 2 ID : 264330539541  
Option 3 ID : 264330539539  
Option 4 ID : 264330539540  
Status : Answered  
Chosen Option : 4

Q.22 गंगूबाई हंगल, हिंदुस्तानी शास्त्रीय संगीत की खयाल (Khayal) शैली की \_\_\_\_\_ राज्य की एक भारतीय गायिका थीं, जो अपनी गहरी और दमदार आवाज के लिए जानी जाती थीं।

Ans  1. तमिलनाडु

2. केरल

3. आंध्रप्रदेश

4. कर्नाटक

Question Type : MCQ

Question ID : 264330137729

Option 1 ID : 264330539523

Option 2 ID : 264330539525

Option 3 ID : 264330539526

Option 4 ID : 264330539524

Status : Not Answered

Chosen Option : --

Q.23 निम्नलिखित में से कौन चंद्रगुप्त मौर्य की मृत्यु के बाद मौर्य साम्राज्य के सिंहासन पर बैठा?

Ans  1. अशोक

2. बिन्दुसार

3. दशरथ

4. चंद्रगुप्त - द्वितीय

Question Type : MCQ

Question ID : 264330137724

Option 1 ID : 264330539503

Option 2 ID : 264330539504

Option 3 ID : 264330539506

Option 4 ID : 264330539505

Status : Answered

Chosen Option : 2

Q.24 त्रिपुरा की "खारची पूजा (Kharchi Pooja)" एक हिंदू त्योहार है जिसमें पृथ्वी सहित \_\_\_\_\_ हिंदू देवताओं की पूजा की जाती है।

Ans  1. 14

2. 12

3. 8

4. 5

Question Type : MCQ

Question ID : 264330137714

Option 1 ID : 264330539463

Option 2 ID : 264330539464

Option 3 ID : 264330539465

Option 4 ID : 264330539466

Status : Answered

Chosen Option : 1

Q.25 राज्यसभा द्वारा एक धन विधेयक को \_\_\_\_\_ दिनों के भीतर या तो सिफारिशों के साथ या सिफारिशों के बिना लोकसभा में वापस भेजना अनिवार्य होता है।

- Ans
- 1. 8
  - 2. 10
  - 3. 14
  - 4. 21

Question Type : MCQ  
Question ID : 264330137732  
Option 1 ID : 264330539536  
Option 2 ID : 264330539537  
Option 3 ID : 264330539538  
Option 4 ID : 264330539535  
Status : Answered  
Chosen Option : 3

Section : English Language and Comprehension

Q.1 Select the most appropriate option to fill in the blank.  
Computers would replace the \_\_\_\_\_ technique of creating an image on paper, transferring it to transparent cells and again onto film.

- Ans
- 1. audacious
  - 2. austere
  - 3. archaic
  - 4. assuage

Question Type : MCQ  
Question ID : 264330136063  
Option 1 ID : 264330533070  
Option 2 ID : 264330533069  
Option 3 ID : 264330533067  
Option 4 ID : 264330533068  
Status : Answered  
Chosen Option : 3

Q.2 Identify the segment that contains a grammatical error. If there is no error, select 'No error'  
An appeasements policies / were all but a sham to misdirect / the local groups.

- Ans
- 1. An appeasements policies
  - 2. the local groups.
  - 3. were all but a sham to misdirect
  - 4. No error

Question Type : MCQ  
Question ID : 264330136059  
Option 1 ID : 264330533051  
Option 2 ID : 264330533053  
Option 3 ID : 264330533052  
Option 4 ID : 264330533054  
Status : Answered  
Chosen Option : 1

**Q.3** Select the most appropriate meaning of the bracketed idiom in the given sentence.

That were remarks made (in the heat of the moment).

- Ans**
- 1. To be dismissed from your job
  - 2. To exert all efforts
  - 3. At time when you cannot think carefully
  - 4. To present a counter argument

Question Type : **MCQ**  
Question ID : **264330136078**  
Option 1 ID : **264330533126**  
Option 2 ID : **264330533124**  
Option 3 ID : **264330533125**  
Option 4 ID : **264330533123**  
Status : **Answered**  
Chosen Option : **2**

**Q.4** Select the most appropriate option to substitute the bracketed segment in the given sentence. If there is no need to substitute it, select 'no substitution required'.

(Because he has been in custody from last July,) Pickard will now be released in four months.

- Ans**
- 1. Because he had been under custody from last July,
  - 2. No substitution required
  - 3. Because he had been in custody from last July,
  - 4. Because he has been in custody since last July,

Question Type : **MCQ**  
Question ID : **264330136088**  
Option 1 ID : **264330533165**  
Option 2 ID : **264330533166**  
Option 3 ID : **264330533163**  
Option 4 ID : **264330533164**  
Status : **Answered**  
Chosen Option : **4**

**Q.5** Choose the word that is opposite in meaning to the given word.  
**Desert**

- Ans**
- 1. Bereft
  - 2. Forlorn
  - 3. Migrate
  - 4. Populate

Question Type : **MCQ**  
Question ID : **264330134312**  
Option 1 ID : **264330526240**  
Option 2 ID : **264330526239**  
Option 3 ID : **264330526242**  
Option 4 ID : **264330526241**  
Status : **Answered**  
Chosen Option : **4**

**Q.6** Select the most appropriate antonym to substitute the bracketed word in the given sentence.

She ventured to go back to the tree of the (tryst), the mulberry with the shining white fruit.

- Ans**
- 1. Separation
  - 2. Rendezvous
  - 3. Engagement
  - 4. Date

Question Type : **MCQ**  
Question ID : **264330136076**  
Option 1 ID : **264330533116**  
Option 2 ID : **264330533117**  
Option 3 ID : **264330533118**  
Option 4 ID : **264330533115**  
Status : **Answered**  
Chosen Option : **3**

**Q.7** Choose the word that can substitute the given group of words.

A person holding conversational belief especially in matter of religion

- Ans**
- 1. Prudent
  - 2. Orthodox
  - 3. Compere
  - 4. Arsonist

Question Type : **MCQ**  
Question ID : **264330136887**  
Option 1 ID : **264330536234**  
Option 2 ID : **264330536233**  
Option 3 ID : **264330536232**  
Option 4 ID : **264330536231**  
Status : **Answered**  
Chosen Option : **2**

**Q.8** Select the most appropriate option to fill in the blank.

Her notoriety increased after she single- \_\_\_\_\_ shot down a Rhodesian army helicopter.

- Ans**
- 1. handedly
  - 2. stranded
  - 3. dose
  - 4. plainly

Question Type : **MCQ**  
Question ID : **264330136082**  
Option 1 ID : **264330533142**  
Option 2 ID : **264330533140**  
Option 3 ID : **264330533139**  
Option 4 ID : **264330533141**  
Status : **Answered**  
Chosen Option : **1**

**Q.9** In the following question, out of the given four alternatives, select the alternative which best expresses the meaning of the Idiom/Phrase.  
A blessing in disguise

- Ans**
- 1. Hear a good news after a long time
  - 2. A misfortune that unexpectedly turns into good fortune
  - 3. To have a dispute with someone
  - 4. To go from being very poor to being very wealthy

Question Type : **MCQ**  
Question ID : **264330136893**  
Option 1 ID : **264330536258**  
Option 2 ID : **264330536255**  
Option 3 ID : **264330536257**  
Option 4 ID : **264330536256**  
Status : **Answered**  
Chosen Option : **2**

**Q.10** Select the most appropriate option to fill in the blank.  
There's plenty here to trap the unwary and baffle even the \_\_\_\_\_ gambler!

- Ans**
- 1. exenterate
  - 2. reiterate
  - 3. inveterate
  - 4. alliterate

Question Type : **MCQ**  
Question ID : **264330136081**  
Option 1 ID : **264330533138**  
Option 2 ID : **264330533135**  
Option 3 ID : **264330533136**  
Option 4 ID : **264330533137**  
Status : **Not Answered**  
Chosen Option : **--**

**Q.11** Select the most appropriate option to fill in the blank.  
Since these people used tobacco to \_\_\_\_\_ their deities, the herb itself was one of the instruments of godless, false religions.

- Ans**
- 1. trace
  - 2. propitiate
  - 3. expatiate
  - 4. militate

Question Type : **MCQ**  
Question ID : **264330136090**  
Option 1 ID : **264330533174**  
Option 2 ID : **264330533173**  
Option 3 ID : **264330533171**  
Option 4 ID : **264330533172**  
Status : **Answered**  
Chosen Option : **2**

Q.12 Select the correctly spelt word.

- Ans
- 1. Aposire
  - 2. Apositte
  - 3. Apposite
  - 4. Aposite

Question Type : MCQ  
Question ID : 264330136079  
Option 1 ID : 264330533127  
Option 2 ID : 264330533130  
Option 3 ID : 264330533128  
Option 4 ID : 264330533129  
Status : Answered  
Chosen Option : 3

Q.13 Find the part of the given sentence that has an error in it. If there is no error, choose 'No error'.

I am thirty-two years old and my sister are fifteen.

- Ans
- 1. I am thirty-two
  - 2. years old and
  - 3. my sister are fifteen.
  - 4. No error

Question Type : MCQ  
Question ID : 264330134294  
Option 1 ID : 264330526171  
Option 2 ID : 264330526172  
Option 3 ID : 264330526173  
Option 4 ID : 264330526174  
Status : Answered  
Chosen Option : 3

Q.14 Select the most appropriate synonym of the given word.

Enervate

- Ans
- 1. Devitalize
  - 2. Arouse
  - 3. Boost
  - 4. Invigorate

Question Type : MCQ  
Question ID : 264330136073  
Option 1 ID : 264330533106  
Option 2 ID : 264330533105  
Option 3 ID : 264330533103  
Option 4 ID : 264330533104  
Status : Answered  
Chosen Option : 1

**Q.15** Select the most appropriate synonym to substitute the bracketed word in the given sentence.

It broke Eleanora's heart to see her daughter become that (wraith) of her former self.

- Ans**
- 1. Yore
  - 2. Spirit
  - 3. Being
  - 4. Wail

Question Type : **MCQ**  
Question ID : **264330136100**  
Option 1 ID : **264330533207**  
Option 2 ID : **264330533208**  
Option 3 ID : **264330533209**  
Option 4 ID : **264330533210**  
Status : **Answered**  
Chosen Option : **3**

**Q.16** Select the word segment that substitutes (replaces) the bracketed word segment correctly and completes the sentence meaningfully. Select the option 'no correction required' if the sentence is correct as given.

The dessert was not just extremely hot but (also to sweet as well).

- Ans**
- 1. No correction required
  - 2. also being too sweet.
  - 3. also too sweet.
  - 4. besides too sweet as well.

Question Type : **MCQ**  
Question ID : **264330136642**  
Option 1 ID : **264330535294**  
Option 2 ID : **264330535292**  
Option 3 ID : **264330535291**  
Option 4 ID : **264330535293**  
Status : **Answered**  
Chosen Option : **3**

**Q.17** Select the wrongly spelt word.

- Ans**
- 1. Activity
  - 2. Protesion
  - 3. Inactivity
  - 4. Unshielded

Question Type : **MCQ**  
Question ID : **264330136080**  
Option 1 ID : **264330533131**  
Option 2 ID : **264330533132**  
Option 3 ID : **264330533134**  
Option 4 ID : **264330533133**  
Status : **Answered**  
Chosen Option : **2**

**Q.18** Identify the segment that contains a grammatical error. If there is no error, select 'No error'.

Ram ran back to the / window to see the bars dangling / a few feet before the ground.

- Ans**
- 1. window to see the bars dangling
  - 2. No error
  - 3. a few feet before the ground.
  - 4. Ram ran back to the

Question Type : **MCQ**  
Question ID : **264330136639**  
Option 1 ID : **264330535280**  
Option 2 ID : **264330535282**  
Option 3 ID : **264330535281**  
Option 4 ID : **264330535279**  
Status : **Answered**  
Chosen Option : **3**

**Q.19** Improve the underlined part of the sentence. Choose 'No improvement' as an answer if the sentence is grammatically correct.

Drive two blocks and turn right at the traffic lights.

- Ans**
- 1. turn right in
  - 2. No improvement
  - 3. turns right at
  - 4. turn rightly at

Question Type : **MCQ**  
Question ID : **264330134749**  
Option 1 ID : **264330527947**  
Option 2 ID : **264330527950**  
Option 3 ID : **264330527949**  
Option 4 ID : **264330527948**  
Status : **Answered**  
Chosen Option : **2**

**Q.20** Select the most appropriate word for the given group of words.

Quiet and peaceful

- Ans**
- 1. Inundate
  - 2. Incessant
  - 3. Introvert
  - 4. Tranquil

Question Type : **MCQ**  
Question ID : **264330136072**  
Option 1 ID : **264330533099**  
Option 2 ID : **264330533101**  
Option 3 ID : **264330533100**  
Option 4 ID : **264330533102**  
Status : **Answered**  
Chosen Option : **4**

**Comprehension:**

In the following passage some of the words have been deleted. Read the passage carefully and select the correct answer for the given blank out of the four alternatives.

You may wonder if anyone would (1) \_\_\_\_\_ to be diagnosed before they are even aware they have Alzheimer's (2) \_\_\_\_\_? A recent survey shows that, indeed, they would. (3) \_\_\_\_\_ three-quarters of the respondents said they would want (4) \_\_\_\_\_ if they had Alzheimer's disease, even if they were not yet experiencing (5) \_\_\_\_\_.

**SubQuestion No : 21**

**Q.21** Select the most appropriate option to fill in blank number 1.

Ans  1. want

2. surrender

3. got

4. drop

Question Type : **MCQ**

Question ID : **264330134303**

Option 1 ID : **264330526204**

Option 2 ID : **264330526203**

Option 3 ID : **264330526205**

Option 4 ID : **264330526206**

Status : **Answered**

Chosen Option : **1**

**Comprehension:**

In the following passage some of the words have been deleted. Read the passage carefully and select the correct answer for the given blank out of the four alternatives.

You may wonder if anyone would (1) \_\_\_\_\_ to be diagnosed before they are even aware they have Alzheimer's (2) \_\_\_\_\_? A recent survey shows that, indeed, they would. (3) \_\_\_\_\_ three-quarters of the respondents said they would want (4) \_\_\_\_\_ if they had Alzheimer's disease, even if they were not yet experiencing (5) \_\_\_\_\_.

**SubQuestion No : 22**

**Q.22** Select the most appropriate option to fill in blank number 2.

Ans  1. disease

2. health

3. contamination

4. bug

Question Type : **MCQ**

Question ID : **264330134304**

Option 1 ID : **264330526209**

Option 2 ID : **264330526210**

Option 3 ID : **264330526208**

Option 4 ID : **264330526207**

Status : **Answered**

Chosen Option : **1**

**Comprehension:**

In the following passage some of the words have been deleted. Read the passage carefully and select the correct answer for the given blank out of the four alternatives.

You may wonder if anyone would (1) \_\_\_\_\_ to be diagnosed before they are even aware they have Alzheimer's (2) \_\_\_\_\_? A recent survey shows that, indeed, they would. (3) \_\_\_\_\_ three-quarters of the respondents said they would want (4) \_\_\_\_\_ if they had Alzheimer's disease, even if they were not yet experiencing (5) \_\_\_\_\_.

**SubQuestion No : 23**

**Q.23 Select the most appropriate option to fill in blank number 3.**

- Ans  1. Casually  
 2. Totally  
 3. Nearly  
 4. Firmly

Question Type : **MCQ**

Question ID : **264330134305**

Option 1 ID : **264330526214**

Option 2 ID : **264330526212**

Option 3 ID : **264330526211**

Option 4 ID : **264330526213**

Status : **Answered**

Chosen Option : **3**

**Comprehension:**

In the following passage some of the words have been deleted. Read the passage carefully and select the correct answer for the given blank out of the four alternatives.

You may wonder if anyone would (1) \_\_\_\_\_ to be diagnosed before they are even aware they have Alzheimer's (2) \_\_\_\_\_? A recent survey shows that, indeed, they would. (3) \_\_\_\_\_ three-quarters of the respondents said they would want (4) \_\_\_\_\_ if they had Alzheimer's disease, even if they were not yet experiencing (5) \_\_\_\_\_.

**SubQuestion No : 24**

**Q.24 Select the most appropriate option to fill in blank number 4.**

- Ans  1. known  
 2. knowing  
 3. knows  
 4. to know

Question Type : **MCQ**

Question ID : **264330134306**

Option 1 ID : **264330526216**

Option 2 ID : **264330526217**

Option 3 ID : **264330526215**

Option 4 ID : **264330526218**

Status : **Answered**

Chosen Option : **4**

**Comprehension:**

In the following passage some of the words have been deleted. Read the passage carefully and select the correct answer for the given blank out of the four alternatives.

You may wonder if anyone would (1) \_\_\_\_\_ to be diagnosed before they are even aware they have Alzheimer's (2) \_\_\_\_\_? A recent survey shows that, indeed, they would. (3) \_\_\_\_\_ three-quarters of the respondents said they would want (4) \_\_\_\_\_ if they had Alzheimer's disease, even if they were not yet experiencing (5) \_\_\_\_\_.

**SubQuestion No : 25**

**Q.25 Select the most appropriate option to fill in blank number 5.**

Ans  1. indexes

2. symptoms

3. evidences

4. marks

Question Type : **MCQ**

Question ID : **264330134307**

Option 1 ID : **264330526222**

Option 2 ID : **264330526219**

Option 3 ID : **264330526221**

Option 4 ID : **264330526220**

Status : **Answered**

Chosen Option : **2**