

## Multi Tasking Non Technical Staff and Havaldar CBIC and CBN Examination 2022

Roll Number	
Candidate Name	
Venue Name	iON Digital Zone iDZ 2 Sector 62
Exam Date	19/06/2023
Exam Time	9:00 AM - 10:30 AM
Subject	MTS Non Tech Havaldar CBIC and CBN Examination 2022

Section : Numerical and Mathematical Ability

Q.1  $\frac{1}{7} \times \frac{1}{8} + \frac{72}{51}$  of  $\left(\frac{1}{9} + \frac{1}{8}\right) + \left(\frac{63}{56} \times \frac{48}{72}\right)$  का मान क्या है?

- Ans  1. 45/56  
 2. 19/56  
 3. 15/56  
 4. 21/56

Question Type : MCQ

Question ID : 264330139928

Option 1 ID : 264330548094

Option 2 ID : 264330548091

Option 3 ID : 264330548093

Option 4 ID : 264330548092

Status : Answered

Chosen Option : 1

Q.2 दो नाव एक दूसरे की ओर क्रमशः 36 km/hr और 54 km/hr की चाल से यात्रा कर रही हैं। टकराने से एक सेकंड पहले दोनों नावों के बीच की दूरी कितनी होगी?

- Ans  1. 40 मीटर  
 2. 15 मीटर  
 3. 25 मीटर  
 4. 35 मीटर

Question Type : MCQ

Question ID : 264330140535

Option 1 ID : 264330550498

Option 2 ID : 264330550496

Option 3 ID : 264330550495

Option 4 ID : 264330550497

Status : Answered

Chosen Option : 1

Q.3 एक व्यापारी Rs. 4000 प्रति वस्तु के मूल्य से दो वस्तु खरीदता है। यदि वह एक वस्तु पर 10 प्रतिशत का लाभ अर्जित करता है और दूसरी पर 30 प्रतिशत की हानि उठाता है, तो उसका कुल हानि प्रतिशत कितना होगा?

- Ans
- 1. 20 प्रतिशत
  - 2. 10 प्रतिशत
  - 3. 5 प्रतिशत
  - 4. 15 प्रतिशत

Question Type : MCQ  
Question ID : 264330139023  
Option 1 ID : 264330544699  
Option 2 ID : 264330544700  
Option 3 ID : 264330544702  
Option 4 ID : 264330544701  
Status : Answered  
Chosen Option : 2

Q.4 45 cm लंबाई और 32 cm चौड़ाई वाले एक आयताकार मैदान का क्षेत्रफल क्या होगा?

- Ans
- 1. 1340 cm<sup>2</sup>
  - 2. 1120 cm<sup>2</sup>
  - 3. 1450 cm<sup>2</sup>
  - 4. 1440 cm<sup>2</sup>

Question Type : MCQ  
Question ID : 264330140794  
Option 1 ID : 264330551525  
Option 2 ID : 264330551523  
Option 3 ID : 264330551526  
Option 4 ID : 264330551524  
Status : Answered  
Chosen Option : 4

Q.5 40 पुरुष एक इमारत को 100 दिनों में बना सकते हैं। इस कार्य को करने में 80 पुरुषों को कितना समय लगेगा?

- Ans
- 1. 80 दिन
  - 2. 60 दिन
  - 3. 40 दिन
  - 4. 50 दिन

Question Type : MCQ  
Question ID : 264330140836  
Option 1 ID : 264330551693  
Option 2 ID : 264330551694  
Option 3 ID : 264330551692  
Option 4 ID : 264330551691  
Status : Answered  
Chosen Option : 4

Q.6 नीचे दी गई तालिका में 6 वस्तुओं का अंकित मूल्य और विक्रय मूल्य दर्शाया गया है।

वस्तुएँ	अंकित मूल्य	विक्रय मूल्य
A	750	650
B	600	450
C	650	500
D	450	400
E	850	650
F	350	300

$$\text{बढ़ा प्रतिशत} = \left[ \frac{\text{अंकित मूल्य} - \text{विक्रय मूल्य}}{\text{अंकित मूल्य}} \right] \times 100$$

निम्नलिखित में से कौन-सा बढ़ा प्रतिशत का सही अनुक्रम है?

- Ans
- 1. D > A > F > C > E > B
  - 2. B > E > C > F > D > A
  - 3. B > E > C > F > A > D
  - 4. E > C > B > F > A > D

Question Type : MCQ

Question ID : 264330140191

Option 1 ID : 264330549146

Option 2 ID : 264330549143

Option 3 ID : 264330549145

Option 4 ID : 264330549144

Status : Answered

Chosen Option : 1

Q.7 तीन साझेदार P, Q और R इस प्रकार लाभ साझा करते हैं कि P के हिस्से का 4 गुना, Q के हिस्से के 5 गुना और R के हिस्से के 8 गुना के बराबर है। P, Q और R के लाभ का क्रमशः अनुपात क्या है?

- Ans
- 1. 10 : 8 : 5
  - 2. 15 : 9 : 8
  - 3. 14 : 7 : 9
  - 4. 12 : 8 : 7

Question Type : MCQ

Question ID : 264330139617

Option 1 ID : 264330546883

Option 2 ID : 264330546886

Option 3 ID : 264330546885

Option 4 ID : 264330546884

Status : Answered

Chosen Option : 1

Q.8 यदि  $(P/2) = (Q/5) = (R/6)$ , तो  $P^2 : (P + Q)^2 : (Q + R)^2$  का मान क्या है?

- Ans
- ✓ 1. 4 : 49 : 121
  - ✗ 2. 10 : 56 : 169
  - ✗ 3. 9 : 64 : 144
  - ✗ 4. 16 : 10 : 125

Question Type : MCQ  
Question ID : 264330140247  
Option 1 ID : 264330549367  
Option 2 ID : 264330549369  
Option 3 ID : 264330549368  
Option 4 ID : 264330549370  
Status : Answered  
Chosen Option : 1

Q.9 प्राप्तांकों के समुच्चय 512, 528, 556, 584 और 615 का औसत है:

- Ans
- ✗ 1. 530
  - ✓ 2. 559
  - ✗ 3. 586
  - ✗ 4. 600

Question Type : MCQ  
Question ID : 264330139039  
Option 1 ID : 264330544763  
Option 2 ID : 264330544764  
Option 3 ID : 264330544765  
Option 4 ID : 264330544766  
Status : Answered  
Chosen Option : 2

Q.10  $\frac{43 \times 2 - 21 \text{ of } 4}{28 - 7 \text{ of } 5 + 9}$  का मान क्या है?

- Ans
- ✗ 1. 2
  - ✗ 2. 3
  - ✓ 3. 1
  - ✗ 4. 4

Question Type : MCQ  
Question ID : 264330139967  
Option 1 ID : 264330548248  
Option 2 ID : 264330548249  
Option 3 ID : 264330548247  
Option 4 ID : 264330548250  
Status : Answered  
Chosen Option : 3

Q.11 तीन भिन्न-भिन्न संख्याओं का लघुत्तम समापवर्त्य 40 है। निम्नलिखित में से कौन-सा उनका महत्तम समापवर्तक नहीं हो सकता है?

- Ans  1. 25  
 2. 20  
 3. 10  
 4. 5

Question Type : MCQ  
Question ID : 264330140254  
Option 1 ID : 264330549396  
Option 2 ID : 264330549397  
Option 3 ID : 264330549398  
Option 4 ID : 264330549395  
Status : Answered  
Chosen Option : 1

Q.12 S1 और S2 द्वारा प्राप्त अंकों का औसत S2 और S3 द्वारा प्राप्त औसत अंकों से 30 अधिक है। यदि S3 द्वारा प्राप्त अंक 50 हैं, तो S1 द्वारा प्राप्त अंक कितने हैं?

- Ans  1. 95  
 2. 80  
 3. 105  
 4. 110

Question Type : MCQ  
Question ID : 264330140635  
Option 1 ID : 264330550888  
Option 2 ID : 264330550887  
Option 3 ID : 264330550890  
Option 4 ID : 264330550889  
Status : Answered  
Chosen Option : 4

Q.13 A, B का 5 गुना है। B, A से कितने प्रतिशत कम है?

- Ans  1. 80 प्रतिशत  
 2. 60 प्रतिशत  
 3. 52.5 प्रतिशत  
 4. 83.33 प्रतिशत

Question Type : MCQ  
Question ID : 264330140636  
Option 1 ID : 264330550892  
Option 2 ID : 264330550891  
Option 3 ID : 264330550893  
Option 4 ID : 264330550894  
Status : Answered  
Chosen Option : 1

Q.14 साधारण ब्याज पर एक निश्चित धनराशि 8 वर्षों में स्वयं की तीन गुनी हो जाती है। कितने वर्षों में यह धनराशि स्वयं की पाँच गुनी हो जाएगी?

- Ans
- ✓ 1. 16 वर्ष
  - ✗ 2. 12 वर्ष
  - ✗ 3. 7 वर्ष
  - ✗ 4. 10 वर्ष

Question Type : MCQ

Question ID : 264330140163

Option 1 ID : 264330549034

Option 2 ID : 264330549033

Option 3 ID : 264330549031

Option 4 ID : 264330549032

Status : Answered

Chosen Option : 1

Q.15 एक वस्तु को 20 प्रतिशत और 20 प्रतिशत के दो क्रमागत बढ़ों पर बेचा जाता है। दूसरे बढ़े के बाद वस्तु का विक्रय मूल्य Rs. 3616 है। यदि इसे 20 प्रतिशत के केवल एक बढ़े पर बेचा जाए, तो वस्तु का विक्रय मूल्य क्या होगा?

- Ans
- ✗ 1. Rs. 5200
  - ✓ 2. Rs. 4520
  - ✗ 3. Rs. 3960
  - ✗ 4. Rs. 4080

Question Type : MCQ

Question ID : 264330140545

Option 1 ID : 264330550535

Option 2 ID : 264330550537

Option 3 ID : 264330550538

Option 4 ID : 264330550536

Status : Answered

Chosen Option : 2

Q.16 एक वस्तु का क्रय मूल्य Rs. 2650 है। यदि हानि प्रतिशत 16 प्रतिशत है, तो वस्तु का विक्रय मूल्य क्या है?

- Ans
- ✗ 1. Rs. 2048
  - ✗ 2. Rs. 2316
  - ✗ 3. Rs. 2448
  - ✓ 4. Rs. 2226

Question Type : MCQ

Question ID : 264330139937

Option 1 ID : 264330548130

Option 2 ID : 264330548129

Option 3 ID : 264330548127

Option 4 ID : 264330548128

Status : Answered

Chosen Option : 4

Q.17 एक घनाभ की लंबाई, चौड़ाई और ऊँचाई क्रमशः 4 cm, 6 cm और 10 cm हैं। कुल पृष्ठीय क्षेत्रफल ज्ञात कीजिए।

- Ans
- ✓ 1.  $248 \text{ cm}^2$
  - ✗ 2.  $222 \text{ cm}^2$
  - ✗ 3.  $244 \text{ cm}^2$
  - ✗ 4.  $144 \text{ cm}^2$

Question Type : MCQ

Question ID : 264330138432

Option 1 ID : 264330542336

Option 2 ID : 264330542338

Option 3 ID : 264330542337

Option 4 ID : 264330542335

Status : Answered

Chosen Option : 1

Q.18 श्रेयस एक कार्य का  $\frac{4}{5}$  भाग 16 दिनों में पूरा कर सकता है। रुचि, श्रेयस से 2.5 गुना अधिक कार्यकुशल है। रुचि अकेले उसी कार्य को कितने दिनों में पूरा करेगी?

- Ans
- ✓ 1. 8 दिन
  - ✗ 2. 9 दिन
  - ✗ 3. 10 दिन
  - ✗ 4. 12.5 दिन

Question Type : MCQ

Question ID : 264330139589

Option 1 ID : 264330546773

Option 2 ID : 264330546772

Option 3 ID : 264330546774

Option 4 ID : 264330546771

Status : Answered

Chosen Option : 4

Q.19 A = Rs. 6000 का 5 वर्षों के लिए 15 प्रतिशत वार्षिक ब्याज दर पर साधारण ब्याज पर निवेश किया जाता है।

B = Rs. 5000 का 2 वर्षों के लिए 20 प्रतिशत वार्षिक ब्याज दर पर साधारण ब्याज पर निवेश किया जाता है।

A और B में क्रमशः अर्जित ब्याज का अनुपात क्या है?

- Ans
- ✗ 1. 16 : 5
  - ✓ 2. 9 : 4
  - ✗ 3. 19 : 12
  - ✗ 4. 18 : 11

Question Type : MCQ

Question ID : 264330139619

Option 1 ID : 264330546891

Option 2 ID : 264330546892

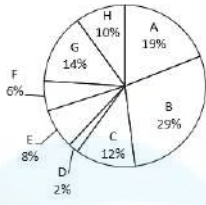
Option 3 ID : 264330546893

Option 4 ID : 264330546894

Status : Answered

Chosen Option : 2

**Q.20** नीचे दिए गए वृत्त आलेख में 8 विद्यालयों में लड़कों की संख्या को दर्शाया गया है। इन सभी 8 विद्यालयों में लड़कों की कुल संख्या 10000 है। इनमें से किसी एक विशिष्ट विद्यालय में लड़कों की संख्या को इन सभी 8 विद्यालयों में लड़कों की कुल संख्या के प्रतिशत के रूप में दर्शाया गया है।



त्रिज्यखंड C, D और F द्वारा मिलकर बनाए गए केंद्रीय कोण और त्रिज्यखंड A, G और H द्वारा मिलकर बनाए गए केंद्रीय कोण का अनुपात क्या है?

- Ans**
- 1. 17 : 39
  - 2. 19 : 44
  - 3. 20 : 43
  - 4. 44 : 21

Question Type : **MCQ**

Question ID : **264330140172**

Option 1 ID : **264330549068**

Option 2 ID : **264330549067**

Option 3 ID : **264330549070**

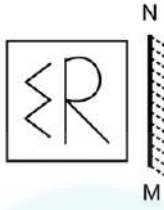
Option 4 ID : **264330549069**

Status : **Answered**

Chosen Option : **3**

Section : Reasoning Ability and Problem Solving

Q.1 दी गई आकृति के उस सही दर्पण प्रतिबिंब को चुनिए, जो दर्पण MN को आकृति के दाईं ओर रखने पर बनेगा।

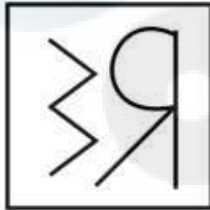


Ans

✗ 1.



✗ 2.



✗ 3.



✓ 4.



Question Type : MCQ

Question ID : 264330138785

Option 1 ID : 264330543749

Option 2 ID : 264330543750

Option 3 ID : 264330543747

Option 4 ID : 264330543748

Status : Answered

Chosen Option : 4

Q.2 दी गई दो संख्याओं को आपस में बदलने पर, निम्नलिखित में से कौन-सा समीकरण सही होगा?

8 और 4

Ans  1.  $4 \div 2 + 8 \times 3 = 16$

2.  $4 + 3 \times 8 - 2 = 21$

3.  $4 + 8 \times 2 - 3 = 20$

4.  $8 - 4 + 6 = 9$

Question Type : MCQ

Question ID : 264330139564

Option 1 ID : 264330546673

Option 2 ID : 264330546671

Option 3 ID : 264330546674

Option 4 ID : 264330546672

Status : Answered

Chosen Option : 1

Q.3 उस विकल्प को चुनिए जिसमें समुच्चय की संख्याएँ वही संबंध साझा करती हैं जो दिए गए समुच्चय में संख्याओं द्वारा साझा किया जाता है। (ध्यान दें: संख्याओं को उनके घटक अंकों में अलग-अलग किए बिना, पूर्ण संख्याओं पर संक्रियाएँ की जानी चाहिए। उदा. 13 - 13 पर संक्रियाएँ जैसे 13 को जोड़ना /घटाना /गुणा करना आदि किया जा सकता है। 13 को 1 और 3 में अलग-अलग करने और फिर 1 और 3 पर गणितीय संक्रियाएँ करने की अनुमति नहीं है)

(2, 3, 5)

(5, 7, 11)

Ans  1. (5, 10, 11)

2. (12, 15, 18)

3. (11, 13, 17)

4. (4, 6, 7)

Question Type : MCQ

Question ID : 264330139985

Option 1 ID : 264330548320

Option 2 ID : 264330548322

Option 3 ID : 264330548321

Option 4 ID : 264330548319

Status : Answered

Chosen Option : 3

Q.4 दो कथन दिए गए हैं और दो निष्कर्ष I और II दिए गए हैं। कथनों को सत्य मानते हुए, चाहे वे सामान्यतः ज्ञात तथ्यों से अलग प्रतीत होते हों, निश्चय कीजिए कि कौन-सा निष्कर्ष तार्किक रूप से कथनों के अनुसार है।

कथन:

सभी कॉपियाँ, पेंसिलें हैं।

कुछ कलमें, कॉपियाँ हैं।

निष्कर्ष:

I. सभी कलमें, पेंसिलें हैं।

II. कुछ पेंसिलें, कलमें हैं।

- Ans
- ✗ 1. निष्कर्ष I और II में से कोई भी कथनों के अनुसार नहीं है
  - ✗ 2. दोनों निष्कर्ष I और II कथनों के अनुसार हैं
  - ✓ 3. सिर्फ निष्कर्ष II कथनों के अनुसार है
  - ✗ 4. सिर्फ निष्कर्ष I कथनों के अनुसार है

Question Type : MCQ

Question ID : 264330140441

Option 1 ID : 264330550146

Option 2 ID : 264330550145

Option 3 ID : 264330550144

Option 4 ID : 264330550143

Status : Answered

Chosen Option : 3

Q.5 दिए गए समीकरण को सही करने के लिए किन दो संख्याओं को आपस में बदला जाना चाहिए?

$$7 - 5 + 4 \times 2 = 25$$

- Ans
- ✗ 1. 4 और 2
  - ✗ 2. 25 और 7
  - ✗ 3. 7 और 5
  - ✓ 4. 5 और 2

Question Type : MCQ

Question ID : 264330140148

Option 1 ID : 264330548973

Option 2 ID : 264330548974

Option 3 ID : 264330548972

Option 4 ID : 264330548971

Status : Answered

Chosen Option : 4

Q.6 दी गई श्रृंखला में निम्नलिखित में से कौन-सी संख्या प्रश्न चिन्ह (?) के स्थान पर आएगी?  
3, 7, 15, 31, 63, 127, 255, ?

- Ans
- 1. 520
  - 2. 560
  - 3. 511
  - 4. 510

Question Type : MCQ  
Question ID : 264330135360  
Option 1 ID : 264330530349  
Option 2 ID : 264330530350  
Option 3 ID : 264330530348  
Option 4 ID : 264330530347  
Status : Answered  
Chosen Option : 3

Q.7 एक निश्चित कूट भाषा में 'HOME' को 'MOHE' लिखा जाता है। उस भाषा में 'CALM' को कैसे लिखा जाएगा?

- Ans
- 1. LACM
  - 2. LAMC
  - 3. LBCM
  - 4. MACL

Question Type : MCQ  
Question ID : 264330140415  
Option 1 ID : 264330550042  
Option 2 ID : 264330550040  
Option 3 ID : 264330550041  
Option 4 ID : 264330550039  
Status : Answered  
Chosen Option : 1

Q.8 उस विकल्प को चुनिए जो तीसरे शब्द से ठीक उसी तरह संबंधित है जिस तरह दूसरा शब्द पहले शब्द से संबंधित है।  
कनाडा : ओटावा :: इटली : ?

- Ans
- 1. पेरिस
  - 2. वेलिंगटन
  - 3. लंदन
  - 4. रोम

Question Type : MCQ  
Question ID : 264330140454  
Option 1 ID : 264330550196  
Option 2 ID : 264330550198  
Option 3 ID : 264330550197  
Option 4 ID : 264330550195  
Status : Answered  
Chosen Option : 4

Q.9 सात लड़कियों I, II, III, IV, V, VI और VII में से, प्रत्येक की उम्र अलग-अलग है। VI, केवल III से बड़ी है। II, केवल VII से छोटी है। IV, चार अन्य लड़कियों से बड़ी है। I, V से छोटी है। लड़कियों में चौथी सबसे बड़ी कौन है?

- Ans
- ✓ 1. V
  - ✗ 2. IV
  - ✗ 3. III
  - ✗ 4. VI

Question Type : MCQ

Question ID : 264330140141

Option 1 ID : 264330548945

Option 2 ID : 264330548944

Option 3 ID : 264330548943

Option 4 ID : 264330548946

Status : Answered

Chosen Option : 3

Q.10 तीन कथन दिए गए हैं और दो निष्कर्ष I और II दिए गए हैं। कथनों को सत्य मानते हुए, चाहे वे सामान्यतः ज्ञात तथ्यों से अलग प्रतीत होते हों, निश्चय कीजिए कि कौन-सा निष्कर्ष तार्किक रूप से कथनों के अनुसार है।  
कथन:

सभी पेड़, फूल हैं।

सभी फूल, पंखुड़ियाँ हैं।

कुछ पंखुड़ियाँ, पत्तियाँ हैं।

निष्कर्ष:

I. सभी पेड़, पंखुड़ियाँ हैं।

II. कुछ पंखुड़ियाँ, फूल हैं।

- Ans
- ✓ 1. दोनों निष्कर्ष I और II कथनों के अनुसार हैं
  - ✗ 2. निष्कर्ष I और II में से कोई भी कथनों के अनुसार नहीं है
  - ✗ 3. सिर्फ निष्कर्ष II कथनों के अनुसार है
  - ✗ 4. सिर्फ निष्कर्ष I कथनों के अनुसार है

Question Type : MCQ

Question ID : 264330138777

Option 1 ID : 264330543717

Option 2 ID : 264330543718

Option 3 ID : 264330543716

Option 4 ID : 264330543715

Status : Answered

Chosen Option : 1

Q.11 सात खिलाड़ी विराट, राहुल, रोहित, सूर्या, हादिक, ऋषभ और दीपक एक वृत्ताकार मेज के चारों ओर केंद्र की ओर मुख करके बैठे हैं (परंतु जरूरी नहीं कि वे इसी क्रम में बैठे हों)। रोहित, विराट के बाईं ओर से दूसरे स्थान पर है। विराट, दीपक के दाईं ओर से चौथे स्थान पर है। हादिक, दीपक के ठीक बाईं ओर है। सूर्या, रोहित का निकटतम पड़ोसी नहीं है। ऋषभ, हादिक के दाईं ओर से दूसरे स्थान पर है। हादिक के दाईं ओर से चौथे स्थान पर कौन है?

- Ans
- 1. विराट
  - 2. सूर्या
  - 3. राहुल
  - 4. दीपक

Question Type : MCQ  
Question ID : 264330139977  
Option 1 ID : 264330548287  
Option 2 ID : 264330548289  
Option 3 ID : 264330548288  
Option 4 ID : 264330548290  
Status : Answered  
Chosen Option : 3

Q.12 एक लिखित कूट में, 'BHAKEI' को 'GSIJFA' लिखा जाता है। उस कूट भाषा में 'BIKCEK' को कैसे लिखा जाएगा?

- Ans
- 1. QDAJHA
  - 2. PDAJFA
  - 3. PDAJGA
  - 4. QDAJGA

Question Type : MCQ  
Question ID : 264330140981  
Option 1 ID : 264330552271  
Option 2 ID : 264330552273  
Option 3 ID : 264330552272  
Option 4 ID : 264330552274  
Status : Answered  
Chosen Option : 3

Q.13 एक निश्चित कूट भाषा में, 'BONUS' को '215142119' लिखा जाता है। उस भाषा में 'FANCY' को कैसे लिखा जाएगा?

- Ans
- 1. 6114325
  - 2. 6113452
  - 3. 6114352
  - 4. 6113425

Question Type : MCQ  
Question ID : 264330140416  
Option 1 ID : 264330550045  
Option 2 ID : 264330550043  
Option 3 ID : 264330550044  
Option 4 ID : 264330550046  
Status : Answered  
Chosen Option : 1

Q.14 उस विकल्प को चुनिए जो तीसरी संख्या से ठीक उसी प्रकार संबंधित है जिस प्रकार दूसरी संख्या पहली संख्या से संबंधित है।

64 : 512 :: 81 : ?

- Ans
- 1. 728
  - 2. 727
  - 3. 729
  - 4. 730

Question Type : MCQ

Question ID : 264330140425

Option 1 ID : 264330550079

Option 2 ID : 264330550081

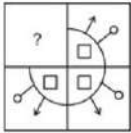
Option 3 ID : 264330550080

Option 4 ID : 264330550082

Status : Answered

Chosen Option : 3

Q.15 उस विकल्प आकृति को चुनिए जो पैटर्न को पूरा करने के लिए नीचे दी गई आकृति में प्रश्न चिन्ह (?) के स्थान पर आएगा। (घूर्णन की अनुमति नहीं है)



Ans

- 1.
- 2.
- 3.
- 4.

Question Type : MCQ

Question ID : 264330140031

Option 1 ID : 264330548503

Option 2 ID : 264330548504

Option 3 ID : 264330548505

Option 4 ID : 264330548506

Status : Answered

Chosen Option : 4

Q.16 उस विकल्प को चुनिए जो तीसरे शब्द से ठीक उसी तरह संबंधित है जिस तरह दूसरा शब्द पहले शब्द से संबंधित है।  
प्रतिरोध (Resistance) : ओम (Ohm) :: ऊर्जा (Energy) : ?

- Ans
- 1. मोल (Mole)
  - 2. म्हो (Mho)
  - 3. जूल (Joule)
  - 4. एम्पीयर (Ampere)

Question Type : MCQ

Question ID : 264330140473

Option 1 ID : 264330550274

Option 2 ID : 264330550272

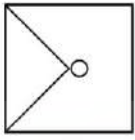
Option 3 ID : 264330550271

Option 4 ID : 264330550273

Status : Answered

Chosen Option : 3

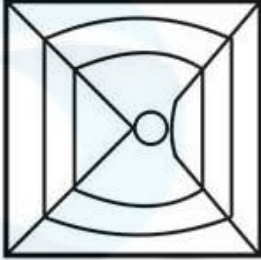
Q.17 उस विकल्प आकृति को चुनिए जिसमें दी गई आकृति (X) इसके भाग के रूप में निहित है। (घूर्णन की अनुमति नहीं है)।



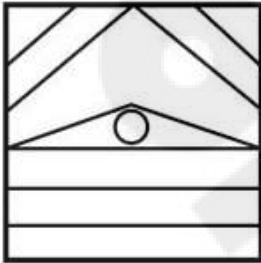
(X)

Ans

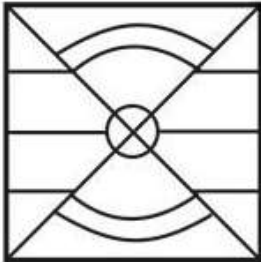
✓ 1.



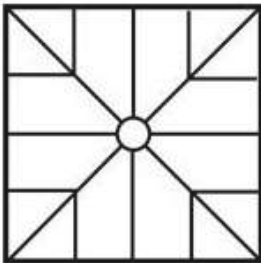
✗ 2.



✗ 3.



✗ 4.



Question Type : MCQ

Question ID : 264330140449

Option 1 ID : 264330550177

Option 2 ID : 264330550176

Option 3 ID : 264330550175

Option 4 ID : 264330550178

Status : Answered

Chosen Option : 1

Q.18 दी गई श्रृंखला में निम्नलिखित में से कौन-सा अक्षर-समूह प्रश्न चिन्ह (?) के स्थान पर आएगा?  
PB, RZ, TX, VV, ?

- Ans  1. XT  
 2. YU  
 3. YT  
 4. XU

Question Type : MCQ  
Question ID : 264330140032  
Option 1 ID : 264330548508  
Option 2 ID : 264330548510  
Option 3 ID : 264330548507  
Option 4 ID : 264330548509  
Status : Answered  
Chosen Option : 1

Q.19 दी गई श्रृंखला में निम्नलिखित में से कौन-सी संख्या प्रश्न चिन्ह (?) के स्थान पर आएगी?  
72, 78, 89, 95, 106, 112, 123, ?

- Ans  1. 129  
 2. 140  
 3. 200  
 4. 85

Question Type : MCQ  
Question ID : 264330140084  
Option 1 ID : 264330548715  
Option 2 ID : 264330548718  
Option 3 ID : 264330548716  
Option 4 ID : 264330548717  
Status : Answered  
Chosen Option : 1

Q.20 सात मित्र H, J, K, L, M, N, और O एक वृत्ताकार मेज के चारों ओर केंद्र की ओर मुख करके बैठे हैं। H, L के ठीक दाईं ओर बैठा है। J और K के ठीक बीच में N बैठा है। M, O के ठीक बाईं ओर बैठा है। N, M के बाईं ओर से दूसरे स्थान पर बैठा है। O के ठीक दाईं ओर कौन बैठा है?

- Ans  1. L  
 2. J  
 3. H  
 4. N

Question Type : MCQ  
Question ID : 264330138774  
Option 1 ID : 264330543704  
Option 2 ID : 264330543705  
Option 3 ID : 264330543703  
Option 4 ID : 264330543706  
Status : Answered  
Chosen Option : 1

Q.1 Which layer of the soil has maximum concentration of humus?

- Ans
- 1. Parent rock
  - 2. Top soil
  - 3. Sub soil
  - 4. Weathered rock material

Question Type : MCQ  
Question ID : 264330140899  
Option 1 ID : 264330551943  
Option 2 ID : 264330551946  
Option 3 ID : 264330551945  
Option 4 ID : 264330551944  
Status : Answered  
Chosen Option : 1

Q.2 किस घटना के बाद महात्मा गांधी ने फरवरी 1922 में असहयोग आंदोलन वापस ले लिया था?

- Ans
- 1. सेंट्रल असेंबली में बम ब्लास्ट
  - 2. जलियांवाला बाग नरसंहार
  - 3. काकोरी ट्रेन डकैती
  - 4. चौरी चौरा घटना

Question Type : MCQ  
Question ID : 264330139722  
Option 1 ID : 264330547304  
Option 2 ID : 264330547306  
Option 3 ID : 264330547305  
Option 4 ID : 264330547303  
Status : Answered  
Chosen Option : 4

Q.3 निम्नलिखित में से कौनसी नदी, नर्मदा नदी की सहायक नदी है?

- Ans
- 1. तवा
  - 2. कोयना
  - 3. केन
  - 4. बेतवा

Question Type : MCQ  
Question ID : 264330140941  
Option 1 ID : 264330552111  
Option 2 ID : 264330552114  
Option 3 ID : 264330552112  
Option 4 ID : 264330552113  
Status : Answered  
Chosen Option : 2

Q.4 निम्नलिखित में से कौन-सा संस्मरण पूर्व प्रधानमंत्री डॉ. मनमोहन सिंह पर आधारित है?

Ans  1. द चेंज वी चूज (The Change We Choose)

2.

ए प्राइम मिनिस्टर टू रिमेंबर (A Prime Minister to Remember)

3. द प्राइम मिनिस्टर (The Prime Minister)

4.

द एक्सीडेंटल प्राइम मिनिस्टर (The Accidental Prime Minister)

Question Type : MCQ

Question ID : 264330140923

Option 1 ID : 264330552039

Option 2 ID : 264330552042

Option 3 ID : 264330552041

Option 4 ID : 264330552040

Status : Answered

Chosen Option : 4

Q.5 मीनल ने शनि के सबसे बड़े चंद्रमा पर एक निबंध लिखा था। यह निम्नलिखित में से कौन-सा चंद्रमा है?

Ans  1. यूरोपा (Europa)

2. टाइटन

3. कार्मे (Carme)

4. एटलस (Atlas)

Question Type : MCQ

Question ID : 264330140734

Option 1 ID : 264330551285

Option 2 ID : 264330551284

Option 3 ID : 264330551283

Option 4 ID : 264330551286

Status : Answered

Chosen Option : 2

Q.6 निम्नलिखित में से कौन-सा त्योहार गौतम बुद्ध की जयंती के रूप में मनाया जाता है?

Ans  1. वेसाक (Vesak)

2. होलिका दहन

3. पोंगल

4. महाशिवरात्रि

Question Type : MCQ

Question ID : 264330140654

Option 1 ID : 264330550965

Option 2 ID : 264330550963

Option 3 ID : 264330550966

Option 4 ID : 264330550964

Status : Answered

Chosen Option : 1

Q.7 निम्नलिखित में से कौन-सी जनजाति भारतीय-यूरोपीय भाषा परिवार से संबंधित है?

- Ans
- ✓ 1. भीली
  - ✗ 2. कोरवा
  - ✗ 3. गारो
  - ✗ 4. गोंडी

Question Type : MCQ  
Question ID : 264330139768  
Option 1 ID : 264330547487  
Option 2 ID : 264330547489  
Option 3 ID : 264330547490  
Option 4 ID : 264330547488  
Status : Not Answered  
Chosen Option : --

Q.8 कुमी-काटा (Kumi-Kata), शिंताई (Shintai), उकेमी (Ukemi) शब्द का संबंध किस खेल से है?

- Ans
- ✓ 1. जूडो (Judo)
  - ✗ 2. तलवारबाजी (Fencing)
  - ✗ 3. पोलो (Polo)
  - ✗ 4. कुश्ती (Wrestling)

Question Type : MCQ  
Question ID : 264330139727  
Option 1 ID : 264330547324  
Option 2 ID : 264330547326  
Option 3 ID : 264330547325  
Option 4 ID : 264330547323  
Status : Not Answered  
Chosen Option : --

Q.9 किस प्रसिद्ध शासक को "द्वितीय अशोक (Second Ashoka )" के नाम से जाना जाता था?

- Ans
- ✗ 1. मिलिंद (Milinda)
  - ✗ 2. चंद्रगुप्त द्वितीय
  - ✗ 3. रुद्रदामन प्रथम
  - ✓ 4. कनिष्क

Question Type : MCQ  
Question ID : 264330140664  
Option 1 ID : 264330551004  
Option 2 ID : 264330551005  
Option 3 ID : 264330551006  
Option 4 ID : 264330551003  
Status : Answered  
Chosen Option : 4

Q.10 निम्नलिखित में से किस भारतीय नृत्य शैली का संबंध उड़ीसा से है?

- Ans
- 1. कथक
  - 2. छऊ
  - 3. भांगड़ा
  - 4. घूमर

Question Type : MCQ  
Question ID : 264330140908  
Option 1 ID : 264330551979  
Option 2 ID : 264330551980  
Option 3 ID : 264330551981  
Option 4 ID : 264330551982  
Status : Answered  
Chosen Option : 2

Q.11 निम्नलिखित में से कौन-सा विज्ञान की आवर्त सारणी का एक उत्कृष्ट (Noble) रासायनिक तत्व है?

- Ans
- 1. नाइट्रोजन
  - 2. कोबाल्ट
  - 3. हीलियम
  - 4. स्कैंडियम

Question Type : MCQ  
Question ID : 264330140731  
Option 1 ID : 264330551274  
Option 2 ID : 264330551271  
Option 3 ID : 264330551273  
Option 4 ID : 264330551272  
Status : Answered  
Chosen Option : 3

Q.12 तालीकोटा का युद्ध कब लड़ा गया था ?

- Ans
- 1. 1565
  - 2. 1576
  - 3. 1556
  - 4. 1542

Question Type : MCQ  
Question ID : 264330140356  
Option 1 ID : 264330549804  
Option 2 ID : 264330549805  
Option 3 ID : 264330549806  
Option 4 ID : 264330549803  
Status : Answered  
Chosen Option : 1

Q.13 फीफा (FIFA) विश्व कप \_\_\_\_\_ खेल से संबंधित है।

- Ans
- 1. तलवारबाज़ी (Fencing)
  - 2. फुटबॉल (Football)
  - 3. रग्बी (Rugby)
  - 4. हॉकी (Hockey)

Question Type : MCQ  
Question ID : 264330140928  
Option 1 ID : 264330552062  
Option 2 ID : 264330552061  
Option 3 ID : 264330552060  
Option 4 ID : 264330552059  
Status : Answered  
Chosen Option : 2

Q.14 मुस्लिम महिला (विवाह अधिकार संरक्षण) अधिनियम, 2019 एक ही बार में तीन बार तलाक़ कहकर दिए गए तत्काल तलाक़ (instant divorce) को शून्य और अवैध घोषित करता है। यह मौखिक रूप से तीन तलाक़ देने वाले पति के लिए \_\_\_\_\_ तक की कैद की सज़ा और जुर्माने का प्रावधान करता है।

- Ans
- 1. 5 वर्ष
  - 2. 2 वर्ष
  - 3. 3 वर्ष
  - 4. 4 वर्ष

Question Type : MCQ  
Question ID : 264330140293  
Option 1 ID : 264330549552  
Option 2 ID : 264330549553  
Option 3 ID : 264330549554  
Option 4 ID : 264330549551  
Status : Answered  
Chosen Option : 3

Q.15 भारत के केंद्र शासित प्रदेशों का प्रशासन कौन चलाता है?

- Ans
- 1. राष्ट्रपति
  - 2. प्रधानमंत्री
  - 3. विधान सभा के सदस्य
  - 4. मुख्यमंत्री

Question Type : MCQ  
Question ID : 264330140747  
Option 1 ID : 264330551336  
Option 2 ID : 264330551335  
Option 3 ID : 264330551337  
Option 4 ID : 264330551338  
Status : Answered  
Chosen Option : 1

Q.16 निम्नलिखित में से कौन-सा जनसंचार(मास मीडिया) का एक उदाहरण नहीं है?

- Ans
- 1. समाचार पत्र
  - 2. घर-घर जाकर अभियान करना
  - 3. रेडियो
  - 4. टेलीविज़न

Question Type : MCQ

Question ID : 264330139883

Option 1 ID : 264330547911

Option 2 ID : 264330547912

Option 3 ID : 264330547913

Option 4 ID : 264330547914

Status : Answered

Chosen Option : 2

Q.17 निम्नलिखित में से कौन-सा विटामिन हमारी हड्डियों और दाँतों के लिए कैल्सियम का उपयोग करने में हमारे शरीर की सहायता करता है?

- Ans
- 1. विटामिन A
  - 2. विटामिन E
  - 3. विटामिन C
  - 4. विटामिन D

Question Type : MCQ

Question ID : 264330139661

Option 1 ID : 264330547061

Option 2 ID : 264330547059

Option 3 ID : 264330547062

Option 4 ID : 264330547060

Status : Answered

Chosen Option : 3

Q.18 केंद्रीय पेट्रोलियम और प्राकृतिक गैस मंत्री हरदीप सिंह पुरी ने अक्टूबर 2022 में \_\_\_\_\_ में एशिया के सबसे बड़े संपीड़ित जैव गैस (Compressed Bio Gas - CBG) संयंत्र का उद्घाटन किया।

- Ans
- 1. चंडीगढ़
  - 2. पंजाब
  - 3. दिल्ली
  - 4. राजस्थान

Question Type : MCQ

Question ID : 264330140342

Option 1 ID : 264330549747

Option 2 ID : 264330549750

Option 3 ID : 264330549748

Option 4 ID : 264330549749

Status : Answered

Chosen Option : 2

Q.19 2011 की जनगणना के अनुसार, भारत की जनसंख्या का लिंगानुपात \_\_\_\_\_ है।

- Ans
- 1. 984
  - 2. 867
  - 3. 966
  - 4. 943

Question Type : MCQ  
Question ID : 264330140762  
Option 1 ID : 264330551397  
Option 2 ID : 264330551398  
Option 3 ID : 264330551396  
Option 4 ID : 264330551395  
Status : Answered  
Chosen Option : 4

Q.20 'रोमांसिंग विद लाइफ (Romancing with Life )' सदाबहार अभिनेता \_\_\_\_\_ की आत्मकथा है।

- Ans
- 1. किशोर कुमार
  - 2. दिलीप कुमार
  - 3. देव आनंद
  - 4. शशि कपूर

Question Type : MCQ  
Question ID : 264330139678  
Option 1 ID : 264330547128  
Option 2 ID : 264330547130  
Option 3 ID : 264330547129  
Option 4 ID : 264330547127  
Status : Not Answered  
Chosen Option : --

Q.21 रंगून में जेल भेजे गए अंतिम मुगल सम्राट \_\_\_\_\_ थे।

- Ans
- 1. बहादुर शाह ज़फ़र
  - 2. आलमगीर द्वितीय
  - 3. अकबर शाह द्वितीय
  - 4. शाह आलम द्वितीय

Question Type : MCQ  
Question ID : 264330139696  
Option 1 ID : 264330547200  
Option 2 ID : 264330547202  
Option 3 ID : 264330547199  
Option 4 ID : 264330547201  
Status : Answered  
Chosen Option : 1

Q.22 वास्तुकला की इस्लामी शैली को \_\_\_\_\_ शैली के नाम से भी जाना जाता है।

- Ans
- 1. यशमक (Yashmak)
  - 2. मेहराब (Mehrab)
  - 3. हिज्राह (Hegira)
  - 4. आलिम (Alim)

Question Type : MCQ  
Question ID : 264330140910  
Option 1 ID : 264330551990  
Option 2 ID : 264330551989  
Option 3 ID : 264330551987  
Option 4 ID : 264330551988  
Status : Answered  
Chosen Option : 2

Q.23 भारतीय संविधान का कौन-सा भाग केंद्र शासित प्रदेशों की बात करता है?

- Ans
- 1. भाग X
  - 2. भाग XI
  - 3. भाग VI
  - 4. भाग VIII

Question Type : MCQ  
Question ID : 264330140746  
Option 1 ID : 264330551332  
Option 2 ID : 264330551333  
Option 3 ID : 264330551331  
Option 4 ID : 264330551334  
Status : Answered  
Chosen Option : 2

Q.24 सभी मनुष्यों की कोशिकाओं के केन्द्रक में गुणसूत्रों के \_\_\_\_\_ जोड़े होते हैं।

- Ans
- 1. 23
  - 2. 33
  - 3. 11
  - 4. 41

Question Type : MCQ  
Question ID : 264330138985  
Option 1 ID : 264330544548  
Option 2 ID : 264330544549  
Option 3 ID : 264330544547  
Option 4 ID : 264330544550  
Status : Answered  
Chosen Option : 1

Q.25 How many types of revenue receipts exist in the economy?

- Ans
- 1. Five
  - 2. Two
  - 3. Three
  - 4. Four

Question Type : MCQ  
Question ID : 264330139758  
Option 1 ID : 264330547447  
Option 2 ID : 264330547448  
Option 3 ID : 264330547449  
Option 4 ID : 264330547450  
Status : Answered  
Chosen Option : 3

Section : English Language and Comprehension

Q.1 Improve the underlined part of the sentence. Choose 'No improvement' as an answer if the sentence is grammatically correct.

In the summer, the bear eaten a lot of berries.

- Ans
- 1. have ate a lot
  - 2. eat a lot
  - 3. No improvement
  - 4. eats a lot

Question Type : MCQ  
Question ID : 264330135538  
Option 1 ID : 264330531057  
Option 2 ID : 264330531056  
Option 3 ID : 264330531058  
Option 4 ID : 264330531055  
Status : Answered  
Chosen Option : 4

Q.2 Select the most appropriate option to fill in the blank.

Still, this is a Frank Black album, with its \_\_\_\_\_ references and abstruse lyrics.

- Ans
- 1. informal
  - 2. obscure
  - 3. intelligent
  - 4. apparent

Question Type : MCQ  
Question ID : 264330135826  
Option 1 ID : 264330532178  
Option 2 ID : 264330532175  
Option 3 ID : 264330532176  
Option 4 ID : 264330532177  
Status : Answered  
Chosen Option : 1

Q.3 Choose the sentence with no spelling error.

- Ans
- ✓ 1. Price is the monetary value placed on a product.
  - ✗ 2. Price is the monetary value plased on a product.
  - ✗ 3. Price is the monetery vallue placed on a product.
  - ✗ 4. Price is the monitary value placed on a product.

Question Type : MCQ  
Question ID : 264330135175  
Option 1 ID : 264330529634  
Option 2 ID : 264330529632  
Option 3 ID : 264330529633  
Option 4 ID : 264330529631  
Status : Answered  
Chosen Option : 1

Q.4 Improve the underlined part of the sentence. Choose 'No improvement' as an answer if the sentence is grammatically correct.

If you want to have two cats, a male and a female will usually gotten along.

- Ans
- ✗ 1. No improvement
  - ✓ 2. will usually get
  - ✗ 3. will usual get
  - ✗ 4. will usually got

Question Type : MCQ  
Question ID : 264330141181  
Option 1 ID : 264330553066  
Option 2 ID : 264330553063  
Option 3 ID : 264330553064  
Option 4 ID : 264330553065  
Status : Answered  
Chosen Option : 2

Q.5 Select the most appropriate option to fill in the blank.

The event, promised to be a grand show, will see a display of grit, \_\_\_\_\_ and mettle.

- Ans
- ✓ 1. zeal
  - ✗ 2. zenith
  - ✗ 3. tyro
  - ✗ 4. umbrage

Question Type : MCQ  
Question ID : 264330135688  
Option 1 ID : 264330531644  
Option 2 ID : 264330531645  
Option 3 ID : 264330531643  
Option 4 ID : 264330531646  
Status : Answered  
Chosen Option : 1

Q.6 Select the most appropriate antonym of the given word.

Complicate

- Ans
- 1. Healthy
  - 2. Enlighten
  - 3. Dominate
  - 4. Multiply

Question Type : MCQ  
Question ID : 264330136283  
Option 1 ID : 264330533911  
Option 2 ID : 264330533912  
Option 3 ID : 264330533913  
Option 4 ID : 264330533914  
Status : Answered  
Chosen Option : 1

Q.7 Find the part of the given sentence that has an error in it. If there is no error, choose 'No error'.

A long hoped-for revival in private investment has not take place.

- Ans
- 1. A long hoped-for revival
  - 2. No error
  - 3. in private investment has
  - 4. not take place.

Question Type : MCQ  
Question ID : 264330135231  
Option 1 ID : 264330529847  
Option 2 ID : 264330529850  
Option 3 ID : 264330529848  
Option 4 ID : 264330529849  
Status : Answered  
Chosen Option : 4

Q.8 Select the most appropriate meaning of the bracketed idiom in the given sentence.

He bought (a baker's dozen) of biscuits.

- Ans
- 1. Twelve
  - 2. Ten
  - 3. Thirteen
  - 4. Fifteen

Question Type : MCQ  
Question ID : 264330136764  
Option 1 ID : 264330535760  
Option 2 ID : 264330535761  
Option 3 ID : 264330535759  
Option 4 ID : 264330535762  
Status : Answered  
Chosen Option : 3

**Q.9** Identify the segment that contains a grammatical error. If there is no error, select 'No error'.

There is not one/ that have not/ been duplicated.

- Ans**
- 1. There is not one
  - 2. been duplicated.
  - 3. that have not
  - 4. No error

Question Type : **MCQ**  
Question ID : **264330136535**  
Option 1 ID : **264330534879**  
Option 2 ID : **264330534881**  
Option 3 ID : **264330534880**  
Option 4 ID : **264330534882**  
Status : **Answered**  
Chosen Option : **3**

**Q.10** Fill in the blank with the most appropriate choice.

His students from his time at Manchester University remember his lectures as extraordinarily \_\_\_\_\_.

- Ans**
- 1. flaccid
  - 2. rancid
  - 3. lucid
  - 4. ballistic

Question Type : **MCQ**  
Question ID : **264330135843**  
Option 1 ID : **264330532241**  
Option 2 ID : **264330532239**  
Option 3 ID : **264330532240**  
Option 4 ID : **264330532242**  
Status : **Answered**  
Chosen Option : **3**

**Q.11** Fill in the blank with the most appropriate option.

Be present \_\_\_\_\_ the moment.

- Ans**
- 1. upon
  - 2. in
  - 3. on
  - 4. to

Question Type : **MCQ**  
Question ID : **264330135747**  
Option 1 ID : **264330531873**  
Option 2 ID : **264330531874**  
Option 3 ID : **264330531871**  
Option 4 ID : **264330531872**  
Status : **Answered**  
Chosen Option : **2**

Q.12 Select the most appropriate meaning of the given idiom.

Hit the hay

- Ans
- 1. To go to bed
  - 2. A sarcastic response
  - 3. To take revenge
  - 4. To buy or sell something

Question Type : MCQ  
Question ID : 264330136129  
Option 1 ID : 264330533322  
Option 2 ID : 264330533321  
Option 3 ID : 264330533320  
Option 4 ID : 264330533319  
Status : Answered  
Chosen Option : 3

Q.13 Choose the word that can substitute the given group of words.

A person, who travels in spacecraft

- Ans
- 1. Cadet
  - 2. Ghetto
  - 3. Voyeur
  - 4. Astronaut

Question Type : MCQ  
Question ID : 264330135549  
Option 1 ID : 264330531097  
Option 2 ID : 264330531095  
Option 3 ID : 264330531096  
Option 4 ID : 264330531098  
Status : Answered  
Chosen Option : 4

Q.14 Select the appropriate antonym for the underlined word.

Our children need vital lessons in wealth management.

- Ans
- 1. organic
  - 2. superfluous
  - 3. healthy
  - 4. clever

Question Type : MCQ  
Question ID : 264330135656  
Option 1 ID : 264330531519  
Option 2 ID : 264330531522  
Option 3 ID : 264330531520  
Option 4 ID : 264330531521  
Status : Answered  
Chosen Option : 2

Q.15 Select the most appropriate word for the given group of words.

A group of ants

- Ans
- 1. Colony
  - 2. Bushel
  - 3. Pack
  - 4. Comb

Question Type : MCQ  
Question ID : 264330136425  
Option 1 ID : 264330534460  
Option 2 ID : 264330534459  
Option 3 ID : 264330534462  
Option 4 ID : 264330534461  
Status : Answered  
Chosen Option : 1

Q.16 Select the correctly spelt word.

- Ans
- 1. Plagerism
  - 2. Plagiarsm
  - 3. Plagiarism
  - 4. Plageriasm

Question Type : MCQ  
Question ID : 264330136765  
Option 1 ID : 264330535763  
Option 2 ID : 264330535765  
Option 3 ID : 264330535764  
Option 4 ID : 264330535766  
Status : Answered  
Chosen Option : 1

Q.17 Select the appropriate synonym for the underlined word.

She couldn't really be irritated with him.

- Ans
- 1. delighted
  - 2. annoyed
  - 3. pleased
  - 4. obliged

Question Type : MCQ  
Question ID : 264330135246  
Option 1 ID : 264330529903  
Option 2 ID : 264330529905  
Option 3 ID : 264330529906  
Option 4 ID : 264330529904  
Status : Answered  
Chosen Option : 2

**Q.18** Identify the segment that contains a grammatical error. If there is no error, select 'No error'.

These include the nature/ documentaries, including/ The Blue Planet and Planet Earth.

- Ans**
- 1. These include the nature
  - 2. documentaries, including
  - 3. No error
  - 4. The Blue Planet and Planet Earth.

Question Type : **MCQ**  
Question ID : **264330136537**  
Option 1 ID : **264330534887**  
Option 2 ID : **264330534888**  
Option 3 ID : **264330534890**  
Option 4 ID : **264330534889**  
Status : **Answered**  
Chosen Option : **4**

**Q.19** Select the appropriate synonym for the underlined word.

The symbols were useless to him.

- Ans**
- 1. reachable
  - 2. successful
  - 3. worthless
  - 4. valuable

Question Type : **MCQ**  
Question ID : **264330141178**  
Option 1 ID : **264330553052**  
Option 2 ID : **264330553051**  
Option 3 ID : **264330553053**  
Option 4 ID : **264330553054**  
Status : **Answered**  
Chosen Option : **3**

**Q.20** Select the most appropriate option to substitute the bracketed segment in the given sentence. If there is no need to substitute it, select 'no substitution required'.

(Hardly had I started mowing the lawn that) it started raining.

- Ans**
- 1. No sooner did I started mowing the lawn than
  - 2. Hardly had I started mowing the lawn when
  - 3. Hardly did I start mowing the lawn than
  - 4. No substitution required

Question Type : **MCQ**  
Question ID : **264330136487**  
Option 1 ID : **264330534695**  
Option 2 ID : **264330534696**  
Option 3 ID : **264330534697**  
Option 4 ID : **264330534698**  
Status : **Answered**  
Chosen Option : **2**

**Comprehension:**

In the following passage some words have been deleted. Fill in the blanks with the help of the alternatives given. Select the most appropriate option for each number.

Each went his way, the prince to (1) \_\_\_\_\_ the ways of the court, the brahmin to (2) \_\_\_\_\_ with Parasuram, the renowned scholar-warrior. He mastered (3) \_\_\_\_\_, married a virtuous woman, and (4) \_\_\_\_\_ a beautiful son. (5) \_\_\_\_\_ poor, he was proud of his learning.

**SubQuestion No : 21**

**Q.21** Select the most appropriate option to fill in blank number 1.

- Ans**
- 1. receive
  - 2. cram
  - 3. learn
  - 4. absorb

Question Type : **MCQ**

Question ID : **264330136274**

Option 1 ID : **264330533878**

Option 2 ID : **264330533875**

Option 3 ID : **264330533876**

Option 4 ID : **264330533877**

Status : **Answered**

Chosen Option : **3**

**Comprehension:**

In the following passage some words have been deleted. Fill in the blanks with the help of the alternatives given. Select the most appropriate option for each number.

Each went his way, the prince to (1) \_\_\_\_\_ the ways of the court, the brahmin to (2) \_\_\_\_\_ with Parasuram, the renowned scholar-warrior. He mastered (3) \_\_\_\_\_, married a virtuous woman, and (4) \_\_\_\_\_ a beautiful son. (5) \_\_\_\_\_ poor, he was proud of his learning.

**SubQuestion No : 22**

**Q.22** Select the most appropriate option to fill in blank number 2.

- Ans**
- 1. study across
  - 2. study further
  - 3. study former
  - 4. study another

Question Type : **MCQ**

Question ID : **264330136275**

Option 1 ID : **264330533881**

Option 2 ID : **264330533879**

Option 3 ID : **264330533880**

Option 4 ID : **264330533882**

Status : **Answered**

Chosen Option : **2**

**Comprehension:**

In the following passage some words have been deleted. Fill in the blanks with the help of the alternatives given. Select the most appropriate option for each number.

Each went his way, the prince to (1) \_\_\_\_\_ the ways of the court, the brahmin to (2) \_\_\_\_\_ with Parasuram, the renowned scholar-warrior. He mastered (3) \_\_\_\_\_, married a virtuous woman, and (4) \_\_\_\_\_ a beautiful son. (5) \_\_\_\_\_ poor, he was proud of his learning.

**SubQuestion No : 23**

**Q.23** Select the most appropriate option to fill in blank number 3.

- Ans**
- 1. the arts of war
  - 2. the supplies of war
  - 3. the art even craft of war
  - 4. the attitude of war

Question Type : **MCQ**  
Question ID : **264330136276**  
Option 1 ID : **264330533886**  
Option 2 ID : **264330533884**  
Option 3 ID : **264330533883**  
Option 4 ID : **264330533885**  
Status : **Answered**  
Chosen Option : **1**

**Comprehension:**

In the following passage some words have been deleted. Fill in the blanks with the help of the alternatives given. Select the most appropriate option for each number.

Each went his way, the prince to (1) \_\_\_\_\_ the ways of the court, the brahmin to (2) \_\_\_\_\_ with Parasuram, the renowned scholar-warrior. He mastered (3) \_\_\_\_\_, married a virtuous woman, and (4) \_\_\_\_\_ a beautiful son. (5) \_\_\_\_\_ poor, he was proud of his learning.

**SubQuestion No : 24**

**Q.24** Select the most appropriate option to fill in blank number 4.

- Ans**
- 1. had
  - 2. has
  - 3. given
  - 4. have

Question Type : **MCQ**  
Question ID : **264330136277**  
Option 1 ID : **264330533887**  
Option 2 ID : **264330533889**  
Option 3 ID : **264330533890**  
Option 4 ID : **264330533888**  
Status : **Answered**  
Chosen Option : **3**

**Comprehension:**

In the following passage some words have been deleted. Fill in the blanks with the help of the alternatives given. Select the most appropriate option for each number.

Each went his way, the prince to (1) \_\_\_\_\_ the ways of the court, the brahmin to (2) \_\_\_\_\_ with Parasuram, the renowned scholar-warrior. He mastered (3) \_\_\_\_\_, married a virtuous woman, and (4) \_\_\_\_\_ a beautiful son. (5) \_\_\_\_\_ poor, he was proud of his learning.

**SubQuestion No : 25**

**Q.25** Select the most appropriate option to fill in blank number 5.

- Ans**
- 1. Though
  - 2. Even
  - 3. So
  - 4. Because

Question Type : **MCQ**

Question ID : **264330136278**

Option 1 ID : **264330533893**

Option 2 ID : **264330533891**

Option 3 ID : **264330533894**

Option 4 ID : **264330533892**

Status : **Answered**

Chosen Option : **1**