

## Multi Tasking Non Technical Staff and Havaldar CBIC and CBN Examination 2022

Roll Number	
Candidate Name	
Venue Name	BBDIT A Block Duhai
Exam Date	19/06/2023
Exam Time	12:00 PM - 2:00 PM
Subject	MTS Non Tech Havaldar CBIC and CBN Examination 2022

### Section : Numerical and Mathematical Ability

Q.1 यदि एक निश्चित धनराशि पर 6% वार्षिक दर से 8 वर्षों का साधारण ब्याज Rs.4041.60 है, तो वह धनराशि कितनी है?

- Ans  1. Rs. 8420  
 2. Rs. 6980  
 3. Rs. 7850  
 4. Rs. 8680

Question Type : MCQ

Question ID : 264330139047

Option 1 ID : 264330544795

Option 2 ID : 264330544798

Option 3 ID : 264330544796

Option 4 ID : 264330544797

Status : Answered

Chosen Option : 2

Q.2 रोमा किसी कार्य को 1 दिन में कर सकती है और भाविक उसी कार्य को 20 घंटों में कर सकता है। वे एक साथ मिलकर कार्य को कितने समय में पूरा करेंगे?

- Ans  1. 120/11 घंटे  
 2. 120/7 घंटे  
 3. 100/7 घंटे  
 4. 100/11 घंटे

Question Type : MCQ

Question ID : 264330140835

Option 1 ID : 264330551687

Option 2 ID : 264330551689

Option 3 ID : 264330551690

Option 4 ID : 264330551688

Status : Answered

Chosen Option : 1

Q.3  $98 + 28 \div 7 + 4 - 91 \div 13 \times 7 \times 2$  का मान क्या है?

Ans  1. 20

2. 8

3. 16

4. 12

Question Type : MCQ

Question ID : 264330139032

Option 1 ID : 264330544737

Option 2 ID : 264330544735

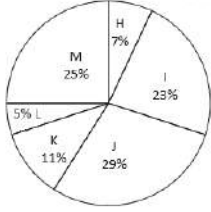
Option 3 ID : 264330544736

Option 4 ID : 264330544738

Status : Answered

Chosen Option : 2

Q.4 नीचे दिए गए वृत्त आलेख में छः विद्यालयों में पढ़ने वाले छात्रों की संख्या को दर्शाया गया है। इन सभी छः विद्यालयों में पढ़ने वाले छात्रों की कुल संख्या 6000 है। इनमें से किसी एक विशिष्ट विद्यालय में पढ़ने वाले छात्रों की संख्या को इन सभी छः विद्यालयों में पढ़ने वाले छात्रों की कुल संख्या के प्रतिशत के रूप में दर्शाया गया है।



विद्यालय H, I और K में पढ़ने वाले छात्रों की कुल संख्या, विद्यालय J, L और M में पढ़ने वाले छात्रों की कुल संख्या से कितने प्रतिशत कम है?

Ans  1. 25.5 प्रतिशत

2. 30.5 प्रतिशत

3. 45.5 प्रतिशत

4. 35.5 प्रतिशत

Question Type : MCQ

Question ID : 264330139035

Option 1 ID : 264330544747

Option 2 ID : 264330544750

Option 3 ID : 264330544749

Option 4 ID : 264330544748

Status : Answered

Chosen Option : 2

Q.5 Rs.2250 के एक मूलधन पर 5 वर्षों के लिए 6 प्रतिशत वार्षिक दर पर साधारण ब्याज कितना होगा?

- Ans
- 1. Rs.715
  - 2. Rs.675
  - 3. Rs.725
  - 4. Rs.625

Question Type : MCQ  
Question ID : 264330139598  
Option 1 ID : 264330546810  
Option 2 ID : 264330546807  
Option 3 ID : 264330546808  
Option 4 ID : 264330546809  
Status : Answered  
Chosen Option : 2

Q.6  $\frac{49}{63} \div \frac{21}{9} - \frac{85}{510} + \frac{88}{132} \div \frac{66}{11}$   
 $\frac{1}{7} \div \frac{33}{21} + \frac{26}{143} - \frac{1}{209} \div \frac{1}{19}$  का मान क्या है?

- Ans
- 1. 55/36
  - 2. 55/39
  - 3. 13/46
  - 4. 44/13

Question Type : MCQ  
Question ID : 264330140210  
Option 1 ID : 264330549220  
Option 2 ID : 264330549219  
Option 3 ID : 264330549222  
Option 4 ID : 264330549221  
Status : Answered  
Chosen Option : 2

Q.7 प्रथम 13 प्राकृत संख्याओं के वर्गों का औसत क्या है?

- Ans
- 1. 63
  - 2. 74
  - 3. 65
  - 4. 72

Question Type : MCQ  
Question ID : 264330139611  
Option 1 ID : 264330546862  
Option 2 ID : 264330546860  
Option 3 ID : 264330546861  
Option 4 ID : 264330546859  
Status : Answered  
Chosen Option : 2

Q.8 एक व्यापारी अपनी बस्तु का मूल्य क्रय मूल्य से 20 प्रतिशत अधिक अंकित करता है। वह इस पर कुछ बड़ा देता है और 10 प्रतिशत का लाभ अर्जित करता है। बड़े का प्रतिशत क्या है?

- Ans
- 1. 12.5 प्रतिशत
  - 2. 10 प्रतिशत
  - 3. 8.33 प्रतिशत
  - 4. 9.09 प्रतिशत

Question Type : MCQ  
Question ID : 264330139923  
Option 1 ID : 264330548071  
Option 2 ID : 264330548074  
Option 3 ID : 264330548072  
Option 4 ID : 264330548073  
Status : Answered  
Chosen Option : 3

Q.9 सात दोस्तों में से प्रत्येक ने एक परियोजना पर Rs.16 खर्च किए और आठवें दोस्त ने उन सभी आठों के औसत खर्च से Rs.35 अधिक खर्च किए। उनके द्वारा खर्च की गई कुल धनराशि कितनी है?

- Ans
- 1. Rs. 148
  - 2. Rs. 176
  - 3. Rs. 168
  - 4. Rs. 160

Question Type : MCQ  
Question ID : 264330139612  
Option 1 ID : 264330546863  
Option 2 ID : 264330546866  
Option 3 ID : 264330546864  
Option 4 ID : 264330546865  
Status : Answered  
Chosen Option : 1

Q.10 एक आदमी एक रुपए में 8 पेन खरीदता है। 60 प्रतिशत का लाभ अर्जित करने के लिए उसे एक रुपए में कितनी पेन बेचना चाहिए?

- Ans
- 1. 3
  - 2. 6
  - 3. 4
  - 4. 5

Question Type : MCQ  
Question ID : 264330139022  
Option 1 ID : 264330544695  
Option 2 ID : 264330544697  
Option 3 ID : 264330544696  
Option 4 ID : 264330544698  
Status : Answered  
Chosen Option : 4

Q.11 एक महामारी के फैलने से एक छोटे शहर की आबादी 18,000 से घटकर 15,000 हो गई। जनसंख्या में कितने प्रतिशत की कमी हुई है?

- Ans
- 1. 17%
  - 2. 16.99%
  - 3. 16.66%
  - 4. 16.5%

Question Type : MCQ  
Question ID : 264330140781  
Option 1 ID : 264330551473  
Option 2 ID : 264330551471  
Option 3 ID : 264330551472  
Option 4 ID : 264330551474  
Status : Answered  
Chosen Option : 3

Q.12 220 मीटर × 70 मीटर का एक आयताकार बगीचा है। बगीचे के चारों ओर 4 मीटर चौड़ा एक पथ बनाया गया है। पथ का क्षेत्रफल कितना है?

- Ans
- 1. 1836 metre<sup>2</sup>
  - 2. 2384 metre<sup>2</sup>
  - 3. 2162 metre<sup>2</sup>
  - 4. 2472 metre<sup>2</sup>

Question Type : MCQ  
Question ID : 264330139622  
Option 1 ID : 264330546905  
Option 2 ID : 264330546903  
Option 3 ID : 264330546904  
Option 4 ID : 264330546906  
Status : Answered  
Chosen Option : 2

Q.13 किसी एक स्कूल में लड़कों और लड़कियों का अनुपात 5 : 7 है। यदि स्कूल में 2400 छात्र हैं, तो लड़कियों की संख्या कितनी है?

- Ans
- 1. 1000
  - 2. 1600
  - 3. 1400
  - 4. 1200

Question Type : MCQ  
Question ID : 264330140785  
Option 1 ID : 264330551490  
Option 2 ID : 264330551489  
Option 3 ID : 264330551488  
Option 4 ID : 264330551487  
Status : Answered  
Chosen Option : 3

Q.14 P1, P2 से 4 गुना कुशल है और दोनों मिलकर एक कार्य को 16 दिनों में पूरा करते हैं। P1 अकेले उसी कार्य को कितने दिनों में पूरा करेगा?

- Ans
- 1. 30 दिनों में
  - 2. 18 दिनों में
  - 3. 20 दिनों में
  - 4. 25 दिनों में

Question Type : MCQ  
Question ID : 264330139912  
Option 1 ID : 264330548028  
Option 2 ID : 264330548030  
Option 3 ID : 264330548029  
Option 4 ID : 264330548027  
Status : Answered  
Chosen Option : 3

Q.15 हल कीजिए:  $11 \times 3 + (45 \div 9) + (72 \div 8) - 5 + 4$

- Ans
- 1. 46
  - 2. 48
  - 3. 44
  - 4. 45

Question Type : MCQ  
Question ID : 264330140776  
Option 1 ID : 264330551451  
Option 2 ID : 264330551453  
Option 3 ID : 264330551454  
Option 4 ID : 264330551452  
Status : Answered  
Chosen Option : 1

Q.16 24 cm आंतरिक व्यास वाला एक अर्धगोलाकार कटोरा एक तरल पदार्थ से भरा है। इस तरल पदार्थ को 4 cm त्रिज्या और 18 cm ऊँचाई वाली बेलनाकार बोटलों में भरना है। इस कटोरे को खाली करने के लिए ऐसी कितनी बोटलों की आवश्यकता होगी?

- Ans
- 1. 7
  - 2. 5
  - 3. 2
  - 4. 4

Question Type : MCQ  
Question ID : 264330138410  
Option 1 ID : 264330542249  
Option 2 ID : 264330542247  
Option 3 ID : 264330542250  
Option 4 ID : 264330542248  
Status : Answered  
Chosen Option : 2

Q.17 एक नाव बिंदु P से Q तक धारा के प्रतिकूल 6 घंटे यात्रा करती है और वापस आते समय बिंदु Q से R तक धारा के अनुकूल अगले 6 घंटे यात्रा करती है। यदि बिंदु P और R के बीच की दूरी 72 km है, तो स्थिर जल में नाव की चाल क्या है?

- Ans
- 1. 14 km/hr
  - 2. 12 km/hr
  - 3. 6 km/hr
  - 4. 10 km/hr

Question Type : MCQ

Question ID : 264330139953

Option 1 ID : 264330548193

Option 2 ID : 264330548192

Option 3 ID : 264330548191

Option 4 ID : 264330548194

Status : Answered

Chosen Option : 2

Q.18 एक बक्से में 5 रुपए, 2 रुपए और 1 रुपए के सिक्के हैं और उनके कुल मूल्य का अनुपात क्रमशः 10 : 6 : 3 है। यदि बक्से में कुल 256 सिक्के हैं, तो बक्से में 5 रुपए के कितने सिक्के हैं?

- Ans
- 1. 64
  - 2. 72
  - 3. 60
  - 4. 84

Question Type : MCQ

Question ID : 264330140162

Option 1 ID : 264330549027

Option 2 ID : 264330549028

Option 3 ID : 264330549029

Option 4 ID : 264330549030

Status : Answered

Chosen Option : 2

Q.19 निम्न तालिका में देश A, B और C की जनसंख्या को दर्शाया गया है। किस देश की जनसंख्या, सभी वर्षों की कुल जनसंख्या में सबसे कम है?

Year	Country A	Country B	Country C
2014	5000	8000	11000
2015	10000	8000	14000
2016	11000	9000	13000
2017	12000	9000	16000
2018	9000	11000	14000

Year: वर्ष, Country: देश

- Ans
- 1. A और B
  - 2. A
  - 3. C
  - 4. B

Question Type : MCQ

Question ID : 264330140792

Option 1 ID : 264330551518

Option 2 ID : 264330551515

Option 3 ID : 264330551516

Option 4 ID : 264330551517

Status : Answered

Chosen Option : 1

Q.20 मुकेश दो शर्ट बेचता है। पहली शर्ट का क्रय मूल्य, दूसरी शर्ट के विक्रय मूल्य के बराबर है। पहली शर्ट को 20 प्रतिशत के लाभ पर बेचा जाता है और दूसरी शर्ट को 20 प्रतिशत की हानि पर बेचा जाता है। पहली शर्ट के विक्रय मूल्य और दूसरी शर्ट के क्रय मूल्य का अनुपात क्या है?

- Ans
- 1. 18 : 25
  - 2. 97 : 100
  - 3. 24 : 25
  - 4. 27 : 50

Question Type : MCQ

Question ID : 264330140570

Option 1 ID : 264330550631

Option 2 ID : 264330550633

Option 3 ID : 264330550632

Option 4 ID : 264330550634

Status : Answered

Chosen Option : 3

Section : Reasoning Ability and Problem Solving

Q.1 उस विकल्प आकृति को चुनिए जिसमें दी गई आकृति निहित है।(घूर्णन की अनुमति नहीं है)




Ans

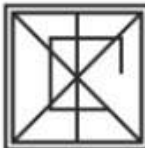
1.



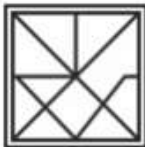
2.



3.



4.



Question Type : MCQ

Question ID : 264330139585

Option 1 ID : 264330546758

Option 2 ID : 264330546756

Option 3 ID : 264330546755

Option 4 ID : 264330546757

Status : Answered

Chosen Option : 2

Q.2 उस विकल्प को चुनिए जो तीसरी संख्या से ठीक उसी तरह संबंधित है जिस तरह दूसरी संख्या पहली संख्या से संबंधित है।

542 : 33 :: 274 : ?

Ans  1. 36

2. 39

3. 42

4. 46

Question Type : MCQ

Question ID : 264330140445

Option 1 ID : 264330550162

Option 2 ID : 264330550159

Option 3 ID : 264330550160

Option 4 ID : 264330550161

Status : Answered

Chosen Option : 2

Q.3 Select the option that is related to the third word in the same way as the second word is related to the first word.

Refrain : Abstain :: Demolish : ?

Ans  1. Create

2. Blend

3. Improve

4. Destroy

Question Type : MCQ

Question ID : 264330137831

Option 1 ID : 264330539931

Option 2 ID : 264330539934

Option 3 ID : 264330539933

Option 4 ID : 264330539932

Status : Answered

Chosen Option : 4

Q.4 दिए गए पैटर्न का ध्यानपूर्वक अध्ययन कीजिए और उस संख्या को चुनिए जो इसमें प्रश्न चिन्ह (?) के स्थान पर आ सकती है।

प्रथम पंक्ति- 8, 32, 64

द्वितीय पंक्ति- 7, 28, 56

तृतीय पंक्ति- 12, 48, ?

Ans  1. 96

2. 48

3. 58

4. 55

Question Type : MCQ

Question ID : 264330138802

Option 1 ID : 264330543817

Option 2 ID : 264330543815

Option 3 ID : 264330543818

Option 4 ID : 264330543816

Status : Answered

Chosen Option : 1

**Q.5** In the following question below are given some statements followed by some conclusions based on those statements. Taking the given statements to be true even if they seem to be at variance from commonly known facts. Read all the conclusions and then decide which of the given conclusion logically follows the given statements.

Statements:

I. Some L are M.

II. No N is M.

Conclusion:

I. Some N are L.

II. No M is L.

**Ans**  1. Both conclusions I and II follows

2. Neither conclusion follows

3. Only conclusion I follows

4. Only conclusion II follows

Question Type : **MCQ**

Question ID : **264330139537**

Option 1 ID : **264330546565**

Option 2 ID : **264330546566**

Option 3 ID : **264330546563**

Option 4 ID : **264330546564**

Status : **Answered**

Chosen Option : **2**

**Q.6** यदि A का अर्थ 'जोड़', B का अर्थ 'गुणा', C का अर्थ 'घटाव' और D का अर्थ 'भाग' हो, तो निम्नलिखित समीकरण का मान क्या होगा?

59 C 48 A (66 D 3) B 4 = ?

**Ans**  1. 94

2. 82

3. 99

4. 79

Question Type : **MCQ**

Question ID : **264330140088**

Option 1 ID : **264330548734**

Option 2 ID : **264330548731**

Option 3 ID : **264330548733**

Option 4 ID : **264330548732**

Status : **Answered**

Chosen Option : **3**

Q.7 एक निश्चित कूट भाषा में, 'VIOLATES' को 'TALOVIES' लिखा जाता है। उस भाषा में 'VELVETIN' को कैसे लिखा जाएगा?

- Ans
- 1. TEVLSEAT
  - 2. TEVLVEIN
  - 3. TEVLAETS
  - 4. TEVLTASE

Question Type : MCQ

Question ID : 264330140077

Option 1 ID : 264330548690

Option 2 ID : 264330548687

Option 3 ID : 264330548689

Option 4 ID : 264330548688

Status : Answered

Chosen Option : 2

Q.8 निम्नलिखित प्रश्न में, दी गई श्रृंखला में लुप्त संख्या को चुनिए।

84, 95, 107, 120, 134, ?

- Ans
- 1. 149
  - 2. 154
  - 3. 150
  - 4. 151

Question Type : MCQ

Question ID : 264330139559

Option 1 ID : 264330546651

Option 2 ID : 264330546653

Option 3 ID : 264330546652

Option 4 ID : 264330546654

Status : Answered

Chosen Option : 1

Q.9 पाँच मित्र अंधनी, बंटी, गिरिधर, राहुल और तरुण को एक पंक्ति में उत्तर की ओर मुख करके बैठाया गया है, लेकिन जरूरी नहीं कि वे इसी क्रम में बैठें हों। बंटी पंक्ति के बाएँ छोर पर बैठा है। अंधनी और गिरिधर के बीच केवल दो मित्र बैठे हैं। अंधनी, बंटी के ठीक बगल में बैठा है और राहुल, बंटी के दाएँ से दूसरे स्थान पर बैठा है। राहुल और गिरिधर के बीच कौन बैठा है?

- Ans
- 1. अंधनी
  - 2. तरुण
  - 3. बंटी
  - 4. कोई नहीं

Question Type : MCQ

Question ID : 264330140458

Option 1 ID : 264330550213

Option 2 ID : 264330550212

Option 3 ID : 264330550211

Option 4 ID : 264330550214

Status : Answered

Chosen Option : 2

Q.10 पाँच सहेलियों पूनम, नेहा, रेखा, श्रुति और ट्विंकल में ट्विंकल केवल तीन अन्य सहेलियों से लंबी है। रेखा सभी सहेलियों में सबसे लंबी है। नेहा केवल एक सहेली से लंबी है। पूनम से केवल दो सहेलियाँ लंबी हैं। सभी सहेलियों में किसका कद सबसे छोटा है?

- Ans
- ✗ 1. ट्विंकल
  - ✗ 2. नेहा
  - ✓ 3. श्रुति
  - ✗ 4. पूनम

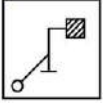
Question Type : MCQ  
Question ID : 264330140101  
Option 1 ID : 264330548785  
Option 2 ID : 264330548784  
Option 3 ID : 264330548786  
Option 4 ID : 264330548783  
Status : Answered  
Chosen Option : 4

Q.11 उस विकल्प को चुनिए जो तीसरे शब्द से ठीक उसी तरह संबंधित है जिस तरह दूसरा शब्द पहले शब्द से संबंधित है।  
दवासाज (Pharmacist) : दवाईयाँ :: चश्मासाज (Optician) : ?

- Ans
- ✓ 1. चश्में (Eyeglasses)
  - ✗ 2. हौदी (Sinks)
  - ✗ 3. विधि संबंधी विषय (Legal Matters)
  - ✗ 4. विमान (Planes)

Question Type : MCQ  
Question ID : 264330140035  
Option 1 ID : 264330548519  
Option 2 ID : 264330548520  
Option 3 ID : 264330548522  
Option 4 ID : 264330548521  
Status : Answered  
Chosen Option : 1

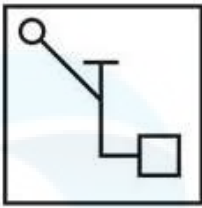
Q.12 दी गई आकृति के उस सही दर्पण प्रतिबिंब को चुनिए, जो नीचे दर्शाए गए अनुसार दर्पण को MN पर रखने पर बनेगा।



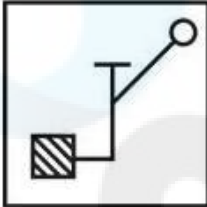
M N

Ans

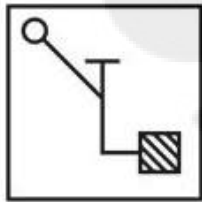
✗ 1.



✗ 2.



✓ 3.



✗ 4.



Question Type : MCQ

Question ID : 264330140051

Option 1 ID : 264330548585

Option 2 ID : 264330548586

Option 3 ID : 264330548583

Option 4 ID : 264330548584

Status : Answered

Chosen Option : 3

Q.13 एक निश्चित कूट भाषा में, 'CARE' को '27' लिखा जाता है। उस कूट भाषा में 'BLUE' को कैसे लिखा जाएगा?

Ans ✗ 1. 45

✗ 2. 50

✗ 3. 70

✓ 4. 40

Question Type : MCQ

Question ID : 264330138772

Option 1 ID : 264330543695

Option 2 ID : 264330543696

Option 3 ID : 264330543697

Option 4 ID : 264330543698

Status : Answered

Chosen Option : 4

Q.14 दी गई श्रृंखला में निम्नलिखित में से कौन-सी संख्या प्रश्न चिन्ह (?) के स्थान पर आएगी?  
109, 190, 239, 264, 273, ?

- Ans
- ✓ 1. 274
  - ✗ 2. 275
  - ✗ 3. 276
  - ✗ 4. 278

Question Type : MCQ  
Question ID : 264330140464  
Option 1 ID : 264330550235  
Option 2 ID : 264330550236  
Option 3 ID : 264330550237  
Option 4 ID : 264330550238  
Status : Answered  
Chosen Option : 1

Q.15 आठ सहेलियाँ कटरीना, करीना, माधुरी, जूही, रानी, ऐश, प्रीति और काजोल एक पंक्ति में उत्तर की ओर मुख करके बैठी हैं। करीना और काजोल पंक्ति के छोर पर बैठी हैं परंतु जरूरी नहीं कि वे इसी क्रम में बैठी हों। ऐश, जूही और माधुरी के ठीक बीच में बैठी है। ऐश के बाईं ओर केवल दो सहेलियाँ बैठी हैं। रानी, प्रीति के ठीक दाईं ओर बैठी है। केवल एक सहेली कटरीना के दाईं ओर बैठी है। बाईं ओर से पाँचवें स्थान पर कौन बैठा है?

- Ans
- ✗ 1. रानी
  - ✗ 2. माधुरी
  - ✗ 3. जूही
  - ✓ 4. प्रीति

Question Type : MCQ  
Question ID : 264330140399  
Option 1 ID : 264330549977  
Option 2 ID : 264330549975  
Option 3 ID : 264330549978  
Option 4 ID : 264330549976  
Status : Answered  
Chosen Option : 4

**Q.16** Two Statements are given followed by two conclusions numbered I and II. Assuming the statements to be true, even if they seem to be at variance with commonly known facts, decide which of the conclusions logically follow(s) from the statements.

Statements:

Some facebook are WhatsApp.

All messenger are WhatsApp.

Conclusions:

I. All WhatsApp are messenger.

II. Some facebook are messenger.

- Ans**
- 1. Only conclusion I follows.
  - 2. Only conclusion II follows.
  - 3. Both conclusions I and II follow.
  - 4. Neither conclusion I nor II follow.

Question Type : **MCQ**

Question ID : **264330140123**

Option 1 ID : **264330548871**

Option 2 ID : **264330548872**

Option 3 ID : **264330548873**

Option 4 ID : **264330548874**

Status : **Answered**

Chosen Option : **4**

**Q.17** एक श्रृंखला दी गई है जिसमें एक पद लुप्त है। दिए गए विकल्पों में से उस सही विकल्प को चुनिए जो श्रृंखला को पूरा करेगा।

ARP, BUQ, CXR, DAS, ?

- Ans**
- 1. FDT
  - 2. EDU
  - 3. EET
  - 4. EDT

Question Type : **MCQ**

Question ID : **264330139568**

Option 1 ID : **264330546689**

Option 2 ID : **264330546690**

Option 3 ID : **264330546688**

Option 4 ID : **264330546687**

Status : **Answered**

Chosen Option : **4**

**Q.18** एक निश्चित कूट भाषा में, 'BOOM' को 'YLLN' लिखा जाता है। उस कूट भाषा में 'MOVE' को कैसे लिखा जाएगा?

- Ans**
- 1. NLEV
  - 2. NMFV
  - 3. NLFU
  - 4. MLFV

Question Type : **MCQ**

Question ID : **264330139531**

Option 1 ID : **264330546539**

Option 2 ID : **264330546541**

Option 3 ID : **264330546540**

Option 4 ID : **264330546542**

Status : **Answered**

Chosen Option : **1**

Q.19 यदि A का अर्थ 'जोड़', B का अर्थ 'गुणा', C का अर्थ 'घटाव' और D का अर्थ 'भाग' हो, तो निम्नलिखित समीकरण का मान क्या होगा?  
5 A 3 C 4 B 2 = ?

- Ans
- 1. 3
  - 2. -4
  - 3. 0
  - 4. 9

Question Type : MCQ

Question ID : 264330140428

Option 1 ID : 264330550092

Option 2 ID : 264330550094

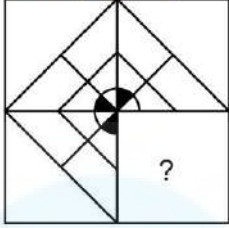
Option 3 ID : 264330550091

Option 4 ID : 264330550093

Status : Answered

Chosen Option : 3

**Q.20** उस विकल्प आकृति को चुनिए जो नीचे दी गई आकृति में पैटर्न को पूरा करने के लिए प्रश्न चिन्ह (?) के स्थान पर आएगी। (घूर्णन की अनुमति नहीं है)।




Ans

✓ 1.



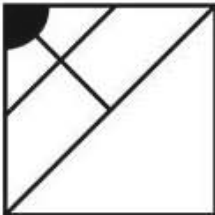
✗ 2.



✗ 3.



✗ 4.



Question Type : MCQ

Question ID : 264330140052

Option 1 ID : 264330548588

Option 2 ID : 264330548587

Option 3 ID : 264330548589

Option 4 ID : 264330548590

Status : Answered

Chosen Option : 1

Section : General Awareness

Q.1 केरल राज्य में प्रचलित प्राचीन मार्शल आर्ट को दर्शाने वाले अलंकारी रंगीन श्रृंगार और अनोखे मुखौटों के कारण किस भारतीय शास्त्रीय नृत्य को अलग पहचान मिली?

- Ans
- 1. कुचिपुड़ी
  - 2. मोहिनीअट्टम
  - 3. ओडिसी
  - 4. कथकली

Question Type : MCQ  
Question ID : 264330140678  
Option 1 ID : 264330551061  
Option 2 ID : 264330551059  
Option 3 ID : 264330551062  
Option 4 ID : 264330551060  
Status : Answered  
Chosen Option : 4

Q.2 ऐसी बस्तियाँ जिनमें घर पास-पास बने होते हैं, \_\_\_\_\_ कहलाती हैं।

- Ans
- 1. प्रकीर्ण बस्तियाँ (Scattered settlement)
  - 2. सघन बस्तियाँ (Compact settlement)
  - 3. कतार बस्तियाँ (Line settlement)
  - 4. झंझर बस्तियाँ (Grid settlement)

Question Type : MCQ  
Question ID : 264330140284  
Option 1 ID : 264330549517  
Option 2 ID : 264330549515  
Option 3 ID : 264330549518  
Option 4 ID : 264330549516  
Status : Answered  
Chosen Option : 2

Q.3 किस राज्य सरकार ने भारत का पहला हाथी मृत्यु लेखापरीक्षा ढाँचा (elephant death audit framework) पेश किया है?

- Ans
- 1. उड़ीसा
  - 2. आंध्रप्रदेश
  - 3. तमिलनाडु
  - 4. महाराष्ट्र

Question Type : MCQ  
Question ID : 264330140676  
Option 1 ID : 264330551054  
Option 2 ID : 264330551053  
Option 3 ID : 264330551051  
Option 4 ID : 264330551052  
Status : Not Answered  
Chosen Option : --

Q.4 प्रतिवर्ष गुरु नानक जयंती हिंदू कैलेंडर के किस महीने की पूर्णिमा तिथि को मनाई जाती है?

- Ans
- 1. कार्तिक
  - 2. चैत्र
  - 3. वैशाख
  - 4. आषाढ़

Question Type : MCQ

Question ID : 264330138972

Option 1 ID : 264330544496

Option 2 ID : 264330544495

Option 3 ID : 264330544498

Option 4 ID : 264330544497

Status : Not Answered

Chosen Option : --

Q.5 श्वेत प्रकाश कितने रंगों का मिश्रण है?

- Ans
- 1. चार
  - 2. पाँच
  - 3. छः
  - 4. सात

Question Type : MCQ

Question ID : 264330139714

Option 1 ID : 264330547271

Option 2 ID : 264330547272

Option 3 ID : 264330547273

Option 4 ID : 264330547274

Status : Answered

Chosen Option : 4

Q.6 एम.एस. गोपालकृष्णन ने कर्नाटक और हिंदुस्तानी शास्त्रीय संगीत दोनों में महारत हासिल की। वह \_\_\_\_\_ के उस्ताद थे।

- Ans
- 1. सारंगी
  - 2. वायलिन
  - 3. सितार
  - 4. संतूर

Question Type : MCQ

Question ID : 264330138952

Option 1 ID : 264330544418

Option 2 ID : 264330544415

Option 3 ID : 264330544416

Option 4 ID : 264330544417

Status : Answered

Chosen Option : 2

Q.7 किस मंदिर को ब्लैक पैगोडा (Black Pagoda) के नाम से भी जाना जाता है?

- Ans
- 1. सोमनाथ मंदिर, सौराष्ट्र
  - 2. जगन्नाथ मंदिर, हैदराबाद
  - 3. सूर्य मंदिर, कोणार्क
  - 4. ओंकारेश्वर मंदिर, पुरी

Question Type : MCQ

Question ID : 264330140655

Option 1 ID : 264330550968

Option 2 ID : 264330550969

Option 3 ID : 264330550967

Option 4 ID : 264330550970

Status : Answered

Chosen Option : 3

Q.8 तराइन का द्वितीय युद्ध कब लड़ा गया था?

- Ans
- 1. 1175
  - 2. 1186
  - 3. 1192
  - 4. 1181

Question Type : MCQ

Question ID : 264330141059

Option 1 ID : 264330552586

Option 2 ID : 264330552583

Option 3 ID : 264330552585

Option 4 ID : 264330552584

Status : Answered

Chosen Option : 3

Q.9 1025 ई. (1025 AD) में किस तुर्की आक्रमणकारी ने सोमनाथ के मंदिर पर आक्रमण कर उस मंदिर को लूट लिया था?

- Ans
- 1. मुहम्मद बिन तुगलक
  - 2. मुहम्मद बिन कासिम
  - 3. मुहम्मद गोरी
  - 4. महमूद गजनवी

Question Type : MCQ

Question ID : 264330140665

Option 1 ID : 264330551010

Option 2 ID : 264330551007

Option 3 ID : 264330551008

Option 4 ID : 264330551009

Status : Answered

Chosen Option : 4

Q.10 निम्नलिखित में से कौन-सी पुस्तक दलाई लामा की आत्मकथा है?

- Ans
- 1. टच प्ले (Touch Play)
  - 2. रेड साड़ी (Red Sari)
  - 3. फ्रीडम इन एक्साइल (Freedom in Exile)
  - 4. प्लेइंग इट माई वे (Playing It My Way)

Question Type : MCQ

Question ID : 264330140309

Option 1 ID : 264330549618

Option 2 ID : 264330549617

Option 3 ID : 264330549615

Option 4 ID : 264330549616

Status : Answered

Chosen Option : 3

Q.11 दाचीगाम राष्ट्रीय उद्यान (Dachigam National Park) निम्नलिखित में से किस राज्य/ केन्द्र शासित प्रदेश में स्थित है?

- Ans
- 1. कर्नाटक
  - 2. गुजरात
  - 3. केरल
  - 4. जम्मू और कश्मीर

Question Type : MCQ

Question ID : 264330141053

Option 1 ID : 264330552559

Option 2 ID : 264330552561

Option 3 ID : 264330552560

Option 4 ID : 264330552562

Status : Answered

Chosen Option : 1

Q.12 निम्नलिखित में से कौन-सा एक जटिल स्थायी पादप ऊतक है?

- Ans
- 1. पार्श्व विभज्योतक (Lateral meristems)
  - 2. कॉलेन्काइमा (Collenchyma)
  - 3. जाइलम (Xylem)
  - 4. शीर्षस्थ विभज्योतक (Apical meristems)

Question Type : MCQ

Question ID : 264330140373

Option 1 ID : 264330549872

Option 2 ID : 264330549873

Option 3 ID : 264330549874

Option 4 ID : 264330549871

Status : Answered

Chosen Option : 3

Q.13 भारतीय संविधान का कौन-सा अनुच्छेद राज्य के महाधिवक्ता (Advocate-General) की बात करता है?

- Ans
- 1. 145
  - 2. 165
  - 3. 77
  - 4. 136

Question Type : MCQ  
Question ID : 264330141066  
Option 1 ID : 264330552612  
Option 2 ID : 264330552611  
Option 3 ID : 264330552614  
Option 4 ID : 264330552613  
Status : Answered  
Chosen Option : 2

Q.14 आधिकारिक तौर पर, भारत में परलैंगिक व्यक्तियों (transgenders) पर पहली बार दर्ज किए गए आंकड़े किस जनगणना में एकत्र किए गए थे?

- Ans
- 1. 2011
  - 2. 2001
  - 3. 1991
  - 4. 1981

Question Type : MCQ  
Question ID : 264330140662  
Option 1 ID : 264330550995  
Option 2 ID : 264330550997  
Option 3 ID : 264330550996  
Option 4 ID : 264330550998  
Status : Answered  
Chosen Option : 1

Q.15 भारत का दक्षिणी भाग \_\_\_\_\_ कटिबंध में पड़ता है।

- Ans
- 1. वर्षा
  - 2. शीतोष्ण
  - 3. ध्रुवीय
  - 4. उष्ण

Question Type : MCQ  
Question ID : 264330140327  
Option 1 ID : 264330549690  
Option 2 ID : 264330549688  
Option 3 ID : 264330549689  
Option 4 ID : 264330549687  
Status : Answered  
Chosen Option : 4

Q.16 \_\_\_\_\_ कोष की वह न्यूनतम राशि है जो प्रत्येक बैंक को जमाओं के रूप में भारतीय रिज़र्व बैंक (RBI) के पास रखना अनिवार्य है।

Ans  1. रेपो दर (Repo rate)

2. नकद कोष अनुपात (Cash Reserve Ratio)

3.

तरलता समायोजन सुविधा (Liquidity Adjustment Facility)

4. बैंक दर (Bank rate)

Question Type : MCQ

Question ID : 264330140675

Option 1 ID : 264330551047

Option 2 ID : 264330551049

Option 3 ID : 264330551048

Option 4 ID : 264330551050

Status : Answered

Chosen Option : 2

Q.17 भारतीय संविधान के अनुसार, भारतीय संघ का मुखिया कौन होता है?

Ans  1. भारत का मुख्य न्यायाधीश

2. भारत का प्रधानमंत्री

3. भारत का राष्ट्रपति

4. भारत का उपराष्ट्रपति

Question Type : MCQ

Question ID : 264330140697

Option 1 ID : 264330551137

Option 2 ID : 264330551136

Option 3 ID : 264330551135

Option 4 ID : 264330551138

Status : Answered

Chosen Option : 3

Q.18 'द स्टार्स इन माय स्काय: दोज हू ब्राइटेंड माय फिल्म जर्नी (The Stars in My Sky: Those Who Brightened My Film Journey)' \_\_\_\_\_ की दूसरी पुस्तक है।

Ans  1. अमिताभ बच्चन

2. दिव्या दत्ता

3. नीति मोहन

4. सोनम कपूर

Question Type : MCQ

Question ID : 264330139753

Option 1 ID : 264330547429

Option 2 ID : 264330547430

Option 3 ID : 264330547427

Option 4 ID : 264330547428

Status : Answered

Chosen Option : 3

Q.19 भारत ने पहली बार \_\_\_\_\_ में ओलंपिक खेलों में भाग लिया था।

- Ans
- 1. 1908
  - 2. 1900
  - 3. 1922
  - 4. 1904

Question Type : MCQ  
Question ID : 264330139751  
Option 1 ID : 264330547421  
Option 2 ID : 264330547419  
Option 3 ID : 264330547422  
Option 4 ID : 264330547420  
Status : Answered  
Chosen Option : 2

Q.20 क्रिकेट के खेल की शुरुआत किस देश में हुई थी?

- Ans
- 1. न्यूज़ीलैंड
  - 2. दक्षिण अफ्रीका
  - 3. भारत
  - 4. इंग्लैंड

Question Type : MCQ  
Question ID : 264330140315  
Option 1 ID : 264330549640  
Option 2 ID : 264330549639  
Option 3 ID : 264330549641  
Option 4 ID : 264330549642  
Status : Answered  
Chosen Option : 4

Q.21 निम्नलिखित स्वतंत्रता सेनानियों में से किसे "आधुनिक भारत का जनक (Father of Modern India)" माना जाता है?

- Ans
- 1. स्वामी विवेकानंद
  - 2. बाबा दयाल दास
  - 3. केशव चंद्र सेन
  - 4. राजा राम मोहन राय

Question Type : MCQ  
Question ID : 264330140717  
Option 1 ID : 264330551217  
Option 2 ID : 264330551218  
Option 3 ID : 264330551215  
Option 4 ID : 264330551216  
Status : Answered  
Chosen Option : 4

Q.22 मानव विकास सूचकांक (Human Development Index (HDI)) रिपोर्ट, 2021-22 के अनुसार, भारतीय उपमहाद्वीप में किस देश का प्रदर्शन सबसे अच्छा है?

- Ans
- 1. श्रीलंका
  - 2. बांग्लादेश
  - 3. भूटान
  - 4. नेपाल

Question Type : MCQ  
Question ID : 264330140688  
Option 1 ID : 264330551099  
Option 2 ID : 264330551101  
Option 3 ID : 264330551100  
Option 4 ID : 264330551102  
Status : Answered  
Chosen Option : 3

Q.23 महासागर की औसत लवणता, \_\_\_\_\_ भाग प्रति हजार ग्राम है।

- Ans
- 1. 45
  - 2. 35
  - 3. 25
  - 4. 55

Question Type : MCQ  
Question ID : 264330139713  
Option 1 ID : 264330547269  
Option 2 ID : 264330547268  
Option 3 ID : 264330547267  
Option 4 ID : 264330547270  
Status : Not Answered  
Chosen Option : --

Q.24 'ग्रेडेड रिस्पांस एक्शन प्लान (Graded Response Action Plan)' का मुख्य उद्देश्य क्या है?

- Ans
- 1. अवैध कॉलोनियों को वैध करना
  - 2. मलेरिया के मामलों को नियंत्रित करना
  - 3. विद्युत वाहनों को प्रचलित करना
  - 4. वायु प्रदूषण को नियंत्रित करना

Question Type : MCQ  
Question ID : 264330140652  
Option 1 ID : 264330550956  
Option 2 ID : 264330550955  
Option 3 ID : 264330550958  
Option 4 ID : 264330550957  
Status : Not Answered  
Chosen Option : --

Q.25 निम्नलिखित में से किसने चटगांव शस्त्रागार छापा (Chittagong Armoury Raid) या चटगांव विद्रोह का नेतृत्व किया था?

Ans

- ✓ 1. सूर्य सेन
- ✗ 2. विनायक दामोदर सावरकर
- ✗ 3. रविंद्रनाथ टैगोर
- ✗ 4. सरदार वल्लभभाई पटेल

Question Type : MCQ

Question ID : 264330140357

Option 1 ID : 264330549807

Option 2 ID : 264330549808

Option 3 ID : 264330549810

Option 4 ID : 264330549809

Status : Answered

Chosen Option : 2

Section : English Language and Comprehension

Q.1 Fill in the blank with the most appropriate option.

I have been on this project since the first day, hence I am responsible \_\_\_\_\_ it.

Ans

- ✓ 1. for
- ✗ 2. by
- ✗ 3. to
- ✗ 4. from

Question Type : MCQ

Question ID : 264330135765

Option 1 ID : 264330531942

Option 2 ID : 264330531939

Option 3 ID : 264330531940

Option 4 ID : 264330531941

Status : Answered

Chosen Option : 1

Q.2 Select the word segment that substitutes (replaces) the bracketed word segment correctly and completes the sentence meaningfully. Select the option 'no correction required' if the sentence is correct as given.

Both of us felt the relationship (wasn't really gone somewhere.)

Ans

- ✗ 1. No correction required
- ✓ 2. wasn't really going anywhere
- ✗ 3. was going that direction
- ✗ 4. won't really gone that path

Question Type : MCQ

Question ID : 264330135718

Option 1 ID : 264330531762

Option 2 ID : 264330531760

Option 3 ID : 264330531761

Option 4 ID : 264330531759

Status : Answered

Chosen Option : 2

Q.3 Select the appropriate antonym for the underlined word.

There is a point at which fear may turn to insanity.

- Ans
- 1. Wisdom
  - 2. Lunacy
  - 3. Absurdity
  - 4. Frenzy

Question Type : **MCQ**  
Question ID : **264330141214**  
Option 1 ID : **264330553192**  
Option 2 ID : **264330553194**  
Option 3 ID : **264330553191**  
Option 4 ID : **264330553193**  
Status : **Answered**  
Chosen Option : **1**

Q.4 Find the part of the given sentence that has an error in it. If there is no error, choose 'No error'.

I don't want to get involved in these game of gambling.

- Ans
- 1. No error
  - 2. get involved in
  - 3. I don't want to
  - 4. these game of gambling.

Question Type : **MCQ**  
Question ID : **264330141167**  
Option 1 ID : **264330553014**  
Option 2 ID : **264330553012**  
Option 3 ID : **264330553011**  
Option 4 ID : **264330553013**  
Status : **Answered**  
Chosen Option : **4**

Q.5 Select the most appropriate antonym of the given word.

Topple

- Ans
- 1. Tumble
  - 2. Steady
  - 3. Fumble
  - 4. Plunge

Question Type : **MCQ**  
Question ID : **264330136153**  
Option 1 ID : **264330533413**  
Option 2 ID : **264330533411**  
Option 3 ID : **264330533414**  
Option 4 ID : **264330533412**  
Status : **Not Answered**  
Chosen Option : **--**

Q.6 Choose the word that means the same as the given word.

Gala

- Ans
- 1. Carnival
  - 2. Moist
  - 3. Mistakenly
  - 4. Funeral

Question Type : MCQ  
Question ID : 264330135526  
Option 1 ID : 264330531007  
Option 2 ID : 264330531009  
Option 3 ID : 264330531010  
Option 4 ID : 264330531008  
Status : Answered  
Chosen Option : 2

Q.7 A sentence has been given with a blank to be filled with an appropriate option. Choose the correct alternative.

The survival of theatre has depended on the creation of \_\_\_\_\_ formats.

- Ans
- 1. newly
  - 2. new
  - 3. newest
  - 4. newer

Question Type : MCQ  
Question ID : 264330135159  
Option 1 ID : 264330529572  
Option 2 ID : 264330529571  
Option 3 ID : 264330529573  
Option 4 ID : 264330529574  
Status : Answered  
Chosen Option : 2

Q.8 Improve the underlined part of the sentence. Choose 'No improvement' as an answer if the sentence is grammatically correct.

When I was a kid, I used to pretend to be a knight in King Arthur's court.

- Ans
- 1. No improvement
  - 2. used to pretending
  - 3. use to pretend
  - 4. used to pretends

Question Type : MCQ  
Question ID : 264330141169  
Option 1 ID : 264330553022  
Option 2 ID : 264330553021  
Option 3 ID : 264330553020  
Option 4 ID : 264330553019  
Status : Answered  
Chosen Option : 1

Q.9 Fill in the blank with the most appropriate option.

He is quite \_\_\_\_\_ and narrow.

- Ans
- 1. tall
  - 2. elongated
  - 3. long
  - 4. stretched

Question Type : MCQ  
Question ID : 264330135714  
Option 1 ID : 264330531743  
Option 2 ID : 264330531745  
Option 3 ID : 264330531744  
Option 4 ID : 264330531746  
Status : Answered  
Chosen Option : 1

Q.10 Select the most appropriate word for the given group of words.

A small structure with one or more open sides that is used to vend merchandise

- Ans
- 1. Kiosk
  - 2. Podium
  - 3. Vendor
  - 4. Stand

Question Type : MCQ  
Question ID : 264330136123  
Option 1 ID : 264330533297  
Option 2 ID : 264330533296  
Option 3 ID : 264330533298  
Option 4 ID : 264330533295  
Status : Answered  
Chosen Option : 3

Q.11 Identify the segment that contains a grammatical error. If there is no error, select 'No error'.

The baby's faces are expressionless and/ their pupils aren't visible which gives/ the appearance of lifelessness and dreadfulness.

- Ans
- 1. No error
  - 2. the appearance of lifelessness and dreadfulness.
  - 3. their pupils aren't visible which gives
  - 4. The baby's faces are expressionless and

Question Type : MCQ  
Question ID : 264330136344  
Option 1 ID : 264330534150  
Option 2 ID : 264330534149  
Option 3 ID : 264330534148  
Option 4 ID : 264330534147  
Status : Not Answered  
Chosen Option : --

**Q.12** Select the most appropriate option to fill in the blank.

The \_\_\_\_\_ mistake these couples made was not spending enough time seriously planning for a lifetime together in marriage.

- Ans**
- 1. sporadic
  - 2. credulous
  - 3. enigmatic
  - 4. egregious

Question Type : **MCQ**  
Question ID : **264330136749**  
Option 1 ID : **264330535705**  
Option 2 ID : **264330535706**  
Option 3 ID : **264330535704**  
Option 4 ID : **264330535703**  
Status : **Answered**  
Chosen Option : **3**

**Q.13** Select the most appropriate word for the given group of words.

Partial or total loss of memory

- Ans**
- 1. Axiom
  - 2. Atheist
  - 3. Ascetic
  - 4. Amnesia

Question Type : **MCQ**  
Question ID : **264330136550**  
Option 1 ID : **264330534936**  
Option 2 ID : **264330534935**  
Option 3 ID : **264330534938**  
Option 4 ID : **264330534937**  
Status : **Answered**  
Chosen Option : **4**

**Q.14** Select the word segment that substitutes (replaces) the bracketed word segment correctly and completes the sentence meaningfully. Select the option 'no correction required' if the sentence is correct as given.  
(They was standing) at one end of a very long and splendid hall.

- Ans**
- 1. They were standed
  - 2. No correction required
  - 3. They were standing
  - 4. They had been standed

Question Type : **MCQ**  
Question ID : **264330136140**  
Option 1 ID : **264330533364**  
Option 2 ID : **264330533366**  
Option 3 ID : **264330533363**  
Option 4 ID : **264330533365**  
Status : **Answered**  
Chosen Option : **1**

**Q.15** In the following question, out of the given four alternatives, select the alternative which best expresses the meaning of the Idiom/Phrase.

To get under one's skin

- Ans**
- 1. To behave foolishly
  - 2. To get nowhere
  - 3. To hide something
  - 4. To anger or irritate

Question Type : **MCQ**  
Question ID : **264330135529**  
Option 1 ID : **264330531019**  
Option 2 ID : **264330531020**  
Option 3 ID : **264330531021**  
Option 4 ID : **264330531022**  
Status : **Answered**  
Chosen Option : **4**

**Q.16** Select the appropriate synonym for the underlined word.

It can be easy to ignore people who are struggling and having a hard time.

- Ans**
- 1. gliding
  - 2. hustling
  - 3. booming
  - 4. claiming

Question Type : **MCQ**  
Question ID : **264330135168**  
Option 1 ID : **264330529605**  
Option 2 ID : **264330529604**  
Option 3 ID : **264330529606**  
Option 4 ID : **264330529603**  
Status : **Answered**  
Chosen Option : **2**

**Q.17** Four sentences are given, out of which three have spelling errors. Choose the sentence with all correctly spelt words.

- Ans**
- 1. It is demonstrably an unfair comparision.
  - 2. The whole thing is foriegn to us.
  - 3. I'm the sole victim of Mother's tyranny.
  - 4. There is a room at the extreme end of the corridor.

Question Type : **MCQ**  
Question ID : **264330135868**  
Option 1 ID : **264330532335**  
Option 2 ID : **264330532336**  
Option 3 ID : **264330532337**  
Option 4 ID : **264330532338**  
Status : **Answered**  
Chosen Option : **4**

**Q.18** Choose the incorrectly spelt word.

- Ans**
- 1. Showing
  - 2. Motive
  - 3. Conssume
  - 4. Horror

Question Type : **MCQ**  
Question ID : **264330135531**  
Option 1 ID : **264330531029**  
Option 2 ID : **264330531028**  
Option 3 ID : **264330531030**  
Option 4 ID : **264330531027**  
Status : **Answered**  
Chosen Option : **3**

**Q.19** Identify the segment that contains a grammatical error. If there is no error, select 'No error'.

Two border guards patrolling / the nearby frontier with Georgia have also / been reported missing from Friday night.

- Ans**
- 1. been reported missing from Friday night.
  - 2. the nearby frontier with Georgia have also
  - 3. No Error
  - 4. Two border guards patrolling

Question Type : **MCQ**  
Question ID : **264330135819**  
Option 1 ID : **264330532149**  
Option 2 ID : **264330532148**  
Option 3 ID : **264330532150**  
Option 4 ID : **264330532147**  
Status : **Answered**  
Chosen Option : **3**

**Q.20** Select the most appropriate meaning of the bracketed idiom in the given sentence.

Critics and Monday morning quarterbacks are (a dime a dozen), but it remains to be seen.

- Ans**
- 1. Anything that is common and easy to get
  - 2. Stuck between two very bad options
  - 3. Avoiding the main topic, not speaking directly about the issue
  - 4. To force an issue that has already ended

Question Type : **MCQ**  
Question ID : **264330136504**  
Option 1 ID : **264330534761**  
Option 2 ID : **264330534762**  
Option 3 ID : **264330534760**  
Option 4 ID : **264330534759**  
Status : **Answered**  
Chosen Option : **1**

**Comprehension:**

In the following passage some of the words have been deleted. Read the passage carefully and select the correct answer for the given blanks out of the four alternatives.

Alkaline hydrolysis is rare today as a funeral (1) \_\_\_\_\_ for humans. Offered to the public for the first time just over a (2) \_\_\_\_\_ ago, it is now permitted and regulated in 26 U.S. states, and practiced (3) \_\_\_\_\_ in North America, where it remains unfamiliar to most people who (4) \_\_\_\_\_ a loved one or who are thinking about what could (5) \_\_\_\_\_ to their own bodies when they die.

**SubQuestion No : 21**

**Q.21** Select the most appropriate option to fill in blank number 1.

- Ans**
- 1. Judgement
  - 2. Proceeding
  - 3. Activity
  - 4. Practice

Question Type : **MCQ**

Question ID : **264330135518**

Option 1 ID : **264330530976**

Option 2 ID : **264330530978**

Option 3 ID : **264330530975**

Option 4 ID : **264330530977**

Status : **Answered**

Chosen Option : **4**

**Comprehension:**

In the following passage some of the words have been deleted. Read the passage carefully and select the correct answer for the given blanks out of the four alternatives.

Alkaline hydrolysis is rare today as a funeral (1) \_\_\_\_\_ for humans. Offered to the public for the first time just over a (2) \_\_\_\_\_ ago, it is now permitted and regulated in 26 U.S. states, and practiced (3) \_\_\_\_\_ in North America, where it remains unfamiliar to most people who (4) \_\_\_\_\_ a loved one or who are thinking about what could (5) \_\_\_\_\_ to their own bodies when they die.

**SubQuestion No : 22**

**Q.22** Select the most appropriate option to fill in blank number 2.

- Ans**
- 1. date
  - 2. vintage
  - 3. decade
  - 4. period

Question Type : **MCQ**

Question ID : **264330135519**

Option 1 ID : **264330530981**

Option 2 ID : **264330530982**

Option 3 ID : **264330530979**

Option 4 ID : **264330530980**

Status : **Answered**

Chosen Option : **3**

**Comprehension:**

In the following passage some of the words have been deleted. Read the passage carefully and select the correct answer for the given blanks out of the four alternatives.

Alkaline hydrolysis is rare today as a funeral (1) \_\_\_\_\_ for humans. Offered to the public for the first time just over a (2) \_\_\_\_\_ ago, it is now permitted and regulated in 26 U.S. states, and practiced (3) \_\_\_\_\_ in North America, where it remains unfamiliar to most people who (4) \_\_\_\_\_ a loved one or who are thinking about what could (5) \_\_\_\_\_ to their own bodies when they die.

**SubQuestion No : 23**

**Q.23** Select the most appropriate option to fill in blank number 3.

- Ans**
- 1. primarily
  - 2. manly
  - 3. approximately
  - 4. lastly

Question Type : **MCQ**  
Question ID : **264330135520**  
Option 1 ID : **264330530986**  
Option 2 ID : **264330530984**  
Option 3 ID : **264330530983**  
Option 4 ID : **264330530985**  
Status : **Answered**  
Chosen Option : **2**

**Comprehension:**

In the following passage some of the words have been deleted. Read the passage carefully and select the correct answer for the given blanks out of the four alternatives.

Alkaline hydrolysis is rare today as a funeral (1) \_\_\_\_\_ for humans. Offered to the public for the first time just over a (2) \_\_\_\_\_ ago, it is now permitted and regulated in 26 U.S. states, and practiced (3) \_\_\_\_\_ in North America, where it remains unfamiliar to most people who (4) \_\_\_\_\_ a loved one or who are thinking about what could (5) \_\_\_\_\_ to their own bodies when they die.

**SubQuestion No : 24**

**Q.24** Select the most appropriate option to fill in blank number 4.

- Ans**
- 1. has lost
  - 2. lose
  - 3. have lost
  - 4. loose

Question Type : **MCQ**  
Question ID : **264330135521**  
Option 1 ID : **264330530990**  
Option 2 ID : **264330530987**  
Option 3 ID : **264330530989**  
Option 4 ID : **264330530988**  
Status : **Answered**  
Chosen Option : **3**

**Comprehension:**

In the following passage some of the words have been deleted. Read the passage carefully and select the correct answer for the given blanks out of the four alternatives.

Alkaline hydrolysis is rare today as a funeral (1) \_\_\_\_\_ for humans. Offered to the public for the first time just over a (2) \_\_\_\_\_ ago, it is now permitted and regulated in 26 U.S. states, and practiced (3) \_\_\_\_\_ in North America, where it remains unfamiliar to most people who (4) \_\_\_\_\_ a loved one or who are thinking about what could (5) \_\_\_\_\_ to their own bodies when they die.

**SubQuestion No : 25**

**Q.25** Select the most appropriate option to fill in blank number 5.

- Ans**
- 1. curtail
  - 2. happen
  - 3. syndicate
  - 4. gravitate

Question Type : **MCQ**

Question ID : **264330135522**

Option 1 ID : **264330530993**

Option 2 ID : **264330530994**

Option 3 ID : **264330530991**

Option 4 ID : **264330530992**

Status : **Answered**

Chosen Option : **2**