

## Multi Tasking Non Technical Staff and Havaldar CBIC and CBN Examination 2022

Roll Number	
Candidate Name	
Venue Name	iON Digital Zone Ganga Nagar Meerut
Exam Date	19/06/2023
Exam Time	3:30 PM - 5:00 PM
Subject	MTS Non Tech Havaldar CBIC and CBN Examination 2022

### Section : Numerical and Mathematical Ability

Q.1 एक बेलन का वक्र पृष्ठीय क्षेत्रफल  $968 \text{ cm}^2$  है। यदि बेलन की ऊँचाई  $11 \text{ cm}$  है, तो उसके आधार का व्यास कितना होगा?

- Ans
- 1. 22 cm
  - 2. 26 cm
  - 3. 24 cm
  - 4. 28 cm

Question Type : MCQ

Question ID : 264330135411

Option 1 ID : 264330530551

Option 2 ID : 264330530554

Option 3 ID : 264330530552

Option 4 ID : 264330530553

Status : Answered

Chosen Option : 4

Q.2 यदि 3 लड़के और 8 लड़कियाँ किसी कार्य को 6 दिनों में कर सकते हैं, और 1 लड़का और 5 लड़कियाँ उसी कार्य को 12 दिनों में पूरा कर सकते हैं, तो एक लड़के और एक लड़की की कुशलता का अनुपात ज्ञात कीजिए।

- Ans
- 1. 2:5
  - 2. 3:2
  - 3. 2:1
  - 4. 1:5

Question Type : MCQ

Question ID : 264330135406

Option 1 ID : 264330530533

Option 2 ID : 264330530532

Option 3 ID : 264330530531

Option 4 ID : 264330530534

Status : Answered

Chosen Option : 3

Q.3 रवि इंगरपुर से उदयपुर तक 200 km गाड़ी चलाता है। उसकी औसत चाल 50 kmph है। वह इंगरपुर से सुबह 8:20 बजे निकलता है। वह उदयपुर कितने बजे तक पहुँचेगा?

- Ans
- 1. सुबह 11:30 बजे
  - 2. दोपहर 12:20 बजे
  - 3. सुबह 10 बजे
  - 4. दोपहर 1:00 बजे

Question Type : MCQ

Question ID : 264330135113

Option 1 ID : 264330529388

Option 2 ID : 264330529389

Option 3 ID : 264330529387

Option 4 ID : 264330529390

Status : Answered

Chosen Option : 2

Q.4 किसी धनराशि पर 20% वार्षिक दर पर दो वर्षों के लिए चक्रवृद्धि ब्याज और साधारण ब्याज के बीच का अंतर Rs. 420 है। धनराशि (Rs. में) ज्ञात कीजिए।

- Ans
- 1. Rs. 8000
  - 2. Rs. 9000
  - 3. Rs. 10500
  - 4. Rs. 11000

Question Type : MCQ

Question ID : 264330138403

Option 1 ID : 264330542222

Option 2 ID : 264330542221

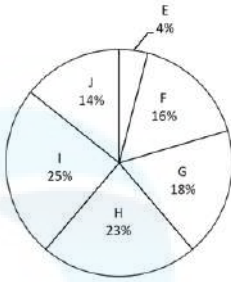
Option 3 ID : 264330542220

Option 4 ID : 264330542219

Status : Answered

Chosen Option : 3

Q.5 नीचे दिए गए वृत्त आलेख में छः विद्यालयों में पढ़ने वाले छात्रों की संख्या को दर्शाया गया है। इन सभी छः विद्यालयों में पढ़ने वाले छात्रों की कुल संख्या 4000 है। इनमें से किसी एक विशिष्ट विद्यालय में पढ़ने वाले छात्रों की संख्या को इन सभी छः विद्यालयों में पढ़ने वाले छात्रों की कुल संख्या के प्रतिशत के रूप में दर्शाया गया है।



वृत्तखंड F और H द्वारा मिलकर बनाए गए केंद्रीय कोण और वृत्तखंड I और G द्वारा मिलकर बनाए गए केंद्रीय कोण के बीच कितना अंतर है?

- Ans
- 1. 18.7 डिग्री
  - 2. 17.4 डिग्री
  - 3. 9.6 डिग्री
  - 4. 14.4 डिग्री

Question Type : MCQ

Question ID : 264330138034

Option 1 ID : 264330540745

Option 2 ID : 264330540746

Option 3 ID : 264330540744

Option 4 ID : 264330540743

Status : Answered

Chosen Option : 4

Q.6 यदि  $(7x + y) : (7x - y) = 7 : 2$  है, तो  $x : y$  का मान क्या है?

- Ans
- 1. 6 : 41
  - 2. 9 : 35
  - 3. 11 : 42
  - 4. 17 : 52

Question Type : MCQ

Question ID : 264330138023

Option 1 ID : 264330540700

Option 2 ID : 264330540701

Option 3 ID : 264330540702

Option 4 ID : 264330540699

Status : Answered

Chosen Option : 2

Q.7 एक व्यक्ति एक कुर्सी को एक निश्चित मूल्य पर बेचकर 35 प्रतिशत का लाभ अर्जित करता है। यदि वह उस कुर्सी को दोगुने मूल्य पर बेचता है, तो लाभ प्रतिशत क्या होगा?

- Ans
- 1. 180 प्रतिशत
  - 2. 170 प्रतिशत
  - 3. 150 प्रतिशत
  - 4. 70 प्रतिशत

Question Type : MCQ

Question ID : 264330138022

Option 1 ID : 264330540695

Option 2 ID : 264330540697

Option 3 ID : 264330540696

Option 4 ID : 264330540698

Status : Answered

Chosen Option : 2

Q.8  $\frac{4}{55}$ ,  $\frac{2}{11}$  और  $\frac{8}{22}$  का महत्तम समापवर्तक क्या है?

- Ans
- 1.  $\frac{1}{66}$
  - 2.  $\frac{2}{55}$
  - 3.  $\frac{1}{55}$
  - 4.  $\frac{3}{88}$

Question Type : MCQ

Question ID : 264330138030

Option 1 ID : 264330540730

Option 2 ID : 264330540728

Option 3 ID : 264330540729

Option 4 ID : 264330540727

Status : Answered

Chosen Option : 3

Q.9  $\frac{343}{49} \times \frac{45}{9}$  of  $\frac{27}{15} \times \frac{256}{64}$  का मान क्या है?

- Ans
- 1. 252
  - 2. 262
  - 3. 192
  - 4. 142

Question Type : MCQ

Question ID : 264330137661

Option 1 ID : 264330539254

Option 2 ID : 264330539253

Option 3 ID : 264330539252

Option 4 ID : 264330539251

Status : Answered

Chosen Option : 1

Q.10 सरल कीजिए:  $44 + 67 - 32 \div 4 + (9 + 5 + 5 + 4) - 1$

- Ans
- 1. 130
  - 2. 125
  - 3. 122
  - 4. 123

Question Type : MCQ  
Question ID : 264330138746  
Option 1 ID : 264330543593  
Option 2 ID : 264330543592  
Option 3 ID : 264330543594  
Option 4 ID : 264330543591  
Status : Answered  
Chosen Option : 2

Q.11 तीन धावकों की चाल का अनुपात 5 : 2 : 1 है। तीनों धावकों द्वारा समान दूरी तय करने में लिए गए समय का क्रमशः अनुपात क्या होगा?

- Ans
- 1. 2 : 5 : 8
  - 2. 5 : 2 : 10
  - 3. 2 : 5 : 3
  - 4. 2 : 5 : 10

Question Type : MCQ  
Question ID : 264330138024  
Option 1 ID : 264330540703  
Option 2 ID : 264330540704  
Option 3 ID : 264330540706  
Option 4 ID : 264330540705  
Status : Answered  
Chosen Option : 4

Q.12 14 शिक्षकों की औसत आयु 56 वर्ष है। समूह में एक नए शिक्षक को शामिल करने के बाद, औसत में 2 वर्ष की वृद्धि हो जाती है। नए शामिल हुए शिक्षक की आयु कितनी है?

- Ans
- 1. 78 वर्ष
  - 2. 84 वर्ष
  - 3. 86 वर्ष
  - 4. 72 वर्ष

Question Type : MCQ  
Question ID : 264330138018  
Option 1 ID : 264330540682  
Option 2 ID : 264330540681  
Option 3 ID : 264330540679  
Option 4 ID : 264330540680  
Status : Answered  
Chosen Option : 3

Q.13 एक वस्तु को 25 प्रतिशत और 4 प्रतिशत की दो क्रमागत छूट के बाद Rs. 1440 में बेचा जाता है। वस्तु का अंकित मूल्य क्या है?

- Ans
- 1. Rs. 2200
  - 2. Rs. 2000
  - 3. Rs. 2100
  - 4. Rs. 2500

Question Type : MCQ

Question ID : 264330138027

Option 1 ID : 264330540716

Option 2 ID : 264330540718

Option 3 ID : 264330540715

Option 4 ID : 264330540717

Status : Answered

Chosen Option : 2

Q.14 दो संख्याओं का योग 400 है। यदि बड़ी संख्या में 16% की कमी की जाए और छोटी संख्या में 16% की वृद्धि की जाए, तो प्राप्त संख्याएँ बराबर होती हैं। छोटी संख्या ज्ञात कीजिए।

- Ans
- 1. 168
  - 2. 152
  - 3. 144
  - 4. 170

Question Type : MCQ

Question ID : 264330138396

Option 1 ID : 264330542193

Option 2 ID : 264330542192

Option 3 ID : 264330542191

Option 4 ID : 264330542194

Status : Answered

Chosen Option : 1

Q.15 रमेश 234 kmph की चाल से दौड़ता है। वह दस मिनट में कितने मीटर दौड़ता है?

- Ans
- 1. 39000 m
  - 2. 35468 m
  - 3. 36000 m
  - 4. 37560 m

Question Type : MCQ

Question ID : 264330138759

Option 1 ID : 264330543644

Option 2 ID : 264330543646

Option 3 ID : 264330543645

Option 4 ID : 264330543643

Status : Answered

Chosen Option : 1

Q.16  $(64 \div 8) - 5 + 4 \times 23 + 45 - 87$  को हल कीजिए।

- Ans
- 1. 52
  - 2. 51
  - 3. 54
  - 4. 53

Question Type : MCQ

Question ID : 264330133737

Option 1 ID : 264330523974

Option 2 ID : 264330523973

Option 3 ID : 264330523971

Option 4 ID : 264330523972

Status : Answered

Chosen Option : 4

Q.17 एक रेलगाड़ी एक स्थान A से सुबह 10:00 बजे चलती है और एक दूसरे स्थान B पर उसी दिन शाम 5:30 बजे पहुंचती है। यदि रेलगाड़ी की चाल 80 km/hr है, तो रेलगाड़ी द्वारा तय की गई दूरी कितनी होगी?

- Ans
- 1. 450 km
  - 2. 600 km
  - 3. 650 km
  - 4. 550 km

Question Type : MCQ

Question ID : 264330138017

Option 1 ID : 264330540677

Option 2 ID : 264330540675

Option 3 ID : 264330540678

Option 4 ID : 264330540676

Status : Answered

Chosen Option : 2

Q.18 एक शहर की वर्तमान जनसंख्या 68,000 है। पहले वर्ष में जनसंख्या में 10 प्रतिशत की वृद्धि होती है और दूसरे वर्ष में 5% की गिरावट आती है। 2 वर्ष बाद शहर की जनसंख्या ज्ञात कीजिए।

- Ans
- 1. 71,060
  - 2. 68,500
  - 3. 69,000
  - 4. 70,100

Question Type : MCQ

Question ID : 264330138424

Option 1 ID : 264330542303

Option 2 ID : 264330542304

Option 3 ID : 264330542306

Option 4 ID : 264330542305

Status : Answered

Chosen Option : 1

Q.19 दी गई तालिका में विद्यालयों में लड़कों और लड़कियों की संख्या को दर्शाया गया है। किस विद्यालय में सबसे कम छात्र हैं?

School	Number of boys	Number of girls
1	44	56
2	34	45
3	47	34
4	65	54
5	45	32

School = विद्यालय, Number of boys = लड़कों की संख्या, Number of girls = लड़कियों की संख्या

- Ans
- ✓ 1. 5
  - ✗ 2. 1
  - ✗ 3. 3
  - ✗ 4. 2

Question Type : MCQ

Question ID : 264330133751

Option 1 ID : 264330524029

Option 2 ID : 264330524030

Option 3 ID : 264330524028

Option 4 ID : 264330524027

Status : Answered

Chosen Option : 1

Q.20 100 नोटबुक बेचकर, एक दुकानदार 20 नोटबुक के विक्रय मूल्य के बराबर लाभ अर्जित करता है। उसका लाभ प्रतिशत क्या है?

- Ans
- ✗ 1. 50.4%
  - ✗ 2. 62.4%
  - ✗ 3. 22.5%
  - ✓ 4. 25%

Question Type : MCQ

Question ID : 264330138752

Option 1 ID : 264330543616

Option 2 ID : 264330543617

Option 3 ID : 264330543618

Option 4 ID : 264330543615

Status : Answered

Chosen Option : 4

Section : Reasoning Ability and Problem Solving

Q.1 सात लोगों K, B, M, C, R, P, और S का कद अलग-अलग है। C, K से लंबा है। B का कद M से छोटा है। P का कद M और B से छोटा है। C, P से लंबा नहीं है। S, K से लंबा नहीं है। M केवल एक व्यक्ति से कद में छोटा है। सबसे छोटे कद वाला व्यक्ति कौन है?

- Ans
- ✓ 1. S
  - ✗ 2. B
  - ✗ 3. K
  - ✗ 4. P

Question Type : MCQ

Question ID : 264330137818

Option 1 ID : 264330539879

Option 2 ID : 264330539882

Option 3 ID : 264330539880

Option 4 ID : 264330539881

Status : Answered

Chosen Option : 1

Q.2 दिए गए पैटर्न का ध्यानपूर्वक अध्ययन कीजिए और उस संख्या को चुनिए जो इसमें प्रश्न चिन्ह (?) के स्थान पर आ सकती है?

प्रथम पंक्ति- 7, 9, 63

द्वितीय पंक्ति- 6, 8, 48

तृतीय पंक्ति- 5, 7, ?

- Ans
- ✓ 1. 35
  - ✗ 2. 49
  - ✗ 3. 28
  - ✗ 4. 42

Question Type : MCQ

Question ID : 264330137824

Option 1 ID : 264330539903

Option 2 ID : 264330539905

Option 3 ID : 264330539906

Option 4 ID : 264330539904

Status : Answered

Chosen Option : 1

Q.3 निम्नलिखित प्रश्न में, दी गई श्रृंखला में लुप्त संख्या को चुनिए।

0, 22, 44, 66, ?, 110

- Ans
- ✓ 1. 88
  - ✗ 2. 94
  - ✗ 3. 99
  - ✗ 4. 90

Question Type : MCQ

Question ID : 264330138510

Option 1 ID : 264330542647

Option 2 ID : 264330542650

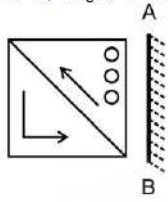
Option 3 ID : 264330542649

Option 4 ID : 264330542648

Status : Answered

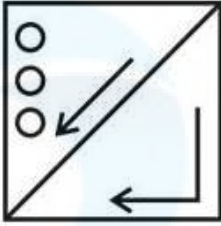
Chosen Option : 1

Q.4 दी गई आकृति के उस सही दर्पण प्रतिबिंब को चुनिए जो नीचे दर्शाए गए अनुसार दर्पण को AB पर रखने पर बनेगा।

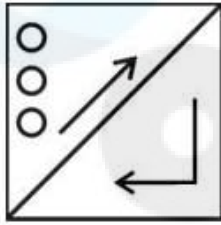


Ans

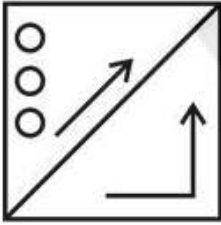
✗ 1.



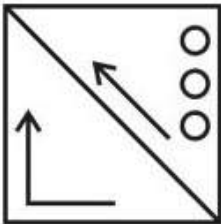
✓ 2.



✗ 3.



✗ 4.



Question Type : MCQ

Question ID : 264330133464

Option 1 ID : 264330522888

Option 2 ID : 264330522890

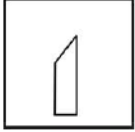
Option 3 ID : 264330522889

Option 4 ID : 264330522887

Status : Answered

Chosen Option : 2

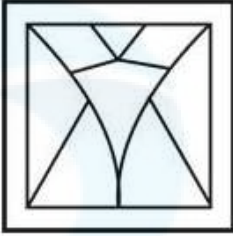
Q.5 उस विकल्प आकृति को चुनिए जिसमें दी गई आकृति (X) उसके भाग के रूप में निहित है (पूर्णन की अनुमति नहीं है)।



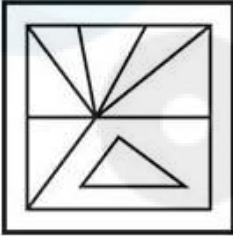
X

Ans

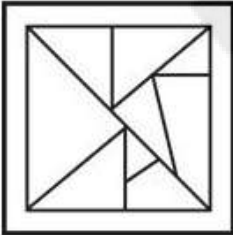
✗ 1.



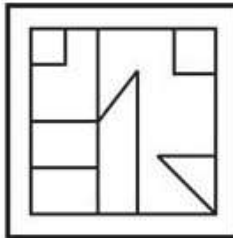
✗ 2.



✗ 3.



✓ 4.



Question Type : MCQ

Question ID : 264330133463

Option 1 ID : 264330522884

Option 2 ID : 264330522885

Option 3 ID : 264330522883

Option 4 ID : 264330522886

Status : Answered

Chosen Option : 4

Q.6 राम, श्याम, पंकज, तिलक और गौरव एक सीधी रेखा में दक्षिण की ओर मुख करके बैठे हैं। तिलक और गौरव अंतिम छोरों पर बैठे हैं। राम, गौरव के ठीक बाईं ओर और पंकज के ठीक दाईं ओर बैठा है। तिलक के ठीक दाईं ओर कौन बैठा है?

- Ans
- 1. पंकज
  - 2. राम
  - 3. श्याम
  - 4. गौरव

Question Type : MCQ

Question ID : 264330137817

Option 1 ID : 264330539876

Option 2 ID : 264330539877

Option 3 ID : 264330539875

Option 4 ID : 264330539878

Status : Answered

Chosen Option : 3

Q.7 दी गई श्रृंखला में निम्नलिखित में से कौन-सी संख्या प्रश्न चिन्ह (?) के स्थान पर आएगी?  
64, 32, 96, 48, 144, 72, 216, ?

- Ans
- 1. 104
  - 2. 112
  - 3. 108
  - 4. 114

Question Type : MCQ

Question ID : 264330137822

Option 1 ID : 264330539898

Option 2 ID : 264330539895

Option 3 ID : 264330539897

Option 4 ID : 264330539896

Status : Answered

Chosen Option : 3

Q.8 एक निश्चित कूट भाषा में, 'JACKET' को 'EAKCTJ' लिखा जाता है। उस कूट भाषा में 'BLAZER' को कैसे लिखा जाएगा?

- Ans
- 1. ELZARB
  - 2. EZLARB
  - 3. ELZRAB
  - 4. ELRABZ

Question Type : MCQ

Question ID : 264330135003

Option 1 ID : 264330528949

Option 2 ID : 264330528947

Option 3 ID : 264330528948

Option 4 ID : 264330528950

Status : Answered

Chosen Option : 1

Q.9 दी गई दो संख्याओं को आपस में बदलने पर निम्नलिखित में से कौन-सा समीकरण सही नहीं होगा?

9 और 7

I.  $7 \times 3 - 8 \div 4 + 9 = 32$

II.  $7 - 9 \times 2 + 6 \div 3 = -3$

Ans

1. केवल I

2. I और II दोनों

3. केवल II

4. न तो I और न ही II

Question Type : MCQ

Question ID : 264330138536

Option 1 ID : 264330542751

Option 2 ID : 264330542753

Option 3 ID : 264330542752

Option 4 ID : 264330542754

Status : Answered

Chosen Option : 4

Q.10 तीन कथन दिए गए हैं और दो निष्कर्ष I और II दिए गए हैं। कथनों को सत्य मानते हुए, चाहे वे सामान्यतः ज्ञात तथ्यों से अलग प्रतीत होते हों, निश्चय कीजिए कि कौन-सा निष्कर्ष तार्किक रूप से कथनों के अनुसार है।  
कथन:

कुछ तोलिये, चमकदार हैं।

कुछ चमकदार, चमकीले हैं।

सभी चमकीले, छोटे हैं।

निष्कर्ष:

I. कुछ छोटे, चमकीले हैं।

II. कुछ छोटे, चमकदार हैं।

Ans

1. सिर्फ निष्कर्ष II कथनों के अनुसार है

2. दोनों निष्कर्ष I और II कथनों के अनुसार हैं

3. निष्कर्ष I और II में से कोई भी कथनों के अनुसार नहीं है

4. सिर्फ निष्कर्ष I कथनों के अनुसार है

Question Type : MCQ

Question ID : 264330137820

Option 1 ID : 264330539888

Option 2 ID : 264330539889

Option 3 ID : 264330539890

Option 4 ID : 264330539887

Status : Answered

Chosen Option : 2

Q.11 दो कथन दिए गए हैं और दो निष्कर्ष I और II दिए गए हैं। कथनों को सत्य मानते हुए, चाहे वे सामान्यतः ज्ञात तथ्यों से अलग प्रतीत होते हों, निश्चय कीजिए कि कौन-सा निष्कर्ष तार्किक रूप से कथनों के अनुसार है।

कथन:

कुछ कार, तेज़ हैं।

कुछ तेज़, धीमे हैं।

निष्कर्ष:

I. कुछ कार, धीमी नहीं हैं।

II. कुछ धीमें, तेज़ हैं।

Ans

- ✓ 1. सिर्फ निष्कर्ष II कथनों के अनुसार है
- ✗ 2. सिर्फ निष्कर्ष I कथनों के अनुसार है
- ✗ 3. निष्कर्ष I और II में से कोई भी कथनों के अनुसार नहीं है
- ✗ 4. दोनों निष्कर्ष I और II कथनों के अनुसार हैं

Question Type : MCQ

Question ID : 264330137819

Option 1 ID : 264330539884

Option 2 ID : 264330539883

Option 3 ID : 264330539886

Option 4 ID : 264330539885

Status : Answered

Chosen Option : 1

Q.12 प्रीति, रानी, सृति, तानिया, उरुषा, और विधि एक परिधि में केंद्र की ओर मुख करके बैठी हैं। विधि, सृति के बाईं ओर से दूसरे स्थान पर बैठी है, और तानिया तथा उरुषा के बीच में बैठी है। सृति, रानी या तानिया की पड़ोसी नहीं है। प्रीति के ठीक दाईं ओर कौन बैठा है?

Ans

- ✗ 1. तानिया
- ✗ 2. सृति
- ✓ 3. रानी
- ✗ 4. विधि

Question Type : MCQ

Question ID : 264330137816

Option 1 ID : 264330539874

Option 2 ID : 264330539872

Option 3 ID : 264330539873

Option 4 ID : 264330539871

Status : Answered

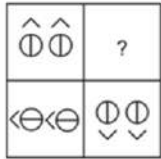
Chosen Option : 3

Q.13 एक निश्चित कूट भाषा में, 'JOURNEY' को 'EJNORUY' लिखा जाता है। उस कूट भाषा में 'MEDICAL' को कैसे लिखा जाएगा?

- Ans
- ✓ 1. ACDEILM
  - ✗ 2. ADCLEMI
  - ✗ 3. ADCLIEM
  - ✗ 4. ACDIELM

Question Type : MCQ  
 Question ID : 264330135026  
 Option 1 ID : 264330529041  
 Option 2 ID : 264330529039  
 Option 3 ID : 264330529040  
 Option 4 ID : 264330529042  
 Status : Answered  
 Chosen Option : 1

Q.14 उस विकल्प आकृति को चुनिए जो नीचे दी गई आकृति में पैटर्न को पूरा करने के लिए प्रश्न चिन्ह (?) के स्थान पर आएगी। (घूर्णन की अनुमति नहीं है)



Ans

- ✗ 1.
- ✗ 2.
- ✗ 3.
- ✓ 4.

Question Type : MCQ  
 Question ID : 264330137829  
 Option 1 ID : 264330539923  
 Option 2 ID : 264330539924  
 Option 3 ID : 264330539925  
 Option 4 ID : 264330539926  
 Status : Answered  
 Chosen Option : 4

Q.15 Select the option that is related to the third word in the same way as the second word is related to the first word.

Marry : Divorce :: Native : ?

- Ans
- 1. Hometown
  - 2. Indoor
  - 3. Foreign
  - 4. Country

Question Type : MCQ

Question ID : 264330137811

Option 1 ID : 264330539851

Option 2 ID : 264330539853

Option 3 ID : 264330539852

Option 4 ID : 264330539854

Status : Answered

Chosen Option : 4

Q.16 एक निश्चित कूट भाषा में, 'BMW' को '2546' लिखा जाता है, 'WANB' को '6751' लिखा जाता है, 'MOST' को '8249' लिखा जाता है। उस कूट भाषा में 'M' को कैसे लिखा जाएगा?

- Ans
- 1. 7
  - 2. 5
  - 3. 2
  - 4. 6

Question Type : MCQ

Question ID : 264330138587

Option 1 ID : 264330542958

Option 2 ID : 264330542957

Option 3 ID : 264330542955

Option 4 ID : 264330542956

Status : Answered

Chosen Option : 3

Q.17 दिए गए समीकरण को सही करने के लिए किन दो चिन्हों को आपस में बदला जाना चाहिए?

$$9 \div 3 + 7 = 4 - 6$$

- Ans
- 1.  $\div$  और  $-$
  - 2.  $+$  और  $-$
  - 3.  $\div$  और  $=$
  - 4.  $-$  और  $=$

Question Type : MCQ

Question ID : 264330137825

Option 1 ID : 264330539908

Option 2 ID : 264330539909

Option 3 ID : 264330539910

Option 4 ID : 264330539907

Status : Answered

Chosen Option : 4

Q.18 उस विकल्प को चुनिए जो पाँचवी संख्या से ठीक उसी प्रकार संबंधित है जिस प्रकार दूसरी संख्या पहली संख्या से संबंधित है और चौथी संख्या तीसरी संख्या से संबंधित है।

4 : 25 :: 6 : 49 :: 8 : ?

Ans  1. 81

2. 82

3. 85

4. 80

Question Type : MCQ

Question ID : 264330138512

Option 1 ID : 264330542656

Option 2 ID : 264330542657

Option 3 ID : 264330542658

Option 4 ID : 264330542655

Status : Answered

Chosen Option : 1

Q.19 उस विकल्प को चुनिए जो तीसरे अक्षर-समूह से ठीक उसी तरह संबंधित है जिस तरह दूसरा अक्षर-समूह पहले अक्षर-समूह से संबंधित है।

GR : KV :: DL : ?

Ans  1. GP

2. HS

3. HP

4. HQ

Question Type : MCQ

Question ID : 264330137810

Option 1 ID : 264330539848

Option 2 ID : 264330539850

Option 3 ID : 264330539849

Option 4 ID : 264330539847

Status : Answered

Chosen Option : 3

Q.20 दी गई श्रृंखला में निम्नलिखित में से कौन-सा अक्षर-समूह प्रश्न चिन्ह (?) के स्थान पर आएगा?  
SE, VI, YM, BQ, EU, ?

Ans  1. HY

2. JY

3. GY

4. HX

Question Type : MCQ

Question ID : 264330137808

Option 1 ID : 264330539839

Option 2 ID : 264330539840

Option 3 ID : 264330539842

Option 4 ID : 264330539841

Status : Answered

Chosen Option : 1

Q.1 अक्टूबर 2022 की स्थिति के अनुसार, उच्च न्यायालय के न्यायाधीश के रूप में नियुक्ति के लिए ऊपरी आयु सीमा क्या है?

- Ans
- ✓ 1. 62 वर्ष
  - ✗ 2. 55 वर्ष
  - ✗ 3. 57 वर्ष
  - ✗ 4. 60 वर्ष

Question Type : MCQ  
Question ID : 264330137940  
Option 1 ID : 264330540370  
Option 2 ID : 264330540367  
Option 3 ID : 264330540369  
Option 4 ID : 264330540368  
Status : Answered  
Chosen Option : 1

Q.2 भारतीय संविधान में "गणतंत्र" की अवधारणा निम्नलिखित में से किस देश के संविधान से ली गई है?

- Ans
- ✗ 1. जर्मनी
  - ✗ 2. जापान
  - ✓ 3. फ्रांस
  - ✗ 4. ऑस्ट्रेलिया

Question Type : MCQ  
Question ID : 264330137939  
Option 1 ID : 264330540364  
Option 2 ID : 264330540366  
Option 3 ID : 264330540363  
Option 4 ID : 264330540365  
Status : Answered  
Chosen Option : 3

Q.3 बांझपन निम्नलिखित में से किस विटामिन की कमी से होता है?

- Ans
- ✓ 1. E
  - ✗ 2. D
  - ✗ 3. B1
  - ✗ 4. K

Question Type : MCQ  
Question ID : 264330137925  
Option 1 ID : 264330540309  
Option 2 ID : 264330540308  
Option 3 ID : 264330540307  
Option 4 ID : 264330540310  
Status : Answered  
Chosen Option : 1

Q.4 निम्नलिखित में से कौन-सी मिशेल ओबामा (Michelle Obama) की आत्मकथा है?

Ans  1. बिकमिंग (Becoming)

2. अवर हाउस इज़ ऑन फ़ायर (Our House is on Fire)

3. मी (Me)

4. माय लाइफ़ (My Life)

Question Type : MCQ

Question ID : 264330134711

Option 1 ID : 264330527802

Option 2 ID : 264330527800

Option 3 ID : 264330527801

Option 4 ID : 264330527799

Status : Answered

Chosen Option : 1

Q.5 आज़ादी से पहले के भारत में, गरीबी रेखा की अवधारणा पर चर्चा करने वाले पहले व्यक्ति कौन थे?

Ans  1. दादाभाई नौरोजी

2. महादेव गोविंद रानाडे

3. बी.आर. अम्बेडकर

4. एम. के गांधी

Question Type : MCQ

Question ID : 264330133876

Option 1 ID : 264330524528

Option 2 ID : 264330524527

Option 3 ID : 264330524530

Option 4 ID : 264330524529

Status : Answered

Chosen Option : 1

Q.6 भारत के राष्ट्रपति द्वारा "राज्य सभा" में कितने सदस्यों को नामित किया जा सकता है?

Ans  1. 12

2. 15

3. 9

4. 6

Question Type : MCQ

Question ID : 264330138307

Option 1 ID : 264330541837

Option 2 ID : 264330541838

Option 3 ID : 264330541836

Option 4 ID : 264330541835

Status : Answered

Chosen Option : 1

Q.7 चीनी को अल्कोहल में बदलने की प्रक्रिया को \_\_\_\_\_ के रूप में जाना जाता है।

- Ans
- 1. अनाच्छादन (Denudation)
  - 2. अंतःस्यंदन (Infiltration)
  - 3. किण्वन (Fermentation)
  - 4. विखंडन (Fragmentation)

Question Type : MCQ  
Question ID : 264330138285  
Option 1 ID : 264330541750  
Option 2 ID : 264330541749  
Option 3 ID : 264330541747  
Option 4 ID : 264330541748  
Status : Answered  
Chosen Option : 3

Q.8 निम्नलिखित लोक नृत्यों में से कौन-सा राजस्थान से संबंधित है?

- Ans
- 1. रऊफ (Rouf)
  - 2. लावणी
  - 3. कालबेलिया
  - 4. बिहु

Question Type : MCQ  
Question ID : 264330137921  
Option 1 ID : 264330540294  
Option 2 ID : 264330540292  
Option 3 ID : 264330540293  
Option 4 ID : 264330540291  
Status : Answered  
Chosen Option : 3

Q.9 निम्नलिखित में से कौन 'पंडित बिरजू महाराज' की एक शिष्या थीं जिन्हें वर्ष 1992 में 'पद्म श्री' और वर्ष 1999-2000 में 'संगीत नाटक अकादमी पुरस्कार' से सम्मानित किया गया था?

- Ans
- 1. मृणालिनी साराभाई
  - 2. यामिनी कृष्णमूर्ति (Yamini Krishnamurthy)
  - 3. शोवना नारायण
  - 4. कलामंडलम कल्याणिकुट्टी अम्मा (Kalamandalam Kalyanikutty Amma)

Question Type : MCQ  
Question ID : 264330134713  
Option 1 ID : 264330527809  
Option 2 ID : 264330527807  
Option 3 ID : 264330527810  
Option 4 ID : 264330527808  
Status : Answered  
Chosen Option : 3

Q.10 एशियाई खेल 2022 किस देश में आयोजित किए गए थे?

- Ans
- 1. सिंगापुर
  - 2. भारत
  - 3. चीन
  - 4. जापान

Question Type : MCQ  
Question ID : 264330138275  
Option 1 ID : 264330541710  
Option 2 ID : 264330541707  
Option 3 ID : 264330541709  
Option 4 ID : 264330541708  
Status : Answered  
Chosen Option : 3

Q.11 निम्नलिखित में से कौन-सा त्योहार केरल में मनाया जाता है?

- Ans
- 1. बैसाखी (Baisakhi)
  - 2. विशु (Vishu)
  - 3. अंबुबाची (Ambubachi)
  - 4. बोनालु (Bonalu)

Question Type : MCQ  
Question ID : 264330133909  
Option 1 ID : 264330524662  
Option 2 ID : 264330524661  
Option 3 ID : 264330524660  
Option 4 ID : 264330524659  
Status : Answered  
Chosen Option : 2

Q.12 \_\_\_\_\_ अलकनंदा और धौलीगंगा नदी के संगम का स्थान है।

- Ans
- 1. नंदप्रयाग
  - 2. विष्णुप्रयाग
  - 3. कर्णप्रयाग
  - 4. रुद्रप्रयाग

Question Type : MCQ  
Question ID : 264330137929  
Option 1 ID : 264330540324  
Option 2 ID : 264330540323  
Option 3 ID : 264330540325  
Option 4 ID : 264330540326  
Status : Answered  
Chosen Option : 1

Q.13 अखिल भारतीय मुस्लिम लीग की स्थापना किस वर्ष हुई थी?

- Ans
- 1. 1885
  - 2. 1906
  - 3. 1920
  - 4. 1911

Question Type : MCQ  
Question ID : 264330133922  
Option 1 ID : 264330524711  
Option 2 ID : 264330524712  
Option 3 ID : 264330524714  
Option 4 ID : 264330524713  
Status : Answered  
Chosen Option : 3

Q.14 \_\_\_\_\_ राज्य सरकार ने नवंबर 2022 में "प्रौद्योगिकी हस्तांतरण योजना (Technology Transfer Scheme)" की शुरुआत की है।

- Ans
- 1. आंध्रप्रदेश
  - 2. तमिलनाडु
  - 3. केरल
  - 4. कर्नाटक

Question Type : MCQ  
Question ID : 264330137919  
Option 1 ID : 264330540285  
Option 2 ID : 264330540286  
Option 3 ID : 264330540283  
Option 4 ID : 264330540284  
Status : Not Answered  
Chosen Option : --

Q.15 मध्यम अवधि में अर्थव्यवस्था में तरलता को प्रभावित करने के उद्देश्य से आरबीआई (RBI) द्वारा खुले बाजार में सरकारी प्रतिभूतियों की बिक्री और खरीद \_\_\_\_\_ कहलाती है।

- Ans
- 1. तरलता समायोजन सुविधा (Liquidity Adjustment Facility)
  - 2. सीमांत स्थायी सुविधा (Marginal Standing Facility)
  - 3. क्रेडिट की उच्चतम सीमा (Credit Ceiling)
  - 4. खुला बाजार परिचालन (Open Market Operations)

Question Type : MCQ  
Question ID : 264330134718  
Option 1 ID : 264330527830  
Option 2 ID : 264330527827  
Option 3 ID : 264330527829  
Option 4 ID : 264330527828  
Status : Answered  
Chosen Option : 1

Q.16 निम्नलिखित में से कौन-सा आधुनिक भारतीय भाषाओं के वर्गीकरण में एक परिवार नहीं है?

- Ans
- 1. चीन - तिब्बती (Sino - Tibetan)
  - 2. भारतीय - यूरोपीय (Indo - European)
  - 3. भारतीय-अफ्रीकी (Indo - African)
  - 4. द्रविड़ (Dravidian)

Question Type : MCQ  
Question ID : 264330138340  
Option 1 ID : 264330541968  
Option 2 ID : 264330541967  
Option 3 ID : 264330541970  
Option 4 ID : 264330541969  
Status : Answered  
Chosen Option : 4

Q.17 निम्नलिखित में से किस राज्य ने ट्रेक एशिया कप 2022 साइकिलिंग टूर्नामेंट (Track Asia Cup 2022 Cycling Tournament) की मेजबानी की थी?

- Ans
- 1. केरल
  - 2. महाराष्ट्र
  - 3. कर्नाटक
  - 4. पश्चिम बंगाल

Question Type : MCQ  
Question ID : 264330137941  
Option 1 ID : 264330540371  
Option 2 ID : 264330540374  
Option 3 ID : 264330540372  
Option 4 ID : 264330540373  
Status : Not Answered  
Chosen Option : --

Q.18 संयुक्त राष्ट्र द्वारा पीने, धुलाई करने, खाना पकाने और उचित स्वच्छता बनाए रखने के लिए आवश्यक न्यूनतम पानी की मात्रा, प्रति व्यक्ति प्रति दिन \_\_\_\_\_ लीटर अनुशंसित की गई है।

- Ans
- 1. 40
  - 2. 60
  - 3. 50
  - 4. 70

Question Type : MCQ  
Question ID : 264330138286  
Option 1 ID : 264330541751  
Option 2 ID : 264330541753  
Option 3 ID : 264330541752  
Option 4 ID : 264330541754  
Status : Answered  
Chosen Option : 3

Q.19 भारत में पहली भूमिगत रेलवे कहाँ शुरू की गई थी?

- Ans
- 1. कोलकाता
  - 2. मुंबई
  - 3. पुणे
  - 4. चेन्नई

Question Type : MCQ  
Question ID : 264330134703  
Option 1 ID : 264330527770  
Option 2 ID : 264330527769  
Option 3 ID : 264330527768  
Option 4 ID : 264330527767  
Status : Answered  
Chosen Option : 1

Q.20 तंजावुर में बृहदेश्वर मंदिर का निर्माण \_\_\_\_\_ ने करवाया था।

- Ans
- 1. राजेंद्र प्रथम
  - 2. विजयालय
  - 3. राजराज प्रथम
  - 4. आदित्य प्रथम

Question Type : MCQ  
Question ID : 264330138298  
Option 1 ID : 264330541800  
Option 2 ID : 264330541801  
Option 3 ID : 264330541799  
Option 4 ID : 264330541802  
Status : Answered  
Chosen Option : 1

Q.21 Materials that allow electric current to pass through them are called \_\_\_\_\_.

- Ans
- 1. alternator
  - 2. conductors
  - 3. insulators
  - 4. capacitor

Question Type : MCQ  
Question ID : 264330138287  
Option 1 ID : 264330541757  
Option 2 ID : 264330541755  
Option 3 ID : 264330541756  
Option 4 ID : 264330541758  
Status : Answered  
Chosen Option : 2

Q.22 ईरान के शासक नादिरशाह ने \_\_\_\_\_ में दिल्ली शहर को लूटा।

- Ans
- ✓ 1. 1739
  - ✗ 2. 1761
  - ✗ 3. 1771
  - ✗ 4. 1748

Question Type : MCQ  
Question ID : 264330138293  
Option 1 ID : 264330541779  
Option 2 ID : 264330541781  
Option 3 ID : 264330541782  
Option 4 ID : 264330541780  
Status : Answered  
Chosen Option : 1

Q.23 उस्ताद अमजद अली खान का संबंध निम्नलिखित में से किस वाद्य यंत्र से है?

- Ans
- ✓ 1. सरोद
  - ✗ 2. सितार
  - ✗ 3. सारंगी
  - ✗ 4. वीणा

Question Type : MCQ  
Question ID : 264330137937  
Option 1 ID : 264330540355  
Option 2 ID : 264330540357  
Option 3 ID : 264330540358  
Option 4 ID : 264330540356  
Status : Answered  
Chosen Option : 1

Q.24 2022 तक, कौन-सा भारतीय राज्य बांग्लादेश के साथ सीमा साझा नहीं करता है?

- Ans
- ✗ 1. मेघालय
  - ✓ 2. बिहार
  - ✗ 3. पश्चिम बंगाल
  - ✗ 4. मिजोरम

Question Type : MCQ  
Question ID : 264330133919  
Option 1 ID : 264330524702  
Option 2 ID : 264330524699  
Option 3 ID : 264330524701  
Option 4 ID : 264330524700  
Status : Answered  
Chosen Option : 2

Q.25 सहायक संधि नामक प्रणाली को वर्ष 1798 में \_\_\_\_\_ ने तैयार किया था।

- Ans
- ✓ 1. लॉर्ड वेलेज़ली (Lord Wellesley)
  - ✗ 2. लॉर्ड बेंटिक (Lord Bentick)
  - ✗ 3. लॉर्ड हेस्टिंग्स (Lord Hastings)
  - ✗ 4. लॉर्ड डलहौज़ी (Lord Dalhousie)

Question Type : MCQ  
Question ID : 264330138319  
Option 1 ID : 264330541883  
Option 2 ID : 264330541886  
Option 3 ID : 264330541885  
Option 4 ID : 264330541884  
Status : Answered  
Chosen Option : 1

Section : English Language and Comprehension

Q.1 Select the word segment that substitutes (replaces) the bracketed word segment correctly and completes the sentence meaningfully. Select the option 'no correction required' if the sentence is correct as given.

It was a (easement to be far away) from that malicious old labyrinth with its stares and gossip.

- Ans
- ✗ 1. help to be away
  - ✓ 2. relief to be away
  - ✗ 3. No correction required
  - ✗ 4. rest to be far

Question Type : MCQ  
Question ID : 264330136389  
Option 1 ID : 264330534323  
Option 2 ID : 264330534324  
Option 3 ID : 264330534326  
Option 4 ID : 264330534325  
Status : Answered  
Chosen Option : 2

Q.2 Identify the segment that contains a grammatical error. If there is no error, select 'No error'.

None of them, apart from Rohan / and Shilpa, had heard Mohan talk / about what happens that night.

- Ans
- ✓ 1. about what happens that night.
  - ✗ 2. and Shilpa, had heard Mohan talk
  - ✗ 3. No error
  - ✗ 4. None of them, apart from Rohan

Question Type : MCQ  
Question ID : 264330136691  
Option 1 ID : 264330535481  
Option 2 ID : 264330535480  
Option 3 ID : 264330535482  
Option 4 ID : 264330535479  
Status : Answered  
Chosen Option : 1

**Q.3** Select the most appropriate antonym to substitute the bracketed word in the given sentence.

There is an unhealthy tendency to (subjugate) films to the dictates of raising public awareness.

- Ans**
- 1. Colonize
  - 2. Liberate
  - 3. Modest
  - 4. Vanquish

Question Type : **MCQ**  
Question ID : **264330136310**  
Option 1 ID : **264330534018**  
Option 2 ID : **264330534016**  
Option 3 ID : **264330534015**  
Option 4 ID : **264330534017**  
Status : **Answered**  
Chosen Option : **2**

**Q.4** Improve the underlined part of the sentence. Choose 'No improvement' as an answer if the sentence is grammatically correct.

I like to hang my laundry outside in the suns to dry.

- Ans**
- 1. sun to dries
  - 2. No improvement
  - 3. sun to dry
  - 4. sun to dried

Question Type : **MCQ**  
Question ID : **264330134801**  
Option 1 ID : **264330528149**  
Option 2 ID : **264330528150**  
Option 3 ID : **264330528148**  
Option 4 ID : **264330528147**  
Status : **Answered**  
Chosen Option : **3**

**Q.5** Select the correctly spelt word.

- Ans**
- 1. Purpos
  - 2. Porpos
  - 3. Purpose
  - 4. Propuse

Question Type : **MCQ**  
Question ID : **264330136313**  
Option 1 ID : **264330534030**  
Option 2 ID : **264330534029**  
Option 3 ID : **264330534027**  
Option 4 ID : **264330534028**  
Status : **Answered**  
Chosen Option : **3**

Q.6 Select the most appropriate meaning of the given idiom.

A broth of a boy

- Ans
- 1. A lively, energetic young person
  - 2. To behave foolishly
  - 3. To have specific food choices
  - 4. Not attached to someone

Question Type : **MCQ**  
Question ID : **264330136659**  
Option 1 ID : **264330535358**  
Option 2 ID : **264330535355**  
Option 3 ID : **264330535356**  
Option 4 ID : **264330535357**  
Status : **Not Answered**  
Chosen Option : --

Q.7 Select the most appropriate synonym of the given word.

Disdain

- Ans
- 1. Withdraw
  - 2. Admiration
  - 3. Contempt
  - 4. Acceptance

Question Type : **MCQ**  
Question ID : **264330136307**  
Option 1 ID : **264330534003**  
Option 2 ID : **264330534005**  
Option 3 ID : **264330534006**  
Option 4 ID : **264330534004**  
Status : **Answered**  
Chosen Option : **3**

Q.8 Select the most appropriate antonym of the given word.

Misdemeanour

- Ans
- 1. Offence
  - 2. Obedience
  - 3. Gullible
  - 4. Amalgamation

Question Type : **MCQ**  
Question ID : **264330136683**  
Option 1 ID : **264330535448**  
Option 2 ID : **264330535449**  
Option 3 ID : **264330535447**  
Option 4 ID : **264330535450**  
Status : **Answered**  
Chosen Option : **1**

**Q.9 Choose the sentence with no spelling error.**

- Ans
- 1. I am willing to consider the possibility.
  - 2. I am willing to consider the possibility
  - 3. I am wiling to consider the possibility
  - 4. I am willing to considerr the possibility

Question Type : **MCQ**  
Question ID : **264330134395**  
Option 1 ID : **264330526559**  
Option 2 ID : **264330526560**  
Option 3 ID : **264330526561**  
Option 4 ID : **264330526562**  
Status : **Answered**  
Chosen Option : **2**

**Q.10 Select the most appropriate option to fill in the blank.**

I think he is a worthy \_\_\_\_\_ of the policy and a worthy adversary for the press.

- Ans
- 1. reciprocate
  - 2. educate
  - 3. placate
  - 4. advocate

Question Type : **MCQ**  
Question ID : **264330136297**  
Option 1 ID : **264330533970**  
Option 2 ID : **264330533969**  
Option 3 ID : **264330533968**  
Option 4 ID : **264330533967**  
Status : **Answered**  
Chosen Option : **4**

**Q.11 Select the most appropriate meaning of the bracketed idiom in the given sentence.**

Let the bully have (a taste of his own medicine).

- Ans
- 1. When you are mistreated the same way you mistreat others
  - 2. A result that is still unclear and can go either way
  - 3. A dangerous person pretending harmless
  - 4. A visual presentation is far more descriptive than words

Question Type : **MCQ**  
Question ID : **264330136312**  
Option 1 ID : **264330534026**  
Option 2 ID : **264330534024**  
Option 3 ID : **264330534023**  
Option 4 ID : **264330534025**  
Status : **Answered**  
Chosen Option : **1**

**Q.12** Identify the segment that contains a grammatical error. If there is no error, select 'No error'

In practice rounds, my caddie, Greg, / and me works on my short/ game with a baseball glove.

- Ans**
- 1. and me works on my short
  - 2. game with a baseball glove.
  - 3. No error
  - 4. In practice rounds, my caddie, Greg,

Question Type : **MCQ**  
Question ID : **264330136293**  
Option 1 ID : **264330533952**  
Option 2 ID : **264330533953**  
Option 3 ID : **264330533954**  
Option 4 ID : **264330533951**  
Status : **Answered**  
Chosen Option : **1**

**Q.13** Find the part of the given sentence that has an error in it. If there is no error, choose 'No error'.

Disease-carrying parasites is not picky about hosts.

- Ans**
- 1. about hosts.
  - 2. No error
  - 3. Disease-carrying parasites
  - 4. is not picky

Question Type : **MCQ**  
Question ID : **264330135205**  
Option 1 ID : **264330529749**  
Option 2 ID : **264330529750**  
Option 3 ID : **264330529747**  
Option 4 ID : **264330529748**  
Status : **Answered**  
Chosen Option : **3**

**Q.14** Select the most appropriate option to fill in the blank.

At times he acted as viceroy in William's absence; at times he led the royal forces to \_\_\_\_\_ rebellions.

- Ans**
- 1. scrutinize
  - 2. baptise
  - 3. chastise
  - 4. compromise

Question Type : **MCQ**  
Question ID : **264330136316**  
Option 1 ID : **264330534039**  
Option 2 ID : **264330534040**  
Option 3 ID : **264330534041**  
Option 4 ID : **264330534042**  
Status : **Answered**  
Chosen Option : **2**

**Q.15** Select the most appropriate option to fill in the blank.  
Different cells express different proteins depending on which promoters are either active or \_\_\_\_\_.

- Ans  1. dormant  
 2. lazy  
 3. effectual  
 4. productive

Question Type : **MCQ**  
Question ID : **264330134396**  
Option 1 ID : **264330526564**  
Option 2 ID : **264330526565**  
Option 3 ID : **264330526563**  
Option 4 ID : **264330526566**  
Status : **Answered**  
Chosen Option : **1**

**Q.16** A sentence has been given with a blank to be filled with an appropriate option. Choose the correct alternative.  
These were two Indian men who \_\_\_\_\_ hiding in the forest.

- Ans  1. has been  
 2. had been  
 3. have being  
 4. was

Question Type : **MCQ**  
Question ID : **264330134379**  
Option 1 ID : **264330526499**  
Option 2 ID : **264330526502**  
Option 3 ID : **264330526501**  
Option 4 ID : **264330526500**  
Status : **Answered**  
Chosen Option : **2**

**Q.17** Choose the word that means the same as the given word.  
**Assail**

- Ans  1. Attack  
 2. Perform  
 3. Systematic  
 4. Shield

Question Type : **MCQ**  
Question ID : **264330134415**  
Option 1 ID : **264330526636**  
Option 2 ID : **264330526638**  
Option 3 ID : **264330526635**  
Option 4 ID : **264330526637**  
Status : **Answered**  
Chosen Option : **1**

Q.18 Select the most appropriate word for the given group of words.

Killing of one person by another

- Ans
- 1. Genocide
  - 2. Filicide
  - 3. Homicide
  - 4. Fratricide

Question Type : MCQ  
Question ID : 264330136306  
Option 1 ID : 264330534000  
Option 2 ID : 264330534001  
Option 3 ID : 264330533999  
Option 4 ID : 264330534002  
Status : Answered  
Chosen Option : 3

Q.19 Select the most appropriate word for the given group of words.

A place where snakes are kept

- Ans
- 1. Hive
  - 2. Aviary
  - 3. Apiary
  - 4. Serpentarium

Question Type : MCQ  
Question ID : 264330136653  
Option 1 ID : 264330535334  
Option 2 ID : 264330535333  
Option 3 ID : 264330535332  
Option 4 ID : 264330535331  
Status : Answered  
Chosen Option : 4

Q.20 Select the word segment that substitutes (replaces) the bracketed word segment correctly and completes the sentence meaningfully. Select the option 'no correction required' if the sentence is correct as given.  
He looked around for Bunty or Vinay, (but either off) them were anywhere near him.

- Ans
- 1. No correction required
  - 2. because either of
  - 3. but neither of
  - 4. moreover neither of

Question Type : MCQ  
Question ID : 264330136694  
Option 1 ID : 264330535494  
Option 2 ID : 264330535493  
Option 3 ID : 264330535492  
Option 4 ID : 264330535491  
Status : Answered  
Chosen Option : 3

**Comprehension:**

In the following passage some words have been deleted. Fill in the blanks with the help of the alternatives given. Select the most appropriate option for each number.

English Ivy (1) \_\_\_\_\_ its poor reputation as a nuisance by its unparalleled ability to provide shade. By seamlessly covering the exterior of a building, it works as a natural (2) \_\_\_\_\_, blocking the sun and decreasing air conditioning costs. This means big savings for both building tenants and homeowners (3) \_\_\_\_\_. And it can happen quickly, too. Under the proper conditions, established English Ivy can grow to cover (4) \_\_\_\_\_ of roughly 500 square feet per year. Given that most homes have a roof measuring roughly 2000 square feet, ivy-friendly homeowners can rest assured that their roofs will be (5) \_\_\_\_\_ covered in about four years.

**SubQuestion No : 21**

**Q.21** Select the most appropriate option to fill in blank number 1.

- Ans**
- 1. betrays
  - 2. punishes
  - 3. follows
  - 4. portrays

Question Type : **MCQ**  
Question ID : **264330136674**  
Option 1 ID : **264330535412**  
Option 2 ID : **264330535413**  
Option 3 ID : **264330535414**  
Option 4 ID : **264330535411**  
Status : **Answered**  
Chosen Option : **3**

**Comprehension:**

In the following passage some words have been deleted. Fill in the blanks with the help of the alternatives given. Select the most appropriate option for each number.

English Ivy (1) \_\_\_\_\_ its poor reputation as a nuisance by its unparalleled ability to provide shade. By seamlessly covering the exterior of a building, it works as a natural (2) \_\_\_\_\_, blocking the sun and decreasing air conditioning costs. This means big savings for both building tenants and homeowners (3) \_\_\_\_\_. And it can happen quickly, too. Under the proper conditions, established English Ivy can grow to cover (4) \_\_\_\_\_ of roughly 500 square feet per year. Given that most homes have a roof measuring roughly 2000 square feet, ivy-friendly homeowners can rest assured that their roofs will be (5) \_\_\_\_\_ covered in about four years.

**SubQuestion No : 22**

**Q.22** Select the most appropriate option to fill in blank number 2.

- Ans**
- 1. postulator
  - 2. regulator
  - 3. insulator
  - 4. modulator

Question Type : **MCQ**  
Question ID : **264330136675**  
Option 1 ID : **264330535417**  
Option 2 ID : **264330535418**  
Option 3 ID : **264330535415**  
Option 4 ID : **264330535416**  
Status : **Answered**  
Chosen Option : **3**

**Comprehension:**

In the following passage some words have been deleted. Fill in the blanks with the help of the alternatives given. Select the most appropriate option for each number.

English Ivy (1) \_\_\_\_\_ its poor reputation as a nuisance by its unparalleled ability to provide shade. By seamlessly covering the exterior of a building, it works as a natural (2) \_\_\_\_\_, blocking the sun and decreasing air conditioning costs. This means big savings for both building tenants and homeowners (3) \_\_\_\_\_. And it can happen quickly, too. Under the proper conditions, established English Ivy can grow to cover (4) \_\_\_\_\_ of roughly 500 square feet per year. Given that most homes have a roof measuring roughly 2000 square feet, ivy-friendly homeowners can rest assured that their roofs will be (5) \_\_\_\_\_ covered in about four years.

**SubQuestion No : 23**

**Q.23** Select the most appropriate option to fill in blank number 3.

- Ans**
- 1. alike
  - 2. dislike
  - 3. likely
  - 4. unlike

Question Type : **MCQ**  
Question ID : **264330136676**  
Option 1 ID : **264330535421**  
Option 2 ID : **264330535420**  
Option 3 ID : **264330535419**  
Option 4 ID : **264330535422**  
Status : **Answered**  
Chosen Option : **2**

**Comprehension:**

In the following passage some words have been deleted. Fill in the blanks with the help of the alternatives given. Select the most appropriate option for each number.

English Ivy (1) \_\_\_\_\_ its poor reputation as a nuisance by its unparalleled ability to provide shade. By seamlessly covering the exterior of a building, it works as a natural (2) \_\_\_\_\_, blocking the sun and decreasing air conditioning costs. This means big savings for both building tenants and homeowners (3) \_\_\_\_\_. And it can happen quickly, too. Under the proper conditions, established English Ivy can grow to cover (4) \_\_\_\_\_ of roughly 500 square feet per year. Given that most homes have a roof measuring roughly 2000 square feet, ivy-friendly homeowners can rest assured that their roofs will be (5) \_\_\_\_\_ covered in about four years.

**SubQuestion No : 24**

**Q.24** Select the most appropriate option to fill in blank number 4.

- Ans**
- 1. a surface
  - 2. an area
  - 3. a wall
  - 4. a lake

Question Type : **MCQ**  
Question ID : **264330136677**  
Option 1 ID : **264330535423**  
Option 2 ID : **264330535426**  
Option 3 ID : **264330535425**  
Option 4 ID : **264330535424**  
Status : **Answered**  
Chosen Option : **2**

**Comprehension:**

In the following passage some words have been deleted. Fill in the blanks with the help of the alternatives given. Select the most appropriate option for each number.

English Ivy (1) \_\_\_\_\_ its poor reputation as a nuisance by its unparalleled ability to provide shade. By seamlessly covering the exterior of a building, it works as a natural (2) \_\_\_\_\_, blocking the sun and decreasing air conditioning costs. This means big savings for both building tenants and homeowners (3) \_\_\_\_\_. And it can happen quickly, too. Under the proper conditions, established English Ivy can grow to cover (4) \_\_\_\_\_ of roughly 500 square feet per year. Given that most homes have a roof measuring roughly 2000 square feet, ivy-friendly homeowners can rest assured that their roofs will be (5) \_\_\_\_\_ covered in about four years.

**SubQuestion No : 25**

**Q.25** Select the most appropriate option to fill in blank number 5.

- Ans**
- 1. repletely
  - 2. completely
  - 3. incompletely
  - 4. obsoletely

Question Type : **MCQ**

Question ID : **264330136678**

Option 1 ID : **264330535429**

Option 2 ID : **264330535427**

Option 3 ID : **264330535430**

Option 4 ID : **264330535428**

Status : **Answered**

Chosen Option : **2**