

Multi Tasking Non Technical Staff and Havaldar CBIC and CBN Examination 2022

Roll Number	
Candidate Name	
Venue Name	R K Digital Computer Centre 1
Exam Date	20/06/2023
Exam Time	9:00 AM - 10:30 AM
Subject	MTS Non Tech Havaldar CBIC and CBN Examination 2022

Section : Numerical and Mathematical Ability

Q.1 एक निश्चित राशि पर चौथे वर्ष के लिए चक्रवृद्धि ब्याज (वार्षिक रूप से संयोजित) Rs. 15000 है और छठे वर्ष के लिए चक्रवृद्धि ब्याज (वार्षिक रूप से संयोजित) Rs. 25350 है। वार्षिक ब्याज दर क्या है?

- Ans
- 1. 25 प्रतिशत
 - 2. 35 प्रतिशत
 - 3. 40 प्रतिशत
 - 4. 30 प्रतिशत

Question Type : MCQ
Question ID : 264330140642
Option 1 ID : 264330550916
Option 2 ID : 264330550917
Option 3 ID : 264330550918
Option 4 ID : 264330550915
Status : Answered
Chosen Option : 4

Q.2 8 महिलाएँ एक कार्य को 15 दिनों में पूरा कर सकती हैं। यदि 2 महिलाओं को काम पर लगाया जाए, तो कार्य कितने दिनों में पूरा होगा?

- Ans
- 1. 44 दिनों में
 - 2. 60 दिनों में
 - 3. 64 दिनों में
 - 4. 80 दिनों में

Question Type : MCQ
Question ID : 264330140239
Option 1 ID : 264330549336
Option 2 ID : 264330549335
Option 3 ID : 264330549338
Option 4 ID : 264330549337
Status : Answered
Chosen Option : 2

Q.3 एक आदमी ने प्रत्येक Rs. 6075000 के मूल्य पर दो फ्लैट खरीदे। उसने एक फ्लैट 10% लाभ पर और दूसरा 15% हानि पर बेचा। कुल मिलाकर उसे कितने प्रतिशत लाभ या हानि हुई?

- Ans
- 1. 5% हानि
 - 2. 2.5% हानि
 - 3. 3% लाभ
 - 4. 5% लाभ

Question Type : MCQ

Question ID : 264330140827

Option 1 ID : 264330551657

Option 2 ID : 264330551656

Option 3 ID : 264330551658

Option 4 ID : 264330551655

Status : Answered

Chosen Option : 2

Q.4 एक व्यक्ति साधारण ब्याज पर 8 प्रतिशत वार्षिक दर पर एक निश्चित राशि ऋण पर देता है और 9 वर्षों में प्राप्त ब्याज ऋण पर दी गई राशि से Rs. 560 कम है। ऋण पर दी गई राशि कितनी है?

- Ans
- 1. Rs. 1120
 - 2. Rs. 560
 - 3. Rs. 1000
 - 4. Rs. 2000

Question Type : MCQ

Question ID : 264330140593

Option 1 ID : 264330550723

Option 2 ID : 264330550726

Option 3 ID : 264330550724

Option 4 ID : 264330550725

Status : Answered

Chosen Option : 1

Q.5 पात्र I और पात्र II में दूध और पानी का अनुपात क्रमशः 4:5 और 8:3 है। पात्र I और पात्र II के मिश्रण को किस अनुपात में मिलाया जाए जिससे प्राप्त होने वाले नए मिश्रण में दूध और पानी का अनुपात 9 : 11 हो?

- Ans
- 1. 519 : 11
 - 2. 47 : 121
 - 3. 549 : 11
 - 4. 49 : 121

Question Type : MCQ

Question ID : 264330139597

Option 1 ID : 264330546804

Option 2 ID : 264330546806

Option 3 ID : 264330546803

Option 4 ID : 264330546805

Status : Answered

Chosen Option : 3

Q.6 एक घनाभ की लंबाई उसकी चौड़ाई की आधी है और घनाभ की ऊँचाई उसकी चौड़ाई की तीन गुनी है। यदि घनाभ की चौड़ाई 12 cm है, तो घनाभ का कुल पृष्ठीय क्षेत्रफल कितना है?

- Ans
- 1. 1560 cm²
 - 2. 1440 cm²
 - 3. 1320 cm²
 - 4. 1680 cm²

Question Type : MCQ

Question ID : 264330139641

Option 1 ID : 264330546980

Option 2 ID : 264330546982

Option 3 ID : 264330546979

Option 4 ID : 264330546981

Status : Answered

Chosen Option : 3

Q.7 $\frac{44-13+17-21+45-24}{12 \div 4 - 3 \times 4 - 6 \times 2}$ का मान क्या है?

- Ans
- 1. 1
 - 2. 2
 - 3. -1
 - 4. -2

Question Type : MCQ

Question ID : 264330139644

Option 1 ID : 264330546993

Option 2 ID : 264330546992

Option 3 ID : 264330546994

Option 4 ID : 264330546991

Status : Answered

Chosen Option : 2

Q.8 वह सबसे छोटी संख्या कौनसी है जिसे 8, 10, 12 और 18 से भाग देने पर प्रत्येक स्थिति में शेषफल 5 प्राप्त होता है?

- Ans
- 1. 365
 - 2. 408
 - 3. 371
 - 4. 397

Question Type : MCQ

Question ID : 264330139603

Option 1 ID : 264330546829

Option 2 ID : 264330546828

Option 3 ID : 264330546827

Option 4 ID : 264330546830

Status : Answered

Chosen Option : 1

Q.9 यदि $A : B : C = 2 : 3 : 5$ है, तो $(A + B) : (B + C) : (C + A)$ का मान क्या है?

- Ans
- 1. 8 : 15 : 14
 - 2. 9 : 10 : 12
 - 3. 6 : 9 : 14
 - 4. 5 : 8 : 7

Question Type : MCQ

Question ID : 264330140161

Option 1 ID : 264330549026

Option 2 ID : 264330549025

Option 3 ID : 264330549024

Option 4 ID : 264330549023

Status : Answered

Chosen Option : 4

Q.10 $\left[\frac{1}{5} + \left\{ \frac{1}{6} \text{ of } \left(\frac{42}{35} \div \frac{6}{25} \right) - \left(\frac{2}{7} \times \frac{6}{5} \div \frac{18}{42} \right) \right\} + \frac{19}{30} \right]$ का मान क्या है?

- Ans
- 1. 14/15
 - 2. 11/15
 - 3. 17/15
 - 4. 13/15

Question Type : MCQ

Question ID : 264330139908

Option 1 ID : 264330548011

Option 2 ID : 264330548012

Option 3 ID : 264330548013

Option 4 ID : 264330548014

Status : Answered

Chosen Option : 4

Q.11 सपना ने एक सेल में Rs. 573.18 की एक किताब खरीदी, उसे एमआरपी (MRP) पर 18% का बड़ा मिला। किताब की एमआरपी क्या है?

- Ans
- 1. Rs. 749
 - 2. Rs. 649
 - 3. Rs. 799
 - 4. Rs. 699

Question Type : MCQ

Question ID : 264330140829

Option 1 ID : 264330551666

Option 2 ID : 264330551664

Option 3 ID : 264330551663

Option 4 ID : 264330551665

Status : Answered

Chosen Option : 1

Q.12 लड़कों के एक समूह का औसत भार 42 kg है। 48 kg भार वाला एक लड़का समूह से बाहर हो जाता है और 38 kg भार वाला एक दूसरा लड़का समूह में शामिल हो जाता है। यदि अब समूह का औसत 41 kg हो जाता है, तो समूह में कितने लड़के हैं?

- Ans
- 1. 6
 - 2. 10
 - 3. 12
 - 4. 8

Question Type : MCQ

Question ID : 264330139632

Option 1 ID : 264330546946

Option 2 ID : 264330546944

Option 3 ID : 264330546945

Option 4 ID : 264330546943

Status : Answered

Chosen Option : 2

Q.13 एक आयताकार मेज के शीर्ष का परिमाण 56 मीटर है और इसका क्षेत्रफल 192 metre² है। इसके विकर्ण की लंबाई कितनी है?

- Ans
- 1. 22 मीटर
 - 2. 16 मीटर
 - 3. 20 मीटर
 - 4. 18 मीटर

Question Type : MCQ

Question ID : 264330139945

Option 1 ID : 264330548159

Option 2 ID : 264330548161

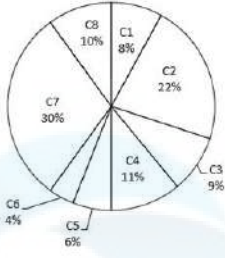
Option 3 ID : 264330548162

Option 4 ID : 264330548160

Status : Answered

Chosen Option : 2

Q.14 नीचे दिए गए वृत्त आलेख में 8 अलग-अलग कंपनियों द्वारा बेची गई कारों की संख्या को दर्शाया गया है। इन सभी 8 कंपनियों द्वारा बेची गई कारों की कुल संख्या 2,000 है। इसमें से किसी एक विशेष कंपनी द्वारा बेची गई कारों की संख्या को इन सभी 8 कंपनियों द्वारा बेची गई कारों की कुल संख्या के प्रतिशत के रूप में दर्शाया गया है।



C1 और C2 द्वारा बेची गई कारों की औसत संख्या, C7 और C8 द्वारा बेची गई कारों की औसत संख्या से कितने प्रतिशत कम है?

- Ans**
- ✓ 1. 25 प्रतिशत
 - ✗ 2. 33.33 प्रतिशत
 - ✗ 3. 66.66 प्रतिशत
 - ✗ 4. 16.66 प्रतिशत

Question Type : MCQ

Question ID : 264330139950

Option 1 ID : 264330548179

Option 2 ID : 264330548182

Option 3 ID : 264330548181

Option 4 ID : 264330548180

Status : Answered

Chosen Option : 1

Q.15 सूरज दोपहर 2 बजे बिंदु Q से अपनी यात्रा शुरू करता है। वह यात्रा के पहले तीन घंटों के लिए 40 km/hr की चाल से कार चलाता है और शेष यात्रा 30 km/hr की चाल से पूरी करता है। यदि राहुल बिंदु Q से 80 km/hr की चाल से शाम 6 बजे सूरज की ओर बढ़ना शुरू करता है, तो वह कितने बजे तक सूरज के पास पहुँच जाएगा?

- Ans**
- ✗ 1. रात 9 : 15 बजे
 - ✓ 2. रात 9 : 00 बजे
 - ✗ 3. रात 10 : 06 बजे
 - ✗ 4. रात 9 : 36 बजे

Question Type : MCQ

Question ID : 264330140195

Option 1 ID : 264330549162

Option 2 ID : 264330549161

Option 3 ID : 264330549159

Option 4 ID : 264330549160

Status : Answered

Chosen Option : 1

Q.16 यदि किसी संख्या का 50 प्रतिशत 80 है, तो उस संख्या का 250 प्रतिशत कितना होगा?

- Ans
- 1. 440
 - 2. 400
 - 3. 480
 - 4. 360

Question Type : MCQ
Question ID : 264330140218
Option 1 ID : 264330549254
Option 2 ID : 264330549251
Option 3 ID : 264330549252
Option 4 ID : 264330549253
Status : Answered
Chosen Option : 2

Q.17 एक वॉटर हीटर को Rs. 320 में बेचने पर, दुकानदार को 20% की हानि होती है। यदि वह 20% का लाभ अर्जित करना चाहता है, तो उसे वॉटर हीटर को किस कीमत पर बेचना चाहिए?

- Ans
- 1. Rs. 400
 - 2. Rs. 100
 - 3. Rs. 480
 - 4. Rs. 105

Question Type : MCQ
Question ID : 264330140805
Option 1 ID : 264330551568
Option 2 ID : 264330551569
Option 3 ID : 264330551567
Option 4 ID : 264330551570
Status : Answered
Chosen Option : 3

Q.18 Rs. 20 प्रति किलोग्राम (per kg) मूल्य वाले चावल को Rs. 34 प्रति किलोग्राम मूल्य वाले चावल के साथ किस अनुपात में मिलाया जाए कि मिश्रण का मूल्य Rs. 28 प्रति किलोग्राम हो जाए?

- Ans
- 1. 2:3
 - 2. 4:1
 - 3. 1:3
 - 4. 3:4

Question Type : MCQ
Question ID : 264330133819
Option 1 ID : 264330524302
Option 2 ID : 264330524299
Option 3 ID : 264330524300
Option 4 ID : 264330524301
Status : Answered
Chosen Option : 4

Q.19 दो नल J और L अकेले एक टंकी को क्रमशः 10 मिनट और 12 मिनट में भर सकते हैं। यदि एक निकास नल K को खोल दिया जाए और सभी तीनों नल एक साथ मिलकर कार्य करें, तो वही टंकी 15 मिनट में भर जाएगी। नल K को अकेले उसी टंकी को खाली करने में कितना समय लगेगा?

- Ans
- ✓ 1. 60/7 मिनट
 - ✗ 2. 52/3 मिनट
 - ✗ 3. 58/11 मिनट
 - ✗ 4. 56/3 मिनट

Question Type : MCQ
Question ID : 264330140632
Option 1 ID : 264330550878
Option 2 ID : 264330550875
Option 3 ID : 264330550876
Option 4 ID : 264330550877
Status : Answered
Chosen Option : 3

Q.20 नीचे दी गई तालिका में 5 विभिन्न वस्तुओं का क्रय मूल्य और विक्रय मूल्य दर्शाया गया है।

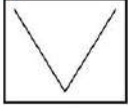
वस्तु	क्रय मूल्य	विक्रय मूल्य
A	500	600
B	700	750
C	600	800
D	400	700
E	300	800

सभी वस्तुओं के कुल क्रय मूल्य और कुल विक्रय मूल्य का अनुपात कितना है?

- Ans
- ✗ 1. 37 : 50
 - ✗ 2. 50 : 39
 - ✗ 3. 49 : 72
 - ✓ 4. 50 : 73

Question Type : MCQ
Question ID : 264330140601
Option 1 ID : 264330550757
Option 2 ID : 264330550758
Option 3 ID : 264330550755
Option 4 ID : 264330550756
Status : Answered
Chosen Option : 4

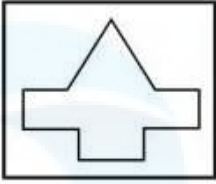
Q.1 उस विकल्प आकृति को चुनिए जिसमें दी गई आकृति (X) उसके भाग के रूप में निहित है (घूर्णन की अनुमति नहीं है)।



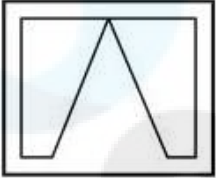
X

Ans

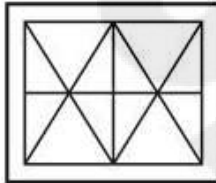
✗ 1.



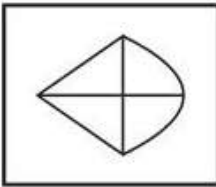
✗ 2.



✓ 3.



✗ 4.



Question Type : MCQ

Question ID : 264330140008

Option 1 ID : 264330548414

Option 2 ID : 264330548411

Option 3 ID : 264330548412

Option 4 ID : 264330548413

Status : Answered

Chosen Option : 3

Q.2 दिए गए पैटर्न का ध्यानपूर्वक अध्ययन कीजिए और उस संख्या को चुनिए जो इसमें प्रश्न चिन्ह(?) के स्थान पर आ सकती है।

पहली पंक्ति- 60, 20, 10

दूसरी पंक्ति- 90, 30, 15

तीसरी पंक्ति- 36, 12, ?

Ans ✗ 1. 8

✗ 2. 4

✗ 3. 5

✓ 4. 6

Question Type : MCQ

Question ID : 264330140426

Option 1 ID : 264330550084

Option 2 ID : 264330550086

Option 3 ID : 264330550083

Option 4 ID : 264330550085

Status : Answered

Chosen Option : 4

Q.3 उस विकल्प को चुनिए जो तीसरी संख्या से ठीक उसी तरह संबंधित है जिस तरह दूसरी संख्या पहली संख्या से संबंधित है।

110 : 23 :: 85 : ?

- Ans
- 1. 17
 - 2. 13
 - 3. 18
 - 4. 47

Question Type : MCQ

Question ID : 264330135361

Option 1 ID : 264330530352

Option 2 ID : 264330530351

Option 3 ID : 264330530353

Option 4 ID : 264330530354

Status : Answered

Chosen Option : 2

Q.4 दो कथन दिए गए हैं और दो निष्कर्ष I और II दिए गए हैं। कथनों को सत्य मानते हुए, चाहे वे सामान्यतः ज्ञात तथ्यों से अलग प्रतीत होते हों, निश्चय कीजिए कि कौन-सा निष्कर्ष तार्किक रूप से कथनों के अनुसार है।
कथन:

सभी डिब्बे, घन हैं।

सभी घन, वर्ग हैं।

निष्कर्ष:

I. कुछ डिब्बे, वर्ग हैं।

II. कुछ वर्ग, घन नहीं हैं।

- Ans
- 1. केवल निष्कर्ष II कथनों के अनुसार है।
 - 2. दोनों निष्कर्ष I और II कथनों के अनुसार हैं।
 - 3. केवल निष्कर्ष I कथनों के अनुसार है।
 - 4. न तो निष्कर्ष I और न ही II कथनों के अनुसार है।

Question Type : MCQ

Question ID : 264330140082

Option 1 ID : 264330548708

Option 2 ID : 264330548709

Option 3 ID : 264330548707

Option 4 ID : 264330548710

Status : Answered

Chosen Option : 3

Q.5 दी गई श्रृंखला में निम्नलिखित में से कौन-सा अक्षर प्रश्न चिन्ह (?) के स्थान पर आएगा?
J, N, H, P, F, R, D, T, B, ?

- Ans
- 1. U
 - 2. O
 - 3. V
 - 4. M

Question Type : MCQ
Question ID : 264330139991
Option 1 ID : 264330548344
Option 2 ID : 264330548345
Option 3 ID : 264330548346
Option 4 ID : 264330548343
Status : Answered
Chosen Option : 3

Q.6 नीचे दिए गए समीकरण में कौन-से गणितीय चिन्हों को आपस में बदला जाना चाहिए जिससे यह समीकरण गणितीय रूप से सही हो जाएगा?
 $14 + 63 \div 7 - 21 \times 35 = 140$

- Ans
- 1. + और -
 - 2. + और \times
 - 3. \div और \times
 - 4. - और \times

Question Type : MCQ
Question ID : 264330140467
Option 1 ID : 264330550249
Option 2 ID : 264330550247
Option 3 ID : 264330550248
Option 4 ID : 264330550250
Status : Answered
Chosen Option : 2

Q.7 दी गई श्रृंखला में निम्नलिखित में से कौन-सी संख्या प्रश्न चिन्ह (?) के स्थान पर आएगी?
59, 63, 72, 88, 113, ?

- Ans
- 1. 149
 - 2. 139
 - 3. 159
 - 4. 141

Question Type : MCQ
Question ID : 264330140105
Option 1 ID : 264330548800
Option 2 ID : 264330548799
Option 3 ID : 264330548801
Option 4 ID : 264330548802
Status : Answered
Chosen Option : 1

Q.8 अनुज, बाला, चरणजीत, दानिश, एंडू, फारूक, गर्वित और हिमेश एक वर्गाकार मेज के चारों ओर केंद्र की ओर मुख करके बैठे हैं। उनमें से चार व्यक्ति मेज के प्रत्येक कोने पर बैठे हैं, जबकि अन्य चार मेज की प्रत्येक भुजा के ठीक मध्य में बैठे हैं।

एंडू, जो एक भुजा के मध्य में बैठा है, गर्वित के बाईं ओर से चौथे स्थान पर बैठा है। गर्वित और फारूक के बीच केवल एक व्यक्ति बैठा है। बाला, एंडू का निकटतम पड़ोसी है। बाला और अनुज के बीच केवल तीन व्यक्ति बैठे हैं। बाला, फारूक का पड़ोसी नहीं है। हिमेश चरणजीत के ठीक बाईं ओर बैठा है। चरणजीत, एंडू के दाहिनी ओर से तीसरे स्थान पर बैठा है।

दानिश के दाहिनी ओर से तीसरे स्थान पर कौन बैठा है?

Ans

- ✓ 1. हिमेश
- ✗ 2. बाला
- ✗ 3. चरणजीत
- ✗ 4. गर्वित

Question Type : MCQ

Question ID : 264330140479

Option 1 ID : 264330550297

Option 2 ID : 264330550296

Option 3 ID : 264330550295

Option 4 ID : 264330550298

Status : Not Answered

Chosen Option : --

Q.9 यदि एक दर्पण को रेखा AB पर रखा जाए, तो दी गई विकल्प आकृतियों में से कौन-सी आकृति प्रश्न आकृति का सही प्रतिबिम्ब होगी?



Ans

- ✗ 1.
- ✓ 2.
- ✗ 3.
- ✗ 4.

Question Type : MCQ

Question ID : 264330140994

Option 1 ID : 264330552323

Option 2 ID : 264330552326

Option 3 ID : 264330552325

Option 4 ID : 264330552324

Status : Answered

Chosen Option : 2

Q.10 एक निश्चित कूट भाषा में, 'PARK' को 'QCSM' लिखा जाता है और 'FREE' को 'GTFG' लिखा जाता है। उस कूट भाषा में 'FAME' को कैसे लिखा जाएगा?

- Ans
- ✓ 1. GCNG
 - ✗ 2. CGNF
 - ✗ 3. GCOF
 - ✗ 4. HCNG

Question Type : MCQ
Question ID : 264330140116
Option 1 ID : 264330548845
Option 2 ID : 264330548846
Option 3 ID : 264330548844
Option 4 ID : 264330548843
Status : Answered
Chosen Option : 3

Q.11 एक निश्चित कूट भाषा में, 'RAT' को 'SCW' लिखा जाता है। उस भाषा में 'COW' को कैसे लिखा जाएगा?

- Ans
- ✗ 1. DQR
 - ✓ 2. DQZ
 - ✗ 3. DZQ
 - ✗ 4. DYZ

Question Type : MCQ
Question ID : 264330137566
Option 1 ID : 264330538874
Option 2 ID : 264330538871
Option 3 ID : 264330538872
Option 4 ID : 264330538873
Status : Answered
Chosen Option : 2

Q.12 तीन कथन दिए गए हैं और दो निष्कर्ष I और II दिए गए हैं। कथनों को सत्य मानते हुए, चाहे वे सामान्यतः ज्ञात तथ्यों से अलग प्रतीत होते हों, निश्चय कीजिए कि कौन-सा निष्कर्ष तार्किक रूप से कथनों के अनुसार है।

कथन:

कुछ मोबाइल, ज़मीन हैं।

कुछ ज़मीन, चौड़े हैं।

सभी चौड़े, लंबे हैं।

निष्कर्ष:

I. कुछ मोबाइल, लंबे हैं।

II. सभी लंबे, चौड़े हैं।

- Ans
- ✗ 1. दोनों निष्कर्ष I और II कथनों के अनुसार हैं।
 - ✗ 2. केवल निष्कर्ष II कथनों के अनुसार है।
 - ✓ 3. न तो निष्कर्ष I और न ही II कथनों के अनुसार है।
 - ✗ 4. केवल निष्कर्ष I कथनों के अनुसार है।

Question Type : MCQ
Question ID : 264330140422
Option 1 ID : 264330550069
Option 2 ID : 264330550068
Option 3 ID : 264330550070
Option 4 ID : 264330550067
Status : Answered
Chosen Option : 2

Q.13 निम्नलिखित प्रश्न में, दी गई श्रृंखला में लुप्त संख्या को चुनिए ।

55, 38, 21, 4, -13, ?

- Ans
- 1. -20
 - 2. -28
 - 3. -30
 - 4. -18

Question Type : MCQ
Question ID : 264330140064
Option 1 ID : 264330548636
Option 2 ID : 264330548637
Option 3 ID : 264330548638
Option 4 ID : 264330548635
Status : Answered
Chosen Option : 3

Q.14 दिए गए दो चिन्हों को आपस में बदलने पर निम्नलिखित में से कौन-सा समीकरण सही नहीं होगा?

+ और ×

I. $15 + 5 + 1 - 9 \times 4 = 70$

II. $18 \times 17 + 3 - 6 \div 2 = 133$

- Ans
- 1. I और II दोनों
 - 2. केवल II
 - 3. न तो I और न ही II
 - 4. केवल I

Question Type : MCQ
Question ID : 264330140992
Option 1 ID : 264330552317
Option 2 ID : 264330552316
Option 3 ID : 264330552318
Option 4 ID : 264330552315
Status : Answered
Chosen Option : 4

Q.15 छः मित्र X, Y, J, M, N, और O एक कतार में उत्तर की ओर मुख करके खड़े हैं। Y, O के ठीक पीछे है। J, कतार में सबसे पीछे खड़ा है। M, N और X के ठीक बीच में खड़ा है। Y, X के बाद नहीं खड़ा है। कतार में आगे से चौथे स्थान पर कौन खड़ा है?

- Ans
- 1. N
 - 2. X
 - 3. Y
 - 4. M

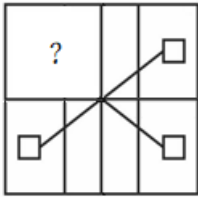
Question Type : MCQ
Question ID : 264330140418
Option 1 ID : 264330550052
Option 2 ID : 264330550053
Option 3 ID : 264330550054
Option 4 ID : 264330550051
Status : Answered
Chosen Option : 2

Q.16 उस विकल्प को चुनिए जो तीसरे शब्द से ठीक उसी तरह संबंधित है जिस तरह दूसरा शब्द पहले शब्द से संबंधित है।
थायरॉयड : आयोडीन :: रतौंधी: ?

- Ans
- 1. विटामिन D
 - 2. विटामिन B
 - 3. विटामिन C
 - 4. विटामिन A

Question Type : MCQ
Question ID : 264330140474
Option 1 ID : 264330550278
Option 2 ID : 264330550276
Option 3 ID : 264330550277
Option 4 ID : 264330550275
Status : Answered
Chosen Option : 4

Q.17 कौन-सी उत्तर आकृति प्रश्न आकृति में दिए गए पैटर्न को पूरा करेगी?



Ans

- 1.
- 2.
- 3.
- 4.

Question Type : MCQ
Question ID : 264330140072
Option 1 ID : 264330548669
Option 2 ID : 264330548670
Option 3 ID : 264330548668
Option 4 ID : 264330548667
Status : Answered
Chosen Option : 4

Q.18 उस विकल्प को चुनिए जो तीसरे शब्द से ठीक उसी तरह संबंधित है जिस तरह दूसरा शब्द पहले शब्द से संबंधित है।
मधुमक्खी : भिनभिना (Buzz) :: बत्तख : ?

- Ans
- 1. मिमियाना (Bleat)
 - 2. क्वाक क्वाक करना (Quack)
 - 3. चहचहाना (Chirp)
 - 4. टरटराना (Croak)

Question Type : MCQ
Question ID : 264330140433
Option 1 ID : 264330550112
Option 2 ID : 264330550113
Option 3 ID : 264330550114
Option 4 ID : 264330550111
Status : Answered
Chosen Option : 2

Q.19 एक निश्चित कूट भाषा में, 'NOTICE' को 'LMRFZB' लिखा जाता है। उस कूट भाषा में 'PARENT' को कैसे लिखा जाएगा?

- Ans
- 1. NYPBKQ
 - 2. NYQBKQ
 - 3. NYPBKR
 - 4. NYPCLR

Question Type : MCQ
Question ID : 264330139571
Option 1 ID : 264330546701
Option 2 ID : 264330546702
Option 3 ID : 264330546700
Option 4 ID : 264330546699
Status : Answered
Chosen Option : 4

Q.20 सात बहनों I, II, III, IV, V, VI और VII में से प्रत्येक का कद अलग-अलग है। I का कद केवल एक बहन से छोटा है। II केवल VII से लंबी है। तीन बहनों, IV से कद में छोटी हैं और तीन उससे लंबी हैं। V सबसे लंबी नहीं है। III कद में VI से छोटी है लेकिन V से लंबी है। सभी बहनों में तीसरे स्थान पर सबसे छोटा कद किसका है?

- Ans
- 1. IV
 - 2. I
 - 3. VI
 - 4. V

Question Type : MCQ
Question ID : 264330140081
Option 1 ID : 264330548705
Option 2 ID : 264330548704
Option 3 ID : 264330548703
Option 4 ID : 264330548706
Status : Answered
Chosen Option : 3

Q.1 भारतीय संविधान का निम्नलिखित में से कौनसा अनुच्छेद "अंतर्राष्ट्रीय शांति और सुरक्षा के प्रचार" से संबंधित है?

- Ans
- 1. अनुच्छेद 40
 - 2. अनुच्छेद 47
 - 3. अनुच्छेद 51
 - 4. अनुच्छेद 43

Question Type : MCQ
Question ID : 264330139710
Option 1 ID : 264330547255
Option 2 ID : 264330547256
Option 3 ID : 264330547258
Option 4 ID : 264330547257
Status : Not Answered
Chosen Option : --

Q.2 भारत के पड़ोसी देश अफगानिस्तान की राजधानी क्या है ?

- Ans
- 1. काठमांडू
 - 2. कंधार
 - 3. काबुल
 - 4. कराची

Question Type : MCQ
Question ID : 264330140713
Option 1 ID : 264330551200
Option 2 ID : 264330551201
Option 3 ID : 264330551202
Option 4 ID : 264330551199
Status : Answered
Chosen Option : 3

Q.3 कौनसे कोशिका अंगक अंतः कोशिकीय पाचन में सहायता करते हैं और कोशिका की "आत्मघाती थैली (suicidal bags)" के नाम से जाने जाते हैं?

- Ans
- 1. क्लोरोप्लास्ट
 - 2. सेंट्रोसोम
 - 3. लाइसोसोम
 - 4. गॉल्जीकाय (Golgi bodies)

Question Type : MCQ
Question ID : 264330140657
Option 1 ID : 264330550978
Option 2 ID : 264330550975
Option 3 ID : 264330550977
Option 4 ID : 264330550976
Status : Answered
Chosen Option : 3

Q.4 भूतल पर वह बिंदु जो भूकंप के उद्गम केंद्र के समीपतम होता है _____ कहलाता है।

- Ans
- 1. अवकेंद्र (hypocentre)
 - 2. मध्यालंकरण (centrepiece)
 - 3. अर्धकेंद्र (semi centre)
 - 4. अधिकेंद्र (epicentre)

Question Type : MCQ
Question ID : 264330140759
Option 1 ID : 264330551383
Option 2 ID : 264330551386
Option 3 ID : 264330551385
Option 4 ID : 264330551384
Status : Answered
Chosen Option : 2

Q.5 किस प्रकार की कृषि में भूमि का उपयोग भोजन व चारे की फसलें उगाने और पशुधन पालन के लिए किया जाता है?

- Ans
- 1. मिश्रित कृषि
 - 2. स्थानांतरी कृषि
 - 3. रोपण कृषि
 - 4. निर्वाह कृषि

Question Type : MCQ
Question ID : 264330139690
Option 1 ID : 264330547177
Option 2 ID : 264330547176
Option 3 ID : 264330547175
Option 4 ID : 264330547178
Status : Answered
Chosen Option : 1

Q.6 है-हक (Hai-Hak) नृत्य किस राज्य से संबंधित है?

- Ans
- 1. त्रिपुरा
 - 2. राजस्थान
 - 3. सिक्किम
 - 4. आंध्रप्रदेश

Question Type : MCQ
Question ID : 264330139866
Option 1 ID : 264330547844
Option 2 ID : 264330547846
Option 3 ID : 264330547843
Option 4 ID : 264330547845
Status : Answered
Chosen Option : 1

Q.7 "पीएम पोषण (PM POSHAN)" योजना किस मंत्रालय द्वारा लागू की गई है?

- Ans
- 1. महिला और बाल विकास मंत्रालय
 - 2. कृषि और किसान कल्याण मंत्रालय
 - 3. शिक्षा मंत्रालय
 - 4. सामाजिक न्याय मंत्रालय

Question Type : MCQ
Question ID : 264330139732
Option 1 ID : 264330547346
Option 2 ID : 264330547343
Option 3 ID : 264330547344
Option 4 ID : 264330547345
Status : Answered
Chosen Option : 1

Q.8 भारतीय संगीतकार जगजीत सिंह को संगीत/कविता की _____ शैली के पुनरुद्धार का श्रेय दिया जाता है।

- Ans
- 1. सूफी (Sufi)
 - 2. लैटिन (Latin)
 - 3. ग़ज़ल (Ghazal)
 - 4. जैज़ (Jazz)

Question Type : MCQ
Question ID : 264330140924
Option 1 ID : 264330552045
Option 2 ID : 264330552044
Option 3 ID : 264330552046
Option 4 ID : 264330552043
Status : Not Answered
Chosen Option : --

Q.9 निम्नलिखित में से कौन-सा भारत का एक जैवमण्डल संरक्षित क्षेत्र (biosphere reserve) "नहीं" है?

- Ans
- 1. गिर वन
 - 2. सुंदरबन
 - 3. ठंडा रेगिस्तान
 - 4. नीलगिरि

Question Type : MCQ
Question ID : 264330139884
Option 1 ID : 264330547918
Option 2 ID : 264330547915
Option 3 ID : 264330547917
Option 4 ID : 264330547916
Status : Answered
Chosen Option : 2

Q.10 अशोक स्तंभों का मूल उद्देश्य क्या था?

- Ans
- 1. धर्म नीतियों का प्रचार-प्रसार करना
 - 2. साम्प्रदायिक आस्था का प्रचार-प्रसार करना
 - 3. जन-धर्मांतरण का प्रचार-प्रसार करना
 - 4. भेरीघोष का प्रचार-प्रसार करना

Question Type : MCQ
Question ID : 264330140380
Option 1 ID : 264330549900
Option 2 ID : 264330549901
Option 3 ID : 264330549902
Option 4 ID : 264330549899
Status : Answered
Chosen Option : 1

Q.11 निम्नलिखित में से किसे कुश्ती के लिए "मेजर ध्यानचंद खेल रत्न पुरस्कार 2021 (Major Dhyan Chand Khel Ratna Award 2021)" से सम्मानित किया गया है?

- Ans
- 1. सुनील छेत्री
 - 2. रवि कुमार
 - 3. मनप्रीत सिंह
 - 4. नीरज चोपड़ा

Question Type : MCQ
Question ID : 264330139651
Option 1 ID : 264330547021
Option 2 ID : 264330547019
Option 3 ID : 264330547022
Option 4 ID : 264330547020
Status : Answered
Chosen Option : 2

Q.12 Which of the following books is authored by Indu Sundaresan?

- Ans
- 1. The One You Cannot Have
 - 2. Ajaya: Rise of Kali
 - 3. The Feast of Roses
 - 4. The Secret of the Nagas

Question Type : MCQ
Question ID : 264330140886
Option 1 ID : 264330551891
Option 2 ID : 264330551894
Option 3 ID : 264330551892
Option 4 ID : 264330551893
Status : Answered
Chosen Option : 3

Q.13 निम्नलिखित में से कौन-सा कृत्रिम पारितंत्र (artificial ecosystem) का एक उदाहरण है?

- Ans
- ✗ 1. मूँगा चट्टानें
 - ✗ 2. घास के मैदान
 - ✓ 3. जल जीवशाला/ मत्स्यालय
 - ✗ 4. रेगिस्तान

Question Type : MCQ

Question ID : 264330140658

Option 1 ID : 264330550979

Option 2 ID : 264330550980

Option 3 ID : 264330550981

Option 4 ID : 264330550982

Status : Answered

Chosen Option : 3

Q.14 करेंसी नोट और सिक्कों को _____ कहते हैं।

- Ans
- ✗ 1. निकट मुद्रा (near money)
 - ✗ 2. विश्वास्य मुद्रा (fiduciary money)
 - ✗ 3. कमोडिटी मनी (commodity money)
 - ✓ 4. कागज़ी मुद्रा (fiat money)

Question Type : MCQ

Question ID : 264330138981

Option 1 ID : 264330544532

Option 2 ID : 264330544534

Option 3 ID : 264330544533

Option 4 ID : 264330544531

Status : Answered

Chosen Option : 2

Q.15 राजस्थान का गणगौर पर्व किस देवी-देवता से संबंधित है?

- Ans
- ✗ 1. भगवान विष्णु और देवी लक्ष्मी
 - ✗ 2. भगवान सूर्य और देवी प्रभा
 - ✓ 3. भगवान शिव और देवी पार्वती
 - ✗ 4. भगवान राम और देवी सीता

Question Type : MCQ

Question ID : 264330140882

Option 1 ID : 264330551877

Option 2 ID : 264330551878

Option 3 ID : 264330551875

Option 4 ID : 264330551876

Status : Answered

Chosen Option : 1

Q.16 राष्ट्रीय ध्वज और राष्ट्रगान का सम्मान प्रत्येक भारतीय नागरिक का _____ है।

- Ans
- 1. राज्य का नीति निर्देशक तत्व
 - 2. कानूनी अधिकार
 - 3. मौलिक अधिकार
 - 4. मौलिक कर्तव्य

Question Type : MCQ
Question ID : 264330140387
Option 1 ID : 264330549927
Option 2 ID : 264330549928
Option 3 ID : 264330549930
Option 4 ID : 264330549929
Status : Answered
Chosen Option : 4

Q.17 निम्नलिखित में से कौन-सा उपन्यास चेतन भगत द्वारा लिखा गया है?

- Ans
- 1. अवर स्टोरी नीड्स नो फिल्टर (Our Story Needs No Filter)
 - 2. अनटचेबल्स (Untouchables)
 - 3. द व्हाइट टाइगर (The White Tiger)
 - 4. द थ्री मिस्टेक्स ऑफ माय लाइफ (The 3 Mistakes of My Life)

Question Type : MCQ
Question ID : 264330139703
Option 1 ID : 264330547229
Option 2 ID : 264330547228
Option 3 ID : 264330547230
Option 4 ID : 264330547227
Status : Answered
Chosen Option : 3

Q.18 भक्ति संत, नयनार (Nayanars) निम्नलिखित में से किस देवता के भक्त थे?

- Ans
- 1. विष्णु
 - 2. मुरुगन
 - 3. शिव
 - 4. इंद्र

Question Type : MCQ
Question ID : 264330140289
Option 1 ID : 264330549535
Option 2 ID : 264330549536
Option 3 ID : 264330549537
Option 4 ID : 264330549538
Status : Not Answered
Chosen Option : --

Q.19 "द इन्विजिबल मैन (The Invisible Man)" प्रसिद्ध लेखक _____ द्वारा लिखित एक विज्ञान कथा उपन्यास है।

- Ans
- 1. अगाथा क्रिस्टी (Agatha Christie)
 - 2. जूल्स वर्न (Jules Verne)
 - 3. हर्बर्ट जॉर्ज वेल्स (Herbert George Wells)
 - 4. विलियम शेक्सपियर (William Shakespeare)

Question Type : MCQ
Question ID : 264330140718
Option 1 ID : 264330551220
Option 2 ID : 264330551222
Option 3 ID : 264330551219
Option 4 ID : 264330551221
Status : Not Answered
Chosen Option : --

Q.20 कितने देश भारत के साथ भूमि सीमा साझा करते हैं?

- Ans
- 1. छः
 - 2. सात
 - 3. पाँच
 - 4. आठ

Question Type : MCQ
Question ID : 264330138990
Option 1 ID : 264330544568
Option 2 ID : 264330544569
Option 3 ID : 264330544567
Option 4 ID : 264330544570
Status : Answered
Chosen Option : 1

Q.21 हिंदुस्तान सोशलिस्ट रिपब्लिकन एसोसिएशन (Hindustan Socialist Republican Association (HSRA)) की स्थापना सन् _____ में हुई थी।

- Ans
- 1. 1928
 - 2. 1924
 - 3. 1917
 - 4. 1922

Question Type : MCQ
Question ID : 264330140383
Option 1 ID : 264330549913
Option 2 ID : 264330549911
Option 3 ID : 264330549912
Option 4 ID : 264330549914
Status : Not Answered
Chosen Option : --

Q.22 _____ में देश भर के 72 प्रतिनिधियों ने बम्बई में सभा करके भारतीय राष्ट्रीय कांग्रेस की स्थापना का फैसला लिया।

- Ans
- 1. 1872
 - 2. 1885
 - 3. 1858
 - 4. 1890

Question Type : MCQ

Question ID : 264330141061

Option 1 ID : 264330552593

Option 2 ID : 264330552591

Option 3 ID : 264330552594

Option 4 ID : 264330552592

Status : Not Answered

Chosen Option : --

Q.23 इंडो-इस्लामिक वास्तुकला की "दोहरे गुंबद (Double Dome)" वाली विशेषता दिल्ली सल्तनत के किस वंश द्वारा शुरू की गई थी?

- Ans
- 1. गुलाम वंश
 - 2. लोदी वंश
 - 3. तुगलक वंश
 - 4. खिलजी वंश

Question Type : MCQ

Question ID : 264330140680

Option 1 ID : 264330551070

Option 2 ID : 264330551069

Option 3 ID : 264330551067

Option 4 ID : 264330551068

Status : Answered

Chosen Option : 3

Q.24 किस खिलाड़ी को "फ्लाइंग सिख (Flying Sikh)" के नाम से जाना जाता है?

- Ans
- 1. युवराज सिंह
 - 2. मिल्खा सिंह
 - 3. अर्शदीप सिंह
 - 4. हरभजन सिंह

Question Type : MCQ

Question ID : 264330140674

Option 1 ID : 264330551045

Option 2 ID : 264330551043

Option 3 ID : 264330551044

Option 4 ID : 264330551046

Status : Answered

Chosen Option : 2

Q.25 निम्नलिखित में से किस त्योहार का संबंध अरुणाचल प्रदेश से है?

- Ans
- ✓ 1. सोलुंग (Solung)
 - ✗ 2. उगादि (Ugadi)
 - ✗ 3. पोंगल (Pongal)
 - ✗ 4. वांगला (Wangala)

Question Type : MCQ
Question ID : 264330140909
Option 1 ID : 264330551984
Option 2 ID : 264330551985
Option 3 ID : 264330551986
Option 4 ID : 264330551983
Status : Answered
Chosen Option : 3

Section : English Language and Comprehension

Q.1 Select the word segment that substitutes (replaces) the bracketed word segment correctly and completes the sentence meaningfully. Select the option 'no correction required' if the sentence is correct as given.
He was pleased to see them, especially as (Alice was disposed off to) be sympathetic rather than critical.

- Ans
- ✗ 1. Alice was disposed of to
 - ✗ 2. No correction required
 - ✗ 3. Alice was disposed of to
 - ✓ 4. Alice was inclined to

Question Type : MCQ
Question ID : 264330136166
Option 1 ID : 264330533465
Option 2 ID : 264330533466
Option 3 ID : 264330533464
Option 4 ID : 264330533463
Status : Answered
Chosen Option : 3

Q.2 Choose the incorrectly spelt word.

- Ans
- ✗ 1. Interest
 - ✗ 2. Count
 - ✓ 3. Wsated
 - ✗ 4. Slim

Question Type : MCQ
Question ID : 264330141183
Option 1 ID : 264330553071
Option 2 ID : 264330553073
Option 3 ID : 264330553072
Option 4 ID : 264330553074
Status : Answered
Chosen Option : 4

Q.3 Select the word from the options which is exactly opposite in meaning to the bracketed word given in the sentence below.

Hermione was pointing to the (nearest) window.

- Ans**
- 1. remote
 - 2. convenient
 - 3. adjacent
 - 4. abutting

Question Type : **MCQ**

Question ID : **264330136128**

Option 1 ID : **264330533317**

Option 2 ID : **264330533316**

Option 3 ID : **264330533315**

Option 4 ID : **264330533318**

Status : **Answered**

Chosen Option : **2**

Q.4 Select the word segment that substitutes (replaces) the bracketed word segment correctly and completes the sentence meaningfully. Select the option 'no correction required' if the sentence is correct as given.
She (had a reputation) brilliance.

- Ans**
- 1. have a reputation for
 - 2. has a reputation for
 - 3. has a reputation of
 - 4. No correction required

Question Type : **MCQ**

Question ID : **264330135848**

Option 1 ID : **264330532260**

Option 2 ID : **264330532259**

Option 3 ID : **264330532261**

Option 4 ID : **264330532262**

Status : **Answered**

Chosen Option : **1**

Q.5 Fill in the blank with the most appropriate option.
Though poor, he _____ proud of his learning.

- Ans**
- 1. were
 - 2. could became
 - 3. was
 - 4. have been

Question Type : **MCQ**

Question ID : **264330136141**

Option 1 ID : **264330533368**

Option 2 ID : **264330533370**

Option 3 ID : **264330533367**

Option 4 ID : **264330533369**

Status : **Answered**

Chosen Option : **3**

Q.6 Select the most appropriate option to fill in the blank.

The wounds on my back are no longer fresh, but, somehow, they still _____.

- Ans**
- 1. enrich
 - 2. barge
 - 3. revamp
 - 4. hurt

Question Type : **MCQ**
Question ID : **264330135255**
Option 1 ID : **264330529939**
Option 2 ID : **264330529942**
Option 3 ID : **264330529940**
Option 4 ID : **264330529941**
Status : **Answered**
Chosen Option : **4**

Q.7 Identify the segment that contains a grammatical error. If there is no error, select 'No error'.

Time is the greater / eraser, both of / sorrow and of joy.

- Ans**
- 1. Time is the greater
 - 2. No error
 - 3. sorrow and of joy.
 - 4. eraser, both of

Question Type : **MCQ**
Question ID : **264330135846**
Option 1 ID : **264330532251**
Option 2 ID : **264330532254**
Option 3 ID : **264330532253**
Option 4 ID : **264330532252**
Status : **Answered**
Chosen Option : **1**

Q.8 The statement below has been given with bracketed text. Select the option with correct idiom for the bracketed text.

She started repaying the money she borrowed from me, but the amount she returned me is (insignificant compared) to what she still owes.

- Ans**
- 1. a drop in a bucket
 - 2. eat out of your hand
 - 3. jaw dropping
 - 4. an eye for an eye

Question Type : **MCQ**
Question ID : **264330136130**
Option 1 ID : **264330533326**
Option 2 ID : **264330533323**
Option 3 ID : **264330533325**
Option 4 ID : **264330533324**
Status : **Answered**
Chosen Option : **1**

Q.9 Identify the segment that contains a grammatical error. If there is no error, select 'No error'.

'I'm going to get / start on some / homework,' said the professor angrily.

- Ans
- 1. homework,' said the professor angrily.
 - 2. I'm going to get
 - 3. No error
 - 4. start on some

Question Type : MCQ
Question ID : 264330136163
Option 1 ID : 264330533453
Option 2 ID : 264330533451
Option 3 ID : 264330533454
Option 4 ID : 264330533452
Status : Answered
Chosen Option : 4

Q.10 Choose the word that means the same as the given word.

Habitant

- Ans
- 1. Exile
 - 2. Endemic
 - 3. Denizen
 - 4. Transient

Question Type : MCQ
Question ID : 264330135654
Option 1 ID : 264330531511
Option 2 ID : 264330531512
Option 3 ID : 264330531514
Option 4 ID : 264330531513
Status : Answered
Chosen Option : 4

Q.11 Select the most appropriate synonym of the given word.

Support

- Ans
- 1. Spine
 - 2. Release
 - 3. Refuse
 - 4. Bolster

Question Type : MCQ
Question ID : 264330135731
Option 1 ID : 264330531810
Option 2 ID : 264330531809
Option 3 ID : 264330531807
Option 4 ID : 264330531808
Status : Answered
Chosen Option : 3

Q.12 Fill in the blank with the most appropriate option.

I was _____ and was suddenly woken up by the loud noise of crackers bursting.

- Ans
- 1. quiet asleep
 - 2. fast asleep
 - 3. long asleep
 - 4. quite asleep

Question Type : MCQ

Question ID : 264330135713

Option 1 ID : 264330531739

Option 2 ID : 264330531742

Option 3 ID : 264330531741

Option 4 ID : 264330531740

Status : Answered

Chosen Option : 4

Q.13 Select the most appropriate antonym of the given word.

Incompetence

- Ans
- 1. Interfere
 - 2. Efficient
 - 3. Caustic
 - 4. Attitude

Question Type : MCQ

Question ID : 264330135759

Option 1 ID : 264330531918

Option 2 ID : 264330531916

Option 3 ID : 264330531917

Option 4 ID : 264330531915

Status : Answered

Chosen Option : 1

Q.14 Select the most appropriate word for the given group of words.

A building where animals are butchered

- Ans
- 1. Apologue
 - 2. Arbitrator
 - 3. Abattoir
 - 4. Apostate

Question Type : MCQ

Question ID : 264330135678

Option 1 ID : 264330531604

Option 2 ID : 264330531603

Option 3 ID : 264330531606

Option 4 ID : 264330531605

Status : Answered

Chosen Option : 1

Q.15 Identify the segment that contains a grammatical error. If there is no error, select 'No error'

He spent a great deal of time/ writing on his legal pad and aggressive/ underlining whatever he was writing.

- Ans**
- 1. No error
 - 2. He spent a great deal of time
 - 3. underlining whatever he was writing.
 - 4. writing on his legal pad and aggressive

Question Type : **MCQ**
Question ID : **264330135663**
Option 1 ID : **264330531550**
Option 2 ID : **264330531547**
Option 3 ID : **264330531549**
Option 4 ID : **264330531548**
Status : **Answered**
Chosen Option : **3**

Q.16 Four sentences are given, out of which three have spelling errors. Choose the sentence with all correctly spelt words.

- Ans**
- 1. It was a letter that was shot throught with the writer's personality.
 - 2. There is plenty of student accomodation in Edinburgh.
 - 3. Their skilled colleague soon satisfied them that they were wrong.
 - 4. He advised the government not to persue a gas deal with that company.

Question Type : **MCQ**
Question ID : **264330136132**
Option 1 ID : **264330533333**
Option 2 ID : **264330533331**
Option 3 ID : **264330533334**
Option 4 ID : **264330533332**
Status : **Not Answered**
Chosen Option : **--**

Q.17 Select the most appropriate meaning of the given idiom.

To eat crow

- Ans**
- 1. To take money back
 - 2. To admit that one is wrong
 - 3. To become non-vegetarian
 - 4. To take great care

Question Type : **MCQ**
Question ID : **264330136155**
Option 1 ID : **264330533422**
Option 2 ID : **264330533421**
Option 3 ID : **264330533419**
Option 4 ID : **264330533420**
Status : **Answered**
Chosen Option : **3**

Q.18 Fill in the blank with the most appropriate option.

He ruled well but _____, making closer friends with justice than with mercy.

- Ans
- 1. watches
 - 2. watchfully
 - 3. watch
 - 4. watching

Question Type : MCQ
Question ID : 264330136142
Option 1 ID : 264330533373
Option 2 ID : 264330533374
Option 3 ID : 264330533372
Option 4 ID : 264330533371
Status : Not Answered
Chosen Option : --

Q.19 Select the word segment that substitutes (replaces) the bracketed word segment correctly and completes the sentence meaningfully. Select the option 'no correction required' if the sentence is correct as given.
(The big the house), the more difficult it is to maintain it.

- Ans
- 1. The biggest the house
 - 2. No correction required
 - 3. The bigger the house
 - 4. The big house

Question Type : MCQ
Question ID : 264330135849
Option 1 ID : 264330532263
Option 2 ID : 264330532266
Option 3 ID : 264330532265
Option 4 ID : 264330532264
Status : Answered
Chosen Option : 4

Q.20 Select the most appropriate word for the given group of words.

Having a sharply strong taste or smell

- Ans
- 1. Pungent
 - 2. Remorse
 - 3. Alchemy
 - 4. Satire

Question Type : MCQ
Question ID : 264330136757
Option 1 ID : 264330535734
Option 2 ID : 264330535733
Option 3 ID : 264330535731
Option 4 ID : 264330535732
Status : Not Answered
Chosen Option : --

Comprehension:

In the following passage some words have been deleted. Fill in the blanks with the help of the alternatives given. Select the most appropriate option for each number.

Do you live in a house? You might be (1) _____ to learn that there are many, many kinds of (2) _____. Most people in the United States are used to live in houses made of wood or bricks. But many people around the world live in houses made of grass, dirt, or cloth.

In the Great Rift Valley of Eritrea, the nomadic people who are in the Atrtribe build their houses of straw. Their houses are shaped like (3) _____ – half spheres. The homes are small and cool. The people can move their houses when they want to move. Since the people are (4) _____, they move often. They (5) _____ their animals to new places in order to find food.

SubQuestion No : 21

Q.21 Select the most appropriate option to fill in the blank No. 1.

- Ans
- 1. surprised
 - 2. calculable
 - 3. soaked
 - 4. certain

Question Type : **MCQ**
Question ID : **264330135828**
Option 1 ID : **264330532181**
Option 2 ID : **264330532179**
Option 3 ID : **264330532182**
Option 4 ID : **264330532180**
Status : **Answered**
Chosen Option : 1

Comprehension:

In the following passage some words have been deleted. Fill in the blanks with the help of the alternatives given. Select the most appropriate option for each number.

Do you live in a house? You might be (1) _____ to learn that there are many, many kinds of (2) _____. Most people in the United States are used to live in houses made of wood or bricks. But many people around the world live in houses made of grass, dirt, or cloth.

In the Great Rift Valley of Eritrea, the nomadic people who are in the Atrtribe build their houses of straw. Their houses are shaped like (3) _____ – half spheres. The homes are small and cool. The people can move their houses when they want to move. Since the people are (4) _____, they move often. They (5) _____ their animals to new places in order to find food.

SubQuestion No : 22

Q.22 Select the most appropriate option to fill in the blank No. 2.

- Ans
- 1. bead houses
 - 2. birdhouses
 - 3. backhouses
 - 4. houses

Question Type : **MCQ**
Question ID : **264330135829**
Option 1 ID : **264330532185**
Option 2 ID : **264330532186**
Option 3 ID : **264330532183**
Option 4 ID : **264330532184**
Status : **Answered**
Chosen Option : 1

Comprehension:

In the following passage some words have been deleted. Fill in the blanks with the help of the alternatives given. Select the most appropriate option for each number.

Do you live in a house? You might be (1) _____ to learn that there are many, many kinds of (2) _____. Most people in the United States are used to live in houses made of wood or bricks. But many people around the world live in houses made of grass, dirt, or cloth.

In the Great Rift Valley of Eritrea, the nomadic people who are in the Atrtribe build their houses of straw. Their houses are shaped like (3) _____ – half spheres. The homes are small and cool. The people can move their houses when they want to move. Since the people are (4) _____, they move often. They (5) _____ their animals to new places in order to find food.

SubQuestion No : 23

Q.23 Select the most appropriate option to fill in the blank No. 3.

- Ans**
- 1. domes
 - 2. vault
 - 3. pantheon
 - 4. stars

Question Type : **MCQ**

Question ID : **264330135830**

Option 1 ID : **264330532188**

Option 2 ID : **264330532187**

Option 3 ID : **264330532189**

Option 4 ID : **264330532190**

Status : **Not Answered**

Chosen Option : --

Comprehension:

In the following passage some words have been deleted. Fill in the blanks with the help of the alternatives given. Select the most appropriate option for each number.

Do you live in a house? You might be (1) _____ to learn that there are many, many kinds of (2) _____. Most people in the United States are used to live in houses made of wood or bricks. But many people around the world live in houses made of grass, dirt, or cloth.

In the Great Rift Valley of Eritrea, the nomadic people who are in the Atrtribe build their houses of straw. Their houses are shaped like (3) _____ – half spheres. The homes are small and cool. The people can move their houses when they want to move. Since the people are (4) _____, they move often. They (5) _____ their animals to new places in order to find food.

SubQuestion No : 24

Q.24 Select the most appropriate option to fill in the blank No. 4.

- Ans**
- 1. nomads
 - 2. creative
 - 3. ill
 - 4. lost

Question Type : **MCQ**

Question ID : **264330135831**

Option 1 ID : **264330532193**

Option 2 ID : **264330532194**

Option 3 ID : **264330532192**

Option 4 ID : **264330532191**

Status : **Not Answered**

Chosen Option : --

Comprehension:

In the following passage some words have been deleted. Fill in the blanks with the help of the alternatives given. Select the most appropriate option for each number.

Do you live in a house? You might be (1) _____ to learn that there are many, many kinds of (2) _____. Most people in the United States are used to live in houses made of wood or bricks. But many people around the world live in houses made of grass, dirt, or cloth.

In the Great Rift Valley of Eritrea, the nomadic people who are in the Atrtribe build their houses of straw. Their houses are shaped like (3) _____ – half spheres. The homes are small and cool. The people can move their houses when they want to move. Since the people are (4) _____, they move often. They (5) _____ their animals to new places in order to find food.

SubQuestion No : 25

Q.25 Select the most appropriate option to fill in the blank No. 5.

- Ans
- 1. fetch
 - 2. take
 - 3. share
 - 4. offer

Question Type : **MCQ**

Question ID : **264330135832**

Option 1 ID : **264330532196**

Option 2 ID : **264330532195**

Option 3 ID : **264330532197**

Option 4 ID : **264330532198**

Status : **Answered**

Chosen Option : **2**