

Multi Tasking Non Technical Staff and Havaldar CBIC and CBN Examination 2022

Roll Number	
Candidate Name	
Venue Name	Info Educomonline Solution
Exam Date	20/06/2023
Exam Time	12:00 PM - 2:00 PM
Subject	MTS Non Tech Havaldar CBIC and CBN Examination 2022

Section : Numerical and Mathematical Ability

Q.1 15 परिणामों का औसत 52 है। यदि पहले 8 परिणामों का औसत 56 है और अंतिम 8 परिणामों का औसत 55 है, तो 8वें परिणाम का मान क्या होगा?

- Ans
- 1. 92
 - 2. 96
 - 3. 108
 - 4. 116

Question Type : MCQ

Question ID : 264330139020

Option 1 ID : 264330544688

Option 2 ID : 264330544689

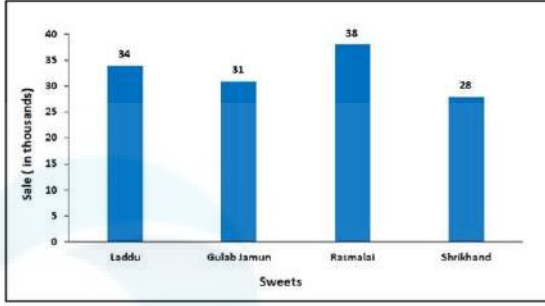
Option 3 ID : 264330544687

Option 4 ID : 264330544690

Status : Answered

Chosen Option : 3

Q.2 दिए गए आलेख में इस त्योहार के सीजन में विभिन्न मिठाइयों की बिक्री को दर्शाया गया है। किस मिठाई की सर्वाधिक बिक्री हुई?



Sale (in thousand) - बिक्री (हजार में), Sweets - मिठाई, Laddu - लड्डू, Gulab Jamun - गुलाब जामुन, Rasmalai - रसमलाई, Shrikhand - श्रीखंड

Ans

- 1. श्रीखंड
- 2. रसमलाई
- 3. लड्डू
- 4. गुलाब जामुन

Question Type : MCQ

Question ID : 264330140816

Option 1 ID : 264330551614

Option 2 ID : 264330551613

Option 3 ID : 264330551611

Option 4 ID : 264330551612

Status : Answered

Chosen Option : 2

Q.3 P, Q और R का अनुपात क्रमशः 2 : 5 : 7 है। यदि उनका योग 840 है, तो P और R में कितना अंतर है?

Ans

- 1. 300
- 2. 380
- 3. 200
- 4. 260

Question Type : MCQ

Question ID : 264330139959

Option 1 ID : 264330548217

Option 2 ID : 264330548218

Option 3 ID : 264330548215

Option 4 ID : 264330548216

Status : Answered

Chosen Option : 1

Q.4 एक व्यक्ति ने एक रुपए में 14 पेन की दर से कुछ पेन खरीदे और उन्हें एक रुपए में 10 पेन की दर से बेच दिया। उसका लाभ प्रतिशत क्या है?

- Ans
- ✓ 1. 40 प्रतिशत
 - ✗ 2. 45 प्रतिशत
 - ✗ 3. 50 प्रतिशत
 - ✗ 4. 30 प्रतिशत

Question Type : MCQ

Question ID : 264330140637

Option 1 ID : 264330550897

Option 2 ID : 264330550898

Option 3 ID : 264330550895

Option 4 ID : 264330550896

Status : Answered

Chosen Option : 1

Q.5 A अकेले किसी कार्य को 4 दिनों में कर सकता है, B अकेले उस कार्य को 6 दिनों में कर सकता है। दोनों मिलकर इसे कितने दिनों में कर सकते हैं?

- Ans
- ✗ 1. 7/12 दिनों
 - ✗ 2. 12/7 दिनों
 - ✗ 3. 5/12 दिनों
 - ✓ 4. 12/5 दिनों

Question Type : MCQ

Question ID : 264330140813

Option 1 ID : 264330551602

Option 2 ID : 264330551599

Option 3 ID : 264330551600

Option 4 ID : 264330551601

Status : Answered

Chosen Option : 4

Q.6 $[84 - (-8) \times \{16 - (11 - 3)\} + \{5 + (-8) \times (-4)\}]$ का मान निम्न में से किस के बीच स्थित है?

- Ans
- ✗ 1. 186 और 187
 - ✗ 2. 186 और 189
 - ✓ 3. 183 और 186
 - ✗ 4. -187 और -184

Question Type : MCQ

Question ID : 264330140822

Option 1 ID : 264330551637

Option 2 ID : 264330551638

Option 3 ID : 264330551636

Option 4 ID : 264330551635

Status : Answered

Chosen Option : 3

Q.7 एक मिश्रधातु में तॉबा, जस्ता और निकल क्रमशः 3:2:5 के अनुपात में हैं। इस मिश्रधातु के 100 kg में निकल की कितनी मात्रा (kg में) मिलाई जाए जिससे तॉबा, जस्ता और निकल का नया अनुपात क्रमशः 3:2:6 हो जाएगा?

- Ans
- ✓ 1. 10 kg
 - ✗ 2. 8 kg
 - ✗ 3. 15 kg
 - ✗ 4. 20 kg

Question Type : MCQ

Question ID : 264330138372

Option 1 ID : 264330542097

Option 2 ID : 264330542098

Option 3 ID : 264330542095

Option 4 ID : 264330542096

Status : Answered

Chosen Option : 1

Q.8 A, B से दोगुना कुशल है। A किसी कार्य को B की तुलना में 20 दिन कम में पूरा कर सकता है। यदि दोनों साथ मिलकर कार्य करें, तो यही कार्य कितने दिनों में पूरा होगा?

- Ans
- ✗ 1. 20 दिनों में
 - ✗ 2. 15 दिनों में
 - ✗ 3. $(27/2)$ दिनों में
 - ✓ 4. $(40/3)$ दिनों में

Question Type : MCQ

Question ID : 264330139609

Option 1 ID : 264330546851

Option 2 ID : 264330546853

Option 3 ID : 264330546854

Option 4 ID : 264330546852

Status : Answered

Chosen Option : 4

Q.9 एक वस्तु को Rs. 600 में बेचने पर प्राप्त लाभ उसी वस्तु को Rs. 400 में बेचने पर हुई हानि के बराबर है। यदि विक्रय मूल्य Rs. 750 है, तो लाभ प्रतिशत क्या है?

- Ans
- ✓ 1. 50 प्रतिशत
 - ✗ 2. 80 प्रतिशत
 - ✗ 3. 60 प्रतिशत
 - ✗ 4. 70 प्रतिशत

Question Type : MCQ

Question ID : 264330140540

Option 1 ID : 264330550515

Option 2 ID : 264330550518

Option 3 ID : 264330550516

Option 4 ID : 264330550517

Status : Answered

Chosen Option : 1

Q.10 यदि मोहन अपनी सामान्य चाल की 60 प्रतिशत चाल से यात्रा करता है, तो वह 10 मिनट देरी से पहुँचेगा। उसके द्वारा लिया गया सामान्य समय क्या है?

- Ans
- 1. 12.5 मिनट
 - 2. 15 मिनट
 - 3. 20 मिनट
 - 4. 10 मिनट

Question Type : MCQ

Question ID : 264330139590

Option 1 ID : 264330546777

Option 2 ID : 264330546775

Option 3 ID : 264330546776

Option 4 ID : 264330546778

Status : Answered

Chosen Option : 2

Q.11 एक व्यापारी ने Rs. 4296 के अंकित मूल्य वाले एक ट्रॉली बैग पर 20 प्रतिशत की छूट दी और 20 प्रतिशत का लाभ अर्जित किया। ट्रॉली बैग का क्रय मूल्य क्या है?

- Ans
- 1. Rs. 2572
 - 2. Rs. 2864
 - 3. Rs. 3026
 - 4. Rs. 2500

Question Type : MCQ

Question ID : 264330140643

Option 1 ID : 264330550919

Option 2 ID : 264330550922

Option 3 ID : 264330550920

Option 4 ID : 264330550921

Status : Answered

Chosen Option : 2

Q.12 एक गोलाकार गेंद की त्रिज्या 1.1 cm है। गेंद का पृष्ठीय क्षेत्रफल ज्ञात कीजिए।

- Ans
- 1. 11.2 cm²
 - 2. 16 cm²
 - 3. 15.2 cm²
 - 4. 12.1 cm²

Question Type : MCQ

Question ID : 264330138388

Option 1 ID : 264330542159

Option 2 ID : 264330542162

Option 3 ID : 264330542161

Option 4 ID : 264330542160

Status : Answered

Chosen Option : 3

Q.13 वह सबसे छोटी पूर्ण वर्ग संख्या कौन-सी है जो 8 और 12 दोनों से भाज्य है?

- Ans
- 1. 100
 - 2. 121
 - 3. 144
 - 4. 196

Question Type : MCQ
Question ID : 264330140626
Option 1 ID : 264330550853
Option 2 ID : 264330550854
Option 3 ID : 264330550852
Option 4 ID : 264330550851
Status : Answered
Chosen Option : 3

Q.14 यदि एक ठोस अर्धगोले के अगोलीय भाग का क्षेत्रफल 1560 m^2 है, तो अर्धगोले का कुल पृष्ठीय क्षेत्रफल कितना होगा?

- Ans
- 1. 4680 m^2
 - 2. 3120 m^2
 - 3. 5140 m^2
 - 4. 6240 m^2

Question Type : MCQ
Question ID : 264330138744
Option 1 ID : 264330543583
Option 2 ID : 264330543584
Option 3 ID : 264330543586
Option 4 ID : 264330543585
Status : Answered
Chosen Option : 1

Q.15 राहुल और रमन ने क्रमशः Rs.16000 और Rs.12000 का निवेश करके एक व्यवसाय शुरू किया। 4 महीने बाद, राहुल ने व्यवसाय छोड़ दिया और मोहन Rs.20000 का निवेश करके व्यवसाय में शामिल हो गया। वर्ष के अंत में, Rs.46000 का लाभ हुआ। लाभ में मोहन का हिस्सा कितना होगा?

- Ans
- 1. Rs.28700
 - 2. Rs.23400
 - 3. Rs.36800
 - 4. Rs.20000

Question Type : MCQ
Question ID : 264330139920
Option 1 ID : 264330548060
Option 2 ID : 264330548059
Option 3 ID : 264330548062
Option 4 ID : 264330548061
Status : Answered
Chosen Option : 4

Q.16 Rs.3500 की राशि दो हिस्सों में साधारण ब्याज पर ऋण पर दी जाती है। एक हिस्सा 7 प्रतिशत वार्षिक दर पर और दूसरा हिस्सा 5 प्रतिशत वार्षिक दर पर। यदि कुल वार्षिक ब्याज Rs.210 है, तो 7 प्रतिशत दर पर ऋण पर दी गई राशि कितनी है?

- Ans
- 1. Rs.1750
 - 2. Rs.2000
 - 3. Rs.2250
 - 4. Rs.1500

Question Type : MCQ

Question ID : 264330139922

Option 1 ID : 264330548068

Option 2 ID : 264330548067

Option 3 ID : 264330548069

Option 4 ID : 264330548070

Status : Answered

Chosen Option : 1

Q.17 $\frac{49}{8} \times \frac{2}{3} \div \frac{98}{16} \times \frac{12}{4}$ का मान क्या है?

- Ans
- 1. 1
 - 2. 2
 - 3. 7
 - 4. 9

Question Type : MCQ

Question ID : 264330140255

Option 1 ID : 264330549399

Option 2 ID : 264330549400

Option 3 ID : 264330549402

Option 4 ID : 264330549401

Status : Answered

Chosen Option : 2

Q.18 नीचे दी गई तालिका में 6 वस्तुओं का अंकित मूल्य और विक्रय मूल्य दर्शाया गया है।

वस्तुएँ	अंकित मूल्य	विक्रय मूल्य
A1	650	550
A2	500	350
A3	550	400
A4	350	300
A5	750	550
A6	250	200

बट्टा = अंकित मूल्य - विक्रय मूल्य

J1 = वस्तु A1, A2, A3 और A4 पर दिए गए बट्टों का औसत मूल्य।

J2 = सभी वस्तुओं के अंकित मूल्य और विक्रय मूल्य के बीच का अंतर।

(J2 - J1) का मान क्या है?

- Ans
- ✓ 1. 587.5
 - ✗ 2. 592.5
 - ✗ 3. 576.5
 - ✗ 4. 552.5

Question Type : MCQ

Question ID : 264330140171

Option 1 ID : 264330549063

Option 2 ID : 264330549065

Option 3 ID : 264330549064

Option 4 ID : 264330549066

Status : Answered

Chosen Option : 1

Q.19 एक व्यक्ति द्वारा Rs. 8500 के मूलधन पर 10 वर्षों में प्राप्त साधारण ब्याज मूलधन का 180 प्रतिशत है। वार्षिक ब्याज दर क्या है?

- Ans
- ✗ 1. 20 प्रतिशत
 - ✓ 2. 18 प्रतिशत
 - ✗ 3. 22.5 प्रतिशत
 - ✗ 4. 25 प्रतिशत

Question Type : MCQ

Question ID : 264330139026

Option 1 ID : 264330544712

Option 2 ID : 264330544711

Option 3 ID : 264330544713

Option 4 ID : 264330544714

Status : Answered

Chosen Option : 2

Q.20 7800 के 75 प्रतिशत के 32 प्रतिशत का मान क्या होगा?

Ans ✓ 1. 1872

✗ 2. 1850

✗ 3. 2042

✗ 4. 1952

Question Type : MCQ

Question ID : 264330139956

Option 1 ID : 264330548205

Option 2 ID : 264330548203

Option 3 ID : 264330548204

Option 4 ID : 264330548206

Status : Answered

Chosen Option : 1

Section : Reasoning Ability and Problem Solving

Q.1 उस विकल्प को चुनिए जो तीसरे अक्षर-समूह से ठीक उसी प्रकार संबंधित है जिस प्रकार दूसरा अक्षर-समूह पहले अक्षर-समूह से संबंधित है।
STUDY : TUVEZ :: HUMBLE : ?

Ans ✗ 1. INVCMF

✓ 2. IVNCFM

✗ 3. IVNCFM

✗ 4. IVNFCM

Question Type : MCQ

Question ID : 264330139992

Option 1 ID : 264330548348

Option 2 ID : 264330548350

Option 3 ID : 264330548347

Option 4 ID : 264330548349

Status : Answered

Chosen Option : 2

Q.2 सात लड़कियों आन्या, बीरा, किलयो, डायना, एली, फातिमा और जॉर्जिया में प्रत्येक की उम्र अलग-अलग है। फातिमा केवल किलयो से बड़ी है। बीरा केवल जॉर्जिया से छोटी है। डायना चार अन्य लड़कियों से बड़ी है। आन्या, एली से छोटी है। लड़कियों में चौथी सबसे बड़ी कौन है?

Ans ✗ 1. फातिमा

✗ 2. डायना

✗ 3. बीरा

✓ 4. एली

Question Type : MCQ

Question ID : 264330140420

Option 1 ID : 264330550062

Option 2 ID : 264330550060

Option 3 ID : 264330550059

Option 4 ID : 264330550061

Status : Answered

Chosen Option : 4

Q.3 उस विकल्प को चुनिए जो तीसरी संख्या से ठीक उसी तरह संबंधित है जिस तरह दूसरी संख्या पहली संख्या से संबंधित है।

11 : 1342 :: 7 : ?

- Ans
- 1. 350
 - 2. 250
 - 3. 360
 - 4. 340

Question Type : MCQ

Question ID : 264330140046

Option 1 ID : 264330548564

Option 2 ID : 264330548565

Option 3 ID : 264330548566

Option 4 ID : 264330548563

Status : Answered

Chosen Option : 1

Q.4 दी गई श्रृंखला में निम्नलिखित में से कौन-सी संख्या प्रश्न चिन्ह (?) के स्थान पर आएगी?
-67, -64, -58, -49, -37, -22, ?

- Ans
- 1. -4
 - 2. 2
 - 3. 4
 - 4. -2

Question Type : MCQ

Question ID : 264330140003

Option 1 ID : 264330548392

Option 2 ID : 264330548393

Option 3 ID : 264330548394

Option 4 ID : 264330548391

Status : Answered

Chosen Option : 1

Q.5 Rohan, Rajiv, Ritu, Rishav, and Ritika are sitting in a circle facing away from the centre. Rohan and Rajiv are not sitting together. Rishav and Ritika are sitting immediately next to each other, and Rajiv is sitting to the immediate left of Rishav. Who is sitting to the immediate left of Ritu?

- Ans
- 1. Rishav
 - 2. Ritika
 - 3. Rohan
 - 4. Rajiv

Question Type : MCQ

Question ID : 264330138795

Option 1 ID : 264330543789

Option 2 ID : 264330543790

Option 3 ID : 264330543787

Option 4 ID : 264330543788

Status : Answered

Chosen Option : 3

Q.6 एक निश्चित कूट भाषा में, 'GLAND' को '62437' लिखा जाता है, 'GRIND' को '34869' लिखा जाता है, 'MAIN' को '5692' लिखा जाता है। उस कूट भाषा में 'A' को कैसे लिखा जाएगा?

- Ans
- 1. 9
 - 2. 2
 - 3. 6
 - 4. 5

Question Type : MCQ

Question ID : 264330139572

Option 1 ID : 264330546705

Option 2 ID : 264330546706

Option 3 ID : 264330546704

Option 4 ID : 264330546703

Status : Answered

Chosen Option : 3

Q.7 तीन कथन दिए गए हैं और दो निष्कर्ष I और II दिए गए हैं। कथनों को सत्य मानते हुए, चाहे वे सामान्यतः ज्ञात तथ्यों से अलग प्रतीत होते हों, निश्चय कीजिए कि कौन-सा निष्कर्ष तार्किक रूप से कथनों के अनुसार है।
कथन:

कुछ घर, फ्लैट हैं।

कुछ फ्लैट, आलीशान हैं।

सभी आलीशान, महंगे हैं।

निष्कर्ष:

I. कुछ फ्लैट, महंगे हैं।

II. कुछ घर, आलीशान हैं।

- Ans
- 1. दोनों निष्कर्ष I और II कथनों के अनुसार हैं
 - 2. निष्कर्ष I और II में से कोई भी कथनों के अनुसार नहीं है
 - 3. सिर्फ निष्कर्ष I कथनों के अनुसार है
 - 4. सिर्फ निष्कर्ष II कथनों के अनुसार है

Question Type : MCQ

Question ID : 264330140402

Option 1 ID : 264330549989

Option 2 ID : 264330549990

Option 3 ID : 264330549987

Option 4 ID : 264330549988

Status : Answered

Chosen Option : 3

Q.8 दो कथन दिए गए हैं और दो निष्कर्ष I और II दिए गए हैं। कथनों को सत्य मानते हुए, चाहे वे सामान्यतः ज्ञात तथ्यों से अलग प्रतीत होते हों, निश्चय कीजिए कि कौन-सा निष्कर्ष तार्किक रूप से कथनों के अनुसार है।

कथन:

कोई सेब, स्वादिष्ट नहीं है।

कुछ स्वादिष्ट, कड़वे हैं।

निष्कर्ष:

I. कुछ सेब, कड़वे हैं।

II. कोई स्वादिष्ट, सेब नहीं है।

Ans

1. दोनों निष्कर्ष I और II कथनों के अनुसार हैं
2. सिर्फ निष्कर्ष II कथनों के अनुसार है
3. न तो निष्कर्ष I और न ही II कथनों के अनुसार है
4. सिर्फ निष्कर्ष I कथनों के अनुसार है

Question Type : MCQ

Question ID : 264330140042

Option 1 ID : 264330548549

Option 2 ID : 264330548548

Option 3 ID : 264330548550

Option 4 ID : 264330548547

Status : Answered

Chosen Option : 2

Q.9 कितने दो चिन्हों को आपस में बदलने पर दिए गए समीकरण का मान '11' होगा?

$$32 + 3 - 12 \div 18 \times 9$$

Ans

1. \div और $-$
2. \times और $-$
3. \div और \times
4. $+$ और $-$

Question Type : MCQ

Question ID : 264330140068

Option 1 ID : 264330548651

Option 2 ID : 264330548654

Option 3 ID : 264330548652

Option 4 ID : 264330548653

Status : Answered

Chosen Option : 3

Q.10 निम्नलिखित प्रश्न में, दी गई श्रृंखला में लुप्त संख्या को चुनिए।

4, 6, 8, 10, ?, 14

Ans 1. 11

2. 14

3. 12

4. 15

Question Type : MCQ

Question ID : 264330139579

Option 1 ID : 264330546734

Option 2 ID : 264330546732

Option 3 ID : 264330546731

Option 4 ID : 264330546733

Status : Answered

Chosen Option : 3

Q.11 एक निश्चित कूट भाषा में, 'LION' को 'MKPP' लिखा जाता है और 'DEER' को 'EGFT' लिखा जाता है। उस कूट भाषा में 'GOAT' को कैसे लिखा जाएगा?

Ans 1. HPBV

2. HQBV

3. HQCV

4. HQBU

Question Type : MCQ

Question ID : 264330140455

Option 1 ID : 264330550201

Option 2 ID : 264330550200

Option 3 ID : 264330550202

Option 4 ID : 264330550199

Status : Answered

Chosen Option : 2

Q.12 दिए गए समीकरण को सही करने के लिए किन दो चिन्हों को आपस में बदला जाना चाहिए?

$$8 = 5 - 31 + 12 \div 2 \times 15$$

Ans 1. \div और $-$

2. \times और $=$

3. $-$ और $+$

4. $+$ और \div

Question Type : MCQ

Question ID : 264330140089

Option 1 ID : 264330548735

Option 2 ID : 264330548737

Option 3 ID : 264330548736

Option 4 ID : 264330548738

Status : Answered

Chosen Option : 2

Q.13 उस विकल्प को चुनिए जिसमें समुच्चय की संख्याएँ वही संबंध साझा करती हैं जो दिए गए समुच्चय में संख्याओं द्वारा साझा किया जाता है। (ध्यान दें: संख्याओं को उनके घटक अंकों में अलग-अलग किए बिना, पूर्ण संख्याओं पर संक्रियाएँ की जानी चाहिए। उदा. 13 - 13 पर संक्रियाएँ जैसे 13 को जोड़ना /घटाना /गुणा करना आदि किया जा सकता है। 13 को 1 और 3 में अलग-अलग करने की और फिर 1 और 3 पर गणितीय संक्रियाएँ करने की अनुमति नहीं है।)

(500, 450, 400)

(600, 550, 500)

Ans ✓ 1. (400, 350, 300)

✗ 2. (800, 750, 650)

✗ 3. (350, 300, 200)

✗ 4. (300, 350, 250)

Question Type : MCQ

Question ID : 264330140067

Option 1 ID : 264330548648

Option 2 ID : 264330548650

Option 3 ID : 264330548649

Option 4 ID : 264330548647

Status : Answered

Chosen Option : 1

Q.14 उस विकल्प को चुनिए जो पाँचवें पद से ठीक उसी प्रकार संबंधित है जिस प्रकार दूसरा पद पहले पद से संबंधित है और चौथा पद तीसरे पद से संबंधित है।

ABC : EWJ :: JHK : NCR :: PMT : ?

Ans ✓ 1. THA

✗ 2. TGA

✗ 3. TJC

✗ 4. TIB

Question Type : MCQ

Question ID : 264330139570

Option 1 ID : 264330546696

Option 2 ID : 264330546695

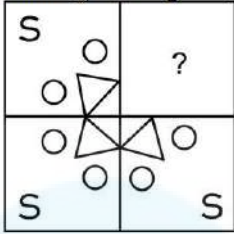
Option 3 ID : 264330546698

Option 4 ID : 264330546697

Status : Answered

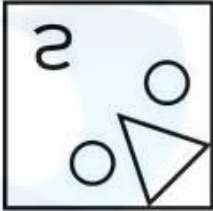
Chosen Option : 1

Q.15 उस विकल्प आकृति को चुनिए जो नीचे दी गई आकृति में पैटर्न को पूरा करने के लिए प्रश्न चिन्ह (?) के स्थान पर आएगी। (घूर्णन की अनुमति नहीं है)।

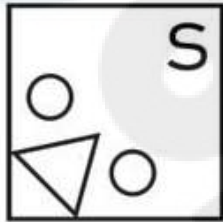


Ans

✗ 1.



✓ 2.



✗ 3.



✗ 4.



Question Type : MCQ

Question ID : 264330140152

Option 1 ID : 264330548987

Option 2 ID : 264330548990

Option 3 ID : 264330548988

Option 4 ID : 264330548989

Status : Answered

Chosen Option : 2

Q.16 दी गई श्रृंखला में निम्नलिखित में से कौन-सा अक्षर प्रश्न चिन्ह (?) के स्थान पर आएगा?
N, P, R, T, V, X, ?

- Ans
- 1. S
 - 2. M
 - 3. Z
 - 4. R

Question Type : MCQ

Question ID : 264330138766

Option 1 ID : 264330543674

Option 2 ID : 264330543671

Option 3 ID : 264330543672

Option 4 ID : 264330543673

Status : Answered

Chosen Option : 3

Q.17 एक निश्चित कूट भाषा में, 'PASTA' को 'AP19AT' लिखा जाता है। उस भाषा में 'VOCAL' को कैसे लिखा जाएगा?

- Ans
- 1. O3VLA
 - 2. OVL3A
 - 3. OU8AL
 - 4. OV3LA

Question Type : MCQ

Question ID : 264330137837

Option 1 ID : 264330539958

Option 2 ID : 264330539956

Option 3 ID : 264330539957

Option 4 ID : 264330539955

Status : Answered

Chosen Option : 4

Q.18

उस विकल्प आकृति को चुनिए जिसमें दी गई आकृति निहित है।(घूर्णन की अनुमति नहीं है)

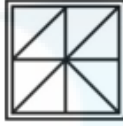


Ans

✗ 1.



✓ 2.



✗ 3.



✗ 4.



Question Type : MCQ

Question ID : 264330140973

Option 1 ID : 264330552240

Option 2 ID : 264330552239

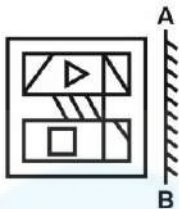
Option 3 ID : 264330552241

Option 4 ID : 264330552242

Status : Answered

Chosen Option : 2

Q.19 यदि एक दर्पण को रेखा AB पर रखा जाए, तो दी गई विकल्प आकृतियों में से कौन-सी आकृति प्रश्न आकृति का सही प्रतिबिम्ब होगी?

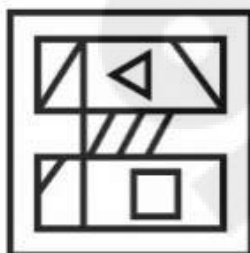


Ans

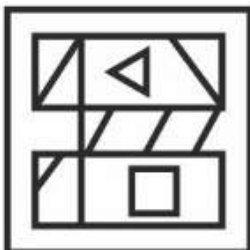
✗ 1.



✓ 2.



✗ 3.



✗ 4.



Question Type : MCQ

Question ID : 264330139566

Option 1 ID : 264330546680

Option 2 ID : 264330546682

Option 3 ID : 264330546681

Option 4 ID : 264330546679

Status : Answered

Chosen Option : 2

Q.20 तीन चिड़ियाएँ A, B और C एक विद्युत तार पर एक सीधी रेखा में दक्षिण की ओर मुख करके बैठी हैं। तीन कोवे X, Y, और Z एक दूसरे समानांतर विद्युत तार पर उत्तर की ओर मुख करके बैठे हैं। A, B के ठीक बाईं ओर बैठी है, और A का मुख Z की ओर है। यदि B, A और C के बीच में बैठी है, और C का मुख Y की ओर है, तो Y के ठीक दाईं ओर कौन बैठा है?

- Ans**
- ✓ 1. X
 - ✗ 2. Z
 - ✗ 3. B
 - ✗ 4. A

Question Type : **MCQ**

Question ID : **264330140018**

Option 1 ID : **264330548452**

Option 2 ID : **264330548451**

Option 3 ID : **264330548453**

Option 4 ID : **264330548454**

Status : **Answered**

Chosen Option : 1

Section : **General Awareness**

Q.1 फरवरी 2022 में, भारत सरकार ने यूक्रेन में फंसे भारतीयों को वापस लाने के लिए कौन-सा ऑपरेशन चलाया था?

- Ans**
- ✗ 1. ऑपरेशन फ्लड (Operation Flood)
 - ✓ 2. ऑपरेशन गंगा (Operation Ganga)
 - ✗ 3. ऑपरेशन कीव (Operation Kiev)
 - ✗ 4. ऑपरेशन मॉस्को (Operation Moscow)

Question Type : **MCQ**

Question ID : **264330140276**

Option 1 ID : **264330549483**

Option 2 ID : **264330549484**

Option 3 ID : **264330549485**

Option 4 ID : **264330549486**

Status : **Answered**

Chosen Option : 2

Q.2 वर्ष 1952 के ओलंपिक खेल निम्नलिखित में से किस शहर में आयोजित किए गए थे?

- Ans**
- ✗ 1. न्यूयॉर्क
 - ✗ 2. बर्लिन
 - ✗ 3. लंदन
 - ✓ 4. हेलसिंकी

Question Type : **MCQ**

Question ID : **264330139676**

Option 1 ID : **264330547119**

Option 2 ID : **264330547121**

Option 3 ID : **264330547120**

Option 4 ID : **264330547122**

Status : **Answered**

Chosen Option : 1

Q.3 "गलगंड" निम्नलिखित में से किस ग्रंथि की एक बीमारी है?

- Ans
- 1. अधिवृक्क ग्रंथि
 - 2. अग्न्याशय
 - 3. थाइराइड ग्रंथि
 - 4. पीयूष ग्रंथि

Question Type : MCQ
Question ID : 264330139737
Option 1 ID : 264330547365
Option 2 ID : 264330547366
Option 3 ID : 264330547363
Option 4 ID : 264330547364
Status : Answered
Chosen Option : 3

Q.4 निम्नलिखित में से कौन-सा कृषि आधारित उद्योग (agro-based industry) है?

- Ans
- 1. लोहा और इस्पात
 - 2. एल्यूमीनियम
 - 3. कोयला
 - 4. चीनी

Question Type : MCQ
Question ID : 264330140685
Option 1 ID : 264330551087
Option 2 ID : 264330551088
Option 3 ID : 264330551090
Option 4 ID : 264330551089
Status : Answered
Chosen Option : 4

Q.5 प्रसिद्ध पांडवलेनी गुफाएँ निम्नलिखित में से किस राज्य में स्थित हैं?

- Ans
- 1. उड़ीसा
 - 2. महाराष्ट्र
 - 3. बिहार
 - 4. केरल

Question Type : MCQ
Question ID : 264330140346
Option 1 ID : 264330549765
Option 2 ID : 264330549764
Option 3 ID : 264330549763
Option 4 ID : 264330549766
Status : Answered
Chosen Option : 1

Q.6 Snails is an example of which of the phylum of animal kingdom?

- Ans
- 1. Annelida
 - 2. Mollusca
 - 3. Protochordate
 - 4. Arthropoda

Question Type : MCQ

Question ID : 264330140937

Option 1 ID : 264330552096

Option 2 ID : 264330552098

Option 3 ID : 264330552095

Option 4 ID : 264330552097

Status : Answered

Chosen Option : 2

Q.7 भारत की समुद्री तट रेखा जिसमें अंडमान और निकोबार द्वीप समूह तथा लक्षद्वीप समूह भी शामिल हैं, _____ लंबी है।

- Ans
- 1. 7416.6 km
 - 2. 7616 km
 - 3. 7516.6 km
 - 4. 7716 km

Question Type : MCQ

Question ID : 264330139666

Option 1 ID : 264330547079

Option 2 ID : 264330547081

Option 3 ID : 264330547080

Option 4 ID : 264330547082

Status : Answered

Chosen Option : 1

Q.8 मल्लिका साराभाई को कला प्रदर्शन में उनके योगदान के लिए पद्म भूषण (2010) से सम्मानित किया गया था। वह किस नृत्य शैली के लिए जानी जाती थीं?

- Ans
- 1. कुचिपुड़ी और भरतनाट्यम
 - 2. मणिपुरी और ओडिसी
 - 3. कथकली और ओडिसी
 - 4. कथक और भरतनाट्यम

Question Type : MCQ

Question ID : 264330139680

Option 1 ID : 264330547135

Option 2 ID : 264330547136

Option 3 ID : 264330547138

Option 4 ID : 264330547137

Status : Answered

Chosen Option : 1

Q.9 निम्नलिखित पद - ड्रिब्लिंग (Dribbling), पासिंग (passing), शूटिंग (shooting) किस खेल से संबंधित हैं?

- Ans
- 1. निशानेबाजी
 - 2. बैडमिंटन
 - 3. क्रिकेट
 - 4. बास्केटबॉल

Question Type : MCQ
Question ID : 264330140884
Option 1 ID : 264330551883
Option 2 ID : 264330551886
Option 3 ID : 264330551885
Option 4 ID : 264330551884
Status : Answered
Chosen Option : 1

Q.10 2011 की जनगणना के अनुसार भारत में आदिवासियों की जनसंख्या (निकटतम मान) कितनी है?

- Ans
- 1. 16.45 करोड़
 - 2. 10.42 करोड़
 - 3. 12.45 करोड़
 - 4. 14.45 करोड़

Question Type : MCQ
Question ID : 264330139886
Option 1 ID : 264330547926
Option 2 ID : 264330547923
Option 3 ID : 264330547924
Option 4 ID : 264330547925
Status : Answered
Chosen Option : 2

Q.11 शकों पर विजय प्राप्त करने के पश्चात निम्नलिखित में से किसने 'विक्रमादित्य' की उपाधि धारण की थी?

- Ans
- 1. चंद्रगुप्त प्रथम
 - 2. कुमारगुप्त प्रथम
 - 3. चंद्रगुप्त द्वितीय
 - 4. स्कंदगुप्त

Question Type : MCQ
Question ID : 264330140944
Option 1 ID : 264330552125
Option 2 ID : 264330552124
Option 3 ID : 264330552126
Option 4 ID : 264330552123
Status : Answered
Chosen Option : 3

Q.12 लोक सभा के समक्ष वार्षिक बजट कौन प्रस्तुत करता है?

Ans ✓ 1. केंद्रीय वित्त मंत्री

✗ 2. गृहमंत्री

✗ 3. रक्षा मंत्री

✗ 4.

भारत के नियंत्रक एवं महालेखापरीक्षक (Comptroller and Auditor General of India)

Question Type : MCQ

Question ID : 264330140391

Option 1 ID : 264330549944

Option 2 ID : 264330549946

Option 3 ID : 264330549945

Option 4 ID : 264330549943

Status : Answered

Chosen Option : 1

Q.13 The upper portion of the mantle is called _____.

Ans ✗ 1. lithosphere

✓ 2. asthenosphere

✗ 3. barosphere

✗ 4. mesosphere

Question Type : MCQ

Question ID : 264330140325

Option 1 ID : 264330549679

Option 2 ID : 264330549680

Option 3 ID : 264330549681

Option 4 ID : 264330549682

Status : Answered

Chosen Option : 1

Q.14 पद, वेतन और सैन्य उत्तरदायित्व निर्धारित करने के लिए मुगलों द्वारा चलाई गई श्रेणी व्यवस्था को _____ कहा जाता था।

Ans ✗ 1. महालवाड़ी व्यवस्था

✓ 2. मनसबदारी व्यवस्था

✗ 3. इक्ता व्यवस्था

✗ 4. रैयतवाड़ी व्यवस्था

Question Type : MCQ

Question ID : 264330139770

Option 1 ID : 264330547498

Option 2 ID : 264330547495

Option 3 ID : 264330547496

Option 4 ID : 264330547497

Status : Answered

Chosen Option : 2

Q.15 भारत के पड़ोसी देश, बांग्लादेश की मुद्रा क्या है?

- Ans
- 1. नॉगत्रुम (Ngultrum)
 - 2. युआन (Yuan)
 - 3. टका (Taka)
 - 4. क्यात (Kyat)

Question Type : MCQ
Question ID : 264330140329
Option 1 ID : 264330549695
Option 2 ID : 264330549697
Option 3 ID : 264330549696
Option 4 ID : 264330549698
Status : Answered
Chosen Option : 3

Q.16 2022 की स्थिति के अनुसार, 2022 में पद्म श्री पुरस्कार से सम्मानित होने वाली भारत की अंतिम जीवित सदिर नर्तकी (Sadhira dancer) कौन हैं?

- Ans
- 1. मंजम्मा जोगति (Manjamma Jogati)
 - 2. आर मुथुकन्नमल (R Muthukannammal)
 - 3. बैसाली मोहंती (Baisali Mohanty)
 - 4. रुक्मिणी देवी अरुंडेल (Rukmini Devi Arundale)

Question Type : MCQ
Question ID : 264330140745
Option 1 ID : 264330551327
Option 2 ID : 264330551329
Option 3 ID : 264330551328
Option 4 ID : 264330551330
Status : Answered
Chosen Option : 1

Q.17 भारतीय संविधान में "संविधान संशोधन (Amendment of the Constitution)" की अवधारणा निम्नलिखित में से किस देश के संविधान से ली गई है?

- Ans
- 1. कनाडा
 - 2. दक्षिण अफ्रीका
 - 3. जर्मनी
 - 4. ऑस्ट्रेलिया

Question Type : MCQ
Question ID : 264330140362
Option 1 ID : 264330549830
Option 2 ID : 264330549829
Option 3 ID : 264330549827
Option 4 ID : 264330549828
Status : Answered
Chosen Option : 2

Q.18 निम्नलिखित में से कौन-सा नृत्य विशेष रूप से कामड (Kamad) जनजाति की महिलाओं द्वारा किया जाता है?

Ans 1. तेरहताली नृत्य (Terataal dance)

2. गरई नृत्य (Garai dance)

3. भूटिया नृत्य (Bhutia dance)

4. मुखौटा नृत्य (Mask dance)

Question Type : MCQ

Question ID : 264330140267

Option 1 ID : 264330549448

Option 2 ID : 264330549450

Option 3 ID : 264330549447

Option 4 ID : 264330549449

Status : Answered

Chosen Option : 1

Q.19 ग्राम सभा एक _____ के क्षेत्र में रहने वाले सभी वयस्कों की सभा होती है।

Ans 1. ज़िला

2. पंचायत

3. शहर

4. राज्य

Question Type : MCQ

Question ID : 264330139659

Option 1 ID : 264330547052

Option 2 ID : 264330547053

Option 3 ID : 264330547051

Option 4 ID : 264330547054

Status : Answered

Chosen Option : 2

Q.20 भारतीय संगीतकार उस्ताद अल्ला रक्खा कुरैशी का संबंध _____ वाद्ययंत्र से है।

Ans 1. सरोद

2. तबला

3. संतूर

4. बाँसुरी

Question Type : MCQ

Question ID : 264330140769

Option 1 ID : 264330551425

Option 2 ID : 264330551423

Option 3 ID : 264330551424

Option 4 ID : 264330551426

Status : Answered

Chosen Option : 1

Q.21 वर्ष 1773 में मुख्य रूप से बंगाल में ईस्ट इंडिया कंपनी के क्षेत्रों को नियंत्रित करने के लिए ब्रिटिश संसद ने कौन-सा एक्ट (अधिनियम) पारित किया गया था?

- Ans
- ✓ 1. रेग्युलेशन एक्ट
 - ✗ 2. चार्टर एक्ट
 - ✗ 3. इंडियन काउंसिल्स एक्ट
 - ✗ 4. गवर्नमेंट ऑफ इंडिया एक्ट

Question Type : MCQ
Question ID : 264330140332
Option 1 ID : 264330549710
Option 2 ID : 264330549707
Option 3 ID : 264330549708
Option 4 ID : 264330549709
Status : Answered
Chosen Option : 1

Q.22 Henry Louis Vivian Derozio was a teacher of which college in 1820s?

- Ans
- ✗ 1. Sanskrit college, Varanasi
 - ✗ 2. Indian Institute of science, Bangalore
 - ✗ 3. Banaras Engineering college, Varanasi
 - ✓ 4. Hindu college, Calcutta

Question Type : MCQ
Question ID : 264330140904
Option 1 ID : 264330551966
Option 2 ID : 264330551965
Option 3 ID : 264330551963
Option 4 ID : 264330551964
Status : Answered
Chosen Option : 1

Q.23 The materials, through which things can be seen, are called _____.

- Ans
- ✗ 1. translucent materials
 - ✗ 2. conductive materials
 - ✗ 3. opaque materials
 - ✓ 4. transparent materials

Question Type : MCQ
Question ID : 264330139664
Option 1 ID : 264330547072
Option 2 ID : 264330547074
Option 3 ID : 264330547073
Option 4 ID : 264330547071
Status : Answered
Chosen Option : 4

Q.24 Under which amendment act, article 51A (k) of the Indian constitution was inserted in the constitution?

- Ans
- 1. Eighty – second amendment Act
 - 2. Eighty – first amendment Act
 - 3. Eighty – sixth amendment Act
 - 4. Eighty – fourth amendment Act

Question Type : MCQ
Question ID : 264330138983
Option 1 ID : 264330544540
Option 2 ID : 264330544539
Option 3 ID : 264330544542
Option 4 ID : 264330544541
Status : Answered
Chosen Option : 1

Q.25 ब्रिटिश भारत के किस स्वतंत्रता सेनानी को "द्वि-राष्ट्र सिद्धांत का जनक (father of the two-nation theory)" माना जाता है?

- Ans
- 1. मोहम्मद अली जिन्ना
 - 2. बाल गंगाधर तिलक
 - 3. सैयद अहमद खान
 - 4. जवाहरलाल नेहरू

Question Type : MCQ
Question ID : 264330140922
Option 1 ID : 264330552035
Option 2 ID : 264330552037
Option 3 ID : 264330552038
Option 4 ID : 264330552036
Status : Answered
Chosen Option : 1

Section : English Language and Comprehension

Q.1 Select the word from the options which is exactly opposite in meaning to the bracketed word given in the sentence below.

The pandemic has seen soaring home prices and record housing (insecurity).

- Ans
- 1. Pretence
 - 2. Hesitancy
 - 3. Self-doubt
 - 4. Firmness

Question Type : MCQ
Question ID : 264330136429
Option 1 ID : 264330534478
Option 2 ID : 264330534477
Option 3 ID : 264330534476
Option 4 ID : 264330534475
Status : Answered
Chosen Option : 4

Q.2 Find the part of the given sentence that has an error in it. If there is no error, choose 'No error'.

Raising temperatures in the springtime signal plants and animals to come alive.

- Ans**
- 1. springtime signal plants and
 - 2. No error
 - 3. animals to come alive.
 - 4. Raising temperatures in the

Question Type : **MCQ**
Question ID : **264330135232**
Option 1 ID : **264330529852**
Option 2 ID : **264330529854**
Option 3 ID : **264330529853**
Option 4 ID : **264330529851**
Status : **Answered**
Chosen Option : **4**

Q.3 Select the most appropriate option to fill in the blank.

Bushfire in Australia has _____ the conditions of many animals in the forest.

- Ans**
- 1. worsened
 - 2. fortified
 - 3. maintained
 - 4. surpassed

Question Type : **MCQ**
Question ID : **264330135662**
Option 1 ID : **264330531546**
Option 2 ID : **264330531544**
Option 3 ID : **264330531543**
Option 4 ID : **264330531545**
Status : **Answered**
Chosen Option : **1**

Q.4 Four sentences are given, out of which three have spelling errors. Choose the sentence with all correctly spelt words.

- Ans**
- 1. Urban dwellers often accept noise as part of city life.
 - 2. She is going to divorce him on the grounds of adultery.
 - 3. Its sanctions are based on comparisons between the two companies.
 - 4. I was a bit depressed by our apparant lack of progress.

Question Type : **MCQ**
Question ID : **264330136584**
Option 1 ID : **264330535070**
Option 2 ID : **264330535069**
Option 3 ID : **264330535067**
Option 4 ID : **264330535068**
Status : **Answered**
Chosen Option : **1**

Q.5 Select the most appropriate meaning of the given idiom.

A bad egg

- Ans
- 1. To be frustrated
 - 2. To calm down
 - 3. A very small insignificant amount
 - 4. A bad person

Question Type : MCQ
Question ID : 264330136181
Option 1 ID : 264330533521
Option 2 ID : 264330533522
Option 3 ID : 264330533520
Option 4 ID : 264330533519
Status : Answered
Chosen Option : 4

Q.6 Identify the segment that contains a grammatical error. If there is no error, select 'No error'.

Eight years ago, she founded / Humans of Bombay, inspired of / the single idea – we all want to be heard.

- Ans
- 1. Eight years ago, she founded
 - 2. No error
 - 3. Humans of Bombay, inspired of
 - 4. the single idea – we all want to be heard.

Question Type : MCQ
Question ID : 264330136410
Option 1 ID : 264330534403
Option 2 ID : 264330534406
Option 3 ID : 264330534404
Option 4 ID : 264330534405
Status : Answered
Chosen Option : 3

Q.7 Select the most appropriate synonym of the given word.

Enthuse

- Ans
- 1. Fondle
 - 2. Lazy
 - 3. Carefree
 - 4. Unbothered

Question Type : MCQ
Question ID : 264330136577
Option 1 ID : 264330535042
Option 2 ID : 264330535041
Option 3 ID : 264330535039
Option 4 ID : 264330535040
Status : Answered
Chosen Option : 2

Q.8 Select the most appropriate option to fill in the blank.

Look in a mirror and take your _____ with each step.

- Ans
- 1. time
 - 2. plague
 - 3. ages
 - 4. hostage

Question Type : **MCQ**
Question ID : **264330135533**
Option 1 ID : **264330531037**
Option 2 ID : **264330531038**
Option 3 ID : **264330531036**
Option 4 ID : **264330531035**
Status : **Answered**
Chosen Option : **1**

Q.9 Identify the segment that contains a grammatical error. If there is no error, select 'No error'.

Have you ever gone into/ a high-street shop wearing/ a pair of cycling shorts?

- Ans
- 1. a pair of cycling shorts?
 - 2. No error
 - 3. Have you ever gone into
 - 4. a high-street shop wearing

Question Type : **MCQ**
Question ID : **264330136483**
Option 1 ID : **264330534681**
Option 2 ID : **264330534682**
Option 3 ID : **264330534679**
Option 4 ID : **264330534680**
Status : **Answered**
Chosen Option : **3**

Q.10 Select the most appropriate option to fill in the blank.

There was a general hesitation and _____ to ignore the problem.

- Ans
- 1. Deride
 - 2. Denigrate
 - 3. Disposition
 - 4. Demur

Question Type : **MCQ**
Question ID : **264330136542**
Option 1 ID : **264330534910**
Option 2 ID : **264330534909**
Option 3 ID : **264330534908**
Option 4 ID : **264330534907**
Status : **Answered**
Chosen Option : **3**

Q.11 Select the most appropriate option to substitute the bracketed segment in the given sentence. If there is no need to substitute it, select 'no substitution required'.

Though they allow celebrities and famous people to take pictures (inside the museum, but they does not allow the general public) to do the same.

- Ans**
- 1. inside the museum, they do not allow the general public
 - 2. inside the museum, but do not allowing the general public
 - 3. inside the museum, they does not allow general public
 - 4. No substitution required

Question Type : **MCQ**
Question ID : **264330136191**
Option 1 ID : **264330533561**
Option 2 ID : **264330533560**
Option 3 ID : **264330533559**
Option 4 ID : **264330533562**
Status : **Answered**
Chosen Option : **1**

Q.12 Select the most appropriate option to substitute the bracketed segment in the given sentence. If there is no need to substitute it, select 'no substitution required'.

I assisted him to undo the (task after I finished my work).

- Ans**
- 1. task after I will have finished my work
 - 2. No substitution required
 - 3. task after I will finish my work
 - 4. task after I had finished my work

Question Type : **MCQ**
Question ID : **264330135823**
Option 1 ID : **264330532164**
Option 2 ID : **264330532166**
Option 3 ID : **264330532163**
Option 4 ID : **264330532165**
Status : **Answered**
Chosen Option : **1**

Q.13 Improve the underlined part of the sentence. Choose 'No improvement' as an answer if the sentence is grammatically correct.

She was born with full sight and hearing.

- Ans**
- 1. fully sight
 - 2. full sighting
 - 3. No improvement
 - 4. full sighted

Question Type : **MCQ**
Question ID : **264330135642**
Option 1 ID : **264330531467**
Option 2 ID : **264330531469**
Option 3 ID : **264330531470**
Option 4 ID : **264330531468**
Status : **Answered**
Chosen Option : **2**

Q.14 Select the most appropriate word for the given group of words.

The branch of physics concerned with the properties of sound

- Ans
- 1. Acoustics
 - 2. Anarchist
 - 3. Anchor
 - 4. Apiary

Question Type : **MCQ**
Question ID : **264330135677**
Option 1 ID : **264330531601**
Option 2 ID : **264330531600**
Option 3 ID : **264330531599**
Option 4 ID : **264330531602**
Status : **Answered**
Chosen Option : 1

Q.15 Select the most appropriate word for the given group of words.

A historical account or biography written from personal knowledge

- Ans
- 1. Chronicle
 - 2. Blog
 - 3. Thesis
 - 4. Memoir

Question Type : **MCQ**
Question ID : **264330135860**
Option 1 ID : **264330532305**
Option 2 ID : **264330532303**
Option 3 ID : **264330532306**
Option 4 ID : **264330532304**
Status : **Answered**
Chosen Option : 1

Q.16 Fill in the blank with the most appropriate option.

Harry stepped in, his head almost _____ the sloping ceiling, and blinked.

- Ans
- 1. embracing
 - 2. grasping
 - 3. touching
 - 4. cuddling

Question Type : **MCQ**
Question ID : **264330136567**
Option 1 ID : **264330535003**
Option 2 ID : **264330535004**
Option 3 ID : **264330535006**
Option 4 ID : **264330535005**
Status : **Answered**
Chosen Option : 3

Q.17 Select the most appropriate antonym of the given word.

Satisfactory

- Ans
- 1. Diminish
 - 2. Inadequate
 - 3. Morose
 - 4. Revive

Question Type : MCQ

Question ID : 264330135837

Option 1 ID : 264330532217

Option 2 ID : 264330532215

Option 3 ID : 264330532216

Option 4 ID : 264330532218

Status : Answered

Chosen Option : 2

Q.18 Four words are given, out of which three words are spelt correctly. Choose the incorrectly spelt word.

- Ans
- 1. UNFORESEEN
 - 2. STILETTOS
 - 3. VISCIOUS
 - 4. BEWILDERS

Question Type : MCQ

Question ID : 264330136287

Option 1 ID : 264330533927

Option 2 ID : 264330533929

Option 3 ID : 264330533928

Option 4 ID : 264330533930

Status : Answered

Chosen Option : 2

Q.19 The statement below has been given with bracketed text. Select the option with correct idiom for the bracketed text.

You all look great in your costumes! (Good luck!)

- Ans
- 1. Break a leg
 - 2. Spit it out
 - 3. Come again
 - 4. Don't swear it

Question Type : MCQ

Question ID : 264330136156

Option 1 ID : 264330533425

Option 2 ID : 264330533423

Option 3 ID : 264330533426

Option 4 ID : 264330533424

Status : Answered

Chosen Option : 1

Q.20 Select the word from the options which is similar in meaning to the bracketed part given in the sentence below.

I was (feeling afraid) that something bad would happen.

- Ans**
- 1. Divine
 - 2. Sacred
 - 3. Scared
 - 4. Bold

Question Type : **MCQ**

Question ID : **264330135862**

Option 1 ID : **264330532314**

Option 2 ID : **264330532312**

Option 3 ID : **264330532311**

Option 4 ID : **264330532313**

Status : **Answered**

Chosen Option : **3**

Comprehension:

In the following passage some words have been deleted. Fill in the blanks with the help of the alternatives given. Select the most appropriate option for each number.

Metal allergies can begin to act up (1) _____ minutes of putting earrings in your ears. Some people can go a few hours before having to (2) _____ the earrings out, but some can barely stand the (3) _____ enough to bother putting earrings in at all. This can be discouraging for those of us (4) _____ love to wear earrings, but fortunately hypoallergenic jewellery for (5) _____ ears exists!

SubQuestion No : 21

Q.21 Select the most appropriate option to fill in the blank No. 1.

- Ans**
- 1. with
 - 2. of
 - 3. about
 - 4. within

Question Type : **MCQ**

Question ID : **264330136144**

Option 1 ID : **264330533376**

Option 2 ID : **264330533375**

Option 3 ID : **264330533378**

Option 4 ID : **264330533377**

Status : **Answered**

Chosen Option : **4**

Comprehension:

In the following passage some words have been deleted. Fill in the blanks with the help of the alternatives given. Select the most appropriate option for each number.

Metal allergies can begin to act up (1) _____ minutes of putting earrings in your ears. Some people can go a few hours before having to (2) _____ the earrings out, but some can barely stand the (3) _____ enough to bother putting earrings in at all. This can be discouraging for those of us (4) _____ love to wear earrings, but fortunately hypoallergenic jewellery for (5) _____ ears exists!

SubQuestion No : 22

Q.22 Select the most appropriate option to fill in the blank No. 2.

- Ans**
- 1. take
 - 2. expel
 - 3. make
 - 4. hand

Question Type : **MCQ**

Question ID : **264330136145**

Option 1 ID : **264330533379**

Option 2 ID : **264330533382**

Option 3 ID : **264330533380**

Option 4 ID : **264330533381**

Status : **Answered**

Chosen Option : **3**

Comprehension:

In the following passage some words have been deleted. Fill in the blanks with the help of the alternatives given. Select the most appropriate option for each number.

Metal allergies can begin to act up (1) _____ minutes of putting earrings in your ears. Some people can go a few hours before having to (2) _____ the earrings out, but some can barely stand the (3) _____ enough to bother putting earrings in at all. This can be discouraging for those of us (4) _____ love to wear earrings, but fortunately hypoallergenic jewellery for (5) _____ ears exists!

SubQuestion No : 23

Q.23 Select the most appropriate option to fill in the blank No. 3.

- Ans**
- 1. bomb
 - 2. burn
 - 3. knife
 - 4. discomfort

Question Type : **MCQ**

Question ID : **264330136146**

Option 1 ID : **264330533384**

Option 2 ID : **264330533383**

Option 3 ID : **264330533385**

Option 4 ID : **264330533386**

Status : **Answered**

Chosen Option : **4**

Comprehension:

In the following passage some words have been deleted. Fill in the blanks with the help of the alternatives given. Select the most appropriate option for each number.

Metal allergies can begin to act up (1) _____ minutes of putting earrings in your ears. Some people can go a few hours before having to (2) _____ the earrings out, but some can barely stand the (3) _____ enough to bother putting earrings in at all. This can be discouraging for those of us (4) _____ love to wear earrings, but fortunately hypoallergenic jewellery for (5) _____ ears exists!

SubQuestion No : 24

Q.24 Select the most appropriate option to fill in the blank No. 4.

- Ans**
- 1. who
 - 2. whom
 - 3. which
 - 4. that

Question Type : **MCQ**

Question ID : **264330136147**

Option 1 ID : **264330533388**

Option 2 ID : **264330533390**

Option 3 ID : **264330533387**

Option 4 ID : **264330533389**

Status : **Answered**

Chosen Option : **1**

Comprehension:

In the following passage some words have been deleted. Fill in the blanks with the help of the alternatives given. Select the most appropriate option for each number.

Metal allergies can begin to act up (1) _____ minutes of putting earrings in your ears. Some people can go a few hours before having to (2) _____ the earrings out, but some can barely stand the (3) _____ enough to bother putting earrings in at all. This can be discouraging for those of us (4) _____ love to wear earrings, but fortunately hypoallergenic jewellery for (5) _____ ears exists!

SubQuestion No : 25

Q.25 Select the most appropriate option to fill in the blank No. 5.

- Ans**
- 1. soft
 - 2. modern
 - 3. sensitive
 - 4. rustic

Question Type : **MCQ**

Question ID : **264330136148**

Option 1 ID : **264330533394**

Option 2 ID : **264330533391**

Option 3 ID : **264330533393**

Option 4 ID : **264330533392**

Status : **Answered**

Chosen Option : **3**