

## Multi Tasking Non Technical Staff and Havaldar CBIC and CBN Examination 2022

Roll Number	
Candidate Name	
Venue Name	iON Digital Zone iDZ 1 Sector 62
Exam Date	20/06/2023
Exam Time	3:30 PM - 5:00 PM
Subject	MTS Non Tech Havaldar CBIC and CBN Examination 2022

Section : Numerical and Mathematical Ability

Q.1  $\frac{13 \times 14 + 25 \times 14 - 38 \times 14}{14 \text{ of } 2 - 7}$  का मान क्या है?

- Ans
- ✓ 1. 0
  - ✗ 2. 14
  - ✗ 3. 7
  - ✗ 4. 1

Question Type : MCQ

Question ID : 264330140189

Option 1 ID : 264330549135

Option 2 ID : 264330549137

Option 3 ID : 264330549138

Option 4 ID : 264330549136

Status : Answered

Chosen Option : 1

Q.2 नीचे दी गई तालिका में 5 बल्लेबाजों द्वारा बनाए गए रनों की संख्या और खेले गई गेंदों की संख्या को दर्शाया गया है।

बल्लेबाज	बनाए गए रनों की संख्या	खेले गई गेंदों की संख्या
P	70	25
Q	80	60
R	90	50
S	110	160
T	40	40

$$\text{Strike rate} = \frac{\text{Number of runs scored}}{\text{Number of balls played}} \times 100$$

$$\text{स्ट्राइक रेट} = (\text{बनाए गए रनों की संख्या} / \text{खेले गई गेंदों की संख्या}) \times 100$$

किस बल्लेबाज का स्ट्राइक रेट सबसे अधिक है?

- Ans
- 1. S
  - 2. R
  - 3. P
  - 4. Q

Question Type : MCQ

Question ID : 264330139969

Option 1 ID : 264330548258

Option 2 ID : 264330548255

Option 3 ID : 264330548256

Option 4 ID : 264330548257

Status : Answered

Chosen Option : 4

Q.3 रोहन साधारण ब्याज पर एक निश्चित राशि ऋण पर लेता है। ब्याज दर, पहले 3 वर्षों के लिए 3 प्रतिशत वार्षिक, अगले 5 वर्षों के लिए 4 प्रतिशत वार्षिक और अगले 7 वर्षों के लिए 6 प्रतिशत वार्षिक है। यदि वह ब्याज के रूप में Rs.2485 का भुगतान करता है, तो ऋण पर ली गई राशि कितनी है?

- Ans
- 1. Rs. 2500
  - 2. Rs. 4000
  - 3. Rs. 3500
  - 4. Rs. 3600

Question Type : MCQ

Question ID : 264330139902

Option 1 ID : 264330547988

Option 2 ID : 264330547987

Option 3 ID : 264330547989

Option 4 ID : 264330547990

Status : Answered

Chosen Option : 3

Q.4 एक शेल्फ में, सफेद कवर वाली पुस्तकें और नारंगी कवर वाली पुस्तकें 12:21 के अनुपात में हैं। यदि नारंगी कवर वाली 945 पुस्तकें हैं, तो सफेद कवर वाली पुस्तकों की संख्या है:

- Ans
- 1. 1485
  - 2. 540
  - 3. 840
  - 4. 645

Question Type : MCQ  
Question ID : 264330139046  
Option 1 ID : 264330544791  
Option 2 ID : 264330544792  
Option 3 ID : 264330544794  
Option 4 ID : 264330544793  
Status : Answered  
Chosen Option : 2

Q.5  $\{15 \times 32 \div 2 \times 5\} \div X = 16$  के लिए X का मान ज्ञात कीजिए।

- Ans
- 1. 78
  - 2. 75
  - 3. 55
  - 4. 76

Question Type : MCQ  
Question ID : 264330140777  
Option 1 ID : 264330551455  
Option 2 ID : 264330551457  
Option 3 ID : 264330551458  
Option 4 ID : 264330551456  
Status : Answered  
Chosen Option : 2

Q.6 यदि P का 60 प्रतिशत = Q का  $(6/7)$  है, तो P : Q का मान क्या है?

- Ans
- 1. 18 : 5
  - 2. 9 : 5
  - 3. 10 : 7
  - 4. 17 : 19

Question Type : MCQ  
Question ID : 264330140616  
Option 1 ID : 264330550813  
Option 2 ID : 264330550812  
Option 3 ID : 264330550811  
Option 4 ID : 264330550814  
Status : Answered  
Chosen Option : 3

Q.7 एक कमरे की लंबाई, चौड़ाई, ऊँचाई क्रमशः 6 m, 4 m 80 cm और 3 m 60 cm है। उस सबसे लंबे टेप की लंबाई ज्ञात कीजिए जो कमरे के आयामों को सटीक रूप से माप सकता है।

- Ans
- 1. 1 m 50 cm
  - 2. 1 m 80 cm
  - 3. 1 m 40 cm
  - 4. 1 m 20 cm

Question Type : MCQ

Question ID : 264330139031

Option 1 ID : 264330544731

Option 2 ID : 264330544733

Option 3 ID : 264330544732

Option 4 ID : 264330544734

Status : Answered

Chosen Option : 3

Q.8 एक आयत का परिमाण 30 cm है। यदि आयत की लम्बाई उसकी चौड़ाई की दुगुनी है, तो उसके विकर्ण की लम्बाई क्या है?

- Ans
- 1.  $5\sqrt{4}$  cm
  - 2.  $3\sqrt{2}$  cm
  - 3.  $5\sqrt{5}$  cm
  - 4.  $4\sqrt{5}$  cm

Question Type : MCQ

Question ID : 264330140167

Option 1 ID : 264330549050

Option 2 ID : 264330549047

Option 3 ID : 264330549049

Option 4 ID : 264330549048

Status : Answered

Chosen Option : 3

Q.9 P अकेले किसी कार्य को 10 दिनों में कर सकता है, Q अकेले उसी कार्य को 15 दिनों में कर सकता है और R अकेले उसी कार्य को 12 दिनों में कर सकता है। वे साथ मिलकर कार्य पूरा करते हैं और Rs.3000 कमाते हैं। इसमें R का हिस्सा कितना है?

- Ans
- 1. Rs. 1200
  - 2. Rs. 1500
  - 3. Rs. 1000
  - 4. Rs. 800

Question Type : MCQ

Question ID : 264330140173

Option 1 ID : 264330549072

Option 2 ID : 264330549074

Option 3 ID : 264330549071

Option 4 ID : 264330549073

Status : Answered

Chosen Option : 3

Q.10 एक व्यापारी Rs. 30 per kg मूल्य वाले 20 किलो चावल को दूसरी किस्म के Rs. 30 per kg मूल्य वाले 20 किलो चावल के साथ मिलाता है और मिश्रण को Rs. 33 per kg के मूल्य पर बेचता है। उसका लाभ प्रतिशत है:

- Ans
- 1. 18%
  - 2. 20%
  - 3. 10%
  - 4. 12%

Question Type : MCQ

Question ID : 264330140804

Option 1 ID : 264330551565

Option 2 ID : 264330551566

Option 3 ID : 264330551563

Option 4 ID : 264330551564

Status : Answered

Chosen Option : 3

Q.11 शिवम ने दो घड़ियाँ खरीदीं, पहली Rs. 12000 में और दूसरी Rs. 16000 में। उसने दोनों घड़ियाँ बेच दीं, पहली 10 प्रतिशत के लाभ पर और दूसरी 10 प्रतिशत की हानि पर। कुल हानि या लाभ कितना है?

- Ans
- 1. लाभ = Rs. 200
  - 2. लाभ = Rs. 600
  - 3. हानि = Rs. 400
  - 4. हानि = Rs. 800

Question Type : MCQ

Question ID : 264330139635

Option 1 ID : 264330546955

Option 2 ID : 264330546956

Option 3 ID : 264330546957

Option 4 ID : 264330546958

Status : Answered

Chosen Option : 3

Q.12 एक कार क्रमशः 20 km/hr, 40 km/hr और 60 km/hr की चाल से 2 km की 3 क्रमिक दूरियाँ तय करती है। कार की औसत चाल है:

- Ans
- 1. 32.72 km/hr
  - 2. 42.12 km/hr
  - 3. 40.50 km/hr
  - 4. 38.56 km/hr

Question Type : MCQ

Question ID : 264330139040

Option 1 ID : 264330544767

Option 2 ID : 264330544768

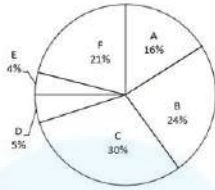
Option 3 ID : 264330544770

Option 4 ID : 264330544769

Status : Answered

Chosen Option : 1

**Q.13** नीचे दिए गए वृत्त आलेख में 6 अलग-अलग कारखानों द्वारा किए गए उत्पादन को दर्शाया गया है। इन सभी 6 कारखानों द्वारा किया गया कुल उत्पादन 1400 है। इनमें से किसी एक विशिष्ट कारखाने द्वारा किए गए उत्पादन को इन सभी 6 कारखानों द्वारा किए गए कुल उत्पादन के प्रतिशत के रूप में दर्शाया गया है।



निम्नलिखित में से कौन-सा कथन सही है?

- वृत्तखंड A और C द्वारा मिलकर बनाया गया केंद्रीय कोण  $156.6^\circ$  है।
- वृत्तखंड B, D और F द्वारा मिलकर बनाया गया केंद्रीय कोण  $180^\circ$  है।

Ans

- 1. I और II दोनों
- 2. केवल I
- 3. न तो I और न ही II
- 4. केवल II

Question Type : MCQ

Question ID : 264330140212

Option 1 ID : 264330549229

Option 2 ID : 264330549227

Option 3 ID : 264330549230

Option 4 ID : 264330549228

Status : Answered

Chosen Option : 4

**Q.14** पीतल में ताँबे और जस्ते का अनुपात 7 : 3 है। 200 kg पीतल में ताँबे की कितनी मात्रा होगी?

Ans

- 1. 120 kg
- 2. 140 kg
- 3. 60 kg
- 4. 160 kg

Question Type : MCQ

Question ID : 264330139636

Option 1 ID : 264330546959

Option 2 ID : 264330546961

Option 3 ID : 264330546960

Option 4 ID : 264330546962

Status : Answered

Chosen Option : 2

Q.15 1.3 किलोमीटर प्रति घंटे को मीटर प्रति सेकंड में बदलें।

- Ans
- ✗ 1. 11/54 m/s
  - ✗ 2. 14/48 m/s
  - ✗ 3. 13/65 m/s
  - ✓ 4. 13/36 m/s

Question Type : MCQ  
Question ID : 264330140789  
Option 1 ID : 264330551505  
Option 2 ID : 264330551504  
Option 3 ID : 264330551506  
Option 4 ID : 264330551503  
Status : Answered  
Chosen Option : 4

Q.16 एक घनाभ की लंबाई और चौड़ाई का योग 40 cm है। यदि घनाभ की ऊँचाई उसकी लंबाई और चौड़ाई के योग का 1/5 भाग है, तो घनाभ का पार्श्व पृष्ठीय क्षेत्रफल क्या है?

- Ans
- ✓ 1.  $640 \text{ cm}^2$
  - ✗ 2.  $320 \text{ cm}^2$
  - ✗ 3.  $580 \text{ cm}^2$
  - ✗ 4.  $720 \text{ cm}^2$

Question Type : MCQ  
Question ID : 264330139904  
Option 1 ID : 264330547998  
Option 2 ID : 264330547995  
Option 3 ID : 264330547996  
Option 4 ID : 264330547997  
Status : Not Attempted and Marked For Review  
Chosen Option : --

Q.17 Rs. 165400 पर 4 वर्षों के लिए 5% वार्षिक दर पर वार्षिक रूप से संयोजित चक्रवृद्धि ब्याज ज्ञात कीजिए।

- Ans
- ✗ 1. Rs. 54367.6
  - ✗ 2. Rs. 34564.98
  - ✗ 3. Rs. 34527.87
  - ✓ 4. Rs. 35644.73

Question Type : MCQ  
Question ID : 264330140788  
Option 1 ID : 264330551499  
Option 2 ID : 264330551501  
Option 3 ID : 264330551500  
Option 4 ID : 264330551502  
Status : Answered  
Chosen Option : 2

Q.18 पंकज Rs.1000 में एक घड़ी खरीदता है। वह घड़ी को 20 प्रतिशत के बड़े पर बेचता है और 40 प्रतिशत का लाभ अर्जित करता है। घड़ी का अंकित मूल्य क्या है?

- Ans
- 1. Rs.1640
  - 2. Rs.1880
  - 3. Rs.1750
  - 4. Rs.1980

Question Type : MCQ

Question ID : 264330140185

Option 1 ID : 264330549121

Option 2 ID : 264330549119

Option 3 ID : 264330549120

Option 4 ID : 264330549122

Status : Answered

Chosen Option : 3

Q.19 एक परीक्षा में 6000 छात्रों में से 60% लड़के और 90% लड़कियाँ उत्तीर्ण होती हैं। यदि कुल उत्तीर्ण प्रतिशत 65% था तो लड़कों की संख्या कितनी है?

- Ans
- 1. 5500
  - 2. 5000
  - 3. 3500
  - 4. 4500

Question Type : MCQ

Question ID : 264330133630

Option 1 ID : 264330523545

Option 2 ID : 264330523543

Option 3 ID : 264330523546

Option 4 ID : 264330523544

Status : Answered

Chosen Option : 2

Q.20 यदि A किसी कार्य का 20 प्रतिशत 6 दिनों में कर सकता है, तो A पूरे कार्य को कितने दिनों में समाप्त कर सकता है?

- Ans
- 1. 25 दिन
  - 2. 30 दिन
  - 3. 15 दिन
  - 4. 60 दिन

Question Type : MCQ

Question ID : 264330139628

Option 1 ID : 264330546929

Option 2 ID : 264330546927

Option 3 ID : 264330546928

Option 4 ID : 264330546930

Status : Answered

Chosen Option : 2

Q.1 दिए गए समीकरण को सही करने के लिए किन दो संख्याओं को आपस में बदला जाना चाहिए?

$$1 \times 4 + 3 - 5 = 6$$

Ans  1. 5 और 3

2. 4 और 5

3. 3 और 6

4. 1 और 5

Question Type : MCQ

Question ID : 264330138782

Option 1 ID : 264330543736

Option 2 ID : 264330543737

Option 3 ID : 264330543738

Option 4 ID : 264330543735

Status : Answered

Chosen Option : 1

Q.2 उस विकल्प को चुनिए जो तीसरे शब्द से ठीक उसी प्रकार संबंधित है जिस प्रकार दूसरा शब्द पहले शब्द से संबंधित है।

दूगली : कोलकाता :: गंगा : ?

Ans  1. बैंगलोर

2. अयोध्या

3. चेन्नई

4. पटना

Question Type : MCQ

Question ID : 264330141202

Option 1 ID : 264330553146

Option 2 ID : 264330553145

Option 3 ID : 264330553143

Option 4 ID : 264330553144

Status : Answered

Chosen Option : 4

**Q.3** दो कथन दिए गए हैं और दो निष्कर्ष I और II दिए गए हैं। कथनों को सत्य मानते हुए, चाहे वे सामान्यतः ज्ञात तथ्यों से अलग प्रतीत होते हों, निश्चय कीजिए कि कौन-सा निष्कर्ष तार्किक रूप से कथनों के अनुसार है।

कथन:

सभी श्रृंखला, वृत्त हैं।

कोई श्रृंखला, वर्ग नहीं है।

निष्कर्ष:

I. कुछ वृत्त, वर्ग हैं।

II. कुछ वृत्त, श्रृंखला हैं।

Ans

1. दोनों निष्कर्ष I और II कथनों के अनुसार हैं।

2. केवल निष्कर्ष II कथनों के अनुसार है।

3. केवल निष्कर्ष I कथनों के अनुसार है।

4. न तो निष्कर्ष I और न ही II कथनों के अनुसार है।

Question Type : MCQ

Question ID : 264330140421

Option 1 ID : 264330550065

Option 2 ID : 264330550064

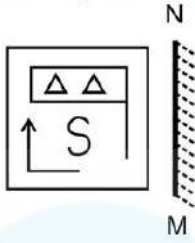
Option 3 ID : 264330550063

Option 4 ID : 264330550066

Status : Answered

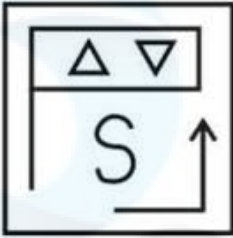
Chosen Option : 2

Q.4 दी गई आकृति के उस सही दर्पण प्रतिबिंब को चुनिए, जो दर्पण को आकृति के दाईं ओर रखने पर बनेगा।

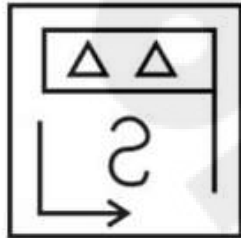


Ans

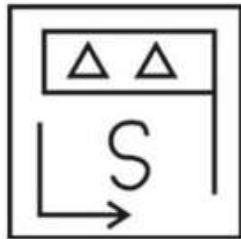
✗ 1.



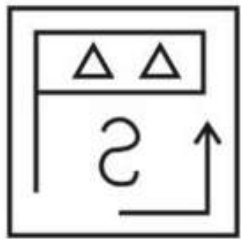
✗ 2.



✗ 3.



✓ 4.



Question Type : MCQ

Question ID : 264330135366

Option 1 ID : 264330530373

Option 2 ID : 264330530372

Option 3 ID : 264330530371

Option 4 ID : 264330530374

Status : Answered

Chosen Option : 4

Q.5 एक परीक्षा भवन में सात छात्र अंकित, छोटू, जितिन, केजल, नीतू, पीयूष और सक्षम एक पंक्ति में उत्तर की ओर मुख करके बैठे हैं परंतु जरूरी नहीं कि वे इसी क्रम में बैठे हों। छोटू, सक्षम के दाईं ओर से तीसरे स्थान पर बैठा है। अंकित और पीयूष, छोटू के निकटतम पड़ोसी हैं। पीयूष और सक्षम के बीच दो से अधिक छात्र बैठे हैं। जितिन, नीतू का एकमात्र पड़ोसी है। जितिन, अंकित के दाईं ओर बैठा है। केजल के सन्दर्भ में नीतू का स्थान कौन-सा है?

- Ans
- ✓ 1. दाईं ओर से पाँचवाँ
  - ✗ 2. दाईं ओर से तीसरा
  - ✗ 3. बाईं ओर से पाँचवाँ
  - ✗ 4. बाईं ओर से तीसरा

Question Type : MCQ  
Question ID : 264330140040  
Option 1 ID : 264330548540  
Option 2 ID : 264330548539  
Option 3 ID : 264330548542  
Option 4 ID : 264330548541  
Status : Answered  
Chosen Option : 1

Q.6 सात छात्रों एनी, बिली, कैरी, दिशा, ईशा, फैजल और गायत्री ने अलग-अलग अंक प्राप्त किए हैं। दिशा ने फैजल से अधिक अंक प्राप्त किए हैं, जिसने द्वितीय स्थान पर सबसे अधिक अंक प्राप्त किए हैं। कैरी और फैजल के बीच तीन छात्रों ने अंक प्राप्त किए हैं। गायत्री ने कैरी से कम अंक प्राप्त किए हैं। किसने सबसे कम अंक प्राप्त किए हैं?

- Ans
- ✗ 1. फैजल
  - ✓ 2. गायत्री
  - ✗ 3. एनी
  - ✗ 4. ईशा

Question Type : MCQ  
Question ID : 264330140020  
Option 1 ID : 264330548462  
Option 2 ID : 264330548461  
Option 3 ID : 264330548460  
Option 4 ID : 264330548459  
Status : Answered  
Chosen Option : 2

Q.7 उस विकल्प को चुनिए जो तीसरे पद से ठीक उसी प्रकार संबंधित है जिस प्रकार दूसरा पद पहले पद से संबंधित है और छठा पद पाँचवें पद से संबंधित है।

U39R : P118M :: F18A : ? :: G72K : B217F

- Ans
- ✗ 1. C55V
  - ✓ 2. A55V
  - ✗ 3. A55W
  - ✗ 4. B55U

Question Type : MCQ  
Question ID : 264330139550  
Option 1 ID : 264330546615  
Option 2 ID : 264330546616  
Option 3 ID : 264330546618  
Option 4 ID : 264330546617  
Status : Not Attempted and Marked For Review  
Chosen Option : --

Q.8 एक निश्चित कूट भाषा में, 'ABOUT' को '12632' लिखा जाता है। उस भाषा में 'GRACE' को कैसे लिखा जाएगा?

- Ans
- ✓ 1. 79135
  - ✗ 2. 79154
  - ✗ 3. 79153
  - ✗ 4. 71953

Question Type : MCQ

Question ID : 264330140015

Option 1 ID : 264330548440

Option 2 ID : 264330548442

Option 3 ID : 264330548441

Option 4 ID : 264330548439

Status : Answered

Chosen Option : 1

Q.9 निम्नलिखित प्रश्न में कुछ कथन दिए गए हैं और उन कथनों के आधार पर कुछ निष्कर्ष दिए गए हैं। आपको यह मानना है कि दिए गए कथन सत्य हैं चाहे वे समान्यतः ज्ञात तथ्यों से अलग प्रतीत होते हों। सभी निष्कर्षों को पढ़िए और फिर निश्चय कीजिए कि दिए गए निष्कर्षों में से कौन-सा निष्कर्ष तार्किक रूप से दिए गए कथनों के अनुसार है।

कथन:

I. कोई X, S नहीं है।

II. सभी J, X हैं।

निष्कर्ष:

I. कुछ S, X नहीं हैं।

II. कुछ J, S नहीं हैं।

III. कुछ J, X नहीं हैं।

- Ans
- ✗ 1. केवल निष्कर्ष I कथनों के अनुसार है
  - ✗ 2. दोनों निष्कर्ष I और III कथनों के अनुसार हैं
  - ✗ 3. कोई भी निष्कर्ष कथनों के अनुसार नहीं है
  - ✓ 4. दोनों निष्कर्ष I और II कथनों के अनुसार हैं

Question Type : MCQ

Question ID : 264330139981

Option 1 ID : 264330548304

Option 2 ID : 264330548303

Option 3 ID : 264330548306

Option 4 ID : 264330548305

Status : Answered

Chosen Option : 3

Q.10 एक निश्चित कूट भाषा में, 'WORLD' को 'VNQKC' लिखा जाता है। उस कूट भाषा में 'FAINT' को कैसे लिखा जाएगा?

- Ans
- ✓ 1. EZHMS
  - ✗ 2. EZMFS
  - ✗ 3. DHBLH
  - ✗ 4. DMOHC

Question Type : MCQ

Question ID : 264330135353

Option 1 ID : 264330530322

Option 2 ID : 264330530321

Option 3 ID : 264330530319

Option 4 ID : 264330530320

Status : Answered

Chosen Option : 1

Q.11 दी गई श्रृंखला में निम्नलिखित में से कौन-सा अक्षर-समूह प्रश्न चिन्ह(?) के स्थान पर आएगा?  
TX, XB, BF, FJ, ?

- Ans
- ✗ 1. KM
  - ✓ 2. JN
  - ✗ 3. JM
  - ✗ 4. KN

Question Type : MCQ

Question ID : 264330140093

Option 1 ID : 264330548754

Option 2 ID : 264330548751

Option 3 ID : 264330548752

Option 4 ID : 264330548753

Status : Answered

Chosen Option : 2

Q.12 छः लड़कियाँ मानसी, श्वेता, मोनिका, पायल, आरती और काजल एक पंक्ति में उत्तर की ओर मुख करके बैठी हैं (परंतु जरूरी नहीं कि वे इसी क्रम में बैठी हों)। श्वेता, आरती के बाईं ओर से दूसरे स्थान पर है। पायल, काजल के दाईं ओर से दूसरे स्थान पर है। काजल, मोनिका के दाईं ओर से दूसरे स्थान पर है। काजल, श्वेता के ठीक बाईं ओर है। आरती के ठीक बाईं ओर कौन बैठा है?

- Ans
- ✗ 1. काजल
  - ✗ 2. मानसी
  - ✗ 3. श्वेता
  - ✓ 4. पायल

Question Type : MCQ

Question ID : 264330139534

Option 1 ID : 264330546553

Option 2 ID : 264330546551

Option 3 ID : 264330546554

Option 4 ID : 264330546552

Status : Answered

Chosen Option : 4

Q.13 उस विकल्प को चुनिए जो तीसरी संख्या से ठीक उसी प्रकार संबंधित है जिस प्रकार दूसरी संख्या पहली संख्या से संबंधित है।  
65 : 5 :: 117 : ?

- Ans
- 1. 7
  - 2. 9
  - 3. 6
  - 4. 4

Question Type : MCQ  
Question ID : 264330140025  
Option 1 ID : 264330548479  
Option 2 ID : 264330548481  
Option 3 ID : 264330548482  
Option 4 ID : 264330548480  
Status : Answered  
Chosen Option : 2

Q.14 दिए गए दो चिन्हों को आपस में बदलने पर, निम्नलिखित में से कौन-सा समीकरण सही नहीं होगा?

+ और ÷

I.  $9 \div 6 \times 4 + 2 - 5 = 16$

II.  $5 - 28 + 7 \times 16 \div 4 = -103$

- Ans
- 1. न तो I और न ही II
  - 2. केवल II
  - 3. I और II दोनों
  - 4. केवल I

Question Type : MCQ  
Question ID : 264330139987  
Option 1 ID : 264330548330  
Option 2 ID : 264330548328  
Option 3 ID : 264330548329  
Option 4 ID : 264330548327  
Status : Answered  
Chosen Option : 4

Q.15 एक निश्चित कूट भाषा में, 'NUMBER' को 'UNBMRE' लिखा जाता है। उस कूट भाषा में 'CANCER' को कैसे लिखा जाएगा?

- Ans
- 1. ACCNRE
  - 2. ACCNER
  - 3. ACCMRE
  - 4. BCCNRE

Question Type : MCQ  
Question ID : 264330139551  
Option 1 ID : 264330546619  
Option 2 ID : 264330546621  
Option 3 ID : 264330546620  
Option 4 ID : 264330546622  
Status : Answered  
Chosen Option : 1

Q.16 उस विकल्प को चुनिए जिसमें समुच्चय की संख्याएँ वही संबंध साझा करती हैं जो दिए गए समुच्चय में संख्याओं द्वारा साझा किया जाता है। (ध्यान दें: संख्याओं को उनके घटक अंकों में अलग-अलग किए बिना, पूर्ण संख्याओं पर संक्रियाएँ की जानी चाहिए। उदा. 13 - 13 पर संक्रियाएँ जैसे 13 को जोड़ना/घटाना/गुणा करना आदि किया जा सकता है। 13 को 1 और 3 में अलग-अलग करने की और फिर 1 और 3 पर गणितीय संक्रियाएँ करने की अनुमति नहीं है।)

(10, 6, 32)

(20, 8, 56)

- Ans
- 1. (20, 16, 64)
  - 2. (12, 14, 54)
  - 3. (14, 18, 60)
  - 4. (18, 12, 60)

Question Type : MCQ

Question ID : 264330139582

Option 1 ID : 264330546745

Option 2 ID : 264330546743

Option 3 ID : 264330546744

Option 4 ID : 264330546746

Status : Answered

Chosen Option : 4

Q.17 दी गई श्रृंखला में निम्नलिखित में से कौन-सी संख्या प्रश्न चिन्ह (?) के स्थान पर आएगी?  
117, 110, 106, 99, 95, 88, 84, ?

- Ans
- 1. 59
  - 2. 93
  - 3. 47
  - 4. 77

Question Type : MCQ

Question ID : 264330138800

Option 1 ID : 264330543810

Option 2 ID : 264330543808

Option 3 ID : 264330543809

Option 4 ID : 264330543807

Status : Answered

Chosen Option : 4

Q.18 दी गई श्रृंखला में निम्नलिखित में से कौन-सी संख्या प्रश्न चिन्ह (?) के स्थान पर आएगी?  
63, 67, 75, 87, 103, ?

- Ans
- 1. 124
  - 2. 121
  - 3. 125
  - 4. 123

Question Type : MCQ

Question ID : 264330140443

Option 1 ID : 264330550153

Option 2 ID : 264330550151

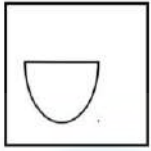
Option 3 ID : 264330550154

Option 4 ID : 264330550152

Status : Answered

Chosen Option : 4

Q.19 उस विकल्प आकृति को चुनिए जिसमें दी गई आकृति (X) उसके भाग के रूप में निहित है। (घूर्णन की अनुमति नहीं है)।



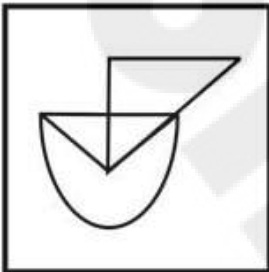
X

Ans

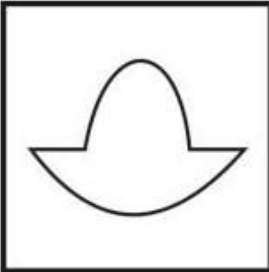
✗ 1.



✓ 2.



✗ 3.



✗ 4.



Question Type : MCQ

Question ID : 264330135365

Option 1 ID : 264330530368

Option 2 ID : 264330530369

Option 3 ID : 264330530367

Option 4 ID : 264330530370

Status : Answered

Chosen Option : 2

Q.20 कौन-सी उत्तर आकृति प्रश्न आकृति में दिए गए पैटर्न को पूरा करेगी?



Ans

✗ 1.



✓ 2.



✗ 3.



✗ 4.



Question Type : MCQ

Question ID : 264330139990

Option 1 ID : 264330548339

Option 2 ID : 264330548340

Option 3 ID : 264330548342

Option 4 ID : 264330548341

Status : Answered

Chosen Option : 2

Section : General Awareness

Q.1 अक्टूबर 2022 में, ब्रिटेन के पहले भारतीय मूल के प्रधानमंत्री कौन बने?

- Ans
- 1. हैरी आनंद
  - 2. कमला हैरिस
  - 3. नील कश्करी
  - 4. ऋषि सुनक

Question Type : MCQ  
Question ID : 264330139656  
Option 1 ID : 264330547040  
Option 2 ID : 264330547039  
Option 3 ID : 264330547042  
Option 4 ID : 264330547041  
Status : Answered  
Chosen Option : 4

Q.2 निम्न में से कौन-सा विकल्प राष्ट्रीय आय की मापन पद्धति का हिस्सा नहीं है?

- Ans
- 1. आय विधि (Income method)
  - 2. उत्पाद विधि (Product method)
  - 3. व्यय विधि (Expenditure method)
  - 4. ऋण विधि (Credit method)

Question Type : MCQ  
Question ID : 264330140341  
Option 1 ID : 264330549743  
Option 2 ID : 264330549744  
Option 3 ID : 264330549746  
Option 4 ID : 264330549745  
Status : Answered  
Chosen Option : 4

Q.3 मौर्य काल की भारत में कौन-सी गुफाओं को सबसे पुरानी जीवित रॉक-कट गुफाएँ (surviving rock - cut caves) माना जाता है?

- Ans
- 1. बराबर और नागार्जुनी गुफाएँ (Barabar and Nagarjuni caves)
  - 2. बाघ गुफाएँ (Bagh Caves)
  - 3. अजंता और एलोरा की गुफाएँ (Ajanta and Ellora Caves)
  - 4. एलीफेंटा गुफाएँ (Elephanta Caves)

Question Type : MCQ  
Question ID : 264330140269  
Option 1 ID : 264330549456  
Option 2 ID : 264330549457  
Option 3 ID : 264330549455  
Option 4 ID : 264330549458  
Status : Answered  
Chosen Option : 2

Q.4 BPL प्रारंभिक/न्यूनतम आय से संबंधित एक आर्थिक मानदण्ड है। "BPL" का पूर्णरूप क्या है?

- Ans
- 1. बेस पोवर्टी लाइन(Base Poverty Line)
  - 2. बेस प्राइज़ लाइन(Base Price Line)
  - 3. बिलो पोवर्टी लाइन(Below Poverty Line)
  - 4. बिलो प्राइज़ लाइन(Below Price Line)

Question Type : MCQ

Question ID : 264330140304

Option 1 ID : 264330549598

Option 2 ID : 264330549596

Option 3 ID : 264330549597

Option 4 ID : 264330549595

Status : Answered

Chosen Option : 3

Q.5 हमारे सौरमंडल का सबसे छोटा ग्रह कौन-सा है?

- Ans
- 1. शुक्र
  - 2. पृथ्वी
  - 3. बुध
  - 4. मंगल

Question Type : MCQ

Question ID : 264330140282

Option 1 ID : 264330549508

Option 2 ID : 264330549509

Option 3 ID : 264330549507

Option 4 ID : 264330549510

Status : Answered

Chosen Option : 3

Q.6 ज़ो-मल-लोक (Zo-Mal-Lok) लोकनृत्य किस समुदाय से संबंधित है?

- Ans
- 1. चाईमल (Chaimal) समुदाय
  - 2. लेपचा (Lepcha) समुदाय
  - 3. लुशाई (Lushai) समुदाय
  - 4. जमातिया (Jamatia) समुदाय

Question Type : MCQ

Question ID : 264330138971

Option 1 ID : 264330544493

Option 2 ID : 264330544491

Option 3 ID : 264330544494

Option 4 ID : 264330544492

Status : Answered

Chosen Option : 1

Q.7 खेलों के संबंध में, WADA का अर्थ \_\_\_\_\_ है।

Ans ✓ 1.

वर्ल्ड एंटी-डोपिंग एजेंसी (World Anti - Doping Agency)

✗ 2.

वर्ल्ड ऑटोनॉमस - डोपिंग एजेंसी (World Autonomous - Doping Agency)

✗ 3.

वर्ल्ड एंटी-डोपिंग एसोसिएशन (World Anti - Doping Association)

✗ 4.

रेस्लिंग एंटी-डोपिंग एसोसिएशन (Wrestling Anti - Doping Association)

Question Type : MCQ

Question ID : 264330138974

Option 1 ID : 264330544505

Option 2 ID : 264330544506

Option 3 ID : 264330544504

Option 4 ID : 264330544503

Status : Answered

Chosen Option : 3

Q.8 गुग्गा (Gugga) नृत्य निम्नलिखित में से किस राज्य का पारंपरिक लोक नृत्य है?

Ans ✗ 1. केरल

✗ 2. तमिलनाडु

✗ 3. असम

✓ 4. हरियाणा

Question Type : MCQ

Question ID : 264330140881

Option 1 ID : 264330551871

Option 2 ID : 264330551874

Option 3 ID : 264330551872

Option 4 ID : 264330551873

Status : Not Answered

Chosen Option : --

Q.9 जवाहरलाल नेहरू बंदरगाह कहाँ स्थित है?

Ans ✗ 1. चेन्नई

✗ 2. भुवनेश्वर

✓ 3. नवी मुंबई

✗ 4. कोलकाता

Question Type : MCQ

Question ID : 264330140301

Option 1 ID : 264330549586

Option 2 ID : 264330549584

Option 3 ID : 264330549585

Option 4 ID : 264330549583

Status : Answered

Chosen Option : 4

Q.10 निम्नलिखित में से कौन-सा गुप्त शासक घटोत्कच (Ghatotkacha) का उत्तराधिकारी बना?

- Ans
- ✓ 1. चंद्रगुप्त प्रथम
  - ✗ 2. चंद्रगुप्त द्वितीय
  - ✗ 3. स्कन्दगुप्त
  - ✗ 4. कुमारगुप्त प्रथम

Question Type : MCQ

Question ID : 264330140355

Option 1 ID : 264330549801

Option 2 ID : 264330549802

Option 3 ID : 264330549799

Option 4 ID : 264330549800

Status : Answered

Chosen Option : 3

Q.11 तीजन बाई को वर्ष 2003 में उनकी कला के लिए पद्म भूषण से सम्मानित किया गया था। वह किस नृत्य शैली के लिए प्रख्यात हैं?

- Ans
- ✗ 1. घूमर (Ghumar)
  - ✗ 2. छऊ (Chhau)
  - ✗ 3. कालबेलिया (Kalbelia)
  - ✓ 4. पंडवानी (Pandavani)

Question Type : MCQ

Question ID : 264330138953

Option 1 ID : 264330544421

Option 2 ID : 264330544420

Option 3 ID : 264330544422

Option 4 ID : 264330544419

Status : Answered

Chosen Option : 1

Q.12 निम्नलिखित में से कौन-सी पुस्तक स्वामी विवेकानंद द्वारा लिखी गई थी ?

- Ans
- ✗ 1. एंशियंट इंडिया (Ancient India)
  - ✓ 2. द ईस्ट एंड द वेस्ट (The East and the West)
  - ✗ 3. नो सीक्रेट्स (No secrets)
  - ✗ 4. रिवर ऑफ स्मोक (River of Smoke)

Question Type : MCQ

Question ID : 264330139728

Option 1 ID : 264330547328

Option 2 ID : 264330547327

Option 3 ID : 264330547329

Option 4 ID : 264330547330

Status : Answered

Chosen Option : 2

Q.13 निम्नलिखित में से कौन-सा भारत में मनाए जाने वाले फसल कटाई उत्सवों में से एक नहीं है?

- Ans
- 1. वैसाखी
  - 2. लोहड़ी
  - 3. ओणम
  - 4. दिवाली

Question Type : MCQ  
Question ID : 264330139867  
Option 1 ID : 264330547847  
Option 2 ID : 264330547848  
Option 3 ID : 264330547850  
Option 4 ID : 264330547849  
Status : Answered  
Chosen Option : 4

Q.14 Vetti tax is the most frequently mentioned tax in the inscription of Cholas who ruled in Tamil Nadu. This tax was taken in the form of \_\_\_\_\_.

- Ans
- 1. forced labour
  - 2. grains
  - 3. house rent
  - 4. land revenue

Question Type : MCQ  
Question ID : 264330141060  
Option 1 ID : 264330552587  
Option 2 ID : 264330552589  
Option 3 ID : 264330552590  
Option 4 ID : 264330552588  
Status : Answered  
Chosen Option : 4

Q.15 नवंबर 2022 तक लोकसभा के कितने आम चुनाव हो चुके हैं?

- Ans
- 1. 17
  - 2. 13
  - 3. 24
  - 4. 10

Question Type : MCQ  
Question ID : 264330140772  
Option 1 ID : 264330551437  
Option 2 ID : 264330551436  
Option 3 ID : 264330551438  
Option 4 ID : 264330551435  
Status : Not Answered  
Chosen Option : --

Q.16 यदि सकल राजकोषीय घाटे का मूल्य निवल ब्याज दायित्व से अधिक होगा, तो सकल प्राथमिक घाटे का मूल्य \_\_\_\_\_ होगा।

- Ans
- 1. अनंत
  - 2. धनात्मक
  - 3. शून्य
  - 4. ऋणात्मक

Question Type : MCQ  
Question ID : 264330140891  
Option 1 ID : 264330551911  
Option 2 ID : 264330551912  
Option 3 ID : 264330551914  
Option 4 ID : 264330551913  
Status : Answered  
Chosen Option : 4

Q.17 निम्नलिखित में से कौन-सा स्थलीय पारितंत्र (terrestrial ecosystem) का एक उदाहरण है?

- Ans
- 1. तालाब
  - 2. घास के मैदान
  - 3. नदी
  - 4. महासागर

Question Type : MCQ  
Question ID : 264330140683  
Option 1 ID : 264330551082  
Option 2 ID : 264330551081  
Option 3 ID : 264330551080  
Option 4 ID : 264330551079  
Status : Answered  
Chosen Option : 2

Q.18 रणजी ट्रॉफी का संबंध निम्न में से किस खेल से है?

- Ans
- 1. क्रिकेट
  - 2. फुटबॉल
  - 3. बैडमिंटन
  - 4. हॉकी

Question Type : MCQ  
Question ID : 264330140390  
Option 1 ID : 264330549942  
Option 2 ID : 264330549939  
Option 3 ID : 264330549941  
Option 4 ID : 264330549940  
Status : Answered  
Chosen Option : 1

Q.19 2011 की जनगणना के अनुसार, निम्न में से किस राज्य का लिंगानुपात सबसे अधिक है?

- Ans
- 1. महाराष्ट्र
  - 2. मेघालय
  - 3. मध्यप्रदेश
  - 4. उत्तरप्रदेश

Question Type : MCQ  
Question ID : 264330140737  
Option 1 ID : 264330551297  
Option 2 ID : 264330551295  
Option 3 ID : 264330551298  
Option 4 ID : 264330551296  
Status : Answered  
Chosen Option : 2

Q.20 लॉर्ड विलियम बेंटिंक (Lord William Bentinck) ने राजा राममोहन राय के सहयोग से \_\_\_\_\_ की प्रथा को समाप्त कर दिया।

- Ans
- 1. ब्रह्मचर्य
  - 2. धर्म
  - 3. बहुपत्तित्व (Polyandry)
  - 4. सती

Question Type : MCQ  
Question ID : 264330140691  
Option 1 ID : 264330551112  
Option 2 ID : 264330551111  
Option 3 ID : 264330551113  
Option 4 ID : 264330551114  
Status : Answered  
Chosen Option : 4

Q.21 1757 के प्लासी के युद्ध के बाद, ब्रिटिश ईस्ट इंडिया कंपनी से कौन प्लासी का बैरन (Baron of Plassey) बना?

- Ans
- 1. रॉबर्ट क्लाइव
  - 2. वारेन हेस्टिंग्स
  - 3. चार्ल्स नेपियर
  - 4. जॉन लॉरेंस

Question Type : MCQ  
Question ID : 264330140333  
Option 1 ID : 264330549712  
Option 2 ID : 264330549714  
Option 3 ID : 264330549713  
Option 4 ID : 264330549711  
Status : Answered  
Chosen Option : 3

Q.22 ऐक्टिनाइड श्रेणी \_\_\_\_\_ धात्विक रासायनिक तत्वों का एक वर्ग है।

Ans ✓ 1. 15

✗ 2. 12

✗ 3. 18

✗ 4. 9

Question Type : MCQ

Question ID : 264330140936

Option 1 ID : 264330552091

Option 2 ID : 264330552092

Option 3 ID : 264330552093

Option 4 ID : 264330552094

Status : Answered

Chosen Option : 2

Q.23 पंचायतों से संबंधित प्रावधानों का उल्लेख भारतीय संविधान के किस भाग में किया गया है?

Ans ✓ 1. भाग IX

✗ 2. भाग V

✗ 3. भाग XII

✗ 4. भाग VII

Question Type : MCQ

Question ID : 264330139734

Option 1 ID : 264330547353

Option 2 ID : 264330547351

Option 3 ID : 264330547354

Option 4 ID : 264330547352

Status : Answered

Chosen Option : 1

Q.24 बुधादित्य मुखर्जी (Budhaditya Mukherjee) का संबंध निम्नलिखित में से किस वाद्ययंत्र से है?

Ans ✗ 1. सारंगी

✗ 2. वायलिन

✓ 3. सितार

✗ 4. वीणा

Question Type : MCQ

Question ID : 264330141064

Option 1 ID : 264330552606

Option 2 ID : 264330552603

Option 3 ID : 264330552605

Option 4 ID : 264330552604

Status : Answered

Chosen Option : 3

Q.25 शैवाल के किस वर्ग को प्रायः हरा शैवाल कहा जाता है?

- Ans
- 1. डेस्मिड्स (Desmids)
  - 2. फियोफाइसी (Phaeophyceae)
  - 3. क्लोरोफाइसी (Chlorophyceae)
  - 4. रोडोफाइसी (Rhodophyceae)

Question Type : MCQ  
Question ID : 264330140707  
Option 1 ID : 264330551178  
Option 2 ID : 264330551175  
Option 3 ID : 264330551177  
Option 4 ID : 264330551176  
Status : Answered  
Chosen Option : 3

Section : English Language and Comprehension

Q.1 Four words are given, out of which only one word is spelt correctly. Choose the correctly spelt word.

- Ans
- 1. CAMOFLAGUE
  - 2. COMPARSION
  - 3. GUAGE
  - 4. PRESENCE

Question Type : MCQ  
Question ID : 264330135711  
Option 1 ID : 264330531731  
Option 2 ID : 264330531732  
Option 3 ID : 264330531733  
Option 4 ID : 264330531734  
Status : Answered  
Chosen Option : 4

Q.2 Identify the segment that contains a grammatical error. If there is no error, select 'No error'.

Most impressive / was record breaking / 75.6 FPS on Crysis.

- Ans
- 1. No error
  - 2. Most impressive
  - 3. 75.6 FPS on Crysis.
  - 4. was record breaking

Question Type : MCQ  
Question ID : 264330136745  
Option 1 ID : 264330535690  
Option 2 ID : 264330535687  
Option 3 ID : 264330535689  
Option 4 ID : 264330535688  
Status : Answered  
Chosen Option : 4

Q.3 Fill in the blank with the most appropriate option.

“What \_\_\_\_\_ your dad do at the Ministry of Magic, anyway?”

- Ans
- 1. do
  - 2. is
  - 3. does
  - 4. have

Question Type : MCQ  
Question ID : 264330135748  
Option 1 ID : 264330531876  
Option 2 ID : 264330531878  
Option 3 ID : 264330531877  
Option 4 ID : 264330531875  
Status : Answered  
Chosen Option : 1

Q.4 Select the most appropriate word for the given group of words.

To move about from place to place aimlessly

- Ans
- 1. Meadow
  - 2. Path
  - 3. Meander
  - 4. Stream

Question Type : MCQ  
Question ID : 264330136149  
Option 1 ID : 264330533398  
Option 2 ID : 264330533397  
Option 3 ID : 264330533396  
Option 4 ID : 264330533395  
Status : Answered  
Chosen Option : 3

Q.5 Select the most appropriate word for the given group of words.

Disappointed and annoyed about something

- Ans
- 1. Contented
  - 2. Dissuade
  - 3. Disgruntled
  - 4. Surreal

Question Type : MCQ  
Question ID : 264330136202  
Option 1 ID : 264330533600  
Option 2 ID : 264330533602  
Option 3 ID : 264330533599  
Option 4 ID : 264330533601  
Status : Answered  
Chosen Option : 2

**Q.6** Improve the underlined part of the sentence. Choose 'No improvement' as an answer if the sentence is grammatically correct.

They will took their grandchildren to the zoo.

- Ans**
- 1. takes their
  - 2. took their
  - 3. taken their
  - 4. No improvement

Question Type : **MCQ**  
Question ID : **264330135155**  
Option 1 ID : **264330529555**  
Option 2 ID : **264330529557**  
Option 3 ID : **264330529556**  
Option 4 ID : **264330529558**  
Status : **Answered**  
Chosen Option : **2**

**Q.7** Select the most appropriate option to substitute the bracketed segment in the given sentence. If there is no need to substitute it, select 'no substitution required'.

(The people of Philippines has voted) to elect a new president.

- Ans**
- 1. The people of Philippines have voted
  - 2. The people of the Philippines have voted
  - 3. The people of the Philippines has voted
  - 4. No substitution required

Question Type : **MCQ**  
Question ID : **264330135668**  
Option 1 ID : **264330531567**  
Option 2 ID : **264330531568**  
Option 3 ID : **264330531569**  
Option 4 ID : **264330531570**  
Status : **Answered**  
Chosen Option : **1**

**Q.8** Choose the word that is opposite in meaning to the given word.

Curious

- Ans**
- 1. Doubtful
  - 2. Complex
  - 3. Passionate
  - 4. Uninterested

Question Type : **MCQ**  
Question ID : **264330135553**  
Option 1 ID : **264330531113**  
Option 2 ID : **264330531114**  
Option 3 ID : **264330531111**  
Option 4 ID : **264330531112**  
Status : **Answered**  
Chosen Option : **4**

Q.9 Select the appropriate antonym for the underlined word.

The room beneath the collapsed building was empty.

- Ans
- 1. mended
  - 2. finished
  - 3. choked
  - 4. cracked

Question Type : MCQ  
Question ID : 264330135528  
Option 1 ID : 264330531017  
Option 2 ID : 264330531015  
Option 3 ID : 264330531018  
Option 4 ID : 264330531016  
Status : Answered  
Chosen Option : 1

Q.10 Find the part of the given sentence that has an error in it. If there is no error, choose 'No error'.  
I began with writing one a week and now I do so every day.

- Ans
- 1. now I do so every day.
  - 2. No error
  - 3. one a week and
  - 4. I began with writing

Question Type : MCQ  
Question ID : 264330135535  
Option 1 ID : 264330531045  
Option 2 ID : 264330531046  
Option 3 ID : 264330531044  
Option 4 ID : 264330531043  
Status : Answered  
Chosen Option : 4

Q.11 Find the part of the given sentence that has an error in it. If there is no error, choose 'No error'.

Writing habit is a good and easily exercise for the brain.

- Ans
- 1. good and easily exercise
  - 2. for the brain.
  - 3. No error
  - 4. Writing habit is a

Question Type : MCQ  
Question ID : 264330135638  
Option 1 ID : 264330531452  
Option 2 ID : 264330531453  
Option 3 ID : 264330531454  
Option 4 ID : 264330531451  
Status : Answered  
Chosen Option : 1

Q.12 Select the most appropriate meaning of the given idiom.

For better or (for) worse

- Ans
- 1. Extreme enthusiasm
  - 2. To accept whatever results; good or bad
  - 3. To be in trouble
  - 4. Become out of control

Question Type : MCQ  
Question ID : 264330135709  
Option 1 ID : 264330531725  
Option 2 ID : 264330531724  
Option 3 ID : 264330531726  
Option 4 ID : 264330531723  
Status : Answered  
Chosen Option : 2

Q.13 Select the wrongly spelt word.

- Ans
- 1. Annul
  - 2. Adverse
  - 3. Anarcy
  - 4. Adulterate

Question Type : MCQ  
Question ID : 264330136367  
Option 1 ID : 264330534235  
Option 2 ID : 264330534238  
Option 3 ID : 264330534236  
Option 4 ID : 264330534237  
Status : Answered  
Chosen Option : 3

Q.14 Fill in the blank with the most appropriate option.

When we reached my room, I couldn't \_\_\_\_\_ back my smile.

- Ans
- 1. hold
  - 2. held
  - 3. kept
  - 4. squeeze

Question Type : MCQ  
Question ID : 264330135721  
Option 1 ID : 264330531773  
Option 2 ID : 264330531771  
Option 3 ID : 264330531772  
Option 4 ID : 264330531774  
Status : Answered  
Chosen Option : 1

**Q.15** Select the word from the options which is similar in meaning to the bracketed word given in the sentence below.

He is interested in how our (perceptions) of death affect the way we live.

- Ans**
- 1. misconceptions
  - 2. bewilderments
  - 3. approaches
  - 4. ignorance

Question Type : **MCQ**  
Question ID : **264330135732**  
Option 1 ID : **264330531812**  
Option 2 ID : **264330531813**  
Option 3 ID : **264330531811**  
Option 4 ID : **264330531814**  
Status : **Answered**  
Chosen Option : **3**

**Q.16** Improve the underlined part of the sentence. Choose 'No improvement' as an answer if the sentence is grammatically correct.

What should I doing if the power goes out?

- Ans**
- 1. should I do
  - 2. No improvement
  - 3. shall I does
  - 4. should I had done

Question Type : **MCQ**  
Question ID : **264330135640**  
Option 1 ID : **264330531460**  
Option 2 ID : **264330531462**  
Option 3 ID : **264330531461**  
Option 4 ID : **264330531459**  
Status : **Answered**  
Chosen Option : **1**

**Q.17** Select the most appropriate meaning of the given idiom.

Long in the tooth

- Ans**
- 1. To be old, often too old to do something
  - 2. The show has come to an end
  - 3. Killing of a certain ethnic or religious group on a massive scale
  - 4. Be optimistic, even difficult times will lead to better days

Question Type : **MCQ**  
Question ID : **264330136365**  
Option 1 ID : **264330534227**  
Option 2 ID : **264330534228**  
Option 3 ID : **264330534229**  
Option 4 ID : **264330534230**  
Status : **Answered**  
Chosen Option : **4**

Q.18 Select the most appropriate option to fill in the blank.

Instead of the sweet taste she expected, it was \_\_\_\_\_ - like alum

- Ans
- 1. dulcet
  - 2. bitter
  - 3. tenacious
  - 4. aromatic

Question Type : MCQ  
Question ID : 264330135177  
Option 1 ID : 264330529642  
Option 2 ID : 264330529640  
Option 3 ID : 264330529641  
Option 4 ID : 264330529639  
Status : Answered  
Chosen Option : 2

Q.19 Fill in the blank with the most appropriate option.

They were \_\_\_\_\_ there when Janvi heard something large and heavy collide with the door.

- Ans
- 1. almost
  - 2. about
  - 3. most
  - 4. much

Question Type : MCQ  
Question ID : 264330136159  
Option 1 ID : 264330533438  
Option 2 ID : 264330533435  
Option 3 ID : 264330533436  
Option 4 ID : 264330533437  
Status : Answered  
Chosen Option : 1

Q.20 Select the most appropriate synonym of the given word.

Advocate

- Ans
- 1. Experience
  - 2. Forever
  - 3. Support
  - 4. Justice

Question Type : MCQ  
Question ID : 264330135861  
Option 1 ID : 264330532308  
Option 2 ID : 264330532307  
Option 3 ID : 264330532310  
Option 4 ID : 264330532309  
Status : Answered  
Chosen Option : 4

**Comprehension:**

In the following passage some words have been deleted. Fill in the blanks with the help of the alternatives given. Select the most appropriate option for each number.

Body language (1) \_\_\_\_\_ ideas or thoughts by certain actions, either intentionally or unintentionally. A (2) \_\_\_\_\_ can be a way of flirting or indicating that the party is only joking . A (3) \_\_\_\_\_ signifies approval, while (4) \_\_\_\_\_ of the head indicates a negative reaction.

Other forms of non (5) \_\_\_\_\_ language can be found in Braille (a system of raised dots read with the fingertips), signal flags, Morse code, and smoke signals..

**SubQuestion No : 21**

**Q.21** Select the most appropriate option to fill in blank number 1.

- Ans**
- 1. transmits
  - 2. delimits
  - 3. intermits
  - 4. retransmits

Question Type : **MCQ**

Question ID : **264330136353**

Option 1 ID : **264330534180**

Option 2 ID : **264330534181**

Option 3 ID : **264330534179**

Option 4 ID : **264330534182**

Status : **Answered**

Chosen Option : **1**

**Comprehension:**

In the following passage some words have been deleted. Fill in the blanks with the help of the alternatives given. Select the most appropriate option for each number.

Body language (1) \_\_\_\_\_ ideas or thoughts by certain actions, either intentionally or unintentionally. A (2) \_\_\_\_\_ can be a way of flirting or indicating that the party is only joking . A (3) \_\_\_\_\_ signifies approval, while (4) \_\_\_\_\_ of the head indicates a negative reaction.

Other forms of non (5) \_\_\_\_\_ language can be found in Braille (a system of raised dots read with the fingertips), signal flags, Morse code, and smoke signals..

**SubQuestion No : 22**

**Q.22** Select the most appropriate option to fill in blank number 2.

- Ans**
- 1. clap
  - 2. wink
  - 3. shake
  - 4. nod

Question Type : **MCQ**

Question ID : **264330136354**

Option 1 ID : **264330534186**

Option 2 ID : **264330534183**

Option 3 ID : **264330534184**

Option 4 ID : **264330534185**

Status : **Answered**

Chosen Option : **2**

**Comprehension:**

In the following passage some words have been deleted. Fill in the blanks with the help of the alternatives given. Select the most appropriate option for each number.

Body language (1) \_\_\_\_\_ ideas or thoughts by certain actions, either intentionally or unintentionally. A (2) \_\_\_\_\_ can be a way of flirting or indicating that the party is only joking . A (3) \_\_\_\_\_ signifies approval, while (4) \_\_\_\_\_ of the head indicates a negative reaction.

Other forms of non (5) \_\_\_\_\_ language can be found in Braille (a system of raised dots read with the fingertips), signal flags, Morse code, and smoke signals..

**SubQuestion No : 23**

**Q.23** Select the most appropriate option to fill in blank number 3.

- Ans
- 1. clap
  - 2. nod
  - 3. shake
  - 4. wink

Question Type : **MCQ**

Question ID : **264330136355**

Option 1 ID : **264330534190**

Option 2 ID : **264330534189**

Option 3 ID : **264330534188**

Option 4 ID : **264330534187**

Status : **Answered**

Chosen Option : **3**

**Comprehension:**

In the following passage some words have been deleted. Fill in the blanks with the help of the alternatives given. Select the most appropriate option for each number.

Body language (1) \_\_\_\_\_ ideas or thoughts by certain actions, either intentionally or unintentionally. A (2) \_\_\_\_\_ can be a way of flirting or indicating that the party is only joking . A (3) \_\_\_\_\_ signifies approval, while (4) \_\_\_\_\_ of the head indicates a negative reaction.

Other forms of non (5) \_\_\_\_\_ language can be found in Braille (a system of raised dots read with the fingertips), signal flags, Morse code, and smoke signals..

**SubQuestion No : 24**

**Q.24** Select the most appropriate option to fill in blank number 4.

- Ans
- 1. nod
  - 2. shake
  - 3. wink
  - 4. clap

Question Type : **MCQ**

Question ID : **264330136356**

Option 1 ID : **264330534193**

Option 2 ID : **264330534192**

Option 3 ID : **264330534191**

Option 4 ID : **264330534194**

Status : **Answered**

Chosen Option : **1**

**Comprehension:**

In the following passage some words have been deleted. Fill in the blanks with the help of the alternatives given. Select the most appropriate option for each number.

Body language (1) \_\_\_\_\_ ideas or thoughts by certain actions, either intentionally or unintentionally. A (2) \_\_\_\_\_ can be a way of flirting or indicating that the party is only joking . A (3) \_\_\_\_\_ signifies approval, while (4) \_\_\_\_\_ of the head indicates a negative reaction.

Other forms of non (5) \_\_\_\_\_ language can be found in Braille (a system of raised dots read with the fingertips), signal flags, Morse code, and smoke signals..

**SubQuestion No : 25**

**Q.25** Select the most appropriate option to fill in blank number 5.

- Ans**
- 1. holistic
  - 2. linguistic
  - 3. parodistic
  - 4. logistic

Question Type : **MCQ**

Question ID : **264330136357**

Option 1 ID : **264330534198**

Option 2 ID : **264330534195**

Option 3 ID : **264330534196**

Option 4 ID : **264330534197**

Status : **Answered**

Chosen Option : **3**