

Selection Post Examination Phase XII 2024

Roll Number	
Candidate Name	
Venue Name	
Exam Date	20/06/2024
Exam Time	11:45 AM - 12:45 PM
Subject	Selection Post Higher Secondary level

Section : General Intelligence

Q.1 उस विकल्प का चयन कीजिए, जिसका पाँचवें अक्षर-समूह से ठीक वही संबंध है, जो संबंध दूसरे अक्षर-समूह का पहले अक्षर-समूह से और वही संबंध चौथे अक्षर-समूह का तीसरे अक्षर-समूह से है।
CASTLE : SCALET :: PRIMED : IPREDM :: PHONES : ?

- Ans
- 1. OHPSEN
 - 2. OPHSEN
 - 3. OHPESN
 - 4. OPHESN

Question ID : 630680416967
Option 1 ID : 6306801626631
Option 2 ID : 6306801626632
Option 3 ID : 6306801626633
Option 4 ID : 6306801626634
Status : Answered
Chosen Option : 4

Q.2 इस प्रश्न में, तीन कथन दिए गए हैं, जिसके बाद दो निष्कर्ष I और II दिए गए हैं। कथनों को सत्य मानते हुए, भले ही वे सर्वज्ञात तथ्यों से भिन्न प्रतीत होते हों, निर्णय कीजिए कि कौन सा/से निष्कर्ष तार्किक रूप से कथनों का अनुसरण करता/करते है/हैं।

कथन:

सभी आम फल हैं।
कुछ आम नाशपाती हैं।
सभी नाशपाती सब्जियाँ हैं।

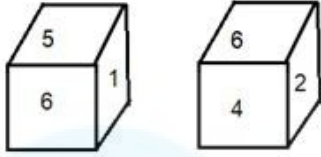
निष्कर्ष:

- I. कुछ आम सब्जियाँ हैं।
- II. कुछ फल सब्जियाँ हैं।

- Ans
- 1. केवल निष्कर्ष II अनुसरण करता है।
 - 2. न तो निष्कर्ष I और न ही II अनुसरण करता है।
 - 3. केवल निष्कर्ष I अनुसरण करता है।
 - 4. दोनों निष्कर्ष I और II अनुसरण करते हैं।

Question ID : 630680416719
Option 1 ID : 6306801625640
Option 2 ID : 6306801625642
Option 3 ID : 6306801625639
Option 4 ID : 6306801625641
Status : Answered
Chosen Option : 4

Q.3 एक पासे के अलग-अलग फलकों पर छः संख्याएँ 1, 2, 3, 4, 5 और 6 लिखी गई हैं। दिए गए चित्र में इस पासे की दो स्थितियाँ दर्शाई गई हैं। 5 दशानि वाले फलक के विपरीत वाले फलक पर कौन-सी संख्या होगी?



Ans ✓ 1. 2

✗ 2. 4

✗ 3. 6

✗ 4. 3

Question ID : 630680187291

Option 1 ID : 630680726115

Option 2 ID : 630680726113

Option 3 ID : 630680726116

Option 4 ID : 630680726114

Status : Answered

Chosen Option : 1

Q.4 तीन कथन दिए गए हैं जिनके बाद I, II और III से संख्यांकित तीन निष्कर्ष दिए गए हैं। कथनों को सत्य मानते हुए, भले ही वे सामान्य रूप से ज्ञात तथ्यों से भिन्न प्रतीत होते हों, तय कीजिए कि कौन सा/से निष्कर्ष, कथनों का तार्किक रूप से अनुसरण करता/करते है/हैं?

कथन:

केवल कुछ सीढ़ियाँ, दीवार हैं।

कुछ सीढ़ियाँ, वैन हैं।

सभी वैन, कैन हैं।

निष्कर्ष:

I. कुछ कैन, सीढ़ियाँ हैं।

II. सभी दीवारों के कैन होने की संभावना है।

III. कोई भी वैन दीवार नहीं हो सकती।

Ans ✓ 1. निष्कर्ष I और II दोनों अनुसरण करते हैं

✗ 2. निष्कर्ष I और III दोनों अनुसरण करते हैं

✗ 3. निष्कर्ष II और III दोनों अनुसरण करते हैं

✗ 4. निष्कर्ष I, II और III सभी अनुसरण करते हैं

Question ID : 630680416538

Option 1 ID : 6306801624915

Option 2 ID : 6306801624917

Option 3 ID : 6306801624916

Option 4 ID : 6306801624918

Status : Answered

Chosen Option : 1

Q.5 उस विकल्प का चयन करें, जो तीसरे शब्द से उसी प्रकार संबंधित है, जिस प्रकार दूसरा शब्द पहले शब्द से संबंधित है। (शब्दों को अर्थपूर्ण हिंदी शब्दों के रूप में माना जाना चाहिए और शब्द में अक्षरों की संख्या / व्यंजन / स्वरों की संख्या के आधार पर एक दूसरे से संबंधित नहीं होना चाहिए)
आँख : देखना :: त्वचा : ?

- Ans
- 1. गरम
 - 2. कोमल
 - 3. स्पर्श
 - 4. कठोर

Question ID : 630680416934

Option 1 ID : 6306801626500

Option 2 ID : 6306801626502

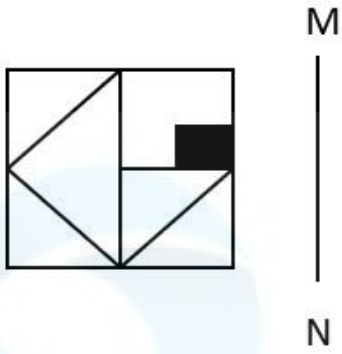
Option 3 ID : 6306801626499

Option 4 ID : 6306801626501

Status : Answered

Chosen Option : 3

Q.6 जब दर्पण को निम्न चित्र के अनुसार MN पर रखा जाता है, तो दी गई आकृति के सही दर्पण प्रतिबिम्ब का चयन करें।



Ans

- 1.
- 2.
- 3.
- 4.

Question ID : 630680296641

Option 1 ID : 6306801154217

Option 2 ID : 6306801154218

Option 3 ID : 6306801154216

Option 4 ID : 6306801154215

Status : Answered

Chosen Option : 3

Q.7 एक निश्चित कूट भाषा में, 'BLOW' को '3517' के रूप में कूटबद्ध किया जाता है और 'LIFE' को '4258' के रूप में कूटबद्ध किया जाता है। उस भाषा में 'L' के लिए कूट क्या है?

- Ans
- 1. 1
 - 2. 5
 - 3. 7
 - 4. 2

Question ID : 630680360214
Option 1 ID : 6306801402776
Option 2 ID : 6306801402773
Option 3 ID : 6306801402775
Option 4 ID : 6306801402774
Status : Answered
Chosen Option : 2

Q.8 दिए गए विकल्पों में से उस संख्या का चयन करें जो निम्नलिखित श्रृंखला में प्रश्न चिह्न (?) के स्थान पर आ सकती है।
4, 14, 34, 64, ?, 154

- Ans
- 1. 114
 - 2. 104
 - 3. 94
 - 4. 124

Question ID : 630680411945
Option 1 ID : 6306801606616
Option 2 ID : 6306801606617
Option 3 ID : 6306801606618
Option 4 ID : 6306801606615
Status : Answered
Chosen Option : 2

Q.9 एक निश्चित कूट भाषा में, 'BONE' को '619189' के रूप में लिखा जाता है और 'CASH' को '752312' के रूप में लिखा जाता है। उसी भाषा में 'DAWN' को कैसे लिखा जाएगा?

- Ans
- 1. 852718
 - 2. 751517
 - 3. 851518
 - 4. 751615

Question ID : 630680416801
Option 1 ID : 6306801625968
Option 2 ID : 6306801625967
Option 3 ID : 6306801625970
Option 4 ID : 6306801625969
Status : Answered
Chosen Option : 1

Q.10 उस विकल्प का चयन करें जो तीसरे शब्द से उसी प्रकार संबंधित है जिस प्रकार दूसरा शब्द पहले शब्द से संबंधित है।
(शब्दों को अर्थपूर्ण हिंदी शब्दों के रूप में माना जाना चाहिए और शब्द में अक्षरों की संख्या / व्यंजनों/ स्वरों की संख्या के आधार पर एक-दूसरे से संबंधित नहीं किया जाना चाहिए)
सांप : काटना :: मधुमक्खी : ?

- Ans
- 1. छत्ता
 - 2. भनभनाना
 - 3. डंक मारना
 - 4. शहद

Question ID : 630680417178

Option 1 ID : 6306801627478

Option 2 ID : 6306801627475

Option 3 ID : 6306801627477

Option 4 ID : 6306801627476

Status : Answered

Chosen Option : 3

Q.11 उस विकल्प का चयन करें जो दिए गए शब्दों के उस सही क्रम को दर्शाता है जिस क्रम में वे अंग्रेजी शब्दकोश में आते हैं।

1. Grouping
2. Grotesque
3. Grovel
4. Ground
5. Groundless

- Ans
- 1. 1, 2, 3, 4, 5
 - 2. 2, 4, 5, 1, 3
 - 3. 4, 1, 5, 2, 3
 - 4. 3, 5, 1, 4, 2

Question ID : 630680417346

Option 1 ID : 6306801628147

Option 2 ID : 6306801628149

Option 3 ID : 6306801628150

Option 4 ID : 6306801628148

Status : Answered

Chosen Option : 2

Q.12 प्रत्येक समुच्चय की संख्याएँ एक निश्चित तरीके से एक दूसरे से संबंधित हैं।

(2, 8, 4), (7, 343, 49), (4, 64, ?)

पहले दो समुच्चयों में संख्याओं के बीच संबंध के आधार पर, उस संख्या का चयन कीजिए जो तीसरे समुच्चय में प्रश्न चिह्न (?) को प्रतिस्थापित कर सके।

- Ans
- 1. 12
 - 2. 16
 - 3. 32
 - 4. 8

Question ID : 63068053277

Option 1 ID : 630680205210

Option 2 ID : 630680205213

Option 3 ID : 630680205212

Option 4 ID : 630680205211

Status : Answered

Chosen Option : 2

Q.13 उस विकल्प का चयन करें जो उन अक्षरों का निरूपण करता है, जिन्हें नीचे दिए गए रिक्त स्थानों में बाएं से दाएं क्रमिक रूप से रखे जाने पर अक्षर श्रृंखला पूरी हो जाएगी।

__ J R _ J R _ J _ R _ R R _

Ans 1. RRRRRJJ

2. JRRJJRJ

3. JJRRJRJ

4. RJRRJJJ

Question ID : 630680416333

Option 1 ID : 6306801624096

Option 2 ID : 6306801624095

Option 3 ID : 6306801624097

Option 4 ID : 6306801624098

Status : Answered

Chosen Option : 1

Q.14 इस प्रश्न में, तीन कथन दिए गए हैं, जिसके बाद दो निष्कर्ष I और II दिए गए हैं। कथनों को सत्य मानते हुए, भले ही वे सर्वज्ञात तथ्यों से भिन्न प्रतीत होते हों, निर्णय कीजिए कि कौन सा/से निष्कर्ष तार्किक रूप से कथनों का अनुसरण करता/करते है/हैं।

कथन:

सभी मोजे कपड़े हैं।

सभी कपड़े जूते हैं।

कुछ जूते दस्ताने हैं।

निष्कर्ष:

I. कुछ जूते मोजे हैं।

II. कुछ दस्ताने कपड़े हैं।

Ans 1. केवल निष्कर्ष II अनुसरण करता है।

2. दोनों निष्कर्ष I और II अनुसरण करते हैं।

3. केवल निष्कर्ष I अनुसरण करता है।

4. न तो निष्कर्ष I और न ही II अनुसरण करता है।

Question ID : 630680416721

Option 1 ID : 6306801625648

Option 2 ID : 6306801625649

Option 3 ID : 6306801625647

Option 4 ID : 6306801625650

Status : Answered

Chosen Option : 3

Q.15 उस सही विकल्प का चयन कीजिए जो नीचे दिए गए शब्दों के एक तार्किक क्रम-विन्यास को दर्शाता है।

1. उत्पादन

2. कच्चा माल

3. खपत

4. सामग्री प्रसंस्करण

5. वितरण

Ans 1. 2, 4, 1, 5, 3

2. 4, 2, 1, 5, 3

3. 2, 1, 4, 5, 3

4. 4, 5, 2, 1, 3

Question ID : 630680222298

Option 1 ID : 630680863025

Option 2 ID : 630680863023

Option 3 ID : 630680863024

Option 4 ID : 630680863026

Status : Answered

Chosen Option : 1

Q.16 एक निश्चित कूट भाषा में,
A + B का अर्थ है, A, B के पिता है,
A - B का अर्थ है, A, B का भाई है,
A × B का अर्थ है, A, B की पुत्री है,
A ÷ B का अर्थ है, A, B की बहन है।
उपरोक्त के आधार पर, यदि 'T - M + H ÷ K × J' है, तो J, T से किस प्रकार संबंधित है?

- Ans 1. भाई की पत्नी
 2. माँ
 3. बहन
 4. माँ की बहन

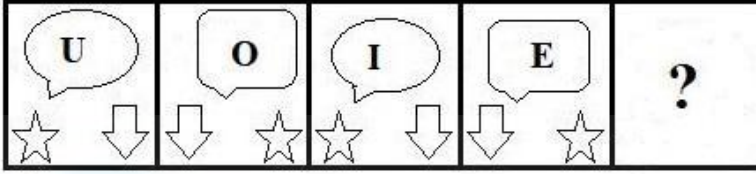
Question ID : 63068058048
Option 1 ID : 630680223939
Option 2 ID : 630680223938
Option 3 ID : 630680223941
Option 4 ID : 630680223940
Status : Answered
Chosen Option : 1

Q.17 एक निश्चित कूट भाषा में, 'BROWSE' को 'ZJMEIW' लिखा जाता है और 'ROAD' को 'JMAX' लिखा जाता है। उस भाषा में 'BUDGET' को किस प्रकार लिखा जाएगा?

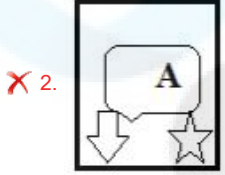
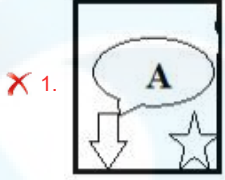
- Ans 1. ZGXUWH
 2. ZGXHWU
 3. ZGXWHU
 4. ZGXUHW

Question ID : 630680416146
Option 1 ID : 6306801623349
Option 2 ID : 6306801623350
Option 3 ID : 6306801623348
Option 4 ID : 6306801623347
Status : Answered
Chosen Option : 1

Q.18 दिए गए विकल्पों में से उस आकृति का चयन कीजिए जो निम्नलिखित श्रृंखला में प्रश्नवाचक चिन्ह (?) को प्रतिस्थापित कर सकती है।



Ans



Question ID : 63068083258

Option 1 ID : 630680322895

Option 2 ID : 630680322894

Option 3 ID : 630680322893

Option 4 ID : 630680322892

Status : Answered

Chosen Option : 3

Q.19 एक निश्चित कूट भाषा में,
 $A + B$ का अर्थ है 'A, B की माता है',
 $A - B$ का अर्थ है 'A, B का भाई है',
 $A \times B$ का अर्थ है 'A, B की पत्नी है',
 $A \div B$ का अर्थ है 'A, B का पिता है'।

उपर्युक्त के आधार पर, यदि $R + P \times Q \div S - T \times V$ है, तो P, V से किस प्रकार संबंधित है?

Ans ✗ 1. पोती

✗ 2. दामाद

✓ 3. सास

✗ 4. पत्नी

Question ID : 630680220428

Option 1 ID : 630680855577

Option 2 ID : 630680855580

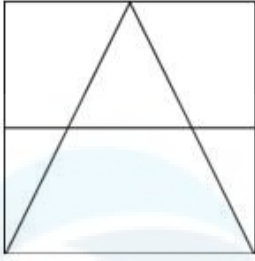
Option 3 ID : 630680855578

Option 4 ID : 630680855579

Status : Answered

Chosen Option : 3

Q.20 उस विकल्प आकृति का चयन करें जिसमें दी गई आकृति उसके अंश रूप में सन्नहित है (घुमाने की अनुमति नहीं है)।

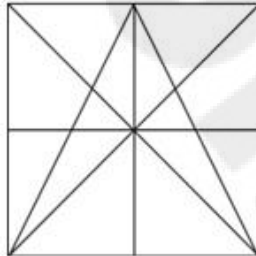


Ans

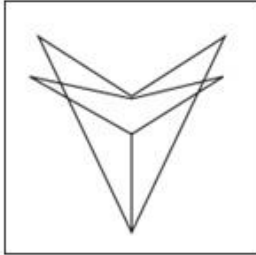
✗ 1.



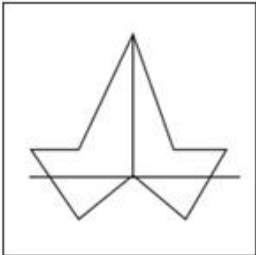
✓ 2.



✗ 3.



✗ 4.



Question ID : 630680302880

Option 1 ID : 6306801178185

Option 2 ID : 6306801178184

Option 3 ID : 6306801178183

Option 4 ID : 6306801178182

Status : Answered

Chosen Option : 2

Q.21 यदि '+' का अर्थ भाग देना है, '-' का अर्थ गुणा करना है, '÷' का अर्थ जोड़ना है और 'x' का अर्थ घटाना है, तो निम्नलिखित व्यंजक का मान ज्ञात कीजिए।

$$19 - 6 \div 306 + 17 \times 9$$

Ans 1. 123

2. 218

3. 212

4. 126

Question ID : 630680411807

Option 1 ID : 6306801606064

Option 2 ID : 6306801606066

Option 3 ID : 6306801606063

Option 4 ID : 6306801606065

Status : Answered

Chosen Option : 1

Q.22 दिए गए विकल्पों में से अक्षरों के उस संयोजन का चयन कीजिए जिसे दी गई श्रृंखला के रिक्त स्थानों में क्रमिक रूप से रखे जाने पर श्रृंखला पूरी हो जाएगी।

_UG_HU_EH_GE__G_

Ans 1. GEHUEHU

2. HEGUHUE

3. HGEUGHE

4. EHUGHGE

Question ID : 630680416634

Option 1 ID : 6306801625300

Option 2 ID : 6306801625299

Option 3 ID : 6306801625302

Option 4 ID : 6306801625301

Status : Answered

Chosen Option : 2

Q.23 उस विकल्प का चयन कीजिए, जो दिए गए शब्दों के सही क्रम को निरूपित करता है, जैसे कि वे अंग्रेजी शब्दकोश में दिखाई देते हैं।

1. Peril
2. Perfume
3. Permission
4. Perform
5. Period
6. Perplex

Ans 1. 4, 2, 1, 5, 3, 6

2. 4, 2, 5, 6, 3, 1

3. 4, 5, 1, 2, 6, 3

4. 4, 1, 5, 3, 2, 6

Question ID : 630680417392

Option 1 ID : 6306801628332

Option 2 ID : 6306801628333

Option 3 ID : 6306801628334

Option 4 ID : 6306801628331

Status : Answered

Chosen Option : 1

Q.24 'M \$ N' का अर्थ है कि 'M, N का पुत्र है',
'M + N' का अर्थ है कि 'M, N की बहन है',
'M ÷ N' का अर्थ है कि 'M, N का पति है',
'M & N' का अर्थ है कि 'M, N की पत्नी है',
'M = N' का अर्थ है कि 'M, N का भाई है'.
यदि 'G \$ C = A ÷ B + D & E' है, तो E का C से क्या संबंध है?

- Ans
- 1. पुत्र
 - 2. चाचा
 - 3. भाई
 - 4. पिता

Question ID : 63068085559
Option 1 ID : 630680331740
Option 2 ID : 630680331743
Option 3 ID : 630680331741
Option 4 ID : 630680331742
Status : Answered
Chosen Option : 4

Q.25 एक निश्चित कूट भाषा में, 'JAMB' को 'SBPA' और 'BOAT' को 'ANBI' लिखा जाता है। उसी भाषा में 'JERK' को किस प्रकार लिखा जाएगा?

- Ans
- 1. SKRX
 - 2. SXRK
 - 3. SXKR
 - 4. SRKX

Question ID : 630680416141
Option 1 ID : 6306801623328
Option 2 ID : 6306801623327
Option 3 ID : 6306801623329
Option 4 ID : 6306801623330
Status : Answered
Chosen Option : 3

Section : General Awareness

Q.1 समुद्री बर्फ पृथ्वी की जलवायु को निर्धारित करने में सहायक होती है। इसके अनुसार, समुद्री बर्फ पर पड़ने वाले सूर्य के प्रकाश का कितना प्रतिशत वापस अंतरिक्ष में परावर्तित हो जाता है?

- Ans
- 1. 80%
 - 2. 85%
 - 3. 70%
 - 4. 75%

Question ID : 630680407400
Option 1 ID : 6306801588540
Option 2 ID : 6306801588541
Option 3 ID : 6306801588538
Option 4 ID : 6306801588539
Status : Not Answered
Chosen Option : --

Q.2 कार्बन ब्रीफ रिव्यू 2019 के आंकड़ों के अनुसार, भारत ग्रीनहाउस गैसों (GHGs) का दुनिया का _____ सबसे बड़ा उत्सर्जक है।

- Ans
- 1. पांचवां
 - 2. नौवां
 - 3. सातवां
 - 4. तीसरा

Question ID : 630680409793
Option 1 ID : 6306801598004
Option 2 ID : 6306801598002
Option 3 ID : 6306801598001
Option 4 ID : 6306801598003
Status : Answered
Chosen Option : 4

Q.3 निम्नलिखित में से किस अधिनियम ने चीन के साथ ईस्ट इंडिया कंपनी के व्यापार के एकाधिकार को समाप्त कर दिया?

- Ans
- 1. 1853 के चार्टर एक्ट
 - 2. भारत सरकार अधिनियम 1858
 - 3. 1833 के चार्टर एक्ट
 - 4. 1793 के चार्टर एक्ट

Question ID : 630680412461
Option 1 ID : 6306801608670
Option 2 ID : 6306801608668
Option 3 ID : 6306801608669
Option 4 ID : 6306801608667
Status : Answered
Chosen Option : 3

Q.4 राष्ट्रीय युवा दिवस या 'युवा दिवस' भारत में किस दिन मनाया जाता है?

- Ans
- 1. 14 अप्रैल को
 - 2. 12 जनवरी को
 - 3. 26 नवंबर को
 - 4. 26 जनवरी को

Question ID : 630680157878
Option 1 ID : 630680611043
Option 2 ID : 630680611042
Option 3 ID : 630680611040
Option 4 ID : 630680611041
Status : Answered
Chosen Option : 2

Q.5 कार्बी जनजाति, जो सांस्कृतिक त्योहार 'रोंगकर' मनाती है, भारतीय राज्य _____ से संबंधित है।

- Ans
- 1. असम
 - 2. महाराष्ट्र
 - 3. केरल
 - 4. उत्तराखंड

Question ID : 630680410284
Option 1 ID : 6306801599863
Option 2 ID : 6306801599864
Option 3 ID : 6306801599865
Option 4 ID : 6306801599866
Status : Not Answered
Chosen Option : --

Q.6 निम्नलिखित में से कौन-सा बैक्टीरिया दूध में पनप कर उसे दही में बदल देता है?

- Ans
- 1. E. कर्डी
 - 2. साल्मोनेला टाइफी
 - 3. लैक्टिक एसिड बैक्टीरिया
 - 4. साल्मोनेला लैक्टे

Question ID : 630680407515
Option 1 ID : 6306801589000
Option 2 ID : 6306801589001
Option 3 ID : 6306801588998
Option 4 ID : 6306801588999
Status : Answered
Chosen Option : 3

Q.7 Which of the following is a poor conductor of electricity?

- Ans
- 1. Water from hand pump
 - 2. Distilled water
 - 3. Water from pond
 - 4. Tap water

Question ID : 63068052309
Option 1 ID : 630680201340
Option 2 ID : 630680201339
Option 3 ID : 630680201338
Option 4 ID : 630680201341
Status : Not Answered
Chosen Option : --

Q.8 _____ द्वारा, गवर्नर जनरल इन काउंसिल (Governor General in Council) को भारत में पूरे ब्रिटिश शासित क्षेत्रों के लिए कानून बनाने की शक्ति दी गई थी।

- Ans
- 1. 1833 के चार्टर एक्ट
 - 2. 1813 के चार्टर एक्ट
 - 3. 1853 के चार्टर एक्ट
 - 4. 1793 के चार्टर एक्ट

Question ID : 630680412463
Option 1 ID : 6306801608675
Option 2 ID : 6306801608676
Option 3 ID : 6306801608678
Option 4 ID : 6306801608677
Status : Answered
Chosen Option : 2

Q.9 भारत के किसी एक राज्य में स्थित दुनिया का सबसे बड़ा पीवी सोलर पार्क कौन सा है?

- Ans
- 1. भादला सोलर पार्क
 - 2. धोलेरा सोलर पार्क
 - 3. पावागढ़ सोलर पार्क
 - 4. हर्षद सोलर पार्क

Question ID : 630680409781
Option 1 ID : 6306801597953
Option 2 ID : 6306801597955
Option 3 ID : 6306801597954
Option 4 ID : 6306801597956
Status : Not Answered
Chosen Option : --

Q.10 सिंधु घाटी सभ्यता में निम्नलिखित में से किस स्थान पर एक ईंट संरचना की पहचान डॉकयार्ड के रूप में की गई है जो जहाजों के ठहरने और कार्गो संचालन के लिए था?

- Ans
- 1. मोहनजोदड़ो
 - 2. धौलावीरा
 - 3. लोथल
 - 4. राखीगढ़ी

Question ID : 630680409303
Option 1 ID : 6306801596042
Option 2 ID : 6306801596044
Option 3 ID : 6306801596043
Option 4 ID : 6306801596041
Status : Answered
Chosen Option : 3

Q.11 राज्यपाल की नियुक्ति के मामले में कौन-सा विकल्प सही नहीं है?

- Ans
- 1. छह वर्ष के लिए नियुक्ति
 - 2. अपने कार्यकाल के दौरान लाभ का कोई पद धारण नहीं कर सकता
 - 3. भारत का नागरिक
 - 4. कम से कम 35 वर्ष की आयु होनी चाहिए

Question ID : 630680408269
Option 1 ID : 6306801591974
Option 2 ID : 6306801591973
Option 3 ID : 6306801591971
Option 4 ID : 6306801591972
Status : Answered
Chosen Option : 1

Q.12 भारत के वैश्विक रूप प्रख्यात संगीतकार रिकी केज ने निम्नलिखित में से किस एल्बम के लिए 57वां ग्रैमी पुरस्कार जीता?

- Ans
- 1. माउंटेन ड्रीम्स
 - 2. डिवाइन टाइम्स
 - 3. मिस्टिक माउंटेन्स
 - 4. विंड्स ऑफ संसार

Question ID : 630680409387
Option 1 ID : 6306801596377
Option 2 ID : 6306801596379
Option 3 ID : 6306801596378
Option 4 ID : 6306801596380
Status : Not Answered
Chosen Option : --

Q.13 जब कोई गैर मंत्री किसी विधेयक का प्रस्ताव करता है तो उसे क्या कहा जाता है?

- Ans
- 1. गैर-धन विधेयक
 - 2. निजी सदस्य विधेयक
 - 3. धन विधेयक
 - 4. सरकारी विधेयक

Question ID : 630680408297
Option 1 ID : 6306801592085
Option 2 ID : 6306801592086
Option 3 ID : 6306801592084
Option 4 ID : 6306801592083
Status : Answered
Chosen Option : 2

Q.14 राज्यपाल, किसकी सलाह पर मंत्रियों की नियुक्ति करता है?

- Ans
- 1. राष्ट्रपति
 - 2. उप-राष्ट्रपति
 - 3. मुख्यमंत्री
 - 4. प्रधानमंत्री

Question ID : 630680408211
Option 1 ID : 6306801591742
Option 2 ID : 6306801591741
Option 3 ID : 6306801591740
Option 4 ID : 6306801591739
Status : Answered
Chosen Option : 3

Q.15 दिसंबर 2022 में भारतीय राष्ट्रीय राजमार्ग प्राधिकरण (NHAI) के नए अध्यक्ष के रूप में किसे नियुक्त किया गया है?

- Ans
- 1. गजेंद्र शर्मा
 - 2. संतोष कुमार यादव
 - 3. दिनेश मेनन
 - 4. अंशुल मिश्रा

Question ID : 630680413097
Option 1 ID : 6306801611213
Option 2 ID : 6306801611214
Option 3 ID : 6306801611211
Option 4 ID : 6306801611212
Status : Answered
Chosen Option : 3

Q.16 वर्ष 2023 में अंतरराष्ट्रीय वन दिवस के अवसर पर छत्तीसगढ़ सरकार द्वारा निम्नलिखित में से कौन-सी योजना शुरू की गई थी?

- Ans
- 1. मुख्यमंत्री कृषि योजना
 - 2. कृषि विकास योजना
 - 3. किसान आय योजना
 - 4. मुख्यमंत्री वृक्ष सम्पदा योजना

Question ID : 630680413076
Option 1 ID : 6306801611127
Option 2 ID : 6306801611129
Option 3 ID : 6306801611130
Option 4 ID : 6306801611128
Status : Not Answered
Chosen Option : --

Q.17 अनंत आर कृष्णन किस वाद्य-यंत्र से संबंधित हैं?

- Ans
- 1. तबला
 - 2. ड्रम
 - 3. मृदंगम
 - 4. वॉयलिन

Question ID : 630680409411
Option 1 ID : 6306801596473
Option 2 ID : 6306801596476
Option 3 ID : 6306801596475
Option 4 ID : 6306801596474
Status : Not Answered
Chosen Option : --

Q.18 पर्यावरण और पारिस्थितिकी के क्षेत्र में वैज्ञानिक प्रयासों को बढ़ावा देने और प्रोत्साहित करने के लिए वर्ष 1982 में कौन-सा भारतीय पुरस्कार आरंभ किया गया था?

- Ans
- 1. जैव विविधता के लिए बी.पी. पाल राष्ट्रीय पर्यावरण फेलोशिप पुरस्कार
 - 2. पर्यावरण और पारिस्थितिकी के लिए संजय गांधी पुरस्कार
 - 3. पीतांबर पंत राष्ट्रीय पर्यावरण फेलोशिप पुरस्कार
 - 4. इंदिरा गांधी पर्यावरण पुरस्कार

Question ID : 630680407438
Option 1 ID : 6306801588693
Option 2 ID : 6306801588690
Option 3 ID : 6306801588692
Option 4 ID : 6306801588691
Status : Not Answered
Chosen Option : --

Q.19 दिल्ली सल्तनत के निम्नलिखित में से किस राजवंश ने आगरा शहर की स्थापना की थी?

- Ans
- 1. खिलजी राजवंश
 - 2. सैय्यद राजवंश
 - 3. लोदी राजवंश
 - 4. तुगलक राजवंश

Question ID : 630680412630
Option 1 ID : 6306801609344
Option 2 ID : 6306801609345
Option 3 ID : 6306801609346
Option 4 ID : 6306801609343
Status : Answered
Chosen Option : 3

Q.20 निम्नलिखित में से किसने स्टेट फ्रॉम द हार्ट पुस्तक लिखी है?

- Ans
- 1. मिल्खा सिंह
 - 2. कपिल देव
 - 3. सचिन तेंदुलकर
 - 4. मैरी कॉम

Question ID : 630680409401
Option 1 ID : 6306801596433
Option 2 ID : 6306801596436
Option 3 ID : 6306801596434
Option 4 ID : 6306801596435
Status : Not Answered
Chosen Option : --

Q.21 भारतीय संविधान में निम्नलिखित में से किस कर्तव्य को 11वें मौलिक कर्तव्य के रूप में वर्णित किया गया है?

- Ans
- 1. अपनी संस्कृति की समृद्ध राष्ट्रीय विरासत को संजोना और संरक्षित करना
 - 2. 6-14 वर्ष की आयु के बच्चों को शिक्षा के अवसर प्रदान करना
 - 3. भारत की अखंडता और एकता की रक्षा करना
 - 4. वैज्ञानिक सोच विकसित करना

Question ID : 630680408288
Option 1 ID : 6306801592048
Option 2 ID : 6306801592049
Option 3 ID : 6306801592050
Option 4 ID : 6306801592047
Status : Answered
Chosen Option : 2

Q.22 _____, वंचन की स्थिति है जो एक व्यक्ति के सतत, स्वस्थ और यथोचित उत्पादक जीवन के लिए बुनियादी जरूरतों को पूरा करने में असमर्थता को दर्शाती है।

- Ans
- 1. निरक्षरता
 - 2. अज्ञानता
 - 3. गरीबी
 - 4. दासता

Question ID : 630680409740
Option 1 ID : 6306801597790
Option 2 ID : 6306801597792
Option 3 ID : 6306801597791
Option 4 ID : 6306801597789
Status : Not Answered
Chosen Option : --

Q.23 प्रयाग प्रशस्ति के लेखक हरिषेण, निम्नलिखित में से किस गुप्त सम्राट के दरबारी कवि थे?

- Ans
- 1. समुद्रगुप्त
 - 2. कुमारगुप्त प्रथम
 - 3. रामगुप्त
 - 4. स्कन्दगुप्त

Question ID : 630680210801
Option 1 ID : 630680817363
Option 2 ID : 630680817365
Option 3 ID : 630680817364
Option 4 ID : 630680817366
Status : Answered
Chosen Option : 1

Q.24 संसद सदस्य वेतन, भत्ता और पेंशन (संशोधन) विधेयक, 2020 के जरिए कोविड-19 महामारी के कारण उत्पन्न अत्यावश्यकताओं को पूरा करने हेतु 1 अप्रैल 2020 से शुरू होने वाले एक वर्ष की अवधि के लिए संसद सदस्यों के वेतन में कितने प्रतिशत की कमी की गयी?

- Ans
- 1. 25%
 - 2. 40%
 - 3. 30%
 - 4. 20%

Question ID : 63068078740
Option 1 ID : 630680304998
Option 2 ID : 630680305000
Option 3 ID : 630680304997
Option 4 ID : 630680304999
Status : Not Answered
Chosen Option : --

Q.25 2011 की जनगणना के अनुसार भारत की जनगणना संचालन _____ चरणों में किया गया था।

- Ans
- 1. 5
 - 2. 3
 - 3. 2
 - 4. 7

Question ID : 630680409726
Option 1 ID : 6306801597734
Option 2 ID : 6306801597736
Option 3 ID : 6306801597735
Option 4 ID : 6306801597733
Status : Not Answered
Chosen Option : --

Section : Quantitative Aptitude

Q.1 दो संख्याएँ 4 : 5 के अनुपात में हैं। यदि छोटी संख्या में 3 जोड़ दिया जाए और बड़ी संख्या में से 7 घटा दिया जाए, तो उनका अनुपात 1 : 1 हो जाता है। तो संख्याएँ ज्ञात कीजिए।

- Ans
- 1. 40, 50
 - 2. 55, 44
 - 3. 60, 75
 - 4. 20, 25

Question ID : 630680428983
Option 1 ID : 6306801673978
Option 2 ID : 6306801673977
Option 3 ID : 6306801673979
Option 4 ID : 6306801673976
Status : Answered
Chosen Option : 1

Q.2 सरलीकृत करें : $25^3 - 75^3 + 50^3$

- Ans
- 1. -281250
 - 2. 271250
 - 3. 281350
 - 4. -281450

Question ID : 630680413621
Option 1 ID : 6306801613311
Option 2 ID : 6306801613308
Option 3 ID : 6306801613309
Option 4 ID : 6306801613310
Status : Answered
Chosen Option : 1

Q.3 $7\left(\frac{\operatorname{cosec} 24^\circ}{\sec 66^\circ}\right)^3 + 8\left(\frac{\cot 37^\circ}{\tan 53^\circ}\right)^4 - \left(2\frac{\sec 14^\circ}{\operatorname{cosec} 76^\circ}\right)^2 + \left(-3\frac{\tan 82^\circ}{\cot 8^\circ}\right)^3$ का मान ज्ञात करें।

- Ans 1. -16
 2. 10
 3. 2
 4. 40

Question ID : 630680151953

Option 1 ID : 630680587857

Option 2 ID : 630680587856

Option 3 ID : 630680587858

Option 4 ID : 630680587859

Status : Answered

Chosen Option : 1

Q.4 यदि एक समद्विबाहु त्रिभुज का शीर्ष कोण 42° है, तो अन्य दो कोणों का माप क्या होगा?

- Ans 1. 89° और 89°
 2. 59° और 59°
 3. 79° और 79°
 4. 69° और 69°

Question ID : 630680194651

Option 1 ID : 630680755132

Option 2 ID : 630680755129

Option 3 ID : 630680755130

Option 4 ID : 630680755131

Status : Answered

Chosen Option : 4

Q.5 कितनी वार्षिक किस्त चार वर्षों में 12% साधारण ब्याज प्रति वर्ष पर देय Rs.3,658 के ऋण को समाप्त करेगी?

- Ans 1. Rs.775
 2. Rs.825
 3. Rs.725
 4. Rs.750

Question ID : 630680104288

Option 1 ID : 630680405369

Option 2 ID : 630680405370

Option 3 ID : 630680405367

Option 4 ID : 630680405368

Status : Answered

Chosen Option : 1

Q.6 A retailer buys 220 chocolates from a wholesaler for the marked price of 198 items. He then sells each chocolate at a discount of 3.7%. What is his profit percentage?

- Ans 1. 6%
 2. 7%
 3. 7.2%
 4. 6.3%

Question ID : 630680321430
Option 1 ID : 6306801250429
Option 2 ID : 6306801250431
Option 3 ID : 6306801250432
Option 4 ID : 6306801250430
Status : Answered
Chosen Option : 2

Q.7 How many times does the hour hand and minute hand of a clock coincide in half a day?

- Ans 1. 11
 2. 22
 3. 44
 4. 55

Question ID : 630680114264
Option 1 ID : 630680442458
Option 2 ID : 630680442459
Option 3 ID : 630680442460
Option 4 ID : 630680442461
Status : Not Answered
Chosen Option : --

Q.8 दो उम्मीदवारों के बीच हुए एक चुनाव में, पहले उम्मीदवार को कुल वैध मतों के 75% मत मिलते हैं। यदि 2,48,000 मतों में से 20% मत अमान्य हैं, तो दूसरे उम्मीदवार के पक्ष में कितने मत पड़े?

- Ans 1. 46800
 2. 49600
 3. 56600
 4. 53800

Question ID : 630680429005
Option 1 ID : 6306801674067
Option 2 ID : 6306801674066
Option 3 ID : 6306801674065
Option 4 ID : 6306801674064
Status : Answered
Chosen Option : 2

Q.9 छह अंकों की एक संख्या 33 से विभाज्य है। यदि संख्या में 21 जोड़ा जाता है, तो इस प्रकार प्राप्त नई संख्या _____ से भी विभाज्य है।

- Ans 1. 2
 2. 3
 3. 4
 4. 5

Question ID : 630680428331
Option 1 ID : 6306801671368
Option 2 ID : 6306801671369
Option 3 ID : 6306801671370
Option 4 ID : 6306801671371
Status : Answered
Chosen Option : 2

Q.10 एक भाग प्रश्न में, भाजक भागफल का 13 गुना और शेषफल का 6 गुना है। यदि शेषफल 39 है, तो भाज्य ज्ञात करें।

- Ans 1. 4,800
 2. 4,251
 3. 4,576
 4. 4,240

Question ID : 630680105232
Option 1 ID : 630680409009
Option 2 ID : 630680409010
Option 3 ID : 630680409008
Option 4 ID : 630680409007
Status : Answered
Chosen Option : 2

Q.11 निम्नलिखित तालिका विभिन्न वर्षों में विभिन्न कारखानों में वाशिंग मशीनों के उत्पादन (हजारों में) को दर्शाती है।

कारखाना/वर्ष	2001	2002	2003	2004	2005
P	28	23	27	31	29
Q	14	18	25	22	30
R	31	29	33	30	23
S	23	28	36	35	27

किस वर्ष कारखाने Q में वाशिंग मशीनों का उत्पादन कारखाने R से अधिक था?

- Ans 1. 2002
 2. 2005
 3. 2003
 4. 2004

Question ID : 630680428158
Option 1 ID : 6306801670676
Option 2 ID : 6306801670679
Option 3 ID : 6306801670677
Option 4 ID : 6306801670678
Status : Answered
Chosen Option : 2

Q.12 एक बस 30 घंटे में 1200 km की दूरी तय करती है। इसकी औसत चाल m/s में क्या है?

- Ans
- 1. $12\frac{1}{9}$
 - 2. $11\frac{1}{9}$
 - 3. $12\frac{1}{3}$
 - 4. $13\frac{1}{9}$

Question ID : 630680428518

Option 1 ID : 6306801672119

Option 2 ID : 6306801672118

Option 3 ID : 6306801672116

Option 4 ID : 6306801672117

Status : Answered

Chosen Option : 2

Q.13 दो संकेद्रित वृत्तों की त्रिज्याएँ 27 cm और 18 cm हैं। वृत्तों की परिसेमाओं (boundaries) से घिरी बंद आकृति का क्षेत्रफल (cm^2 में) कितना है?

- Ans
- 1. 288π
 - 2. 504π
 - 3. 405π
 - 4. 505π

Question ID : 630680428624

Option 1 ID : 6306801672540

Option 2 ID : 6306801672541

Option 3 ID : 6306801672543

Option 4 ID : 6306801672542

Status : Answered

Chosen Option : 3

Q.14 अनीता अपनी आय का 20% बचाती है। यदि उसकी आय में 30% की वृद्धि होती है और वह अपनी नई आय का 25% बचाती है, तो उसकी वास्तविक बचत में कितने प्रतिशत की वृद्धि होगी?

- Ans
- 1. 62.50%
 - 2. 83%
 - 3. 70%
 - 4. 65.20%

Question ID : 630680428392

Option 1 ID : 6306801671612

Option 2 ID : 6306801671614

Option 3 ID : 6306801671613

Option 4 ID : 6306801671615

Status : Answered

Chosen Option : 1

Q.15 पूजा, चमेली और अंजू के पर्स में कुल ₹450 हैं। पूजा के पास चमेली से ₹50 अधिक हैं। अंजू के पास पूजा की तुलना में दो गुना हैं। क्रमशः पूजा, चमेली और अंजू के पर्स में कितने रुपये हैं?

- Ans
- 1. ₹125, ₹50 और ₹275
 - 2. ₹100, ₹50 और ₹300
 - 3. ₹150, ₹75 और ₹225
 - 4. ₹125, ₹75 और ₹250

Question ID : 630680429074

Option 1 ID : 6306801674343

Option 2 ID : 6306801674342

Option 3 ID : 6306801674340

Option 4 ID : 6306801674341

Status : Answered

Chosen Option : 4

Q.16 यदि 8 पुरुष या 16 महिलाएं या 32 लड़के एक कार्य को 8 महीने में पूरा कर सकते हैं, तो 4 पुरुष, 4 महिलाएं और 4 लड़के मिलकर उस कार्य को कितने महीने में पूरा कर सकते हैं?

- Ans
- 1. $9\frac{1}{7}$
 - 2. $8\frac{2}{7}$
 - 3. $10\frac{5}{7}$
 - 4. $6\frac{3}{7}$

Question ID : 630680428512

Option 1 ID : 6306801672094

Option 2 ID : 6306801672093

Option 3 ID : 6306801672095

Option 4 ID : 6306801672092

Status : Answered

Chosen Option : 1

Q.17 P और Q एक कार्य को क्रमशः 4 दिन और 12 दिन में पूरा कर सकते हैं। P से कार्य की शुरुआत करके वे एकांतर दिनों में कार्य करते हैं। कार्य कितने दिनों में पूरा होगा?

- Ans
- 1. 4 दिन
 - 2. 6 दिन
 - 3. 3 दिन
 - 4. 8 दिन

Question ID : 630680387892

Option 1 ID : 6306801512191

Option 2 ID : 6306801512192

Option 3 ID : 6306801512190

Option 4 ID : 6306801512193

Status : Answered

Chosen Option : 2

Q.18 एक ग्राइंडर का अंकित मूल्य ₹3,000 था और डीलर ने उस पर 20% और 15% की क्रमिक छूट की पेशकश की। उसने ग्राइंडर कितने में बेचा?

- Ans 1. ₹2,040
 2. ₹2,200
 3. ₹2,000
 4. ₹2,400

Question ID : 630680428860
Option 1 ID : 6306801673486
Option 2 ID : 6306801673484
Option 3 ID : 6306801673485
Option 4 ID : 6306801673487
Status : Answered
Chosen Option : 1

Q.19 एक ऐसे समबाहु त्रिभुज का क्षेत्रफल ज्ञात करें जिसकी भुजाएं 16 cm लंबाई वाली हैं।

- Ans 1. $62\sqrt{3} \text{ cm}^2$
 2. $64\sqrt{3} \text{ cm}^2$
 3. $60\sqrt{3} \text{ cm}^2$
 4. $66\sqrt{3} \text{ cm}^2$

Question ID : 630680421484
Option 1 ID : 6306801644400
Option 2 ID : 6306801644401
Option 3 ID : 6306801644399
Option 4 ID : 6306801644402
Status : Answered
Chosen Option : 2

Q.20 साहिल 16 km/h की चाल से 96 km की दूरी तय करता है और 5 घंटे में 21 km/h की चाल से अन्य दूरी तय करता है। उसकी औसत चाल (km/h में) क्या है? (दो दशमलव स्थान तक सन्निकट)

- Ans 1. 19.45
 2. 18.50
 3. 17.47
 4. 18.27

Question ID : 630680428930
Option 1 ID : 6306801673765
Option 2 ID : 6306801673764
Option 3 ID : 6306801673767
Option 4 ID : 6306801673766
Status : Answered
Chosen Option : 4

Q.21 एक वृत्त की त्रिज्या में इस प्रकार वृद्धि की जाती है कि उसकी परिधि में 7% की वृद्धि हो जाती है। परिणामस्वरूप, वृत्त के क्षेत्रफल में भी _____ की वृद्धि होती है।

- Ans
- 1. 12.20%
 - 2. 10.28%
 - 3. 18.69%
 - 4. 14.49%

Question ID : 630680428040
Option 1 ID : 6306801670205
Option 2 ID : 6306801670204
Option 3 ID : 6306801670207
Option 4 ID : 6306801670206
Status : Answered
Chosen Option : 4

Q.22 यदि $x^2 + \frac{1}{x^2} = 119$ ($x > 0$) है, तो $(x^3 + \frac{1}{x^3})$ का मान ज्ञात कीजिए।

- Ans
- 1. 1920
 - 2. 1125
 - 3. 1298
 - 4. 1331

Question ID : 630680413610
Option 1 ID : 6306801613265
Option 2 ID : 6306801613267
Option 3 ID : 6306801613266
Option 4 ID : 6306801613264
Status : Answered
Chosen Option : 3

Q.23 एक घनाभ की विमाएँ 8 cm, 12 cm और 14 cm हैं। संपूर्ण पृष्ठीय क्षेत्रफल ज्ञात कीजिए।

- Ans
- 1. 752 cm²
 - 2. 753 cm²
 - 3. 754 cm²
 - 4. 751 cm²

Question ID : 630680421588
Option 1 ID : 6306801644816
Option 2 ID : 6306801644817
Option 3 ID : 6306801644818
Option 4 ID : 6306801644815
Status : Answered
Chosen Option : 1

Q.24 एक आयताकार खेत की विमाओं में 6 मीटर की वृद्धि करने पर उसकी विमाओं का अनुपात 4:3 हो जाता है और विमाओं में 6 मीटर कमी करने पर उनका अनुपात 2:1 हो जाता है। खेत की विमाएँ ज्ञात कीजिए।

- Ans
- ✓ 1. 18 मीटर, 12 मीटर
 - ✗ 2. 16 मीटर, 12 मीटर
 - ✗ 3. 10 मीटर, 6 मीटर
 - ✗ 4. 14 मीटर, 10 मीटर

Question ID : 630680428576
Option 1 ID : 6306801672351
Option 2 ID : 6306801672349
Option 3 ID : 6306801672350
Option 4 ID : 6306801672348
Status : Answered
Chosen Option : 1

Q.25 एक बस अपनी यात्रा के पहले 70 km को 40 मिनट में और शेष 60 km को 30 मिनट में तय करती है। बस की औसत चाल (km/h में) कितनी है?

- Ans
- ✓ 1. $111\frac{3}{7}$
 - ✗ 2. $106\frac{5}{7}$
 - ✗ 3. $91\frac{2}{7}$
 - ✗ 4. $109\frac{3}{7}$

Question ID : 630680428840
Option 1 ID : 6306801673407
Option 2 ID : 6306801673405
Option 3 ID : 6306801673404
Option 4 ID : 6306801673406
Status : Answered
Chosen Option : 1

Section : English Language

Q.1 Select the most appropriate option to fill in the blank.

We must try and incorporate positive thinking in our lives to _____ countless benefits it has to offer.

- Ans
- ✗ 1. ignore
 - ✓ 2. derive
 - ✗ 3. contain
 - ✗ 4. release

Question ID : 630680414678
Option 1 ID : 6306801617456
Option 2 ID : 6306801617458
Option 3 ID : 6306801617457
Option 4 ID : 6306801617455
Status : Answered
Chosen Option : 2

Q.2 Select the option that expresses the following sentence in active voice.
About 200 birds were driven out of their habitats by the City Council based on a Health Department recommendation.

- Ans 1. About 200 birds is driven out of their habitats based on a Health Department recommendation.
2. The City Council has driven about 200 birds out of their habitats based on a Health Department recommendation.
3. A Health Department recommendation was the basis for the City Council to drive out 200 birds from their habitats.
4. The City Council drove about 200 birds out of their habitats, based on a Health Department recommendation.

Question ID : 630680415315
Option 1 ID : 6306801620010
Option 2 ID : 6306801620008
Option 3 ID : 6306801620009
Option 4 ID : 6306801620007
Status : Answered
Chosen Option : 4

Q.3 Select the most appropriate idiom to fill in the blank.
The imposition of lock down proved to be a _____ for many students who were not prepared for the examinations.

- Ans 1. piece of cake
2. chip on their shoulder
3. blessing in disguise
4. feather in cap

Question ID : 630680183008
Option 1 ID : 630680709120
Option 2 ID : 630680709117
Option 3 ID : 630680709119
Option 4 ID : 630680709118
Status : Answered
Chosen Option : 3

Q.4 Select the option that can be used as a one-word substitute for the given group of words.

An absolute government by one man

- Ans 1. Communism
2. Aristocracy
3. Autocracy
4. Supremacy

Question ID : 630680414848
Option 1 ID : 6306801618137
Option 2 ID : 6306801618138
Option 3 ID : 6306801618135
Option 4 ID : 6306801618136
Status : Answered
Chosen Option : 3

Q.5 Parts of the following sentence have been given as options. Select the option that contains an error.

The toast was raised in honour of the chairman yesterday at hall.

- Ans
- 1. of the chairman
 - 2. raised in honour
 - 3. yesterday at hall.
 - 4. The toast was

Question ID : 630680617464
Option 1 ID : 6306802416088
Option 2 ID : 6306802416087
Option 3 ID : 6306802416089
Option 4 ID : 6306802416086

Status : Answered

Chosen Option : 2

Q.6 Select the option that expresses the given sentence in indirect speech.
I said to Amit, "I am not participating in the annual function."

- Ans
- 1. I told Amit that I was not participating in the annual function.
 - 2. I told to Amit that I was not participating in the annual function.
 - 3. I told Amit that he was not participating in the annual function.
 - 4. I said Amit that I was not participating in the annual function.

Question ID : 630680415227
Option 1 ID : 6306801619656
Option 2 ID : 6306801619657
Option 3 ID : 6306801619658
Option 4 ID : 6306801619655

Status : Answered

Chosen Option : 1

Q.7 Select the option that expresses the given sentence in passive voice.
Jim will translate it.

- Ans
- 1. It is translated by Jim.
 - 2. It will be translated by Jim.
 - 3. It will be translate by Jim.
 - 4. It would translate by Jim.

Question ID : 630680415476
Option 1 ID : 6306801620653
Option 2 ID : 6306801620651
Option 3 ID : 6306801620652
Option 4 ID : 6306801620654

Status : Answered

Chosen Option : 2

Q.8 Select the option that expresses the given sentence in active voice.
The novel was being read by many people.

- Ans
- 1. The novel is being read by many people.
 - 2. Many people had read the novel.
 - 3. Many people were reading the novel.
 - 4. The novel was read by many people.

Question ID : 630680415468
Option 1 ID : 6306801620620
Option 2 ID : 6306801620622
Option 3 ID : 6306801620619
Option 4 ID : 6306801620621
Status : Answered
Chosen Option : 3

Q.9 Select the INCORRECTLY spelt word.

- Ans
- 1. Occurence
 - 2. Parallel
 - 3. Grateful
 - 4. Immediately

Question ID : 630680409890
Option 1 ID : 6306801598391
Option 2 ID : 6306801598392
Option 3 ID : 6306801598389
Option 4 ID : 6306801598390
Status : Answered
Chosen Option : 1

Q.10 Select the most appropriate ANTONYM of the given word.
Miserable

- Ans
- 1. Decorated
 - 2. Cheerful
 - 3. Depressing
 - 4. Wealthy

Question ID : 630680375524
Option 1 ID : 6306801463254
Option 2 ID : 6306801463253
Option 3 ID : 6306801463252
Option 4 ID : 6306801463251
Status : Answered
Chosen Option : 2

Q.11 The following sentence has been divided into parts. One of them may contain an error. Select the part that contains the error from the given options. If you don't find any error, mark 'No error' as your answer.

He has been (1) watered the plants (2) for one hour. (3) No error

- Ans 1. 1
 2. 3
 3. 2
 4. 4

Question ID : 630680415142
Option 1 ID : 6306801619315
Option 2 ID : 6306801619317
Option 3 ID : 6306801619316
Option 4 ID : 6306801619318
Status : Answered
Chosen Option : 1

Q.12 Select the correct spelling of the underlined word in the following sentence.
I like drinking lamonade.

- Ans 1. Limonade
 2. Lemonade
 3. Lemonaïd
 4. Lemenade

Question ID : 630680409898
Option 1 ID : 6306801598421
Option 2 ID : 6306801598422
Option 3 ID : 6306801598423
Option 4 ID : 6306801598424
Status : Answered
Chosen Option : 2

Q.13 Select the option that can be used as a one-word substitute for the given group of words.

A person in charge of the old people's home or a hostel

- Ans 1. Watchman
 2. Guard
 3. Warden
 4. Warder

Question ID : 630680414851
Option 1 ID : 6306801618149
Option 2 ID : 6306801618147
Option 3 ID : 6306801618148
Option 4 ID : 6306801618150
Status : Answered
Chosen Option : 3

Q.14 Select the most appropriate meaning of the given idiom.

Gift of the gab

- Ans** ✓ 1. Talent for speaking
✗ 2. Very beautiful
✗ 3. Someone's precious gift
✗ 4. Attached to God

Question ID : 630680410065
Option 1 ID : 6306801599092
Option 2 ID : 6306801599089
Option 3 ID : 6306801599090
Option 4 ID : 6306801599091
Status : Answered
Chosen Option : 1

Q.15 Select the most appropriate meaning of the given idiom.

Call it a day

- Ans** ✗ 1. Start working on something
✗ 2. The time at the end of the day
✗ 3. Start a day badly
✓ 4. Stop working on something

Question ID : 630680183580
Option 1 ID : 630680711329
Option 2 ID : 630680711331
Option 3 ID : 630680711332
Option 4 ID : 630680711330
Status : Answered
Chosen Option : 4

Comprehension:

In the following passage, some words have been deleted. Read the passage carefully and select the most appropriate option to fill in each blank.

Tim Wright knows all about making companies more efficient. His firm, Check-up, sends 'secret shoppers' into retail and leisure companies in order to make sure that customers are receiving good service. After (1)_____ visit, the secret shoppers prepare a report for the company to let them know how the service was. "Companies like to know", says Mr Wright, "that (2)_____ customers go into a store just a few minutes before closing time, they will still get good service."

Check-up (3)_____ set up in the west of England and after two years moved to London so it could offer a nationwide service. (4)_____ the last three years, Check-up's profits have increased dramatically as companies have come to realise the great importance of good customer service. Last week, an important new contract was (5)_____ with a major supermarket chain.

SubQuestion No : 16

Q.16 Select the most appropriate option to fill in blank number 1.

- Ans** ✗ 1. there
✗ 2. his
✗ 3. our
✓ 4. their

Question ID : 630680421703
Option 1 ID : 6306801645263
Option 2 ID : 6306801645266
Option 3 ID : 6306801645265
Option 4 ID : 6306801645264
Status : Answered
Chosen Option : 4

Comprehension:

In the following passage, some words have been deleted. Read the passage carefully and select the most appropriate option to fill in each blank.

Tim Wright knows all about making companies more efficient. His firm, Check-up, sends 'secret shoppers' into retail and leisure companies in order to make sure that customers are receiving good service. After (1)_____ visit, the secret shoppers prepare a report for the company to let them know how the service was. "Companies like to know", says Mr Wright, "that (2)_____ customers go into a store just a few minutes before closing time, they will still get good service."

Check-up (3)_____ set up in the west of England and after two years moved to London so it could offer a nationwide service. (4)_____ the last three years, Check-up's profits have increased dramatically as companies have come to realise the great importance of good customer service. Last week, an important new contract was (5)_____ with a major supermarket chain.

SubQuestion No : 17

Q.17 Select the most appropriate option to fill in blank number 2.

- Ans 1. then
 2. while
 3. as
 4. when

Question ID : 630680421704
Option 1 ID : 6306801645270
Option 2 ID : 6306801645268
Option 3 ID : 6306801645269
Option 4 ID : 6306801645267

Status : Answered

Chosen Option : 4

Comprehension:

In the following passage, some words have been deleted. Read the passage carefully and select the most appropriate option to fill in each blank.

Tim Wright knows all about making companies more efficient. His firm, Check-up, sends 'secret shoppers' into retail and leisure companies in order to make sure that customers are receiving good service. After (1)_____ visit, the secret shoppers prepare a report for the company to let them know how the service was. "Companies like to know", says Mr Wright, "that (2)_____ customers go into a store just a few minutes before closing time, they will still get good service."

Check-up (3)_____ set up in the west of England and after two years moved to London so it could offer a nationwide service. (4)_____ the last three years, Check-up's profits have increased dramatically as companies have come to realise the great importance of good customer service. Last week, an important new contract was (5)_____ with a major supermarket chain.

SubQuestion No : 18

Q.18 Select the most appropriate option to fill in blank number 3.

- Ans 1. are
 2. is
 3. was
 4. has

Question ID : 630680421705
Option 1 ID : 6306801645272
Option 2 ID : 6306801645271
Option 3 ID : 6306801645274
Option 4 ID : 6306801645273

Status : Answered

Chosen Option : 2

Comprehension:

In the following passage, some words have been deleted. Read the passage carefully and select the most appropriate option to fill in each blank.

Tim Wright knows all about making companies more efficient. His firm, Check-up, sends 'secret shoppers' into retail and leisure companies in order to make sure that customers are receiving good service. After (1)_____ visit, the secret shoppers prepare a report for the company to let them know how the service was. "Companies like to know", says Mr Wright, "that (2)_____ customers go into a store just a few minutes before closing time, they will still get good service."

Check-up (3)_____ set up in the west of England and after two years moved to London so it could offer a nationwide service. (4)_____ the last three years, Check-up's profits have increased dramatically as companies have come to realise the great importance of good customer service. Last week, an important new contract was (5)_____ with a major supermarket chain.

SubQuestion No : 19

Q.19 Select the most appropriate option to fill in blank number 4.

- Ans
- 1. For
 - 2. From
 - 3. Until
 - 4. During

Question ID : 630680421706
Option 1 ID : 6306801645278
Option 2 ID : 6306801645275
Option 3 ID : 6306801645276
Option 4 ID : 6306801645277

Status : Answered

Chosen Option : 2

Comprehension:

In the following passage, some words have been deleted. Read the passage carefully and select the most appropriate option to fill in each blank.

Tim Wright knows all about making companies more efficient. His firm, Check-up, sends 'secret shoppers' into retail and leisure companies in order to make sure that customers are receiving good service. After (1)_____ visit, the secret shoppers prepare a report for the company to let them know how the service was. "Companies like to know", says Mr Wright, "that (2)_____ customers go into a store just a few minutes before closing time, they will still get good service."

Check-up (3)_____ set up in the west of England and after two years moved to London so it could offer a nationwide service. (4)_____ the last three years, Check-up's profits have increased dramatically as companies have come to realise the great importance of good customer service. Last week, an important new contract was (5)_____ with a major supermarket chain.

SubQuestion No : 20

Q.20 Select the most appropriate option to fill in blank number 5.

- Ans
- 1. signed
 - 2. signing
 - 3. sign
 - 4. have signed

Question ID : 630680421707
Option 1 ID : 6306801645280
Option 2 ID : 6306801645282
Option 3 ID : 6306801645279
Option 4 ID : 6306801645281

Status : Answered

Chosen Option : 1

Comprehension:

Read the given passage and answer the questions that follow.

Seeking to move towards a cashless economy, the government has proposed income tax benefits for people making payments through credit or debit cards, besides doing away with transaction charges on the purchase of petrol, gas and rail tickets with plastic money. This is the first serious effort to tackle the predominance of cash in India's economy. India is a hugely cash-dependent economy. The RBI and commercial banks annually spend around Rupees 21,000 crore in currency operations costs while the citizens of Delhi alone spend Rupees 9.1 crore and 60 lakh hours in collecting cash.

The scale of this burden is unique to India considering that it is among the most cash-intensive economies with a cash-to-GDP ratio of 12%, almost four times as much as other markets such as Brazil (3.93%), Mexico (5.3%) and South Africa (3.73%). Moreover, cash transactions and black money are directly linked, since a cash trail is nigh impossible to track. As such, electronic transactions and the ease of audit they afford should make the government's job much easier in terms of curbing illegal transactions.

What the switchover to payments by credit and debit cards means is that the payer must have money in the bank. This can be facilitated through a greater recourse to direct cash transfer of subsidies to banks. But, those who avail of this may not belong to the section that pays income tax. Given that less than three per cent of our population pays income tax, transactions by plastic cards may not amount to much. But, the scene is changing. For instance, payments by mobiles have grown from just 860 transactions in November 2010 to 4.4 million in August 2014. With the spread of Internet and expansion of e-commerce, online payments are fast catching on among the middle class. These are mostly cashless transactions. It is also necessary to remember that a move towards a cashless economy will eliminate the cost of printing and distributing cash. If to these expenses are added the cost of storage and maintaining the currencies in the over 60,000 ATMs, the outlay becomes prohibitive. The answer is a buoyant economy that will reduce the numbers of those who still regard cash as the only reliable legal tender.

SubQuestion No : 21

Q.21 According to the author of the passage, what type of economy exists in India?

- Ans
- 1. Developed economy
 - 2. Cash-intensive economy
 - 3. Labour intensive economy
 - 4. Dependent economy

Question ID : 630680406796

Option 1 ID : 6306801586300

Option 2 ID : 6306801586298

Option 3 ID : 6306801586301

Option 4 ID : 6306801586299

Status : Answered

Chosen Option : 2

Comprehension:

Read the given passage and answer the questions that follow.

Seeking to move towards a cashless economy, the government has proposed income tax benefits for people making payments through credit or debit cards, besides doing away with transaction charges on the purchase of petrol, gas and rail tickets with plastic money. This is the first serious effort to tackle the predominance of cash in India's economy. India is a hugely cash-dependent economy. The RBI and commercial banks annually spend around Rupees 21,000 crore in currency operations costs while the citizens of Delhi alone spend Rupees 9.1 crore and 60 lakh hours in collecting cash.

The scale of this burden is unique to India considering that it is among the most cash-intensive economies with a cash-to-GDP ratio of 12%, almost four times as much as other markets such as Brazil (3.93%), Mexico (5.3%) and South Africa (3.73%). Moreover, cash transactions and black money are directly linked, since a cash trail is nigh impossible to track. As such, electronic transactions and the ease of audit they afford should make the government's job much easier in terms of curbing illegal transactions.

What the switchover to payments by credit and debit cards means is that the payer must have money in the bank. This can be facilitated through a greater recourse to direct cash transfer of subsidies to banks. But, those who avail of this may not belong to the section that pays income tax. Given that less than three per cent of our population pays income tax, transactions by plastic cards may not amount to much. But, the scene is changing. For instance, payments by mobiles have grown from just 860 transactions in November 2010 to 4.4 million in August 2014. With the spread of Internet and expansion of e-commerce, online payments are fast catching on among the middle class. These are mostly cashless transactions. It is also necessary to remember that a move towards a cashless economy will eliminate the cost of printing and distributing cash. If to these expenses are added the cost of storage and maintaining the currencies in the over 60,000 ATMs, the outlay becomes prohibitive. The answer is a buoyant economy that will reduce the numbers of those who still regard cash as the only reliable legal tender.

SubQuestion No : 22

Q.22 How does the spread of the internet and expansion of e-commerce help people?

- Ans**
- 1. Online payments are expensive.
 - 2. Online payments are slow catching.
 - 3. Online payments don't attract people at all.
 - 4. Online payments are fast catching.

Question ID : 630680406795

Option 1 ID : 6306801586294

Option 2 ID : 6306801586295

Option 3 ID : 6306801586296

Option 4 ID : 6306801586297

Status : Answered

Chosen Option : 4

Comprehension:

Read the given passage and answer the questions that follow.

Seeking to move towards a cashless economy, the government has proposed income tax benefits for people making payments through credit or debit cards, besides doing away with transaction charges on the purchase of petrol, gas and rail tickets with plastic money. This is the first serious effort to tackle the predominance of cash in India's economy. India is a hugely cash-dependent economy. The RBI and commercial banks annually spend around Rupees 21,000 crore in currency operations costs while the citizens of Delhi alone spend Rupees 9.1 crore and 60 lakh hours in collecting cash.

The scale of this burden is unique to India considering that it is among the most cash-intensive economies with a cash-to-GDP ratio of 12%, almost four times as much as other markets such as Brazil (3.93%), Mexico (5.3%) and South Africa (3.73%). Moreover, cash transactions and black money are directly linked, since a cash trail is nigh impossible to track. As such, electronic transactions and the ease of audit they afford should make the government's job much easier in terms of curbing illegal transactions.

What the switchover to payments by credit and debit cards means is that the payer must have money in the bank. This can be facilitated through a greater recourse to direct cash transfer of subsidies to banks. But, those who avail of this may not belong to the section that pays income tax. Given that less than three per cent of our population pays income tax, transactions by plastic cards may not amount to much. But, the scene is changing. For instance, payments by mobiles have grown from just 860 transactions in November 2010 to 4.4 million in August 2014. With the spread of Internet and expansion of e-commerce, online payments are fast catching on among the middle class. These are mostly cashless transactions. It is also necessary to remember that a move towards a cashless economy will eliminate the cost of printing and distributing cash. If to these expenses are added the cost of storage and maintaining the currencies in the over 60,000 ATMs, the outlay becomes prohibitive. The answer is a buoyant economy that will reduce the numbers of those who still regard cash as the only reliable legal tender.

SubQuestion No : 23

Q.23 Which of the following statements is INCORRECT according to the passage?

- Ans** ✓ 1. Less than 4% of our population pays income tax.
- ✗ 2. The RBI and commercial banks annually spend around Rupees 21,000 crore in currency operations costs.
- ✗ 3. Citizens of Delhi alone spend Rupees 9.1 crore and 60 lakh hours in collecting cash.
- ✗ 4. Payments by mobiles have grown from 860 transactions in 2010 to 4.4 million in 2014.

Question ID : 630680406797

Option 1 ID : 6306801586304

Option 2 ID : 6306801586302

Option 3 ID : 6306801586303

Option 4 ID : 6306801586305

Status : Answered

Chosen Option : 1

Comprehension:

Read the given passage and answer the questions that follow.

Seeking to move towards a cashless economy, the government has proposed income tax benefits for people making payments through credit or debit cards, besides doing away with transaction charges on the purchase of petrol, gas and rail tickets with plastic money. This is the first serious effort to tackle the predominance of cash in India's economy. India is a hugely cash-dependent economy. The RBI and commercial banks annually spend around Rupees 21,000 crore in currency operations costs while the citizens of Delhi alone spend Rupees 9.1 crore and 60 lakh hours in collecting cash.

The scale of this burden is unique to India considering that it is among the most cash-intensive economies with a cash-to-GDP ratio of 12%, almost four times as much as other markets such as Brazil (3.93%), Mexico (5.3%) and South Africa (3.73%). Moreover, cash transactions and black money are directly linked, since a cash trail is nigh impossible to track. As such, electronic transactions and the ease of audit they afford should make the government's job much easier in terms of curbing illegal transactions.

What the switchover to payments by credit and debit cards means is that the payer must have money in the bank. This can be facilitated through a greater recourse to direct cash transfer of subsidies to banks. But, those who avail of this may not belong to the section that pays income tax. Given that less than three per cent of our population pays income tax, transactions by plastic cards may not amount to much. But, the scene is changing. For instance, payments by mobiles have grown from just 860 transactions in November 2010 to 4.4 million in August 2014. With the spread of Internet and expansion of e-commerce, online payments are fast catching on among the middle class. These are mostly cashless transactions. It is also necessary to remember that a move towards a cashless economy will eliminate the cost of printing and distributing cash. If to these expenses are added the cost of storage and maintaining the currencies in the over 60,000 ATMs, the outlay becomes prohibitive. The answer is a buoyant economy that will reduce the numbers of those who still regard cash as the only reliable legal tender.

SubQuestion No : 24

Q.24 According to the author of the passage, which of the following is directly linked?

- Ans**
- 1. Black and white money
 - 2. Credit transaction and black money
 - 3. Cash transactions and black money
 - 4. Cash and credit transactions

Question ID : **630680406799**

Option 1 ID : **6306801586310**

Option 2 ID : **6306801586311**

Option 3 ID : **6306801586312**

Option 4 ID : **6306801586313**

Status : **Answered**

Chosen Option : **3**

Comprehension:

Read the given passage and answer the questions that follow.

Seeking to move towards a cashless economy, the government has proposed income tax benefits for people making payments through credit or debit cards, besides doing away with transaction charges on the purchase of petrol, gas and rail tickets with plastic money. This is the first serious effort to tackle the predominance of cash in India's economy. India is a hugely cash-dependent economy. The RBI and commercial banks annually spend around Rupees 21,000 crore in currency operations costs while the citizens of Delhi alone spend Rupees 9.1 crore and 60 lakh hours in collecting cash.

The scale of this burden is unique to India considering that it is among the most cash-intensive economies with a cash-to-GDP ratio of 12%, almost four times as much as other markets such as Brazil (3.93%), Mexico (5.3%) and South Africa (3.73%). Moreover, cash transactions and black money are directly linked, since a cash trail is nigh impossible to track. As such, electronic transactions and the ease of audit they afford should make the government's job much easier in terms of curbing illegal transactions.

What the switchover to payments by credit and debit cards means is that the payer must have money in the bank. This can be facilitated through a greater recourse to direct cash transfer of subsidies to banks. But, those who avail of this may not belong to the section that pays income tax. Given that less than three per cent of our population pays income tax, transactions by plastic cards may not amount to much. But, the scene is changing. For instance, payments by mobiles have grown from just 860 transactions in November 2010 to 4.4 million in August 2014. With the spread of Internet and expansion of e-commerce, online payments are fast catching on among the middle class. These are mostly cashless transactions. It is also necessary to remember that a move towards a cashless economy will eliminate the cost of printing and distributing cash. If to these expenses are added the cost of storage and maintaining the currencies in the over 60,000 ATMs, the outlay becomes prohibitive. The answer is a buoyant economy that will reduce the numbers of those who still regard cash as the only reliable legal tender.

SubQuestion No : 25

Q.25 How would e-transactions help the Government of India?

- Ans**
- 1. Increasing the audit work at government level
 - 2. Increasing the paperwork of the government
 - 3. Increasing the cash transportation charges at government level
 - 4. Curbing illegal transactions

Question ID : 630680406798

Option 1 ID : 6306801586308

Option 2 ID : 6306801586306

Option 3 ID : 6306801586309

Option 4 ID : 6306801586307

Status : Answered

Chosen Option : 4