

Selection Post Examination Phase XII 2024

Roll Number	
Candidate Name	
Venue Name	
Exam Date	24/06/2024
Exam Time	11:45 AM - 12:45 PM
Subject	Selection Post Higher Secondary level

Section : General Intelligence

Q.1 एक निश्चित कूट भाषा में, 'DWELL' को 'UBTMM' लिखा जाता है और 'OVER' को 'JCTG' लिखा जाता है। उस भाषा में 'DYAD' को किस प्रकार लिखा जाएगा?

- Ans
- 1. ZUXU
 - 2. UZXU
 - 3. XUZX
 - 4. UXZU

Question ID : 630680416152
Option 1 ID : 6306801623374
Option 2 ID : 6306801623373
Option 3 ID : 6306801623371
Option 4 ID : 6306801623372
Status : Answered
Chosen Option : 2

Q.2 एक निश्चित कूट भाषा में, 'HUNTER' को 80 के रूप में कूटबद्ध किया जाता है और 'TRIAL' को 55 के रूप में कूटबद्ध किया जाता है। इसी कूट भाषा में 'BURNT' को किस प्रकार से कूटबद्ध किया जाएगा?

- Ans
- 1. 80
 - 2. 65
 - 3. 75
 - 4. 70

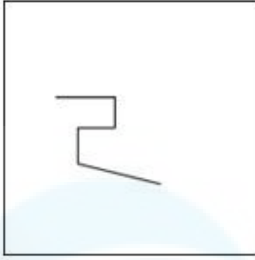
Question ID : 630680416807
Option 1 ID : 6306801625994
Option 2 ID : 6306801625991
Option 3 ID : 6306801625993
Option 4 ID : 6306801625992
Status : Not Answered
Chosen Option : --

Q.3 निम्नलिखित समीकरण में यदि '+' का अर्थ '×' है, '×' का अर्थ '-' है, '-' का अर्थ '÷' है और '÷' का अर्थ '+' है, तो प्रश्न-चिह्न (?) के स्थान पर क्या आएगा?
 $18 \div 4 + 3 \times 2 - 2 = ?$

- Ans
- 1. 30
 - 2. 29
 - 3. 19
 - 4. 28


Question ID : 630680159196
Option 1 ID : 630680616253
Option 2 ID : 630680616255
Option 3 ID : 630680616252
Option 4 ID : 630680616254
Status : Answered
Chosen Option : 2

Q.4 उस विकल्प आकृति का चयन कीजिए, जिसमें दी गई आकृति सन्निहित है (घुमाने की अनुमति नहीं है)।



Ans

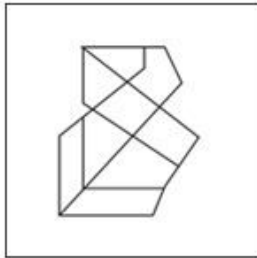
✓ 1.



✗ 2.



✗ 3.



✗ 4.



Question ID : 630680312620

Option 1 ID : 6306801216364

Option 2 ID : 6306801216361

Option 3 ID : 6306801216363

Option 4 ID : 6306801216362

Status : Answered

Chosen Option : 1

Q.5 एक निश्चित कूट भाषा में,
A + B का अर्थ है, 'A, B की पुत्री है',
A - B का अर्थ है, 'A, B का भाई है',
A × B का अर्थ है, 'A, B की माँ है'।
उपरोक्त के आधार पर, यदि 'K - L × M - N + O' है, तो K, O से किस प्रकार संबंधित है?

- Ans 1. पिता
 2. पत्नी का भाई
 3. मामा
 4. भाई

Question ID : 63068058050
Option 1 ID : 630680223948
Option 2 ID : 630680223947
Option 3 ID : 630680223949
Option 4 ID : 630680223946
Status : Answered
Chosen Option : 2

Q.6 एक निश्चित कूट भाषा में, 'THORP' को 'EQJGI' लिखा जाता है और 'HEART' को 'QTXGE' लिखा जाता है। उसी भाषा में 'TENDER' को किस प्रकार लिखा जाएगा?

- Ans 1. ETKTGU
 2. ETKUGT
 3. ETKGTU
 4. ETKUTG

Question ID : 630680416144
Option 1 ID : 6306801623341
Option 2 ID : 6306801623339
Option 3 ID : 6306801623342
Option 4 ID : 6306801623340
Status : Answered
Chosen Option : 4

Q.7 दिए गए विकल्पों में से उस संख्या का चयन करें जो निम्नलिखित श्रृंखला में प्रश्न चिह्न (?) के स्थान पर आ सकती है।
48, ?, 12, 6, 3, 1.5

- Ans 1. 16
 2. 48
 3. 12
 4. 24

Question ID : 630680411944
Option 1 ID : 6306801606614
Option 2 ID : 6306801606613
Option 3 ID : 6306801606612
Option 4 ID : 6306801606611
Status : Answered
Chosen Option : 4

Q.8 यदि SCRAMBLE शब्द के प्रत्येक अक्षर को वर्णमाला क्रम के अनुसार व्यवस्थित किया जाए, तो कितने अक्षरों के स्थान अपरिवर्तित रहेंगे?

- Ans
- 1. तीन
 - 2. दो
 - 3. एक भी नहीं
 - 4. एक

Question ID : 630680296545
Option 1 ID : 6306801153834
Option 2 ID : 6306801153833
Option 3 ID : 6306801153831
Option 4 ID : 6306801153832
Status : Answered
Chosen Option : 3

Q.9 दिए गए विकल्पों में से अक्षरों के उस संयोजन का चयन कीजिए जिसे दी गई श्रृंखला के रिक्त स्थानों में क्रमिक रूप से रखे जाने पर श्रृंखला पूरी हो जाएगी।
G_INGGO_N_G_IN_GOI__

- Ans
- 1. GOGINIG
 - 2. OIGOGNG
 - 3. IOOGONG
 - 4. IOGNGOI

Question ID : 630680416629
Option 1 ID : 6306801625281
Option 2 ID : 6306801625280
Option 3 ID : 6306801625279
Option 4 ID : 6306801625282
Status : Answered
Chosen Option : 2

Q.10 तीन कथन दिए गए हैं जिनके बाद I और II से संख्यांकित दो निष्कर्ष दिए गए हैं। कथनों को सत्य मानते हुए, भले ही वे सामान्य रूप से ज्ञात तथ्यों से भिन्न प्रतीत होते हों, तय कीजिए कि कौन सा/से निष्कर्ष, कथनों का तार्किक रूप से अनुसरण करता/करते है/हैं?

कथन:

सभी p, r हैं।

कुछ r, c हैं।

सभी c, d हैं।

निष्कर्ष:

I. कुछ d, p हैं।

II. कुछ c, p हैं।

- Ans
- 1. केवल निष्कर्ष I अनुसरण करता है
 - 2. न तो निष्कर्ष I, न ही निष्कर्ष II अनुसरण करता है
 - 3. या तो निष्कर्ष I या निष्कर्ष II अनुसरण करता है
 - 4. केवल निष्कर्ष II अनुसरण करता है

Question ID : 630680416539
Option 1 ID : 6306801624919
Option 2 ID : 6306801624922
Option 3 ID : 6306801624921
Option 4 ID : 6306801624920
Status : Answered
Chosen Option : 2

Q.11 तीन कथन दिए गए हैं जिनके बाद I और II से संख्यांकित दो निष्कर्ष दिए गए हैं। कथनों को सत्य मानते हुए, भले ही वे सामान्य रूप से ज्ञात तथ्यों से भिन्न प्रतीत होते हों, तय कीजिए कि कौन सा/से निष्कर्ष, कथनों का तार्किक रूप से अनुसरण करता/करते है/हैं?

कथन:

सभी अंजीर, टहनियाँ हैं।

कुछ टहनियाँ, पेड़ हैं।

कुछ चींटियाँ, पेड़ हैं।

निष्कर्ष:

I. कुछ चींटियाँ, टहनियाँ हैं।

II. कुछ पेड़, अंजीर हैं।

Ans 1. न तो निष्कर्ष I, न ही निष्कर्ष II अनुसरण करता है

2. केवल निष्कर्ष II अनुसरण करता है

3. केवल निष्कर्ष I अनुसरण करता है

4. या तो निष्कर्ष I या निष्कर्ष II अनुसरण करता है

Question ID : 630680416540

Option 1 ID : 6306801624926

Option 2 ID : 6306801624924

Option 3 ID : 6306801624923

Option 4 ID : 6306801624925

Status : Answered

Chosen Option : 3

Q.12 उस सही विकल्प का चयन करें जो निम्नलिखित शब्दों की व्यवस्था को तार्किक और अर्थपूर्ण क्रम में दर्शाता है।

1. इमारत

2. शहर

3. राज्य

4. देश

5. अपार्टमेंट

Ans 1. 5, 1, 2, 3, 4

2. 1, 2, 3, 5, 4

3. 5, 3, 2, 1, 4

4. 1, 3, 2, 4, 5

Question ID : 630680416436

Option 1 ID : 6306801624509

Option 2 ID : 6306801624507

Option 3 ID : 6306801624510

Option 4 ID : 6306801624508

Status : Answered

Chosen Option : 1

Q.13 उस विकल्प का चयन करें जो तीसरे शब्द से उसी प्रकार संबंधित है जिस प्रकार दूसरा शब्द पहले शब्द से संबंधित है।

(शब्दों को अर्थपूर्ण हिंदी शब्दों के रूप में माना जाना चाहिए और शब्द में अक्षरों की संख्या / व्यंजनों/ स्वरों की संख्या के आधार पर एक-दूसरे से संबंधित नहीं किया जाना चाहिए)

भारत : दिल्ली :: यूनाइटेड किंगडम : ?

Ans 1. मैनचेस्टर

2. लंदन

3. लिवरपूल

4. टोटेनहैम

Question ID : 630680417182

Option 1 ID : 6306801627492

Option 2 ID : 6306801627493

Option 3 ID : 6306801627491

Option 4 ID : 6306801627494

Status : Answered

Chosen Option : 2

Q.14 एक निश्चित कूट भाषा में, 'MERRY' को 'QYLLE' लिखा जाता है और 'OVEN' को 'OHYP' लिखा जाता है। उसी भाषा में 'MESIAL' को किस प्रकार लिखा जाएगा?

- Ans
- 1. QYKURC
 - 2. QYKRCU
 - 3. QYKUCR
 - 4. QKYUCR

Question ID : 630680416151

Option 1 ID : 6306801623370

Option 2 ID : 6306801623368

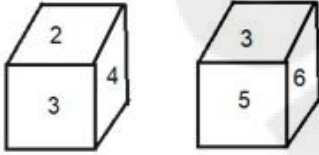
Option 3 ID : 6306801623367

Option 4 ID : 6306801623369

Status : Answered

Chosen Option : 3

Q.15 एक पासे के अलग-अलग फलकों पर छः संख्याएँ 1, 2, 3, 4, 5 और 6 लिखी गई हैं। दिए गए चित्र में इस पासे की दो स्थितियाँ दर्शाई गई हैं। 4 दर्शाने वाले फलक के विपरीत वाले फलक पर कौन-सी संख्या होगी?



- Ans
- 1. 3
 - 2. 6
 - 3. 5
 - 4. 1

Question ID : 630680187286

Option 1 ID : 630680726096

Option 2 ID : 630680726095

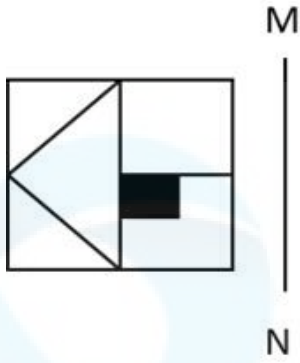
Option 3 ID : 630680726094

Option 4 ID : 630680726093

Status : Answered

Chosen Option : 2

Q.16 जब दर्पण को निम्न चित्र के अनुसार रेखा MN पर रखा जाता है, तो दी गई आकृति का दर्पण में निर्मित सही प्रतिबिंब का चयन कीजिए।



Ans

- 1.
- 2.
- 3.
- 4.

Question ID : 630680281030

Option 1 ID : 6306801092356

Option 2 ID : 6306801092358

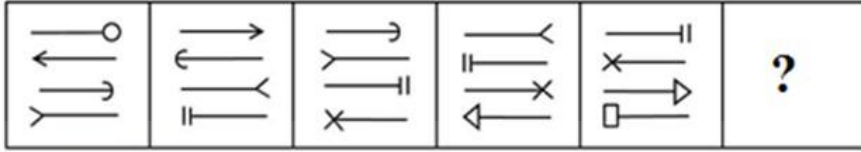
Option 3 ID : 6306801092355

Option 4 ID : 6306801092357

Status : Answered

Chosen Option : 4

Q.17 दिए गए विकल्पों में से उस आकृति का चयन कीजिए, जो निम्नलिखित श्रृंखला में प्रश्न-चिह्न (?) को प्रतिस्थापित कर सकती है।



Ans

- ✗ 1.
- ✓ 2.
- ✗ 3.
- ✗ 4.

Question ID : 630680285545

Option 1 ID : 6306801110147

Option 2 ID : 6306801110149

Option 3 ID : 6306801110148

Option 4 ID : 6306801110150

Status : Not Answered

Chosen Option : --

Q.18 उस विकल्प का चयन कीजिए जो तीसरे शब्द से उसी प्रकार संबंधित है जिस प्रकार दूसरा शब्द पहले शब्द से संबंधित है।

(शब्दों को अर्थपूर्ण हिंदी शब्दों के रूप में माना जाना चाहिए और शब्द में अक्षरों/ व्यंजनों/स्वरों की संख्या के आधार पर वे एक दूसरे से संबंधित नहीं किए जाने चाहिए)

सॉकेट : प्लग :: नट : ?

- ✓ 1. बोल्ट
- ✗ 2. खाना
- ✗ 3. बंदर
- ✗ 4. पेंचकस

Question ID : 630680417322

Option 1 ID : 6306801628051

Option 2 ID : 6306801628054

Option 3 ID : 6306801628052

Option 4 ID : 6306801628053

Status : Answered

Chosen Option : 1

Q.19 एक निश्चित कूट भाषा में,

- 'A + B' का अर्थ है 'A, B का पुत्र है';
'A - B' का अर्थ है 'A, B की पुत्री है';
'A × B' का अर्थ है 'A, B का पति है' और
'A ÷ B' का अर्थ है 'A, B की बहन है'।

उपर्युक्त के आधार पर, यदि 'P - Q × R ÷ S + T' है, तो P, S से किस प्रकार संबंधित है?

- Ans 1. माँ की बहन
 2. बहन की पुत्री
 3. माँ की माँ
 4. पिता की बहन

Question ID : 630680222463

Option 1 ID : 630680863611

Option 2 ID : 630680863613

Option 3 ID : 630680863612

Option 4 ID : 630680863614

Status : Answered

Chosen Option : 2

Q.20 उस विकल्प का चयन करें जो दिए गए शब्दों के उस सही क्रम को दर्शाता है जिस क्रम में वे अंग्रेजी शब्दकोश में आते हैं।

- 1.Rush
2.Roven
3.Rumpus
4.Royal
5.Rugged

- Ans 1. 3, 1, 2, 4, 5
 2. 2, 4, 5, 3, 1
 3. 4, 2, 3, 5, 1
 4. 1, 3, 2, 4, 5

Question ID : 630680417334

Option 1 ID : 6306801628102

Option 2 ID : 6306801628099

Option 3 ID : 6306801628100

Option 4 ID : 6306801628101

Status : Answered

Chosen Option : 2

Q.21 इस प्रश्न में, तीन कथन दिए गए हैं, जिसके बाद दो निष्कर्ष I और II दिए गए हैं। कथनों को सत्य मानते हुए, भले ही वे सर्वज्ञात तथ्यों से भिन्न प्रतीत होते हों, निर्णय कीजिए कि कौन सा/से निष्कर्ष तार्किक रूप से कथनों का अनुसरण करता/करते है/हैं।

कथन:

कुछ मेज कुर्सियाँ हैं।
कुछ कुर्सियाँ पलंग हैं।
सभी पलंग अलमारी हैं।

निष्कर्ष:

- I. कोई मेज अलमारी नहीं है।
- II. सभी मेज अलमारी हैं।

- Ans
- 1. न तो निष्कर्ष I और न ही II अनुसरण करता है।
 - 2. केवल निष्कर्ष II अनुसरण करता है।
 - 3. केवल निष्कर्ष I अनुसरण करता है।
 - 4. दोनों निष्कर्ष I और II अनुसरण करते हैं।

Question ID : 630680416717

Option 1 ID : 6306801625634

Option 2 ID : 6306801625632

Option 3 ID : 6306801625631

Option 4 ID : 6306801625633

Status : Answered

Chosen Option : 1

Q.22 उस विकल्प का चयन कीजिए, जिसका पाँचवें अक्षर-समूह से ठीक वही संबंध है, जो संबंध दूसरे अक्षर-समूह का पहले अक्षर-समूह से और वही संबंध चौथे अक्षर-समूह का तीसरे अक्षर-समूह से है।
BASIC : GEVKD :: TABLE : YEENF :: COULD : ?

- Ans
- 1. ITYMF
 - 2. HSXNE
 - 3. HRXNE
 - 4. HSYNE

Question ID : 630680416973

Option 1 ID : 6306801626655

Option 2 ID : 6306801626657

Option 3 ID : 6306801626658

Option 4 ID : 6306801626656

Status : Answered

Chosen Option : 2

Q.23 उस विकल्प का चयन करें जो उन अक्षरों को निरूपित करता है जिन्हें नीचे दिए गए रिक्त स्थानों में क्रमिक रूप से रखने पर अक्षर श्रृंखला पूरी हो जाएगी।
U _ G _ F _ K _ M G _ F N _ U _ G

- Ans
- 1. MLNULKM
 - 2. MKLNULM
 - 3. NLMKULM
 - 4. NKNMULM

Question ID : 630680416301

Option 1 ID : 6306801623970

Option 2 ID : 6306801623968

Option 3 ID : 6306801623969

Option 4 ID : 6306801623967

Status : Answered

Chosen Option : 1

Q.24 प्रत्येक समुच्चय की संख्याएँ एक निश्चित तरीके से एक दूसरे से संबंधित हैं।
(6, 64, 2), (8, 225, 7), (3, ?, 9)
पहले दो समुच्चयों में संख्याओं के बीच संबंध के आधार पर, उस संख्या का चयन कीजिए जो तीसरे समुच्चय में प्रश्न चिह्न (?) को प्रतिस्थापित कर सके।

- Ans 1. 144
 2. 124
 3. 146
 4. 148

Question ID : 63068053283
Option 1 ID : 630680205237
Option 2 ID : 630680205235
Option 3 ID : 630680205236
Option 4 ID : 630680205234
Status : Answered
Chosen Option : 1

Q.25 एक निश्चित कूट भाषा में,
A + B का अर्थ है 'A, B की माता है',
A - B का अर्थ है 'A, B का भाई है',
A × B का अर्थ है 'A, B की पत्नी है',
A ÷ B का अर्थ है 'A, B का पिता है'।
उपर्युक्त के आधार पर, यदि 'P × Q ÷ T + S - R × V' है, तो R, Q से किस प्रकार संबंधित है?

- Ans 1. नानी
 2. पोती
 3. नातिन
 4. नाना

Question ID : 630680216615
Option 1 ID : 630680840426
Option 2 ID : 630680840423
Option 3 ID : 630680840425
Option 4 ID : 630680840424
Status : Answered
Chosen Option : 4

Section : General Awareness

Q.1 _____ संघ कार्यकारिणी का हिस्सा नहीं होता/होते है।

- Ans 1. मंत्रिपरिषद
 2. भारत के प्रधान मंत्री
 3. भारत का सर्वोच्च न्यायालय
 4. भारत के राष्ट्रपति

Question ID : 630680408197
Option 1 ID : 6306801591686
Option 2 ID : 6306801591685
Option 3 ID : 6306801591684
Option 4 ID : 6306801591683
Status : Answered
Chosen Option : 3

Q.2 निम्नलिखित में से किस क्रिकेटर ने 281 एंड बियाँड नामक पुस्तक का सह-लेखन किया है?

- Ans 1. वी.वी.एस. लक्ष्मण
 2. अजय जडेजा
 3. सौरव गांगुली
 4. राहुल द्रविड़

Question ID : 630680409391
Option 1 ID : 6306801596394
Option 2 ID : 6306801596395
Option 3 ID : 6306801596396
Option 4 ID : 6306801596393
Status : Not Answered
Chosen Option : --

Q.3 हड़प्पा के अन्नागार में अनाज की मड़ाई के लिए _____ ईट के चबूतरों की पंक्तियाँ थीं।

- Ans 1. गोलाकार
 2. आयताकार
 3. वृत्ताकार
 4. तिरछे

Question ID : 630680216102
Option 1 ID : 630680838384
Option 2 ID : 630680838383
Option 3 ID : 630680838386
Option 4 ID : 630680838385
Status : Answered
Chosen Option : 2

Q.4 भारतीय अंटार्कटिक विधेयक, 2022 के संबंध में निम्नलिखित में से कौन से कथन सत्य हैं?

1. भारतीय अंटार्कटिक बिल, 2022 को 1 दिसंबर 2022 को लोकसभा में पेश किया गया।
2. यह विधेयक, अंटार्कटिक संधि, अंटार्कटिक समुद्री जीवित संसाधनों के संरक्षण पर सम्मेलन और अंटार्कटिक संधि के पर्यावरण संरक्षण पर प्रोटोकॉल को प्रभावी करने का प्रयास करता है।
3. यह अंटार्कटिक पर्यावरण की रक्षा करने और क्षेत्र में गतिविधियों को विनियमित करने का भी प्रयास करता है।
4. इस विधेयक के प्रावधान किसी भी व्यक्ति, पोत या विमान पर लागू होंगे जो विधेयक के तहत जारी किए गए परमिट के तहत अंटार्कटिका की भारतीय खोजयात्रा का हिस्सा है।

- Ans 1. 1, 2 और 3
 2. 1, 2 और 4
 3. 1, 3 और 4
 4. 2, 3 और 4

Question ID : 630680413178
Option 1 ID : 6306801611538
Option 2 ID : 6306801611536
Option 3 ID : 6306801611537
Option 4 ID : 6306801611535
Status : Not Answered
Chosen Option : --

Q.5 2011 की जनगणना के अनुसार अनुसूचित जनजाति जनसंख्या के लिए साक्षरता दर क्या है?

- Ans 1. 59%
 2. 65%
 3. 66%
 4. 55%

Question ID : 630680409787
Option 1 ID : 6306801597977
Option 2 ID : 6306801597979
Option 3 ID : 6306801597980
Option 4 ID : 6306801597978
Status : Answered
Chosen Option : 4

Q.6 शब्द _____ का अर्थ व्यक्तियों का एक निकाय है जो वास्तविक व्यवहार में नियमों और विनियमों के कार्यान्वयन की देखभाल करता है।

- Ans 1. नौकरशाही
 2. विधानमंडल
 3. न्यायपालिका
 4. कार्यकारिणी

Question ID : 630680408276
Option 1 ID : 6306801592002
Option 2 ID : 6306801592001
Option 3 ID : 6306801591999
Option 4 ID : 6306801592000
Status : Answered
Chosen Option : 3

Q.7 निम्नलिखित में से कौन थियोसोफिकल सोसायटी से संबंधित है?

- Ans 1. एनी बेसेंट
 2. सरोजिनी नायडू
 3. सावित्री बाई फुले
 4. ताराबाई शिंदे

Question ID : 630680412546
Option 1 ID : 6306801609010
Option 2 ID : 6306801609009
Option 3 ID : 6306801609007
Option 4 ID : 6306801609008
Status : Answered
Chosen Option : 1

Q.8 निम्नलिखित में से कौन-सा सूचना प्रौद्योगिकी अधिनियम, 2000 का प्रस्तावित उत्तराधिकारी है?

- Ans 1. डिजिटल इंडिया बिल
 2. मल्टीमीडिया बिल
 3. ऑप्टिकल इंडिया बिल
 4. साइबर इंडिया बिल

Question ID : 630680413136
Option 1 ID : 6306801611367
Option 2 ID : 6306801611370
Option 3 ID : 6306801611369
Option 4 ID : 6306801611368
Status : Answered
Chosen Option : 1

Q.9 निम्नलिखित में से कौन आठवीं शताब्दी में मालवा क्षेत्र में गुर्जर-प्रतिहार वंश का संस्थापक था?

- Ans 1. नागभट्ट प्रथम
 2. मिहिर भोज
 3. वत्सराज
 4. महेंद्रपाल प्रथम

Question ID : 630680412564
Option 1 ID : 6306801609080
Option 2 ID : 6306801609079
Option 3 ID : 6306801609081
Option 4 ID : 6306801609082
Status : Answered
Chosen Option : 2

Q.10 '2 स्टेट्स' ('2 States') उपन्यास निम्नलिखित में से किस लेखक/लेखिका के द्वारा लिखा गया है?

- Ans 1. किरण देसाई
 2. चेतन भगत
 3. अयान गोगोई गोहेन
 4. अरुंधति राय

Question ID : 630680325274
Option 1 ID : 6306801265474
Option 2 ID : 6306801265476
Option 3 ID : 6306801265475
Option 4 ID : 6306801265473
Status : Answered
Chosen Option : 2

Q.11 CJI का क्या अर्थ है?

- Ans 1. Council Judges of India (काउंसिल जजेस ऑफ इंडिया)
 2. Chief Justice of Income Tax (चीफ जस्टिस ऑफ इंकम टैक्स)
 3. Chief Justice of India (चीफ जस्टिस ऑफ इंडिया)
 4. Controller Justice of India (कंट्रोलर जस्टिस ऑफ इंडिया)

Question ID : 630680408272
Option 1 ID : 6306801591985
Option 2 ID : 6306801591984
Option 3 ID : 6306801591983
Option 4 ID : 6306801591986
Status : Answered
Chosen Option : 3

Q.12 1980 के दशक में कांग्रेस संबंधी समितियों में जलवायु परिवर्तन पर अपने बयानों के लिए कौन प्रसिद्ध है, जिसने ग्लोबल वार्मिंग के मुद्दे के बारे में व्यापक जागरूकता पैदा करने में मदद की थी?

- Ans 1. स्वंते अरहेनियस (Svante Arrhenius)
 2. जोसेफ फूरियर (Joseph Fourier)
 3. जेम्स हैनसेन (James Hansen)
 4. शेन कुओ (Shen Kuo)

Question ID : 630680407401
Option 1 ID : 6306801588542
Option 2 ID : 6306801588545
Option 3 ID : 6306801588544
Option 4 ID : 6306801588543
Status : Not Answered
Chosen Option : --

Q.13 निम्नलिखित में से कौन-सा शहर पल्लवों की राजधानी थी?

- Ans
- 1. हम्पी
 - 2. रामेश्वरम्
 - 3. ओरुगल्लू
 - 4. कांचीपुरम्

Question ID : 630680412345
Option 1 ID : 6306801608205
Option 2 ID : 6306801608203
Option 3 ID : 6306801608206
Option 4 ID : 6306801608204
Status : Answered
Chosen Option : 4

Q.14 भारत के निम्नलिखित में से किस राज्य में चेतियागिरी विहार उत्सव मनाया जाता है?

- Ans
- 1. केरल
 - 2. बिहार
 - 3. मेघालय
 - 4. मध्य प्रदेश

Question ID : 630680410287
Option 1 ID : 6306801599875
Option 2 ID : 6306801599876
Option 3 ID : 6306801599878
Option 4 ID : 6306801599877
Status : Answered
Chosen Option : 4

Q.15 भारत की 2011 की जनगणना के अनुसार निम्नलिखित में से किस राज्य में महिला साक्षरता दर सबसे कम है?

- Ans
- 1. तमिलनाडु
 - 2. ओडिशा
 - 3. उत्तराखंड
 - 4. राजस्थान

Question ID : 630680855972
Option 1 ID : 6306803352594
Option 2 ID : 6306803352597
Option 3 ID : 6306803352596
Option 4 ID : 6306803352595
Status : Answered
Chosen Option : 4

Q.16 भारत में संविधान दिवस कब मनाया जाता है?

- Ans
- 1. 26 जनवरी को
 - 2. 26 नवंबर को
 - 3. 31 अक्टूबर को
 - 4. 12 जनवरी को

Question ID : 630680157879
Option 1 ID : 630680611047
Option 2 ID : 630680611044
Option 3 ID : 630680611045
Option 4 ID : 630680611046
Status : Answered
Chosen Option : 2

Q.17 भारत में सबसे पुराना और सबसे व्यापक उद्योग कौन सा है?

- Ans 1. वस्त्र
 2. उर्वरक
 3. खाद्य संसाधन
 4. खनन

Question ID : 630680409779
Option 1 ID : 6306801597946
Option 2 ID : 6306801597948
Option 3 ID : 6306801597945
Option 4 ID : 6306801597947
Status : Answered
Chosen Option : 1

Q.18 उत्तराखंड राज्य के चमोली जिले में स्थित भारतीय गढ़वाल हिमालय की सबसे ऊँची चोटी का क्या नाम है जिसकी ऊँचाई 7,817 मीटर है?

- Ans 1. हरदोल
 2. नंदा देवी
 3. त्रिशूल
 4. मुकुट पर्वत

Question ID : 630680409792
Option 1 ID : 6306801597999
Option 2 ID : 6306801598000
Option 3 ID : 6306801597997
Option 4 ID : 6306801597998
Status : Answered
Chosen Option : 4

Q.19 निम्नलिखित में से कौन-सा/से युग्म गलत सुमेलित है/हैं?

- A. न्यायपालिका से कार्यपालिका का पृथक्करण - अनुच्छेद 50
B. ग्राम पंचायतों का संगठन और उन्हें शक्तियाँ प्रदान करना - अनुच्छेद 40
C. समान अवसर के आधार पर न्याय को बढ़ावा देना और गरीबों को मुफ्त कानूनी सहायता प्रदान करना - अनुच्छेद 39A
D. कृषि और पशुपालन को आधुनिक और वैज्ञानिक तरीके से व्यवस्थित करना - अनुच्छेद 45

- Ans 1. केवल D
 2. केवल A, B और C
 3. केवल C और D
 4. केवल B, C और D

Question ID : 630680408330
Option 1 ID : 6306801592218
Option 2 ID : 6306801592215
Option 3 ID : 6306801592217
Option 4 ID : 6306801592216
Status : Not Answered
Chosen Option : --

Q.20 किसी तटस्थ परमाणु के इलेक्ट्रॉन ग्रहण करने की संभाव्यता क्या कहलाती है?

- Ans
- 1. विद्युत्-ऋणात्मकता
 - 2. विद्युत आकर्षण
 - 3. इलेक्ट्रान बन्धुता
 - 4. विद्युत धनात्मकता

Question ID : 63068070079

Option 1 ID : 630680270954

Option 2 ID : 630680270956

Option 3 ID : 630680270955

Option 4 ID : 630680270957

Status : Answered

Chosen Option : 4

Q.21 निम्नलिखित में से कौन 1876 में इंडियन एसोसिएशन फॉर द कल्टीवेशन ऑफ साइंस के संस्थापक थे, जो बुनियादी विज्ञान के अग्रणी क्षेत्रों में मौलिक अनुसंधान की खोज के लिए समर्पित एक संस्था है?

- Ans
- 1. डॉ महेंद्र लाल सरकार
 - 2. चंद्रशेखर वेंकट रमन
 - 3. हर गोबिंद खुराना
 - 4. मोक्षगुंडम विश्वेश्वरैया

Question ID : 630680412532

Option 1 ID : 6306801608951

Option 2 ID : 6306801608952

Option 3 ID : 6306801608954

Option 4 ID : 6306801608953

Status : Answered

Chosen Option : 4

Q.22 गर्म लाल मिर्च की बुकनी (hot paprika) का अपमिश्रक क्या है?

- Ans
- 1. चाक पाउडर
 - 2. सूडान रंजक
 - 3. स्टार्च पाउडर
 - 4. बुरादा

Question ID : 630680407563

Option 1 ID : 6306801589192

Option 2 ID : 6306801589190

Option 3 ID : 6306801589193

Option 4 ID : 6306801589191

Status : Answered

Chosen Option : 2

Q.23 भारतीय अक्षय ऊर्जा विकास एजेंसी (IREDA) ने बीकानेर, राजस्थान में 1000 MW सौर ऊर्जा परियोजना के लिए ₹4,000 करोड़ से अधिक के वित्तपोषण के लिए SJVN ग्रीन एनर्जी के साथ एक ऋण समझौते पर हस्ताक्षर किए हैं। 2023 में भारतीय अक्षय ऊर्जा विकास एजेंसी (IREDA) के वर्तमान अध्यक्ष और प्रबंध निदेशक कौन हैं?

- Ans
- 1. अंशुल मिश्रा
 - 2. सी.एल. गुलेरिया
 - 3. प्रदीप कुमार दास
 - 4. दिनेश मेनन

Question ID : 630680413093
Option 1 ID : 6306801611198
Option 2 ID : 6306801611196
Option 3 ID : 6306801611195
Option 4 ID : 6306801611197
Status : Not Answered
Chosen Option : --

Q.24 _____, अप्रगुही (acoelomate) का एक उदाहरण है।

- Ans
- 1. एकाइनोडर्म (Echinoderms)
 - 2. आर्थ्रोपोड (Arthropods)
 - 3. मोलस्क (Molluscs)
 - 4. प्लेटीहेल्मिन्थीज (Platyhelminthes)

Question ID : 630680407519
Option 1 ID : 6306801589017
Option 2 ID : 6306801589016
Option 3 ID : 6306801589015
Option 4 ID : 6306801589014
Status : Answered
Chosen Option : 4

Q.25 मोहन श्याम शर्मा _____ से संबंधित प्रसिद्ध संगीतकार हैं।

- Ans
- 1. सरोद
 - 2. ड्रम
 - 3. तबला
 - 4. पखावज

Question ID : 630680409409
Option 1 ID : 6306801596465
Option 2 ID : 6306801596468
Option 3 ID : 6306801596466
Option 4 ID : 6306801596467
Status : Answered
Chosen Option : 1

Q.1 निम्नलिखित में से कौन-सी संख्या, 11 से विभाज्य है?

- Ans 1. 258913
 2. 294621
 3. 956127
 4. 958749

Question ID : 630680428322
Option 1 ID : 6306801671333
Option 2 ID : 6306801671335
Option 3 ID : 6306801671332
Option 4 ID : 6306801671334
Status : Answered
Chosen Option : 4

Q.2 10%, 12% और 15% की तीन क्रमिक छूटों के बराबर एक एकल छूट की गणना करें।

- Ans 1. 31.87%
 2. 32.68%
 3. 33.55%
 4. 30.87%

Question ID : 630680428798
Option 1 ID : 6306801673236
Option 2 ID : 6306801673237
Option 3 ID : 6306801673239
Option 4 ID : 6306801673238
Status : Answered
Chosen Option : 2

Q.3 ₹9,900 पर 3 वर्ष में 9% वार्षिक दर से प्राप्त साधारण ब्याज (₹ में) ज्ञात कीजिए।

- Ans 1. 2,582
 2. 2,683
 3. 2,673
 4. 2,512

Question ID : 630680428598
Option 1 ID : 6306801672437
Option 2 ID : 6306801672439
Option 3 ID : 6306801672438
Option 4 ID : 6306801672436
Status : Answered
Chosen Option : 3

Q.4 यदि गैर-शून्य x के लिए, $7x^2 + 5x + 7 = 0$ है, तो $x^3 + \frac{1}{x^3}$ का मान ज्ञात कीजिए।

- Ans
- 1. $\frac{343}{610}$
 - 2. $\frac{420}{343}$
 - 3. $\frac{610}{420}$
 - 4. $\frac{610}{343}$

Question ID : 630680413622

Option 1 ID : 6306801613312

Option 2 ID : 6306801613313

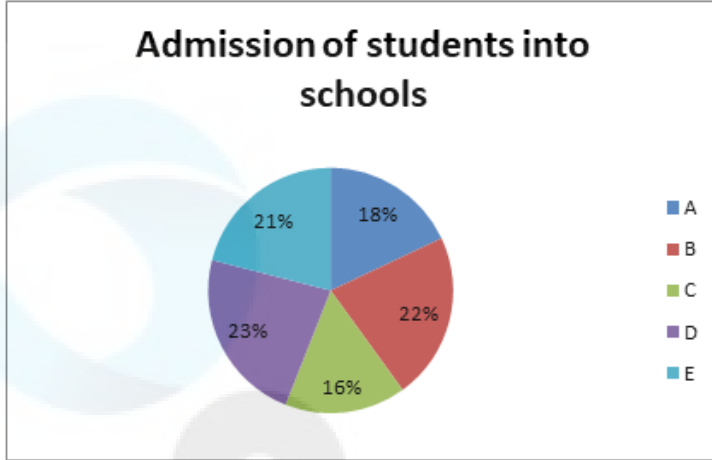
Option 3 ID : 6306801613315

Option 4 ID : 6306801613314

Status : Not Answered

Chosen Option : --

Q.5 दिया गया पाई-चार्ट एक कस्बे के विभिन्न विद्यालयों, A, B, C, D, E में प्रवेश लेने वाले विद्यार्थियों की संख्या को दर्शाता है। विद्यार्थियों की कुल संख्या 6500 है। प्रत्येक विद्यालय में लड़कों की संख्या तालिका में दी गई है। इस पाई-चार्ट और तालिका का ध्यानपूर्वक अध्ययन कीजिए और निम्नलिखित प्रश्न का उत्तर दीजिए।



Admission of students into schools = विद्यालयों में विद्यार्थियों का प्रवेश

विद्यालय	A	B	C	D	E
लड़कों की संख्या	800	850	600	700	765

विद्यालय A, C, D में लड़कों की कुल संख्या, विद्यालय B, C, E में लड़कियों की कुल संख्या का कितना प्रतिशत है (दशमलव के 2 स्थानों तक पूर्णांकित)?

- Ans 1. 1.2963
 2. 1.2662
 3. 1.2062
 4. 1.2863

Question ID : 630680855989

Option 1 ID : 6306803352665

Option 2 ID : 6306803352662

Option 3 ID : 6306803352664

Option 4 ID : 6306803352663

Status : Not Answered

Chosen Option : --

Q.6 2 पुरुषों का एक दिन का कार्य 4 महिलाओं के एक दिन के कार्य या 8 योग्य श्रमिकों के एक दिन के कार्य के बराबर है। 10 योग्य श्रमिक एक कार्य को 8 दिनों में पूरा कर सकते हैं। यदि एक पुरुष, एक महिला और एक योग्य श्रमिक तीन अलग-अलग दिनों में इसी क्रम में कार्य करते हैं, तो कार्य _____ दिनों में समाप्त हो जाएगा।

Ans

✗ 1. $\frac{203}{6}$

✗ 2. $\frac{131}{4}$

✗ 3. $\frac{166}{5}$

✓ 4. $\frac{135}{4}$

Question ID : 630680428521

Option 1 ID : 6306801672131

Option 2 ID : 6306801672128

Option 3 ID : 6306801672130

Option 4 ID : 6306801672129

Status : Not Answered

Chosen Option : --

Q.7 छह दिन के सप्ताह के लिए 10 श्रमिकों की मजदूरी ₹1,200 है। एक श्रमिक का एक दिन का वेतन कितना है?

Ans

✗ 1. ₹24

✓ 2. ₹20

✗ 3. ₹16

✗ 4. ₹28

Question ID : 630680427940

Option 1 ID : 6306801669806

Option 2 ID : 6306801669805

Option 3 ID : 6306801669804

Option 4 ID : 6306801669807

Status : Answered

Chosen Option : 2

Q.8 निम्नलिखित संख्याओं का चतुर्थानुपाती ज्ञात कीजिए: 27 का $\frac{1}{3}$, 30 का $\frac{4}{5}$, 35 का $\frac{3}{7}$

Ans

✗ 1. 38

✗ 2. 45

✓ 3. 40

✗ 4. 35

Question ID : 630680428992

Option 1 ID : 6306801674013

Option 2 ID : 6306801674015

Option 3 ID : 6306801674014

Option 4 ID : 6306801674012

Status : Answered

Chosen Option : 3

Q.9 एक त्रिभुज ABC में, P, BC का मध्यबिंदु है। यदि AB = (2x + 4) cm, AC = 6 cm और AP ⊥ BC है, तो x का मान ज्ञात कीजिए।

- Ans
- 1. 4
 - 2. 3
 - 3. 1
 - 4. 2

Question ID : 630680195548
Option 1 ID : 630680758664
Option 2 ID : 630680758661
Option 3 ID : 630680758663
Option 4 ID : 630680758662
Status : Not Answered
Chosen Option : --

Q.10 निम्न में से कौन-सा एक सही सूत्र नहीं है?

- Ans
- 1. $\text{Cosec}^2 A - \text{Cot}^2 A = 1$
 - 2. $\text{Sec} A \sin A = \tan A$
 - 3. $\frac{1 + \tan^2 A}{\tan^2 A} = \sin^2 A$
 - 4. $\cos^2 A \cot^2 A = \cot^2 A - \cos^2 A$

Question ID : 630680183247
Option 1 ID : 630680710058
Option 2 ID : 630680710057
Option 3 ID : 630680710060
Option 4 ID : 630680710059
Status : Answered
Chosen Option : 1

Q.11 यदि $x^2 + y^2 + z^2 = xy + yz + zx$ है, तो $\left(\frac{17x^4 + 9y^4 + 16z^4}{8x^2y^2 + 6y^2z^2 + 10z^2x^2}\right)$ का मान ज्ञात कीजिए।

- Ans
- 1. 2.50
 - 2. 2.00
 - 3. 3.25
 - 4. 1.75

Question ID : 630680413609
Option 1 ID : 6306801613261
Option 2 ID : 6306801613262
Option 3 ID : 6306801613260
Option 4 ID : 6306801613263
Status : Answered
Chosen Option : 2

Q.12 यदि किसी संख्या के 70% में से 70 घटाया जाए, तो शेषफल 70 आता है। संख्या ज्ञात करें।

- Ans 1. 200
 2. 300
 3. 100
 4. 400

Question ID : 630680429004
Option 1 ID : 6306801674062
Option 2 ID : 6306801674061
Option 3 ID : 6306801674063
Option 4 ID : 6306801674060
Status : Answered
Chosen Option : 1

Q.13 निम्नलिखित तालिका दिए गए वर्षों में पाँच फार्म A, B, C, D और E द्वारा उत्पादित अंडों की संख्या दर्शाती है।

वर्ष	फार्म				
	A	B	C	D	E
2017	560	418	630	740	580
2018	710	390	460	530	620
2019	845	765	480	515	640
2020	455	555	746	418	545

दिए गए वर्षों में फार्म B द्वारा उत्पादित अंडों की औसत संख्या क्या है?

- Ans 1. 532
 2. 575
 3. 552
 4. 540

Question ID : 630680428039
Option 1 ID : 6306801670200
Option 2 ID : 6306801670203
Option 3 ID : 6306801670202
Option 4 ID : 6306801670201
Status : Answered
Chosen Option : 1

Q.14 $3 + 3^2 + 3^3 + \dots + 3^8$ का योग ज्ञात करें।

- Ans 1. 6560
 2. 3280
 3. 9840
 4. 6561

Question ID : 630680102029
Option 1 ID : 630680396473
Option 2 ID : 630680396474
Option 3 ID : 630680396475
Option 4 ID : 630680396472
Status : Not Answered
Chosen Option : --

Q.15 ΔABC में D, BC का मध्य-बिंदु है और G केन्द्रक है। यदि $GD=10$ cm है, तो AD की लंबाई कितनी होगी?

- Ans 1. 20 cm
 2. 30 cm
 3. 10 cm
 4. 15 cm

Question ID : 630680421483
Option 1 ID : 6306801644395
Option 2 ID : 6306801644397
Option 3 ID : 6306801644396
Option 4 ID : 6306801644398
Status : Answered
Chosen Option : 2

Q.16 5 लड़कों का औसत वजन 9 kg बढ़ जाता है, जब उनमें से एक, जिसका वजन 39 kg है, को दूसरे लड़के से बदल दिया जाता है। नए लड़के का वजन (kg में) कितना है?

- Ans 1. 65
 2. 69
 3. 70
 4. 84

Question ID : 630680428826
Option 1 ID : 6306801673349
Option 2 ID : 6306801673351
Option 3 ID : 6306801673350
Option 4 ID : 6306801673348
Status : Answered
Chosen Option : 4

Q.17 रीना की मासिक आय ₹75,200 थी और उसका मासिक व्यय ₹22,500 था। अगले वर्ष, उसकी आय में 25% की वृद्धि हुई और उसके व्यय में 14% की वृद्धि हुई। उसकी बचत में प्रतिशत वृद्धि (दो दशमलव स्थान तक पूर्णांकित) ज्ञात कीजिए।

- Ans 1. 28.25%
 2. 30.75%
 3. 34.80%
 4. 29.70%

Question ID : 630680428318
Option 1 ID : 6306801671316
Option 2 ID : 6306801671318
Option 3 ID : 6306801671319
Option 4 ID : 6306801671317
Status : Not Answered
Chosen Option : --

Q.18 80 वस्तुओं का विक्रय मूल्य 72 वस्तुओं के क्रय मूल्य के बराबर है। लेन-देन में हुई हानि का प्रतिशत क्या है?

- Ans
- 1. $11\frac{1}{9}\%$
 - 2. 12%
 - 3. 10%
 - 4. 9%

Question ID : 630680428454

Option 1 ID : 6306801671861

Option 2 ID : 6306801671862

Option 3 ID : 6306801671863

Option 4 ID : 6306801671860

Status : Answered

Chosen Option : 3

Q.19 एक सप्ताह के पहले चार दिनों के लिए एक शहर का औसत तापमान 25°C है, और अंतिम चार दिनों का औसत तापमान 30°C है। यदि पूरे सप्ताह का औसत तापमान 27°C है, तो चौथे दिन का तापमान कितना है?

- Ans
- 1. 31°C
 - 2. 29°C
 - 3. 30°C
 - 4. 28°C

Question ID : 630680428026

Option 1 ID : 6306801670149

Option 2 ID : 6306801670151

Option 3 ID : 6306801670148

Option 4 ID : 6306801670150

Status : Answered

Chosen Option : 1

Q.20 950 m लंबाई के एक वृत्ताकार पथ पर दौड़ में, A और B एक ही बिंदु से एक ही दिशा में, एक ही समय में, क्रमशः 18 km/h और 36 km/h की चाल से दौड़ना शुरू करते हैं। कितने सेकंड के बाद वे शुरुआती बिंदु पर पहली बार मिलेंगे?

- Ans
- 1. 95
 - 2. 190
 - 3. 90
 - 4. 195

Question ID : 630680111610

Option 1 ID : 630680432192

Option 2 ID : 630680432191

Option 3 ID : 630680432190

Option 4 ID : 630680432193

Status : Not Answered

Chosen Option : --

Q.21 स्थिर जल में एक नाव की गति 6 km/h है और धारा की गति 1.5 km/h है। बिंदु A से बिंदु B तक जाने और बिंदु A पर लौटने में नाविक को 2 घंटे 40 मिनट लगते हैं। बिंदु A और B के बीच की दूरी ज्ञात कीजिए।

- Ans
- 1. 8.5 km
 - 2. 8 km
 - 3. 7 km
 - 4. 7.5 km

Question ID : 630680428970
Option 1 ID : 6306801673927
Option 2 ID : 6306801673926
Option 3 ID : 6306801673924
Option 4 ID : 6306801673925
Status : Not Answered
Chosen Option : --

Q.22 एक डीलर विज्ञापन देता है कि वह अपना माल क्रय मूल्य पर बेचता है। लेकिन वह 1 kg वाले भार के लिए 950 gm का उपयोग करता है। उसका लाभ या हानि प्रतिशत ज्ञात कीजिए।

- Ans
- 1. लाभ $\frac{46}{19}$ %
 - 2. लाभ $\frac{100}{19}$ %
 - 3. हानि $\frac{46}{19}$ %
 - 4. हानि $\frac{100}{19}$ %

Question ID : 630680428578
Option 1 ID : 6306801672356
Option 2 ID : 6306801672358
Option 3 ID : 6306801672357
Option 4 ID : 6306801672359
Status : Answered
Chosen Option : 2

Q.23 एक अर्द्धगोलाकार कटोरे की त्रिज्या 21 cm है। इसे अंदर के साथ-साथ बाहर भी पेंट किया जाना है। ₹0.05 प्रति cm^2 की दर से इसे पेंट करने की लागत की गणना करें, यह मान लें कि कटोरे की मोटाई नगण्य है। ($\pi = \frac{22}{7}$ लें)

- Ans
- 1. ₹410.10
 - 2. ₹388.20
 - 3. ₹188.30
 - 4. ₹277.20

Question ID : 630680421595
Option 1 ID : 6306801644845
Option 2 ID : 6306801644844
Option 3 ID : 6306801644846
Option 4 ID : 6306801644843
Status : Not Answered
Chosen Option : --

Q.24 निम्नलिखित तालिका एक परीक्षा में चार विषयों में पाँच विद्यार्थियों द्वारा प्राप्त अंकों का प्रतिशत दर्शाती है।

विद्यार्थी/विषय	विषयों में अंकों का प्रतिशत			
	गणित	भौतिक विज्ञान	रसायन विज्ञान	कंप्यूटर विज्ञान
A	90%	65%	76%	64%
B	67%	93%	55%	56%
C	85%	61%	70%	80%
D	59%	75%	84%	91%
E	94%	48%	99%	99%

कुल कितने विद्यार्थियों ने सभी चार विषयों में 60% से अधिक अंक प्राप्त किये?

- Ans
- 1.5
 - 2.4
 - 3.3
 - 4.2

Question ID : 630680427997

Option 1 ID : 6306801670032

Option 2 ID : 6306801670035

Option 3 ID : 6306801670033

Option 4 ID : 6306801670034

Status : Answered

Chosen Option : 4

Q.25 25 पर्यटकों का एक समूह एक होटल में 8 दिनों में 5 कंटेनर भोजन का उपभोग करता है। 10 पर्यटकों को 16 दिनों तक खाने के लिए कितने कंटेनरों की आवश्यकता होगी?

- Ans
- 1.4
 - 2.5
 - 3.6
 - 4.3

Question ID : 630680428558

Option 1 ID : 6306801672279

Option 2 ID : 6306801672277

Option 3 ID : 6306801672278

Option 4 ID : 6306801672276

Status : Not Answered

Chosen Option : --

Q.1 Select the option that expresses the given sentence in passive voice.

Would you repair the bike?

- Ans 1. Would the bike be repaired by you?
 2. Would have the bike repaired by you?
 3. Would the bike repaired by you?
 4. Would you be repaired by the bike?

Question ID : 630680415338
Option 1 ID : 6306801620099
Option 2 ID : 6306801620101
Option 3 ID : 6306801620100
Option 4 ID : 6306801620102
Status : Answered
Chosen Option : 3

Q.2 Select the correct form of the past tense to fill in the blank.

I _____ a headache earlier, but I feel fine now.

- Ans 1. was having
 2. had
 3. have
 4. am having

Question ID : 630680751029
Option 1 ID : 6306802943549
Option 2 ID : 6306802943547
Option 3 ID : 6306802943546
Option 4 ID : 6306802943548
Status : Answered
Chosen Option : 4

Q.3 Select the most appropriate meaning of the underlined idiom.

The employees made a noticeable hue and cry to get their demands raised to the board of Directors.

- Ans 1. Participate in sports
 2. Lie lifeless
 3. Protest something
 4. Celebrate an event

Question ID : 630680136370
Option 1 ID : 630680528129
Option 2 ID : 630680528128
Option 3 ID : 630680528126
Option 4 ID : 630680528127
Status : Answered
Chosen Option : 3

Q.4 Select the most appropriate meaning of the given idiom.
Break a leg

- Ans** 1. Wish good luck
 2. Hurt yourself
 3. Wish bad luck
 4. Sprain a leg

Question ID : 630680183579
Option 1 ID : 630680711328
Option 2 ID : 630680711326
Option 3 ID : 630680711327
Option 4 ID : 630680711325
Status : Answered
Chosen Option : 3

Q.5 Select the option that expresses the given sentence in passive voice.
Close the curtains!

- Ans** 1. Let the curtains become closed!
 2. Let the curtains fall close!
 3. Let the curtains be closed!
 4. Let the curtains be close!

Question ID : 630680415466
Option 1 ID : 6306801620611
Option 2 ID : 6306801620613
Option 3 ID : 6306801620614
Option 4 ID : 6306801620612
Status : Answered
Chosen Option : 3

Q.6 Select the sentence that does NOT have a spelling error.

- Ans** 1. A vareity of languages are spoken in India.
 2. A variety of languages are spoken in India.
 3. A variety of languages are spoken in India.
 4. A varity of languages are spoken in India.

Question ID : 630680409929
Option 1 ID : 6306801598547
Option 2 ID : 6306801598546
Option 3 ID : 6306801598545
Option 4 ID : 6306801598548
Status : Answered
Chosen Option : 2

Q.7 Select the option that can be used as a one-word substitute for the given group of words.

No longer in existence or use

- Ans 1. Outpour
 2. Obsolete
 3. Omnipotent
 4. Obscure

Question ID : 630680414845
Option 1 ID : 6306801618123
Option 2 ID : 6306801618125
Option 3 ID : 6306801618124
Option 4 ID : 6306801618126
Status : Answered
Chosen Option : 3

Q.8 Select the INCORRECTLY spelt word.

- Ans 1. Obstain
 2. Resonate
 3. Dependence
 4. Integrity

Question ID : 630680156674
Option 1 ID : 630680606353
Option 2 ID : 630680606354
Option 3 ID : 630680606352
Option 4 ID : 630680606355
Status : Answered
Chosen Option : 3

Q.9 Select the option that expresses the following sentence in passive voice.
The teacher praised the students for their excellent performance.

- Ans 1. The students are praised by the teacher for their excellent performance.
 2. The students were being praised by the teacher for their excellent performance.
 3. The students had been praised by the teacher for their excellent performance.
 4. The students were praised by the teacher for their excellent performance.

Question ID : 630680415308
Option 1 ID : 6306801619981
Option 2 ID : 6306801619980
Option 3 ID : 6306801619982
Option 4 ID : 6306801619979
Status : Answered
Chosen Option : 4

Q.10 Select the most appropriate ANTONYM of the given word.

Counterfeit

- Ans 1. Unreal
 2. Authentic
 3. Imitation
 4. Fake

Question ID : 630680410020
Option 1 ID : 6306801598909
Option 2 ID : 6306801598912
Option 3 ID : 6306801598911
Option 4 ID : 6306801598910
Status : Answered
Chosen Option : 2

Q.11 Select the correct option to form a meaningful sentence.

I can't / to / see / of / dogs / rehomed / bear / pictures / rescued / waiting / to be

(a) (b) (c) (d) (e) (f) (g) (h) (i) (j) (k)

- Ans 1. a, j, b, c, d, i, e, k, g, f, h
 2. a, b, h, i, e, j, k, f, g, c, d
 3. a, k, b, h, d, i, j, g, f, c, e
 4. a, g, b, c, h, d, i, e, j, k, f

Question ID : 630680356629
Option 1 ID : 6306801388519
Option 2 ID : 6306801388517
Option 3 ID : 6306801388520
Option 4 ID : 6306801388518
Status : Answered
Chosen Option : 4

Q.12 Select the option that can be used as a one-word substitute for the given group of words.

Book written by an author on his own life

- Ans 1. Autobiography
 2. Historiography
 3. Biography
 4. Anthology

Question ID : 630680414830
Option 1 ID : 6306801618064
Option 2 ID : 6306801618066
Option 3 ID : 6306801618063
Option 4 ID : 6306801618065
Status : Answered
Chosen Option : 1

Q.13 Select the option that can be used as a one-word substitute for the given group of words.

A person who physically travels in space.

- Ans 1. Astrologer
 2. Astronaut
 3. Anarchist
 4. Pilot

Question ID : 630680410108
Option 1 ID : 6306801599262
Option 2 ID : 6306801599261
Option 3 ID : 6306801599264
Option 4 ID : 6306801599263
Status : Answered
Chosen Option : 2

Q.14 Parts of the following sentence have been given as options. Select the option that contains an error.

Hiking across an Himalayas is going to be a tough task for a beginner.

- Ans 1. going to be a tough
 2. Hiking across
 3. an Himalayas is
 4. task for a beginner.

Question ID : 630680730475
Option 1 ID : 6306802862579
Option 2 ID : 6306802862577
Option 3 ID : 6306802862578
Option 4 ID : 6306802862580
Status : Answered
Chosen Option : 3

Q.15 Select the option that expresses the given sentence in indirect speech.

The principal said, "A biometric device will be installed from the next week."

- Ans 1. The principal said that a biometric device would have been installed the following week.
 2. The principal said that a biometric device would be installed the for following week.
 3. The principal said that a biometric device will be installed the next week.
 4. The principal said that a biometric device would be installed from the following week.

Question ID : 630680415229
Option 1 ID : 6306801619663
Option 2 ID : 6306801619666
Option 3 ID : 6306801619664
Option 4 ID : 6306801619665
Status : Answered
Chosen Option : 4

Comprehension:

In the following passage, some words have been deleted. Read the passage carefully and select the most appropriate option to fill in each blank.

The road to success is not ___1___; there is a curve called failure, a loop called confusion, speed bumps called friends, caution-lights called family, and you ___2___ have flats called jobs. But ___3___ you have a spark called determination, an engine called perseverance, insurance called faith, and a driver called God, you will make it ___4___ a place called success!

In spite of all our planning and preparation, ___5___ challenges are certain to arise.

SubQuestion No : 16

Q.16

Select the most appropriate option to fill in blank number 1.

- Ans
- 1. perpendicular
 - 2. straight
 - 3. even
 - 4. parallel

Question ID : 630680444407
Option 1 ID : 6306801734941
Option 2 ID : 6306801734940
Option 3 ID : 6306801734943
Option 4 ID : 6306801734942
Status : Answered
Chosen Option : 2

Comprehension:

In the following passage, some words have been deleted. Read the passage carefully and select the most appropriate option to fill in each blank.

The road to success is not ___1___; there is a curve called failure, a loop called confusion, speed bumps called friends, caution-lights called family, and you ___2___ have flats called jobs. But ___3___ you have a spark called determination, an engine called perseverance, insurance called faith, and a driver called God, you will make it ___4___ a place called success!

In spite of all our planning and preparation, ___5___ challenges are certain to arise.

SubQuestion No : 17

Q.17

Select the most appropriate option to fill in blank number 2.

- Ans
- 1. will
 - 2. dare
 - 3. ought to
 - 4. should

Question ID : 630680444408
Option 1 ID : 6306801734944
Option 2 ID : 6306801734947
Option 3 ID : 6306801734945
Option 4 ID : 6306801734946
Status : Answered
Chosen Option : 4

Comprehension:

In the following passage, some words have been deleted. Read the passage carefully and select the most appropriate option to fill in each blank.

The road to success is not ___1___; there is a curve called failure, a loop called confusion, speed bumps called friends, caution-lights called family, and you ___2___ have flats called jobs. But ___3___ you have a spark called determination, an engine called perseverance, insurance called faith, and a driver called God, you will make it ___4___ a place called success!

In spite of all our planning and preparation, ___5___ challenges are certain to arise.

SubQuestion No : 18

Q.18

Select the most appropriate option to fill in blank number 3.

- Ans
- 1. so
 - 2. and
 - 3. whether
 - 4. if

Question ID : 630680444409

Option 1 ID : 6306801734948

Option 2 ID : 6306801734950

Option 3 ID : 6306801734949

Option 4 ID : 6306801734951

Status : Answered

Chosen Option : 4

Comprehension:

In the following passage, some words have been deleted. Read the passage carefully and select the most appropriate option to fill in each blank.

The road to success is not ___1___; there is a curve called failure, a loop called confusion, speed bumps called friends, caution-lights called family, and you ___2___ have flats called jobs. But ___3___ you have a spark called determination, an engine called perseverance, insurance called faith, and a driver called God, you will make it ___4___ a place called success!

In spite of all our planning and preparation, ___5___ challenges are certain to arise.

SubQuestion No : 19

Q.19

Select the most appropriate option to fill in blank number 4.

- Ans
- 1. through
 - 2. although
 - 3. to
 - 4. until

Question ID : 630680444410

Option 1 ID : 6306801734955

Option 2 ID : 6306801734954

Option 3 ID : 6306801734953

Option 4 ID : 6306801734952

Status : Answered

Chosen Option : 4

Comprehension:

In the following passage, some words have been deleted. Read the passage carefully and select the most appropriate option to fill in each blank.

The road to success is not ___1___; there is a curve called failure, a loop called confusion, speed bumps called friends, caution-lights called family, and you ___2___ have flats called jobs. But ___3___ you have a spark called determination, an engine called perseverance, insurance called faith, and a driver called God, you will make it ___4___ a place called success!

In spite of all our planning and preparation, ___5___ challenges are certain to arise.

SubQuestion No : 20

Q.20

Select the most appropriate option to fill in blank number 5.

- Ans**
- 1. uneasy
 - 2. unexpected
 - 3. unsatisfactory
 - 4. ungracious

Question ID : 630680444411

Option 1 ID : 6306801734957

Option 2 ID : 6306801734956

Option 3 ID : 6306801734959

Option 4 ID : 6306801734958

Status : Answered

Chosen Option : 2

Comprehension:

Read the given passage and answer the questions that follow.

Hunger is an emotive word. Most of us reading this are fortunate to have enough to eat. We find the idea that the other people live in hunger deeply unsettling. Hence, it is also unsettling that the well-publicised 2022 Global Hunger Index has ranked India at 107 out of 121 countries. It has ranked India behind North Korea, Ethiopia, Sudan, Rwanda, Nigeria and Congo. This doesn't seem to make much sense. But people don't really like digging through the actual reports and methodology. They read the headline and comment on that and move on.

The GHI report is jointly released by Concern Worldwide and Welthungerhilfe, non-government organisations from Ireland and Germany, respectively. Both are good organisations with long and reputed track records. The report is a 60-page beautiful PDF document, with its heart in the right place. The formatting and language are perfect. It has beautiful pictures, such as of African farm women holding vegetables.

At the same time, its rankings are highly questionable. Four criteria are used to determine the final index: prevalence of undernourishment, child stunting rate, child wasting rate, and child mortality. Thus, three of the four criteria are related to children. Child stunting rate is defined as the percentage of children that are two standard deviations below the reference height for a 5-year-old. Child wasting rate is defined as the percentage of children that are two standard deviations below the reference weight for a 5-year-old. The argument is that if our children are not tall enough or do not weigh enough, it is an indicator of national hunger. It is in these parameters that India scored poorly, hence the slippage in rank.

The GHI report takes India's data from our own National Family Health Survey 2019-21. This in turn is prepared by the health and family welfare ministry, by surveying a sizable sample of over 61 lakh households. In this 700-plus page survey report also, there is data for India's child stunting and child wasting rates. It says 36% of Indian kids are stunted and 19% of the children are wasted. These are some of the highest values in the world. Plug these into the GHI criteria spreadsheet, India ranks low, behind even North Korea. We are a starving nation!

SubQuestion No : 21

Q.21 Which of the following CANNOT be accepted by the general public in India regarding GHI?

- Ans**
- 1. The GHI report takes India's data from our own National Family Health Survey.
 - 2. 19% of Indian children are wasted.
 - 3. If our children are not tall enough or do not weigh enough, it is an indicator of national hunger.
 - 4. One of the two organisations that prepare GHI is from Ireland.

Question ID : 630680406773

Option 1 ID : 6306801586223

Option 2 ID : 6306801586222

Option 3 ID : 6306801586225

Option 4 ID : 6306801586224

Status : Not Answered

Chosen Option : --

Comprehension:

Read the given passage and answer the questions that follow.

Hunger is an emotive word. Most of us reading this are fortunate to have enough to eat. We find the idea that the other people live in hunger deeply unsettling. Hence, it is also unsettling that the well-publicised 2022 Global Hunger Index has ranked India at 107 out of 121 countries. It has ranked India behind North Korea, Ethiopia, Sudan, Rwanda, Nigeria and Congo. This doesn't seem to make much sense. But people don't really like digging through the actual reports and methodology. They read the headline and comment on that and move on.

The GHI report is jointly released by Concern Worldwide and Welthungerhilfe, non-government organisations from Ireland and Germany, respectively. Both are good organisations with long and reputed track records. The report is a 60-page beautiful PDF document, with its heart in the right place. The formatting and language are perfect. It has beautiful pictures, such as of African farm women holding vegetables.

At the same time, its rankings are highly questionable. Four criteria are used to determine the final index: prevalence of undernourishment, child stunting rate, child wasting rate, and child mortality. Thus, three of the four criteria are related to children. Child stunting rate is defined as the percentage of children that are two standard deviations below the reference height for a 5-year-old. Child wasting rate is defined as the percentage of children that are two standard deviations below the reference weight for a 5-year-old. The argument is that if our children are not tall enough or do not weigh enough, it is an indicator of national hunger. It is in these parameters that India scored poorly, hence the slippage in rank.

The GHI report takes India's data from our own National Family Health Survey 2019-21. This in turn is prepared by the health and family welfare ministry, by surveying a sizable sample of over 61 lakh households. In this 700-plus page survey report also, there is data for India's child stunting and child wasting rates. It says 36% of Indian kids are stunted and 19% of the children are wasted. These are some of the highest values in the world. Plug these into the GHI criteria spreadsheet, India ranks low, behind even North Korea. We are a starving nation!

SubQuestion No : 22

Q.22 Which of the following countries is NOT mentioned as better than India in GHI?

- Ans**
- 1. Sudan
 - 2. North Korea
 - 3. Ethiopia
 - 4. South Arica

Question ID : 630680406772

Option 1 ID : 6306801586221

Option 2 ID : 6306801586218

Option 3 ID : 6306801586219

Option 4 ID : 6306801586220

Status : Answered

Chosen Option : 4

Comprehension:

Read the given passage and answer the questions that follow.

Hunger is an emotive word. Most of us reading this are fortunate to have enough to eat. We find the idea that the other people live in hunger deeply unsettling. Hence, it is also unsettling that the well-publicised 2022 Global Hunger Index has ranked India at 107 out of 121 countries. It has ranked India behind North Korea, Ethiopia, Sudan, Rwanda, Nigeria and Congo. This doesn't seem to make much sense. But people don't really like digging through the actual reports and methodology. They read the headline and comment on that and move on.

The GHI report is jointly released by Concern Worldwide and Welthungerhilfe, non-government organisations from Ireland and Germany, respectively. Both are good organisations with long and reputed track records. The report is a 60-page beautiful PDF document, with its heart in the right place. The formatting and language are perfect. It has beautiful pictures, such as of African farm women holding vegetables.

At the same time, its rankings are highly questionable. Four criteria are used to determine the final index: prevalence of undernourishment, child stunting rate, child wasting rate, and child mortality. Thus, three of the four criteria are related to children. Child stunting rate is defined as the percentage of children that are two standard deviations below the reference height for a 5-year-old. Child wasting rate is defined as the percentage of children that are two standard deviations below the reference weight for a 5-year-old. The argument is that if our children are not tall enough or do not weigh enough, it is an indicator of national hunger. It is in these parameters that India scored poorly, hence the slippage in rank.

The GHI report takes India's data from our own National Family Health Survey 2019-21. This in turn is prepared by the health and family welfare ministry, by surveying a sizable sample of over 61 lakh households. In this 700-plus page survey report also, there is data for India's child stunting and child wasting rates. It says 36% of Indian kids are stunted and 19% of the children are wasted. These are some of the highest values in the world. Plug these into the GHI criteria spreadsheet, India ranks low, behind even North Korea. We are a starving nation!

SubQuestion No : 23

Q.23 In which country is the organisation Welthungerhilfe based?

- Ans
- 1. India
 - 2. Australia
 - 3. Germany
 - 4. Ireland

Question ID : 630680406771
Option 1 ID : 6306801586216
Option 2 ID : 6306801586217
Option 3 ID : 6306801586214
Option 4 ID : 6306801586215

Status : Answered

Chosen Option : 3

Comprehension:

Read the given passage and answer the questions that follow.

Hunger is an emotive word. Most of us reading this are fortunate to have enough to eat. We find the idea that the other people live in hunger deeply unsettling. Hence, it is also unsettling that the well-publicised 2022 Global Hunger Index has ranked India at 107 out of 121 countries. It has ranked India behind North Korea, Ethiopia, Sudan, Rwanda, Nigeria and Congo. This doesn't seem to make much sense. But people don't really like digging through the actual reports and methodology. They read the headline and comment on that and move on.

The GHI report is jointly released by Concern Worldwide and Welthungerhilfe, non-government organisations from Ireland and Germany, respectively. Both are good organisations with long and reputed track records. The report is a 60-page beautiful PDF document, with its heart in the right place. The formatting and language are perfect. It has beautiful pictures, such as of African farm women holding vegetables.

At the same time, its rankings are highly questionable. Four criteria are used to determine the final index: prevalence of undernourishment, child stunting rate, child wasting rate, and child mortality. Thus, three of the four criteria are related to children. Child stunting rate is defined as the percentage of children that are two standard deviations below the reference height for a 5-year-old. Child wasting rate is defined as the percentage of children that are two standard deviations below the reference weight for a 5-year-old. The argument is that if our children are not tall enough or do not weigh enough, it is an indicator of national hunger. It is in these parameters that India scored poorly, hence the slippage in rank.

The GHI report takes India's data from our own National Family Health Survey 2019-21. This in turn is prepared by the health and family welfare ministry, by surveying a sizable sample of over 61 lakh households. In this 700-plus page survey report also, there is data for India's child stunting and child wasting rates. It says 36% of Indian kids are stunted and 19% of the children are wasted. These are some of the highest values in the world. Plug these into the GHI criteria spreadsheet, India ranks low, behind even North Korea. We are a starving nation!

SubQuestion No : 24

Q.24 Select the tone of the last line 'We are a starving nation!'

- Ans 1. Ironic
 2. Realistic
 3. Pathetic
 4. Religious

Question ID : 630680406775
Option 1 ID : 6306801586232
Option 2 ID : 6306801586233
Option 3 ID : 6306801586230
Option 4 ID : 6306801586231

Status : Answered

Chosen Option : 2

Comprehension:

Read the given passage and answer the questions that follow.

Hunger is an emotive word. Most of us reading this are fortunate to have enough to eat. We find the idea that the other people live in hunger deeply unsettling. Hence, it is also unsettling that the well-publicised 2022 Global Hunger Index has ranked India at 107 out of 121 countries. It has ranked India behind North Korea, Ethiopia, Sudan, Rwanda, Nigeria and Congo. This doesn't seem to make much sense. But people don't really like digging through the actual reports and methodology. They read the headline and comment on that and move on.

The GHI report is jointly released by Concern Worldwide and Welthungerhilfe, non-government organisations from Ireland and Germany, respectively. Both are good organisations with long and reputed track records. The report is a 60-page beautiful PDF document, with its heart in the right place. The formatting and language are perfect. It has beautiful pictures, such as of African farm women holding vegetables.

At the same time, its rankings are highly questionable. Four criteria are used to determine the final index: prevalence of undernourishment, child stunting rate, child wasting rate, and child mortality. Thus, three of the four criteria are related to children. Child stunting rate is defined as the percentage of children that are two standard deviations below the reference height for a 5-year-old. Child wasting rate is defined as the percentage of children that are two standard deviations below the reference weight for a 5-year-old. The argument is that if our children are not tall enough or do not weigh enough, it is an indicator of national hunger. It is in these parameters that India scored poorly, hence the slippage in rank.

The GHI report takes India's data from our own National Family Health Survey 2019-21. This in turn is prepared by the health and family welfare ministry, by surveying a sizable sample of over 61 lakh households. In this 700-plus page survey report also, there is data for India's child stunting and child wasting rates. It says 36% of Indian kids are stunted and 19% of the children are wasted. These are some of the highest values in the world. Plug these into the GHI criteria spreadsheet, India ranks low, behind even North Korea. We are a starving nation!

SubQuestion No : 25

Q.25 Select the correct summary of the given passage.

- Ans** 1. Child growth is important though india is trying hard to combat the problem. When it is addressed, India will not be a hunger country
2. The organisations prepared GHI with unquestionable criteria taken all the things into consideration.
3. Primarily based on the children's height and weight, the nation's GHI 2022 was calculated, so India's place was 107 which is questionable.
4. The GHI report is good with perfect language, but the pictures are not beautiful and colourful.

Question ID : **630680406774**

Option 1 ID : **6306801586228**

Option 2 ID : **6306801586227**

Option 3 ID : **6306801586226**

Option 4 ID : **6306801586229**

Status : **Answered**

Chosen Option : **3**