

Selection Post Examination Phase XII 2024

Roll Number	
Candidate Name	
Venue Name	
Exam Date	25/06/2024
Exam Time	11:45 AM - 12:45 PM
Subject	Selection Post Higher Secondary level

Section : General Intelligence

Q.1 इस प्रश्न में, तीन कथन दिए गए हैं, जिसके बाद दो निष्कर्ष I और II दिए गए हैं। कथनों को सत्य मानते हुए, भले ही वे सर्वज्ञात तथ्यों से भिन्न प्रतीत होते हों, निर्णय कीजिए कि कौन सा/से निष्कर्ष तार्किक रूप से कथनों का अनुसरण करता/करते है/हैं।

कथन:

सभी सेब फल हैं।

कुछ सेब कच्चे हैं।

कोई फल सब्जी नहीं है।

निष्कर्ष:

I. कुछ सब्जियाँ कच्ची हैं।

II. कोई सेब सब्जी नहीं है।

Ans 1. केवल निष्कर्ष II अनुसरण करता है।

2. दोनों निष्कर्ष I और II अनुसरण करते हैं।

3. न तो निष्कर्ष I और न ही II अनुसरण करता है।

4. केवल निष्कर्ष I अनुसरण करता है।

Question ID : 630680416720

Option 1 ID : 6306801625644

Option 2 ID : 6306801625645

Option 3 ID : 6306801625646

Option 4 ID : 6306801625643

Status : Answered

Chosen Option : 1

Q.2 उस विकल्प का चयन करें जो दिए गए शब्दों के उस सही क्रम को दर्शाता है जिस क्रम में वे अंग्रेजी शब्दकोश में आते हैं।

1. Globetrotter

2. Globalize

3. Globule

4. Global

5. Globe

Ans 1. 4, 2, 5, 1, 3

2. 3, 5, 1, 4, 2

3. 1, 2, 3, 4, 5

4. 4, 1, 5, 2, 3

Question ID : 630680417347

Option 1 ID : 6306801628153

Option 2 ID : 6306801628152

Option 3 ID : 6306801628151

Option 4 ID : 6306801628154

Status : Answered

Chosen Option : 1

Q.3 एक निश्चित कूट भाषा में, 'GHOST' को 74 के रूप में कूटबद्ध किया जाता है और 'TRIBAL' को 68 के रूप में कूटबद्ध किया जाता है। इसी कूट भाषा में 'HORN' को किस प्रकार से कूटबद्ध किया जाएगा?

- Ans 1. 59
 2. 55
 3. 61
 4. 60

Question ID : 630680416809
Option 1 ID : 6306801626000
Option 2 ID : 6306801625999
Option 3 ID : 6306801626002
Option 4 ID : 6306801626001
Status : Answered
Chosen Option : 1

Q.4 एक निश्चित कूट भाषा में, 'ROVE' को 'JMFW' लिखा जाता है और 'ROSE' को 'JMIW' लिखा जाता है। उस भाषा में 'RUIN' को किस प्रकार लिखा जाएगा?

- Ans 1. JSGN
 2. JGSN
 3. JGNS
 4. JNGS

Question ID : 630680416149
Option 1 ID : 6306801623359
Option 2 ID : 6306801623362
Option 3 ID : 6306801623360
Option 4 ID : 6306801623361
Status : Answered
Chosen Option : 2

Q.5 एक निश्चित कूट भाषा में, 'PARADOX' को 'IXGXUJA' लिखा जाता है और 'WIPES' को 'BPITF' लिखा जाता है। उस भाषा में 'PARALLEL' को किस प्रकार लिखा जाएगा?

- Ans 1. MTMMXGXI
 2. MTMXMXGI
 3. IXGXMTMM
 4. IXGXMMTM

Question ID : 630680416148
Option 1 ID : 6306801623358
Option 2 ID : 6306801623357
Option 3 ID : 6306801623356
Option 4 ID : 6306801623355
Status : Answered
Chosen Option : 4

Q.6 तीन कथन दिए गए हैं जिनके बाद I, II और III से संख्यांकित तीन निष्कर्ष दिए गए हैं। कथनों को सत्य मानते हुए, भले ही वे सामान्य रूप से ज्ञात तथ्यों से भिन्न प्रतीत होते हों, तय कीजिए कि कौन सा/से निष्कर्ष, कथनों का तार्किक रूप से अनुसरण करता/करते है/हैं?

कथन:

सभी इमारत, घर हैं।

कुछ घर, महल हैं।

कोई भी महल, हवेली नहीं है।

निष्कर्ष:

I. कुछ इमारत, महल हैं।

II. कुछ हवेलियों के घर न होने की संभावना है।

III. कोई भी इमारत, महल नहीं है।

- Ans
- 1. केवल निष्कर्ष I अनुसरण करता है
 - 2. निष्कर्ष II और या तो निष्कर्ष II या निष्कर्ष III अनुसरण करते हैं
 - 3. निष्कर्ष I और II दोनों अनुसरण करते हैं
 - 4. निष्कर्ष I, II और III सभी अनुसरण करते हैं

Question ID : 630680416537

Option 1 ID : 6306801624911

Option 2 ID : 6306801624913

Option 3 ID : 6306801624912

Option 4 ID : 6306801624914

Status : Answered

Chosen Option : 2

Q.7 एक निश्चित कूट भाषा में,

'A + B' का अर्थ है 'A, B की पत्नी है';

'A - B' का अर्थ है 'A, B की बहन है';

'A × B' का अर्थ है 'A, B का पिता है' और

'A ÷ B' का अर्थ है 'A, B का भाई है'।

उपर्युक्त के आधार पर, यदि 'E ÷ F + G × H - I' है, तो E, I से किस प्रकार संबंधित है?

- Ans
- 1. माँ का भाई
 - 2. भाई
 - 3. माँ के पिता
 - 4. पिता का भाई

Question ID : 630680222462

Option 1 ID : 630680863607

Option 2 ID : 630680863609

Option 3 ID : 630680863610

Option 4 ID : 630680863608

Status : Answered

Chosen Option : 1

Q.8 दिए गए विकल्पों में से अक्षरों के उस संयोजन का चयन कीजिए जिसे दी गई श्रृंखला के रिक्त स्थानों में क्रमिक रूप से रखे जाने पर श्रृंखला पूरी हो जाएगी।

F _ L T _ R _ I L _ E R F I _ E _ I L T _ R

- Ans
- 1. IEFRTLRFE
 - 2. TEILTRFEI
 - 3. LTEIRTFEI
 - 4. LTRFEITLE

Question ID : 630680416630

Option 1 ID : 6306801625285

Option 2 ID : 6306801625283

Option 3 ID : 6306801625284

Option 4 ID : 6306801625286

Status : Answered

Chosen Option : 1

Q.9 दिए गए विकल्पों में से उस संख्या का चयन करें जो निम्नलिखित श्रृंखला में प्रश्न चिह्न (?) के स्थान पर आ सकती है।

1, 3, 7, 15, 31, 63, ?

Ans 1. 120

2. 125

3. 127

4. 130

Question ID : 630680411924

Option 1 ID : 6306801606531

Option 2 ID : 6306801606532

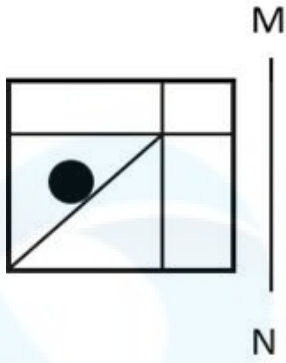
Option 3 ID : 6306801606534

Option 4 ID : 6306801606533

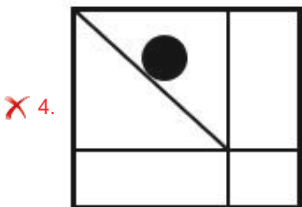
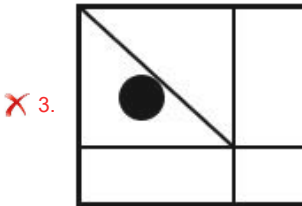
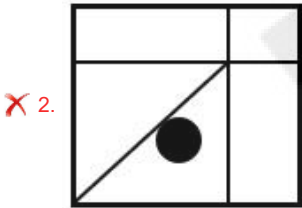
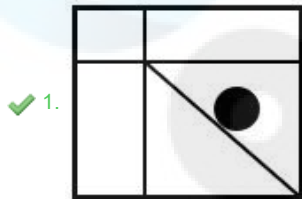
Status : Answered

Chosen Option : 3

Q.10 जब दर्पण को निम्न चित्र के अनुसार रेखा MN पर रखा जाता है, तो दी गई आकृति का दर्पण में निर्मित सही प्रतिबिंब का चयन कीजिए।



Ans



Question ID : 630680281029

Option 1 ID : 6306801092352

Option 2 ID : 6306801092354

Option 3 ID : 6306801092351

Option 4 ID : 6306801092353

Status : Answered

Chosen Option : 1

Q.11 उस विकल्प का चयन कीजिए, जिसका पाँचवें अक्षर-समूह से ठीक वही संबंध है, जो संबंध दूसरे अक्षर-समूह का पहले अक्षर-समूह से और वही संबंध चौथे अक्षर-समूह का तीसरे अक्षर-समूह से है।
PLEASED: ELPAPES :: HOWEVER : WOHEREV :: IMAGINE : ?

- Ans
- 1. MAIGEIN
 - 2. AIMGEIN
 - 3. MAIGNEI
 - 4. AMIGENI

Question ID : 630680416970
Option 1 ID : 6306801626644
Option 2 ID : 6306801626646
Option 3 ID : 6306801626643
Option 4 ID : 6306801626645

Status : Answered
Chosen Option : 4

Q.12 निम्नलिखित समीकरण में यदि '+' का अर्थ 'x' है, '-' का अर्थ '÷' है, 'x' का अर्थ '+' है और '÷' का अर्थ '-' है, तो प्रश्न-चिह्न (?) के स्थान पर क्या आएगा?
 $(18 + 10 \times 20) - 8 \div 6 = ?$

- Ans
- 1. 19
 - 2. 20
 - 3. 22
 - 4. 18

Question ID : 630680159194
Option 1 ID : 630680616245
Option 2 ID : 630680616246
Option 3 ID : 630680616247
Option 4 ID : 630680616244

Status : Answered
Chosen Option : 1

Q.13 उस विकल्प का चयन करें जो उन अक्षरों का निरूपण करता है, जिन्हें नीचे दिए गए रिक्त स्थानों में बाएं से दाएं क्रमिक रूप से रखे जाने पर अक्षर श्रृंखला पूरी हो जाएगी।
_ V _ D _ B _ _ B D _ _

- Ans
- 1. DDBVDVB
 - 2. BDVVBDV
 - 3. BDDVDVB
 - 4. DBVDVVB

Question ID : 630680416335
Option 1 ID : 6306801624105
Option 2 ID : 6306801624103
Option 3 ID : 6306801624104
Option 4 ID : 6306801624106

Status : Answered
Chosen Option : 4

Q.14 एक निश्चित कूट भाषा में,
'A + B' का अर्थ है 'A, B का पति है'
'A - B' का अर्थ है 'A, B का भाई है'
'A × B' का अर्थ है 'A, B का पिता है'
'A ÷ B' का अर्थ है 'A, B का पुत्र है'
उपरोक्त के आधार पर, यदि 'E ÷ F × D - C' है, तो E का C से क्या संबंध है?

- Ans
- 1. पुत्र
 - 2. भाई
 - 3. दामाद
 - 4. पिता

Question ID : 63068075708
Option 1 ID : 630680292954
Option 2 ID : 630680292955
Option 3 ID : 630680292956
Option 4 ID : 630680292953
Status : Answered
Chosen Option : 2

Q.15 प्रत्येक समुच्चय की संख्याएँ एक निश्चित तरीके से एक दूसरे से संबंधित हैं।
(3, 6, 81), (2, 2, 16), (4, 5, ?)
पहले दो समुच्चयों में संख्याओं के बीच संबंध के आधार पर, उस संख्या का चयन कीजिए जो तीसरे समुच्चय में प्रश्न चिह्न (?) को प्रतिस्थापित कर सके।

- Ans
- 1. 72
 - 2. 78
 - 3. 81
 - 4. 18

Question ID : 63068053280
Option 1 ID : 630680205223
Option 2 ID : 630680205225
Option 3 ID : 630680205224
Option 4 ID : 630680205222
Status : Answered
Chosen Option : 3

Q.16 उस विकल्प का चयन करें जो पांचवें अक्षर-समूह से उसी प्रकार संबंधित है जिस प्रकार दूसरा अक्षर-समूह पहले अक्षर-समूह से संबंधित है और चौथा अक्षर-समूह तीसरे अक्षर-समूह से संबंधित है।
NEAREST : PICVGWV :: OFFICER : QJHMEIT :: SERVICE : ?

- Ans
- 1. UITZMGG
 - 2. UITZKGG
 - 3. UITXKGG
 - 4. UITXMEI

Question ID : 630680416923
Option 1 ID : 6306801626458
Option 2 ID : 6306801626457
Option 3 ID : 6306801626455
Option 4 ID : 6306801626456
Status : Answered
Chosen Option : 2

Q.17 एक निश्चित कूट भाषा में 'GROSS' को '4' के रूप में और 'MOIST' को '8' के रूप में लिखा जाता है। इसी कूट भाषा में 'ZEBRA' को कैसे लिखा जाएगा?

- Ans 1. 2
 2. 9
 3. 5
 4. 6

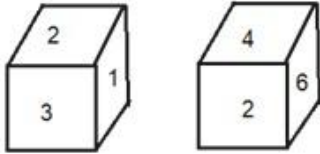
Question ID : 630680417183
Option 1 ID : 6306801627495
Option 2 ID : 6306801627498
Option 3 ID : 6306801627496
Option 4 ID : 6306801627497
Status : Not Answered
Chosen Option : --

Q.18 उस विकल्प का चयन करें जो तीसरे शब्द से उसी प्रकार संबंधित है जिस प्रकार दूसरा शब्द पहले शब्द से संबंधित है।
(शब्दों को अर्थपूर्ण हिंदी शब्दों के रूप में माना जाना चाहिए और शब्द में अक्षरों की संख्या / व्यंजनों/ स्वरों की संख्या के आधार पर एक-दूसरे से संबंधित नहीं किया जाना चाहिए)
पायलट : हवाई जहाज़ :: कैप्टन : ?

- Ans 1. समुद्र
 2. समुद्री जहाज
 3. नाव चलाना
 4. तैरना

Question ID : 630680417181
Option 1 ID : 6306801627490
Option 2 ID : 6306801627489
Option 3 ID : 6306801627487
Option 4 ID : 6306801627488
Status : Answered
Chosen Option : 2

Q.19 एक पासे के अलग-अलग फलकों पर छः संख्याएँ 1, 2, 3, 4, 5 और 6 लिखी गई हैं। दिए गए चित्र में इस पासे की दो स्थितियाँ दर्शाई गई हैं। 4 दर्शाने वाले फलक के विपरीत वाले फलक पर कौन-सी संख्या होगी?



- Ans 1. 2
 2. 5
 3. 3
 4. 1

Question ID : 630680187288
Option 1 ID : 630680726103
Option 2 ID : 630680726102
Option 3 ID : 630680726104
Option 4 ID : 630680726101
Status : Answered
Chosen Option : 4

Q.20 उस सही विकल्प का चयन करें जो निम्नलिखित शब्दों की व्यवस्था को तार्किक और अर्थपूर्ण क्रम में दर्शाता है।

1. नाखून
2. कोहनी
3. उंगली
4. कंधा
5. कलाई

Ans 1. 1, 3, 5, 2, 4

2. 3, 1, 2, 5, 4

3. 1, 5, 3, 2, 4

4. 3, 5, 1, 2, 4

Question ID : 630680416442

Option 1 ID : 6306801624534

Option 2 ID : 6306801624533

Option 3 ID : 6306801624531

Option 4 ID : 6306801624532

Status : Answered

Chosen Option : 1

Q.21 इस प्रश्न में, तीन कथन और उसके बाद दो निष्कर्ष I और II दिए गए हैं। कथनों को सत्य मानते हुए, भले ही वे सामान्यतः ज्ञात तथ्यों से भिन्न प्रतीत होते हों, निर्णय लें कि कौन-सा/से निष्कर्ष तार्किक रूप से कथनों का अनुसरण करता/करते है/हैं।

कथन:

I. कोई मानचित्र, नक्शा नहीं है।

II. सभी ग्लोब, नक्शे हैं।

III. सभी एटलस, नक्शे हैं।

निष्कर्ष:

I. कोई एटलस, मानचित्र नहीं है।

II. कुछ ग्लोब, एटलस हैं।

Ans 1. केवल निष्कर्ष I अनुसरण करता है

2. केवल निष्कर्ष II अनुसरण करता है

3. दोनों निष्कर्ष I और II अनुसरण करते हैं

4. न तो निष्कर्ष I और न ही II अनुसरण करता है

Question ID : 630680416755

Option 1 ID : 6306801625783

Option 2 ID : 6306801625784

Option 3 ID : 6306801625785

Option 4 ID : 6306801625786

Status : Answered

Chosen Option : 1

Q.22 एक निश्चित कूट भाषा में,

'A + B' का अर्थ है, A, B के पिता है,

'A - B' का अर्थ है, A, B का भाई है,

'A × B' का अर्थ है, A, B की माँ है,

'A ÷ B' का अर्थ है, A, B की बहन है।

उपरोक्त के आधार पर, यदि 'L + K ÷ D × P - R' है, तो K, R से किस प्रकार संबंधित है?

Ans 1. बहन

2. माँ

3. पिता की बहन

4. माँ की बहन

Question ID : 63068058049

Option 1 ID : 630680223944

Option 2 ID : 630680223945

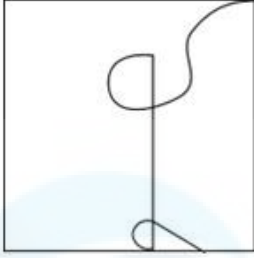
Option 3 ID : 630680223942

Option 4 ID : 630680223943

Status : Answered

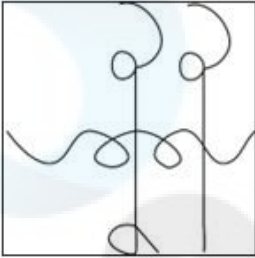
Chosen Option : 4

Q.23 उस विकल्प आकृति का चयन करें, जिसमें दी गई आकृति उसके एक भाग के रूप में समाहित है
(आकृति को घुमाने की अनुमति नहीं है)।

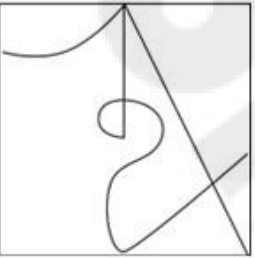


Ans

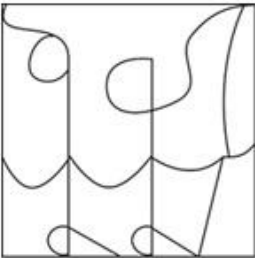
✗ 1.




✗ 2.



✓ 3.



✗ 4.



Question ID : 630680294949

Option 1 ID : 6306801147526

Option 2 ID : 6306801147524

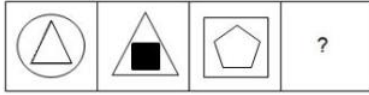
Option 3 ID : 6306801147525

Option 4 ID : 6306801147527

Status : Answered

Chosen Option : 3

Q.24 दिए गए विकल्पों में से उस आकृति का चयन करें जो निम्न श्रृंखला में प्रश्नवाचक चिह्न (?) के स्थान पर आ सकती है।



Ans

✗ 1.



✓ 2.



✗ 3.



✗ 4.



Question ID : 630680104586

Option 1 ID : 630680406525

Option 2 ID : 630680406524

Option 3 ID : 630680406523

Option 4 ID : 630680406526

Status : Answered

Chosen Option : 2

Q.25 उस विकल्प का चयन कीजिए जो दिए गए शब्दों के विन्यास को उस सही क्रम में इंगित करता है जिस क्रम में वे अंग्रेजी शब्दकोश में दिखाई देते हैं।

- 1- Deflection
- 2- Degrade
- 3- Degeneration
- 4- Degree
- 5- Deformation

Ans ✗ 1. 1, 2, 3, 4, 5

✗ 2. 2, 4, 3, 1, 5

✗ 3. 3, 1, 5, 2, 4

✓ 4. 1, 5, 3, 2, 4

Question ID : 630680417220

Option 1 ID : 6306801627644

Option 2 ID : 6306801627646

Option 3 ID : 6306801627643

Option 4 ID : 6306801627645

Status : Answered

Chosen Option : 4

Section : General Awareness

Q.1 भारत में गणतंत्र दिवस किसकी याद में मनाया जाता है?

- Ans
- 1. जिस दिन संविधान सभा का गठन हुआ था।
 - 2. भारत की आज़ादी।
 - 3. जिस तारीख को भारत का संविधान लागू हुआ था।
 - 4. जिस दिन संविधान सभा की पहली बैठक हुई थी।

Question ID : 630680157877
Option 1 ID : 630680611038
Option 2 ID : 630680611039
Option 3 ID : 630680611036
Option 4 ID : 630680611037
Status : Answered
Chosen Option : 3

Q.2 राज्यपाल की परिलब्धियां किसके द्वारा तय की जाती हैं?

- Ans
- 1. संसद
 - 2. राष्ट्रपति
 - 3. राज्य विधान मंडल
 - 4. प्रधानमंत्री

Question ID : 630680408299
Option 1 ID : 6306801592093
Option 2 ID : 6306801592091
Option 3 ID : 6306801592094
Option 4 ID : 6306801592092
Status : Answered
Chosen Option : 3

Q.3 The highly viscous, mechanically-weak and ductile region of Earth's upper mantle is called:

- Ans
- 1. exosphere
 - 2. lithosphere
 - 3. asthenosphere
 - 4. mesosphere

Question ID : 63068076876
Option 1 ID : 630680297601
Option 2 ID : 630680297602
Option 3 ID : 630680297604
Option 4 ID : 630680297603
Status : Answered
Chosen Option : 3

Q.4 पाक्योग हवाई अड्डा _____ में स्थित है।

- Ans
- 1. अरुणाचल प्रदेश
 - 2. असम
 - 3. सिक्किम
 - 4. नागालैंड

Question ID : 630680409777
Option 1 ID : 6306801597939
Option 2 ID : 6306801597937
Option 3 ID : 6306801597938
Option 4 ID : 6306801597940
Status : Answered
Chosen Option : 1

Q.5 निम्नलिखित में से कौन कथन भारत के प्रधानमंत्री के बारे में सही नहीं है?

- Ans
- 1. वे सरकार के मुखिया होते हैं।
 - 2. वे राष्ट्रपति और मंत्रिपरिषद के बीच प्रमुख संचारक होते हैं।
 - 3. वे और उनके मंत्री सामूहिक रूप से संसद के उच्च सदन के प्रति उत्तरदायी होते हैं।
 - 4. वे उन व्यक्तियों के नाम की सिफारिश करता है जिन्हें राष्ट्रपति द्वारा मंत्री के रूप में नियुक्त किया जा सकता है।

Question ID : 630680408302

Option 1 ID : 6306801592103

Option 2 ID : 6306801592105

Option 3 ID : 6306801592106

Option 4 ID : 6306801592104

Status : Answered

Chosen Option : 3

Q.6 निम्नलिखित में से कौन-सा कशेरुकी का उदाहरण है?

- Ans
- 1. कीट
 - 2. क्रसटेशियाई
 - 3. स्तनधारी
 - 4. मोलस्क

Question ID : 630680407518

Option 1 ID : 6306801589013

Option 2 ID : 6306801589012

Option 3 ID : 6306801589011

Option 4 ID : 6306801589010

Status : Answered

Chosen Option : 3

Q.7 मध्य प्रदेश के मुख्यमंत्री द्वारा शुरू की गई 'मुख्यमंत्री आवासीय भू अधिकार योजना' के तहत, टीकमगढ़ जिले के 10,918 परिवारों को लगभग _____ करोड़ मूल्य के प्लॉट प्रदान किए गए।

- Ans
- 1. ₹140
 - 2. ₹139
 - 3. ₹130
 - 4. ₹129

Question ID : 630680413078

Option 1 ID : 6306801611138

Option 2 ID : 6306801611137

Option 3 ID : 6306801611136

Option 4 ID : 6306801611135

Status : Not Answered

Chosen Option : --

Q.8 75वें स्वतंत्रता दिवस के उपलक्ष्य में भारत सरकार की पहल आजादी का अमृत महोत्सव किस वर्ष शुरू हुई?

- Ans 1. 2019
 2. 2021
 3. 2020
 4. 2022

Question ID : 630680409228
Option 1 ID : 6306801595741
Option 2 ID : 6306801595743
Option 3 ID : 6306801595742
Option 4 ID : 6306801595744
Status : Answered
Chosen Option : 4

Q.9 निम्नलिखित में से किस खिलाड़ी ने आत्मकथा अनडिस्प्यूटेड ट्रुथ (Undisputed Truth) लिखी है?

- Ans 1. माइक टायसन (Mike Tyson)
 2. मुहम्मद अली (Muhammad Ali)
 3. मैथ्यू हेडेन (Matthew Hayden)
 4. केविन पीटर्सन (Kevin Pietersen)

Question ID : 630680409305
Option 1 ID : 6306801596049
Option 2 ID : 6306801596050
Option 3 ID : 6306801596052
Option 4 ID : 6306801596051
Status : Not Answered
Chosen Option : --

Q.10 निम्नलिखित में से किस प्रकार की बेरोजगारी, बाजार में उपलब्ध नौकरियों और बाजार में उपलब्ध श्रमिकों के कौशल के बीच बेमेलता होने से उत्पन्न होती है?

- Ans 1. घर्षण
 2. मौसमी
 3. प्रच्छन्न
 4. संरचनात्मक

Question ID : 630680409736
Option 1 ID : 6306801597773
Option 2 ID : 6306801597776
Option 3 ID : 6306801597774
Option 4 ID : 6306801597775
Status : Answered
Chosen Option : 4

Q.11 दिल्ली सल्तनत के संदर्भ में 'चालीस का समूह' क्या था?

- Ans
- 1. वे चालीस सैन्य तीरंदाज थे, जिन्होंने दिल्ली सल्तनत में अपनी बहादुरी से अपनी अलग पहचान बनाई।
 - 2. वे चालीस बंजारा नेता थे, जिन्होंने युद्ध के समय सैन्य आपूर्ति स्थानांतरित की।
 - 3. वे ज्यादातर इल्तुतमिश के शक्तिशाली तुर्की गुलाम थे, जिन्होंने सुल्ताना रज़िया की हत्या के बाद मध्यकाल में सत्ता संभाली थी।
 - 4. वे चालीस राजपूत रईस थे, जिन्होंने 1210 में कुतुबउददीन ऐबक को सत्ता से हटाने के लिए तख्तापलट की योजना बनाई थी।

Question ID : 630680412596

Option 1 ID : 6306801609209

Option 2 ID : 6306801609210

Option 3 ID : 6306801609207

Option 4 ID : 6306801609208

Status : Answered

Chosen Option : 3

Q.12 भारतीय संविधान के निम्नलिखित में से कौन-से अनुच्छेद भारत के नियंत्रक और महालेखा परीक्षक से संबंधित हैं?

- Ans
- 1. अनुच्छेद 148-151
 - 2. अनुच्छेद 148-152
 - 3. अनुच्छेद 147-150
 - 4. अनुच्छेद 148-154

Question ID : 630680408246

Option 1 ID : 6306801591879

Option 2 ID : 6306801591881

Option 3 ID : 6306801591880

Option 4 ID : 6306801591882

Status : Answered

Chosen Option : 1

Q.13 प्रसिद्ध संगीतकार अबन मिस्ली किस वाद्य-यंत्र से संबंधित हैं?

- Ans
- 1. शहनाई
 - 2. ड्रम
 - 3. बाँसुरी
 - 4. तबला

Question ID : 630680409414

Option 1 ID : 6306801596485

Option 2 ID : 6306801596488

Option 3 ID : 6306801596487

Option 4 ID : 6306801596486

Status : Answered

Chosen Option : 1

Q.14 1955 में, किसने कोशिका द्रव्य के छोटे कणीय घटक (राइबोसोम) का व्यापक अध्ययन प्रकाशित किया और उनके शरीरक्रियात्मक महत्व का सही आकलन किया?

- Ans
- 1. पियरे जोसेफ पेलेटियर (Pierre Joseph Pelletier)
 - 2. अल्बर्ट वॉन कोलिकर (Albert Von Kolliker)
 - 3. जॉर्ज ई पलाडे (George E Palade)
 - 4. जेम्स थॉमसन (James Thomson)

Question ID : 630680407394
Option 1 ID : 6306801588517
Option 2 ID : 6306801588515
Option 3 ID : 6306801588514
Option 4 ID : 6306801588516
Status : Answered
Chosen Option : 3

Q.15 The dry cell is made up of an outer _____ container that acts as the anode.

- Ans
- 1. zinc
 - 2. manganese
 - 3. lead
 - 4. nickel

Question ID : 63068076921
Option 1 ID : 630680297783
Option 2 ID : 630680297784
Option 3 ID : 630680297782
Option 4 ID : 630680297781
Status : Answered
Chosen Option : 3

Q.16 निम्नलिखित में से कौन रहनुमाई मज़दायस्नान सभा से संबंधित नहीं है?

- Ans
- 1. दादाभाई नौरोजी
 - 2. नौरोजी फर्डुनजी
 - 3. सैय्यद अहमद खान
 - 4. एस.एस. बंगाली

Question ID : 630680412545
Option 1 ID : 6306801609004
Option 2 ID : 6306801609003
Option 3 ID : 6306801609005
Option 4 ID : 6306801609006
Status : Answered
Chosen Option : 4

Q.17 निम्नलिखित में से किस किले का निर्माण राजा राय सिंह ने 1588 में करवाया था?

- Ans
- 1. कुम्भल गढ़
 - 2. जूनागढ़ किला
 - 3. आमेर किला
 - 4. सोनार किला

Question ID : 630680409300
Option 1 ID : 6306801596030
Option 2 ID : 6306801596032
Option 3 ID : 6306801596031
Option 4 ID : 6306801596029
Status : Not Answered
Chosen Option : --

Q.18 माई कंट्री, माई लाइफ' निम्नलिखित में से किस भारतीय राजनेता का आत्मकथात्मक पाठ (टेक्स्ट) है?

- Ans
- 1. अटल बिहारी वाजपेयी
 - 2. शरद पवार
 - 3. नरेंद्र मोदी
 - 4. लालकृष्ण आडवाणी

Question ID : 630680359794
Option 1 ID : 6306801401122
Option 2 ID : 6306801401124
Option 3 ID : 6306801401121
Option 4 ID : 6306801401123
Status : Answered
Chosen Option : 4

Q.19 12 मार्च, 1930 को, गांधीजी ने अपने 72 अनुयायियों के साथ _____ से दांडी तट तक मार्च शुरू किया।

- Ans
- 1. कच्छ
 - 2. सूरत
 - 3. टॉलस्टॉय फार्म
 - 4. साबरमती आश्रम

Question ID : 630680412458
Option 1 ID : 6306801608658
Option 2 ID : 6306801608656
Option 3 ID : 6306801608655
Option 4 ID : 6306801608657
Status : Answered
Chosen Option : 4

Q.20 मई 2023 में, रवनीत कौर _____ के रूप में अपनी नियुक्ति के कारण खबरों में थीं।

- Ans
- 1. भारत के मुख्य चुनाव आयुक्त
 - 2. भारतीय प्रतिस्पर्धा आयोग के अध्यक्ष
 - 3. भारत के चुनाव आयुक्त
 - 4. मुख्य सतर्कता आयुक्त

Question ID : 630680413052
Option 1 ID : 6306801611034
Option 2 ID : 6306801611031
Option 3 ID : 6306801611033
Option 4 ID : 6306801611032
Status : Answered
Chosen Option : 2

Q.21 11वें मौलिक कर्तव्य को किस संशोधन द्वारा जोड़ा गया था?

- Ans
- 1. 44वें संशोधन 1978
 - 2. 42वें संशोधन 1976
 - 3. 86वें संशोधन 2002
 - 4. 84वें संशोधन 2000

Question ID : 630680408289
Option 1 ID : 6306801592052
Option 2 ID : 6306801592051
Option 3 ID : 6306801592054
Option 4 ID : 6306801592053
Status : Answered
Chosen Option : 3

Q.22 गुप्त सम्राट चंद्रगुप्त प्रथम निम्नलिखित में से कौन-सी उपाधि धारण करने वाला पहला शासक था?

- Ans
- 1. महेन्द्रादित्य
 - 2. परमेश्वर
 - 3. विक्रमादित्य
 - 4. महाराजाधिराज

Question ID : 630680210800
Option 1 ID : 630680817361
Option 2 ID : 630680817362
Option 3 ID : 630680817360
Option 4 ID : 630680817359
Status : Answered
Chosen Option : 3

Q.23 केवलादेव राष्ट्रीय उद्यान (Keoladeo National Park) किस राज्य में स्थित है?

- Ans
- 1. मध्य प्रदेश
 - 2. गुजरात
 - 3. ओडिशा
 - 4. राजस्थान

Question ID : 630680409795
Option 1 ID : 6306801598009
Option 2 ID : 6306801598011
Option 3 ID : 6306801598012
Option 4 ID : 6306801598010
Status : Answered
Chosen Option : 4

Q.24 अगस्त 2021 में, मिशन शक्ति 3.0 का तीसरा चरण किस भारतीय राज्य की महिलाओं को सशक्त बनाने और उन्हें आत्मनिर्भर बनाने के लिए शुरू किया गया था?

- Ans
- 1. अरुणाचल प्रदेश
 - 2. उत्तर प्रदेश
 - 3. मध्य प्रदेश
 - 4. हिमाचल प्रदेश

Question ID : 63068074583
Option 1 ID : 630680288490
Option 2 ID : 630680288487
Option 3 ID : 630680288488
Option 4 ID : 630680288489
Status : Answered
Chosen Option : 2

Q.25 भूटान में कौन सा ट्रेक भूटानी ट्रेकिंग का ताज माना जाता है?

- Ans
- 1. दगला थाउज़ेंड लेक्स ट्रेक
 - 2. जुमोल्हारी ट्रेक
 - 3. लाया गैसा ट्रेक
 - 4. स्नोमैन ट्रेक

Question ID : 630680409785
Option 1 ID : 6306801597970
Option 2 ID : 6306801597972
Option 3 ID : 6306801597971
Option 4 ID : 6306801597969
Status : Not Answered
Chosen Option : --

Q.1 किसी समबाहु त्रिभुज का क्षेत्रफल $289\sqrt{3}$ cm² है। इसकी भुजाओं की लंबाई (cm में) ज्ञात कीजिए।

- Ans
- 1. 17
 - 2. 27
 - 3. 34
 - 4. 36

Question ID : 630680421525
Option 1 ID : 6306801644563
Option 2 ID : 6306801644564
Option 3 ID : 6306801644565
Option 4 ID : 6306801644566
Status : Answered
Chosen Option : 3

Q.2 एक निश्चित धनराशि साधारण ब्याज की एक निश्चित दर पर 4 वर्ष में ₹1,250 और $5\frac{1}{2}$ वर्ष में ₹1,520 हो जाती है। वार्षिक ब्याज दर (दशमलव के दो स्थान तक सही) ज्ञात करें।

- Ans
- 1. 43.96%
 - 2. 33.96%
 - 3. 23.96%
 - 4. 53.96%

Question ID : 630680428531
Option 1 ID : 6306801672169
Option 2 ID : 6306801672168
Option 3 ID : 6306801672170
Option 4 ID : 6306801672171
Status : Answered
Chosen Option : 2

Q.3 3, 11, 4 और 14 को समानुपात में बनाने के लिए इनमें कौन-सी संख्या जोड़ी जानी चाहिए?

- Ans
- 1. 2
 - 2. 1
 - 3. 3
 - 4. 4

Question ID : 630680428560
Option 1 ID : 6306801672284
Option 2 ID : 6306801672286
Option 3 ID : 6306801672287
Option 4 ID : 6306801672285
Status : Answered
Chosen Option : 2

Q.4 यदि एक सम पंचभुज का क्षेत्रफल $3920\sqrt{3}\text{ cm}^2$ है, तो इसकी प्रत्येक भुजा कितनी लंबी है?

- Ans 1. 56 cm
 2. 38 cm
 3. 58 cm
 4. 46 cm

Question ID : 630680421593
Option 1 ID : 6306801644836
Option 2 ID : 6306801644835
Option 3 ID : 6306801644837
Option 4 ID : 6306801644838
Status : Answered
Chosen Option : 1

Q.5 X और Y एक कार्य को क्रमशः 18 दिन और 27 दिन में कर सकते हैं। X से शुरू करते हुए, वे एकांतर दिन में कार्य करते हैं। X और Y द्वारा कार्य को पूरा करने में कुल कितने दिन लगेंगे?

- Ans 1. 20
 2. 24
 3. 21
 4. 22

Question ID : 630680429095
Option 1 ID : 6306801674425
Option 2 ID : 6306801674426
Option 3 ID : 6306801674424
Option 4 ID : 6306801674427
Status : Answered
Chosen Option : 4

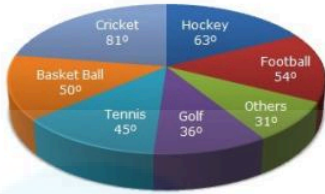
Q.6 दिए गए व्यंजक को सरल कीजिए। $\frac{[1.5 \times 1.5 \times 1.5 + 2.7 \times 2.7 \times 2.7 + 4.8 \times 4.8 \times 4.8 - 3 \times 1.5 \times 2.7 \times 4.8]}{[1.5 \times 1.5 + 2.7 \times 2.7 + 4.8 \times 4.8 - 1.5 \times 2.7 - 2.7 \times 4.8 - 4.8 \times 1.5]}$

- Ans 1. 12
 2. 9
 3. 14
 4. 10

Question ID : 630680413614
Option 1 ID : 6306801613281
Option 2 ID : 6306801613283
Option 3 ID : 6306801613280
Option 4 ID : 6306801613282
Status : Answered
Chosen Option : 2

Q.7 निम्नांकित पाई-चार्ट का अध्ययन करें और नीचे दिए गए प्रश्न का उत्तर दें।

यह पाई-चार्ट एक विशेष वर्ष के दौरान एक खेल अकादमी द्वारा विभिन्न खेलों पर किए गए खर्च को दर्शाता है।



गोल्फ की तुलना में हॉकी पर कितना प्रतिशत अधिक खर्च किया गया है?

- Cricket - क्रिकेट
- Hockey - हॉकी
- Football - फुटबॉल
- Others - अन्य
- Golf - गोल्फ
- Tennis - टेनिस
- Basketball - बास्केटबॉल

Ans 1. 70%

2. 65%

3. 75%

4. 25%

Question ID : 630680428623

Option 1 ID : 6306801672539

Option 2 ID : 6306801672538

Option 3 ID : 6306801672536

Option 4 ID : 6306801672537

Status : Answered

Chosen Option : 3

Q.8 एक दुकानदार ने जितने मूल्य पर 30 पुस्तकें खरीदीं उतने ही मूल्य पर 25 पुस्तकें बेचीं। उसे कितने प्रतिशत का लाभ या हानि हुई?

Ans 1. 20% हानि

2. 20% लाभ

3. 25% हानि

4. 25% लाभ

Question ID : 630680428482

Option 1 ID : 6306801671974

Option 2 ID : 6306801671973

Option 3 ID : 6306801671972

Option 4 ID : 6306801671975

Status : Answered

Chosen Option : 2

Q.9 निम्नलिखित तालिका 5 अलग-अलग केंद्रों P, Q, R, S और T पर मतदाताओं की संख्या और चुनाव में मतदान करने वाले लोगों का प्रतिशत दर्शाती है।

केंद्र	पंजीकृत मतदाताओं की कुल संख्या	मतदान करने वाले लोगों का प्रतिशत (पंजीकृत मतदाताओं की कुल संख्या में से)
P	3500	85%
Q	2900	76%
R	2400	82%
S	1850	90%
T	3000	87%

यदि केंद्र S पर डाले गए अवैध मतों की संख्या, डाले गए मतों की कुल संख्या की 20% थी, तो केंद्र S पर कुल पंजीकृत मतदाताओं में से कितने प्रतिशत मतदाताओं ने अवैध मत डाले?

- Ans 1. 22%
 2. 18%
 3. 20%
 4. 25%

Question ID : 630680428059
Option 1 ID : 6306801670282
Option 2 ID : 6306801670280
Option 3 ID : 6306801670281
Option 4 ID : 6306801670283
Status : Answered
Chosen Option : 2

Q.10 840 m की एक वृत्ताकार दौड़ में A और B समान समय पर समान दिशा में समान बिंदु से क्रमशः 6 m/s और 12 m/s की चाल से दौड़ना आरम्भ करते हैं। वे अगली बार कितने समय बाद मिलेंगे?

- Ans 1. 20 s
 2. 40 s
 3. 140 s
 4. 70 s

Question ID : 630680111530
Option 1 ID : 630680431905
Option 2 ID : 630680431902
Option 3 ID : 630680431903
Option 4 ID : 630680431904
Status : Answered
Chosen Option : 3

Q.11 यदि $a - b = 5$ और $ab = 25$, तो $a^3 - b^3$ का मान क्या होगा:

- Ans 1. 400
 2. 525
 3. 500
 4. 450

Question ID : 630680413627
Option 1 ID : 6306801613332
Option 2 ID : 6306801613335
Option 3 ID : 6306801613334
Option 4 ID : 6306801613333
Status : Answered
Chosen Option : 3

Q.12 36 व्यक्ति एक दिन में 6 घंटे कार्य करते हुए किसी कार्य को 10 दिन में पूरा कर सकते हैं। तो बताइए कि 24 व्यक्ति 9 घंटे प्रतिदिन कार्य करके उस कार्य को कितने दिनों में पूरा करेंगे?

Ans 1. 10

2. 4

3. 8

4. 6

Question ID : 630680428982

Option 1 ID : 6306801673973

Option 2 ID : 6306801673972

Option 3 ID : 6306801673974

Option 4 ID : 6306801673975

Status : Answered

Chosen Option : 1

Q.13 कक्षा X में 45 विद्यार्थियों ने 30 औसत अंक प्राप्त किए हैं और कक्षा Y में 35 विद्यार्थियों के औसत अंक 18 हैं। दोनों कक्षाओं के विद्यार्थियों के औसत अंक ज्ञात कीजिए।

Ans 1. 28.50

2. 25

3. 24.75

4. 30

Question ID : 630680428825

Option 1 ID : 6306801673345

Option 2 ID : 6306801673347

Option 3 ID : 6306801673346

Option 4 ID : 6306801673344

Status : Answered

Chosen Option : 3

Q.14 एक पुलिस थाना एक बैंक और चोर के लिए एक सेफ हाउस एक सीधी रेखा में हैं, जिसमें बैंक बीच में स्थित है। पुलिस थाना और सेफ हाउस के बीच की दूरी बैंक और सेफ हाउस के बीच की दूरी की चार गुना है। 9:15 A.M पर बैंक लूटने के बाद चोर भाग जाता है। एक पुलिसकर्मी तुरंत सूचना प्राप्त करता है और 16 km/h की चाल से चोर का पीछा करता है। पुलिसकर्मी पंद्रह मिनट में चोर को सेफ हाउस के गेट पर पकड़ लेता है। बैंक और पुलिस थाने के बीच की दूरी कितनी है?

Ans 1. 4 km

2. 1 km

3. 3 km

4. 2 km

Question ID : 630680428944

Option 1 ID : 6306801673823

Option 2 ID : 6306801673822

Option 3 ID : 6306801673820

Option 4 ID : 6306801673821

Status : Answered

Chosen Option : 3

Q.15 एक कार्य को 8 व्यक्ति प्रतिदिन 6 घंटे कार्य करके 10 दिनों में समाप्त कर सकते हैं या 20 योग्य श्रमिक प्रतिदिन 8 घंटे कार्य करके 6 दिनों में समाप्त कर सकते हैं। 2 पुरुष और 4 योग्य श्रमिक प्रतिदिन 10 घंटे एक साथ कार्य करते हैं, कार्य _____ दिनों में समाप्त हो जाएगा।

Ans 1. 12

2. 8

3. 9

4. 10

Question ID : 630680428520

Option 1 ID : 6306801672127

Option 2 ID : 6306801672124

Option 3 ID : 6306801672125

Option 4 ID : 6306801672126

Status : Answered

Chosen Option : 1

Q.16 एक समांतरचतुर्भुज का आधार उसकी ऊंचाई का तीन गुना है। यदि समांतरचतुर्भुज का क्षेत्रफल 1020 cm^2 है, तो इसकी ऊंचाई क्या है?

Ans 1. $\sqrt{82}$ cm

2. $2\sqrt{85}$ cm

3. $2\sqrt{84}$ cm

4. $\sqrt{89}$ cm

Question ID : 630680196696

Option 1 ID : 630680763086

Option 2 ID : 630680763084

Option 3 ID : 630680763083

Option 4 ID : 630680763085

Status : Answered

Chosen Option : 2

Q.17 जॉन 20 किग्रा गेहूँ ₹30 प्रति किग्रा की दर से और 30 किग्रा गेहूँ ₹50 प्रति किग्रा की दर से खरीदता है। उसका औसत मूल्य ज्ञात कीजिए।

Ans 1. ₹20 प्रति किग्रा

2. ₹21 प्रति किग्रा

3. ₹40 प्रति किग्रा

4. ₹42 प्रति किग्रा

Question ID : 630680855985

Option 1 ID : 6306803352648

Option 2 ID : 6306803352646

Option 3 ID : 6306803352647

Option 4 ID : 6306803352649

Status : Answered

Chosen Option : 4

Q.18 संख्या 2918245 निम्नलिखित में से किस संख्या से विभाज्य है?

- Ans 1. 11
 2. 3
 3. 12
 4. 9

Question ID : 630680428379
Option 1 ID : 6306801671561
Option 2 ID : 6306801671563
Option 3 ID : 6306801671560
Option 4 ID : 6306801671562
Status : Answered
Chosen Option : 1

Q.19 यदि नियत तिथि से पहले बिजली बिल का भुगतान किया जाता है, तो बिल की राशि पर 10% की कमी हो जाती है। देय तिथि से पहले बिल का भुगतान करने पर एक व्यक्ति के बिल में ₹23 की कमी हुई। उसके बिजली बिल की राशि (₹ में) _____ थी।

- Ans 1. 230
 2. 250
 3. 380
 4. 520

Question ID : 630680428823
Option 1 ID : 6306801673338
Option 2 ID : 6306801673337
Option 3 ID : 6306801673339
Option 4 ID : 6306801673336
Status : Answered
Chosen Option : 1

Q.20 $6^{25} + 6^{26} + 6^{27} + 6^{28}$ निम्न से किस संख्या से विभाज्य है?

- Ans 1. 255
 2. 254
 3. 259
 4. 256

Question ID : 630680104330
Option 1 ID : 630680405536
Option 2 ID : 630680405535
Option 3 ID : 630680405538
Option 4 ID : 630680405537
Status : Answered
Chosen Option : 3

Q.21 एक दुकानदार 450 kg चावल को ₹40 प्रति kg के क्रय मूल्य पर बेचने का दावा करता है, लेकिन एक kg वजन के बजाय 900 g वजन का उपयोग करता है। वह बचे हुए चावल को ब्लैक मार्केट में बेचकर ₹2,520 का लाभ अर्जित करता है। प्रति kg चावल के ब्लैक मार्केट मूल्य का प्रति kg चावल के मूल मूल्य से अनुपात क्या है?

- Ans
- 1. 9 : 4
 - 2. 10 : 7
 - 3. 7 : 5
 - 4. 4 : 3

Question ID : 630680196284

Option 1 ID : 630680761516

Option 2 ID : 630680761515

Option 3 ID : 630680761517

Option 4 ID : 630680761518

Status : Not Answered

Chosen Option : --

Q.22 नीचे दी गई तालिका विभिन्न वर्षों में विभिन्न प्रकार की टोपियों का उत्पादन (हजारों में) दर्शाती है।

टोपियों के प्रकार/वर्ष	2008	2009	2010	2011	2012
M	576	896	287	896	884
N	560	753	473	560	637
Q	586	637	576	753	678
R	778	780	560	780	678

किस वर्ष में टोपी Q का उत्पादन (हजारों में), टोपी R के बराबर था?

- Ans
- 1. 2009
 - 2. 2010
 - 3. 2011
 - 4. 2012

Question ID : 630680428156

Option 1 ID : 6306801670668

Option 2 ID : 6306801670669

Option 3 ID : 6306801670670

Option 4 ID : 6306801670671

Status : Answered

Chosen Option : 4

Q.23 एक परीक्षा में उत्तीर्ण प्रतिशत 35% है। यदि 210 अंक प्राप्त करने वाला एक छात्र 14 अंकों से अनुत्तीर्ण हो जाता है, तो परीक्षा के अधिकतम अंक क्या हैं?

- Ans
- 1. 660
 - 2. 620
 - 3. 640
 - 4. 600

Question ID : 630680428382

Option 1 ID : 6306801671573

Option 2 ID : 6306801671574

Option 3 ID : 6306801671572

Option 4 ID : 6306801671575

Status : Answered

Chosen Option : 3

Q.24 एक कर्मचारी के वेतन में 10% की वृद्धि की जाती है और फिर बढ़ा हुआ वेतन 10% कम कर दिया जाता है। कर्मचारी के वेतन में कितने प्रतिशत की हानि होती है?

- Ans
- 1. 2%
 - 2. 1%
 - 3. 4%
 - 4. 3%

Question ID : 630680429013
Option 1 ID : 6306801674096
Option 2 ID : 6306801674097
Option 3 ID : 6306801674099
Option 4 ID : 6306801674098
Status : Answered
Chosen Option : 2

Q.25 निम्नलिखित का मान निकालिए।
$$\frac{5\cos^2 120^\circ + 4\sec^2 30^\circ - \tan^2 135^\circ}{\sin^2 30^\circ + \cos^2 30^\circ}$$

- Ans
- 1. $\frac{67}{12}$
 - 2. $\frac{37}{12}$
 - 3. $\frac{57}{5}$
 - 4. $\frac{27}{5}$

Question ID : 630680182053
Option 1 ID : 630680705437
Option 2 ID : 630680705435
Option 3 ID : 630680705436
Option 4 ID : 630680705434
Status : Answered
Chosen Option : 1

Section : English Language

Q.1 Select the option that can be used as a one-word substitute for the given group of words.

The killing of one's sister

- Ans
- 1. Uxoricide
 - 2. Sororicide
 - 3. Regicide
 - 4. Parricide

Question ID : 630680414831
Option 1 ID : 6306801618069
Option 2 ID : 6306801618067
Option 3 ID : 6306801618068
Option 4 ID : 6306801618070
Status : Answered
Chosen Option : 2

Q.2 Select the idiom that gives the most appropriate meaning of the underlined phrase in the following sentence.

Our Principal looked disappointed when no one expressed the willingness to join the trip.

- Ans 1. Pulled a long face
 2. High and dry
 3. Gave a single shot
 4. Made a comeback

Question ID : 630680410100
Option 1 ID : 6306801599230
Option 2 ID : 6306801599229
Option 3 ID : 6306801599231
Option 4 ID : 6306801599232
Status : Answered
Chosen Option : 1

Q.3 Parts of the following sentence have been given as options. Select the option that contains an error.

Children should watch TV from distance as it will affect their eyesight.

- Ans 1. as it will affect
 2. Children should watch
 3. their eyesight
 4. TV from distance

Question ID : 630680415231
Option 1 ID : 6306801619673
Option 2 ID : 6306801619671
Option 3 ID : 6306801619674
Option 4 ID : 6306801619672
Status : Answered
Chosen Option : 1

Q.4 Parts of a sentence are given below in jumbled order. Arrange the parts in the correct order to form a meaningful sentence.

- (A) the concert was too expensive
(B) to watch his favourite
(C) hard-earned money on
(D) to waste his parents'
(E) artist's live performance
(F) so he sacrificed the chance

- Ans 1. BADECF
 2. FACEDB
 3. ADCFBE
 4. FADECB

Question ID : 630680360062
Option 1 ID : 6306801402195
Option 2 ID : 6306801402196
Option 3 ID : 6306801402194
Option 4 ID : 6306801402193
Status : Answered
Chosen Option : 3

Q.5 Select the most appropriate ANTONYM of the given word.
Desperate

- Ans
- 1. Sloping
 - 2. Hopeful
 - 3. Bleak
 - 4. Erratic

Question ID : 630680375523
Option 1 ID : 6306801463248
Option 2 ID : 6306801463250
Option 3 ID : 6306801463249
Option 4 ID : 6306801463247
Status : Answered
Chosen Option : 2

Q.6 The following sentence has been split into four segments. Identify the segment that contains a grammatical error.
My friends / and their family members / have gone to the beach / two days ago.

- Ans
- 1. have gone to the beach
 - 2. and their family members
 - 3. two days ago
 - 4. My friends

Question ID : 630680415193
Option 1 ID : 6306801619521
Option 2 ID : 6306801619520
Option 3 ID : 6306801619522
Option 4 ID : 6306801619519
Status : Answered
Chosen Option : 1

Q.7 Select the option that expresses the given sentence in passive voice.

Rakesh appointed three managers.

- Ans
- 1. Three managers were being appointed by Rakesh.
 - 2. Three managers were appointed by Rakesh.
 - 3. Three managers will be appointed by Rakesh.
 - 4. Three managers appointed Rakesh.

Question ID : 630680415507
Option 1 ID : 6306801620777
Option 2 ID : 6306801620775
Option 3 ID : 6306801620778
Option 4 ID : 6306801620776
Status : Answered
Chosen Option : 2

Q.8 Select the most appropriate idiom that can substitute the underlined words in the given sentence.

I know you have been really busy with your work, but can you just give me a few minutes?

- Ans
- 1. jumped on the bandwagon
 - 2. on cloud nine
 - 3. snowed under
 - 4. through thick and thin

Question ID : 630680183586

Option 1 ID : 630680711356

Option 2 ID : 630680711354

Option 3 ID : 630680711355

Option 4 ID : 630680711353

Status : Answered

Chosen Option : 3

Q.9 Select the option that can be used as a one-word substitute for the given group of words.

An act of copying the behavior or speech of other people.

- Ans
- 1. Parody
 - 2. Pedantry
 - 3. Oratory
 - 4. Mimicry

Question ID : 630680410109

Option 1 ID : 6306801599267

Option 2 ID : 6306801599266

Option 3 ID : 6306801599268

Option 4 ID : 6306801599265

Status : Answered

Chosen Option : 4

Q.10 Select the option that expresses the given sentence in indirect speech.
She said, "I am going to Delhi to attend my friend's marriage."

- Ans
- 1. She said that she was going to Delhi to attend her friend's marriage.
 - 2. She said that she was going to Delhi to attend our friend's marriage.
 - 3. She said that she was going to Delhi to attend my friend's marriage.
 - 4. She said that I was going to Delhi to attend my friend's marriage.

Question ID : 630680415228

Option 1 ID : 6306801619662

Option 2 ID : 6306801619659

Option 3 ID : 6306801619660

Option 4 ID : 6306801619661

Status : Answered

Chosen Option : 1

Q.11 Select the sentence that contains a spelling error.

- Ans 1. His presence in the party was unexpected.
 2. The result will be declared tomorrow.
 3. I shall always remain grateful to you.
 4. I can't believe you.

Question ID : 630680409932
Option 1 ID : 6306801598559
Option 2 ID : 6306801598558
Option 3 ID : 6306801598557
Option 4 ID : 6306801598560
Status : Answered
Chosen Option : 3

Q.12 Select the INCORRECTLY spelt word.

- Ans 1. Preclude
 2. Ethereality
 3. Cryptic
 4. Elocaution

Question ID : 630680409901
Option 1 ID : 6306801598436
Option 2 ID : 6306801598434
Option 3 ID : 6306801598435
Option 4 ID : 6306801598433
Status : Answered
Chosen Option : 4

Q.13 Parts of a sentence are given below in jumbled order. Arrange the parts in the correct order to form a meaningful sentence.

- A: leaped into the water
B: ship touched the shore
C: as soon as the
D: a soldier of the tenth legion

- Ans 1. CBDA
 2. BDAC
 3. ACBD
 4. DACB

Question ID : 630680319312
Option 1 ID : 6306801242155
Option 2 ID : 6306801242156
Option 3 ID : 6306801242153
Option 4 ID : 6306801242154
Status : Answered
Chosen Option : 1

Q.14 Select the option that expresses the following sentence in active voice.
The wild elephant will be captured and left in the forest.

- Ans
- 1. We had captured and left the wild elephant in the forest.
 - 2. The wild elephant would be captured by us and left in the forest.
 - 3. They will capture the wild elephant and leave it in the forest.
 - 4. We would have captured and left the wild elephant in the forest.

Question ID : 630680415318
Option 1 ID : 6306801620019
Option 2 ID : 6306801620021
Option 3 ID : 6306801620022
Option 4 ID : 6306801620020
Status : Answered
Chosen Option : 3

Q.15 Select the option that expresses the given sentence in passive voice.
The flight is carrying relief material.

- Ans
- 1. Relief material is carried by the flight.
 - 2. Relief material is being carrying by the flight.
 - 3. Relief material is carrying by the flight.
 - 4. Relief material is being carried by the flight.

Question ID : 630680415475
Option 1 ID : 6306801620647
Option 2 ID : 6306801620649
Option 3 ID : 6306801620650
Option 4 ID : 6306801620648
Status : Answered
Chosen Option : 4

Comprehension:

In the following passage some words have been deleted. Read the passage carefully and select the most appropriate option to fill in each blank.

L. M. Thapar made important contributions to ASSOCHAM which (1)_____ the interests of trade and commerce in India. He was (2)_____ a good life and was known for being charming and polished. He was an avid art collector, with an (3)_____ personal gallery of some of the finest works of art. This suave gentleman with an impeccable English accent and very British persona enjoyed Indian classical vocal music and loved getting a crowd together for a performance. His (4)_____ personality, his generosity and his encouragement of young talent is remembered (5)_____ by his friends, family and admirers.

SubQuestion No : 16

Q.16 Select the most appropriate option to fill in blank number 1.

- Ans
- 1. developed
 - 2. demoted
 - 3. designed
 - 4. promoted

Question ID : 630680395474
Option 1 ID : 6306801542066
Option 2 ID : 6306801542064
Option 3 ID : 6306801542067
Option 4 ID : 6306801542065
Status : Answered
Chosen Option : 1

Comprehension:

In the following passage some words have been deleted. Read the passage carefully and select the most appropriate option to fill in each blank.

L. M. Thapar made important contributions to ASSOCHAM which (1)_____ the interests of trade and commerce in India. He was (2)_____ a good life and was known for being charming and polished. He was an avid art collector, with an (3)_____ personal gallery of some of the finest works of art. This suave gentleman with an impeccable English accent and very British persona enjoyed Indian classical vocal music and loved getting a crowd together for a performance. His (4)_____ personality, his generosity and his encouragement of young talent is remembered (5)_____ by his friends, family and admirers.

SubQuestion No : 17

Q.17 Select the most appropriate option to fill in blank number 2.

- Ans 1. want of
 2. fond of
 3. caring for
 4. world of

Question ID : 630680395475
Option 1 ID : 6306801542068
Option 2 ID : 6306801542071
Option 3 ID : 6306801542070
Option 4 ID : 6306801542069
Status : Answered
Chosen Option : 2

Comprehension:

In the following passage some words have been deleted. Read the passage carefully and select the most appropriate option to fill in each blank.

L. M. Thapar made important contributions to ASSOCHAM which (1)_____ the interests of trade and commerce in India. He was (2)_____ a good life and was known for being charming and polished. He was an avid art collector, with an (3)_____ personal gallery of some of the finest works of art. This suave gentleman with an impeccable English accent and very British persona enjoyed Indian classical vocal music and loved getting a crowd together for a performance. His (4)_____ personality, his generosity and his encouragement of young talent is remembered (5)_____ by his friends, family and admirers.

SubQuestion No : 18

Q.18 Select the most appropriate option to fill in blank number 3.

- Ans 1. regular
 2. ordinary
 3. impressive
 4. routine

Question ID : 630680395476
Option 1 ID : 6306801542074
Option 2 ID : 6306801542072
Option 3 ID : 6306801542073
Option 4 ID : 6306801542075
Status : Answered
Chosen Option : 3

Comprehension:

In the following passage some words have been deleted. Read the passage carefully and select the most appropriate option to fill in each blank.

L. M. Thapar made important contributions to ASSOCHAM which (1)_____ the interests of trade and commerce in India. He was (2)_____ a good life and was known for being charming and polished. He was an avid art collector, with an (3)_____ personal gallery of some of the finest works of art. This suave gentleman with an impeccable English accent and very British persona enjoyed Indian classical vocal music and loved getting a crowd together for a performance. His (4)_____ personality, his generosity and his encouragement of young talent is remembered (5)_____ by his friends, family and admirers.

SubQuestion No : 19

Q.19 Select the most appropriate option to fill in blank number 4.

- Ans 1. workaholic
 2. vivacious
 3. hesitant
 4. dull

Question ID : 630680395477

Option 1 ID : 6306801542078

Option 2 ID : 6306801542076

Option 3 ID : 6306801542079

Option 4 ID : 6306801542077

Status : Answered

Chosen Option : 2

Comprehension:

In the following passage some words have been deleted. Read the passage carefully and select the most appropriate option to fill in each blank.

L. M. Thapar made important contributions to ASSOCHAM which (1)_____ the interests of trade and commerce in India. He was (2)_____ a good life and was known for being charming and polished. He was an avid art collector, with an (3)_____ personal gallery of some of the finest works of art. This suave gentleman with an impeccable English accent and very British persona enjoyed Indian classical vocal music and loved getting a crowd together for a performance. His (4)_____ personality, his generosity and his encouragement of young talent is remembered (5)_____ by his friends, family and admirers.

SubQuestion No : 20

Q.20 Select the most appropriate option to fill in blank number 5.

- Ans 1. sometimes
 2. fondly
 3. eventually
 4. never

Question ID : 630680395478

Option 1 ID : 6306801542082

Option 2 ID : 6306801542081

Option 3 ID : 6306801542080

Option 4 ID : 6306801542083

Status : Answered

Chosen Option : 3

Comprehension:

Read the given passage and answer the questions that follow.

A significant reduction in farm fires this winter in both Punjab and Haryana is heartening news for policymakers and agriculture scientists at the forefront of combating the scourge. North India's citizens had slightly better winter air as well. Farm fires are down by 30% and 48% over last year in Punjab and Haryana respectively. The key then is to sustain these gains next year and the year after – to ensure that the practice of paddy stubble burning, which is nothing less than social malpractice, is eradicated.

What is obvious this time is a concerted attempt by Punjab and Haryana officials to deter farmers from setting yield on fire. The anti-farm-reforms agitation and the Punjab elections had turned the fightback against stubble burning into a nonstarter, the last two years. Both in-situ straw management through super-seeders, which plough the straw back into the soil, and ex-situ baling of the straw for sale to biogas plants, industries with captive power plants, fodder suppliers, were heavily promoted this year. Super-seeder machines gaining popularity over the previous generation happy-seeders is a promising development. Innovations that make these machines better and faster and more fuel-efficient can win over the holdout farmers too. ICAR's bio-decomposer appeared to not find much favour, given the short window between Kharif harvest and Rabi sowing this year, but it's just as promising.

There is a political dimension as well. AAP government in Punjab and BJP helming Centre and Haryana have their own policies. Centre's commission for Air Quality Management, in which the affected NCR states are stakeholders, has also released ample funds. For even bigger environmental challenges, for example, weaning off coal, there is a lesson - a mix of technology, government-backed incentives and funds, garnished by a sense of political responsibility, can make a difference to even seemingly intractable problems.

SubQuestion No : 21

Q.21 How much of the percentage of farm fires is down over last year in Haryana?

- Ans 1. 15%
 2. 48%
 3. 25%
 4. 30%

Question ID : 630680406826

Option 1 ID : 6306801586401

Option 2 ID : 6306801586399

Option 3 ID : 6306801586400

Option 4 ID : 6306801586398

Status : Answered

Chosen Option : 2

Comprehension:

Read the given passage and answer the questions that follow.

A significant reduction in farm fires this winter in both Punjab and Haryana is heartening news for policymakers and agriculture scientists at the forefront of combating the scourge. North India's citizens had slightly better winter air as well. Farm fires are down by 30% and 48% over last year in Punjab and Haryana respectively. The key then is to sustain these gains next year and the year after – to ensure that the practice of paddy stubble burning, which is nothing less than social malpractice, is eradicated.

What is obvious this time is a concerted attempt by Punjab and Haryana officials to deter farmers from setting yield on fire. The anti-farm-reforms agitation and the Punjab elections had turned the fightback against stubble burning into a nonstarter, the last two years. Both in-situ straw management through super-seeders, which plough the straw back into the soil, and ex-situ baling of the straw for sale to biogas plants, industries with captive power plants, fodder suppliers, were heavily promoted this year. Super-seeder machines gaining popularity over the previous generation happy-seeders is a promising development. Innovations that make these machines better and faster and more fuel-efficient can win over the holdout farmers too. ICAR's bio-decomposer appeared to not find much favour, given the short window between Kharif harvest and Rabi sowing this year, but it's just as promising. There is a political dimension as well. AAP government in Punjab and BJP helming Centre and Haryana have their own policies. Centre's commission for Air Quality Management, in which the affected NCR states are stakeholders, has also released ample funds. For even bigger environmental challenges, for example, weaning off coal, there is a lesson - a mix of technology, government-backed incentives and funds, garnished by a sense of political responsibility, can make a difference to even seemingly intractable problems.

SubQuestion No : 22

Q.22 Which of the following options best summarises the given passage?

- Ans 1. There are no political dimensions in dealing with intractable problems.
2. Farmers' difficulties have been reduced to zero per cent by agriculture scientists.
3. A mix of technology, government funds and a sense of political responsibility helps solve difficult problems.
4. Farm fires have been halted successfully due to the coordination between AAP and BJP.

Question ID : 630680406829

Option 1 ID : 6306801586413

Option 2 ID : 6306801586411

Option 3 ID : 6306801586410

Option 4 ID : 6306801586412

Status : Answered

Chosen Option : 3

Comprehension:

Read the given passage and answer the questions that follow.

A significant reduction in farm fires this winter in both Punjab and Haryana is heartening news for policymakers and agriculture scientists at the forefront of combating the scourge. North India's citizens had slightly better winter air as well. Farm fires are down by 30% and 48% over last year in Punjab and Haryana respectively. The key then is to sustain these gains next year and the year after – to ensure that the practice of paddy stubble burning, which is nothing less than social malpractice, is eradicated.

What is obvious this time is a concerted attempt by Punjab and Haryana officials to deter farmers from setting yield on fire. The anti-farm-reforms agitation and the Punjab elections had turned the fightback against stubble burning into a nonstarter, the last two years. Both in-situ straw management through super-seeders, which plough the straw back into the soil, and ex-situ baling of the straw for sale to biogas plants, industries with captive power plants, fodder suppliers, were heavily promoted this year. Super-seeder machines gaining popularity over the previous generation happy-seeders is a promising development. Innovations that make these machines better and faster and more fuel-efficient can win over the holdout farmers too. ICAR's bio-decomposer appeared to not find much favour, given the short window between Kharif harvest and Rabi sowing this year, but it's just as promising.

There is a political dimension as well. AAP government in Punjab and BJP helming Centre and Haryana have their own policies. Centre's commission for Air Quality Management, in which the affected NCR states are stakeholders, has also released ample funds. For even bigger environmental challenges, for example, weaning off coal, there is a lesson - a mix of technology, government-backed incentives and funds, garnished by a sense of political responsibility, can make a difference to even seemingly intractable problems.

SubQuestion No : 23

Q.23 Select the most appropriate ANTONYM of the word 'deter'.

- Ans
- 1. Prove
 - 2. Bolt
 - 3. Disappoint
 - 4. Encourage

Question ID : 630680406828

Option 1 ID : 6306801586409

Option 2 ID : 6306801586408

Option 3 ID : 6306801586407

Option 4 ID : 6306801586406

Status : Answered

Chosen Option : 4

Comprehension:

Read the given passage and answer the questions that follow.

A significant reduction in farm fires this winter in both Punjab and Haryana is heartening news for policymakers and agriculture scientists at the forefront of combating the scourge. North India's citizens had slightly better winter air as well. Farm fires are down by 30% and 48% over last year in Punjab and Haryana respectively. The key then is to sustain these gains next year and the year after – to ensure that the practice of paddy stubble burning, which is nothing less than social malpractice, is eradicated.

What is obvious this time is a concerted attempt by Punjab and Haryana officials to deter farmers from setting yield on fire. The anti-farm-reforms agitation and the Punjab elections had turned the fightback against stubble burning into a nonstarter, the last two years. Both in-situ straw management through super-seeders, which plough the straw back into the soil, and ex-situ baling of the straw for sale to biogas plants, industries with captive power plants, fodder suppliers, were heavily promoted this year. Super-seeder machines gaining popularity over the previous generation happy-seeders is a promising development. Innovations that make these machines better and faster and more fuel-efficient can win over the holdout farmers too. ICAR's bio-decomposer appeared to not find much favour, given the short window between Kharif harvest and Rabi sowing this year, but it's just as promising.

There is a political dimension as well. AAP government in Punjab and BJP helming Centre and Haryana have their own policies. Centre's commission for Air Quality Management, in which the affected NCR states are stakeholders, has also released ample funds. For even bigger environmental challenges, for example, weaning off coal, there is a lesson - a mix of technology, government-backed incentives and funds, garnished by a sense of political responsibility, can make a difference to even seemingly intractable problems.

SubQuestion No : 24

Q.24 What is the good news mentioned here?

- Ans
- 1. High yielding of crops
 - 2. New policies for farmers
 - 3. Reduction in farm fires
 - 4. Sufficient electricity

Question ID : **630680406825**
Option 1 ID : **6306801586395**
Option 2 ID : **6306801586397**
Option 3 ID : **6306801586394**
Option 4 ID : **6306801586396**

Status : **Answered**

Chosen Option : **2**

Comprehension:

Read the given passage and answer the questions that follow.

A significant reduction in farm fires this winter in both Punjab and Haryana is heartening news for policymakers and agriculture scientists at the forefront of combating the scourge. North India's citizens had slightly better winter air as well. Farm fires are down by 30% and 48% over last year in Punjab and Haryana respectively. The key then is to sustain these gains next year and the year after – to ensure that the practice of paddy stubble burning, which is nothing less than social malpractice, is eradicated.

What is obvious this time is a concerted attempt by Punjab and Haryana officials to deter farmers from setting yield on fire. The anti-farm-reforms agitation and the Punjab elections had turned the fightback against stubble burning into a nonstarter, the last two years. Both in-situ straw management through super-seeders, which plough the straw back into the soil, and ex-situ baling of the straw for sale to biogas plants, industries with captive power plants, fodder suppliers, were heavily promoted this year. Super-seeder machines gaining popularity over the previous generation happy-seeders is a promising development. Innovations that make these machines better and faster and more fuel-efficient can win over the holdout farmers too. ICAR's bio-decomposer appeared to not find much favour, given the short window between Kharif harvest and Rabi sowing this year, but it's just as promising. There is a political dimension as well. AAP government in Punjab and BJP helming Centre and Haryana have their own policies. Centre's commission for Air Quality Management, in which the affected NCR states are stakeholders, has also released ample funds. For even bigger environmental challenges, for example, weaning off coal, there is a lesson - a mix of technology, government-backed incentives and funds, garnished by a sense of political responsibility, can make a difference to even seemingly intractable problems.

SubQuestion No : 25

Q.25 Select the most appropriate title for the given passage.

Ans 1. Water and Politics

2. A Few Good Policies and Less Farm Fires

3. Fire and Farmers

4. Fire and Water

Question ID : 630680406827

Option 1 ID : 6306801586403

Option 2 ID : 6306801586404

Option 3 ID : 6306801586405

Option 4 ID : 6306801586402

Status : Answered

Chosen Option : 2