

Selection Post Examination Phase XII 2024

Exam Date	24/06/2024
Exam Time	11:45 AM - 12:45 PM
Subject	Selection Post Higher Secondary level

Section : General Intelligence

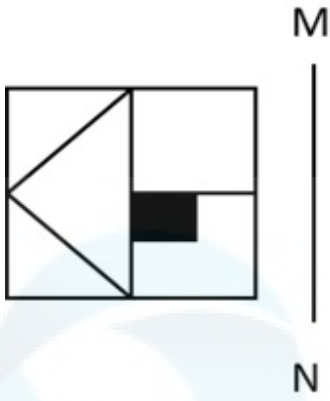
Q.1 एक निश्चित कूट भाषा में,
A + B का अर्थ है 'A, B की माता है',
A - B का अर्थ है 'A, B का भाई है',
A × B का अर्थ है 'A, B की पत्नी है',
A ÷ B का अर्थ है 'A, B का पिता है'।
उपर्युक्त के आधार पर, यदि 'P × Q ÷ T + S - R × V' है, तो R, Q से किस प्रकार संबंधित है?

- Ans
- 1. पोती
 - 2. नानी
 - 3. नातिन
 - 4. नाना

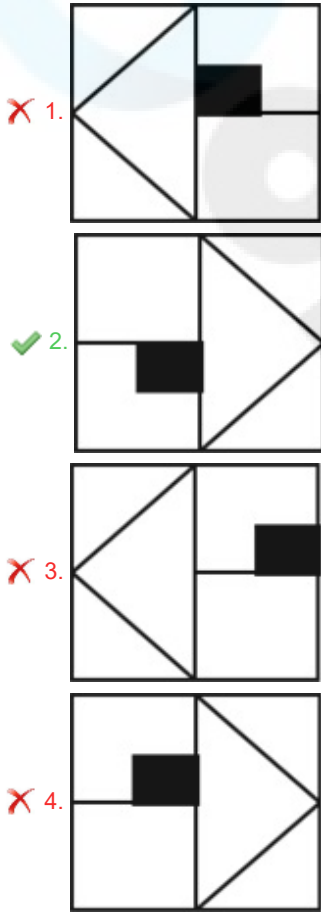
Q.2 इस प्रश्न में, तीन कथन दिए गए हैं, जिसके बाद दो निष्कर्ष I और II दिए गए हैं। कथनों को सत्य मानते हुए, भले ही वे सर्वज्ञात तथ्यों से भिन्न प्रतीत होते हों, निर्णय कीजिए कि कौन सा/से निष्कर्ष तार्किक रूप से कथनों का अनुसरण करता/करते है/हैं।
कथन:
कुछ मेज कुर्सियाँ हैं।
कुछ कुर्सियाँ पलंग हैं।
सभी पलंग अलमारी हैं।
निष्कर्ष:
I. कोई मेज अलमारी नहीं है।
II. सभी मेज अलमारी हैं।

- Ans
- 1. दोनों निष्कर्ष I और II अनुसरण करते हैं।
 - 2. न तो निष्कर्ष I और न ही II अनुसरण करता है।
 - 3. केवल निष्कर्ष II अनुसरण करता है।
 - 4. केवल निष्कर्ष I अनुसरण करता है।

Q.3 जब दर्पण को निम्न चित्र के अनुसार रेखा MN पर रखा जाता है, तो दी गई आकृति का दर्पण में निर्मित सही प्रतिबिंब का चयन कीजिए।



Ans



Q.4 उस विकल्प का चयन करें जो दिए गए शब्दों के उस सही क्रम को दर्शाता है जिस क्रम में वे अंग्रेजी शब्दकोश में आते हैं।

1. Rush
2. Roven
3. Rumpus
4. Royal
5. Rugged

- Ans
- 1. 4, 2, 3, 5, 1
 - 2. 3, 1, 2, 4, 5
 - 3. 1, 3, 2, 4, 5
 - 4. 2, 4, 5, 3, 1

Q.5 प्रत्येक समुच्चय की संख्याएँ एक निश्चित तरीके से एक दूसरे से संबंधित हैं।

(6, 64, 2), (8, 225, 7), (3, ?, 9)

पहले दो समुच्चयों में संख्याओं के बीच संबंध के आधार पर, उस संख्या का चयन कीजिए जो तीसरे समुच्चय में प्रश्न चिह्न (?) को प्रतिस्थापित कर सके।

- Ans
- 1. 124
 - 2. 144
 - 3. 146
 - 4. 148

Q.6 उस विकल्प का चयन करें जो उन अक्षरों को निरूपित करता है जिन्हें नीचे दिए गए रिक्त स्थानों में क्रमिक रूप से रखने पर अक्षर श्रृंखला पूरी हो जाएगी।

U _ G _ F _ K _ M G _ F N _ U _ G

- Ans
- 1. MLNULKM
 - 2. MKLNULM
 - 3. NKNMULM
 - 4. NLMKULM

Q.7 एक निश्चित कूट भाषा में,

'A + B' का अर्थ है 'A, B का पुत्र है';

'A - B' का अर्थ है 'A, B की पुत्री है';

'A × B' का अर्थ है 'A, B का पति है' और

'A ÷ B' का अर्थ है 'A, B की बहन है'।

उपर्युक्त के आधार पर, यदि 'P - Q × R ÷ S + T' है, तो P, S से किस प्रकार संबंधित है?

- Ans
- 1. पिता की बहन
 - 2. बहन की पुत्री
 - 3. माँ की माँ
 - 4. माँ की बहन

Q.8 निम्नलिखित समीकरण में यदि '+' का अर्थ '×' है, '×' का अर्थ '-' है, '-' का अर्थ '÷' है और '÷' का अर्थ '+' है, तो प्रश्न-चिह्न (?) के स्थान पर क्या आएगा?

$18 \div 4 + 3 \times 2 - 2 = ?$

- Ans
- 1. 29
 - 2. 19
 - 3. 28
 - 4. 30

Q.9 दिए गए विकल्पों में से अक्षरों के उस संयोजन का चयन कीजिए जिसे दी गई श्रृंखला के रिक्त स्थानों में क्रमिक रूप से रखे जाने पर श्रृंखला पूरी हो जाएगी।

G _ INGGO _ N _ G _ IN _ GOI _ _

- Ans
- 1. IOGNGOI
 - 2. GOGINIG
 - 3. OIGOGNG
 - 4. IOOGONG

Q.10 उस सही विकल्प का चयन करें जो निम्नलिखित शब्दों की व्यवस्था को तार्किक और अर्थपूर्ण क्रम में दर्शाता है।

1. इमारत
2. शहर
3. राज्य
4. देश
5. अपार्टमेंट

- Ans
- 1. 5, 1, 2, 3, 4
 - 2. 1, 2, 3, 5, 4
 - 3. 5, 3, 2, 1, 4
 - 4. 1, 3, 2, 4, 5

Q.11 उस विकल्प का चयन करें जो तीसरे शब्द से उसी प्रकार संबंधित है जिस प्रकार दूसरा शब्द पहले शब्द से संबंधित है।
(शब्दों को अर्थपूर्ण हिंदी शब्दों के रूप में माना जाना चाहिए और शब्द में अक्षरों की संख्या / व्यंजनों/स्वरों की संख्या के आधार पर एक-दूसरे से संबंधित नहीं किया जाना चाहिए)
भारत : दिल्ली :: यूनाइटेड किंगडम : ?

- Ans
- 1. मैनचेस्टर
 - 2. लंदन
 - 3. लिवरपूल
 - 4. टोटेनहैम

Q.12 उस विकल्प का चयन कीजिए जो तीसरे शब्द से उसी प्रकार संबंधित है जिस प्रकार दूसरा शब्द पहले शब्द से संबंधित है।
(शब्दों को अर्थपूर्ण हिंदी शब्दों के रूप में माना जाना चाहिए और शब्द में अक्षरों/ व्यंजनों/स्वरों की संख्या के आधार पर वे एक दूसरे से संबंधित नहीं किए जाने चाहिए)
साकेट : प्लग :: नट : ?

- Ans
- 1. बंदर
 - 2. खाना
 - 3. बोल्ट
 - 4. पेंचकस

Q.13 तीन कथन दिए गए हैं जिनके बाद I और II से संख्यांकित दो निष्कर्ष दिए गए हैं। कथनों को सत्य मानते हुए, भले ही वे सामान्य रूप से ज्ञात तथ्यों से भिन्न प्रतीत होते हों, तय कीजिए कि कौन सा/से निष्कर्ष, कथनों का तार्किक रूप से अनुसरण करता/करते है/हैं?

कथन:

सभी p, r हैं।

कुछ r, c हैं।

सभी c, d हैं।

निष्कर्ष:

I. कुछ d, p हैं।

II. कुछ c, p हैं।

- Ans
- 1. केवल निष्कर्ष II अनुसरण करता है
 - 2. या तो निष्कर्ष I या निष्कर्ष II अनुसरण करता है
 - 3. केवल निष्कर्ष I अनुसरण करता है
 - 4. न तो निष्कर्ष I, न ही निष्कर्ष II अनुसरण करता है

Q.14 एक निश्चित कूट भाषा में, 'MERRY' को 'QYLLE' लिखा जाता है और 'OVEN' को 'OHYP' लिखा जाता है। उसी भाषा में 'MESIAL' को किस प्रकार लिखा जाएगा?

- Ans
- 1. QYKRCU
 - 2. QYKUCR
 - 3. QKYUCR
 - 4. QYKURC

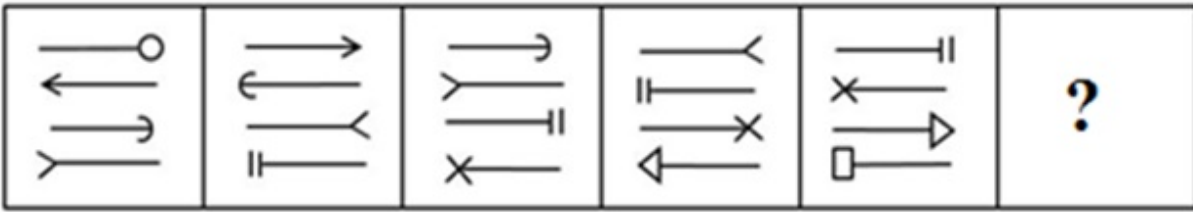
Q.15 एक निश्चित कूट भाषा में, 'THORP' को 'EQJGI' लिखा जाता है और 'HEART' को 'QTXGE' लिखा जाता है। उसी भाषा में 'TENDER' को किस प्रकार लिखा जाएगा?

- Ans
- 1. ETKGTU
 - 2. ETKUGT
 - 3. ETKUTG
 - 4. ETKTGU

Q.16 यदि SCRAMBLE शब्द के प्रत्येक अक्षर को वर्णमाला क्रम के अनुसार व्यवस्थित किया जाए, तो कितने अक्षरों के स्थान अपरिवर्तित रहेंगे?

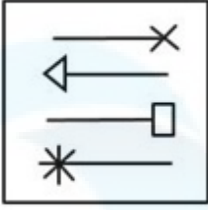
- Ans
- 1. तीन
 - 2. दो
 - 3. एक
 - 4. एक भी नहीं

Q.17 दिए गए विकल्पों में से उस आकृति का चयन कीजिए, जो निम्नलिखित श्रृंखला में प्रश्न-चिह्न (?) को प्रतिस्थापित कर सकती है।

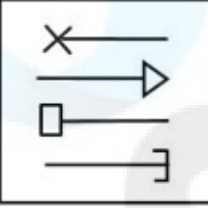


Ans

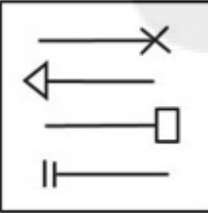
✓ 1.



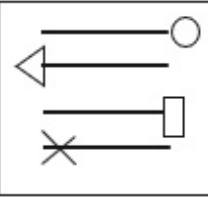
✗ 2.



✗ 3.



✗ 4.



Q.18 दिए गए विकल्पों में से उस संख्या का चयन करें जो निम्नलिखित श्रृंखला में प्रश्न चिह्न (?) के स्थान पर आ सकती है।
48, ?, 12, 6, 3, 1.5

- Ans
- ✗ 1. 16
 - ✗ 2. 48
 - ✗ 3. 12
 - ✓ 4. 24

Q.19 एक निश्चित कूट भाषा में,
 $A + B$ का अर्थ है, 'A, B की पुत्री है',
 $A - B$ का अर्थ है, 'A, B का भाई है',
 $A \times B$ का अर्थ है, 'A, B की माँ है'।
 उपरोक्त के आधार पर, यदि ' $K - L \times M - N + O$ ' है, तो K, O से किस प्रकार संबंधित है?

- Ans
- ✗ 1. पिता
 - ✗ 2. भाई
 - ✗ 3. मामा
 - ✓ 4. पत्नी का भाई

Q.20 तीन कथन दिए गए हैं जिनके बाद I और II से संख्यांकित दो निष्कर्ष दिए गए हैं। कथनों को सत्य मानते हुए, भले ही वे सामान्य रूप से ज्ञात तथ्यों से भिन्न प्रतीत होते हों, तय कीजिए कि कौन सा/से निष्कर्ष, कथनों का तार्किक रूप से अनुसरण करता/करते है/हैं?

कथन:

सभी अंजीर, टहनियाँ हैं।

कुछ टहनियाँ, पेड़ हैं।

कुछ चींटियाँ, पेड़ हैं।

निष्कर्ष:

I. कुछ चींटियाँ, टहनियाँ हैं।

II. कुछ पेड़, अंजीर हैं।

- Ans
- 1. या तो निष्कर्ष I या निष्कर्ष II अनुसरण करता है
 - 2. केवल निष्कर्ष II अनुसरण करता है
 - 3. केवल निष्कर्ष I अनुसरण करता है
 - 4. न तो निष्कर्ष I, न ही निष्कर्ष II अनुसरण करता है

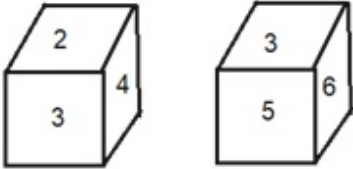
Q.21 एक निश्चित कूट भाषा में, 'DWELL' को 'UBTMM' लिखा जाता है और 'OVER' को 'JCTG' लिखा जाता है। उस भाषा में 'DYAD' को किस प्रकार लिखा जाएगा?

- Ans
- 1. ZUXU
 - 2. UXZU
 - 3. UZXU
 - 4. XUZX

Q.22 एक निश्चित कूट भाषा में, 'HUNTER' को 80 के रूप में कूटबद्ध किया जाता है और 'TRIAL' को 55 के रूप में कूटबद्ध किया जाता है। इसी कूट भाषा में 'BURNT' को किस प्रकार से कूटबद्ध किया जाएगा?

- Ans
- 1. 70
 - 2. 75
 - 3. 80
 - 4. 65

Q.23 एक पासे के अलग-अलग फलकों पर छः संख्याएँ 1, 2, 3, 4, 5 और 6 लिखी गई हैं। दिए गए चित्र में इस पासे की दो स्थितियाँ दर्शाई गई हैं। 4 दर्शाने वाले फलक के विपरीत वाले फलक पर कौन-सी संख्या होगी?

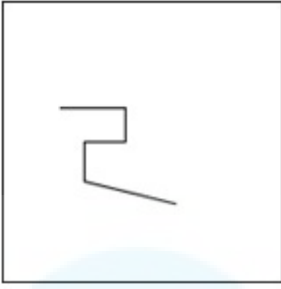


- Ans
- 1. 5
 - 2. 3
 - 3. 6
 - 4. 1

Q.24 उस विकल्प का चयन कीजिए, जिसका पाँचवें अक्षर-समूह से ठीक वही संबंध है, जो संबंध दूसरे अक्षर-समूह का पहले अक्षर-समूह से और वही संबंध चौथे अक्षर-समूह का तीसरे अक्षर-समूह से है।
BASIC : GEVKD :: TABLE : YEENF :: COULD : ?

- Ans
- 1. HSYNE
 - 2. HRXNE
 - 3. ITYMF
 - 4. HSYNE

Q.25 उस विकल्प आकृति का चयन कीजिए, जिसमें दी गई आकृति सन्निहित है (घुमाने की अनुमति नहीं है)।

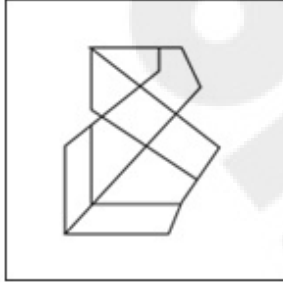


Ans

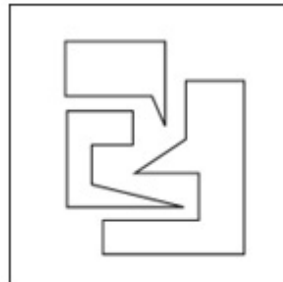
✗ 1.



✗ 2.



✓ 3.



✗ 4.



Section : General Awareness

Q.1 _____ संघ कार्यकारिणी का हिस्सा नहीं होता/होते है।

Ans

✗ 1. मंत्रिपरिषद

✗ 2. भारत के राष्ट्रपति

✓ 3. भारत का सर्वोच्च न्यायालय

✗ 4. भारत के प्रधान मंत्री

Q.2 निम्नलिखित में से कौन आठवीं शताब्दी में मालवा क्षेत्र में गुर्जर-प्रतिहार वंश का संस्थापक था?

Ans

✗ 1. महेंद्रपाल प्रथम

✓ 2. नागभट्ट प्रथम

✗ 3. वत्सराज

✗ 4. मिहिर भोज

Q.3 भारतीय अंटार्कटिक विधेयक, 2022 के संबंध में निम्नलिखित में से कौन से कथन सत्य हैं?
1. भारतीय अंटार्कटिक बिल, 2022 को 1 दिसंबर 2022 को लोकसभा में पेश किया गया।
2. यह विधेयक, अंटार्कटिक संधि, अंटार्कटिक समुद्री जीवित संसाधनों के संरक्षण पर सम्मेलन और अंटार्कटिक संधि के पर्यावरण संरक्षण पर प्रोटोकॉल को प्रभावी करने का प्रयास करता है।
3. यह अंटार्कटिक पर्यावरण की रक्षा करने और क्षेत्र में गतिविधियों को विनियमित करने का भी प्रयास करता है।
4. इस विधेयक के प्रावधान किसी भी व्यक्ति, पोत या विमान पर लागू होंगे जो विधेयक के तहत जारी किए गए परमिट के तहत अंटार्कटिका की भारतीय खोजयात्रा का हिस्सा है।

- Ans
- 1. 1, 3 और 4
 - 2. 1, 2 और 4
 - 3. 1, 2 और 3
 - 4. 2, 3 और 4

Q.4 किसी तटस्थ परमाणु के इलेक्ट्रॉन ग्रहण करने की संभाव्यता क्या कहलाती है?

- Ans
- 1. विद्युत आकर्षण
 - 2. विद्युत धनात्मकता
 - 3. विद्युत-ऋणात्मकता
 - 4. इलेक्ट्रान बन्धुता

Q.5 2011 की जनगणना के अनुसार अनुसूचित जनजाति जनसंख्या के लिए साक्षरता दर क्या है?

- Ans
- 1. 65%
 - 2. 59%
 - 3. 66%
 - 4. 55%

Q.6 निम्नलिखित में से किस क्रिकेटर ने 281 एंड बिरॉन्ड नामक पुस्तक का सह-लेखन किया है?

- Ans
- 1. राहुल द्रविड़
 - 2. वी.वी.एस. लक्ष्मण
 - 3. अजय जडेजा
 - 4. सौरव गांगुली

Q.7 निम्नलिखित में से कौन 1876 में इंडियन एसोसिएशन फॉर द कल्टीवेशन ऑफ साइंस के संस्थापक थे, जो बुनियादी विज्ञान के अग्रणी क्षेत्रों में मौलिक अनुसंधान की खोज के लिए समर्पित एक संस्था है?

- Ans
- 1. मोक्षगुंडम विश्वेश्वरैया
 - 2. हर गोबिंद खुराना
 - 3. डॉ महेंद्र लाल सरकार
 - 4. चंद्रशेखर वेंकट रमन

Q.8 1980 के दशक में कांग्रेस संबंधी समितियों में जलवायु परिवर्तन पर अपने बयानों के लिए कौन प्रसिद्ध है, जिसने ग्लोबल वार्मिंग के मुद्दे के बारे में व्यापक जागरूकता पैदा करने में मदद की थी?

- Ans
- 1. जेम्स हैनसेन (James Hansen)
 - 2. स्वंते अरहेनियस (Svante Arrhenius)
 - 3. शेन कुओ (Shen Kuo)
 - 4. जोसेफ फूरियर (Joseph Fourier)

Q.9 भारत में संविधान दिवस कब मनाया जाता है?

- Ans
- 1. 31 अक्टूबर को
 - 2. 26 जनवरी को
 - 3. 26 नवंबर को
 - 4. 12 जनवरी को

Q.10 भारत के निम्नलिखित में से किस राज्य में चेतियागिरी विहार उत्सव मनाया जाता है?

- Ans
- 1. बिहार
 - 2. मध्य प्रदेश
 - 3. केरल
 - 4. मेघालय

Q.11 CJI का क्या अर्थ है?

- Ans
- 1. Council Judges of India (काउंसिल जजेस ऑफ इंडिया)
 - 2. Controller Justice of India (कंट्रोलर जस्टिस ऑफ इंडिया)
 - 3. Chief Justice of India (चीफ जस्टिस ऑफ इंडिया)
 - 4. Chief Justice of Income Tax (चीफ जस्टिस ऑफ इंकम टैक्स)

Q.12 भारत में सबसे पुराना और सबसे व्यापक उद्योग कौन सा है?

- Ans
- 1. वस्त्र
 - 2. खनन
 - 3. खाद्य संसाधन
 - 4. उर्वरक

Q.13 मोहन श्याम शर्मा _____ से संबंधित प्रसिद्ध संगीतकार हैं।

- Ans
- 1. तबला
 - 2. पखावज
 - 3. ड्रम
 - 4. सरोद

Q.14 निम्नलिखित में से कौन थियोसोफिकल सोसायटी से संबंधित है?

- Ans
- 1. ताराबाई शिंदे
 - 2. सावित्री बाई फुले
 - 3. एनी बेसेंट
 - 4. सरोजिनी नायडू

Q.15 हड़प्पा के अन्नागार में अनाज की मड़ाई के लिए _____ ईंट के चबूतरों की पंक्तियाँ थीं।

- Ans
- 1. आयताकार
 - 2. तिरछे
 - 3. गोलाकार
 - 4. वृत्ताकार

Q.16 भारतीय अक्षय ऊर्जा विकास एजेंसी (IREDA) ने बीकानेर, राजस्थान में 1000 MW सौर ऊर्जा परियोजना के लिए ₹4,000 करोड़ से अधिक के वित्तपोषण के लिए SJVN ग्रीन एनर्जी के साथ एक ऋण समझौते पर हस्ताक्षर किए हैं। 2023 में भारतीय अक्षय ऊर्जा विकास एजेंसी (IREDA) के वर्तमान अध्यक्ष और प्रबंध निदेशक कौन हैं?

- Ans
- 1. अंशुल मिश्रा
 - 2. सी.एल. गुलेरिया
 - 3. प्रदीप कुमार दास
 - 4. दिनेश मेनन

Q.17 शब्द _____ का अर्थ व्यक्तियों का एक निकाय है जो वास्तविक व्यवहार में नियमों और विनियमों के कार्यान्वयन की देखभाल करता है।

- Ans
- 1. न्यायपालिका
 - 2. कार्यकारिणी
 - 3. विधानमंडल
 - 4. नौकरशाही

Q.18 गर्म लाल मिर्च की बुकनी (hot paprika) का अपमिश्रक क्या है?

- Ans
- 1. बुरादा
 - 2. सूडान रंजक
 - 3. चाक पाउडर
 - 4. स्टार्च पाउडर

Q.19 '2 स्टेट्स' ('2 States') उपन्यास निम्नलिखित में से किस लेखक/लेखिका के द्वारा लिखा गया है?

- Ans
- 1. अरुंधति राय
 - 2. अयान गोगोई गोहेन
 - 3. चेतन भगत
 - 4. किरण देसाई

Q.20 _____, अप्रगुही (acoelomate) का एक उदाहरण है।

- Ans
- 1. एकाइनोडर्म (Echinoderms)
 - 2. प्लेटीहेल्मिन्थीज (Platyhelminthes)
 - 3. मोलस्क (Molluscs)
 - 4. आर्थ्रोपोड (Arthropods)

Q.21 उत्तराखंड राज्य के चमोली जिले में स्थित भारतीय गढ़वाल हिमालय की सबसे ऊँची चोटी का क्या नाम है जिसकी ऊँचाई 7,817 मीटर है?

- Ans
- 1. मुकुट पर्वत
 - 2. हरदोल
 - 3. नंदा देवी
 - 4. त्रिशूल

Q.22 निम्नलिखित में से कौन-सा सूचना प्रौद्योगिकी अधिनियम, 2000 का प्रस्तावित उत्तराधिकारी है?

- Ans
- 1. ऑप्टिकल इंडिया बिल
 - 2. साइबर इंडिया बिल
 - 3. डिजिटल इंडिया बिल
 - 4. मल्टीमीडिया बिल

Q.23 भारत की 2011 की जनगणना के अनुसार निम्नलिखित में से किस राज्य में महिला साक्षरता दर सबसे कम है?

- Ans
- 1. ओडिशा
 - 2. राजस्थान
 - 3. उत्तराखंड
 - 4. तमिलनाडु

Q.24 निम्नलिखित में से कौन-सा/से युग्म गलत सुमेलित है/हैं?

- A. न्यायपालिका से कार्यपालिका का पृथक्करण - अनुच्छेद 50
B. ग्राम पंचायतों का संगठन और उन्हें शक्तियाँ प्रदान करना - अनुच्छेद 40
C. समान अवसर के आधार पर न्याय को बढ़ावा देना और गरीबों को मुफ्त कानूनी सहायता प्रदान करना - अनुच्छेद 39A
D. कृषि और पशुपालन को आधुनिक और वैज्ञानिक तरीके से व्यवस्थित करना - अनुच्छेद 45

- Ans
- 1. केवल A, B और C
 - 2. केवल B, C और D
 - 3. केवल C और D
 - 4. केवल D

Q.25 निम्नलिखित में से कौन-सा शहर पल्लवों की राजधानी थी?

- Ans
- 1. रामेश्वरम्
 - 2. हम्पी
 - 3. ओरुगल्लू
 - 4. कांचीपुरम्

Q.1 950 m लंबाई के एक वृत्ताकार पथ पर दौड़ में, A और B एक ही बिंदु से एक ही दिशा में, एक ही समय में, क्रमशः 18 km/h और 36 km/h की चाल से दौड़ना शुरू करते हैं। कितने सेकंड के बाद वे शुरुआती बिंदु पर पहली बार मिलेंगे?

- Ans
- 1. 1.95
 - 2. 190
 - 3. 195
 - 4. 90

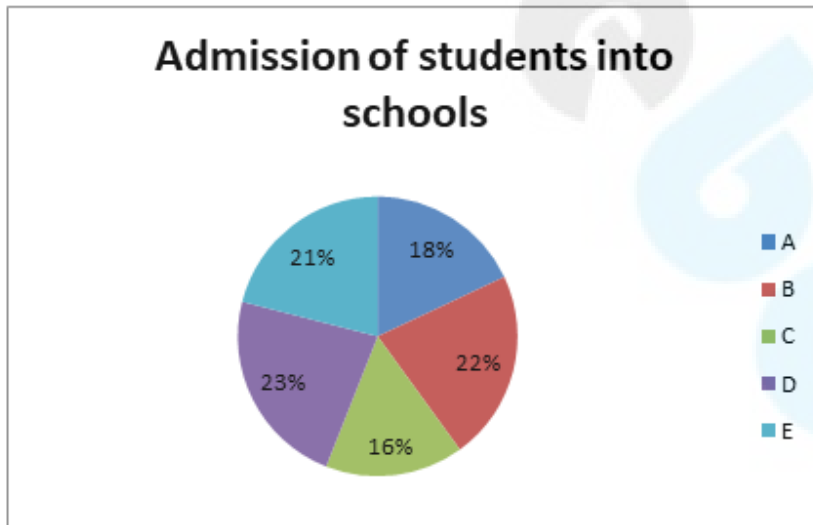
Q.2 यदि $x^2 + y^2 + z^2 = xy + yz + zx$ है, तो $\left(\frac{17x^4 + 9y^4 + 16z^4}{8x^2y^2 + 6y^2z^2 + 10z^2x^2}\right)$ का मान ज्ञात कीजिए।

- Ans
- 1. 1.75
 - 2. 2.50
 - 3. 3.25
 - 4. 2.00

Q.3 एक सप्ताह के पहले चार दिनों के लिए एक शहर का औसत तापमान 25°C है, और अंतिम चार दिनों का औसत तापमान 30°C है। यदि पूरे सप्ताह का औसत तापमान 27°C है, तो चौथे दिन का तापमान कितना है?

- Ans
- 1. 29°C
 - 2. 28°C
 - 3. 30°C
 - 4. 31°C

Q.4 दिया गया पाई-चार्ट एक कस्बे के विभिन्न विद्यालयों, A, B, C, D, E में प्रवेश लेने वाले विद्यार्थियों की संख्या को दर्शाता है। विद्यार्थियों की कुल संख्या 6500 है। प्रत्येक विद्यालय में लड़कों की संख्या तालिका में दी गई है। इस पाई-चार्ट और तालिका का ध्यानपूर्वक अध्ययन कीजिए और निम्नलिखित प्रश्न का उत्तर दीजिए।



Admission of students into schools = विद्यालयों में विद्यार्थियों का प्रवेश

विद्यालय	A	B	C	D	E
लड़कों की संख्या	800	850	600	700	765

विद्यालय A, C, D में लड़कों की कुल संख्या, विद्यालय B, C, E में लड़कियों की कुल संख्या का कितना प्रतिशत है (दशमलव के 2 स्थानों तक पूर्णांकित)?

- Ans
- 1. 1.2863
 - 2. 1.2963
 - 3. 1.2062
 - 4. 1.2662

Q.5 निम्नलिखित तालिका एक परीक्षा में चार विषयों में पाँच विद्यार्थियों द्वारा प्राप्त अंकों का प्रतिशत दर्शाती है।

विद्यार्थी/विषय	विषयों में अंकों का प्रतिशत			
	गणित	भौतिक विज्ञान	रसायन विज्ञान	कंप्यूटर विज्ञान
A	90%	65%	76%	64%
B	67%	93%	55%	56%
C	85%	61%	70%	80%
D	59%	75%	84%	91%
E	94%	48%	99%	99%

कुल कितने विद्यार्थियों ने सभी चार विषयों में 60% से अधिक अंक प्राप्त किये?

- Ans
- 1. 2
 - 2. 3
 - 3. 5
 - 4. 4

Q.6 ₹9,900 पर 3 वर्ष में 9% वार्षिक दर से प्राप्त साधारण ब्याज (₹ में) ज्ञात कीजिए।

- Ans
- 1. 2,512
 - 2. 2,683
 - 3. 2,582
 - 4. 2,673

Q.7 ΔABC में D, BC का मध्य-बिंदु है और G केन्द्रक है। यदि $GD=10$ cm है, तो AD की लंबाई कितनी होगी?

- Ans
- 1. 20 cm
 - 2. 15 cm
 - 3. 30 cm
 - 4. 10 cm

Q.8 2 पुरुषों का एक दिन का कार्य 4 महिलाओं के एक दिन के कार्य या 8 योग्य श्रमिकों के एक दिन के कार्य के बराबर है। 10 योग्य श्रमिक एक कार्य को 8 दिनों में पूरा कर सकते हैं। यदि एक पुरुष, एक महिला और एक योग्य श्रमिक तीन अलग-अलग दिनों में इसी क्रम में कार्य करते हैं, तो कार्य _____ दिनों में समाप्त हो जाएगा।

- Ans
- 1. $\frac{131}{4}$
 - 2. $\frac{166}{5}$
 - 3. $\frac{203}{6}$
 - 4. $\frac{135}{4}$

Q.9 निम्नलिखित संख्याओं का चतुर्थानुपाती ज्ञात कीजिए: 27 का $\frac{1}{3}$, 30 का $\frac{4}{5}$, 35 का $\frac{3}{7}$

- Ans
- 1. 35
 - 2. 45
 - 3. 40
 - 4. 38

Q.10 एक त्रिभुज ABC में, P, BC का मध्यबिंदु है। यदि AB = (2x + 4) cm, AC = 6 cm और AP ⊥ BC है, तो x का मान ज्ञात कीजिए।

- Ans
- 1. 2
 - 2. 3
 - 3. 4
 - 4. 1

Q.11 निम्नलिखित तालिका दिए गए वर्षों में पाँच फार्म A, B, C, D और E द्वारा उत्पादित अंडों की संख्या दर्शाती है।

वर्ष	फार्म				
	A	B	C	D	E
2017	560	418	630	740	580
2018	710	390	460	530	620
2019	845	765	480	515	640
2020	455	555	746	418	545

दिए गए वर्षों में फार्म B द्वारा उत्पादित अंडों की औसत संख्या क्या है?

- Ans
- 1. 540
 - 2. 552
 - 3. 532
 - 4. 575

Q.12 स्थिर जल में एक नाव की गति 6 km/h है और धारा की गति 1.5 km/h है। बिंदु A से बिंदु B तक जाने और बिंदु A पर लौटने में नाविक को 2 घंटे 40 मिनट लगते हैं। बिंदु A और B के बीच की दूरी ज्ञात कीजिए।

- Ans
- 1. 8.5 km
 - 2. 7.5 km
 - 3. 7 km
 - 4. 8 km

Q.13 यदि किसी संख्या के 70% में से 70 घटाया जाए, तो शेषफल 70 आता है। संख्या ज्ञात करें।

- Ans
- 1. 400
 - 2. 100
 - 3. 200
 - 4. 300

Q.14 80 वस्तुओं का विक्रय मूल्य 72 वस्तुओं के क्रय मूल्य के बराबर है। लेन-देन में हुई हानि का प्रतिशत क्या है?

- Ans
- 1. 12%
 - 2. 10%
 - 3. 9%
 - 4. $11\frac{1}{9}\%$

Q.15 छह दिन के सप्ताह के लिए 10 श्रमिकों की मजदूरी ₹1,200 है। एक श्रमिक का एक दिन का वेतन कितना है?

- Ans
- 1. ₹20
 - 2. ₹24
 - 3. ₹28
 - 4. ₹16

Q.16 निम्न में से कौन-सा एक सही सूत्र नहीं है?

- Ans
- 1. $\frac{1 + \tan^2 A}{\tan^2 A} = \sin^2 A$
 - 2. $\sec A \sin A = \tan A$
 - 3. $\operatorname{cosec}^2 A - \cot^2 A = 1$
 - 4. $\cos^2 A \cot^2 A = \cot^2 A - \cos^2 A$

Q.17 $3 + 3^2 + 3^3 + \dots + 3^8$ का योग ज्ञात करें।

- Ans
- 1. 6560
 - 2. 3280
 - 3. 9840
 - 4. 6561

Q.18 यदि गैर-शून्य x के लिए, $7x^2 + 5x + 7 = 0$ है, तो $x^3 + \frac{1}{x^3}$ का मान ज्ञात कीजिए।

- Ans
- 1. $\frac{343}{610}$
 - 2. $\frac{610}{420}$
 - 3. $\frac{420}{343}$
 - 4. $\frac{610}{343}$

Q.19 निम्नलिखित में से कौन-सी संख्या, 11 से विभाज्य है?

- Ans
- 1. 956127
 - 2. 258913
 - 3. 294621
 - 4. 958749

Q.20 एक अर्द्धगोलाकार कटोरे की त्रिज्या 21 cm है। इसे अंदर के साथ-साथ बाहर भी पेंट किया जाना है। ₹0.05 प्रति cm^2 की दर से इसे पेंट करने की लागत की गणना करें, यह मान लें कि कटोरे की मोटाई नगण्य है। ($\pi = \frac{22}{7}$ लें)

- Ans
- 1. ₹188.30
 - 2. ₹388.20
 - 3. ₹277.20
 - 4. ₹410.10

Q.21 एक डीलर विज्ञापन देता है कि वह अपना माल क्रय मूल्य पर बेचता है। लेकिन वह 1 kg वाले भार के लिए 950 gm का उपयोग करता है। उसका लाभ या हानि प्रतिशत ज्ञात कीजिए।

- Ans
- 1. लाभ $\frac{46}{19}\%$
 - 2. लाभ $\frac{100}{19}\%$
 - 3. हानि $\frac{100}{19}\%$
 - 4. हानि $\frac{46}{19}\%$

Q.22 5 लड़कों का औसत वजन 9 kg बढ़ जाता है, जब उनमें से एक, जिसका वजन 39 kg है, को दूसरे लड़के से बदल दिया जाता है। नए लड़के का वजन (kg में) कितना है?

- Ans
- 1. 84
 - 2. 69
 - 3. 70
 - 4. 65

Q.23 25 पर्यटकों का एक समूह एक होटल में 8 दिनों में 5 कंटेनर भोजन का उपभोग करता है। 10 पर्यटकों को 16 दिनों तक खाने के लिए कितने कंटेनरों की आवश्यकता होगी?

- Ans
- 1. 6
 - 2. 4
 - 3. 5
 - 4. 3

Q.24 रीना की मासिक आय ₹75,200 थी और उसका मासिक व्यय ₹22,500 था। अगले वर्ष, उसकी आय में 25% की वृद्धि हुई और उसके व्यय में 14% की वृद्धि हुई। उसकी बचत में प्रतिशत वृद्धि (दो दशमलव स्थान तक पूर्णांकित) ज्ञात कीजिए।

- Ans
- 1. 28.25%
 - 2. 34.80%
 - 3. 29.70%
 - 4. 30.75%

Q.25 10%, 12% और 15% की तीन क्रमिक छूटों के बराबर एक एकल छूट की गणना करें।

- Ans
- 1. 30.87%
 - 2. 33.55%
 - 3. 31.87%
 - 4. 32.68%

Q.1 Parts of the following sentence have been given as options. Select the option that contains an error.

Hiking across an Himalayas is going to be a tough task for a beginner.

- Ans
- 1. an Himalayas is
 - 2. task for a beginner.
 - 3. Hiking across
 - 4. going to be a tough

Q.2 Select the most appropriate ANTONYM of the given word.

Counterfeit

- Ans
- 1. Unreal
 - 2. Fake
 - 3. Authentic
 - 4. Imitation

Q.3 Select the option that expresses the following sentence in passive voice.
The teacher praised the students for their excellent performance.

- Ans
- 1. The students are praised by the teacher for their excellent performance.
 - 2. The students had been praised by the teacher for their excellent performance.
 - 3. The students were praised by the teacher for their excellent performance.
 - 4. The students were being praised by the teacher for their excellent performance.

Q.4 Select the correct option to form a meaningful sentence.

I can't / to / see / of / dogs / rehomed / bear / pictures / rescued / waiting / to be

(a) (b) (c) (d) (e) (f) (g) (h) (i) (j) (k)

- Ans
- 1. a, k, b, h, d, i, j, g, f, c, e
 - 2. a, j, b, c, d, i, e, k, g, f, h
 - 3. a, b, h, i, e, j, k, f, g, c, d
 - 4. a, g, b, c, h, d, i, e, j, k, f

Q.5 Select the correct form of the past tense to fill in the blank.

I _____ a headache earlier, but I feel fine now.

- Ans
- 1. have
 - 2. am having
 - 3. had
 - 4. was having

Q.6 Select the option that can be used as a one-word substitute for the given group of words.

No longer in existence or use

- Ans
- 1. Omnipotent
 - 2. Obscure
 - 3. Outpour
 - 4. Obsolete

Q.7 Select the option that expresses the given sentence in passive voice.
Close the curtains!

- Ans
- 1. Let the curtains be closed!
 - 2. Let the curtains fall close!
 - 3. Let the curtains become closed!
 - 4. Let the curtains be close!

Q.8 Select the option that expresses the given sentence in passive voice.

Would you repair the bike?

- Ans**
- 1. Would have the bike repaired by you?
 - 2. Would the bike repaired by you?
 - 3. Would you be repaired by the bike?
 - 4. Would the bike be repaired by you?

Q.9 Select the option that expresses the given sentence in indirect speech.
The principal said, "A biometric device will be installed from the next week."

- Ans**
- 1. The principal said that a biometric device would be installed from the following week.
 - 2. The principal said that a biometric device will be installed the next week.
 - 3. The principal said that a biometric device would be installed the for following week.
 - 4. The principal said that a biometric device would have been installed the following week.

Q.10 Select the most appropriate meaning of the given idiom.
Break a leg

- Ans**
- 1. Wish good luck
 - 2. Sprain a leg
 - 3. Hurt yourself
 - 4. Wish bad luck

Q.11 Select the sentence that does NOT have a spelling error.

- Ans**
- 1. A vareity of languages are spoken in India.
 - 2. A verity of languages are spoken in India.
 - 3. A variety of languages are spoken in India.
 - 4. A varity of languages are spoken in India.

Q.12 Select the most appropriate meaning of the underlined idiom.
The employees made a noticeable hue and cry to get their demands raised to the board of Directors.

- Ans**
- 1. Celebrate an event
 - 2. Lie lifeless
 - 3. Protest something
 - 4. Participate in sports

Q.13 Select the option that can be used as a one-word substitute for the given group of words.

A person who physically travels in space.

- Ans**
- 1. Pilot
 - 2. Astrologer
 - 3. Anarchist
 - 4. Astronaut

Q.14 Select the INCORRECTLY spelt word.

- Ans**
- 1. Resonate
 - 2. Dependence
 - 3. Integrity
 - 4. Obstain

Q.15 Select the option that can be used as a one-word substitute for the given group of words.

Book written by an author on his own life

- Ans**
- 1. Biography
 - 2. Anthology
 - 3. Historiography
 - 4. Autobiography

Comprehension:

In the following passage, some words have been deleted. Read the passage carefully and select the most appropriate option to fill in each blank.

The road to success is not ___1___; there is a curve called failure, a loop called confusion, speed bumps called friends, caution-lights called family, and you ___2___ have flats called jobs. But ___3___ you have a spark called determination, an engine called perseverance, insurance called faith, and a driver called God, you will make it ___4___ a place called success!

In spite of all our planning and preparation, ___5___ challenges are certain to arise.

SubQuestion No : 16

Q.16

Select the most appropriate option to fill in blank number 1.

- Ans**
- 1. even
 - 2. perpendicular
 - 3. straight
 - 4. parallel

Comprehension:

In the following passage, some words have been deleted. Read the passage carefully and select the most appropriate option to fill in each blank.

The road to success is not ___1___; there is a curve called failure, a loop called confusion, speed bumps called friends, caution-lights called family, and you ___2___ have flats called jobs. But ___3___ you have a spark called determination, an engine called perseverance, insurance called faith, and a driver called God, you will make it ___4___ a place called success!

In spite of all our planning and preparation, ___5___ challenges are certain to arise.

SubQuestion No : 17

Q.17

Select the most appropriate option to fill in blank number 2.

- Ans**
- 1. will
 - 2. dare
 - 3. ought to
 - 4. should

Comprehension:

In the following passage, some words have been deleted. Read the passage carefully and select the most appropriate option to fill in each blank.

The road to success is not ___1___; there is a curve called failure, a loop called confusion, speed bumps called friends, caution-lights called family, and you ___2___ have flats called jobs. But ___3___ you have a spark called determination, an engine called perseverance, insurance called faith, and a driver called God, you will make it ___4___ a place called success!

In spite of all our planning and preparation, ___5___ challenges are certain to arise.

SubQuestion No : 18

Q.18

Select the most appropriate option to fill in blank number 3.

- Ans**
- 1. and
 - 2. whether
 - 3. so
 - 4. if

Comprehension:

In the following passage, some words have been deleted. Read the passage carefully and select the most appropriate option to fill in each blank.

The road to success is not ___1___; there is a curve called failure, a loop called confusion, speed bumps called friends, caution-lights called family, and you ___2___ have flats called jobs. But ___3___ you have a spark called determination, an engine called perseverance, insurance called faith, and a driver called God, you will make it ___4___ a place called success!

In spite of all our planning and preparation, ___5___ challenges are certain to arise.

SubQuestion No : 19**Q.19****Select the most appropriate option to fill in blank number 4.**

- Ans**
- 1. until
 - 2. to
 - 3. although
 - 4. through

Comprehension:

In the following passage, some words have been deleted. Read the passage carefully and select the most appropriate option to fill in each blank.

The road to success is not ___1___; there is a curve called failure, a loop called confusion, speed bumps called friends, caution-lights called family, and you ___2___ have flats called jobs. But ___3___ you have a spark called determination, an engine called perseverance, insurance called faith, and a driver called God, you will make it ___4___ a place called success!

In spite of all our planning and preparation, ___5___ challenges are certain to arise.

SubQuestion No : 20**Q.20****Select the most appropriate option to fill in blank number 5.**

- Ans**
- 1. ungracious
 - 2. unexpected
 - 3. uneasy
 - 4. unsatisfactory

Comprehension:

Read the given passage and answer the questions that follow.

Hunger is an emotive word. Most of us reading this are fortunate to have enough to eat. We find the idea that the other people live in hunger deeply unsettling. Hence, it is also unsettling that the well-publicised 2022 Global Hunger Index has ranked India at 107 out of 121 countries. It has ranked India behind North Korea, Ethiopia, Sudan, Rwanda, Nigeria and Congo. This doesn't seem to make much sense. But people don't really like digging through the actual reports and methodology. They read the headline and comment on that and move on.

The GHI report is jointly released by Concern Worldwide and Welthungerhilfe, non-government organisations from Ireland and Germany, respectively. Both are good organisations with long and reputed track records. The report is a 60-page beautiful PDF document, with its heart in the right place. The formatting and language are perfect. It has beautiful pictures, such as of African farm women holding vegetables.

At the same time, its rankings are highly questionable. Four criteria are used to determine the final index: prevalence of undernourishment, child stunting rate, child wasting rate, and child mortality. Thus, three of the four criteria are related to children. Child stunting rate is defined as the percentage of children that are two standard deviations below the reference height for a 5-year-old. Child wasting rate is defined as the percentage of children that are two standard deviations below the reference weight for a 5-year-old. The argument is that if our children are not tall enough or do not weigh enough, it is an indicator of national hunger. It is in these parameters that India scored poorly, hence the slippage in rank.

The GHI report takes India's data from our own National Family Health Survey 2019-21. This in turn is prepared by the health and family welfare ministry, by surveying a sizable sample of over 61 lakh households. In this 700-plus page survey report also, there is data for India's child stunting and child wasting rates. It says 36% of Indian kids are stunted and 19% of the children are wasted. These are some of the highest values in the world. Plug these into the GHI criteria spreadsheet, India ranks low, behind even North Korea. We are a starving nation!

SubQuestion No : 21**Q.21****Select the correct summary of the given passage.**

- Ans**
- 1. Primarily based on the children's height and weight, the nation's GHI 2022 was calculated, so India's place was 107 which is questionable.
 - 2. Child growth is important though india is trying hard to combat the problem. When it is addressed, India will not be a hunger country
 - 3. The organisations prepared GHI with unquestionable criteria taken all the things into consideration.
 - 4. The GHI report is good with perfect language, but the pictures are not beautiful and colourful.

Comprehension:

Read the given passage and answer the questions that follow.

Hunger is an emotive word. Most of us reading this are fortunate to have enough to eat. We find the idea that the other people live in hunger deeply unsettling. Hence, it is also unsettling that the well-publicised 2022 Global Hunger Index has ranked India at 107 out of 121 countries. It has ranked India behind North Korea, Ethiopia, Sudan, Rwanda, Nigeria and Congo. This doesn't seem to make much sense. But people don't really like digging through the actual reports and methodology. They read the headline and comment on that and move on.

The GHI report is jointly released by Concern Worldwide and Welthungerhilfe, non-government organisations from Ireland and Germany, respectively. Both are good organisations with long and reputed track records. The report is a 60-page beautiful PDF document, with its heart in the right place. The formatting and language are perfect. It has beautiful pictures, such as of African farm women holding vegetables.

At the same time, its rankings are highly questionable. Four criteria are used to determine the final index: prevalence of undernourishment, child stunting rate, child wasting rate, and child mortality. Thus, three of the four criteria are related to children. Child stunting rate is defined as the percentage of children that are two standard deviations below the reference height for a 5-year-old. Child wasting rate is defined as the percentage of children that are two standard deviations below the reference weight for a 5-year-old. The argument is that if our children are not tall enough or do not weigh enough, it is an indicator of national hunger. It is in these parameters that India scored poorly, hence the slippage in rank.

The GHI report takes India's data from our own National Family Health Survey 2019-21. This in turn is prepared by the health and family welfare ministry, by surveying a sizable sample of over 61 lakh households. In this 700-plus page survey report also, there is data for India's child stunting and child wasting rates. It says 36% of Indian kids are stunted and 19% of the children are wasted. These are some of the highest values in the world. Plug these into the GHI criteria spreadsheet, India ranks low, behind even North Korea. We are a starving nation!

SubQuestion No : 22

Q.22 Which of the following CANNOT be accepted by the general public in India regarding GHI?

- Ans**
- 1. 19% of Indian children are wasted.
 - 2. One of the two organisations that prepare GHI is from Ireland.
 - 3. If our children are not tall enough or do not weigh enough, it is an indicator of national hunger.
 - 4. The GHI report takes India's data from our own National Family Health Survey.

Comprehension:

Read the given passage and answer the questions that follow.

Hunger is an emotive word. Most of us reading this are fortunate to have enough to eat. We find the idea that the other people live in hunger deeply unsettling. Hence, it is also unsettling that the well-publicised 2022 Global Hunger Index has ranked India at 107 out of 121 countries. It has ranked India behind North Korea, Ethiopia, Sudan, Rwanda, Nigeria and Congo. This doesn't seem to make much sense. But people don't really like digging through the actual reports and methodology. They read the headline and comment on that and move on.

The GHI report is jointly released by Concern Worldwide and Welthungerhilfe, non-government organisations from Ireland and Germany, respectively. Both are good organisations with long and reputed track records. The report is a 60-page beautiful PDF document, with its heart in the right place. The formatting and language are perfect. It has beautiful pictures, such as of African farm women holding vegetables.

At the same time, its rankings are highly questionable. Four criteria are used to determine the final index: prevalence of undernourishment, child stunting rate, child wasting rate, and child mortality. Thus, three of the four criteria are related to children. Child stunting rate is defined as the percentage of children that are two standard deviations below the reference height for a 5-year-old. Child wasting rate is defined as the percentage of children that are two standard deviations below the reference weight for a 5-year-old. The argument is that if our children are not tall enough or do not weigh enough, it is an indicator of national hunger. It is in these parameters that India scored poorly, hence the slippage in rank.

The GHI report takes India's data from our own National Family Health Survey 2019-21. This in turn is prepared by the health and family welfare ministry, by surveying a sizable sample of over 61 lakh households. In this 700-plus page survey report also, there is data for India's child stunting and child wasting rates. It says 36% of Indian kids are stunted and 19% of the children are wasted. These are some of the highest values in the world. Plug these into the GHI criteria spreadsheet, India ranks low, behind even North Korea. We are a starving nation!

SubQuestion No : 23

Q.23 Which of the following countries is NOT mentioned as better than India in GHI?

- Ans**
- 1. South Africa
 - 2. North Korea
 - 3. Ethiopia
 - 4. Sudan

Comprehension:

Read the given passage and answer the questions that follow.

Hunger is an emotive word. Most of us reading this are fortunate to have enough to eat. We find the idea that the other people live in hunger deeply unsettling. Hence, it is also unsettling that the well-publicised 2022 Global Hunger Index has ranked India at 107 out of 121 countries. It has ranked India behind North Korea, Ethiopia, Sudan, Rwanda, Nigeria and Congo. This doesn't seem to make much sense. But people don't really like digging through the actual reports and methodology. They read the headline and comment on that and move on.

The GHI report is jointly released by Concern Worldwide and Welthungerhilfe, non-government organisations from Ireland and Germany, respectively. Both are good organisations with long and reputed track records. The report is a 60-page beautiful PDF document, with its heart in the right place. The formatting and language are perfect. It has beautiful pictures, such as of African farm women holding vegetables.

At the same time, its rankings are highly questionable. Four criteria are used to determine the final index: prevalence of undernourishment, child stunting rate, child wasting rate, and child mortality. Thus, three of the four criteria are related to children. Child stunting rate is defined as the percentage of children that are two standard deviations below the reference height for a 5-year-old. Child wasting rate is defined as the percentage of children that are two standard deviations below the reference weight for a 5-year-old. The argument is that if our children are not tall enough or do not weigh enough, it is an indicator of national hunger. It is in these parameters that India scored poorly, hence the slippage in rank.

The GHI report takes India's data from our own National Family Health Survey 2019-21. This in turn is prepared by the health and family welfare ministry, by surveying a sizable sample of over 61 lakh households. In this 700-plus page survey report also, there is data for India's child stunting and child wasting rates. It says 36% of Indian kids are stunted and 19% of the children are wasted. These are some of the highest values in the world. Plug these into the GHI criteria spreadsheet, India ranks low, behind even North Korea. We are a starving nation!

SubQuestion No : 24

Q.24 In which country is the organisation Welthungerhilfe based?

- Ans**
- 1. Germany
 - 2. Australia
 - 3. Ireland
 - 4. India

Comprehension:

Read the given passage and answer the questions that follow.

Hunger is an emotive word. Most of us reading this are fortunate to have enough to eat. We find the idea that the other people live in hunger deeply unsettling. Hence, it is also unsettling that the well-publicised 2022 Global Hunger Index has ranked India at 107 out of 121 countries. It has ranked India behind North Korea, Ethiopia, Sudan, Rwanda, Nigeria and Congo. This doesn't seem to make much sense. But people don't really like digging through the actual reports and methodology. They read the headline and comment on that and move on.

The GHI report is jointly released by Concern Worldwide and Welthungerhilfe, non-government organisations from Ireland and Germany, respectively. Both are good organisations with long and reputed track records. The report is a 60-page beautiful PDF document, with its heart in the right place. The formatting and language are perfect. It has beautiful pictures, such as of African farm women holding vegetables.

At the same time, its rankings are highly questionable. Four criteria are used to determine the final index: prevalence of undernourishment, child stunting rate, child wasting rate, and child mortality. Thus, three of the four criteria are related to children. Child stunting rate is defined as the percentage of children that are two standard deviations below the reference height for a 5-year-old. Child wasting rate is defined as the percentage of children that are two standard deviations below the reference weight for a 5-year-old. The argument is that if our children are not tall enough or do not weigh enough, it is an indicator of national hunger. It is in these parameters that India scored poorly, hence the slippage in rank.

The GHI report takes India's data from our own National Family Health Survey 2019-21. This in turn is prepared by the health and family welfare ministry, by surveying a sizable sample of over 61 lakh households. In this 700-plus page survey report also, there is data for India's child stunting and child wasting rates. It says 36% of Indian kids are stunted and 19% of the children are wasted. These are some of the highest values in the world. Plug these into the GHI criteria spreadsheet, India ranks low, behind even North Korea. We are a starving nation!

SubQuestion No : 25

Q.25 Select the tone of the last line 'We are a starving nation!'

- Ans**
- 1. Religious
 - 2. Realistic
 - 3. Ironic
 - 4. Pathetic