

BSF 17 and 18 June 2023

Participant ID	
Participant Name	
Test Center Name	
Test Date	17/06/2023
Test Time	4:30 PM - 6:10 PM
Subject	Head Constable (Ministerial)

Section : English Language

Q.1 Sentences of a paragraph are given below in jumbled order.
Arrange the sentences in the correct order to form a meaningful and coherent paragraph.

- A. He wondered why she had contacted him now.
- B. They were mature adults now – very different people from the youngsters of years ago.
- C. On the one hand, he was curious to see her again; on the other hand, he was not sure if Ellen was the same as he had known in the past.
- D. As Sunday approached, George re-read Ellen's e-mail several times.

- Ans
- 1. ABDC
 - 2. DACB
 - 3. CADB
 - 4. BCAD

Question ID : 630680248846
Option 1 ID : 630680965476
Option 2 ID : 630680965475
Option 3 ID : 630680965477
Option 4 ID : 630680965478
Status : Not Answered
Chosen Option : --

Q.2 Choose the word that is opposite in meaning to the underlined word.

The actor came to the function with disheveled hair.

- Ans
- 1. rumpled
 - 2. slovenly
 - 3. tidy
 - 4. messy

Question ID : 630680179104
Option 1 ID : 630680694510
Option 2 ID : 630680694511
Option 3 ID : 630680694508
Option 4 ID : 630680694509
Status : Not Answered
Chosen Option : --

Q.3 Select the most appropriate synonym of the underlined word in the given sentence.
They have a reputation of being neither industrious nor intelligent.

- Ans
- 1. Tolerant
 - 2. Arrogant
 - 3. Diligent
 - 4. Negligent

Question ID : 63068085778
Option 1 ID : 630680332575
Option 2 ID : 630680332574
Option 3 ID : 630680332573
Option 4 ID : 630680332572
Status : Not Answered
Chosen Option : --

Q.4 Select the most appropriate option that can substitute the underlined segment in the given sentence. If there is no need to substitute it, select 'No substitution'.

She is junior with me by three years.

- Ans
- 1. than
 - 2. No substitution
 - 3. to
 - 4. from

Question ID : 630680248841
Option 1 ID : 630680965456
Option 2 ID : 630680965458
Option 3 ID : 630680965455
Option 4 ID : 630680965457
Status : Not Answered
Chosen Option : --

Q.5 Select the most appropriate option that can substitute the underlined segment in the given sentence. If there is no need to substitute it, select 'No substitution'.

She had briefly reached the finish line when she twisted her ankle.

- Ans
- 1. almost
 - 2. soon
 - 3. No substitution
 - 4. mostly

Question ID : 630680248840
Option 1 ID : 630680965453
Option 2 ID : 630680965452
Option 3 ID : 630680965454
Option 4 ID : 630680965451
Status : Not Answered
Chosen Option : --

Q.6 Select the correct ANTONYM of the given word.

Dissent

- Ans 1. Succumb
 2. Accede
 3. Infer
 4. Retrieve

Question ID : 630680123918
Option 1 ID : 630680480536
Option 2 ID : 630680480534
Option 3 ID : 630680480537
Option 4 ID : 630680480535
Status : Not Answered
Chosen Option : --

Q.7 Parts of a sentence are given below in jumbled order. Arrange the parts in the correct order to form a meaningful sentence.

- A. heat waves occurring over many regions
B. there is a high probability of
C. from March to May
D. of central and adjoining northwest India

- Ans 1. BADC
 2. CDBA
 3. BCDA
 4. CADB

Question ID : 630680248842
Option 1 ID : 630680965460
Option 2 ID : 630680965461
Option 3 ID : 630680965462
Option 4 ID : 630680965459
Status : Not Answered
Chosen Option : --

Q.8 Select the most appropriate option to fill in the blanks.

One day, a spider was weaving his web while the wind was playing a _____. Every time the wind would knock the spider down, he would get up and start again _____. He fell many times but the wind couldn't stop him from climbing back again.

- Ans 1. spoilsport, undeterred
 2. crisis, unmoved
 3. truant, discouraged
 4. havoc, depressed

Question ID : 630680248844
Option 1 ID : 630680965470
Option 2 ID : 630680965467
Option 3 ID : 630680965469
Option 4 ID : 630680965468
Status : Not Answered
Chosen Option : --

Q.9 Select the most appropriate meaning of the given proverb.

To cast pearl before swine

- Ans 1. To offer something valuable to someone who does not understand its value
 2. To give something precious to someone
 3. To offer something to a deserving candidate
 4. To not understand the value of a honest person

Question ID : 63068069397
Option 1 ID : 630680268259
Option 2 ID : 630680268261
Option 3 ID : 630680268260
Option 4 ID : 630680268258
Status : Not Answered
Chosen Option : --

Q.10 What does 'the ball is in your court' mean?

- Ans 1. The decision is up to you
 2. The secret has been revealed to you
 3. Something valuable is in your possession
 4. You have to struggle to achieve your goals

Question ID : 63068084482
Option 1 ID : 630680327480
Option 2 ID : 630680327481
Option 3 ID : 630680327482
Option 4 ID : 630680327483
Status : Not Answered
Chosen Option : --

Q.11 Select the most appropriate option to fill in the blanks.

Renie was _____ for her sportsmanship. Renie's spirit was celebrated by everyone, even by the boys who had teased her. Renie _____ herself to never get affected by anyone's comments.

- Ans 1. challenged, decided
 2. ridiculed, agreed
 3. encouraged, assured
 4. appreciated, promised

Question ID : 630680248843
Option 1 ID : 630680965464
Option 2 ID : 630680965463
Option 3 ID : 630680965465
Option 4 ID : 630680965466
Status : Not Answered
Chosen Option : --

Q.12 Select the option that correctly spells the misspelt word in the sentence.

Beatrice is one of the most delightful and talkative characters of Shakespeare who often speaks her mind without concern about decorum.

- Ans
- 1. decoram
 - 2. charactors
 - 3. talkative
 - 4. deliteful

Question ID : 630680248845
Option 1 ID : 630680965472
Option 2 ID : 630680965474
Option 3 ID : 630680965471
Option 4 ID : 630680965473
Status : Not Answered
Chosen Option : --

Q.13 Select the option that can be used as a one-word substitute for the given group of words.

One who makes maps

- Ans
- 1. Calligrapher
 - 2. Choreographer
 - 3. Curator
 - 4. Cartographer

Question ID : 630680123934
Option 1 ID : 630680480594
Option 2 ID : 630680480596
Option 3 ID : 630680480597
Option 4 ID : 630680480595
Status : Not Answered
Chosen Option : --

Q.14 Select the correctly spelt word.

- Ans
- 1. Ecclesiastical
 - 2. Ecclesiastical
 - 3. Esclesiastical
 - 4. Ecclesiastial

Question ID : 63068067075
Option 1 ID : 630680259131
Option 2 ID : 630680259132
Option 3 ID : 630680259130
Option 4 ID : 630680259133
Status : Not Answered
Chosen Option : --

Q.15 Select the most appropriate option that can substitute the underlined segment in the given sentence.

I make sure that I take my medicines at uniform intervals of time.

- Ans
- 1. usually
 - 2. commonly
 - 3. gradually
 - 4. regularly

Question ID : 63068071549
Option 1 ID : 630680276734
Option 2 ID : 630680276735
Option 3 ID : 630680276736
Option 4 ID : 630680276737
Status : Not Answered
Chosen Option : --

Q.16 Select the option that can be used as a one-word substitute for the given group of words.

A person whose job is to drive people around in a car

- Ans
- 1. Chauffeur
 - 2. Operator
 - 3. Hacker
 - 4. Motorist

Question ID : 630680123935
Option 1 ID : 630680480600
Option 2 ID : 630680480598
Option 3 ID : 630680480601
Option 4 ID : 630680480599
Status : Not Answered
Chosen Option : --

Comprehension:

Read the following information carefully and answer the given questions.

Vedas, meaning "knowledge," were written in Vedic Sanskrit between 1500 and 500 BCE in the northwestern region the Indian Subcontinent. The Vedas were transmitted orally during the course of numerous subsequent generations before finally being archived in written form. Not much is known about the authors of the Vedas, as the focus is placed on the ideas found in Vedic tradition rather than those who originated the ideas. The oldest of the texts is the Rig Veda, and while it is not possible to establish precise dates for each of the ancient texts, it is believed the collection was completed by the end of the 2nd millennium BCE (Before Common Era).

There are four Indo-Aryan Vedas: the Rig Veda contains hymns about their mythology; the Sama Veda consists mainly of hymns about religious rituals; the Yajur Veda contains instructions for religious rituals; and the Atharva Veda consists of spells against enemies, sorcerers, and diseases. (Depending on the source consulted, these are spelled, for example, either Rig Veda or Rigveda.)

The Rig Veda is the largest and considered the most important of the collection, containing 1,028 hymns divided into 10 books called mandalas. The verses of the Sam Veda are taken almost completely from the Rig Veda, but arranged differently so they may be chanted. The Yajur Veda is divided into the White and Black halves and contains prose commentaries on how religious and sacrifices should be performed. The Atharva Veda includes charms and magic incantations written in the style of folklore.

Each Veda was further divided in two sections: the Brahmanas, instructions for religious rituals, and the Samhitas, mantras or hymns in praise of various deities. Modern linguists consider the metrical hymns of the Rigveda Samhita, the most ancient layer of text in the Vedas, to have been composed by many authors over several centuries of oral tradition. Although the focus of the Vedas is on the message rather than the messengers, such as Buddha or Jesus Christ in their respective religions, the Vedic religion still held gods in high regard.

The Aryan pantheon of gods is described in great detail in the Rig Veda. However, the religious practices and deities are not uniformly consistent in these sacred texts, probably because the Aryans themselves were not a homogenous group. While spreading through the Indian Subcontinent, it is probable that their initial religious beliefs and practices were shaped by the absorption of local religious traditions.

According to the hymns of the Rig Veda, the most important deities were Agni, the god of Fire, intermediary between the gods and humans; Indra, the god of Heavens and War, protector of the Aryans against their enemies; Surya, the Sun god; Vayu, the god of Wind; and Prthivi, the goddess of Earth.

SubQuestion No : 17

Q.17 According to the passage, which of the following statements is correct?

- Ans** 1. The main focus has always been on who originated these Vedas.
2. The focus of the Vedas is on the message rather than the messengers.
3. The verses of the Rig Veda are taken from Sama Veda.
4. The Vedas were first transmitted in the written form.

Question ID : 630680248830

Option 1 ID : 630680965412

Option 2 ID : 630680965414

Option 3 ID : 630680965413

Option 4 ID : 630680965411

Status : **Not Answered**

Chosen Option : --

Comprehension:

Read the following information carefully and answer the given questions.

Vedas, meaning "knowledge," were written in Vedic Sanskrit between 1500 and 500 BCE in the northwestern region the Indian Subcontinent. The Vedas were transmitted orally during the course of numerous subsequent generations before finally being archived in written form. Not much is known about the authors of the Vedas, as the focus is placed on the ideas found in Vedic tradition rather than those who originated the ideas. The oldest of the texts is the Rig Veda, and while it is not possible to establish precise dates for each of the ancient texts, it is believed the collection was completed by the end of the 2nd millennium BCE (Before Common Era).

There are four Indo-Aryan Vedas: the Rig Veda contains hymns about their mythology; the Sama Veda consists mainly of hymns about religious rituals; the Yajur Veda contains instructions for religious rituals; and the Atharva Veda consists of spells against enemies, sorcerers, and diseases. (Depending on the source consulted, these are spelled, for example, either Rig Veda or Rigveda.)

The Rig Veda is the largest and considered the most important of the collection, containing 1,028 hymns divided into 10 books called mandalas. The verses of the Sam Veda are taken almost completely from the Rig Veda, but arranged differently so they may be chanted. The Yajur Veda is divided into the White and Black halves and contains prose commentaries on how religious and sacrifices should be performed. The Atharva Veda includes charms and magic incantations written in the style of folklore.

Each Veda was further divided in two sections: the Brahmanas, instructions for religious rituals, and the Samhitas, mantras or hymns in praise of various deities. Modern linguists consider the metrical hymns of the Rigveda Samhita, the most ancient layer of text in the Vedas, to have been composed by many authors over several centuries of oral tradition. Although the focus of the Vedas is on the message rather than the messengers, such as Buddha or Jesus Christ in their respective religions, the Vedic religion still held gods in high regard.

The Aryan pantheon of gods is described in great detail in the Rig Veda. However, the religious practices and deities are not uniformly consistent in these sacred texts, probably because the Aryans themselves were not a homogenous group. While spreading through the Indian Subcontinent, it is probable that their initial religious beliefs and practices were shaped by the absorption of local religious traditions.

According to the hymns of the Rig Veda, the most important deities were Agni, the god of Fire, intermediary between the gods and humans; Indra, the god of Heavens and War, protector of the Aryans against their enemies; Surya, the Sun god; Vayu, the god of Wind; and Prthivi, the goddess of Earth.

SubQuestion No : 18

Q.18 All the given statements regarding Rig Veda is correct EXCEPT:

- Ans**
- 1. It is divided into 10 books called mandalas.
 - 2. The Rig Veda is considered to be the most important collection of hymns.
 - 3. It is not possible to establish the precise date of its origin.
 - 4. It is divided into the White and Black halves.

Question ID : 630680248831

Option 1 ID : 630680965418

Option 2 ID : 630680965416

Option 3 ID : 630680965415

Option 4 ID : 630680965417

Status : Not Answered

Chosen Option : --

Comprehension:

Read the following information carefully and answer the given questions.

Vedas, meaning "knowledge," were written in Vedic Sanskrit between 1500 and 500 BCE in the northwestern region the Indian Subcontinent. The Vedas were transmitted orally during the course of numerous subsequent generations before finally being archived in written form. Not much is known about the authors of the Vedas, as the focus is placed on the ideas found in Vedic tradition rather than those who originated the ideas. The oldest of the texts is the Rig Veda, and while it is not possible to establish precise dates for each of the ancient texts, it is believed the collection was completed by the end of the 2nd millennium BCE (Before Common Era).

There are four Indo-Aryan Vedas: the Rig Veda contains hymns about their mythology; the Sama Veda consists mainly of hymns about religious rituals; the Yajur Veda contains instructions for religious rituals; and the Atharva Veda consists of spells against enemies, sorcerers, and diseases. (Depending on the source consulted, these are spelled, for example, either Rig Veda or Rigveda.)

The Rig Veda is the largest and considered the most important of the collection, containing 1,028 hymns divided into 10 books called mandalas. The verses of the Sam Veda are taken almost completely from the Rig Veda, but arranged differently so they may be chanted. The Yajur Veda is divided into the White and Black halves and contains prose commentaries on how religious and sacrifices should be performed. The Atharva Veda includes charms and magic incantations written in the style of folklore.

Each Veda was further divided in two sections: the Brahmanas, instructions for religious rituals, and the Samhitas, mantras or hymns in praise of various deities. Modern linguists consider the metrical hymns of the Rigveda Samhita, the most ancient layer of text in the Vedas, to have been composed by many authors over several centuries of oral tradition. Although the focus of the Vedas is on the message rather than the messengers, such as Buddha or Jesus Christ in their respective religions, the Vedic religion still held gods in high regard.

The Aryan pantheon of gods is described in great detail in the Rig Veda. However, the religious practices and deities are not uniformly consistent in these sacred texts, probably because the Aryans themselves were not a homogenous group. While spreading through the Indian Subcontinent, it is probable that their initial religious beliefs and practices were shaped by the absorption of local religious traditions.

According to the hymns of the Rig Veda, the most important deities were Agni, the god of Fire, intermediary between the gods and humans; Indra, the god of Heavens and War, protector of the Aryans against their enemies; Surya, the Sun god; Vayu, the god of Wind; and Prthivi, the goddess of Earth.

SubQuestion No : 19

Q.19 What is the synonym of the word-'ancient' as used in the passage?

- Ans**
- 1. Juvenile
 - 2. Unfamiliar
 - 3. Venerable
 - 4. Minor

Question ID : 630680248832

Option 1 ID : 630680965419

Option 2 ID : 630680965422

Option 3 ID : 630680965420

Option 4 ID : 630680965421

Status : Not Answered

Chosen Option : --

Comprehension:

Read the following information carefully and answer the given questions.

Vedas, meaning "knowledge," were written in Vedic Sanskrit between 1500 and 500 BCE in the northwestern region the Indian Subcontinent. The Vedas were transmitted orally during the course of numerous subsequent generations before finally being archived in written form. Not much is known about the authors of the Vedas, as the focus is placed on the ideas found in Vedic tradition rather than those who originated the ideas. The oldest of the texts is the Rig Veda, and while it is not possible to establish precise dates for each of the ancient texts, it is believed the collection was completed by the end of the 2nd millennium BCE (Before Common Era).

There are four Indo-Aryan Vedas: the Rig Veda contains hymns about their mythology; the Sama Veda consists mainly of hymns about religious rituals; the Yajur Veda contains instructions for religious rituals; and the Atharva Veda consists of spells against enemies, sorcerers, and diseases. (Depending on the source consulted, these are spelled, for example, either Rig Veda or Rigveda.)

The Rig Veda is the largest and considered the most important of the collection, containing 1,028 hymns divided into 10 books called mandalas. The verses of the Sam Veda are taken almost completely from the Rig Veda, but arranged differently so they may be chanted. The Yajur Veda is divided into the White and Black halves and contains prose commentaries on how religious and sacrifices should be performed. The Atharva Veda includes charms and magic incantations written in the style of folklore.

Each Veda was further divided in two sections: the Brahmanas, instructions for religious rituals, and the Samhitas, mantras or hymns in praise of various deities. Modern linguists consider the metrical hymns of the Rigveda Samhita, the most ancient layer of text in the Vedas, to have been composed by many authors over several centuries of oral tradition. Although the focus of the Vedas is on the message rather than the messengers, such as Buddha or Jesus Christ in their respective religions, the Vedic religion still held gods in high regard.

The Aryan pantheon of gods is described in great detail in the Rig Veda. However, the religious practices and deities are not uniformly consistent in these sacred texts, probably because the Aryans themselves were not a homogenous group. While spreading through the Indian Subcontinent, it is probable that their initial religious beliefs and practices were shaped by the absorption of local religious traditions.

According to the hymns of the Rig Veda, the most important deities were Agni, the god of Fire, intermediary between the gods and humans; Indra, the god of Heavens and War, protector of the Aryans against their enemies; Surya, the Sun god; Vayu, the god of Wind; and Prthivi, the goddess of Earth.

SubQuestion No : 20

Q.20 The Atharva Veda consists of:

- Ans**
- 1. Instructions related to various sacrifice rituals.
 - 2. Hymns about their mythology
 - 3. Spells against enemies, sorcerers, and diseases.
 - 4. Hymns about religious rituals.

Question ID : 630680248829

Option 1 ID : 630680965407

Option 2 ID : 630680965410

Option 3 ID : 630680965408

Option 4 ID : 630680965409

Status : **Not Answered**

Chosen Option : --

Section : Hindi Language

Q.1 निम्नलिखित में से कौन सा शब्द तद्भव है?

- Ans 1. बिंदु
 2. बहन
 3. बाहु
 4. बंधन

Question ID : 630680248822
Option 1 ID : 630680965386
Option 2 ID : 630680965383
Option 3 ID : 630680965385
Option 4 ID : 630680965384
Status : Answered
Chosen Option : 4

Q.2 'पावक' का सही संधि-विच्छेद रूप चुनिए।

- Ans 1. पा+वक
 2. पौ+वक
 3. पा+अंक
 4. पौ+अक

Question ID : 63068071815
Option 1 ID : 630680277730
Option 2 ID : 630680277731
Option 3 ID : 630680277732
Option 4 ID : 630680277733
Status : Answered
Chosen Option : 4

Q.3 निम्नलिखित विकल्पों में से कौनसा विकल्प 'अंतरंग' शब्द का विलोम शब्द है?

- Ans 1. बदरंग
 2. सतरंगी
 3. बहिरंग
 4. नारंगी

Question ID : 630680123244
Option 1 ID : 630680477867
Option 2 ID : 630680477868
Option 3 ID : 630680477866
Option 4 ID : 630680477869
Status : Answered
Chosen Option : 3

Q.4 'अपनी नींद सोना, अपनी नींद जगना' लोकोक्ति का अर्थ निम्न में से होगा-

- Ans 1. निकम्मा होना
 2. बेपरवाह होना
 3. पूर्ण स्वतंत्र होना
 4. स्वार्थी होना

Question ID : 630680123585
Option 1 ID : 630680479225
Option 2 ID : 630680479223
Option 3 ID : 630680479222
Option 4 ID : 630680479224
Status : Answered
Chosen Option : 3

Q.5 'श्रमदान' का सही समास विग्रह क्या है?

- Ans 1. श्रम के लिए दान
 2. श्रम से दान
 3. श्रम का दान
 4. श्रम को दान

Question ID : 630680248827
Option 1 ID : 630680965406
Option 2 ID : 630680965405
Option 3 ID : 630680965403
Option 4 ID : 630680965404
Status : Answered
Chosen Option : 3

Q.6 'दिन दूनी रात चौगुनी प्रगति हो रही है।' वाक्य के रेखांकित अंशों में संख्यावाचक विशेषण का कौन सा प्रकार है?

- Ans 1. आवृत्तिवाचक
 2. गणनावाचक
 3. क्रमवाचक
 4. समुदायवाचक

Question ID : 630680248825
Option 1 ID : 630680965397
Option 2 ID : 630680965395
Option 3 ID : 630680965396
Option 4 ID : 630680965398
Status : Answered
Chosen Option : 4

Q.7 'स्वर्गप्राप्त' में कौन सा समास है?

- Ans 1. करणतत्पुरुष
 2. कर्मतत्पुरुष
 3. अपादान तत्पुरुष
 4. सम्प्रदान तत्पुरुष

Question ID : 630680162638

Option 1 ID : 630680629848

Option 2 ID : 630680629849

Option 3 ID : 630680629851

Option 4 ID : 630680629850

Status : Answered

Chosen Option : 4

Q.8 'कनक' का अनेकार्थी शब्द नहीं है-

- Ans 1. रेणु
 2. गेहूँ
 3. सोना
 4. धतूरा

Question ID : 630680146090

Option 1 ID : 630680565251

Option 2 ID : 630680565250

Option 3 ID : 630680565253

Option 4 ID : 630680565252

Status : Answered

Chosen Option : 1

Q.9 निम्नलिखित में से 'गरल' का विलोम शब्द है -

- Ans 1. जल
 2. सुधा
 3. विष
 4. ठण्डा

Question ID : 63068056140

Option 1 ID : 630680216553

Option 2 ID : 630680216552

Option 3 ID : 630680216551

Option 4 ID : 630680216550

Status : Answered

Chosen Option : 2

Q.10 कौन सा विकल्प 'वात-बात' युग्म का सही अर्थ-युग्म है?

- Ans 1. हवा - रोग
 2. हवा - वचन
 3. वचन - हवा
 4. रोग - वचन

Question ID : 630680248823
Option 1 ID : 630680965389
Option 2 ID : 630680965388
Option 3 ID : 630680965387
Option 4 ID : 630680965390
Status : Answered
Chosen Option : 2

Q.11 'रामकहानी' में कौन सा समास है?

- Ans 1. अव्ययीभाव
 2. तत्पुरुष
 3. द्वंद्व
 4. द्विगु

Question ID : 630680248826
Option 1 ID : 630680965402
Option 2 ID : 630680965401
Option 3 ID : 630680965399
Option 4 ID : 630680965400
Status : Answered
Chosen Option : 2

Q.12 आधी-अधूरी इच्छा से किया गया कार्य कभी पूर्ण नहीं होता है। इस वाक्य में 'इच्छा' का प्रयोग किया गया है। निम्नलिखित में से जो शब्द इसका पर्यायवची नहीं है उसका चयन कीजिए--

- Ans 1. मोह
 2. ईप्सा
 3. अभिलाषा
 4. चाह

Question ID : 630680111332
Option 1 ID : 630680431157
Option 2 ID : 630680431154
Option 3 ID : 630680431155
Option 4 ID : 630680431156
Status : Answered
Chosen Option : 2

Q.13 निम्नलिखित वाक्यांश के लिए सार्थक शब्द का चयन कीजिए-
जो विधि या कानून के विरुद्ध हो

- Ans 1. वैदिक
 2. विधिवान
 3. अवैध
 4. विरुद्धवाद

Question ID : 63068055601
Option 1 ID : 630680214417
Option 2 ID : 630680214414
Option 3 ID : 630680214415
Option 4 ID : 630680214416
Status : Answered
Chosen Option : 3

Q.14 'भयंकर' का सही संधि-विच्छेद रूप नीचे दिए विकल्पों में से चुनिए।

- Ans 1. भय+कर
 2. भयन्+कर
 3. भयंकर
 4. भयम्+कर

Question ID : 63068071821
Option 1 ID : 630680277754
Option 2 ID : 630680277756
Option 3 ID : 630680277757
Option 4 ID : 630680277755
Status : Answered
Chosen Option : 4

Q.15 'बिल्ली छत _____ चढ़ रही है।' -वाक्य के रिक्त स्थान की पूर्ति के लिए उचित कारक का चयन करें-

- Ans 1. को
 2. पर
 3. में
 4. से

Question ID : 630680248824
Option 1 ID : 630680965392
Option 2 ID : 630680965393
Option 3 ID : 630680965391
Option 4 ID : 630680965394
Status : Answered
Chosen Option : 2

Q.16 मुहावरा 'अंधे को दिया दिखाना' का उचित अर्थ क्या होगा?

- Ans
- 1. अंधा होना
 - 2. सहायता करना
 - 3. सत्य को न पहचानना
 - 4. व्यर्थ कार्य करना

Question ID : 630680148276

Option 1 ID : 630680573778

Option 2 ID : 630680573777

Option 3 ID : 630680573779

Option 4 ID : 630680573776

Status : Answered

Chosen Option : 4

Comprehension:

नगर हमारा प्राकृतिक निवास-स्थान नहीं है। मनुष्य की काम-धंधे की आवश्यकताओं एवं इच्छाओं से हमने नगरों में निवास कर लिया है। परमात्मा की यह इच्छा कदापि नहीं थी कि हम विश्व में आकर ईंट, लकड़ी तथा पत्थरों की गोदी में पलकर मनुष्य बनें। हमारे कार्यालयों तथा नगरों के साथ फल, फूल, पत्ते, चाँद, सूरज आदि का कदापि कोई संबंध नहीं है। यह नगर हमें रस से परिपूर्ण प्रकृति की गोदी से छीनकर अपने तपे हुए पेट में डालकर पचा डालते हैं एवं झुलसा देते हैं। परंतु जिन व्यक्तियों को इनमें रहने का स्वभाव पड़ गया है और जो सदा व्यापार के नशे में लीन रहते हैं वे धीरे-धीरे अपने वास्तविक स्वभाव तथा अपनी प्रकृति को नष्ट करके इस विशाल जगत से पृथक् होते चले जाते हैं।

SubQuestion No : 17

Q.17 गद्यांश से हमें संदेश मिलता है-

- Ans
- 1. पर्यावरण संरक्षण का
 - 2. नगरों में सुख-सुविधा जुटाने का
 - 3. वृक्षारोपण का
 - 4. प्रकृति के निकट रहने का

Question ID : 630680127831

Option 1 ID : 630680495480

Option 2 ID : 630680495481

Option 3 ID : 630680495483

Option 4 ID : 630680495482

Status : Answered

Chosen Option : 4

Comprehension:

नगर हमारा प्राकृतिक निवास-स्थान नहीं है। मनुष्य की काम-धंधे की आवश्यकताओं एवं इच्छाओं से हमने नगरों में निवास कर लिया है। परमात्मा की यह इच्छा कदापि नहीं थी कि हम विश्व में आकर ईंट, लकड़ी तथा पत्थरों की गोदी में पलकर मनुष्य बनें। हमारे कार्यालयों तथा नगरों के साथ फल, फूल, पत्ते, चाँद, सूरज आदि का कदापि कोई संबंध नहीं है। यह नगर हमें रस से परिपूर्ण प्रकृति की गोदी से छीनकर अपने तपे हुए पेट में डालकर पचा डालते हैं एवं झुलसा देते हैं। परंतु जिन व्यक्तियों को इनमें रहने का स्वभाव पड़ गया है और जो सदा व्यापार के नशे में लीन रहते हैं वे धीरे-धीरे अपने वास्तविक स्वभाव तथा अपनी प्रकृति को नष्ट करके इस विशाल जगत से पृथक् होते चले जाते हैं।

SubQuestion No : 18

Q.18 'जो सदा व्यापार के नशे में लीन रहते हैं' वे-

- Ans 1. विशाल जगत से पृथक् होते जाते हैं
 2. प्रकृति से प्रेम करते हैं
 3. अपने को झुलसा देते हैं
 4. प्रकृति को नष्ट करते हैं

Question ID : 630680127830

Option 1 ID : 630680495479

Option 2 ID : 630680495477

Option 3 ID : 630680495478

Option 4 ID : 630680495476

Status : Answered

Chosen Option : 1

Comprehension:

नगर हमारा प्राकृतिक निवास-स्थान नहीं है। मनुष्य की काम-धंधे की आवश्यकताओं एवं इच्छाओं से हमने नगरों में निवास कर लिया है। परमात्मा की यह इच्छा कदापि नहीं थी कि हम विश्व में आकर ईंट, लकड़ी तथा पत्थरों की गोदी में पलकर मनुष्य बनें। हमारे कार्यालयों तथा नगरों के साथ फल, फूल, पत्ते, चाँद, सूरज आदि का कदापि कोई संबंध नहीं है। यह नगर हमें रस से परिपूर्ण प्रकृति की गोदी से छीनकर अपने तपे हुए पेट में डालकर पचा डालते हैं एवं झुलसा देते हैं। परंतु जिन व्यक्तियों को इनमें रहने का स्वभाव पड़ गया है और जो सदा व्यापार के नशे में लीन रहते हैं वे धीरे-धीरे अपने वास्तविक स्वभाव तथा अपनी प्रकृति को नष्ट करके इस विशाल जगत से पृथक् होते चले जाते हैं।

SubQuestion No : 19

Q.19 नगरों में निवास का कारण है-

- Ans 1. काम-धंधे की आवश्यकता
 2. प्रकृति से दूरी
 3. वास्तविक स्वभाव
 4. परमात्मा की इच्छा

Question ID : 630680127829

Option 1 ID : 630680495474

Option 2 ID : 630680495475

Option 3 ID : 630680495473

Option 4 ID : 630680495472

Status : Answered

Chosen Option : 1

Comprehension:

नगर हमारा प्राकृतिक निवास-स्थान नहीं है। मनुष्य की काम-धंधे की आवश्यकताओं एवं इच्छाओं से हमने नगरों में निवास कर लिया है। परमात्मा की यह इच्छा कदापि नहीं थी कि हम विश्व में आकर ईंट, लकड़ी तथा पत्थरों की गोदी में पलकर मनुष्य बनें। हमारे कार्यालयों तथा नगरों के साथ फल, फूल, पत्ते, चाँद, सूरज आदि का कदापि कोई संबंध नहीं है। यह नगर हमें रस से परिपूर्ण प्रकृति की गोदी से छीनकर अपने तपे हुए पेट में डालकर पचा डालते हैं एवं झुलसा देते हैं। परंतु जिन व्यक्तियों को इनमें रहने का स्वभाव पड़ गया है और जो सदा व्यापार के नशे में लीन रहते हैं वे धीरे-धीरे अपने वास्तविक स्वभाव तथा अपनी प्रकृति को नष्ट करके इस विशाल जगत से पृथक् होते चले जाते हैं।

SubQuestion No : 20

Q.20 गद्यांश में मानव का प्राकृतिक निवास-स्थान किसे बताया गया है?

- Ans
- 1. ईंट, पत्थर और लकड़ी की गोद
 - 2. कार्यालय
 - 3. नगर
 - 4. प्रकृति की गोद

Question ID : 630680127828

Option 1 ID : 630680495470

Option 2 ID : 630680495471

Option 3 ID : 630680495469

Option 4 ID : 630680495468

Status : Answered

Chosen Option : 4

Section : General Intelligence

Q.1 निम्नलिखित में शब्दों के युग्म हैं जो एक निश्चित तरीके से एक दूसरे से संबंधित हैं। निम्नलिखित चार शब्द युग्मों में से तीन एकसमान हैं क्योंकि इनके मध्य का संबंध समान है और इस प्रकार वे एक समूह बनाते हैं। वह कौन-सा शब्द युग्म है जो उस समूह से संबंधित नहीं है?

- Ans
- 1. उच्च-निम्न
 - 2. गर्म-ठंडा
 - 3. अमीर-गरीब
 - 4. चाय-कॉफी

Question ID : 630680119993

Option 1 ID : 630680465014

Option 2 ID : 630680465015

Option 3 ID : 630680465016

Option 4 ID : 630680465017

Status : Answered

Chosen Option : 4

Q.2 दिए गए कथनों और निष्कर्षों को ध्यानपूर्वक पढ़ें। यह मानते हुए कि कथनों में दी गई जानकारी सत्य है, भले ही यह सामान्य रूप से ज्ञात तथ्यों से भिन्न प्रतीत होती हो, तय करें कि दिए गए निष्कर्षों में से कौन-सा/से निष्कर्ष, कथनों का तार्किक रूप से अनुसरण करता है/करते हैं।

कथन:

कोई भी संगीतकार, वास्तुकार नहीं है।

सभी क्रिकेटर, संगीतकार हैं।

सभी खिलाड़ी, वास्तुकार हैं।

निष्कर्ष:

I. कुछ वास्तुकार, क्रिकेटर हैं।

II. कोई खिलाड़ी, क्रिकेटर नहीं है।

III. कोई संगीतकार, खिलाड़ी नहीं है।

- Ans
- 1. I और II दोनों निष्कर्ष अनुसरण करते हैं।
 - 2. II और III दोनों निष्कर्ष अनुसरण करते हैं।
 - 3. I और III दोनों निष्कर्ष अनुसरण करते हैं।
 - 4. निष्कर्ष I, II और III अनुसरण करते हैं।

Question ID : 630680248908

Option 1 ID : 630680965723

Option 2 ID : 630680965725

Option 3 ID : 630680965724

Option 4 ID : 630680965726

Status : Answered

Chosen Option : 2

Q.3 किसी निश्चित कूट में, यदि '&' का अर्थ 'जोड़ना' है, '#' का अर्थ 'गुणा' है, '@' का अर्थ 'भाग' है और '\$' का अर्थ 'घटाना' है, तो निम्नलिखित समीकरण का मान ज्ञात कीजिए।

$$45 \& 35 \$ (14 \# 7) \& 63 @ 9 \# 5 \$ (14 \$ 11) = ?$$

- Ans
- 1. 17
 - 2. 27
 - 3. 11
 - 4. 14

Question ID : 630680248910

Option 1 ID : 630680965731

Option 2 ID : 630680965734

Option 3 ID : 630680965733

Option 4 ID : 630680965732

Status : Answered

Chosen Option : 4

Q.4 A, B, C, D, E और F नामक छ बॉक्स एक के ऊपर एक रखे गए हैं, लेकिन यह जरूरी नहीं कि वे इसी क्रम में हों। बॉक्स-A को बॉक्स-F के ठीक ऊपर रखा गया है। बॉक्स-E के नीचे केवल एक बॉक्स रखा गया है। बॉक्स-F के ऊपर केवल दो बॉक्स रखे गए हैं। बॉक्स-F और बॉक्स-E के बीच केवल बॉक्स-C रखा गया है। बॉक्स-D को बॉक्स-E के ठीक नीचे नहीं रखा गया है। कौन-सा बॉक्स सबसे ऊपर रखा गया है?

- Ans 1. A
 2. C
 3. B
 4. D

Question ID : 630680248907

Option 1 ID : 630680965722

Option 2 ID : 630680965719

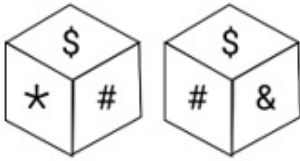
Option 3 ID : 630680965720

Option 4 ID : 630680965721

Status : Answered

Chosen Option : 3

Q.5 एक पासे के अलग-अलग फलकों पर छः प्रतीक @, #, \$, ^, & और * लिखे गए हैं। इस पासे की तीन अलग-अलग स्थितियाँ दिखाई गई हैं। उस प्रतीक का चयन कीजिए, जो * प्रतीक वाले फलक के विपरीत फलक पर होगा।



- Ans 1. &
 2. ^
 3. #
 4. @

Question ID : 630680149205

Option 1 ID : 630680577091

Option 2 ID : 630680577089

Option 3 ID : 630680577088

Option 4 ID : 630680577090

Status : Answered

Chosen Option : 1

Q.6 दिए गए विकल्पों में से वह संख्या चुनिए जो निम्नलिखित श्रृंखला में प्रश्नवाचक चिन्ह (?) को प्रतिस्थापित कर सकती है।

198, 149, 113, 88, ?

- Ans 1. 74
 2. 68
 3. 72
 4. 70

Question ID : 63068058900

Option 1 ID : 630680227222

Option 2 ID : 630680227223

Option 3 ID : 630680227225

Option 4 ID : 630680227224

Status : Answered

Chosen Option : 3

Q.7 संख्याओं और प्रतीकों के एक समूह को नीचे दिए गए कूट और उसके बाद दी गई शर्तों के अनुसार अक्षर कूट का उपयोग करके कूटबद्ध किया जाता है। दिए गए कूट और शर्तों का अध्ययन करें और निम्नलिखित प्रश्न का उत्तर दें।

संख्या/प्रतीक	4	\$	5	6	*	#	3	%	@	8	&	9	*	7
कूट	R	W	E	P	J	H	L	N	B	C	F	U	T	M

शर्तें – (i) यदि दूसरा अवयव और अंतिम अवयव पूर्ण वर्ग हैं, तो दूसरे और अंतिम अवयवों को © के रूप में कूटबद्ध किया जाना है।

(ii) यदि पहला अवयव एक प्रतीक है और चौथा अवयव एक संख्या है, तो पहले अवयव को चौथे अवयव के कूट के रूप में कूटबद्ध किया जाना है।

(iii) यदि दूसरा और तीसरा दोनों अवयव प्रतीक हैं, तो इन दोनों (दूसरे और तीसरे अवयवों) के कूट आपस में बदलने होंगे।

निम्नलिखित समूह के लिए कूट क्या होगा?

7 \$ @ 5 4

- Ans
- 1. M © B E ©
 - 2. M B F E R
 - 3. R W B E R
 - 4. M B W E R

Question ID : 630680179089

Option 1 ID : 630680694451

Option 2 ID : 630680694448

Option 3 ID : 630680694449

Option 4 ID : 630680694450

Status : Answered

Chosen Option : 4

Q.8 इस प्रश्न में, एक कथन के बाद दो निष्कर्ष दिए गए हैं। निर्णय करें कि दोनों में से कौन-सा/से निष्कर्ष सही है/हैं?

कथन: $W < T = X \leq J > S = U > B$

निष्कर्ष:

I. $T < U$

II. $S > X$

- Ans
- 1. केवल निष्कर्ष II सही है
 - 2. केवल निष्कर्ष I सही है
 - 3. न तो निष्कर्ष I और न ही निष्कर्ष II सही है
 - 4. निष्कर्ष I और II दोनों सही हैं

Question ID : 630680157473

Option 1 ID : 630680609421

Option 2 ID : 630680609420

Option 3 ID : 630680609423

Option 4 ID : 630680609422

Status : Answered

Chosen Option : 3

Q.9 दिए गए विकल्पों में से अक्षरांकीय-समूह का चयन कीजिए जो निम्नलिखित श्रृंखला में प्रश्न चिह्न (?) को प्रतिस्थापित कर सकता है।
ZX1121, VT1242, RP1363, ?

- Ans 1. LK1548
 2. ML1648
 3. JL1248
 4. NL1484

Question ID : 63068048839

Option 1 ID : 630680187904

Option 2 ID : 630680187903

Option 3 ID : 630680187905

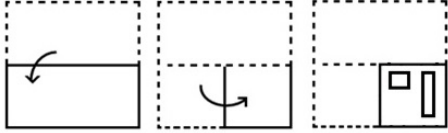
Option 4 ID : 630680187902

Status : Answered

Chosen Option : 4

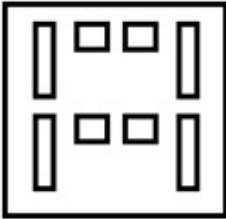
Q.10 नीचे दी गई आकृतियों में कागज के एक टुकड़े को मोड़ने का क्रम और मुड़े हुए कागज को काटने का तरीका

दर्शाया गया है। कागज खुलने पर यह कैसा दिखेगा?

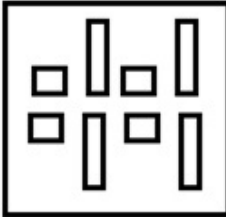


Ans

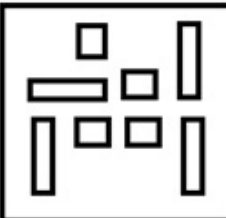
✗ 1.



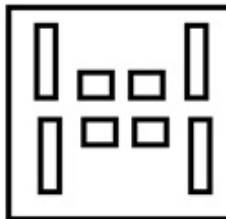
✗ 2.



✗ 3.



✓ 4.



Question ID : 630680179112

Option 1 ID : 630680694543

Option 2 ID : 630680694540

Option 3 ID : 630680694542

Option 4 ID : 630680694541

Status : Answered

Chosen Option : 4

Q.11 E, L, A, R और G अक्षरों का प्रयोग करके अंग्रेजी के कम-से-कम चार अक्षरों वाले कितने अर्थपूर्ण शब्द बनाए जा सकते हैं, यदि प्रत्येक शब्द में हर अक्षर का केवल एक बार प्रयोग किया जाए?

- Ans 1. दो
 2. तीन से अधिक
 3. एक
 4. तीन

Question ID : 630680146705

Option 1 ID : 630680567660

Option 2 ID : 630680567659

Option 3 ID : 630680567658

Option 4 ID : 630680567661

Status : Answered

Chosen Option : 2

Q.12 तीन कथन I, II और III दिए गए हैं। कथनों में सभी बातों को सत्य मानते हुए, इन कथनों के बीच कारण और प्रभाव संबंध निर्धारित करें और तय करें कि कौन सा/से कथन कारण है/हैं और कौन सा/से कथन प्रभाव है/हैं।

कथन:

- I. मोटापे से, मधुमेह और इसी तरह की अन्य बीमारियों के मामले बढ़ रहे हैं।
II. फास्ट फूड में प्रतिऑक्सीकारक भी बहुत कम होते हैं और इनमें फाइबर भी कम होता है।
III. फास्ट फूड में शर्करा, नमक, प्रसंस्कृत सामग्री और ट्रांस-फैट अधिक होता है।

- Ans 1. कथन I और II कारण हैं और कथन III प्रभाव है।
 2. कथन I प्रभाव है और कथन II और III इसके कारण हैं।
 3. कथनों के बीच कोई कारण और प्रभाव संबंध मौजूद नहीं है।
 4. कथन I कारण है और कथन II और III इसके प्रभाव हैं।

Question ID : 630680248909

Option 1 ID : 630680965729

Option 2 ID : 630680965728

Option 3 ID : 630680965730

Option 4 ID : 630680965727

Status : Answered

Chosen Option : 2

Q.13 उस विकल्प का चयन कीजिए जो दिए गए संयोजन के दर्पण में निर्मित प्रतिबिंब से सर्वाधिक मिलता जुलता हो।



- Ans 1. 7 8 4 3 9
 2. 7 8 4 3 9
 3. 9 8 4 3 7
 4. 9 4 3 8 7

Question ID : 630680179110

Option 1 ID : 630680694533

Option 2 ID : 630680694535

Option 3 ID : 630680694534

Option 4 ID : 630680694532

Status : Answered

Chosen Option : 2

Q.14 दिए गए कथनों और निष्कर्षों को ध्यानपूर्वक पढ़िए। यह मानते हुए कि कथनों में दी गई सूचना सत्य है, भले ही यह सामान्यतः ज्ञात तथ्यों से भिन्न प्रतीत होती हो, निर्णय कीजिए कि दिए गए निष्कर्षों में से कौन सा/से निष्कर्ष कथनों का तार्किक रूप से अनुसरण करता/करते है/हैं।

कथन:

- A. कुछ मछलियाँ, पक्षी हैं।
B. कोई बिल्ली, पक्षी नहीं है।

निष्कर्ष:

- I. कोई पक्षी, बिल्ली नहीं है।
II. कुछ पक्षी, मछलियाँ हैं।

- Ans 1. दोनों निष्कर्ष अनुसरण करते हैं।
 2. केवल निष्कर्ष II अनुसरण करता है।
 3. कोई भी निष्कर्ष अनुसरण नहीं करता है।
 4. केवल निष्कर्ष I अनुसरण करता है।

Question ID : 630680179123

Option 1 ID : 630680694586

Option 2 ID : 630680694585

Option 3 ID : 630680694587

Option 4 ID : 630680694584

Status : Answered

Chosen Option : 1

Q.15 निम्नलिखित समीकरण में '?' के स्थान पर क्या आएगा, यदि '+' और '÷' को आपस में बदल दिया जाए और '×' और '-' को आपस में बदल दिया जाए?

$$56 \times 16 + 8 \div 6 + 2 - 3 = ?$$

- Ans 1. 39
 2. 63
 3. 6
 4. 66

Question ID : 63068053392

Option 1 ID : 630680205657

Option 2 ID : 630680205655

Option 3 ID : 630680205656

Option 4 ID : 630680205654

Status : Answered

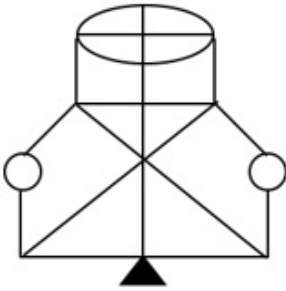
Chosen Option : 2

Q.16 उस विकल्प का चयन कीजिए, जिसमें दी गई आकृति सन्निकित है (घूर्णन की अनुमति नहीं है)।

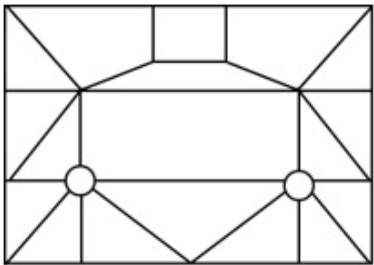


Ans

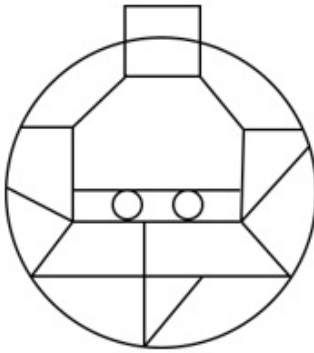
✗ 1.



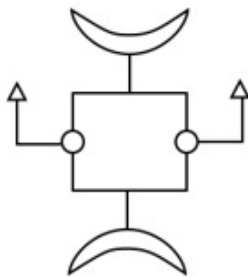
✓ 2.



✗ 3.



✗ 4.



Question ID : 630680149197

Option 1 ID : 630680577058

Option 2 ID : 630680577057

Option 3 ID : 630680577056

Option 4 ID : 630680577059

Status : Answered

Chosen Option : 2

Q.17 दिए गए विकल्पों में से वह संख्या चुनिए जो निम्नलिखित श्रृंखला में प्रश्नवाचक चिन्ह (?) को प्रतिस्थापित कर सकती है।
558, 556, 550, 538, 518, ?

- Ans 1. 486
 2. 492
 3. 488
 4. 490

Question ID : 63068058898
Option 1 ID : 630680227216
Option 2 ID : 630680227214
Option 3 ID : 630680227217
Option 4 ID : 630680227215
Status : Answered
Chosen Option : 3

Q.18 एक निश्चित कूट भाषा में, 'CAD' को '314' के रूप में लिखा जाता है, और 'DIG' को '497' के रूप में लिखा जाता है। उस भाषा में 'BED' को कैसे लिखा जाएगा?

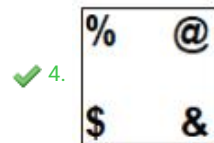
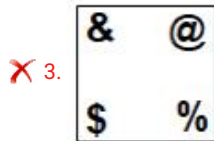
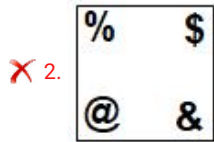
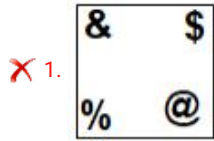
- Ans 1. 225
 2. 242
 3. 245
 4. 254

Question ID : 630680179114
Option 1 ID : 630680694548
Option 2 ID : 630680694549
Option 3 ID : 630680694550
Option 4 ID : 630680694551
Status : Answered
Chosen Option : 4

Q.19 नीचे दिए गए विकल्पों में से उस आकृति का चयन कीजिए जो प्रश्न चिह्न (?) को प्रतिस्थापित कर सकती है और पैटर्न को पूरा कर सकती है।

&	\$@	%\$	&	?
%	@&	\$@	%	

Ans



Question ID : 63068057722

Option 1 ID : 630680222727

Option 2 ID : 630680222726

Option 3 ID : 630680222729

Option 4 ID : 630680222728

Status : Answered

Chosen Option : 4

Q.20 संख्याओं और प्रतीकों के एक समूह को नीचे दिए गए कूट और उसके बाद दी गई शर्तों के अनुसार अक्षर कूट का उपयोग करके कूटबद्ध किया जाता है। दिए गए कूट और शर्तों का अध्ययन करें और निम्नलिखित प्रश्न का उत्तर दें।

संख्या/प्रतीक	6	\$	9	&	+	2	5	@	8	#	3	%	7	4
कूट	G	T	R	F	E	K	M	B	Z	P	Q	J	V	U

शर्तें – (i) यदि दूसरा अवयव एक प्रतीक है और चौथा अवयव एक सम संख्या है, तो इन दोनों (दूसरे और चौथे अवयवों) के कूट आपस में बदलने होंगे।
(ii) यदि पहला और चौथा दोनों अवयव विषम संख्या हैं, तो इन दोनों (पहले और चौथे अवयवों) को © के रूप में कूटबद्ध किया जाना है।
(iii) यदि दूसरा और तीसरा दोनों अवयव प्रतीक हैं, तो तीसरे अवयव को दूसरे अवयव के कूट के रूप में कूटबद्ध किया जाना है।

निम्नलिखित समूह के लिए कूट क्या होगा?

8 @ # 3 %

- Ans
- 1. Z P P Q J
 - 2. Z Q P B J
 - 3. © B P © J
 - 4. Z B B Q J

Question ID : 630680179087

Option 1 ID : 630680694441

Option 2 ID : 630680694440

Option 3 ID : 630680694442

Option 4 ID : 630680694443

Status : Answered

Chosen Option : 4

Section : Numerical Aptitude

Q.1 उन दो कारों की चालों का अनुपात क्या है, जिनमें से एक 60 km/h की चाल से चलती है और दूसरी 5 m/s की चाल से चलती है?

- Ans
- 1. 10 : 3
 - 2. 3 : 10
 - 3. 1 : 12
 - 4. 12 : 1

Question ID : 630680103362

Option 1 ID : 630680401708

Option 2 ID : 630680401710

Option 3 ID : 630680401709

Option 4 ID : 630680401707

Status : Answered

Chosen Option : 1

Q.2 आठ वर्ष पहले, एक व्यक्ति की माँ की आयु उसके पुत्र की आयु की तीन गुनी थी। आठ वर्ष बाद, माँ की आयु उसके पुत्र की आयु की दोगुनी होगी। उनकी वर्तमान आयु का अनुपात क्या है?

Ans 1. 7 : 3

2. 4 : 7

3. 2 : 7

4. 7 : 2

Question ID : 630680156479

Option 1 ID : 630680605578

Option 2 ID : 630680605577

Option 3 ID : 630680605576

Option 4 ID : 630680605579

Status : Answered

Chosen Option : 1

Q.3 एक समकोण त्रिभुज में, यदि कर्ण 24 cm और 30° वाले कोण की सम्मुख भुजा 12 cm हो, तो 60° वाले कोण की सम्मुख भुजा की लंबाई कितनी होगी?

Ans 1. $12\sqrt{3}$

2. 18

3. $3\sqrt{3}$

4. $\frac{1}{8}$

Question ID : 630680248838

Option 1 ID : 630680965444

Option 2 ID : 630680965446

Option 3 ID : 630680965445

Option 4 ID : 630680965443

Status : Answered

Chosen Option : 1

Q.4 एक ट्रेन 120 m लंबे प्लेटफार्म को 5 सेकंड में और प्लेटफॉर्म पर खड़े किसी व्यक्ति को 3 सेकंड में पार करती है। ट्रेन की चाल ज्ञात कीजिए।

Ans 1. 60 km/h

2. 108 km/h

3. 120 km/h

4. 216 km/h

Question ID : 630680248834

Option 1 ID : 630680965427

Option 2 ID : 630680965428

Option 3 ID : 630680965429

Option 4 ID : 630680965430

Status : Answered

Chosen Option : 4

Q.5 45 cm और 30 cm विकर्ण वाले समचतुर्भुज का क्षेत्रफल ज्ञात करें।

- Ans
- 1. 575cm^2
 - 2. 475cm^2
 - 3. 375cm^2
 - 4. 675cm^2

Question ID : 63068079837

Option 1 ID : 630680309374

Option 2 ID : 630680309376

Option 3 ID : 630680309375

Option 4 ID : 630680309373

Status : Answered

Chosen Option : 4

Q.6 Rs. 8,000 की धनराशि पर 2 वर्षों में 4% प्रति वर्ष की ब्याज दर से चक्रवृद्धि ब्याज ज्ञात कीजिए, ब्याज अर्ध-वार्षिक रूप से चक्रवृद्धि किया जा रहा है।

- Ans
- 1. Rs.843.65
 - 2. Rs.765.35
 - 3. Rs.742.37
 - 4. Rs.659.46

Question ID : 630680108208

Option 1 ID : 630680419897

Option 2 ID : 630680419896

Option 3 ID : 630680419899

Option 4 ID : 630680419898

Status : Answered

Chosen Option : 4

Q.7 उनचास व्यक्ति एक कतार में खड़े हैं और उनका औसत वजन 66 kg है। यदि पहले 25 व्यक्तियों का औसत वजन 68 kg है और अंतिम 25 व्यक्तियों का औसत वजन 64 kg है, तो 25वें व्यक्ति का वजन (kg में) ज्ञात कीजिए।

- Ans
- 1. 66
 - 2. 65
 - 3. 67
 - 4. 64

Question ID : 630680115515

Option 1 ID : 630680447412

Option 2 ID : 630680447411

Option 3 ID : 630680447413

Option 4 ID : 630680447410

Status : Answered

Chosen Option : 1

Q.8 एक व्यक्ति एक निश्चित स्थान की यात्रा 30 km/h की चाल से करता है और 20 km/h की चाल से प्रारंभिक स्थान पर वापस आ जाता है। पूरी यात्रा के दौरान उसकी औसत चाल (km/h में) ज्ञात कीजिए।

- Ans 1. 20
 2. 24
 3. 12
 4. 48

Question ID : 630680107364
Option 1 ID : 630680416821
Option 2 ID : 630680416820
Option 3 ID : 630680416823
Option 4 ID : 630680416822
Status : Answered
Chosen Option : 2

Q.9 एक त्रिभुज PQR में, S और T क्रमशः PQ और PR पर इस प्रकार बिंदु हैं कि ST, QR के समांतर है। यदि PS = 16 cm, SQ = 14 cm और QR = 24 cm है, ST ज्ञात कीजिए।

- Ans 1. 10.6 cm
 2. 10.1 cm
 3. 12.8 cm
 4. 12.3 cm

Question ID : 630680248837
Option 1 ID : 630680965441
Option 2 ID : 630680965442
Option 3 ID : 630680965439
Option 4 ID : 630680965440
Status : Answered
Chosen Option : 1

Q.10 कैब के किराए का मूल्य तय की गई दूरी के अनुक्रमानुपाती है। जब दूरी 150 km है, तो मूल्य ₹750 होता है। दूरी 225 km होने पर मूल्य ज्ञात कीजिए।

- Ans 1. ₹1,125
 2. ₹1,130
 3. ₹1,135
 4. ₹1,120

Question ID : 630680145272
Option 1 ID : 630680562071
Option 2 ID : 630680562072
Option 3 ID : 630680562073
Option 4 ID : 630680562070
Status : Answered
Chosen Option : 1

Q.11 आशु अपने ग्राहकों को एक शर्ट पर 18% की छूट देने के बाद भी 25% का लाभ कमाता है। ₹700 अंकित मूल्य वाली शर्ट का वास्तविक क्रय मूल्य कितना है?

- Ans
- 1. ₹458.20
 - 2. ₹456.20
 - 3. ₹457.20
 - 4. ₹459.20

Question ID : 630680104353
Option 1 ID : 630680405629
Option 2 ID : 630680405627
Option 3 ID : 630680405628
Option 4 ID : 630680405630
Status : Answered
Chosen Option : 4

Q.12 20 वस्तुओं का क्रय मूल्य 25 वस्तुओं के विक्रय मूल्य के बराबर है। हानि प्रतिशत ज्ञात कीजिए।

- Ans
- 1. 50%
 - 2. 30%
 - 3. 10%
 - 4. 20%

Question ID : 630680107389
Option 1 ID : 630680416921
Option 2 ID : 630680416920
Option 3 ID : 630680416922
Option 4 ID : 630680416923
Status : Answered
Chosen Option : 4

Q.13 एक टंकी को 7 घंटे में भरा जा सकता है लेकिन इसकी पेंदी में रिसाव के कारण इसे भरने में 8 घंटे लगते हैं। यदि टंकी पूरी भरी हुई हो, तो रिसाव के जरिए इसे खाली होने में कितना समय लगेगा?

- Ans
- 1. 30 घंटे
 - 2. 28 घंटे
 - 3. 56 घंटे
 - 4. 15 घंटे

Question ID : 630680112241
Option 1 ID : 630680434693
Option 2 ID : 630680434690
Option 3 ID : 630680434691
Option 4 ID : 630680434692
Status : Answered
Chosen Option : 3

Q.14 $\sqrt{\frac{2+2\tan^2\theta}{1+\cot^2\theta}}$ का मान ज्ञात कीजिए; जहाँ θ न्यून है।

- Ans
- 1. $\sqrt{2}\cot\theta$
 - 2. $2\cot\theta$
 - 3. $\sqrt{2}\tan\theta$
 - 4. $2\tan\theta$

Question ID : 630680248839
 Option 1 ID : 630680965448
 Option 2 ID : 630680965450
 Option 3 ID : 630680965447
 Option 4 ID : 630680965449
 Status : Answered
 Chosen Option : 1

Q.15 निम्नांकित पाई-चार्ट 6 वर्षों की अवधि में दो ब्रांड A और B की बिक्री (हजार इकाइयों में) दर्शाते हैं। ज्ञात कीजिए कि वर्ष 2013-2015 में ब्रांड B की बिक्री, वर्ष 2011-2013 में ब्रांड A की बिक्री से कितना प्रतिशत अधिक है (दो दशमलव स्थानों तक शुद्ध मान)।



Brand A = ब्रांड A



Brand B = ब्रांड B

- Ans
- 1. 4.10%
 - 2. 5%
 - 3. 3.57%
 - 4. 2.60%

Question ID : 630680248835
 Option 1 ID : 630680965433
 Option 2 ID : 630680965434
 Option 3 ID : 630680965432
 Option 4 ID : 630680965431
 Status : Answered
 Chosen Option : 3

Q.16 यदि दो संख्याओं का अनुपात 5 : 6 है और उनका लघुत्तम समापवर्त्य (LCM) 630 है, तो उनका महत्तम समापवर्तक (HCF) ज्ञात करें।

- Ans
- 1. 16
 - 2. 24
 - 3. 18
 - 4. 21

Question ID : 630680248833

Option 1 ID : 630680965423

Option 2 ID : 630680965425

Option 3 ID : 630680965424

Option 4 ID : 630680965426

Status : Answered

Chosen Option : 4

Q.17 एक व्यक्ति अपनी मासिक आय का 15% घर के किराए पर और शेष का 60% घरेलू खर्च पर खर्च करता है। यदि वह प्रति माह ₹3,400 की बचत करता है, तो उसकी प्रति माह कुल आय (₹ में) ज्ञात कीजिए।

- Ans
- 1. ₹10,000
 - 2. ₹9,500
 - 3. ₹9,800
 - 4. ₹11,000

Question ID : 630680115633

Option 1 ID : 630680447883

Option 2 ID : 630680447884

Option 3 ID : 630680447885

Option 4 ID : 630680447882

Status : Answered

Chosen Option : 1

Q.18 निम्नलिखित में से वह कौन-सी शर्त है, जहाँ दो रेखाएँ $ax + by + c = 0$ और $lx + my + n = 0$ के अनंत हल होंगे?

- Ans
- 1. $\frac{a}{l} \neq \frac{b}{m} \neq \frac{c}{n}$
 - 2. $\frac{a}{m} = \frac{b}{l} = \frac{c}{n}$
 - 3. $\frac{a}{l} = \frac{b}{m} \neq \frac{c}{n}$
 - 4. $\frac{a}{l} = \frac{b}{m} = \frac{c}{n}$

Question ID : 630680248836

Option 1 ID : 630680965435

Option 2 ID : 630680965436

Option 3 ID : 630680965437

Option 4 ID : 630680965438

Status : Answered

Chosen Option : 4

Q.19 यदि दो उम्मीदवारों के बीच हुए चुनाव में 72 मत अवैध पाए गए। यदि विजयी उम्मीदवार ने वैध मतों का 54% प्राप्त किया और 96 मतों के अंतर से जीत गया, तो पंजीकृत मतदाताओं की कुल संख्या ज्ञात कीजिए।

- Ans
- 1. 1200
 - 2. 1472
 - 3. 1272
 - 4. 1300

Question ID : 630680114256
Option 1 ID : 630680442427
Option 2 ID : 630680442429
Option 3 ID : 630680442426
Option 4 ID : 630680442428
Status : Answered
Chosen Option : 3

Q.20 ₹1,55,000 पर 3 वर्ष के लिए 10% प्रति वर्ष की दर से वार्षिक आधार पर चक्रवृद्धि ब्याज ज्ञात कीजिए।

- Ans
- 1. ₹52,305
 - 2. ₹51,305
 - 3. ₹51,308
 - 4. ₹51,306

Question ID : 630680103164
Option 1 ID : 630680400915
Option 2 ID : 630680400916
Option 3 ID : 630680400918
Option 4 ID : 630680400917
Status : Answered
Chosen Option : 2

Section : Clerical Aptitude

Q.1 उस सबसे उपयुक्त विकल्प का चयन करें जो दिए गए वाक्य में रेखांकित शब्द को प्रतिस्थापित कर सकता है।

Rabindranath Tagore Beach is the main beach in Karwar town, 50 km between Goa.

- Ans
- 1. Before
 - 2. Among
 - 3. Under
 - 4. Above

Question ID : 630680248898
Option 1 ID : 630680965685
Option 2 ID : 630680965683
Option 3 ID : 630680965684
Option 4 ID : 630680965686
Status : Answered
Chosen Option : 2

Q.2 दिए गए विकल्पों में से उस संख्या का चयन कीजिए, जो निम्नलिखित श्रृंखला में प्रश्नवाचक चिह्न (?) के स्थान पर आएगी।

15, 16, 18, 21, 25, ?

- Ans
- 1. 31
 - 2. 32
 - 3. 29
 - 4. 30

Question ID : 630680248889
Option 1 ID : 630680965649
Option 2 ID : 630680965650
Option 3 ID : 630680965647
Option 4 ID : 630680965648
Status : Answered
Chosen Option : 4

Q.3 गलत वर्तनी वाले शब्द का चयन कीजिए।

- Ans
- 1. Vacuum
 - 2. Scissors
 - 3. Sufficient
 - 4. Remaining

Question ID : 630680248896
Option 1 ID : 630680965676
Option 2 ID : 630680965675
Option 3 ID : 630680965677
Option 4 ID : 630680965678
Status : Answered
Chosen Option : 1

Q.4 उस विकल्प का चयन कीजिए, जो तीसरे शब्द से ठीक उसी प्रकार संबंधित है, जिस प्रकार दूसरा शब्द, पहले शब्द से संबंधित है।

सुई : सिलाई करना :: ढाल : ?

- Ans
- 1. रक्षा करना
 - 2. पकड़ना
 - 3. खोदना
 - 4. तराशना

Question ID : 630680248892
Option 1 ID : 630680965662
Option 2 ID : 630680965659
Option 3 ID : 630680965660
Option 4 ID : 630680965661
Status : Answered
Chosen Option : 1

Q.5 दी गई संख्या, प्रतीक श्रृंखला के आधार पर नीचे दिए गए प्रश्न का उत्तर दीजिए।
(बाएं) 2 5 # # \$ 1 @ * 7 & % 4 & 5 % 3 & 5 1 2 (दाएं)

ऐसे कितने प्रतीक हैं, जिनके ठीक पहले एक संख्या है और ठीक बाद भी एक संख्या है?

- Ans 1. 3
 2. 4
 3. 2
 4. 1

Question ID : 630680248897

Option 1 ID : 630680965681

Option 2 ID : 630680965682

Option 3 ID : 630680965680

Option 4 ID : 630680965679

Status : Answered

Chosen Option : 1

Q.6 दिए गए विकल्पों में से उस अक्षरांकीय-समूह का चयन कीजिए, जो निम्नलिखित श्रृंखला में प्रश्नवाचक चिह्न (?) के स्थान पर आएगा।

I3, H7, F15, C27, Y43, ?

- Ans 1. U63
 2. S59
 3. T65
 4. T63

Question ID : 630680248891

Option 1 ID : 630680965658

Option 2 ID : 630680965657

Option 3 ID : 630680965655

Option 4 ID : 630680965656

Status : Answered

Chosen Option : 4

Q.7 नीचे एक वाक्य के कुछ भाग अव्यवस्थित क्रम में दिए गए हैं। सार्थक वाक्य बनाने के लिए भागों को सही क्रम में व्यवस्थित कीजिए।

- A. his subjects wisely
B. was a very kind and generous
C. king who looked after
D. everyone said that he

- Ans 1. CBAD
 2. DACB
 3. DBCA
 4. CABD

Question ID : 630680248890

Option 1 ID : 630680965652

Option 2 ID : 630680965653

Option 3 ID : 630680965654

Option 4 ID : 630680965651

Status : Answered

Chosen Option : 4

Q.8 निम्न कथनों को पढ़िए और उसके बाद दिए गए प्रश्नों के उत्तर दीजिए।

A+B का अर्थ है कि A, B का पिता है।
A-B का अर्थ है कि A, B का भाई है।
A*B का अर्थ है कि A, B की माता है।
A&B का अर्थ है कि A, B की बहन है।

निम्न में से किसका अर्थ है कि T, V का मामा/मौसा है?

- Ans 1. T-R&S*V
 2. V*S*R+T
 3. T+S*R-V
 4. V&R&S-T

Question ID : 630680248905

Option 1 ID : 630680965714

Option 2 ID : 630680965712

Option 3 ID : 630680965711

Option 4 ID : 630680965713

Status : Answered

Chosen Option : 4

Q.9 किसी निश्चित कूट भाषा में, 'THANKS' को 'TLOBIU' के रूप में कूटबद्ध किया जाता है और 'PLANES' को 'TFOBMQ' के रूप में कूटबद्ध किया जाता है। उसी भाषा में 'AIRBUS' को किस प्रकार कूटबद्ध किया जाएगा?

- Ans 1. TVCBJS
 2. TVCSJB
 3. TVCQHZ
 4. TVCSBJ

Question ID : 630680248893

Option 1 ID : 630680965664

Option 2 ID : 630680965665

Option 3 ID : 630680965663

Option 4 ID : 630680965666

Status : Answered

Chosen Option : 2

Q.10 यदि निम्नलिखित शब्दों को अंग्रेजी शब्दकोश में उनके क्रम के अनुसार व्यवस्थित किया जाए, तो इनमें से कौन-सा शब्द सबसे पहले आएगा?

- 1) Theftable
- 2) Thearchic
- 3) Theatrics
- 4) Theaceous
- 5) Theberges

Ans 1. 5
 2. 2
 3. 3
 4. 4

Question ID : 630680248902

Option 1 ID : 630680965702

Option 2 ID : 630680965699

Option 3 ID : 630680965700

Option 4 ID : 630680965701

Status : Answered

Chosen Option : 4

Q.11 A, B, C, D और E पांच विद्यार्थी हैं जिन्हें XYZ ओलंपियाड में अलग-अलग अंक प्राप्त हुए हैं। B को A और C से अधिक अंक प्राप्त हुआ है। E को B और D से अधिक अंक प्राप्त हुआ है। D को उस C से अधिक अंक प्राप्त हुआ, जिसे A से कम अंक प्राप्त हुआ है। पांचों में से किस विद्यार्थी को सबसे कम अंक प्राप्त हुआ है?

Ans 1. E
 2. A
 3. B
 4. C

Question ID : 630680248894

Option 1 ID : 630680965670

Option 2 ID : 630680965667

Option 3 ID : 630680965669

Option 4 ID : 630680965668

Status : Answered

Chosen Option : 4

Q.12 उस सर्वाधिक उपयुक्त विकल्प का चयन कीजिए, जो दिए गए वाक्य में रेखांकित शब्द को प्रतिस्थापित कर सकता है।

The teacher was extremely angry on the boys who had thrown stones at the dogs.

Ans 1. over
 2. around
 3. with
 4. along

Question ID : 630680248895

Option 1 ID : 630680965671

Option 2 ID : 630680965672

Option 3 ID : 630680965673

Option 4 ID : 630680965674

Status : Answered

Chosen Option : 1

Q.13 रमेश की आयु सीमा की आयु की दोगुनी और सोहम की आयु की आधी है। सीमा, मोहन से बड़ी है। सबसे बड़ा कौन है?

- Ans
- 1. रमेश
 - 2. सीमा
 - 3. मोहन
 - 4. सोहम

Question ID : 630680248903

Option 1 ID : 630680965703

Option 2 ID : 630680965706

Option 3 ID : 630680965704

Option 4 ID : 630680965705

Status : Answered

Chosen Option : 4

Q.14 यदि A का अर्थ '×' है, B का अर्थ '÷' है, C का अर्थ '-' है और D का अर्थ '+' है, तो निम्नलिखित का मान ज्ञात करें।
5 D 16 A 5 B 8 C 8

- Ans
- 1. 7
 - 2. 5.125
 - 3. 85
 - 4. 2.625

Question ID : 630680248899

Option 1 ID : 630680965687

Option 2 ID : 630680965688

Option 3 ID : 630680965689

Option 4 ID : 630680965690

Status : Answered

Chosen Option : 1

Q.15 उस विकल्प का चयन करें जो दिए गए शब्दों की सही व्यवस्था को उस क्रम में इंगित करता है, जिस क्रम में वे अंग्रेजी शब्दकोश में आते देते हैं।

1. Mitzwah, Minxish, Mikvoth, Mikvehs
2. Minxish, Mikvoth, Mikvehs, Mitzwah
3. Mitzwah, Mikvoth, Mikvehs, Minxish
4. Mikvehs, Mikvoth, Minxish, Mitzvah

- Ans
- 1. 2
 - 2. 4
 - 3. 3
 - 4. 1

Question ID : 630680248900

Option 1 ID : 630680965692

Option 2 ID : 630680965694

Option 3 ID : 630680965693

Option 4 ID : 630680965691

Status : Answered

Chosen Option : 2

Q.16 एक लड़की की ओर संकेत करते हुए, आकाश ने कहा कि, "वह मेरी दादी/नानी (ग्रैंडमदर) की एकमात्र संतान की पुत्री है।" वह लड़की आकाश से किस प्रकार संबंधित है?

- Ans 1. भतीजी/भांजी
 2. पुत्री
 3. जानकारी अधूरी है
 4. बहन

Question ID : 630680248906

Option 1 ID : 630680965717

Option 2 ID : 630680965718

Option 3 ID : 630680965715

Option 4 ID : 630680965716

Status : Answered

Chosen Option : 4

Q.17 शब्द 'BOTANY' में प्रत्येक व्यंजन को अंग्रेजी वर्णानुक्रम में उसके बाद वाले अक्षर से बदल दिया जाता है और प्रत्येक स्वर को अंग्रेजी वर्णानुक्रम में उससे पहले वाले अक्षर से बदल दिया जाता है। इस प्रकार बने अक्षर समूह में निम्नलिखित में से कौन सा अक्षर दो बार दिखाई देगा?

- Ans 1. U
 2. Z
 3. N
 4. C

Question ID : 630680248888

Option 1 ID : 630680965645

Option 2 ID : 630680965646

Option 3 ID : 630680965644

Option 4 ID : 630680965643

Status : Answered

Chosen Option : 2

Q.18 दिए गए कथनों और निष्कर्षों को ध्यानपूर्वक पढ़िए। यह मानते हुए कि कथनों में दी गई जानकारी सत्य है, भले ही यह सामान्यतः ज्ञात तथ्यों से भिन्न प्रतीत होती हो, तय कीजिए कि दिए गए निष्कर्षों में से कौन सा/से निष्कर्ष, कथनों का तार्किक रूप से अनुसरण करता/करते है/हैं।

कथन:

- A. कुछ हाथी, व्हेल हैं।
- B. कुछ मछलियां, जिराफ़ हैं।
- C. सभी जिराफ, शेर हैं।

निष्कर्ष:

- (I) कुछ मछलियां, व्हेल हैं।
- (II) कुछ शेर, मछलियां हैं।
- (III) कुछ हाथी, जिराफ़ हैं।

- Ans 1. कोई भी निष्कर्ष अनुसरण नहीं करता है
2. केवल निष्कर्ष II अनुसरण करता है
3. केवल निष्कर्ष I अनुसरण करता है
4. या तो निष्कर्ष I या तो निष्कर्ष II अनुसरण करता है

Question ID : 630680248887

Option 1 ID : 630680965642

Option 2 ID : 630680965640

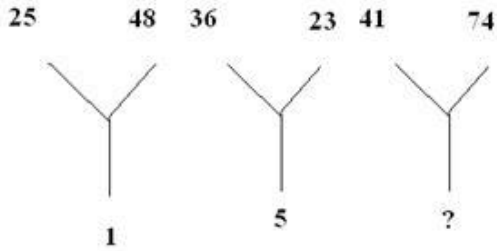
Option 3 ID : 630680965639

Option 4 ID : 630680965641

Status : Answered

Chosen Option : 2

Q.19



लुप्त संख्या (?) ज्ञात कीजिए।

- Ans 1. 7
2. 8
3. 3
4. 2

Question ID : 630680248904

Option 1 ID : 630680965707

Option 2 ID : 630680965709

Option 3 ID : 630680965708

Option 4 ID : 630680965710

Status : Not Answered

Chosen Option : --

Q.20 यदि प्रत्येक संख्या के पहले और तीसरे अंकों के स्थान आपस में बदल दिए जाएं, तो निम्नलिखित में से कौन सी संख्या सबसे बड़ी संख्या होगी?

(a) 358 (b) 369 (c) 489 (d) 527 (e) 925

- Ans
- 1. A
 - 2. B
 - 3. C
 - 4. E

Question ID : 630680248901
Option 1 ID : 630680965695
Option 2 ID : 630680965696
Option 3 ID : 630680965697
Option 4 ID : 630680965698
Status : Answered
Chosen Option : 3

Section : Basic Computer Knowledge

Q.1 एमएस-वर्ड 2019 (MS-Word 2019) में एक पैराग्राफ ऊपर जाने के लिए निम्नलिखित में से किस कीबोर्ड शॉर्टकट का उपयोग किया जाता है?

- Ans
- 1. Ctrl + Down arrow key
 - 2. Ctrl + Left arrow key
 - 3. Ctrl + Up arrow key
 - 4. Ctrl + Right arrow key

Question ID : 630680248856
Option 1 ID : 630680965516
Option 2 ID : 630680965518
Option 3 ID : 630680965515
Option 4 ID : 630680965517
Status : Answered
Chosen Option : 3

Q.2 एमएस-वर्ड 2010 (MS-Word 2010) में प्रिंट ऑप्शन को खोलने के लिए निम्नलिखित में से किस कीबोर्ड शॉर्टकट का उपयोग किया जाता है?

- Ans
- 1. Ctrl + P
 - 2. Ctrl + D + P
 - 3. Alt + F + K
 - 4. Alt + D + P

Question ID : 630680248880
Option 1 ID : 630680965612
Option 2 ID : 630680965614
Option 3 ID : 630680965611
Option 4 ID : 630680965613
Status : Answered
Chosen Option : 1

Q.3 एमएस-वर्ड 2010 (MS-Word 2010) में प्रिंट ऑप्शन को खोलने के लिए निम्नलिखित में से किस कीबोर्ड शॉर्टकट का उपयोग किया जाता है?

- Ans
- 1. Alt + D + P
 - 2. Ctrl + P
 - 3. Ctrl + D + P
 - 4. Alt + F + K

Question ID : 630680248860
Option 1 ID : 630680965533
Option 2 ID : 630680965532
Option 3 ID : 630680965534
Option 4 ID : 630680965531
Status : Answered
Chosen Option : 2

Q.4 विंडोज ओएस (Windows OS) में, जब आप डिलीट कुंजी का उपयोग करके या केवल राइट-क्लिक करके और 'डिलीट' ऑप्शन को सेलेक्ट करके अपने कंप्यूटर पर किसी भी ड्राइव से किसी आइटम को डिलीट करते हैं, तो फाइल _____ में चली जाती है।

- Ans
- 1. Taskbar (टास्कबार)
 - 2. Recycle Bin (रीसायकल बिन)
 - 3. Start menu (स्टार्ट मेन्यू)
 - 4. Control Panel (कंट्रोल पैनल)

Question ID : 630680248870
Option 1 ID : 630680965574
Option 2 ID : 630680965573
Option 3 ID : 630680965572
Option 4 ID : 630680965571
Status : Answered
Chosen Option : 2

Q.5 डेस्कटॉप पर आसन्न आइकनों को सेलेक्ट करने के लिए, आपको _____ कुंजी (key) दबानी होगी और फिर उस आइकनों पर क्लिक करना होगा जिन्हें आप सेलेक्ट करना चाहते हैं।

- Ans
- 1. Tab
 - 2. Ctrl
 - 3. Alt
 - 4. Shift

Question ID : 630680248852
Option 1 ID : 630680965501
Option 2 ID : 630680965500
Option 3 ID : 630680965499
Option 4 ID : 630680965502
Status : Answered
Chosen Option : 1

Q.6 जब कोई ईमेल भेजा जाता है, तो यह उस कंपनी से संबंधित _____ को जाता है जिसने ईमेल एड्रेस जारी किया है।

- Ans 1. मेल सर्वर (mail server)
 2. क्लाइंट (client)
 3. ग्रुप (group)
 4. नेटवर्क (network)

Question ID : 630680248855

Option 1 ID : 630680965514

Option 2 ID : 630680965511

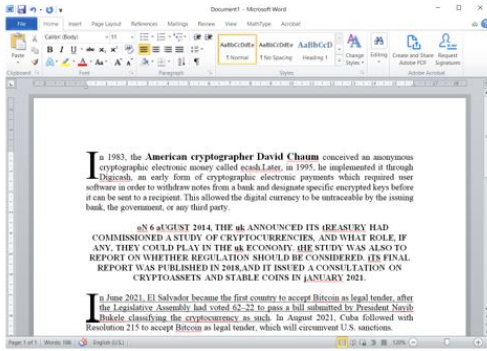
Option 3 ID : 630680965513

Option 4 ID : 630680965512

Status : Answered

Chosen Option : 1

Q.7 एमएस-वर्ड (MS-Word 2010) के विभिन्न भागों पर लागू इसके फीचर की विभिन्न श्रेणियों का निरीक्षण करने के लिए इस डॉक्यूमेंट को ध्यानपूर्वक पढ़ें, और तदनुसार निम्नलिखित प्रश्न के लिए सबसे उपयुक्त विकल्प का चयन करें।



उपर्युक्त डॉक्यूमेंट में कुल कितने ड्रॉप कैप उपस्थित हैं?

- Ans 1. पाँच
 2. तीन
 3. दो
 4. आठ

Question ID : 630680248878

Option 1 ID : 630680965606

Option 2 ID : 630680965605

Option 3 ID : 630680965603

Option 4 ID : 630680965604

Status : Answered

Chosen Option : 4

Q.8 आप एक _____ क्लिक करने को चुन सकते हैं जो आपके द्वारा भेजे जाने वाले प्रत्येक ईमेल के अंत में दिखाई देगा।

- Ans
- 1. subject (सब्जेक्ट)
 - 2. attachment (अटैचमेंट)
 - 3. signature (सिग्नेचर)
 - 4. formatting options (फॉर्मेट ऑप्शंस)

Question ID : 630680248853
Option 1 ID : 630680965504
Option 2 ID : 630680965506
Option 3 ID : 630680965503
Option 4 ID : 630680965505
Status : Answered
Chosen Option : 2

Q.9 विनज़िप (WinZip) सॉफ्टवेयर, _____ सॉफ्टवेयर का एक उदाहरण है।

- Ans
- 1. शेयरवेयर (shareware)
 - 2. ड्राइवर (driver)
 - 3. प्रोग्रामिंग (programming)
 - 4. ओपन सोर्स (open source)

Question ID : 630680248871
Option 1 ID : 630680965577
Option 2 ID : 630680965576
Option 3 ID : 630680965575
Option 4 ID : 630680965578
Status : Answered
Chosen Option : 3

Q.10 एमएस-वर्ड 2010 (MS-Word 2010) में निम्नलिखित में से कौन-सा ऑप्शन 'रिव्यू' टैब के 'प्रूफिंग' ग्रुप में नहीं होता है?

- Ans
- 1. Comment (कमेंट)
 - 2. Word Count (वर्ड काउंट)
 - 3. Spelling & Grammar (स्पेलिंग एंड ग्रामर)
 - 4. Thesaurus (थिसॉरस)

Question ID : 630680248857
Option 1 ID : 630680965522
Option 2 ID : 630680965521
Option 3 ID : 630680965519
Option 4 ID : 630680965520
Status : Answered
Chosen Option : 1

Q.11 LAN का पूर्ण रूप क्या है??

- Ans 1. Local Area Network (लोकल एरिया नेटवर्क)
 2. Limited Area Network (लिमिटेड एरिया नेटवर्क)
 3. Large Area Network (लार्ज एरिया नेटवर्क)
 4. Logical Area Network (लॉजिकल एरिया नेटवर्क)

Question ID : 630680248886

Option 1 ID : 630680965637

Option 2 ID : 630680965635

Option 3 ID : 630680965636

Option 4 ID : 630680965638

Status : Answered

Chosen Option : 1

Q.12 डेस्कटॉप पर आसन्न आइकनों को सेलेक्ट करने के लिए, आपको _____ कुंजी (key) दबानी होगी और फिर उस आइकनों पर क्लिक करना होगा जिन्हें आप सेलेक्ट करना चाहते हैं।

- Ans 1. Alt
 2. Tab
 3. Shift
 4. Ctrl

Question ID : 630680248872

Option 1 ID : 630680965579

Option 2 ID : 630680965581

Option 3 ID : 630680965582

Option 4 ID : 630680965580

Status : Answered

Chosen Option : 2

Q.13 निम्नलिखित में से कौन-सा टचस्क्रीन मॉनिटर का एक प्रकार नहीं है?

- Ans 1. कैपेसिटिव (Capacitive)
 2. रेसिस्टिव (Resistive)
 3. गैस प्लाज्मा (Gas plasma)
 4. सर्फेस एकाउस्टिक वेव (Surface acoustic wave)

Question ID : 630680248849

Option 1 ID : 630680965487

Option 2 ID : 630680965488

Option 3 ID : 630680965490

Option 4 ID : 630680965489

Status : Answered

Chosen Option : 3

Q.14 एमएस-वर्ड 2010 (MS-Word 2010) में निम्नलिखित में से कौन-सा ऑप्शन 'रिव्यू' टैब के 'प्रूफिंग' ग्रुप में नहीं होता है?

- Ans
- 1. Thesaurus (थिसॉरस)
 - 2. Comment (कमेंट)
 - 3. Spelling & Grammar (स्पेलिंग एंड ग्रामर)
 - 4. Word Count (वर्ड काउंट)

Question ID : 630680248877

Option 1 ID : 630680965600

Option 2 ID : 630680965602

Option 3 ID : 630680965599

Option 4 ID : 630680965601

Status : Answered

Chosen Option : 2

Q.15 एमएस-एक्सेल 2010 (MS-Excel 2010) में, एक से अधिक वर्कशीट प्रिंट करने के लिए, पहले वर्कशीट पर क्लिक करें, अपने कीबोर्ड पर _____ कुंजी (key) को होल्ड करें और फिर किसी भी अन्य वर्कशीट को क्लिक करें, जिसे आप सेलेक्ट करना चाहते हैं।

- Ans
- 1. Tab
 - 2. Ctrl
 - 3. Alt
 - 4. Esc

Question ID : 630680248863

Option 1 ID : 630680965545

Option 2 ID : 630680965544

Option 3 ID : 630680965546

Option 4 ID : 630680965543

Status : Answered

Chosen Option : 1

Q.16 असेम्बलर प्रोग्राम के आउटपुट को इनपुट सोर्स प्रोग्राम के सापेक्ष _____ कहा जाता है।

- Ans
- 1. ऑब्जेक्ट प्रोग्राम (object program)
 - 2. बिट कोड (bit code)
 - 3. बाइट कोड (byte code)
 - 4. सोर्स प्रोग्राम (source program)

Question ID : 630680248858

Option 1 ID : 630680965523

Option 2 ID : 630680965526

Option 3 ID : 630680965524

Option 4 ID : 630680965525

Status : Answered

Chosen Option : 3

Q.17 एमएस-वर्ड 2019 (MS-Word 2019) में एक पैराग्राफ ऊपर जाने के लिए निम्नलिखित में से किस कीबोर्ड शॉर्टकट का उपयोग किया जाता है?

- Ans
- 1. Ctrl + Down arrow key
 - 2. Ctrl + Up arrow key
 - 3. Ctrl + Left arrow key
 - 4. Ctrl + Right arrow key

Question ID : 630680248876
Option 1 ID : 630680965596
Option 2 ID : 630680965595
Option 3 ID : 630680965598
Option 4 ID : 630680965597
Status : Answered
Chosen Option : 2

Q.18 निम्नलिखित में से कौन-सा एक ईमेल एड्रेस का उदाहरण है?

- Ans
- 1. http://simple.com/index.htm
 - 2. kidsmart@billme.com
 - 3. D:\Email\Standard
 - 4. children.org/teachers/mail addresses

Question ID : 630680248854
Option 1 ID : 630680965507
Option 2 ID : 630680965509
Option 3 ID : 630680965508
Option 4 ID : 630680965510
Status : Answered
Chosen Option : 2

Q.19 पहचान कीजिए कि कंप्यूटर की विशेषताओं से संबंधित दिए गए कथन सत्य हैं या असत्य।

- (a) स्मरण शक्ति: कंप्यूटर हमारे लिए डेटा को याद रख सकता है।
(b) कोई बौद्धिक स्तर (IQ) नहीं: कंप्यूटर बिना निर्देश के कार्य नहीं करता है।

- Ans
- 1. a) असत्य b) असत्य
 - 2. a) असत्य b) सत्य
 - 3. a) सत्य b) असत्य
 - 4. a) सत्य b) सत्य

Question ID : 630680248847
Option 1 ID : 630680965481
Option 2 ID : 630680965482
Option 3 ID : 630680965480
Option 4 ID : 630680965479
Status : Answered
Chosen Option : 4

Q.20 एमएस-वर्ड 2010 (MS-Word 2010) में, फाइंड (नेविगेशन) पैन (Find (Navigation) pane) खोलने के लिए,
_____ दबाएं।

- Ans 1. Ctrl + F
 2. Ctrl + A
 3. Ctrl + V
 4. Ctrl + C

Question ID : 630680248859

Option 1 ID : 630680965530

Option 2 ID : 630680965527

Option 3 ID : 630680965529

Option 4 ID : 630680965528

Status : Answered

Chosen Option : 2