

BSF 17 and 18 June 2023

Participant ID	
Participant Name	
Test Center Name	
Test Date	18/06/2023
Test Time	4:30 PM - 6:10 PM
Subject	Head Constable (Ministerial)

Section : English Language

Q.1 Select the most appropriate ANTONYM of the given word.

Opulence

- Ans
- 1. Plethora
 - 2. Plenitude
 - 3. Deluge
 - 4. Frugality

Question ID : 630680249766
Option 1 ID : 630680969137
Option 2 ID : 630680969136
Option 3 ID : 630680969138
Option 4 ID : 630680969135
Status : Not Answered
Chosen Option : --

Q.2 Select the sentence that has NO spelling error.

- Ans
- 1. In the 1960s. an adoption agency in New York deleberately split up twins and placed them in different families as part of a controversial study.
 - 2. In the 1960s. an adoption agency in New York delliberrately split up twins and placed them in different families as part of a controversial study.
 - 3. In the 1960s. an adoption agency in New York deliberately split up twins and placed them in different families as part of a controversial study.
 - 4. In the 1960s. an adoption agency in New York delliberately split up twins and placed them in different families as part of a controversial study.

Question ID : 630680249768
Option 1 ID : 630680969143
Option 2 ID : 630680969145
Option 3 ID : 630680969146
Option 4 ID : 630680969144
Status : Not Answered
Chosen Option : --

Q.3 Select the most appropriate meaning of the proverb.

No man is an island

- Ans
- 1. People always want what they don't have.
 - 2. It's easier to do something as a team than by yourself.
 - 3. Difficulties boost our skills and experience.
 - 4. No one is truly capable of living alone.

Question ID : 630680249771
Option 1 ID : 630680969156
Option 2 ID : 630680969157
Option 3 ID : 630680969155
Option 4 ID : 630680969158
Status : Not Answered
Chosen Option : --

Q.4 Select the most appropriate meaning of the idiom.

Like a kid in a candy store

- Ans
- 1. Very annoying
 - 2. Very stubborn
 - 3. Very clumsy
 - 4. Very excited

Question ID : 630680249770
Option 1 ID : 630680969154
Option 2 ID : 630680969151
Option 3 ID : 630680969152
Option 4 ID : 630680969153
Status : Not Answered
Chosen Option : --

Q.5 In the following passage, some words have been deleted. Read the passage carefully and select the most appropriate option to fill in each blank.

These days, it is not (1)_____ to see people listening to music or using their electronic gadgets while crossing busy roads or travelling on public transport. (2)_____ of the risks involved. I have often wondered why they take such risks: is it because they want to (3)_____ a sense of independence, or is it that they want to tell the world to stop bothering them? Or is it that they just (4)_____ to show how cool they are?

- Ans
- 1. 1. bizarre. 2. heedless. 3. exhibit. 4. wish
 - 2. 1. awesome. 2. blind. 3. secrete. 4. crave
 - 3. 1. astonishing. 2. careless. 3. manifest. 4. need
 - 4. 1. unusual. 2. regardless. 3. exude. 4. want

Question ID : 630680249776
Option 1 ID : 630680969177
Option 2 ID : 630680969176
Option 3 ID : 630680969175
Option 4 ID : 630680969178
Status : Not Answered
Chosen Option : --

Q.6 Select the most appropriate synonym of the underlined word as used in the sentence.

The mystery of India's ancient port of Muziris has captivated archaeologists for decades.

- Ans
- 1. Fascinated
 - 2. Distracted
 - 3. Preoccupied
 - 4. Consumed

Question ID : 630680249764
Option 1 ID : 630680969129
Option 2 ID : 630680969130
Option 3 ID : 630680969128
Option 4 ID : 630680969127
Status : Not Answered
Chosen Option : --

Q.7 Select the sentence that has NO spelling error.

- Ans
- 1. Archaeologists have uncovered the remains of an Anglo-Saxon settlement.
 - 2. Archaeologists have uncoverred the remains of an Anglo-Saxon settlement.
 - 3. Archealogists have uncovered the remains of an Anglo-Saxon settlement.
 - 4. Archaeologists have uncovered the remains of an Anglo-Saxon settlement.

Question ID : 630680249767
Option 1 ID : 630680969142
Option 2 ID : 630680969140
Option 3 ID : 630680969139
Option 4 ID : 630680969141
Status : Not Answered
Chosen Option : --

Q.8 In the following passage, some words have been deleted. Read the passage carefully and select the most appropriate option to fill in each blank.

Whether it is a workman or an executive, earphones have become an (1)_____ part of our lives, sometimes even leading to tragicomic situations. The other day, an electrician had come to our house to (2)_____ something. We told him in (3)_____ what needed to be done. But after he left, I found that the man had done almost nothing. It later turned out that he could not hear our (4)_____ clearly because he had his earphones on.

- Ans
- 1. 1. inalienable. 2. rehabilitate. 3. precise. 4. guidelines
 - 2. 1. inseparable. 2. fix. 3. detail. 4. directions
 - 3. 1. integral. 2. replace. 3. full. 4. assignment
 - 4. 1. interwoven. 2. reconstruct. 3. part. 4. advice

Question ID : 630680249777
Option 1 ID : 630680969180
Option 2 ID : 630680969181
Option 3 ID : 630680969182
Option 4 ID : 630680969179
Status : Not Answered
Chosen Option : --

Q.9 Select the most appropriate synonym of the underlined word as used in the sentence.

The Korean War lasted from 1950 to 1953, ending in armistice.

- Ans
- 1. Dispute
 - 2. Bloodshed
 - 3. Hostility
 - 4. Ceasefire

Question ID : 630680249763
Option 1 ID : 630680969125
Option 2 ID : 630680969123
Option 3 ID : 630680969124
Option 4 ID : 630680969126
Status : Not Answered
Chosen Option : --

Q.10 Select the most appropriate option that can replace the underlined word in the given sentence.

"What a tiring vacation! I'm glad to be back from my own bed again."

- Ans
- 1. in
 - 2. beside
 - 3. between
 - 4. among

Question ID : 630680249772
Option 1 ID : 630680969162
Option 2 ID : 630680969161
Option 3 ID : 630680969159
Option 4 ID : 630680969160
Status : Not Answered
Chosen Option : --

Q.11 Sentences of a paragraph are given below in jumbled order. Arrange the sentences in the correct order to form a meaningful and coherent paragraph.

- 1) I think watermelons taste better than any other fruits and my whole family likes eating watermelons.
- 2) We ate at least three watermelons a week last year.
- 3) This year, I am going to eat watermelon every day, all summer long.
- 4) Watermelons are in the stores, and I plan to eat one every day for the next three months.

- Ans
- 1. 1. 3. 2. 4
 - 2. 3. 2. 1. 4
 - 3. 4. 1. 2. 3
 - 4. 2. 3. 1. 4

Question ID : 630680249774
Option 1 ID : 630680969167
Option 2 ID : 630680969170
Option 3 ID : 630680969169
Option 4 ID : 630680969168
Status : Not Answered
Chosen Option : --

Q.12 Select the most appropriate option that can replace the underlined word in the given sentence.

Sangeeta and Rina ran slow to get the bus.

- Ans
- 1. quickly
 - 2. quick
 - 3. quicker
 - 4. quickness

Question ID : 630680249773
Option 1 ID : 630680969166
Option 2 ID : 630680969163
Option 3 ID : 630680969165
Option 4 ID : 630680969164
Status : Not Answered
Chosen Option : --

Q.13 Sentences of a paragraph are given below in jumbled order. Arrange the sentences in the correct order to form a meaningful and coherent paragraph.

- 1) Lakshadweep is an archipelago located 200 – 400 km west of the coast of Kerala in the Arabian Sea.
- 2) Earlier the name Lakshadweep referred to the three archipelagos in the Indian Ocean, the present Lakshadweep, Maldives and Suvadives.
- 3) In Malayalam, Lakshadweep means a hundred thousand islands and it is the smallest union territory in India.
- 4) The archipelago consists of 36 main islands and many smaller islands, coral atolls and coral reefs.

- Ans
- 1. 2. 1. 3. 4
 - 2. 1. 3. 4. 2
 - 3. 2. 3. 4. 1
 - 4. 1. 4. 3. 2

Question ID : 630680249775
Option 1 ID : 630680969171
Option 2 ID : 630680969173
Option 3 ID : 630680969172
Option 4 ID : 630680969174
Status : Not Answered
Chosen Option : --

Q.14 Select the most appropriate ANTONYM of the given word.

Influential

- Ans
- 1. Virtuous
 - 2. Persuasive
 - 3. Efficacious
 - 4. Insignificant

Question ID : 630680249765
Option 1 ID : 630680969134
Option 2 ID : 630680969131
Option 3 ID : 630680969132
Option 4 ID : 630680969133
Status : Not Answered
Chosen Option : --

Q.15 In the following passage, some words have been deleted. Read the passage carefully and select the most appropriate option to fill in each blank.

Scientists have (1)_____ a gel that helps brains recover from traumatic injuries. It has the potential to (2)_____ head injuries sustained in combat, car accidents, falls, or gunshot wounds. (3)_____ by Dr. Ning Zhang at Clemson University in South Carolina, the gel is (4)_____ in liquid form at the site of injury and stimulates the growth of stem cells there.

- Ans
- 1. 1. manufactured. 2. heal. 3. Initiated. 4. implanted
 - 2. 1. developed. 2. treat. 3. Developed. 4. injected
 - 3. 1. produced. 2. medicate. 3. Established. 4. interjected
 - 4. 1. constructed. 2. assist. 3. Devised. 4. inserted

Question ID : 630680249778
Option 1 ID : 630680969185
Option 2 ID : 630680969184
Option 3 ID : 630680969186
Option 4 ID : 630680969183
Status : Not Answered
Chosen Option : --

Q.16 Select the sentence that has NO spelling error.

- Ans
- 1. More than 3.000 pupils have been evacuated from there homes in a Russian city after an undetonated explosive was found.
 - 2. More than 3.000 people have been evacuated from their homes in a Russian city after an undettonated explosive was found.
 - 3. More than 3.000 people have been evacuated from their homes in a Russian city after an undetonated explosive was found.
 - 4. More than 3.000 people have been evaccuated from their homes in a Russian city after an undettonated explosive was found.

Question ID : 630680249769
Option 1 ID : 630680969150
Option 2 ID : 630680969148
Option 3 ID : 630680969149
Option 4 ID : 630680969147
Status : Not Answered
Chosen Option : --

Comprehension:

Read the given passage and answer the questions that follow.

The beginning of this fun-filled season with the sun hidden behind the grey clouds brings cheer to many of us waiting eagerly to splash in the rains. Of course, not everything about rain is glamorous. Especially when you think about endless traffic jams, the bad roads dotted with potholes, uncleared garbage and the spate of water borne diseases. Also, viral infections like cold and cough make their presence felt.

Most infectious diseases prevalent in the rainy season can be prevented by simply washing our hands regularly. Scrubbing hands regularly with water and soap can prevent us from contacting respiratory and diarrheal diseases.

Kids have a lower level of immunity and hence hand washing becomes a crucial part of their lifestyle. When playing especially during monsoon season, kids come into contact with germs and can unknowingly become infected simply by touching their nose, eyes or mouth. The Food and Drug Administration states that the human influenza virus can survive on surfaces for up to eight hours, making people susceptible to catching it each time they touch the infected surface. Hence, repeated hand washing is required.

To make the best of the rainy season we should follow some simple guidelines. First of all if we decide to get wet in rains we should change into a dry set of clothes at the earliest. Also, we should keep raw food items at bay and wash vegetables and fruits thoroughly before use. Moreover, strict kitchen hygiene should be maintained in order to enjoy one of the most beautiful seasons of the year. Also, in order to have a trouble free rainy season home made fresh food should be given preference over the fast food sold in the market.

SubQuestion No : 17

Q.17 Which of the following sentences is correct as per the facts given in the passage?

- Ans
- 1. Hygiene should be maintained to prevent us from contacting respiratory and diarrheal diseases.
 - 2. After getting wet in the rain we should put on dry clothes when we fall sick.
 - 3. We should keep at bay home made fresh food so as to keep us disease free in the rainy season.
 - 4. People wait for the rains since they can enjoy endless traffic jams.

Question ID : 630680249781
Option 1 ID : 630680969194
Option 2 ID : 630680969192
Option 3 ID : 630680969193
Option 4 ID : 630680969191
Status : Not Answered
Chosen Option : --

Comprehension:

Read the given passage and answer the questions that follow.

The beginning of this fun-filled season with the sun hidden behind the grey clouds brings cheer to many of us waiting eagerly to splash in the rains. Of course, not everything about rain is glamorous. Especially when you think about endless traffic jams, the bad roads dotted with potholes, uncleared garbage and the spate of water borne diseases. Also, viral infections like cold and cough make their presence felt.

Most infectious diseases prevalent in the rainy season can be prevented by simply washing our hands regularly. Scrubbing hands regularly with water and soap can prevent us from contacting respiratory and diarrheal diseases.

Kids have a lower level of immunity and hence hand washing becomes a crucial part of their lifestyle. When playing especially during monsoon season, kids come into contact with germs and can unknowingly become infected simply by touching their nose, eyes or mouth. The Food and Drug Administration states that the human influenza virus can survive on surfaces for up to eight hours, making people susceptible to catching it each time they touch the infected surface. Hence, repeated hand washing is required.

To make the best of the rainy season we should follow some simple guidelines. First of all if we decide to get wet in rains we should change into a dry set of clothes at the earliest. Also, we should keep raw food items at bay and wash vegetables and fruits thoroughly before use. Moreover, strict kitchen hygiene should be maintained in order to enjoy one of the most beautiful seasons of the year. Also, in order to have a trouble free rainy season home made fresh food should be given preference over the fast food sold in the market.

SubQuestion No : 18

Q.18 Select the most appropriate synonym of the given word as used in the passage.

Susceptible

- Ans
- 1. Aroused
 - 2. Resistant
 - 3. Vulnerable
 - 4. Receptive

Question ID : 630680249782
Option 1 ID : 630680969196
Option 2 ID : 630680969198
Option 3 ID : 630680969197
Option 4 ID : 630680969195
Status : Not Answered
Chosen Option : --

Comprehension:

Read the given passage and answer the questions that follow.

The beginning of this fun-filled season with the sun hidden behind the grey clouds brings cheer to many of us waiting eagerly to splash in the rains. Of course, not everything about rain is glamorous. Especially when you think about endless traffic jams, the bad roads dotted with potholes, uncleared garbage and the spate of water borne diseases. Also, viral infections like cold and cough make their presence felt.

Most infectious diseases prevalent in the rainy season can be prevented by simply washing our hands regularly. Scrubbing hands regularly with water and soap can prevent us from contacting respiratory and diarrheal diseases.

Kids have a lower level of immunity and hence hand washing becomes a crucial part of their lifestyle. When playing especially during monsoon season, kids come into contact with germs and can unknowingly become infected simply by touching their nose, eyes or mouth. The Food and Drug Administration states that the human influenza virus can survive on surfaces for up to eight hours, making people susceptible to catching it each time they touch the infected surface. Hence, repeated hand washing is required.

To make the best of the rainy season we should follow some simple guidelines. First of all if we decide to get wet in rains we should change into a dry set of clothes at the earliest. Also, we should keep raw food items at bay and wash vegetables and fruits thoroughly before use. Moreover, strict kitchen hygiene should be maintained in order to enjoy one of the most beautiful seasons of the year. Also, in order to have a trouble free rainy season home made fresh food should be given preference over the fast food sold in the market.

SubQuestion No : 19

Q.19 Which of the following can be an appropriate title of the passage?

- Ans
- 1. How to enjoy the Rainy Season
 - 2. Fun-filled Seasons
 - 3. Precautions for the Rainy Season
 - 4. Precautions against Infectious Diseases

Question ID : 630680249780
Option 1 ID : 630680969187
Option 2 ID : 630680969190
Option 3 ID : 630680969189
Option 4 ID : 630680969188
Status : Not Answered
Chosen Option : --

Comprehension:

Read the given passage and answer the questions that follow.

The beginning of this fun-filled season with the sun hidden behind the grey clouds brings cheer to many of us waiting eagerly to splash in the rains. Of course, not everything about rain is glamorous. Especially when you think about endless traffic jams, the bad roads dotted with potholes, uncleared garbage and the spate of water borne diseases. Also, viral infections like cold and cough make their presence felt.

Most infectious diseases prevalent in the rainy season can be prevented by simply washing our hands regularly. Scrubbing hands regularly with water and soap can prevent us from contacting respiratory and diarrheal diseases.

Kids have a lower level of immunity and hence hand washing becomes a crucial part of their lifestyle. When playing especially during monsoon season, kids come into contact with germs and can unknowingly become infected simply by touching their nose, eyes or mouth. The Food and Drug Administration states that the human influenza virus can survive on surfaces for up to eight hours, making people susceptible to catching it each time they touch the infected surface. Hence, repeated hand washing is required.

To make the best of the rainy season we should follow some simple guidelines. First of all if we decide to get wet in rains we should change into a dry set of clothes at the earliest. Also, we should keep raw food items at bay and wash vegetables and fruits thoroughly before use. Moreover, strict kitchen hygiene should be maintained in order to enjoy one of the most beautiful seasons of the year. Also, in order to have a trouble free rainy season home made fresh food should be given preference over the fast food sold in the market.

SubQuestion No : 20

Q.20 Identify the tone of the passage.

- Ans
- 1. Derisive
 - 2. Ethical
 - 3. Aggressive
 - 4. Humanistic

Question ID : 630680249783
Option 1 ID : 630680969200
Option 2 ID : 630680969201
Option 3 ID : 630680969199
Option 4 ID : 630680969202
Status : Not Answered
Chosen Option : --

Q.1 निम्नलिखित में से एक शब्द का अर्थ शेष तीन से बिलकुल भिन्न है। उस विकल्प का चयन कीजिये-

- Ans
- 1. तालाब
 - 2. दूध
 - 3. बादल
 - 4. पयोधर

Question ID : 630680249810
Option 1 ID : 630680969310
Option 2 ID : 630680969308
Option 3 ID : 630680969309
Option 4 ID : 630680969307
Status : Answered
Chosen Option : 4

Q.2 निम्नलिखित में से किस विग्रह में बहुव्रीहि समास है? उचित विकल्प का चयन करें-

- Ans
- 1. कीर्तिलता - लता रुपी कीर्ति
 - 2. शेषशायी - जो शेष पर शायी करते हैं वे
 - 3. श्यामवर्ण- श्याम है जो वर्ण
 - 4. सत्याग्रह-सत्य के लिए आग्रह

Question ID : 630680249819
Option 1 ID : 630680969344
Option 2 ID : 630680969345
Option 3 ID : 630680969346
Option 4 ID : 630680969343
Status : Answered
Chosen Option : 1

Q.3 निम्नलिखित में से तमस शब्द के विलोम-युग्म की पहचान कीजिए-

- Ans
- 1. तामसिक
 - 2. तृषा
 - 3. तित्त
 - 4. सत्त्व

Question ID : 630680249808
Option 1 ID : 630680969302
Option 2 ID : 630680969300
Option 3 ID : 630680969301
Option 4 ID : 630680969299
Status : Answered
Chosen Option : 1

Q.4 निम्नलिखित में से कौन सा वाक्य 'अधिकरण कारक' का उदाहरण है? उचित विकल्प का चयन कीजिये-

- Ans
- 1. बच्चे बन्दर से डरते हैं
 - 2. इस जगह पूर्ण शांति है
 - 3. माँ ने बच्चे को लड्डू दिए
 - 4. यह इस लड़के की पुस्तक है

Question ID : 630680249815
Option 1 ID : 630680969329
Option 2 ID : 630680969328
Option 3 ID : 630680969330
Option 4 ID : 630680969327
Status : Answered
Chosen Option : 3

Q.5 निम्नलिखित में से किस वाक्य में 'सर्वनाम' सम्बन्धी अशुद्धि है? उचित विकल्प का चयन कीजिये -

- Ans
- 1. आपको जो कुछ चाहिए, यह हमसे माँग लो
 - 2. जिसकी लाठी, उसकी भैंस
 - 3. जो बेईमानी करेगा उसे नौकरी से निकाल दिया जाएगा
 - 4. जो सोता है, सो खोता है

Question ID : 630680249816
Option 1 ID : 630680969331
Option 2 ID : 630680969334
Option 3 ID : 630680969332
Option 4 ID : 630680969333
Status : Answered
Chosen Option : 1

Q.6 निम्नलिखित शब्द के लिए उचित वाक्यांश का चयन कीजिए-

'बुभुक्षा'

- Ans
- 1. भोजन करने की इच्छा
 - 2. तुकड़े-टुकड़े किया हुआ
 - 3. भलाई चाहने की इच्छा
 - 4. भूख से पीड़ित

Question ID : 630680249811
Option 1 ID : 630680969313
Option 2 ID : 630680969311
Option 3 ID : 630680969314
Option 4 ID : 630680969312
Status : Answered
Chosen Option : 1

Q.7 निम्नलिखित वाक्यांश के लिए उचित शब्द का चयन कीजिए-

'एकत्र किया हुआ'

- Ans
- 1. सदावर्त
 - 2. संदिग्ध
 - 3. संविदा
 - 4. संचित

Question ID : 630680249812
Option 1 ID : 630680969317
Option 2 ID : 630680969316
Option 3 ID : 630680969318
Option 4 ID : 630680969315
Status : Answered
Chosen Option : 4

Q.8 समस्तपद राजद्रोह में कौन सा समास है? उचित विकल्प का चयन कीजिए-

- Ans
- 1. तत्पुरुष समास
 - 2. अव्ययीभाव समास
 - 3. द्वंद्व समास
 - 4. कर्मधारय समास

Question ID : 630680249818
Option 1 ID : 630680969342
Option 2 ID : 630680969339
Option 3 ID : 630680969341
Option 4 ID : 630680969340
Status : Answered
Chosen Option : 2

Q.9 किस शब्द के विच्छेद में विसर्ग सन्धि नहीं है? सही विकल्प की पहचान कीजिए-

- Ans
- 1. रजोगुण
 - 2. चतुर्मास
 - 3. वृहस्पति
 - 4. सन्निपात

Question ID : 630680249817
Option 1 ID : 630680969336
Option 2 ID : 630680969337
Option 3 ID : 630680969335
Option 4 ID : 630680969338
Status : Answered
Chosen Option : 2

Q.10 निम्नलिखित में से सही विलोमार्थक-युग्म की पहचान करें-

- Ans
- 1. वाम - उत्तर
 - 2. तिमिर - प्रकाश
 - 3. द्वैत - द्वेषी
 - 4. दिलेर - दबंग

Question ID : 630680249806
Option 1 ID : 630680969292
Option 2 ID : 630680969293
Option 3 ID : 630680969294
Option 4 ID : 630680969291
Status : Answered
Chosen Option : 3

Q.11 निम्नलिखित में से तद्भव शब्द का चयन कीजिये -

- Ans
- 1. जनेऊ
 - 2. मेघ
 - 3. लोक
 - 4. भस्म

Question ID : 630680249804
Option 1 ID : 630680969283
Option 2 ID : 630680969284
Option 3 ID : 630680969286
Option 4 ID : 630680969285
Status : Answered
Chosen Option : 3

Q.12 निम्नलिखित में से कछुआ के पर्यायवाची शब्द का चयन करें-

- Ans
- 1. पंकज
 - 2. मरुष
 - 3. रूक्ष
 - 4. कमठ

Question ID : 630680249805
Option 1 ID : 630680969289
Option 2 ID : 630680969287
Option 3 ID : 630680969290
Option 4 ID : 630680969288
Status : Answered
Chosen Option : 2

Q.13 गढ़ना - गड़ना समश्रुत भिन्नार्थक शब्द- युग्म के लिए क्रमशः सही अर्थ वाले विकल्प का चयन कीजिए-

- Ans
- 1. ज़माना- बनाना
 - 2. सुडौल करना - चुभना
 - 3. गिनती - चुभना
 - 4. पिरोना - गिनना

Question ID : 630680249809
Option 1 ID : 630680969305
Option 2 ID : 630680969306
Option 3 ID : 630680969303
Option 4 ID : 630680969304
Status : Answered
Chosen Option : 1

Q.14 निम्नलिखित वाक्यांश के लिए उचित शब्द का चयन कीजिए-
'वह कन्या जिसके विवाह करने का वचन दे दिया गया हो'

- Ans
- 1. वाग्मी
 - 2. वाग्दत्ता
 - 3. वलित
 - 4. वंदितव्य

Question ID : 630680249813
Option 1 ID : 630680969319
Option 2 ID : 630680969320
Option 3 ID : 630680969322
Option 4 ID : 630680969321
Status : Answered
Chosen Option : 1

Q.15 'पानी पीकर घर पूछना' लोकोक्ति का क्या अर्थ है? उचित विकल्प का चयन कीजिए-

- Ans
- 1. अपनी चाल-ढाल छोड़कर दूसरों का अनुकरण करना
 - 2. काम कर चुकने के बाद उसका विचार करना
 - 3. बहुत ज़लील कर डालना
 - 4. क्षणभंगुर वस्तु

Question ID : 630680249814
Option 1 ID : 630680969324
Option 2 ID : 630680969325
Option 3 ID : 630680969326
Option 4 ID : 630680969323
Status : Answered
Chosen Option : 1

Q.16 निम्नलिखित में से 'कृपण' शब्द के विलोम-युग्म की पहचान कीजिए-

- Ans
- 1. कंजूस
 - 2. विनम्र
 - 3. सूम
 - 4. दाता

Question ID : 630680249807
Option 1 ID : 630680969295
Option 2 ID : 630680969298
Option 3 ID : 630680969297
Option 4 ID : 630680969296
Status : Answered
Chosen Option : 2

Comprehension:

निम्नलिखित गद्यांश के आधार पर प्रश्न-संख्या 1- 4 का उत्तर दीजिए-

विश्व का प्रत्येक धर्म मानव सेवा का पक्षधर है, बल्कि धर्म का मूल मंत्र ही 'सेवा परमो धर्मः' है। इसी भावना से प्रेरित होकर स्विट्जरलैंड के निवासी जॉन हेनरी ने 'रेडक्रॉस' नामक संस्था की स्थापना की थी। आज रेडक्रॉस एक अंतरराष्ट्रीय संस्था हो गई है, जो मानवता के आधार पर लोगों की सहायता कर रही है। युद्ध एवं प्राकृतिक आपदाओं के समय पीड़ित मानवता की समुचित सेवा करना ही रेडक्रॉस का मूल उद्देश्य है।

रेडक्रॉस संस्था की स्थापना के पीछे एक ऐतिहासिक घटना है। सन् 1857 में फ्रांस और आस्ट्रिया के बीच घमासान युद्ध हुआ था। इस युद्ध में दोनों देशों के काफी सैनिक हताहत हुए थे। घायल सैनिक दर्द एवं पीड़ा से कराह रहे थे। उनकी देखरेख करने वाला वहाँ कोई नहीं था। घायल सैनिकों की चीत्कार कारुणिक दृश्य उपस्थित कर रही थी। इस कारुणिक दृश्य को देखकर जान हेनरी का हृदय द्रवित हो उठा। कुछ लोगों को एकत्र करके तन-मन-धन से घायलों की सेवा में रत हो गए। इस प्रकार उनके सेवा भाव, अथक परिश्रम तथा प्रयासों से अनगिनत लोग मौत के मुँह में जाने से बच गए। इसके बाद जान हेनरी ने दुनिया को समझाया कि पीड़ित मानव किसी जाति, धर्म या संप्रदाय का नहीं होता। हम लोगों को जाति, धर्म, संप्रदाय एवं क्षेत्रीय भावना से ऊपर उठकर पीड़ितों की सेवा करनी चाहिए। जॉन हेनरी के इस विचार से प्रभावित होकर 8 मई 1864 को 18 देशों ने मिलकर रेडक्रॉस सोसाइटी की स्थापना की। इसका मुख्यालय जेनेवा में है। रेडक्रॉस का अपना एक झंडा भी है। यह सफ़ेद रंग का होता है, जिस पर लाल रंग से क्रॉस अंकित रहता है। यह झंडा पीड़ित मानवता की सेवा का प्रतीक है। भारत में 1910 में रेडक्रॉस की स्थापना हुई और इसका मुख्यालय नई दिल्ली में है। यह हमारे देश के हर जिले में कार्यरत है। इसका संरक्षक जिलाधीश होता है। इस संस्था के लिए धन की व्यवस्था चंदे से की जाती है।

युद्धकाल में तो यह संस्था मानवता के हित में कार्य करती ही है, शांति काल में भी बिना किसी भेदभाव के दवाइयाँ, रक्त, कृत्रिम अंगइत्यादि वितरित किये जाते हैं, चिकित्सा-केन्द्रों का निर्माण, रक्तदान केंद्र, कुछ रोगियों की सेवा, दवा, आवास की व्यवस्था, विकलांगों के लिए रिक्शे आदि की व्यवस्था भी करती है। "

SubQuestion No : 17

Q.17 निम्नलिखित में से किस वाक्य में 'कारुणिक' शब्द का उचित प्रयोग हुआ है?

- Ans
- 1. आपकी कहानी बहुत ही कारुणिक है
 - 2. कई कारुणिक देशों ने मिलकर यह संस्था बनायी
 - 3. सभी देशों ने कारुणिक चंदा इकट्ठा किया
 - 4. युद्ध बहुत ही कारुणिक होता है

Question ID : 630680249822

Option 1 ID : 630680969352

Option 2 ID : 630680969354

Option 3 ID : 630680969351

Option 4 ID : 630680969353

Status : Answered

Chosen Option : 4

Comprehension:

निम्नलिखित गद्यांश के आधार पर प्रश्न-संख्या 1- 4 का उत्तर दीजिए-

विश्व का प्रत्येक धर्म मानव सेवा का पक्षधर है, बल्कि धर्म का मूल मंत्र ही 'सेवा परमो धर्मः' है। इसी भावना से प्रेरित होकर स्विट्जरलैंड के निवासी जॉन हेनरी ने 'रेडक्रॉस' नामक संस्था की स्थापना की थी। आज रेडक्रॉस एक अंतरराष्ट्रीय संस्था हो गई है, जो मानवता के आधार पर लोगों की सहायता कर रही है। युद्ध एवं प्राकृतिक आपदाओं के समय पीड़ित मानवता की समुचित सेवा करना ही रेडक्रॉस का मूल उद्देश्य है।

रेडक्रॉस संस्था की स्थापना के पीछे एक ऐतिहासिक घटना है। सन् 1857 में फ्रांस और आस्ट्रिया के बीच घमासान युद्ध हुआ था। इस युद्ध में दोनों देशों के काफी सैनिक हताहत हुए थे। घायल सैनिक दर्द एवं पीड़ा से कराह रहे थे। उनकी देखरेख करने वाला वहाँ कोई नहीं था। घायल सैनिकों की चीत्कार कारुणिक दृश्य उपस्थित कर रही थी। इस कारुणिक दृश्य को देखकर जान हेनरी का हृदय द्रवित हो उठा। कुछ लोगों को एकत्र करके तन-मन-धन से घायलों की सेवा में रत हो गए। इस प्रकार उनके सेवा भाव, अथक परिश्रम तथा प्रयासों से अनगिनत लोग मौत के मुँह में जाने से बच गए। इसके बाद जान हेनरी ने दुनिया को समझाया कि पीड़ित मानव किसी जाति, धर्म या संप्रदाय का नहीं होता। हम लोगों को जाति, धर्म, संप्रदाय एवं क्षेत्रीय भावना से ऊपर उठकर पीड़ितों की सेवा करनी चाहिए। जॉन हेनरी के इस विचार से प्रभावित होकर 8 मई 1864 को 18 देशों ने मिलकर रेडक्रॉस सोसाइटी की स्थापना की। इसका मुख्यालय जेनेवा में है। रेडक्रॉस का अपना एक झंडा भी है। यह सफ़ेद रंग का होता है, जिस पर लाल रंग से क्रॉस अंकित रहता है। यह झंडा पीड़ित मानवता की सेवा का प्रतीक है। भारत में 1910 में रेडक्रॉस की स्थापना हुई और इसका मुख्यालय नई दिल्ली में है। यह हमारे देश के हर जिले में कार्यरत है। इसका संरक्षक जिलाधीश होता है। इस संस्था के लिए धन की व्यवस्था चंदे से की जाती है।

युद्धकाल में तो यह संस्था मानवता के हित में कार्य करती ही है, शांति काल में भी बिना किसी भेदभाव के दवाइयाँ, रक्त, कृत्रिम अंगइत्यादि वितरित किये जाते हैं, चिकित्सा-केन्द्रों का निर्माण, रक्तदान केंद्र, कुष्ठ रोगियों की सेवा, दवा, आवास की व्यवस्था, विकलांगों के लिए रिक्शे आदि की व्यवस्था भी करती है। "

SubQuestion No : 18

Q.18 यह गद्यांश हमारे वास्तविक जीवन से किस प्रकार सम्बंधित है?

- Ans
- 1. युद्ध के घायलों की सेवा ही रेडक्रॉस का परम धर्म है
 - 2. शांतिकाल में रेडक्रॉस संस्था विकलांगों, रोगियों की सेवा, रक्त, आवास आदि की व्यवस्था करके अनेक प्रकार से समाज में महत्वपूर्ण भूमिका निभाती है
 - 3. रेडक्रॉस सभी देशों में गरीबों के भोजन आदि की भी व्यवस्था करती है।
 - 4. रेडक्रॉस समाज के लोगों के लिए आवास की व्यवस्था करके उनको घर दिलाती है जिससे गरीबों का जीवन सुचारू रूप से चल सके।

Question ID : 630680249824
Option 1 ID : 630680969359
Option 2 ID : 630680969362
Option 3 ID : 630680969360
Option 4 ID : 630680969361
Status : Answered
Chosen Option : 2

Comprehension:

निम्नलिखित गद्यांश के आधार पर प्रश्न-संख्या 1- 4 का उत्तर दीजिए-

विश्व का प्रत्येक धर्म मानव सेवा का पक्षधर है, बल्कि धर्म का मूल मंत्र ही 'सेवा परमो धर्मः' है। इसी भावना से प्रेरित होकर स्विट्जरलैंड के निवासी जॉन हेनरी ने 'रेडक्रॉस' नामक संस्था की स्थापना की थी। आज रेडक्रॉस एक अंतरराष्ट्रीय संस्था हो गई है, जो मानवता के आधार पर लोगों की सहायता कर रही है। युद्ध एवं प्राकृतिक आपदाओं के समय पीड़ित मानवता की समुचित सेवा करना ही रेडक्रॉस का मूल उद्देश्य है।

रेडक्रॉस संस्था की स्थापना के पीछे एक ऐतिहासिक घटना है। सन् 1857 में फ्रांस और आस्ट्रिया के बीच घमासान युद्ध हुआ था। इस युद्ध में दोनों देशों के काफी सैनिक हताहत हुए थे। घायल सैनिक दर्द एवं पीड़ा से कराह रहे थे। उनकी देखरेख करने वाला वहाँ कोई नहीं था। घायल सैनिकों की चीत्कार कारुणिक दृश्य उपस्थित कर रही थी। इस कारुणिक दृश्य को देखकर जान हेनरी का हृदय द्रवित हो उठा। कुछ लोगों को एकत्र करके तन-मन-धन से घायलों की सेवा में रत हो गए। इस प्रकार उनके सेवा भाव, अथक परिश्रम तथा प्रयासों से अनगिनत लोग मौत के मुँह में जाने से बच गए। इसके बाद जान हेनरी ने दुनिया को समझाया कि पीड़ित मानव किसी जाति, धर्म या संप्रदाय का नहीं होता। हम लोगों को जाति, धर्म, संप्रदाय एवं क्षेत्रीय भावना से ऊपर उठकर पीड़ितों की सेवा करनी चाहिए। जॉन हेनरी के इस विचार से प्रभावित होकर 8 मई 1864 को 18 देशों ने मिलकर रेडक्रॉस सोसाइटी की स्थापना की। इसका मुख्यालय जेनेवा में है। रेडक्रॉस का अपना एक झंडा भी है। यह सफ़ेद रंग का होता है, जिस पर लाल रंग से क्रॉस अंकित रहता है। यह झंडा पीड़ित मानवता की सेवा का प्रतीक है। भारत में 1910 में रेडक्रॉस की स्थापना हुई और इसका मुख्यालय नई दिल्ली में है। यह हमारे देश के हर जिले में कार्यरत है। इसका संरक्षक जिलाधीश होता है। इस संस्था के लिए धन की व्यवस्था चंदे से की जाती है।

युद्धकाल में तो यह संस्था मानवता के हित में कार्य करती ही है, शांति काल में भी बिना किसी भेदभाव के दवाइयाँ, रक्त, कृत्रिम अंगइत्यादि वितरित किये जाते हैं, चिकित्सा-केन्द्रों का निर्माण, रक्तदान केंद्र, कुछ रोगियों की सेवा, दवा, आवास की व्यवस्था, विकलांगों के लिए रिक्शे आदि की व्यवस्था भी करती है। "

SubQuestion No : 19

Q.19 रेडक्रॉस संस्था की स्थापना कैसे हुई?

Ans 1. लोगों को जाति, धर्म, संप्रदाय एवं क्षेत्रीय भावना के बारे में समझाने के लिए

2. 1857 में फ्रांस और आस्ट्रिया के बीच घमासान युद्ध के कारण हताहत सैनिकों के दर्द और पीड़ा से चीत्कार के कारुणिक दृश्य को देखकर

3. 1857 में विश्व शांति की ऐतिहासिक घटना के कारण उत्पन्न दृश्य को देखकर

4. सेवा परमो धर्मः के धार्मिक वचनों के कारण

Question ID : 630680249521

Option 1 ID : 630680969350

Option 2 ID : 630680969349

Option 3 ID : 630680969348

Option 4 ID : 630680969347

Status : Answered

Chosen Option : 4

Comprehension:

निम्नलिखित गद्यांश के आधार पर प्रश्न-संख्या 1- 4 का उत्तर दीजिए-

विश्व का प्रत्येक धर्म मानव सेवा का पक्षधर है, बल्कि धर्म का मूल मंत्र ही 'सेवा परमो धर्मः' है। इसी भावना से प्रेरित होकर स्विट्जरलैंड के निवासी जॉन हेनरी ने 'रेडक्रॉस' नामक संस्था की स्थापना की थी। आज रेडक्रॉस एक अंतरराष्ट्रीय संस्था हो गई है, जो मानवता के आधार पर लोगों की सहायता कर रही है। युद्ध एवं प्राकृतिक आपदाओं के समय पीड़ित मानवता की समुचित सेवा करना ही रेडक्रॉस का मूल उद्देश्य है।

रेडक्रॉस संस्था की स्थापना के पीछे एक ऐतिहासिक घटना है। सन् 1857 में फ्रांस और आस्ट्रिया के बीच घमासान युद्ध हुआ था। इस युद्ध में दोनों देशों के काफी सैनिक हताहत हुए थे। घायल सैनिक दर्द एवं पीड़ा से कराह रहे थे। उनकी देखरेख करने वाला वहाँ कोई नहीं था। घायल सैनिकों की चीत्कार कारुणिक दृश्य उपस्थित कर रही थी। इस कारुणिक दृश्य को देखकर जान हेनरी का हृदय द्रवित हो उठा। कुछ लोगों को एकत्र करके तन-मन-धन से घायलों की सेवा में रत हो गए। इस प्रकार उनके सेवा भाव, अथक परिश्रम तथा प्रयासों से अनगिनत लोग मौत के मुँह में जाने से बच गए। इसके बाद जान हेनरी ने दुनिया को समझाया कि पीड़ित मानव किसी जाति, धर्म या संप्रदाय का नहीं होता। हम लोगों को जाति, धर्म, संप्रदाय एवं क्षेत्रीय भावना से ऊपर उठकर पीड़ितों की सेवा करनी चाहिए। जॉन हेनरी के इस विचार से प्रभावित होकर 8 मई 1864 को 18 देशों ने मिलकर रेडक्रॉस सोसाइटी की स्थापना की। इसका मुख्यालय जेनेवा में है। रेडक्रॉस का अपना एक झंडा भी है। यह सफ़ेद रंग का होता है, जिस पर लाल रंग से क्रॉस अंकित रहता है। यह झंडा पीड़ित मानवता की सेवा का प्रतीक है। भारत में 1910 में रेडक्रॉस की स्थापना हुई और इसका मुख्यालय नई दिल्ली में है। यह हमारे देश के हर जिले में कार्यरत है। इसका संरक्षक जिलाधीश होता है। इस संस्था के लिए धन की व्यवस्था चंदे से की जाती है।

युद्धकाल में तो यह संस्था मानवता के हित में कार्य करती ही है, शांति काल में भी बिना किसी भेदभाव के दवाइयाँ, रक्त, कृत्रिम अंगइत्यादि वितरित किये जाते हैं, चिकित्सा-केन्द्रों का निर्माण, रक्तदान केंद्र, कुष्ठ रोगियों की सेवा, दवा, आवास की व्यवस्था, विकलांगों के लिए रिक्शे आदि की व्यवस्था भी करती है। "

SubQuestion No : 20

Q.20 गद्यांश के अनुसार रेडक्रॉस के कार्यों के लिए धन की व्यवस्था कैसे की जाती है?

- Ans
- 1. सभी सदस्य देश इसके लिए अलग से धन देते हैं
 - 2. सरकार इसके लिए अलग से धन देती है
 - 3. जेनेवा की सरकार चंदा करके धन जुटाती है
 - 4. चंदे द्वारा धन की व्यवस्था की जाती है

Question ID : 630680249823

Option 1 ID : 630680969357

Option 2 ID : 630680969355

Option 3 ID : 630680969358

Option 4 ID : 630680969356

Status : Answered

Chosen Option : 4

Section : General Intelligence

Q.1 दिए गए विकल्पों में से उस संख्या का चयन करें जो निम्नलिखित श्रृंखला में प्रश्न वाचक चिह्न (?) को प्रतिस्थापित कर सकती है।

17. 34. 53. 76. 105. 136. ?

- Ans
- 1. 181
 - 2. 192
 - 3. 160
 - 4. 173

Question ID : 630680249802

Option 1 ID : 630680969277

Option 2 ID : 630680969278

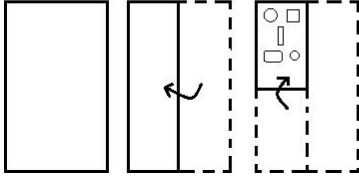
Option 3 ID : 630680969275

Option 4 ID : 630680969276

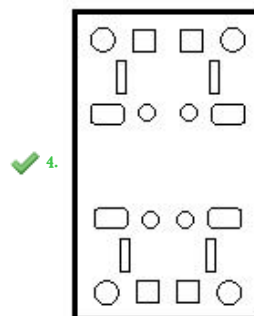
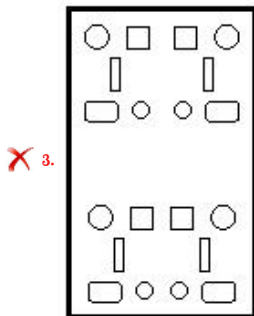
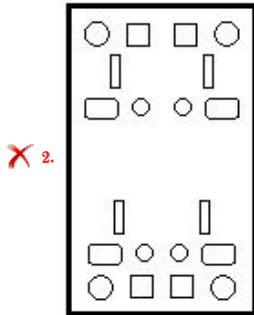
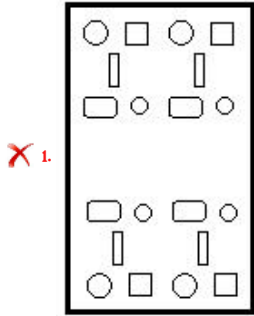
Status : Answered

Chosen Option : 4

Q.2 कागज की एक पारदर्शी शीट को मोड़ने का क्रम और मुड़े हुए कागज को काटने के तरीके को निम्नांकित आकृतियों में दर्शाया गया है। वापस खोलने पर यह कागज कैसा दिखाई देगा?



Ans



Question ID : 630680249800
 Option 1 ID : 630680969269
 Option 2 ID : 630680969270
 Option 3 ID : 630680969268
 Option 4 ID : 630680969267
 Status : Answered
 Chosen Option : 2

Q.3 किसी निश्चित कूट भाषा में, 'CLEAR' को '15-5-19' के रूप में और 'PRIZE' को '34-9-31' के रूप में लिखा जाता है। उस भाषा में 'LUCID' को किस प्रकार लिखा जाएगा?

- Ans
- 1. 33-3-10
 - 2. 32-3-12
 - 3. 30-3-13
 - 4. 33-3-13

Question ID : 630680249790
Option 1 ID : 630680969229
Option 2 ID : 630680969230
Option 3 ID : 630680969228
Option 4 ID : 630680969227
Status : Answered
Chosen Option : 4

Q.4 दिए गए कथनों और निष्कर्षों को ध्यानपूर्वक पढ़ें। यह मानते हुए कि कथनों में दी गई जानकारी सत्य है, भले ही यह सामान्य रूप से ज्ञात तथ्यों से भिन्न प्रतीत होती हो, तय करें कि दिए गए निष्कर्षों में से कौन-सा/से निष्कर्ष, कथनों का तार्किक रूप से अनुसरण करता है/करते हैं।

कथन:
सभी बेड, कम्बोर्ड हैं।
कुछ बेड, टेबल हैं।
कुछ टेबल, पिलो हैं।

निष्कर्ष:
I. कुछ कम्बोर्ड, टेबल हैं।
II. कोई भी कम्बोर्ड, टेबल नहीं है।
III. सभी पिलो, कम्बोर्ड हैं।

- Ans
- 1. केवल I और II अनुसरण करते हैं
 - 2. केवल I अनुसरण करता है
 - 3. केवल I और III अनुसरण करते हैं
 - 4. केवल II अनुसरण करता है

Question ID : 630680249785
Option 1 ID : 630680969207
Option 2 ID : 630680969209
Option 3 ID : 630680969208
Option 4 ID : 630680969210
Status : Answered
Chosen Option : 2

Q.5 जब दर्पण को दर्शाए गए अनुसार 'PQ' पर रखा जाए, तो दिए गए संयोजन के सही दर्पण प्रतिबिंब का चयन करें।

d 4 2 S N F |
P
Q

Ans

1. 1. F N S Z P
2. 2. F N S Z Q
3. 3. F N S Z P
4. 4. F N S Z Q

Question ID : 630680249796

Option 1 ID : 630680969253

Option 2 ID : 630680969252

Option 3 ID : 630680969251

Option 4 ID : 630680969254

Status : Answered

Chosen Option : 2

Q.6 एक कथन के बाद I और II क्रमांकित दो कार्यवाहियों दी गई हैं। कथन में दी गई सभी बातों को सत्य मानते हुए, तय करें कि सुझाई गई कौन-सी कार्यवाहियों (समस्या के संबंध में फॉलो अप/सुधार के लिए लिया जाने वाला निर्णय) तार्किक रूप से अनुसरण करती हैं।

कथन:

इस क्षेत्र के निवासियों द्वारा, अचानक पावर सर्ज और वोल्टेज प्रोत्कर्ष की घटनाओं का लगातार सामना करना पड़ता है जो उनके घरों में स्थापित संवेदनशील इलेक्ट्रॉनिक उपकरणों को हानि पहुंचाती हैं।

कार्यवाहियाँ:

- I. निवासियों को सामूहिक रूप से इस मुद्दे की जांच और सुधार के लिए विद्युत आपूर्ति कार्यालय को एक पत्र लिखना चाहिए।
- II. उनके द्वारा देखे गए इस तरह के पावर सर्ज की स्थिति में, उन्हें इन संवेदनशील इलेक्ट्रॉनिक उपकरणों को किसी भी संभावित हानि से बचाने के लिए इन उपकरणों को अनप्लग कर देना चाहिए।

Ans

1. 1. केवल II अनुसरण करती है
2. 2. न तो I न ही II अनुसरण करती है
3. 3. केवल I अनुसरण करती है
4. 4. I और II दोनों अनुसरण करती हैं

Question ID : 630680249793

Option 1 ID : 630680969240

Option 2 ID : 630680969242

Option 3 ID : 630680969239

Option 4 ID : 630680969241

Status : Answered

Chosen Option : 4

Q.7 यदि $B < H < T$ और $H > R > D = M > A$ है, तो निम्नलिखित में से कौन-सा निष्कर्ष सही है?

Ans 1. $T > R$

2. $R < A$

3. $M > H$

4. $T < B$

Question ID : 630680249786

Option 1 ID : 630680969212

Option 2 ID : 630680969214

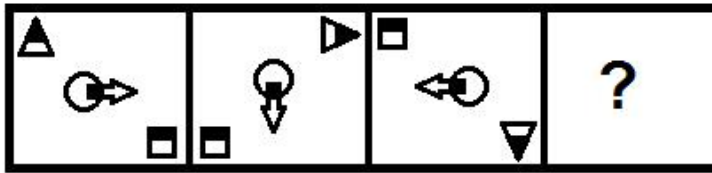
Option 3 ID : 630680969213

Option 4 ID : 630680969211

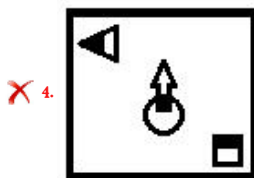
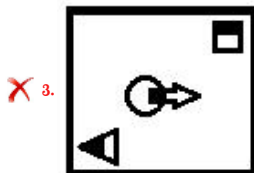
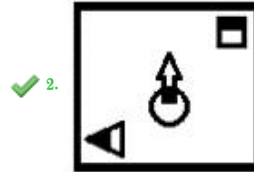
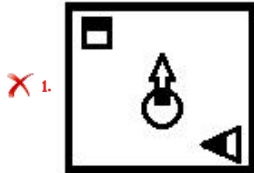
Status : Answered

Chosen Option : 1

Q.8 उस आकृति का चयन करें जो निम्नांकित श्रृंखला में आगे आएगी।



Ans



Question ID : 630680249795

Option 1 ID : 630680969250

Option 2 ID : 630680969247

Option 3 ID : 630680969248

Option 4 ID : 630680969249

Status : Answered

Chosen Option : 2

Q.9 उस विकल्प का चयन करें, जो पांचवें अक्षर-समूह से उसी प्रकार संबंधित है जिस प्रकार दूसरा अक्षर-समूह. पहले अक्षर-समूह से और चौथा अक्षर-समूह. तीसरे अक्षर-समूह से संबंधित है।

FIST : GHTS :: MART : NZSS :: BOSS : ?

Ans 1. CNTR

2. CPTS

3. APTR

4. CNRR

Question ID : 630680249791

Option 1 ID : 630680969233

Option 2 ID : 630680969231

Option 3 ID : 630680969232

Option 4 ID : 630680969234

Status : Answered

Chosen Option : 1

Q.10 P, Q, R, S, T, U और V में से प्रत्येक की परीक्षा सोमवार से शुरू होकर रविवार को समाप्त होने वाले एक ही सप्ताह के अलग-अलग दिन है। R की परीक्षा U की परीक्षा से ठीक पहले है। S के बाद केवल दो व्यक्तियों की परीक्षा है। P की परीक्षा T की परीक्षा के ठीक बाद है। Q की परीक्षा V की परीक्षा के ठीक बाद है। U की परीक्षा रविवार को है। V की परीक्षा P की परीक्षा के ठीक बाद है। T की परीक्षा किस दिन है?

Ans 1. सोमवार

2. गुरुवार

3. मंगलवार

4. बुधवार

Question ID : 630680249784

Option 1 ID : 630680969203

Option 2 ID : 630680969206

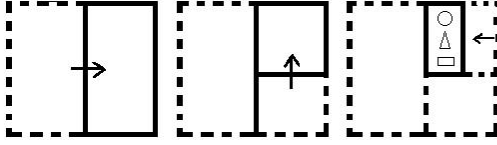
Option 3 ID : 630680969204

Option 4 ID : 630680969205

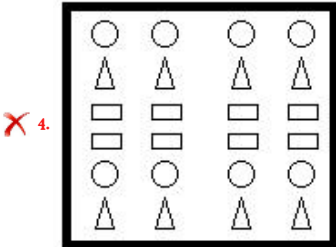
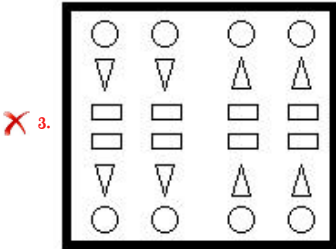
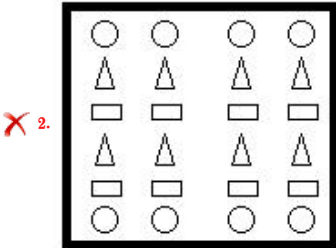
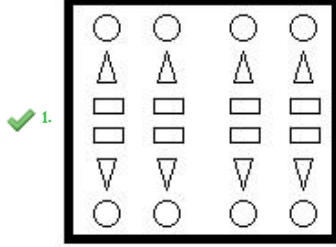
Status : Answered

Chosen Option : 2

Q.11 कागज की एक पारदर्शी शीट को मोड़ने का क्रम और मुड़े हुए कागज को काटने के तरीके को निम्नांकित आकृतियों में दर्शाया गया है। वापस खोलने पर यह कागज कैसा दिखाई देगा?



Ans



Question ID : 630680249799

Option 1 ID : 630680969265

Option 2 ID : 630680969264

Option 3 ID : 630680969263

Option 4 ID : 630680969266

Status : Answered

Chosen Option : 1

Q.12 किसी निश्चित कूट भाषा में, 'COURAGE' को 'VPDQFHB' के रूप में और 'MAGICAL' को 'HBNHMBD' के रूप में लिखा जाता है। उस भाषा में 'HOSTELS' को किस प्रकार लिखा जाएगा?

- Ans
- 1. TPISTMF
 - 2. TOISTNF
 - 3. SPITTFM
 - 4. TQJSTNF

Question ID : 630680249789
Option 1 ID : 630680969226
Option 2 ID : 630680969223
Option 3 ID : 630680969224
Option 4 ID : 630680969225
Status : Answered
Chosen Option : 1

Q.13 दिए गए विकल्पों में से उस पद का चयन करें, जो निम्नलिखित श्रृंखला में प्रश्न वाचक चिह्न (?) को प्रतिस्थापित कर सकता है।

FTY-8. ERV-12. DPS-20. CNP-36. ?

- Ans
- 1. BLN-68
 - 2. BLM-68
 - 3. BKM-70
 - 4. BLM-64

Question ID : 630680249787
Option 1 ID : 630680969217
Option 2 ID : 630680969216
Option 3 ID : 630680969218
Option 4 ID : 630680969215
Status : Answered
Chosen Option : 2

Q.14 दी गई आकृति के सही जल प्रतिबिंब का चयन करें।



Ans



Question ID : 630680249797
Option 1 ID : 630680969258
Option 2 ID : 630680969257
Option 3 ID : 630680969255
Option 4 ID : 630680969256
Status : Answered
Chosen Option : 2

Q.15 उस विकल्प का चयन करें, जिसमें दी गई आकृति अंतःस्थापित है (घूर्णन की अनुमति नहीं है)।



Ans

✗ 1.



✓ 2.



✗ 3.



✗ 4.



Question ID : 630680249798

Option 1 ID : 630680969262

Option 2 ID : 630680969259

Option 3 ID : 630680969261

Option 4 ID : 630680969260

Status : Answered

Chosen Option : 2

Q.16 दिए गए विकल्पों में से उस संख्या का चयन करें, जो निम्नलिखित श्रृंखला में प्रश्न वाचक चिह्न (?) को प्रतिस्थापित कर सकती है।

13. 18. 33. 58. 93. ?

Ans ✗ 1. 122

✗ 2. 130

✓ 3. 138

✗ 4. 143

Question ID : 630680249801

Option 1 ID : 630680969271

Option 2 ID : 630680969272

Option 3 ID : 630680969273

Option 4 ID : 630680969274

Status : Answered

Chosen Option : 3

Q.17 चार अक्षर-समूह दिए गए हैं, जिनमें से तीन किसी प्रकार से एकसमान हैं और एक असंगत है। उस असंगत अक्षर-समूह का चयन करें।

- Ans
- 1. TYDIN
 - 2. GLQVA
 - 3. UZEJO
 - 4. MRWCG

Question ID : 630680249792
Option 1 ID : 630680969236
Option 2 ID : 630680969237
Option 3 ID : 630680969235
Option 4 ID : 630680969238
Status : Answered
Chosen Option : 4

Q.18 नीचे दिए गए प्रत्येक अक्षर को एक अद्वितीय संख्या दी गई है। संख्याओं के ऐसे संयोजन का चयन करें, जिसके संबंधित अक्षरों को व्यवस्थित करने पर एक सार्थक शब्द बने।

1	2	3	4	5	6	7
R	E	S	A	N	T	O

- Ans
- 1. 3. 7. 5. 4. 6. 2. 1
 - 2. 3. 2. 5. 4. 6. 7. 1
 - 3. 3. 4. 5. 2. 6. 1. 7
 - 4. 2. 3. 5. 4. 7. 6. 1

Question ID : 630680249788
Option 1 ID : 630680969220
Option 2 ID : 630680969219
Option 3 ID : 630680969221
Option 4 ID : 630680969222
Status : Answered
Chosen Option : 2

Q.19 निम्नलिखित समीकरण को बराबर करने के लिए किन दो संख्याओं को आपस में बदला जाना चाहिए?

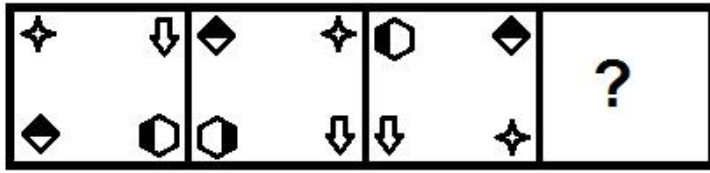
$$16 + 8 \times 24 \div 4 - 26 = 30$$

- Ans
- 1. 16 और 4
 - 2. 16 और 24
 - 3. 8 और 4
 - 4. 16 और 26

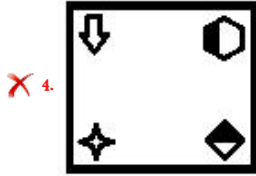
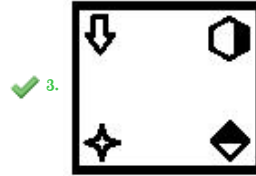
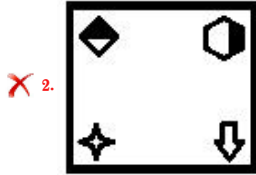
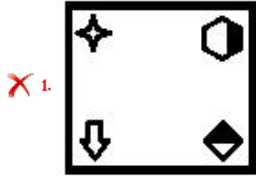
Question ID : 630680249803
Option 1 ID : 630680969279
Option 2 ID : 630680969282
Option 3 ID : 630680969281
Option 4 ID : 630680969280
Status : Answered
Chosen Option : 2

Q.20

उस आकृति का चयन करें, जो निम्नांकित श्रृंखला में आगे आएगी।



Ans



Question ID : 630680249794

Option 1 ID : 630680969245

Option 2 ID : 630680969246

Option 3 ID : 630680969243

Option 4 ID : 630680969244

Status : Answered

Chosen Option : 3

Section : Numerical Aptitude

Q.1 ब्याज अर्धवार्षिक रूप से चक्रवृद्धित होने पर, एक निश्चित राशि 10% वार्षिक ब्याज दर से एक वर्ष में ₹13,230 हो जाती है। उसी राशि पर, उसी ब्याज दर पर, वार्षिक रूप से चक्रवृद्धित होने पर 3 वर्ष में चक्रवृद्धि ब्याज कितना होगा?

Ans ✗ 1. ₹3,974

✗ 2. ₹3,792

✓ 3. ₹3,972

✗ 4. ₹3,729

Question ID : 630680249836

Option 1 ID : 630680969408

Option 2 ID : 630680969407

Option 3 ID : 630680969410

Option 4 ID : 630680969409

Status : Answered

Chosen Option : 4

Q.2 दो समान घन, प्रत्येक का आयतन 729 cm^3 है, आधोपान्त (end to end) एक साथ जुड़े हुए हैं। परिणामी घनाभ का कुल पृष्ठीय क्षेत्रफल क्या होगा?

- Ans
- 1. 810 cm^2
 - 2. 900 cm^2
 - 3. 820 cm^2
 - 4. 990 cm^2

Question ID : 630680249544
Option 1 ID : 630680969440
Option 2 ID : 630680969441
Option 3 ID : 630680969439
Option 4 ID : 630680969442
Status : Answered
Chosen Option : 3

Q.3 एक व्यक्ति अपनी आय का 18% बचाता है। यदि उसकी आय में 6.65% की वृद्धि होती है और उसकी बचत में 20% की कमी होती है, तो उसके व्यय में कितने प्रतिशत की वृद्धि होगी?

- Ans
- 1. 10.5%
 - 2. 10%
 - 3. 12.5%
 - 4. 12%

Question ID : 630680249529
Option 1 ID : 630680969331
Option 2 ID : 630680969332
Option 3 ID : 630680969330
Option 4 ID : 630680969379
Status : Answered
Chosen Option : 3

Q.4 एक वस्तु का क्रय मूल्य ₹600 है। एक दुकानदार इसके सूची मूल्य पर 15% की छूट देने के बाद इसे ₹680 में बेचता है। यदि वह इसके सूची मूल्य पर 10% की छूट देने के बाद इसे बेचता है, तो लाभ प्रतिशत ज्ञात करें।

- Ans
- 1. 16%
 - 2. 20%
 - 3. 19.5%
 - 4. 15%

Question ID : 630680249531
Option 1 ID : 630680969338
Option 2 ID : 630680969339
Option 3 ID : 630680969390
Option 4 ID : 630680969387
Status : Answered
Chosen Option : 3

Q.5 A, B से 20% कम है, और C, A से 30% अधिक है। यदि B में 20% की कमी होती है और C में 10% की वृद्धि होती है, तो C, B के नए मान से कितने प्रतिशत अधिक है?

- Ans
- ✓ 1. 43%
 - ✗ 2. 45.75%
 - ✗ 3. 47%
 - ✗ 4. 47.25%

Question ID : 630680249828
Option 1 ID : 630680969377
Option 2 ID : 630680969378
Option 3 ID : 630680969375
Option 4 ID : 630680969376
Status : Answered
Chosen Option : 4

Q.6 एक वर्ग का परिमाण 120 cm है। एक आयत की लंबाई वर्ग की भुजा से 5 cm अधिक है, और आयत की चौड़ाई वर्ग की भुजा से 6 cm कम है। वर्ग और आयत के क्षेत्रफल के बीच का अंतर, आयत के क्षेत्रफल का लगभग कितने प्रतिशत है?

- Ans
- ✗ 1. 6.2%
 - ✗ 2. 8%
 - ✗ 3. 6.5%
 - ✓ 4. 7%

Question ID : 630680249842
Option 1 ID : 630680969431
Option 2 ID : 630680969434
Option 3 ID : 630680969432
Option 4 ID : 630680969433
Status : Answered
Chosen Option : 3

Q.7 X, Y और Z अपनी पूँजी को 8 : 5 : 4 के अनुपात में निवेश करके एक साझेदारी आरंभ करते हैं। एक वर्ष के अंत में, लाभ को X, Y और Z के बीच 6 : 3 : 2 के अनुपात में वितरित किया जाता है। वह समय अनुपात ज्ञात करें, जिसके लिए X, Y और Z ने अपनी पूँजी का निवेश किया था?

- Ans
- ✓ 1. 15 : 12 : 10
 - ✗ 2. 18 : 5 : 9
 - ✗ 3. 15 : 12 : 8
 - ✗ 4. 13 : 8 : 5

Question ID : 630680249833
Option 1 ID : 630680969398
Option 2 ID : 630680969397
Option 3 ID : 630680969396
Option 4 ID : 630680969395
Status : Answered
Chosen Option : 2

Q.8 मान लें कि r_1 और r_2 क्रमशः गोलों A और B की त्रिज्याएँ इस प्रकार हैं कि $r_1 + r_2 = 9$ इकाई है। A और B के आयतनों का योग 792 घन इकाई है। $r_1^2 + r_2^2$ का मान ज्ञात करें। ($\pi = \frac{22}{7}$ का प्रयोग करें)

- Ans
- 1. 53
 - 2. 45
 - 3. 65
 - 4. 41

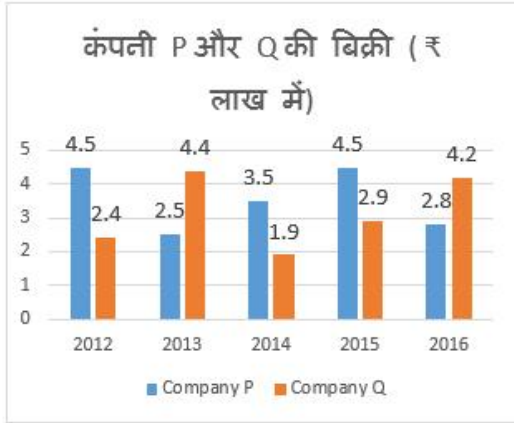
Question ID : 630680249843
Option 1 ID : 630680969437
Option 2 ID : 630680969436
Option 3 ID : 630680969438
Option 4 ID : 630680969435
Status : Answered
Chosen Option : 3

Q.9 यदि दो संख्याओं के योग का वर्ग 25 है, और उन्हीं दो संख्याओं के अंतर का वर्ग 15 है, तो उनका गुणनफल ज्ञात करें।

- Ans
- 1. 2.5
 - 2. 2
 - 3. 3
 - 4. 3.5

Question ID : 630680249841
Option 1 ID : 630680969428
Option 2 ID : 630680969427
Option 3 ID : 630680969429
Option 4 ID : 630680969430
Status : Answered
Chosen Option : 3

Q.10 निम्नांकित ग्राफ का अध्ययन करें और नीचे दिए गए प्रश्न का उत्तर दें।



Company P : कंपनी P

Company Q : कंपनी Q

पहले तीन वर्षों में कंपनी P की औसत बिक्री और अंतिम तीन वर्षों में कंपनी Q की औसत बिक्री का अनुपात ज्ञात कीजिए।

- Ans
- 1. 6 : 7
 - 2. 7 : 5
 - 3. 7 : 6
 - 4. 5 : 7

Question ID : 630680249840
Option 1 ID : 630680969423
Option 2 ID : 630680969426
Option 3 ID : 630680969425
Option 4 ID : 630680969424
Status : Answered
Chosen Option : 2

Q.11 एक निश्चित राशि साधारण ब्याज की 7.4% वार्षिक दर से 5 वर्षों में ₹7,535 हो जाती है। यदि ब्याज अर्धवार्षिक रूप से चक्रवृद्धित होता है, तो वही राशि (₹ में) 20% वार्षिक ब्याज दर से एक वर्ष में कितनी हो जाएगी?

- Ans
- 1. 7,920
 - 2. 6,655
 - 3. 6,413
 - 4. 6,534

Question ID : 630680249835
Option 1 ID : 630680969406
Option 2 ID : 630680969405
Option 3 ID : 630680969403
Option 4 ID : 630680969404
Status : Answered
Chosen Option : 3

Q.12 ₹3,051 की राशि को X, Y और Z के बीच इस प्रकार विभाजित किया जाता है कि X का हिस्से तथा Y और Z के संयुक्त हिस्से का अनुपात 5: 4 है एवं Z के हिस्से तथा X और Y के संयुक्त हिस्से का अनुपात 7 : 20 है। Y का हिस्सा ज्ञात करें।

- Ans
- 1. ₹655
 - 2. ₹566
 - 3. ₹556
 - 4. ₹565

Question ID : 630680249834
Option 1 ID : 630680969400
Option 2 ID : 630680969402
Option 3 ID : 630680969401
Option 4 ID : 630680969399
Status : Answered
Chosen Option : 3

Q.13 पहली नौ प्राकृत संख्याओं के घनों का योग ज्ञात करें।

- Ans
- 1. 2000
 - 2. 2055
 - 3. 2025
 - 4. 2520

Question ID : 630680249825
Option 1 ID : 630680969366
Option 2 ID : 630680969365
Option 3 ID : 630680969364
Option 4 ID : 630680969363
Status : Answered
Chosen Option : 3

Q.14 एक कक्षा में 35 विद्यार्थियों का औसत भार 66 kg है। 58.5 kg औसत भार वाले छह छात्र कक्षा छोड़ देते हैं, और 68 kg औसत भार वाले 11 विद्यार्थी कक्षा में सम्मिलित हो जाते हैं। अब कक्षा में विद्यार्थियों का औसत भार (kg में) क्या है?

- Ans
- 1. 67.675
 - 2. 66.5
 - 3. 68.5
 - 4. 66.375

Question ID : 630680249826
Option 1 ID : 630680969369
Option 2 ID : 630680969368
Option 3 ID : 630680969370
Option 4 ID : 630680969367
Status : Answered
Chosen Option : 4

Q.15 एक दुकानदार एक वस्तु P को 15% के लाभ पर ₹6,210 में और दूसरी वस्तु Q को 5% की हानि पर ₹2,470 में बेचता है। संपूर्ण लेन-देन में उसका कुल लाभ प्रतिशत ज्ञात करें।

- Ans
- 1. 10.5%
 - 2. 8.5%
 - 3. 8%
 - 4. 10%

Question ID : 630680249830
Option 1 ID : 630680969386
Option 2 ID : 630680969384
Option 3 ID : 630680969383
Option 4 ID : 630680969385
Status : Answered
Chosen Option : 2

Q.16 निम्नलिखित तालिका का अध्ययन करें और नीचे दिए गए प्रश्न का उत्तर दें।
जनवरी से जून 2022 के दौरान स्टोर A और B द्वारा बेचे गए कंप्यूटरों की संख्या।

माह	स्टोर	
	A	B
जनवरी	220	150
फरवरी	180	210
मार्च	240	200
अप्रैल	210	240
मई	340	290
जून	320	300

स्टोर B द्वारा फरवरी, अप्रैल और जून में बेचे गए कंप्यूटरों की औसत संख्या (प्रति माह), स्टोर A द्वारा जनवरी, मार्च और मई में बेचे गए कंप्यूटरों की कुल संख्या का कितने प्रतिशत है?

- Ans
- 1. 32.75%
 - 2. 31.25%
 - 3. 32%
 - 4. 30%

Question ID : 630680249839
Option 1 ID : 630680969422
Option 2 ID : 630680969420
Option 3 ID : 630680969421
Option 4 ID : 630680969419
Status : Answered
Chosen Option : 2

Q.17 A किसी कार्य का $\frac{1}{5}$ भाग 3 दिनों में कर सकता है और B उस कार्य को 24 दिनों में कर सकता है। C कार्य का 40% भाग 8 दिनों में पूरा कर सकता है। तीनों x दिनों के लिए एक साथ मिलकर कार्य करते हैं; फिर A काम छोड़ देता है, और शेष कार्य B और C मिलकर x दिनों में पूरा करते हैं। x का मान ज्ञात करें।

Ans

1. $3\frac{1}{2}$

2. 4

3. $4\frac{1}{2}$

4. $4\frac{3}{4}$

Question ID : 630680249838

Option 1 ID : 630680969415

Option 2 ID : 630680969418

Option 3 ID : 630680969417

Option 4 ID : 630680969416

Status : Answered

Chosen Option : 3

Q.18 विलयनों A और B में स्पिरिट और जल का अनुपात क्रमशः 2:3 और 7:8 है। छह लीटर A को 9 लीटर B के साथ मिलाया जाता है। परिणामी मिश्रण में स्पिरिट का प्रतिशत ज्ञात करें।

Ans

1. 44%

2. 40%

3. 52%

4. 56%

Question ID : 630680249827

Option 1 ID : 630680969372

Option 2 ID : 630680969371

Option 3 ID : 630680969373

Option 4 ID : 630680969374

Status : Answered

Chosen Option : 3

Q.19 यदि $a : b = \frac{1}{2} : \frac{1}{3}$ और $b : c = \frac{1}{4} : \frac{1}{7}$ है, तो $a : b : c = ?$

Ans

1. 21 : 14 : 8

2. 21 : 8 : 14

3. 8 : 14 : 21

4. 14 : 21 : 8

Question ID : 630680249832

Option 1 ID : 630680969391

Option 2 ID : 630680969393

Option 3 ID : 630680969394

Option 4 ID : 630680969392

Status : Answered

Chosen Option : 1

Q.20 एक नाव धारा के प्रतिकूल 4 km और धारा के अनुकूल 6 km की दूरी तय करने में एक घंटे का समय लेती है, जबकि धारा के प्रतिकूल 72 km और धारा के अनुकूल 48 km की दूरी तय करने में उसे 13 घंटे का समय लगता है। स्थिर जल में नाव की चाल (km/h में) ज्ञात करें।

- Ans
- 1. 12
 - 2. 15
 - 3. 9
 - 4. 10

Question ID : 630680249837
Option 1 ID : 630680969413
Option 2 ID : 630680969414
Option 3 ID : 630680969411
Option 4 ID : 630680969412
Status : Answered
Chosen Option : 2

Section : Clerical Aptitude

Q.1 दी गई संख्या. प्रतीक श्रृंखला के आधार पर नीचे दिए गए प्रश्न का उत्तर दीजिए।

(बाएं) 3 @ 2 \$ \$ # % 4 ' * 6 @ 0 6 * % 2 £ 2 & 2 5 % 2 3 (दाएं)

उपरोक्त श्रृंखला में ऐसी कितनी संख्याएं हैं, जिनमें से प्रत्येक के ठीक पहले एक प्रतीक है और ठीक बाद एक संख्या भी है?

- Ans
- 1. 1
 - 2. 4
 - 3. 2
 - 4. 3

Question ID : 630680249744
Option 1 ID : 630680969047
Option 2 ID : 630680969050
Option 3 ID : 630680969048
Option 4 ID : 630680969049
Status : Answered
Chosen Option : 3

Q.2 श्रेया का छोटा भाई साहिल. सुरभि से बड़ा है। सुमन. स्वाति से छोटी किन्तु श्रेया से बड़ी है। सबसे बड़ा कौन है?

- Ans
- 1. श्रेया
 - 2. सुमन
 - 3. साहिल
 - 4. स्वाति

Question ID : 630680249758
Option 1 ID : 630680969104
Option 2 ID : 630680969105
Option 3 ID : 630680969106
Option 4 ID : 630680969103
Status : Answered
Chosen Option : 2

Q.3 दिए गए शब्द का सबसे उपयुक्त विलोम शब्द चुनें।

RELAXED

- Ans
- 1. Lazy
 - 2. Carefree
 - 3. Worried
 - 4. Calm

Question ID : 630680249752
Option 1 ID : 630680969081
Option 2 ID : 630680969080
Option 3 ID : 630680969082
Option 4 ID : 630680969079
Status : Answered
Chosen Option : 3

Q.4 यदि एक निश्चित कूटभाषा में 'ACE' को 'DGJ' के रूप में लिखा जाता है, या ARMS को 'DVRV' के रूप में लिखा जाता है, तो उसी भाषा में 'STOP' को कैसे लिखा जाएगा?

- Ans
- 1. UWTV
 - 2. UXTV
 - 3. VXTV
 - 4. VXTU

Question ID : 630680249757
Option 1 ID : 630680969101
Option 2 ID : 630680969102
Option 3 ID : 630680969100
Option 4 ID : 630680969099
Status : Answered
Chosen Option : 3

Q.5 निम्न वाक्य को भागों में बांटा गया है। इनमें से एक भाग में एक त्रुटि है। दिए गए विकल्पों में से वह भाग चुनें जिसमें त्रुटि है। यदि आपको कोई त्रुटि न मिले तो 'कोई त्रुटि नहीं' को अपना उत्तर चुनें।

I asked her / that why she was / beating about the bush.

- Ans
- 1. No error
 - 2. I asked her
 - 3. that why she was
 - 4. beating about the bush

Question ID : 630680249761
Option 1 ID : 630680969118
Option 2 ID : 630680969115
Option 3 ID : 630680969116
Option 4 ID : 630680969117
Status : Answered
Chosen Option : 3

Q.6 यदि एक निश्चित कूटभाषा में

1. 'nike ke pe' का अर्थ 'where are you' है।
2. 'ke na ra da' का अर्थ 'you can sit there' है।
3. 'lo ra ta' का अर्थ 'please sit here' है।

तो इस भाषा में 'nike' का क्या अर्थ है?

1. Where
2. are
3. Where or are
4. इनमें से कोई नह

Ans 1. 3

2. 2

3. 1

4. 4

Question ID : 630680249760

Option 1 ID : 630680969113

Option 2 ID : 630680969112

Option 3 ID : 630680969111

Option 4 ID : 630680969114

Status : Answered

Chosen Option : 3

Q.7 दिए गए विकल्पों में से उस संख्या का चयन कीजिए, जो निम्नलिखित श्रृंखला में प्रश्नवाचक चिह्न (?) के स्थान पर आएगी।

18. 23. 30. 39. 50. ?

Ans 1. 64

2. 59

3. 62

4. 63

Question ID : 630680249749

Option 1 ID : 630680969067

Option 2 ID : 630680969068

Option 3 ID : 630680969070

Option 4 ID : 630680969069

Status : Answered

Chosen Option : 4

Q.8 पांच दोस्तों में रोहन, सुशीला से नाटे, हार्दिक से लंबा है। निज़ा, हेरी से लंबी है लेकिन हार्दिक से नाटी है। सुशीला, रोहन से नाटी है। सबसे लंबा कौन है?

Ans 1. निज़ा

2. सुशीला

3. रोहन

4. हार्दिक

Question ID : 630680249754

Option 1 ID : 630680969090

Option 2 ID : 630680969089

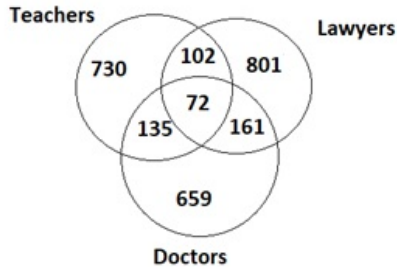
Option 3 ID : 630680969087

Option 4 ID : 630680969088

Status : Answered

Chosen Option : 2

Q.9 दिए गए आरेख का ध्यानपूर्वक अध्ययन कीजिए और प्रश्न का उत्तर दीजिए।
विभिन्न खंडों की संख्याएं व्यक्तियों की संख्या दर्शाती हैं।



Teachers = अध्यापक

Lawyers = वकील

Doctors = डॉक्टर

कितने व्यक्ति केवल वकील हैं?

- Ans
- 1. 102
 - 2. 161
 - 3. 72
 - 4. 801

Question ID : 630680249746
Option 1 ID : 630680969056
Option 2 ID : 630680969057
Option 3 ID : 630680969055
Option 4 ID : 630680969058
Status : Answered
Chosen Option : 4

Q.10 गलत वर्तनी वाले शब्द का चयन करें।

- Ans
- 1. Pilgrimage
 - 2. Frequented
 - 3. Nonetheless
 - 4. pleasant

Question ID : 630680249755
Option 1 ID : 630680969093
Option 2 ID : 630680969094
Option 3 ID : 630680969091
Option 4 ID : 630680969092
Status : Answered
Chosen Option : 4

Q.11 दिए गए कथन और निष्कर्षों को ध्यानपूर्वक पढ़िए। तय कीजिए कि दिए गए निष्कर्षों में से कौन सा/से निष्कर्ष कथन का तार्किक रूप से अनुसरण करता/करते है/हैं।

कथन: "महिलाओं के साथ उनकी शादी के बाद सच्ची निस्वार्थ मित्रता बनाना मुश्किल होता है क्योंकि वे हमेशा अपने मित्रों से अधिक अपने परिवार को प्राथमिकता देती हैं।" एक महिला. अपने पति से शिकायत करती है।

निष्कर्ष:

- I. बड़ों द्वारा परिवार के भीतर अच्छे संबंध बनाए रखने के लिए परिवारों को प्राथमिकता दी जानी चाहिए।
- II. विवाहित व्यक्ति से मित्रता संभव नहीं है।

- Ans
- 1. केवल निष्कर्ष II अनुसरण करता है
 - 2. दोनों निष्कर्ष अनुसरण करते हैं
 - 3. केवल निष्कर्ष I अनुसरण करता है
 - 4. न तो निष्कर्ष I और न ही II अनुसरण करता है

Question ID : 630680249743
Option 1 ID : 630680969044
Option 2 ID : 630680969045
Option 3 ID : 630680969043
Option 4 ID : 630680969046
Status : Answered
Chosen Option : 4

Q.12 निम्नलिखित प्रश्न नीचे दी गई पांच संख्याओं पर आधारित है। दी गई जानकारी का अध्ययन करें और निम्नलिखित प्रश्न का उत्तर दें।

649, 457, 189, 228, 497

बाईं ओर से दूसरी सबसे छोटी संख्या के तीसरे अंक और बाईं ओर से दूसरी सबसे बड़ी संख्या के पहले अंक का गुणनफल क्या होगा?

- Ans
- 1. 18
 - 2. 32
 - 3. 24
 - 4. 40

Question ID : 630680249753
Option 1 ID : 630680969085
Option 2 ID : 630680969083
Option 3 ID : 630680969084
Option 4 ID : 630680969086
Status : Answered
Chosen Option : 1

Q.13 निम्न वाक्य को भागों में बांटा गया है। इनमें से एक भाग में एक त्रुटि है। दिए गए विकल्पों में से वह भाग चुनें जिसमें त्रुटि है। यदि आपको कोई त्रुटि न मिले तो 'कोई त्रुटि नहीं' को अपना उत्तर चुनें।

Work hard / lest you / may not fail.

- Ans
- 1. lest you
 - 2. Work hard
 - 3. No error
 - 4. may not fail

Question ID : 630680249762
Option 1 ID : 630680969120
Option 2 ID : 630680969119
Option 3 ID : 630680969122
Option 4 ID : 630680969121
Status : Answered
Chosen Option : 1

Q.14 नीचे एक वाक्य के कुछ भाग अव्यवस्थित क्रम में दिए गए हैं। सार्थक वाक्य बनाने के लिए भागों को सही क्रम में व्यवस्थित कीजिए।

- A. where little
- B. barren area of land
- C. precipitation occurs
- D. a desert is a

- Ans
- 1. BCDA
 - 2. ADBC
 - 3. CADB
 - 4. DBAC

Question ID : 630680249745
Option 1 ID : 630680969052
Option 2 ID : 630680969051
Option 3 ID : 630680969054
Option 4 ID : 630680969053
Status : Answered
Chosen Option : 2

Q.15 OXYGEN शब्द में प्रत्येक स्वर को अंग्रेजी वर्णानुक्रम में उसके बाद वाले अक्षर से बदल दिया जाता है और प्रत्येक व्यंजन को अंग्रेजी वर्णानुक्रम में उससे पहले वाले अक्षर से बदल दिया जाता है। यदि इस प्रकार बने प्रत्येक अक्षर को वर्णानुक्रम में व्यवस्थित किया जाए, तो कौन सा अक्षर बाएं से चौथा होगा?

- Ans
- 1. W
 - 2. M
 - 3. F
 - 4. P

Question ID : 630680249750
Option 1 ID : 630680969074
Option 2 ID : 630680969072
Option 3 ID : 630680969071
Option 4 ID : 630680969073
Status : Answered
Chosen Option : 1

Q.16 उस विकल्प का चयन कीजिए, जो तीसरे शब्द से ठीक उसी प्रकार संबंधित है, जिस प्रकार दूसरा शब्द, पहले शब्द से संबंधित है।

कपड़े : अलमारी :: कार : ?

- Ans
- 1. मैकेनिक
 - 2. गैराज
 - 3. मालिक
 - 4. हाइवे

Question ID : 630680249748
Option 1 ID : 630680969063
Option 2 ID : 630680969064
Option 3 ID : 630680969065
Option 4 ID : 630680969066
Status : Answered
Chosen Option : 2

Q.17 जिस प्रकार नार्वे, ओस्लो से संबंधित है. उसी प्रकार केन्या, ____ से संबंधित है।

- Ans
- 1. नैरोबी
 - 2. तेहरान
 - 3. माँस्को
 - 4. निकोसिया

Question ID : 630680249756
Option 1 ID : 630680969095
Option 2 ID : 630680969097
Option 3 ID : 630680969096
Option 4 ID : 630680969098
Status : Answered
Chosen Option : 4

Q.18 रिक्त स्थान की पूर्ति के लिए सर्वाधिक उपयुक्त विकल्प का चयन करें।
I was lucky to have _____ the plane crash.

- Ans
- 1. Endured
 - 2. Recovered
 - 3. Handled
 - 4. Survived

Question ID : 630680249751
Option 1 ID : 630680969076
Option 2 ID : 630680969077
Option 3 ID : 630680969078
Option 4 ID : 630680969075
Status : Answered
Chosen Option : 3

Q.19 असंगत को चिह्नित कीजिए

- Ans
- 1. घाघरा
 - 2. गंडक
 - 3. कोसी
 - 4. संकोश

Question ID : 630680249759
Option 1 ID : 630680969108
Option 2 ID : 630680969107
Option 3 ID : 630680969109
Option 4 ID : 630680969110
Status : Answered
Chosen Option : 1

Q.20 दिए गए विकल्पों में से उस अक्षरांकीय-समूह का चयन कीजिए, जो निम्नलिखित श्रृंखला में प्रश्नवाचक चिह्न (?) के स्थान पर आएगा।

QU41. TO36. WI29. ZE18. ?

- Ans
- 1. CA4
 - 2. CA5
 - 3. CA6
 - 4. CA9

Question ID : 630680249747
Option 1 ID : 630680969059
Option 2 ID : 630680969061
Option 3 ID : 630680969062
Option 4 ID : 630680969060
Status : Answered
Chosen Option : 2

Section : Basic Computer Knowledge

Q.1 MS-Excel365 में सेल एड्रेस D101. _____ को इंगित करता है।

- Ans
- 1. 101^{वा} पंक्ति 'D' स्तंभ
 - 2. D^{वा} पंक्ति '101' स्तंभ
 - 3. D^{वा} पंक्ति '10' स्तंभ
 - 4. पांचवीं पंक्ति 101 स्तंभ

Question ID : 630680249736
Option 1 ID : 630680969016
Option 2 ID : 630680969015
Option 3 ID : 630680969017
Option 4 ID : 630680969018
Status : Answered
Chosen Option : 2

Q.2 निम्नलिखित में से किस प्रकार के इंटरनेट कनेक्शन में इंटरनेट कनेक्शन प्रदान करने के लिए पारंपरिक टेलीफोन लाइनों का उपयोग किया जाता है?

- Ans
- 1. केबल इंटरनेट
 - 2. डायल-अप इंटरनेट
 - 3. सैटेलाइट
 - 4. वायरलेस

Question ID : 630680249729
Option 1 ID : 630680968989
Option 2 ID : 630680968987
Option 3 ID : 630680968990
Option 4 ID : 630680968988
Status : Answered
Chosen Option : 1

Q.3 'मेल सिस्टम के घटक' नाम वाले कॉलम का 'विवरण' नाम वाले कॉलम के साथ मिलान कीजिए।

मेल सिस्टम के घटक	विवरण
a) मेल यूजर एजेंट	i) यह ईमेल सिस्टम का आधार है। यह अपने प्रचालन के लिए सिंपल मेल ट्रांसपोर्ट प्रोटोकॉल (SMTP) का उपयोग करता है।
b) मेल सबमिशन एजेंट	ii) यह एक सॉफ्टवेयर एप्लिकेशन या एक प्रोग्राम है जिसका उपयोग ईमेल लिखने और पढ़ने के लिए किया जाता है।
c) मेल डिलीवरी एजेंट	iii) यह उपयोगकर्ता एजेंट से ईमेल लेता है और उन्हें मेल ट्रांसफर एजेंट को डिलीवर करता है।
d) मेल ट्रांसपोर्ट एजेंट	iv) यह मेल ट्रांसफर एजेंट से ईमेल लेता है और उन्हें मैसेज स्टोर में डिलीवर करता है।

- Ans
- 1. a-ii. b-iv. c-iii. d-i
 - 2. a-iii. b-ii. c-iv. d-i
 - 3. a-ii. b-iii. c-iv. d-i
 - 4. a-ii. b-iii. c-i. d-iv

Question ID : 630680249731
Option 1 ID : 630680968997
Option 2 ID : 630680968996
Option 3 ID : 630680968995
Option 4 ID : 630680968998
Status : Answered
Chosen Option : 3

Q.4 'कम्पाइलर डिजाइन के चरण' नाम वाले कॉलम को 'विवरण' नाम वाले कॉलम से सुमेलित कीजिए।

कम्पाइलर डिजाइन के चरण	विवरण
a) इंटरमीडिएट कोड जनरेशन	i) यह चरण अनावश्यक कोड लाइनों को हटाता है और रिसोर्स को बर्बाद किए बिना प्रोग्राम के निष्पादन को गति देने के लिए स्टेटमेंट्स के अनुक्रम को व्यवस्थित करता है।
b) सिंटेक्स विश्लेषण	ii) इस चरण में, कम्पाइलर टारगेट मशीन के लिए सोर्स कोड का कोड उत्पन्न करता है।
c) सिमेंटिक विश्लेषण	iii) इस चरण में, कम्पाइलर सोर्स कोड के सिंटेक्स की जांच करता है ताकि यह सुनिश्चित हो सके कि यह प्रोग्रामिंग लैंग्वेज के नियमों के अनुरूप है।
d) कोड अनुकूलन	iv) इस चरण में, कम्पाइलर यह सुनिश्चित करने के लिए सोर्स कोड के अर्थ की जांच करता है कि यह अर्थपूर्ण है।

- Ans
- 1. a-ii. b-iii. c-iv. d-i
 - 2. a-iv. b-iii. c-i. d-ii
 - 3. a-ii. b-iv. c-iii. d-i
 - 4. a-iii. b-ii. c-iv. d-i

Question ID : 630680249725
Option 1 ID : 630680968971
Option 2 ID : 630680968974
Option 3 ID : 630680968973
Option 4 ID : 630680968972
Status : Answered
Chosen Option : 1

Q.5 MS-Word365 में 'रिव्यू (Review)' रिबन टैब में 'ट्रैकिंग (Tracking)' समूह के अंतर्गत निम्नलिखित में से कौन-सा विकल्प उपलब्ध नहीं है?

- Ans
- 1. शो मार्कअप (Show Markup)
 - 2. रिव्यूइंग पैन (Reviewing Pan)
 - 3. प्रीवियस चेंज (Previous Change)
 - 4. आल मार्कअप (All Markup)

Question ID : 630680249733
Option 1 ID : 630680969004
Option 2 ID : 630680969005
Option 3 ID : 630680969006
Option 4 ID : 630680969003
Status : Answered
Chosen Option : 3

Q.6 'संक्षिप्त रूप' नाम वाले कॉलम का 'पूर्ण रूप' नाम वाले कॉलम से मिलान कीजिए।

संक्षिप्त रूप	पूर्ण रूप
a) LCD	i) Printed Circuit Board (प्रिंटेड सर्किट बोर्ड)
b) ISP	ii) Liquid Crystal Display (लिक्विड क्रिस्टल डिस्प्ले)
c) SRAM	iii) Internet Service Provider (इंटरनेट सर्विस प्रोवाइडर)
d) PCB	iv) Static Random Access Memory (स्टैटिक रैंडम एक्सेस मेमोरी)

- Ans
- 1. a-ii. b-iii. c-iv. d-i
 - 2. a-iv. b-iii. c-i. d-ii
 - 3. a-iii. b-ii. c-iv. d-i
 - 4. a-ii. b-iv. c-iii. d-i

Question ID : 630680249741
Option 1 ID : 630680969035
Option 2 ID : 630680969038
Option 3 ID : 630680969036
Option 4 ID : 630680969037
Status : Answered
Chosen Option : 1

Q.7 दिए गए विकल्पों में से कौन-सा निम्नलिखित कथनों की सत्यता का सबसे अच्छा वर्णन करता है?

- i) MS-Word365 में सुपरस्क्रिप्ट के लिए कीबोर्ड शॉर्टकट Ctrl + Shift + * है।
- ii) MS-Word365 में किसी डॉक्यूमेंट से टेक्स्ट खोजने के लिए कीबोर्ड शॉर्टकट Ctrl + F है।

- Ans
- 1. i- सत्य, ii- असत्य
 - 2. i- असत्य, ii- असत्य
 - 3. i- असत्य, ii- सत्य
 - 4. i- सत्य, ii- सत्य

Question ID : 630680249734
Option 1 ID : 630680969008
Option 2 ID : 630680969010
Option 3 ID : 630680969009
Option 4 ID : 630680969007
Status : Answered
Chosen Option : 3

Q.8 'Windows10 कीबोर्ड शॉर्टकट' नाम वाले कॉलम का 'विवरण' नाम वाले कॉलम के साथ मिलान कीजिए।

Windows10 कीबोर्ड शॉर्टकट	विवरण
a) Shift + Delete	i) सेलेक्ट किए गए आइटम को कट करना।
b) Alt + Spacebar	ii) सेलेक्ट किए गए आइटम को रिसाइकिल बिन में ले जाए बिना मिटाना।
c) Shift + Ins	iii) एक्टिव विंडो के लिए शॉर्टकट मेनू खोलना।
d) Ctrl + X	iv) सेलेक्ट किए गए आइटम को पेस्ट करना।

- Ans
- 1. a-ii. b-iv. c-iii. d-i
 - 2. a-iv. b-iii. c-i. d-ii
 - 3. a-ii. b-iii. c-iv. d-i
 - 4. a-iii. b-ii. c-iv. d-i

Question ID : 630680249740
Option 1 ID : 630680969033
Option 2 ID : 630680969034
Option 3 ID : 630680969031
Option 4 ID : 630680969032
Status : Answered
Chosen Option : 1

Q.9 दिए गए विकल्पों में से कौन-सा निम्नलिखित कथनों की सत्यता का सबसे अच्छा वर्णन करता है?

- i) यदि सेल A15, A16 में मान क्रमशः 3, 5 हैं, और सेल A17 में फॉर्मूला =A15*A16 दर्ज किया जाता है, तो सेल का मान 243 होगा।
- ii) MS-Excel365 के फंक्शन MATCH () का उपयोग सेल की रेंज में निर्दिष्ट आइटम को सर्च करने के लिए किया जाता है, और फिर रेंज में उस आइटम की संबंधित पोजीशन लौटाता है।
- iii) MS-Excel365 के डोनट चार्ट का उपयोग श्रेणीबद्ध डेटा के अनुपात को दर्शाने के लिए किया जाता है, जिसमें प्रत्येक भाग का आकार प्रत्येक श्रेणी के अनुपात का निरूपण करता है।

- Ans
- 1. i-असत्य, ii-सत्य, iii-सत्य
 - 2. i-सत्य, ii-सत्य, iii-असत्य
 - 3. i-सत्य, ii-असत्य, iii-सत्य
 - 4. i-सत्य, ii-सत्य, iii-सत्य

Question ID : 630680249738
Option 1 ID : 630680969024
Option 2 ID : 630680969025
Option 3 ID : 630680969026
Option 4 ID : 630680969023
Status : Answered
Chosen Option : 1

Q.10 दिए गए विकल्पों में से कौन-सा, निम्नलिखित कथनों की सत्यता का सबसे अच्छा वर्णन करता है?

- i) असेंबलर, हाई लेवल लैंग्वेज में लिखे गए निर्देशों को रिलोकेट करने योग्य मशीन कोड में परिवर्तित करने के लिए, और लोडर के लिए जानकारी उत्पन्न करने के लिए एक प्रोग्राम है।
- ii) असेंबली कोड के एग्जैक्शन (exaction) के दौरान असेंबलर मैन मेमोरी में ही रहना चाहिए।
- iii) विभिन्न प्रकार के असेंबलरों में, वन पास असेंबलर (One pass assemblers) और लोड-एंड-गो असेंबलर (Load-and-go assemblers) शामिल हैं।

- Ans
- 1. i-सत्य, ii-सत्य, iii-असत्य
 - 2. i-सत्य, ii-असत्य, iii-सत्य
 - 3. i-सत्य, ii-सत्य, iii-सत्य
 - 4. i-असत्य, ii-सत्य, iii-सत्य

Question ID : 630680249724
Option 1 ID : 630680968969
Option 2 ID : 630680968970
Option 3 ID : 630680968967
Option 4 ID : 630680968968
Status : Answered
Chosen Option : 4

Q.11 दिए गए विकल्पों में से कौन-सा, निम्नलिखित कथनों की सत्यता का सबसे अच्छा वर्णन करता है?

- i) Windows10 में, जब स्टोरेज सेंस चालू होता है, तो आपके PC में स्पेस कम होने पर यह स्पेस मुक्त कर देगा।
- ii) Windows10 में, ऊर्जा और बैटरी जीवनकाल को बचाने के लिए 'Power & Sleep' विकल्प का उपयोग किया जाता है।
- iii) Windows10 में, ब्लूटूथ, प्रिंटर और माउस की सेटिंग, PC सेटिंग में 'Devices' में होती है।

- Ans
- 1. i-सत्य, ii-सत्य, iii-असत्य
 - 2. i-असत्य, ii-सत्य, iii-सत्य
 - 3. i-सत्य, ii-सत्य, iii-सत्य
 - 4. i-सत्य, ii-असत्य, iii-सत्य

Question ID : 630680249727
Option 1 ID : 630680968981
Option 2 ID : 630680968980
Option 3 ID : 630680968979
Option 4 ID : 630680968982
Status : Answered
Chosen Option : 3

Q.12 दिए गए विकल्पों में से कौन-सा, निम्नलिखित कथनों की सत्यता का सबसे अच्छा वर्णन करता है?




- i) Microsoft Outlook एक ईमेल एप्लीकेशन सॉफ्टवेयर है।
- ii) ईमेल क्लाईंट, सर्वर से ईमेल पुनर्प्राप्त/सिंक करने के लिए POP/IMAP प्रोटोकॉल जैसे मेल एक्सेस प्रोटोकॉल का उपयोग करते हैं।
- iii) Microsoft Exchange Server (माइक्रोसॉफ्ट एक्सचेंज सर्वर), सनमाइक्रोसिस्टम द्वारा विकसित मेल सर्वर और कैलेंडरिंग सर्वर है।

- Ans
- 1. i-असत्य, ii-सत्य, iii-सत्य
 - 2. i-सत्य, ii-असत्य, iii-सत्य
 - 3. i-सत्य, ii-सत्य, iii-सत्य
 - 4. i-सत्य, ii-सत्य, iii-असत्य

Question ID : 630680249732
Option 1 ID : 630680969000
Option 2 ID : 630680969002
Option 3 ID : 630680968999
Option 4 ID : 630680969001
Status : Answered
Chosen Option : 1

Q.13

'MS-Word 365 आप्शन आइकन' नाम वाले कॉलम का 'अर्थ' नाम वाले कॉलम से मिलान कीजिए।

MS-Word 365 आप्शन आइकन	अर्थ
a) 	i) इनक्रीज फॉन्ट साइज
b) 	ii) पेज साइज
c) 	iii) लेफ्ट इंडेंट
d) 	iv) राइट इंडेंट

Ans

1. a-iv. b-iii. c-i. d-ii
 2. a-ii. b-iv. c-iii. d-i
 3. a-ii. b-iii. c-iv. d-i
 4. a-iii. b-ii. c-iv. d-i

Question ID : 630680249735

Option 1 ID : 630680969014

Option 2 ID : 630680969013

Option 3 ID : 630680969011

Option 4 ID : 630680969012

Status : Answered

Chosen Option : 3

Q.14 EDVAC का पूरा नाम इनमें से कौन सा है?

Ans

1. Electronic Dedicated Variable Analog Computing (इलेक्ट्रॉनिक डेडिकेटेड वेरिएबल एनालॉग कंप्यूटिंग)
 2. Electronic Data Variable Automatic Computer (इलेक्ट्रॉनिक डेटा वेरिएबल ऑटोमेटिक कंप्यूटर)
 3. Electronic Discrete Variable Automatic Computer (इलेक्ट्रॉनिक डिस्क्रीट वेरिएबल ऑटोमेटिक कंप्यूटर)
 4. Electronic Discrete Variable Automatic Compiler (इलेक्ट्रॉनिक डिस्क्रीट वेरिएबल ऑटोमेटिक कम्पाइलर)

Question ID : 630680249723

Option 1 ID : 630680968966

Option 2 ID : 630680968963

Option 3 ID : 630680968965

Option 4 ID : 630680968964

Status : Answered

Chosen Option : 3

Q.15 दिए गए विकल्पों में से कौन-सा निम्नलिखित कथनों की सत्यता का सबसे अच्छा वर्णन करता है?

- i) RSS एक ऐसी प्रक्रिया है जो एक वेबसाइट की सामग्री दूसरी वेबसाइट पर उपलब्ध कराती है।
- ii) 'Cookies' वेब सर्वर द्वारा निर्मित की गई और उपयोगकर्ता के कंप्यूटर पर स्टोर की गई जानकारी होती है।
- iii) वेब सर्वर एक प्रकार का डेटाबेस मैनेजमेंट सिस्टम (DBMS) है।

- Ans
- 1. i-सत्य, ii-सत्य, iii-सत्य
 - 2. i-असत्य, ii-सत्य, iii-सत्य
 - 3. i-सत्य, ii-असत्य, iii-सत्य
 - 4. i-सत्य, ii-सत्य, iii-असत्य

Question ID : 630680249730
Option 1 ID : 630680968991
Option 2 ID : 630680968992
Option 3 ID : 630680968994
Option 4 ID : 630680968993
Status : Answered
Chosen Option : 2

Q.16 MS-Word365 में शॉर्टकट कुंजी Ctrl + C का उपयोग किसके लिए किया जाता है?

- Ans
- 1. क्लिपबोर्ड की सामग्री को पेस्ट करने के लिए
 - 2. सेलेक्ट की गई सामग्री को क्लिपबोर्ड पर कॉपी करने के लिए
 - 3. टेक्स्ट पर बोल्ड फॉर्मेटिंग प्रयोग करने के लिए
 - 4. पूरे डॉक्यूमेंट की सामग्री को सेलेक्ट करने के लिए

Question ID : 630680249739
Option 1 ID : 630680969028
Option 2 ID : 630680969027
Option 3 ID : 630680969030
Option 4 ID : 630680969029
Status : Answered
Chosen Option : 2

Q.17 Windows10 में 'This PC' की विशेषताओं (Properties) के अंतर्गत निम्नलिखित में से कौन-सा विकल्प उपलब्ध नहीं है?

- Ans
- 1. टेबलेट (Tablet)
 - 2. प्रोटेक्ट (Protect)
 - 3. मल्टीटास्किंग (Multitasking)
 - 4. स्टोरेज (Storage)

Question ID : 630680249726
Option 1 ID : 630680968975
Option 2 ID : 630680968978
Option 3 ID : 630680968976
Option 4 ID : 630680968977
Status : Answered
Chosen Option : 1

Q.18 Windows10 सेटिंग्स की परमिशन एंड हिस्ट्री (Permission and History) में 'SafeSearch' के अंतर्गत निम्नलिखित में से कौन-से विकल्प उपलब्ध हैं?

- i)स्ट्रिक्ट (Strict)
- ii)मॉडरेट (Moderate)
- iii)ऑफ (Off)
- iv)ऑन (On)
- v)लो (Low)
- vi)नॉर्मल (Normal)

- Ans
- 1. ii, iii और iv
 - 2. v और vi
 - 3. i और ii
 - 4. i, ii और iii

Question ID : 630680249728
Option 1 ID : 630680968985
Option 2 ID : 630680968986
Option 3 ID : 630680968983
Option 4 ID : 630680968984
Status : Answered
Chosen Option : 1

Q.19 दिए गए विकल्पों में से कौन-सा, निम्नलिखित कथनों की सत्यता का सबसे अच्छा वर्णन करता है?

- i) IP एड्रेस का अर्थ Internet Protocol (इंटरनेट प्रोटोकॉल) एड्रेस है।
- ii) MAN शब्द का अर्थ Metropolitan Area Network (मेट्रोपॉलिटन एरिया नेटवर्क) है।
- iii) CD-ROM शब्द का अर्थ Copy and Display ROM (कॉपी एंड डिस्प्ले रोम) है।

- Ans
- 1. i-असत्य, ii-सत्य, iii-सत्य
 - 2. i-सत्य, ii-सत्य, iii-सत्य
 - 3. i-सत्य, ii-असत्य, iii-सत्य
 - 4. i-सत्य, ii-सत्य, iii-असत्य

Question ID : 630680249742
Option 1 ID : 630680969040
Option 2 ID : 630680969039
Option 3 ID : 630680969042
Option 4 ID : 630680969041
Status : Answered
Chosen Option : 4

Q.20 ' Excel फॉर्मूला/एक्सप्रेशन' नाम वाले कॉलम का 'आउटपुट' नाम वाले कॉलम से मिलान कीजिए।

एक्सेल फॉर्मूला/एक्सप्रेशन	आउटपुट
a) =MID("mumbai metro",8,5)	i) Mumbai Metro
b) = REPT("mumbi metro",3)	ii) metro
c) = DEC2HEX(11)	iii) mumbi metromumbi metromumbi metro
d) =PROPER("mumbai metro")	iv) B

- Ans
- 1. a-iii. b-ii. c-iv. d-i
 - 2. a-ii. b-iv. c-iii. d-i
 - 3. a-ii. b-iii. c-iv. d-i
 - 4. a-iv. b-iii. c-i. d-ii

Question ID : 630680249737
Option 1 ID : 630680969020
Option 2 ID : 630680969021
Option 3 ID : 630680969019
Option 4 ID : 630680969022
Status : Answered
Chosen Option : 3