



CANDIDATE RESPONSE SHEET/GRIEVANCE SYSTEM

[View Your Responses](#)[Click Here to View Grievance Questions](#)Admin loggedin.[[Logout](#)]

Roll No.

Candidate Name

Exam Level :

Test Date : 11 Dec 2025

Test Time and Shift : 10:00 AM (Shift-1)

Centre Name

Correct Option selected Wrong Option selected Correct Option Not Answered[Save / Print](#)[Click Here for PART-A](#)[Click Here for PART-B](#)[Click Here for PART-C](#)[Click Here for PART-D](#)

PART-A (General Intelligence and Reasoning)

[Click Here to Challenge Question No.: 1](#)Q.No: 1 In the word "EDUCATION", if vowels are removed, what is the 3rd remaining letter from the left?शब्द "EDUCATION" में, अगर स्वरों को हटा दिया जाए, तो बाईं ओर से 3rd शेष अक्षर क्या होगा?

C

C

T

T

D

D

N

N

[Click Here to Challenge Question No.: 2](#)

Q.No: 2 Choose the address that is the same as the one given below.

Sample Address: No. 17, Jasmine Apartments, MG Road, Ernakulam, Kerala - 682011

वह पता चुनें जो नीचे दिए गए पते के समान हो।

<https://sscstudy.com/>

Sample Address: No. 17, Jasmine Apartments, MG Road, Ernakulam, Kerala - 682011

No. 17, Jasmine Apartments, MG Road, Ernakulam, Kerala - 682011

No. 17, Jasmine Apartments, MG Road, Ernakulam, Kerala - 682011

No. 17, Jasmin Apartments, MG Road, Ernakulam, Kerala - 682011

No. 17, Jasmin Apartments, MG Road, Ernakulam, Kerala - 682011

No. 17, Jasmine Apartment, MG Road, Ernakulam, Kerala - 682011

No. 17, Jasmine Apartment, MG Road, Ernakulam, Kerala - 682011

No. 71, Jasmine Apartments, MG Road, Ernakulam, Kerala - 682011

No. 71, Jasmine Apartments, MG Road, Ernakulam, Kerala - 682011

[Click Here to Challenge Question No.: 3](#)

Q.No: 3 If $1 + 2 = 4$, $2 + 4 = 10$, then $3 + 4 = ?$

अगर $1 + 2 = 4$, $2 + 4 = 10$, तो $3 + 4 = ?$

16

16

14

14

12

12

13

13

Not Answered

[Click Here to Challenge Question No.: 4](#)

Q.No: 4 Find the missing number in the series.

8, 13, 21, 34, 55, ?, 144

श्रृंखला में लुप्त संख्या ज्ञात कीजिए।

8, 13, 21, 34, 55, ?, 144

85

85

84

84

86

86

89

89

Not Answered

[Click Here to Challenge Question No.: 5](#)

Q.No: 5 Select the combination of the letters that when sequentially placed in the blanks of the given letter series will complete the series.

_ r _ s _ c r _ _ t _ r u _ t c _ u s _

<https://sscstudy.com/>

अक्षरों के उस संयोजन का चयन करें जो दिए गए अक्षर श्रृंखला के रिक्त स्थानों में क्रमिक रूप से रखे जाने पर श्रृंखला को पूरा करेगा। <https://sscstudy.com/>

_ r _ s _ cr _ _ t _ ru _ tc _ us _

C, t, U, U, S, C, r, S, t

C, t, U, U, S, C, r, S, t

S, r, t, C, U, t, U, S, C

S, r, t, C, U, t, U, S, C

C, U, t, U, S, C, S, r, t

C, U, t, U, S, C, S, r, t

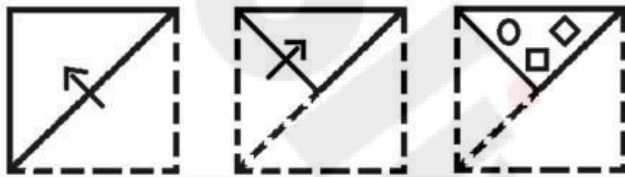
C, U, U, S, t, C, S, r, t

C, U, U, S, t, C, S, r, t

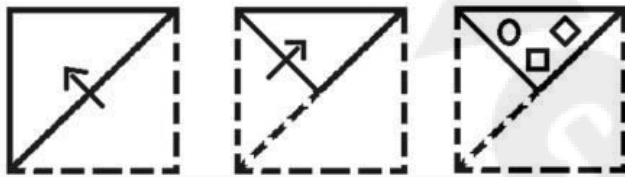
[Click Here to Challenge Question No.: 6](#)

Q.No: 6

The sequence of folding a piece of paper and the manner in which it is folded has been cut as shown in the following figure. How would this paper look when unfolded?



एक कागज़ के टुकड़े को मोड़ने का क्रम और उसे मोड़ने का तरीका नीचे दी गई आकृति में दिखाया गया है। खोलने पर यह कागज़ कैसा दिखेगा?






[Click Here to Challenge Question No.: 7](#)

Q.No: 7 Choose the word that does not fit.

वह शब्द चुनें जो उपयुक्त न हो।

Nose

नाक

Eye

आँख

Chair

कुर्सी

Mouth

मुँह

[Click Here to Challenge Question No.: 8](#)

Q.No: 8 If A is 20% more than B, how much percent is B less than A?

अगर A, B से 20% ज्यादा है, तो B, A से कितने प्रतिशत कम है?

16.67%

16.67%

20%

20%

18%

18%

25%

25%

Q.No: 9	<p>Read the following statement carefully and identify the action that follows.</p> <p>Statement: A major oil spill occurred near the coastline. Course of Action:</p> <ol style="list-style-type: none"> 1. Evacuate nearby regions. 2. Deploy emergency response teams. <p>निम्नलिखित कथन को ध्यानपूर्वक पढ़ें और उसके बाद की कार्यवाई की पहचान करें।</p> <p>कथन: समुद्र तट के पास एक बड़ा तेल रिसाव हुआ है। कार्यवाई:</p> <ol style="list-style-type: none"> 1. आस-पास के क्षेत्रों को खाली कराएँ। 2. आपातकालीन प्रतिक्रिया दल तैनात करें।
	<p>Only 1 केवल 1</p>
	<p>Only 2 केवल 2</p>
	<p>Both follow दोनों अनुसरण करते हैं</p>
	<p>Neither follows कोई भी अनुसरण नहीं करता है</p>

Q.No: 10	<p>Read the following statement carefully and identify the conclusion that follows.</p> <p>Statement: "All ethical companies are trusted by customers." Conclusion I: Only ethical companies are trusted. Conclusion II: Some companies may be unethical yet still trusted.</p> <p>निम्नलिखित कथन को ध्यान से पढ़ें और निष्कर्ष की पहचान करें।</p> <p>कथन: "सभी नैतिक कंपनियों पर ग्राहकों द्वारा भरोसा किया जाता है।" निष्कर्ष I: केवल नैतिक कंपनियों पर ही भरोसा किया जाता है। निष्कर्ष II: कुछ कंपनियाँ अनैतिक हो सकती हैं, फिर भी उन पर भरोसा किया जा सकता है।</p>
	<p>Only I केवल I</p>
	<p>Only II केवल II</p>
	<p>Both follow दोनों अनुसरण करते हैं</p>
	<p>Neither follows कोई भी अनुसरण नहीं करता है</p>

Not Answered

Q.No: 11	<p>Complete the series. 20, 15, __, 5, 0</p> <p>निम्नलिखित श्रृंखला को पूरा करें। 20, 15, __, 5, 0</p>
	<p>10</p>
	<p>10</p>

11	
11	
12	
12	
13	
13	

[Click Here to Challenge Question No.: 12](#)

Q.No: 12	<p>In the following examples, a number is coded as three digits — representing the remainders when the number is divided by 3, 7, and 11, respectively.</p> <p>Examples:</p> <ul style="list-style-type: none"> Example 1: 53 → ($53 \div 3 = 17 \text{ R}2$, $53 \div 7 = 7 \text{ R}4$, $53 \div 11 = 4 \text{ R}9$) → Code: 2, 4, 9 Example 2: 68 → ($68 \div 3 = 22 \text{ R}2$, $68 \div 7 = 9 \text{ R}5$, $68 \div 11 = 6 \text{ R}2$) → Code: 2, 5, 2 <p>In the same way, what is the code for 77?</p> <p>निम्नलिखित उदाहरणों में, एक संख्या को तीन अंकों के रूप में कोड किया गया है - जो संख्या को क्रमशः 3, 7 और 11 से विभाजित करने पर प्राप्त शेषफल को दर्शाते हैं।</p> <p>उदाहरण:</p> <ul style="list-style-type: none"> उदाहरण 1: 53 → ($53 \div 3 = 17 \text{ R}2$, $53 \div 7 = 7 \text{ R}4$, $53 \div 11 = 4 \text{ R}9$) → कोड: 2, 4, 9 उदाहरण 2: 68 → ($68 \div 3 = 22 \text{ R}2$, $68 \div 7 = 9 \text{ R}5$, $68 \div 11 = 6 \text{ R}2$) → कोड: 2, 5, 2 इसी प्रकार, 77 का कोड क्या है?
	1, 1, 1
	1, 1, 1
	2, 1, 0
	2, 1, 0
	0, 0, 0
	0, 0, 0
	2, 0, 0
	2, 0, 0

[Click Here to Challenge Question No.: 13](#)

Q.No: 13	<p>If BQQMF is written as APPLE, how is GRAPE written?</p> <p>अगर BQQMF को APPLE लिखा जाता है, तो GRAPE को कैसे लिखा जाएगा?</p>
	HSBQF
	HSBQF
	FQZOD
	FQZOD
	FQZOF
	FQZOF
	HQZOF
	HQZOF

[Click Here to Challenge Question No.: 14](#)

Q.No: 14

In the question, a word is represented by only one set of numbers as given in any one of the alternatives. The sets of numbers given in the alternatives are represented by 2 classes of alphabet as given in the two matrices below.

The columns and rows of matrix I are numbered from 0-4, and those of matrix II are numbered from 5-9.

A letter from this matrix can be represented 1st by its row and next by its column. For example: "M" can be represented by "14", "65", etc., and "K" can be represented by "58", "87", etc. Similarly, you have to identify the set of word "SHORT".

Matrix I

	0	1	2	3	4
0	S	J	D	W	O
1	L	D	R	G	M
2	T	S	H	I	B
3	E	B	A	T	R
4	N	I	T	H	A

Matrix II

	5	6	7	8	9
5	Y	R	O	K	L
6	M	S	P	N	I
7	J	A	R	H	B
8	U	J	K	P	E
9	T	F	Q	W	C

प्रश्न में, एक शब्द को विकल्पों में से किसी एक में दिए गए संख्याओं के केवल एक समूह द्वारा दर्शाया गया है। विकल्पों में दिए गए संख्याओं के समूह नीचे दिए गए दो मैट्रिक्स में दिए गए अक्षरों के दो वर्गों द्वारा दर्शाए गए हैं।

मैट्रिक्स I के स्तंभ और पंक्तियाँ 0-4 तक क्रमांकित हैं, और मैट्रिक्स II के स्तंभ और पंक्तियाँ 5-9 तक क्रमांकित हैं।

इस मैट्रिक्स के एक अक्षर को पहले उसकी पंक्ति और फिर उसके स्तंभ द्वारा दर्शाया जा सकता है। उदाहरण के लिए: "M" को "14", "65", आदि द्वारा दर्शाया जा सकता है, और "K" को "58", "87", आदि द्वारा दर्शाया जा सकता है। इसी प्रकार, आपको "SHORT" शब्द का समूह पहचानना है।

Matrix I

	0	1	2	3	4
0	S	J	D	W	O
1	L	D	R	G	M
2	T	S	H	I	B
3	E	B	A	T	R
4	N	I	T	H	A

Matrix II

	5	6	7	8	9
5	Y	R	O	K	L
6	M	S	P	N	I
7	J	A	R	H	B
8	U	J	K	P	E
9	T	F	Q	W	C

21, 43, 57, 12, 56

21, 43, 57, 12, 56

00, 78, 57, 34, 33

00, 78, 57, 34, 33

66, 22, 57, 77, 21

66, 22, 57, 77, 21

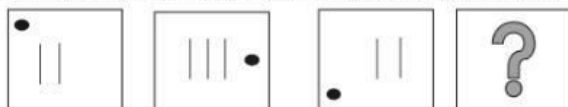
00, 78, 04, 12, 77

00, 78, 04, 12, 77

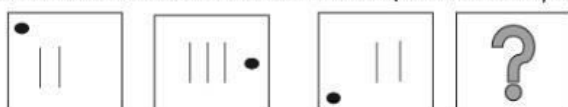
[Click Here to Challenge Question No.: 15](#)

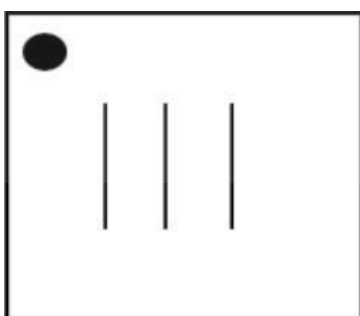
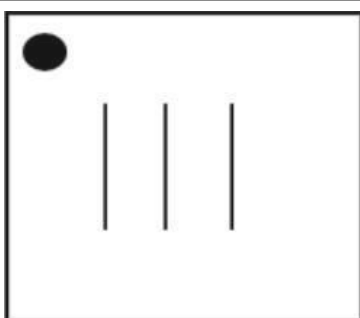
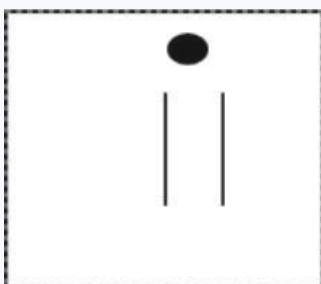
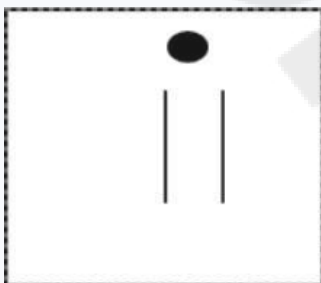
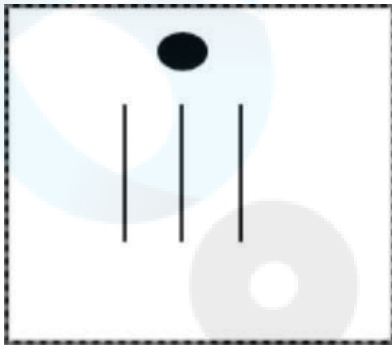
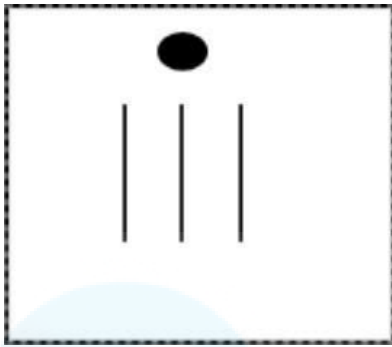
Q.No: 15

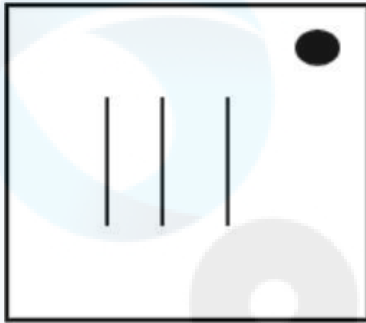
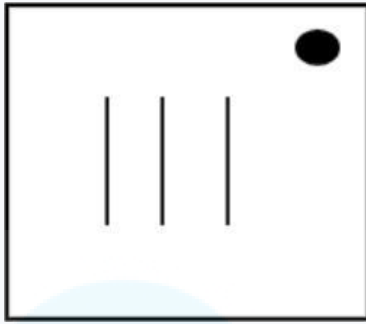
Which of the following alternatives replace question mark ?



निम्नलिखित में से कौन सा विकल्प प्रश्नवाचक चिह्न के स्थान पर आएगा?






[Click Here to Challenge Question No.: 16](#)

Q.No: 16

Figure 1 and 2 are related with each other in some particular way. Find the relationship and establish the same relationship between 3 and 4 from the given four alternatives.

Figure 1:

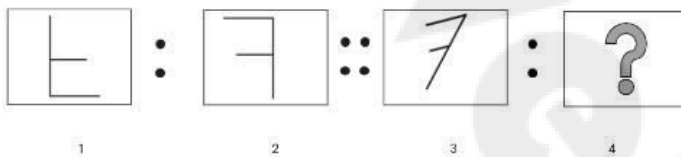
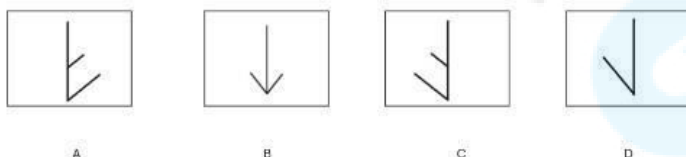
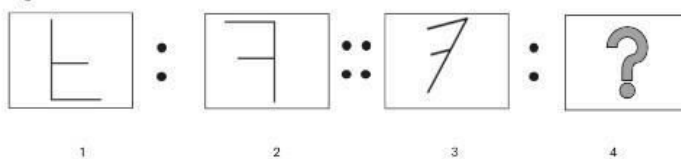


Figure 2:

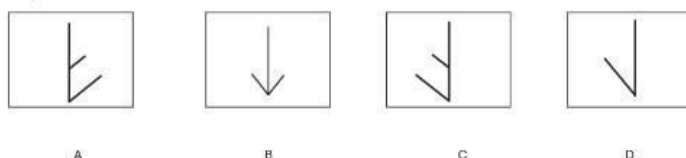


आकृति 1 और 2 किसी विशेष तरीके से एक-दूसरे से संबंधित हैं। दिए गए चार विकल्पों में से 3 और 4 के बीच संबंध ज्ञात कीजिए और समान संबंध स्थापित कीजिए।

आकृति 1:



आकृति 2:



A

A

B

B

C

C

D

D

[Click Here to Challenge Question No.: 17](#)

Q.No: 17	<p>Instruction: Choose the inference that are clearly supported by the statement.</p> <p>Statement: All newly built residential complexes in the city are required to install solar panels, contributing to the city's goal of achieving 80% renewable energy usage by 2030.</p> <p>Inference:</p> <p>Inference I: The city will achieve its goal of 80% renewable energy usage by 2030.</p> <p>Inference II: Existing residential complexes are exempt from the solar panel installation requirement.</p> <p>निर्देश: उस निष्कर्ष का चयन कीजिए जो कथन द्वारा स्पष्ट रूप से समर्थित हो।</p> <p>कथन: शहर के सभी नवनिर्मित आवासीय परिसरों में सौर पैनल लगाना अनिवार्य है, जो 2030 तक 80% नवीकरणीय ऊर्जा उपयोग प्राप्त करने के शहर के लक्ष्य में योगदान देगा।</p> <p>निष्कर्ष:</p> <p>निष्कर्ष I: शहर 2030 तक 80% नवीकरणीय ऊर्जा उपयोग के अपने लक्ष्य को प्राप्त कर लेगा।</p> <p>निष्कर्ष II: मौजूदा आवासीय परिसरों को सौर पैनल स्थापना आवश्यकता से छूट दी गई है।</p>
	<p>Only Inference I follows</p> <p>केवल अनुमान I अनुसरण करता है</p>
	<p>Only Inference II follows</p> <p>केवल अनुमान II अनुसरण करता है</p>
	<p>Both Inferences I and II follow</p> <p>दोनों निष्कर्ष I और II अनुसरण करते हैं</p>
	<p>Neither Inference I nor II follows</p> <p>न तो अनुमान I और न ही II अनुसरण करता है</p>

[Click Here to Challenge Question No.: 18](#)

Q.No: 18	<p>After interchanging + & × and 8 & 24, which of the following equations will hold true?</p> <p>+ & × तथा 8 & 24 को आपस में बदलने पर, निम्नलिखित में से कौन सा समीकरण सत्य होगा?</p>
	<p>$(8+2) \times 24 = 56$</p> <p>$(8+2) \times 24 = 56$</p>
	<p>$(24+1) \times 8 = 30$</p> <p>$(24+1) \times 8 = 30$</p>
	<p>$(8+3) \times 24 = 70$</p> <p>$(8+3) \times 24 = 70$</p>
	<p>$(24+4) \times 8 = 60$</p> <p>$(24+4) \times 8 = 60$</p>

Not Answered

[Click Here to Challenge Question No.: 19](#)

Q.No: 19	<p>In a class, 20 students like Reading, 15 like Drawing, and 10 like both. How many like only Reading?</p> <p>एक कक्षा में, 20 छात्रों को पढ़ना पसंद है, 15 को चित्रकारी पसंद है, और 10 को दोनों पसंद हैं। कितने छात्रों को केवल पढ़ना पसंद है?</p>
	<p>10</p> <p>10</p>
	<p>8</p> <p>8</p>
	<p>12</p> <p>12</p>
	<p>5</p> <p>5</p>

[Click Here to Challenge Question No.: 20](#)

Q.No: 20	You are a university dean and a student accuses a professor of plagiarism. What is your first step? आप एक विश्वविद्यालय के डीन हैं और एक छात्र ने एक प्रोफेसर पर साहित्यिक चोरी का आरोप लगाया है। आपका पहला कदम क्या होगा?
	Suspend the professor. प्रोफेसर को निलंबित करो।
	Call media to expose the professor. प्रोफेसर का पर्दाफाश करने के लिए मीडिया को बुलाओ।
	Initiate internal inquiry with academic council. अकादमिक परिषद के साथ आंतरिक जांच शुरू करें।
	Ask the student to withdraw complaint. छात्र से शिकायत वापस लेने के लिए कहें।

[Click Here to Challenge Question No.: 21](#)

Q.No: 21	Out of 100 people, 60 like Tea, 70 like Coffee, and 40 like both. How many people like only Tea or only Coffee? 100 लोगों में से 60 को चाय, 70 को कॉफी और 40 को दोनों पसंद हैं। कितने लोगों को सिर्फ चाय या सिर्फ कॉफी पसंद है?
	50
	50
	60
	60
	40
	40
	30
	30

[Click Here to Challenge Question No.: 22](#)



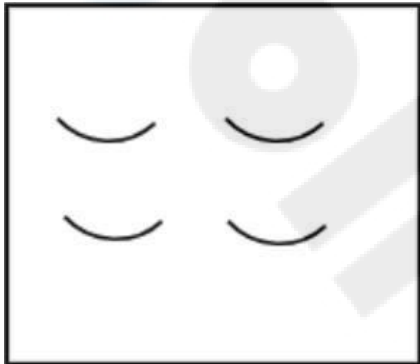
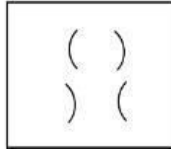
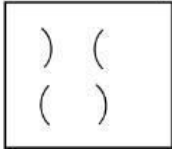
Q.No: 22	If the sum of 25 and 42 is multiplied by 5, what is the result? यदि 25 और 42 के योग को 5 से गुणा किया जाए तो परिणाम क्या होगा?
	325
	325
	335
	335
	345
	345
	350
	350

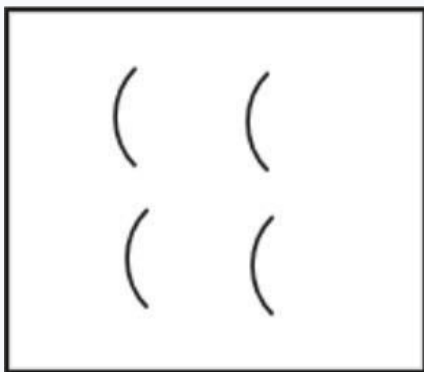
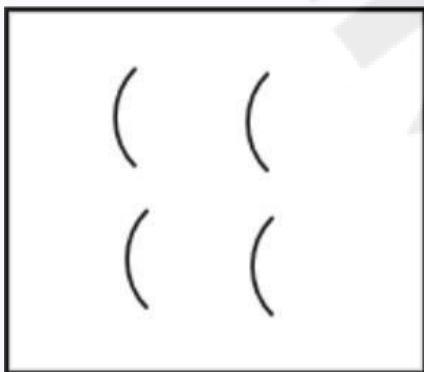
[Click Here to Challenge Question No.: 23](#)

Q.No: 23	Find the one which completes the series: <div style="display: flex; align-items: center; gap: 10px;"> <div style="border: 1px solid black; padding: 5px; display: inline-block;"> $\left. \begin{array}{c}) \\ (\end{array} \right\} \left(\begin{array}{c} (\\) \end{array} \right.$ </div> <div style="border: 1px solid black; padding: 5px; display: inline-block;"> $\left. \begin{array}{c} \smile \\ \smile \end{array} \right\} \left(\begin{array}{c} \smile \\ \smile \end{array} \right.$ </div> <div style="border: 1px solid black; padding: 5px; display: inline-block;"> $\left. \begin{array}{c} (\\) \end{array} \right\} \left(\begin{array}{c} (\\) \end{array} \right.$ </div> <div style="border: 1px solid black; padding: 5px; display: inline-block;"> $?$ </div> </div>
----------	--

वह विकल्प ज्ञात कीजिए जो श्रृंखला को पूरा करता है:

<https://sscstudy.com/>





[Click Here to Challenge Question No.: 24](#)

Q.No: 24 Identify the image that does NOT belong to the group.



उस आकृति का चयन कीजिए, जो समूह से संबंधित नहीं है।

<https://sscstudy.com/>



P



Q



R



S

S

S

R

R

Q

Q

P

P

[Click Here to Challenge Question No.: 25](#)

Q.No: 25

Select the option exactly similar to: P.O. Box 789, Attn: Billing Dept., 100 Main Ave., City, CA 90210

बिल्कुल वैसा ही ऑप्शन चुनें: P.O. Box 789, Attn: Billing Dept., 100 Main Ave., City, CA 90210

PO Box 789, Attn: Billing Dept., 100 Main Ave., City, CA 90210

PO Box 789, Attn: Billing Dept., 100 Main Ave., City, CA 90210

P.O. Box 789, Attn: Billing Dept., 100 Main Ave., City, CA 90210

P.O. Box 789, Attn: Billing Dept., 100 Main Ave., City, CA 90210

P.O. Box 789, Attn: Billing Dept., 100 Main Avenue, City, CA 90210

P.O. Box 789, Attn: Billing Dept., 100 Main Avenue, City, CA 90210

P.O. Box 789, Attn: Billing Department, 100 Main Ave., City, CA 90210

P.O. Box 789, Attn: Billing Department, 100 Main Ave., City, CA 90210

[Click Here to Challenge Question No.: 26](#)

Q.No: 26

Roll Numbers:

1511	1622	1533	1744
1655	1566	1777	1799

Based on the roll numbers above, where the first two digits indicate the center ID: How many new roll numbers must Center '17' register to have the same total count as Center '15'?

<https://sscstudy.com/>

रोल नंबर:

1511	1622	1533	1744
1655	1566	1777	1799

ऊपर दिए गए रोल नंबर के आधार पर, जहाँ पहले दो अंक सेंटर ID दिखाते हैं: सेंटर '17' को कितने नए रोल नंबर रजिस्टर करने होंगे ताकि सेंटर '15' के बराबर कुल गिनती हो?

0

0

1

1

2

2

3

3

Not Answered

[Click Here to Challenge Question No.: 27](#)

Q.No: 27

Which center code does not maintain the pattern of two letters followed by two digits?

कौन सा सेंटर कोड दो अक्षरों के बाद दो अंकों का पैटर्न नहीं रखता है?

AB12

AB12

CD34

CD34

56EF

56EF

GH78

GH78

Not Answered

[Click Here to Challenge Question No.: 28](#)

Q.No: 28	<p>Which number will come in place of the question mark (?) in the following series? 12, 25, 17, 30, 22, 35, 27, ?</p> <p>निम्नलिखित सीरीज़ में प्रश्न चिह्न (?) की जगह कौन सी संख्या आएगी? 12, 25, 17, 30, 22, 35, 27, ?</p>
	<p>37</p> <p>37</p>
	<p>40</p> <p>40</p>
	<p>42</p> <p>42</p>
	<p>45</p> <p>45</p>

[Click Here to Challenge Question No.: 29](#)

Q.No: 29	<p>Which of the following option would most strengthen the government's argument? Argument: "To improve the health of the community, the local government should ban the sale of oversized sugary beverages."</p> <p>इनमें से कौन सा ऑप्शन सरकार की बात को सबसे ज़्यादा मज़बूत करेगा? तर्क: "कम्युनिटी की हेल्थ को बेहतर बनाने के लिए, लोकल सरकार को बड़े साइज़ के मीठे ड्रिंक्स की बिक्री पर बैन लगा देना चाहिए।"</p>
	<p>A survey shows that most residents dislike the taste of diet sodas.</p> <p>एक सर्वे से पता चला है कि ज़्यादातर लोगों को डाइट सोडा का स्वाद पसंद नहीं है।</p>
	<p>Data from a neighboring city shows a decrease in obesity rates after implementing a similar ban.</p> <p>पड़ोसी शहर के डेटा से पता चलता है कि इसी तरह का बैन लगाने के बाद मोटापे की दर में कमी आई है।</p>
	<p>The ban would primarily affect small, independent grocery stores rather than large chains.</p> <p>यह बैन मुख्य रूप से बड़ी चेन के बजाय छोटे, इंडिपेंडेंट किराना स्टोर पर असर डालेगा।</p>
	<p>The tax revenue generated from the remaining smaller sugary beverages would increase slightly.</p>

Not Answered

[Click Here to Challenge Question No.: 30](#)

Q.No: 30

Which of the following option, if true, would *most* strengthen this argument?

Argument: "To maximize productivity, large companies should eliminate employee sick leave and instead offer a bonus for perfect attendance."

नीचे दिए गए ऑप्शन में से कौन सा ऑप्शन, अगर सही है, तो इस तर्क को सबसे ज़्यादा मज़बूत करेगा?

तर्क: "प्रोडक्टिविटी को बढ़ाने के लिए, बड़ी कंपनियों को कर्मचारियों की बीमारी की छुट्टी खत्म कर देनी चाहिए और इसके बजाय पूरी अटेंडेंस के लिए बोनस देना चाहिए।"

Studies show that the majority of sick leave taken is actually due to minor ailments that don't require time off.

स्टडीज़ से पता चलता है कि ज़्यादातर बीमार छुट्टी असल में छोटी-मोटी बीमारियों की वजह से ली जाती है, जिनके लिए छुट्टी की ज़रूरत नहीं होती।

Employees who frequently take sick leave often feel guilty about missing work.

जो कर्मचारी अक्सर बीमारी की छुट्टी लेते हैं, उन्हें अक्सर काम पर न जाने पर बुरा लगता है।

The cost of processing sick leave claims is very low for large companies.

बड़ी कंपनियों के लिए सिक लीव क्लेम को प्रोसेस करने का खर्च बहुत कम है।

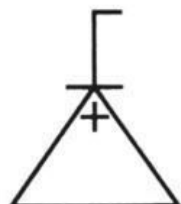
Offering attendance bonuses is a common practice in smaller, less productive firms.

छोटी, कम प्रोडक्टिव फर्मों में अटेंडेंस बोनस देना एक आम बात है।

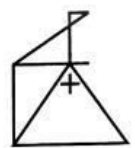
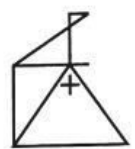
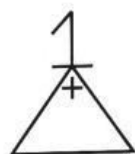
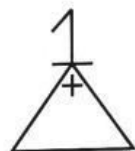
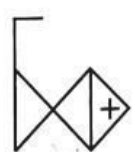
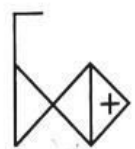
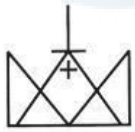
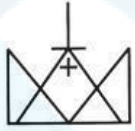
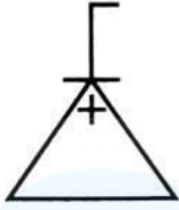
[Click Here to Challenge Question No.: 31](#)

Q.No: 31

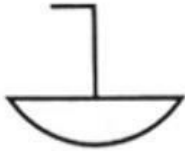



The following question figure is embedded in one of the answer choices. Select the answer that contains the question figure.
Question figure:



नीचे दिया गया सवाल का चित्र जवाब के ऑप्शन में से एक में है। वह जवाब चुनें जिसमें सवाल का चित्र हो।
सवाल का चित्र:



Q.No: 32	<p>Pointing towards Sonu, Riya said, "His mother is the only daughter of my mother." How is the Riya related to the Sonu?</p> <p>सोनू की ओर इशारा करते हुए रिया ने कहा, "उसकी माँ मेरी माँ की इकलौती बेटी है।" रिया का सोनू से क्या संबंध है?</p>
	<p>Mother</p> <p>माँ</p>
	<p>Grandmother</p> <p>दादी</p>
	<p>Sister</p> <p>बहन</p>
	<p>Daughter</p> <p>बेटी</p>

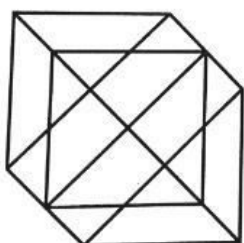
Q.No: 33	<p>The following question figure is embedded in one of the answer choices. Select the answer that contains the question figure.</p> <p>Question figure:</p>  <p>नीचे दिया गया सवाल का चित्र जवाब के ऑप्शन में से एक में है। वह जवाब चुनें जिसमें सवाल का चित्र हो।</p> <p>सवाल का चित्र:</p> 
	 



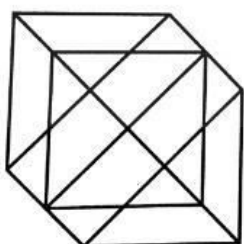
[Click Here to Challenge Question No.: 34](#)

Q.No: 34

Find the number of triangles in the given figure.



दी गई आकृति में त्रिभुजों की संख्या ज्ञात कीजिए।



18

18

20

20

24

24

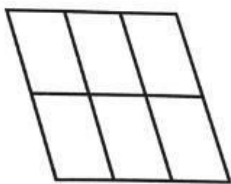
27

27

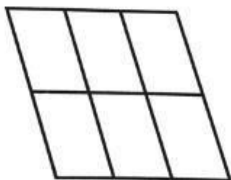
[Click Here to Challenge Question No.: 35](#)

Q.No: 35

Count the number of parallelogram in the given figure.



दी गई आकृति में समांतर चतुर्भुजों की संख्या गिनें।



20

20

18

18

16

16

12

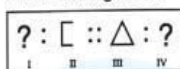
12

[Click Here to Challenge Question No.: 36](#)

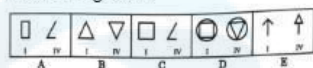
Q.No: 36

Select a figure from the answer set the contents of which may best substitute the question marks in problems at such that figure III is related to figure IV in the same way as figure I is related to figure II.

Problem figures:




Answer figures:



आंसर सेट में से एक फिगर चुनें जिसका कंटेंट प्रॉब्लम में सवाल के निशान की जगह सबसे अच्छे से ले सके, जैसे कि फिगर III, फिगर IV से उसी तरह जुड़ा हो जैसे फिगर I, फिगर II से जुड़ा है।

प्रॉब्लम फिगर:



उत्तर फिगर:



A

A

B

B

C

C

D

D

Not Answered

[Click Here to Challenge Question No.: 37](#)

Q.No: 37

A is B's brother. A's sister is C. D is E's brother. E is B's daughter. Who are the niece and nephew of A?

A, B का भाई है। A की बहन C है। D, E का भाई है। E, B की बेटी है। A के भतीजे और भतीजी कौन हैं?

B and E

B और E

C and B

C और B

<https://sscstudy.com/>

D and E

D और E

C and D

C और D

[Click Here to Challenge Question No.: 38](#)

Q.No: 38

Data Entry Operator (Contractual)

Eligibility Criteria (as on 01-04-2025):

1. Minimum 18 years old.
2. Passed Higher Secondary Examination (10+2) with any subject.
3. Should have typing speed of at least 40 words per minute (WPM).
4. Must commit to a minimum 1-year contract.

Case: Vivek is 20 years old and has a B.Sc. in Physics. His typing speed is 35 WPM, and he states he will only work for 9 months before joining a Master's program.

Question: What decision should be made in Vivek's case?

डेटा एंट्री ऑपरेटर (कॉन्ट्रैक्ट पर)

एलिजिबिलिटी क्राइटेरिया (01-04-2025 तक):

1. कम से कम 18 साल का होना चाहिए।
2. किसी भी सब्जेक्ट के साथ हायर सेकेंडरी एग्जाम (10+2) पास किया हो।
3. टाइपिंग स्पीड कम से कम 40 शब्द प्रति मिनट (WPM) होनी चाहिए।
4. कम से कम 1 साल के कॉन्ट्रैक्ट के लिए कमिट होना चाहिए।

केस: विवेक 20 साल का है और उसके पास फिजिक्स में B.Sc. की डिग्री है। उसकी टाइपिंग स्पीड 35 WPM है, और वह कहता है कि वह मास्टर प्रोग्राम जॉइन करने से पहले सिर्फ 9 महीने काम करेगा।

सवाल: विवेक के केस में क्या फैसला लिया जाना चाहिए?

Refer the case to the HR Manager

मामले को HR मैनेजर को भेजें

Reject the application

आवेदन अस्वीकार करें

Select the candidate provisionally

उम्मीदवार का अस्थायी रूप से चयन करें

Select, provided he improves his typing speed immediately

सेलेक्ट करें, बशर्ते वह अपनी टाइपिंग स्पीड तुरंत सुधार ले

[Click Here to Challenge Question No.: 39](#)

<https://sscstudy.com/>

Q.No: 39

Which column has a sum that is a perfect square?

	A	B	C	D
P	6	1	5	8
Q	11	4	2	4
R	8	3	11	1

किस कॉलम में ऐसा जोड़ है जो परफेक्ट स्क्वायर है?

	A	B	C	D
P	6	1	5	8
Q	11	4	2	4
R	8	3	11	1

Column A

कॉलम A

Column B

कॉलम B

Column C

कॉलम C

Column D

कॉलम D

[Click Here to Challenge Question No.: 40](#)

Q.No: 40

A local cafe you frequently visit consistently pours used cooking oil down a storm drain in the alley behind their shop. You are aware that this can pollute the regional water system and cause sewer blockages. What is the most effective way to handle this?

एक लोकल कैफे जहाँ आप अक्सर जाते हैं, वहाँ इस्तेमाल किया हुआ खाना पकाने का तेल अपनी दुकान के पीछे गली में बने स्टॉर्म ड्रेन में डाला जाता है। आप जानते हैं कि इससे इलाके का पानी का सिस्टम गंदा हो सकता है और सीवर ब्लॉक हो सकता है। इससे निपटने का सबसे असरदार तरीका क्या है?

Stop visiting the cafe and tell your friends to do the same.

कैफे जाना बंद करें और अपने दोस्तों को भी ऐसा करने के लिए कहें।

Send an anonymous letter to the cafe owner, warning them to cease their actions.

कैफे मालिक को एक गुमनाम चिट्ठी भेजकर उन्हें अपना काम बंद करने की चेतावनी दी।

Submit an official complaint to the local health or public works department.

लोकल हेल्थ या पब्लिक वर्क्स डिपार्टमेंट में ऑफिशियल शिकायत करें।

Place a large sign by the storm drain warning against pollution.

स्टॉर्म ड्रेन के पास प्रदूषण के खिलाफ चेतावनी वाला एक बड़ा साइन लगाएं।

[Click Here to Challenge Question No.: 41](#)

Q.No: 41

Find the word that **CANNOT** be formed from the letters in **UNIVERSITY**.

वह शब्द ढूंढें जो **UNIVERSITY** के अक्षरों से **CANNOT** बन सकता है।

TRUE

TRUE

REST

REST

UNITY

UNITY

VERSITILE

VERSITILE

[Click Here to Challenge Question No.: 42](#)

Q.No: 42

Find the odd number-pair:

विषम संख्या-युग्म ज्ञात करें:

4:32

4:32

6:72

6:72

8:126

8:126

10:200

10:200

[Click Here to Challenge Question No.: 43](#)

Q.No: 43

A pharmaceutical representative offers you, a doctor, an expensive luxury vacation for your family in exchange for exclusively prescribing their newly launched, but unproven, drug to your patients. You are aware that this is highly unethical and potentially harmful to patients. What is the most responsible action?

एक फार्मास्यूटिकल रिप्रेजेंटेटिव आपको, यानी डॉक्टर को, आपके मरीजों को उनकी नई लॉन्च हुई, लेकिन बिना सबूत वाली दवा लिखने के बदले में आपके परिवार के लिए एक महंगी लक्ज़री छुट्टी का ऑफ़र देता है। आप जानते हैं कि यह बहुत गलत है और मरीजों के लिए नुकसानदायक हो सकता है। सबसे ज़िम्मेदारी वाला काम क्या है?

Accept the trip but continue to prescribe the medication you believe is best for the patient.

ट्रिप स्वीकार करें लेकिन मरीज़ के लिए जो दवा सबसे अच्छी लगे, उसे लिखते रहें।

Politely decline the offer and warn the representative not to do it again.

प्यार से ऑफ़र मना कर दें और रिप्रेजेंटेटिव को चेतावनी दें कि वह दोबारा ऐसा न करे।

Inform your professional peers about the offer so they can avoid the representative.

अपने प्रोफेशनल साथियों को ऑफ़र के बारे में बताएं ताकि वे रिप्रेजेंटेटिव से बच सकें।

Report the representative's unethical solicitation to the Compliance Officer or Medical Licensing Board.

रिप्रेजेंटेटिव की गलत रिक्वेस्ट की रिपोर्ट कंप्लायंस ऑफिसर या मेडिकल लाइसेंसिंग बोर्ड को करें।

[Click Here to Challenge Question No.: 44](#)

Q.No: 44

In each of the following questions, a statement is given followed by 2 conclusions. Read the statements carefully and answer the following questions:

Statements:

- (i) All staff members who attended the seminar found it beneficial.
- (ii) Ms. Chen is a staff member.

Conclusions:

- (i) Ms. Chen found the seminar beneficial.
- (ii) No one who missed the seminar found it beneficial.

निम्नलिखित प्रत्येक प्रश्न में एक कथन और उसके बाद दो निष्कर्ष दिए गए हैं। कथनों को ध्यानपूर्वक पढ़िए और निम्नलिखित प्रश्नों के उत्तर दीजिए:

कथन:

(i) सेमिनार में उपस्थित सभी स्टाफ सदस्यों ने इसे लाभदायक पाया।

(ii) सुश्री चैन एक स्टाफ सदस्य हैं।

निष्कर्ष:

(i) सुश्री चैन ने सेमिनार को लाभदायक पाया।

(ii) सेमिनार में शामिल न होने वाले किसी भी व्यक्ति ने इसे लाभदायक नहीं पाया।

Only conclusion (i) follows.

केवल निष्कर्ष (i) अनुसरण करता है।

Only conclusion (ii) follows.

केवल निष्कर्ष (ii) अनुसरण करता है।

Both (i) and (ii) follow.

(i) और (ii) दोनों अनुसरण करते हैं।

Neither (i) nor (ii) follows.

न तो (i) और न ही (ii) अनुसरण करता है।

[Click Here to Challenge Question No.: 45](#)

Q.No: 45

Find the odd number out:

विषम संख्या ज्ञात करें:

1369

1369

1444

1444

1521

1521

1600

1600

[Click Here to Challenge Question No.: 46](#)

Q.No: 46	<p>You are part of a research team. Your team leader asks you to "clean up" some contradictory data points in your report to ensure the conclusion strongly supports the funding agency's expected outcome. You know the data points are valid, though inconvenient. What should you do?</p> <p>आप एक रिसर्च टीम का हिस्सा हैं। आपकी टीम लीडर आपसे आपकी रिपोर्ट में कुछ अलग-अलग डेटा पॉइंट्स को "साफ़" करने के लिए कहती है, ताकि यह पक्का हो सके कि नतीजा फंडिंग एजेंसी के उम्मीद किए गए नतीजे को मज़बूती से सपोर्ट करता है। आप जानते हैं कि डेटा पॉइंट्स सही हैं, हालांकि मुश्किल हैं। आपको क्या करना चाहिए?</p>
	<p>Remove the contradictory data points as instructed by your team leader to secure future funding.</p> <p>भविष्य की फंडिंग सुरक्षित करने के लिए अपने टीम लीडर के निर्देशानुसार विरोधाभासी डेटा पॉइंट्स को हटा दें।</p>
	<p>Refuse to remove the valid data, present the results accurately, and document your disagreement with the team leader in your internal notes.</p> <p>सही डेटा हटाने से मना करें, रिज़ल्ट सही-सही बताएं, और टीम लीडर के साथ अपनी असहमति को अपने इंटरनल नोट्स में लिखें।</p>
	<p>Remove the data, but anonymously leak the original raw data to a friendly scientist outside the team.</p> <p>डेटा हटा दें, लेकिन ओरिजिनल रॉ डेटा को गुमनाम रूप से टीम के बाहर किसी फ्रेंडली साइंटिस्ट को लीक कर दें।</p>
	<p>Present only the raw data without any analysis and let the funding agency draw its own conclusion.</p> <p>बिना किसी एनालिसिस के सिर्फ़ रॉ डेटा दिखाएं और फंडिंग एजेंसी को अपना नतीजा निकालने दें।</p>

[Click Here to Challenge Question No.: 47](#)

Q.No: 47	<p>In each of the following questions, a statement is given followed by 2 conclusions .Read the statements carefully and answer the following questions:</p> <p>Statement: Any young man who makes dowry as a condition for marriage, discredits himself and dishonours womanhood.</p> <p>Conclusions:</p> <p>I. Those who take dowry in marriage should be condemned by society.</p> <p>II. Those who do not take dowry in marriage respect womanhood.</p> <p>नीचे दिए गए हर सवाल में एक स्टेटमेंट दिया गया है जिसके बाद 2 नतीजे दिए गए हैं। स्टेटमेंट को ध्यान से पढ़ें और नीचे दिए गए सवालों के जवाब दें:</p> <p>कथन: कोई भी नौजवान जो शादी के लिए दहेज को शर्त बनाता है, वह खुद को बदनाम करता है और औरत होने का अपमान करता है।</p> <p>निष्कर्ष:</p> <p>I. जो लोग शादी में दहेज लेते हैं, समाज को उनकी बुराई करनी चाहिए।</p> <p>II. जो लोग शादी में दहेज नहीं लेते, वे औरत होने का सम्मान करते हैं।</p>
	<p>Only conclusion I follows</p> <p>केवल निष्कर्ष I. अनुसरण करता है</p>
	<p>Only conclusion II follows</p> <p>केवल निष्कर्ष II. अनुसरण करता है</p>
	<p>Neither I nor II follows</p>

Both I and II follow

। और ॥ दोनों अनुसरण करते हैं

[Click Here to Challenge Question No.: 48](#)

Q.No: 48

Choose the word that is least like the other words in the group.

वह शब्द चुनें जो ग्रुप के दूसरे शब्दों से सबसे कम मिलता-जुलता हो।

Influenza

Influenza

Night Blindness

Night Blindness

Rickets

Rickets

Scurvy

Scurvy

[Click Here to Challenge Question No.: 49](#)

Q.No: 49

In a family, L is the son of M. N is the daughter of L's sister. O is the husband of M's sister. P is the son of O. How is L related to P?

एक परिवार में, L, M का बेटा है। N, L की बहन की बेटी है। O, M की बहन का पति है। P, O का बेटा है। L, P से कैसे संबंधित है?

Cousin

चचेरा

Maternal Uncle

मामा

Father-in-law

ससुर

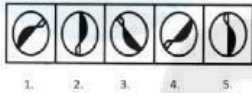
Father

पिता

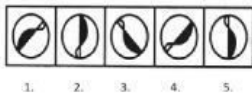
[Click Here to Challenge Question No.: 50](#)

Q.No: 50

Choose the figure which is different from the rest.



वह आकृति चुनें जो बाकी से अलग है।



1

1

2

2

4

4

5

5



CANDIDATE RESPONSE SHEET/GRIEVANCE SYSTEM

[View Your Responses](#)[Click Here to View Grievance Questions](#)Admin loggedin.[[Logout](#)]

Roll No.

Candidate Name

Exam Level :

Test Date : 11 Dec 2025

Test Time and Shift : 10:00 AM (Shift-1)

Centre Name

Correct Option selected

Wrong Option selected

Correct Option

Not Answered

[Save / Print](#)**Undertaking by the candidate :**

I acknowledge that this saved question paper is for my personal use and self-analysis only. I understand that sharing, distributing, or using it for commercial or any other purposes is strictly prohibited and may lead to legal action as per applicable acts, rules and regulations.

Note:

The candidates may note that in the challenge module the sequence of the questions and the options may be different from how it appeared during the examination. This is because in the challenge module the sequence of the questions as well as the answers will be the same for all the candidates who appeared in a particular shift while during the actual examination these sequences were different for different candidates. However the answer key selected by the candidates during the examination will exactly be reflected in the challenge module.

[Click Here for PART-A](#)[Click Here for PART-B](#)[Click Here for PART-C](#)[Click Here for PART-D](#)**PART-B (General Knowledge and General Awareness)**[Click Here to Challenge Question No.: 51](#)

Q.No: 51 Which of these is NOT a parameter in the Ease of Doing Business (EoDB) index?

इनमें से कौन सा व्यापार करने में आसानी (ईओडीबी) सूचकांक में एक पैरामीटर नहीं है?

Starting a business

कोई व्यवसाय शुरू करना

Getting electricity

बिजली प्राप्त करना

Military spending

सैन्य खर्च

Paying taxes

करों का भुगतान करना

[Click Here to Challenge Question No.: 52](#)

Q.No: 52	What is a quicker method for resolving disagreements between businesses? व्यवसायों के बीच मतभेदों को सुलझाने का त्वरित तरीका क्या है?	https://sscstudy.com/
	Long court trials लंबी अदालती सुनवाई	
	Starting fights झगड़े शुरू करना	
	Ignoring the problem समस्या को अनदेखा करना	
	Alternative dispute resolution विवाद का वैकल्पिक समाधान	

[Click Here to Challenge Question No.: 53](#)

Q.No: 53	Which of the following is the mandatory requirement of setting aside in liquid assets, such as gold or Government securities, by commercial banks? निम्नलिखित में से कौन सी वाणिज्यिक बैंकों द्वारा तरल परिसंपत्तियों, जैसे सोना या सरकारी प्रतिभूतियों, को अलग रखने की अनिवार्य ज़रूरत है?
	Cash reserve ratio नकद आरक्षित अनुपात
	Statutory liquidity ratio वैधानिक तरलता अनुपात
	Current ratio वर्तमान अनुपात
	Margin ratio मार्जिन अनुपात

[Click Here to Challenge Question No.: 54](#)

Q.No: 54	The first Mughal Emperor to be buried outside India: भारत के बाहर दफ़न होने वाले पहले मुगल सम्राट थे:
	Babur बाबर
	Humayun हुमायूँ
	Akbar अकबर
	Shah Jahan शाहजहाँ

[Click Here to Challenge Question No.: 55](#)

Q.No: 55	The Mughal Emperor who abolished the Jizya tax in 1564 was: 1564 में जजिया कर को समाप्त करने वाला मुगल सम्राट कौन था?
	Akbar अकबर

	Humayun हुमायूँ	https://sscstudy.com/
	Shah Jahan शाहजहाँ	
	Jahangir जहांगीर	

Click Here to Challenge Question No.: 56		
Q.No: 56	Which Indian state is known for its traditional martial art, Gatka? कौन सा भारतीय राज्य अपनी पारंपरिक मार्शल आर्ट, गतका के लिए जाना जाता है?	
	Punjab पंजाब	
	Haryana हरियाणा	
	Rajasthan राजस्थान	
	Gujarat गुजरात	
Not Answered		

Click Here to Challenge Question No.: 57		
Q.No: 57	Which Indian state is known for its traditional buffalo racing, "Kambala"? कौन सा भारतीय राज्य अपनी पारंपरिक भैंस दौड़, "कम्बाला" के लिए जाना जाता है?	
	Kerala केरल	
	Karnataka कर्नाटक	
	Andhra Pradesh आंध्र प्रदेश	
	Tamil Nadu तमिलनाडु	

Click Here to Challenge Question No.: 58		
Q.No: 58	In table tennis, how many consecutive serves does each player get before switching? टेबल टेनिस में प्रत्येक खिलाड़ी को स्विच करने से पहले कितने लगातार सर्व मिलते हैं?	
	1 1	
	2 2	
	3 3	
	4 4	

[Click Here to Challenge Question No.: 59](#)

Q.No: 59	The first-ever night test match in India was played in Kolkata. What colour was the cricket ball used in the game? भारत में पहला रात्रि टेस्ट मैच कोलकाता में खेला गया था। इस खेल में किस रंग की गेंद का इस्तेमाल किया गया था?
	Red लाल
	White सफ़ेद
	Pink गुलाबी
	Yellow पीला

[Click Here to Challenge Question No.: 60](#)

Q.No: 60	In which city was the final match of the 2015 Indian Super League season held? 2015 इंडियन सुपर लीग सीज़न का फाइनल मैच किस शहर में आयोजित किया गया था?
	Kochi कोच्चि
	Mumbai मुंबई
	Kolkata कोलकाता
	Goa गोवा

[Click Here to Challenge Question No.: 61](#)

Q.No: 61	Which of the following features are associated with the Gothic architectural style? निम्नलिखित में से कौन सी विशेषताएँ गोथिक स्थापत्य शैली से जुड़ी हैं?
	Sloping tiled roofs ढलानदार टाइल वाली छतें
	Pointed arches and stained glass windows नुकीले मेहराब और रंगीन कांच की खिड़कियाँ
	Flat roofs with courtyards आंगन के साथ सपाट छतें
	Domes with minarets मीनारों वाले गुंबद

Not Answered

[Click Here to Challenge Question No.: 62](#)

Q.No: 62	Which of the following ancient Indian sites is famous for its chaityas and viharas carved into rock?
----------	--

	निम्नलिखित में से कौन सा प्राचीन भारतीय स्थल चट्टान पर उकेरे गए चैत्यों और विहारों के लिए प्रसिद्ध है?	https://sscstudy.com/
	Ajanta अजंता	
	Thanjavur तंजावुर	
	Mahabalipuram महाबलीपुरम	
	Hampi हम्पी	
Not Answered		

Click Here to Challenge Question No.: 63		
Q.No: 63	The Rural Landless Employment Guarantee Programme (RLEGP) was initiated in the _____ Five-Year Plan. ग्रामीण भूमिहीन रोजगार गारंटी कार्यक्रम (आरएलईजीपी) की शुरुआत _____ पंचवर्षीय योजना में की गई थी।	
	Fourth चौथी	
	Fifth पांचवी	
	Sixth छठी	
	Seventh सातवीं	

Click Here to Challenge Question No.: 64		
Q.No: 64	Which author's "Small Things Like These" was shortlisted for the 2022 Booker Prize but is NOT of Indian origin? किस लेखक की "स्मॉल थिंग्स लाइक देज़" को 2022 बुकर पुरस्कार के लिए चुना गया था, लेकिन वह भारतीय मूल का नहीं है?	
	Arundhati Roy अरुंधति रॉय	
	Elizabeth Strout एलिजाबेथ स्ट्राउट	
	Claire Keegan क्लेयर कीगन	
	Shehan Karunatilaka शेहान करुणातिलका	
Not Answered		

Click Here to Challenge Question No.: 65		
Q.No: 65	The 7th Five-Year Plan is credited with laying the foundation for which of the following major economic reform eras in India? 7वीं पंचवर्षीय योजना को भारत में निम्नलिखित में से किस प्रमुख आर्थिक सुधार युग की नींव रखने का श्रेय दिया जाता है?	
	Nationalization of banks बैंकों का राष्ट्रीयकरण	
https://sscstudy.com/		

	Green revolution हरित क्रांति	https://sscstudy.com/
	Economic liberalization and modernization in the 1990s 1990 के दशक में आर्थिक उदारीकरण और आधुनिकीकरण	
	National Rural Employment Guarantee Act राष्ट्रीय ग्रामीण रोजगार गारंटी अधिनियम	

Click Here to Challenge Question No.: 66		
Q.No: 66	Who received the International Booker Prize in 2020 for the novel "The Discomfort of Evening"? उपन्यास "द डिस्कम्फर्ट ऑफ इवनिंग" के लिए 2020 का अंतर्राष्ट्रीय बुकर पुरस्कार किसे मिला?	
	Marieke Lucas Rijneveld मैरीके लुकास रिजनेवेल्ड	
	Olga Tokarczuk ओल्गा टोकार्कजुक	
	Jokha Alharthi जोखा अलहार्थी	
	Fernanda Melchor फर्नांडा मेलचोर	
Not Answered		

Click Here to Challenge Question No.: 67		
Q.No: 67	What is the trophy awarded to the overall champions of the National Games of India called? भारत के राष्ट्रीय खेलों के समग्र चैंपियन को दी जाने वाली ट्रॉफी को क्या कहा जाता है?	
	Nehru Trophy नेहरू ट्रॉफी	
	Raja Bhalindra Singh Trophy राजा भलिन्द्र सिंह ट्रॉफी	
	Indira Gandhi Gold Cup इंदिरा गांधी स्वर्ण कप	
	Dhyan Chand Trophy ध्यानचंद ट्रॉफी	

Click Here to Challenge Question No.: 68		
Q.No: 68	Who was the first Indian female athlete to win a medal at the World Athletics Championships? विश्व एथलेटिक्स चैंपियनशिप में पदक जीतने वाली पहली भारतीय महिला एथलीट कौन थी?	
	Hima Das हिमा दास	
	Anju Bobby George अंजू बॉबी जॉर्ज	
	Dutee Chand दुती चंद	

Not Answered

[Click Here to Challenge Question No.: 69](#)

Q.No: 69	Which harvest festival in Tripura involves traditional tribal dances and rituals after jhum cultivation? त्रिपुरा का ऐसा कौन सा कटाई का त्योहार है जिसमें झूम खेती के बाद पारंपरिक आदिवासी नृत्य और रस्म शामिल हैं?
	Moatsu मोआत्सु
	Losar लोसर
	Garia Puja गरिया पूजा
	Chapchar Kut चापचर कुट

[Click Here to Challenge Question No.: 70](#)

Q.No: 70	The primary reason for the British government's decision to partition Bengal in 1905 was: 1905 में बंगाल विभाजन के ब्रिटिश सरकार के निर्णय का मुख्य कारण था:
	To promote the educational development of the region. क्षेत्र के शैक्षिक विकास को बढ़ावा देना।
	To improve the administrative efficiency of the large province. बड़े प्रांत की प्रशासनिक दक्षता में सुधार करना।
	To foster greater unity between the Hindu and Muslim populations of Bengal. बंगाल की हिंदू और मुस्लिम आबादी के बीच ज्यादा एकता को बढ़ावा देना।
	To encourage the growth of industrialization in East Bengal. पूर्वी बंगाल में औद्योगीकरण के विकास को प्रोत्साहित करना।

[Click Here to Challenge Question No.: 71](#)

Q.No: 71	The "Indian Independence Act of 1947" outlined the terms for the transfer of power and the creation of independent India and Pakistan. Which of the following was a key provision of this Act regarding the princely states? "भारतीय स्वतंत्रता अधिनियम 1947" ने सत्ता के हस्तांतरण और स्वतंत्र भारत और पाकिस्तान के निर्माण की शर्तों को रेखांकित किया। रियासतों के संबंध में इस अधिनियम का मुख्य प्रावधान निम्नलिखित में से कौन सा था?
	It mandated the immediate integration of all princely states into either India or Pakistan based on geographical contiguity. इसमें भौगोलिक निकटता के आधार पर सभी रियासतों को भारत या पाकिस्तान में तत्काल शामिल करने का आदेश दिया गया।
	It granted the princely states the freedom to choose whether to join India, Pakistan, or remain independent. इसने रियासतों को यह चुनने की स्वतंत्रता दी कि वे भारत, पाकिस्तान में शामिल हों या स्वतंत्र रहें।
	It stipulated that the British government would continue to exercise paramountcy over the princely states. इसमें यह प्रावधान किया गया कि ब्रिटिश सरकार रियासतों पर सर्वोच्चता बनाए रखेगी।
	It ensured that the revenue sharing agreements between the princely states and the new dominions would remain unchanged.

[Click Here to Challenge Question No.: 72](#)

Q.No: 72	<p>The "Wood's Despatch" of 1854 recommended several significant changes in the Indian education system.</p> <p>Which of the following was a key recommendation of this despatch?</p> <p>1854 के "वुड्स डिस्पैच" ने भारतीय शिक्षा प्रणाली में कई महत्वपूर्ण बदलावों की सिफारिश की।</p> <p>निम्नलिखित में से कौन सी इस डिस्पैच की प्रमुख सिफारिश थी?</p>
	<p>The immediate vernacularization of all levels of education.</p> <p>सभी स्तरों की शिक्षा का तत्काल स्थानीय भाषाकरण।</p>
	<p>The establishment of a comprehensive system of education from the primary to the university level, with English as the medium of instruction at higher levels.</p> <p>प्राथमिक से विश्वविद्यालय स्तर तक शिक्षा की एक व्यापक प्रणाली की स्थापना, जिसमें उच्च स्तर पर शिक्षा का माध्यम अंग्रेजी हो।</p>
	<p>The complete privatization of the education sector in India.</p> <p>भारत में शिक्षा क्षेत्र का पूर्ण निजीकरण।</p>
	<p>The exclusive focus on the training of religious leaders and scholars.</p> <p>धार्मिक नेताओं और विद्वानों के प्रशिक्षण पर विशेष ध्यान दिया जाएगा।</p>

[Click Here to Challenge Question No.: 73](#)

Q.No: 73	<p>What was the theme of India's Republic Day Parade 2025?</p> <p>भारत के गणतंत्र दिवस परेड 2025 का विषय क्या था?</p>
	<p>Bharat - Loktantra ki Matruka</p> <p>भारत - लोकतंत्र की मातृका</p>
	<p>Swarnim Bharat - Virasat aur Vikas</p> <p>स्वर्णिम भारत - विरासत और विकास</p>
	<p>Jan Bagidari</p> <p>जन बागीदारी</p>
	<p>Unity in Diversity</p> <p>अनेकता में एकता</p>

[Click Here to Challenge Question No.: 74](#)

Q.No: 74	<p>Which of the following is a folk dance of Haryana?</p> <p>निम्नलिखित में से कौन सा हरियाणा का लोक नृत्य है?</p>
	<p>Garba</p> <p>गरबा</p>
	<p>Ghoomar</p> <p>घूमर</p>
	<p>Kuchipudi</p> <p>कुचीपुड़ी</p>
	<p>Gidda</p> <p>गिद्धा</p>

Q.No: 75	Who received the prestigious Aryabhata Award from the Astronautical Society of India (ASI) in 2024? 2024 में एस्ट्रोनॉटिकल सोसाइटी ऑफ इंडिया (एएसआई) से प्रतिष्ठित आर्यभट्ट पुरस्कार किसे मिला?
	Subba Rao Pavuluri सुब्बा राव पवुलुरी
	Satheesh Reddy सतीश रेड्डी
	R.P. Shenoy आर.पी. शेनॉय
	V.K. Saraswat वी.के. सारस्वत

Not Answered

Q.No: 76	Who was awarded Sahitya Akademi award for English in 2020 for the novel 'Requiem in Raga Janki'? उपन्यास 'रेक्विम इन रागा जानकी' के लिए 2020 में अंग्रेजी के लिए साहित्य अकादमी पुरस्कार किसे दिया गया?
	Anuradha Roy अनुराधा रॉय
	Neelum Saran Gour नीलम सरन गौर
	Namita Gokhale नमिता गोखले
	Arundhathi Subramaniam अरुंधति सुब्रमण्यम

Not Answered

Q.No: 77	Which dance form in Manipur involves the use of swords, spears, and shields? मणिपुर में किस नृत्य शैली में तलवार, भाले और ढाल का उपयोग शामिल है?
	Ras रास
	Thang-Ta थांग-टा
	Sankirtana संकीर्तन
	Choloms चोलोम

Q.No: 78	Dakshinchitra was compiled during the reign of which Pallava ruler? दक्षिणचित्र किस पल्लव शासक के शासनकाल के दौरान संकलित किया गया था?
	Sivaskandavarman

[Click Here to Challenge Question No.: 79](#)Q.No: 79 Which of the following rulers is NOT the part of the *Kadai Yelu Vallalgal* (The Seven Great Patrons)?

निम्नलिखित में से कौन सा शासक कडाई येलु वल्लालगल (सात महान संरक्षक) का हिस्सा नहीं है?

Pari

परी

Nediyon

नेडियॉन

Adiyaman

एडियमन

Pegan

पेगन

Not Answered

[Click Here to Challenge Question No.: 80](#)

Q.No: 80 With reference to Copper production in India, consider the following statements:

1. India has turned into a net importer of refined copper in recent times.
2. Rajasthan, Madhya Pradesh, and Jharkhand are the only states involved in the production of copper in the country.
3. During the copper smelting process, the sulfur dioxide and particulate matter are predominantly released into the atmosphere.

Which of the statements given above is/are CORRECT?

भारत में तांबे के उत्पादन के संदर्भ में, निम्नलिखित कथनों पर विचार करें:

1. भारत हाल के दिनों में परिष्कृत तांबे का शुद्ध आयातक बन गया है।
2. राजस्थान, मध्य प्रदेश और झारखंड देश में तांबे के उत्पादन में शामिल एकमात्र राज्य हैं।
3. तांबे के गलाने की प्रक्रिया के दौरान, सल्फर डाइऑक्साइड और कण पदार्थ मुख्य रूप से वायुमंडल में छोड़े जाते हैं।

ऊपर दिए गए कथनों में से कौन सा सही है/हैं?

1 only

केवल 1

1 and 2 only

केवल 1 और 2

2 and 3 only

केवल 2 और 3

1 and 3 only

केवल 1 और 3

Q.No: 81 Which instrument is commonly used as a prop during the performance of Pandavani in Chhattisgarh?

छत्तीसगढ़ में पंडवानी के प्रदर्शन के दौरान आमतौर पर किस वाद्य यंत्र का उपयोग किया जाता है?

Tambura

तम्बूरा

Tabla

तबला

Harmonium

हरमोनियम

Manjira

मंजीरा

Not Answered

[Click Here to Challenge Question No.: 82](#)

Q.No: 82 The Chota Nagpur plateau region receives the majority of its rainfall through which of the following wind system?

छोटा नागपुर पठार क्षेत्र अपनी अधिकांश वर्षा निम्नलिखित में से किस पवन प्रणाली के माध्यम से प्राप्त करता है?

Arabian Sea branch of South-West monsoon winds

दक्षिण-पश्चिम मानसून हवाओं की अरब सागर शाखा

Bay of Bengal branch of South-West monsoon winds

दक्षिण-पश्चिम मानसून हवाओं की बंगाल की खाड़ी शाखा

North-Eastern monsoon winds

उत्तर-पूर्वी मानसून हवाएँ

None of these

इनमें से कोई नहीं

[Click Here to Challenge Question No.: 83](#)

Q.No: 83 Which of the following pairs is **correctly** matched with respect to the Lyuva Khutla festival of the Mara tribe?

मारा जनजाति के ल्यूवा खुटला त्योहार के संबंध में निम्नलिखित में से कौन सा युग्म **सही** सुमेलित है?

Modern Games – Ludo

आधुनिक खेल – लूडो

Dances – Bihu & Dalkhai

नृत्य – बिहू और दलखाई

Festival Host – Chaypi

त्योहार संचालक – चायपी

Attire – Mekhela Chador

पोशाक – मेखेला चादर

Not Answered

[Click Here to Challenge Question No.: 84](#)

Q.No: 84 Fill in the blanks:

In Indian classical music notation, a swara with a dot above the letter (e.g., Ṣ) represents the ____ saptak.

रिक्त स्थान भरें:

भारतीय शास्त्रीय संगीत संकेतन में, अक्षर के ऊपर बिंदु वाला स्वर (जैसे, ङ) _____ सप्तक का प्रतिनिधित्व करता है।

<https://sscstudy.com/>

Madhya Saptak

मध्य सप्तक

Mandra Saptak

मन्द्र सप्तक

Taar Saptak

तार सप्तक

Shuddha Saptak

शुद्ध सप्तक

Not Answered

[Click Here to Challenge Question No.: 85](#)

Q.No: 85 Where was the Quad Foreign Ministers' Meeting held on 1 July 2025?

1 जुलाई 2025 को क्वाड विदेश मंत्रियों की बैठक कहाँ आयोजित की गई थी?

Canberra, Australia

कैनबरा, ऑस्ट्रेलिया

New Delhi, India

नई दिल्ली, भारत

Tokyo, Japan

टोकियो, जापान

Washington, USA

वाशिंगटन, अमेरिका

[Click Here to Challenge Question No.: 86](#)

Q.No: 86 Consider the following statements about the 2015 India-Bangladesh Land Boundary Agreement (LBA):

1) As per the 2015 agreement, 51 Bangladeshi enclaves in India and 111 Indian enclaves in Bangladesh were exchanged.

2) A majority of enclave residents from Bangladesh opted to retain Bangladeshi citizenship after the transfer.

Which of the statements given above is/are correct?

2015 के भारत-बांग्लादेश भूमि सीमा समझौते (एलबीए) के बारे में निम्नलिखित कथनों पर विचार करें:

1) 2015 के समझौते के अनुसार, भारत में 51 बांग्लादेशी एन्क्लेव और बांग्लादेश में 111 भारतीय एन्क्लेव का आदान-प्रदान किया गया।

2) बांग्लादेश के अधिकांश एन्क्लेव निवासियों ने हस्तांतरण के बाद बांग्लादेशी नागरिकता बनाए रखने का विकल्प चुना।

उपर्युक्त कथनों में से कौन सा/से सही है/हैं?

Only 1 is Correct

केवल 1 सही है

Only 2 is Correct

केवल 2 सही है

1 and 2 are Correct

1 और 2 सही हैं

Neither 1 nor 2 are Correct

न तो 1 और न ही 2 सही है

[Click Here to Challenge Question No.: 87](#)

<https://sscstudy.com/>

Q.No: 87	<p>Consider the following statements regarding the strategic objectives and features of IMEC:</p> <p>1) IMEC is both an economic and political project linking Asia, the Gulf, and Europe. 2) IMEC cuts transport time and cost to Europe by 20% and 15% via maritime routes. Which of the above statements is/are correct?</p> <p>IMEC के रणनीतिक उद्देश्यों और विशेषताओं के संबंध में निम्नलिखित कथनों पर विचार करें:</p> <p>1) IMEC एशिया, खाड़ी और यूरोप को जोड़ने वाली एक आर्थिक और राजनीतिक परियोजना है। 2) IMEC समुद्री मार्गों से यूरोप तक परिवहन समय और लागत में क्रमशः 20% और 15% की कमी करता है। उपरोक्त में से कौन सा/से कथन सही है/हैं?</p>
	<p>Only 1 is correct केवल 1 सही है</p>
	<p>Only 2 is correct केवल 2 सही है</p>
	<p>Both 1 and 2 are correct 1 और 2 दोनों सही हैं</p>
	<p>Neither 1 nor 2 is correct न तो 1 और न ही 2 सही है</p>

[Click Here to Challenge Question No.: 88](#)

Q.No: 88	<p>Who presented the Digital Payments Award 2024-25 to India Post Payments Bank for its efforts in digital inclusion? डिजिटल समावेशन में अपने प्रयासों के लिए इंडिया पोस्ट पेमेंट्स बैंक को डिजिटल भुगतान पुरस्कार 2024-25 किसने प्रदान किया?</p>
	<p>Smt. Nirmala Sitharaman and Shri Pankaj Chaudhary श्रीमती निर्मला सीतारमण और श्री पंकज चौधरी</p>
	<p>Shri Ashwini Vaishnaw and Dr. Bhagwat Karad श्री अश्विनी वैष्णव और डॉ. भागवत कराड</p>
	<p>Smt. Anupriya Patel and Shri Rajeev Chandrasekhar श्रीमती अनुप्रिया पटेल और श्री राजीव चन्द्रशेखर</p>
	<p>Shri Dharmendra Pradhan and Shri Hardeep Singh Puri श्री धर्मेंद्र प्रधान और श्री हरदीप सिंह पुरी</p>

[Click Here to Challenge Question No.: 89](#)

Q.No: 89	<p>Anai Mudi and Doda Betta, two of the highest peaks in the Western Ghats, are located in: पश्चिमी घाट की दो सबसे ऊंची चोटियां, अनाई मुडी और डोडा बेट्टा, कहां स्थित हैं?</p>
	<p>Himachal Pradesh हिमाचल प्रदेश</p>
	<p>Tamil Nadu and Kerala तमिलनाडु और केरल</p>
	<p>Sikkim and Assam सिक्किम और असम</p>
	<p>Odisha and Chhattisgarh ओडिशा और छत्तीसगढ़</p>

[Click Here to Challenge Question No.: 90](#)

Q.No: 90	<p>As per Census 2011, what was the population density of India? 2011 की जनगणना के अनुसार भारत का जनसंख्या घनत्व कितना था?</p>
----------	--

	421 persons per sq km 421 व्यक्ति प्रति वर्ग किमी
	394 persons per sq km 394 व्यक्ति प्रति वर्ग किमी
	382 persons per sq km 382 व्यक्ति प्रति वर्ग किमी
	365 persons per sq km 365 व्यक्ति प्रति वर्ग किमी

[Click Here to Challenge Question No.: 91](#)

Q.No: 91	The NISAR satellite mission is primarily related to which type of imaging? NISAR उपग्रह मिशन मुख्य रूप से किस प्रकार की इमेजिंग से संबंधित है?
	Sample return नमूना वापसी
	Optical imaging ऑप्टिकल इमेजिंग
	Radar imaging रडार इमेजिंग
	Spectroscopy स्पेक्ट्रोस्कोपी

[Click Here to Challenge Question No.: 92](#)

Q.No: 92	The oldest and most continuously productive coalfield in India, located in West Bengal, is: भारत का सबसे पुराना और सबसे अधिक लगातार उत्पादक कोयला क्षेत्र, पश्चिम बंगाल में स्थित है:
	Jharia Coalfield झरिया कोयला क्षेत्र
	Raniganj Coalfield रानीगंज कोयला क्षेत्र
	Bokaro Coalfield बोकारो कोयला क्षेत्र
	Talcher Coalfield तालचेर कोयला क्षेत्र

[Click Here to Challenge Question No.: 93](#)

Q.No: 93	Evaluate the following statements related to reusable launch vehicles (RLVs): Statement 1: RLVs are being explored primarily to enhance launch efficiency and reduce the recurring cost of satellite deployment. Statement 2: The development of RLVs increases operational complexity, making them less viable compared to traditional expendable systems. Which of the above statements is/are correct? पुनः प्रयोज्य प्रक्षेपण यानों (आरएलवी) से संबंधित निम्नलिखित कथनों का मूल्यांकन कीजिए: कथन 1: आरएलवी का अन्वेषण मुख्यतः प्रक्षेपण दक्षता बढ़ाने और उपग्रह तैनाती की आवर्ती लागत को कम करने के लिए किया जा रहा है। कथन 2: आरएलवी के विकास से परिचालन जटिलता बढ़ जाती है, जिससे वे पारंपरिक व्यय योग्य प्रणालियों की तुलना में कम व्यवहार्य हो जाते हैं। उपरोक्त में से कौन सा/से कथन सही है/हैं?
	Only Statement 1 is correct

	केवल कथन 1 सही है
	Only Statement 2 is correct केवल कथन 2 सही है
	Both 1 and 2 are correct 1 और 2 दोनों सही हैं
	Neither 1 nor 2 are correct न तो 1 और न ही 2 सही हैं

[Click Here to Challenge Question No.: 94](#)

Q.No: 94	Which of the following is NOT a nitrogenous base in DNA? निम्नलिखित में से कौन सा DNA में नाइट्रोजनी क्षार नहीं है?
	Adenine एडीनाइन
	Uracil यूरेसिल
	Cytosine साइटोसिन
	Guanine गुआनिन

Not Answered

[Click Here to Challenge Question No.: 95](#)

Q.No: 95	Which of the following is now explicitly considered a 'document' under the Bharatiya Sakshya Adhiniyam? निम्नलिखित में से किसे अब स्पष्ट रूप से भारतीय साक्ष्य अधिनियम के अंतर्गत एक 'दस्तावेज' माना जाता है?
	A verbal agreement एक मौखिक समझौता
	A gesture or sign language एक इशारा या सांकेतिक भाषा
	A server log file एक सर्वर लॉग फ़ाइल
	A spontaneous thought एक सहज विचार

[Click Here to Challenge Question No.: 96](#)

Q.No: 96	Consider the following statements regarding the Urea Subsidy Scheme: Statement 1: Urea is sold to farmers at a fixed Maximum Retail Price (MRP). Statement 2: The subsidy is directly transferred to the bank accounts of farmers. Which of the above is/are correct? यूरिया सब्सिडी योजना के संबंध में निम्नलिखित कथनों पर विचार कीजिए: कथन 1: यूरिया किसानों को एक निश्चित अधिकतम खुदरा मूल्य (एमआरपी) पर बेचा जाता है। कथन 2: सब्सिडी सीधे किसानों के बैंक खातों में हस्तांतरित की जाती है। उपर्युक्त में से कौन सा सही है/हैं?
	Only Statement 1 is correct केवल कथन 1 सही है

	Only Statement 2 is correct केवल कथन 2 सही है	https://sscstudy.com/
	Both 1 and 2 are correct 1 और 2 दोनों सही हैं	
	Neither 1 nor 2 is correct न तो 1 और न ही 2 सही है	

Click Here to Challenge Question No.: 97		
Q.No: 97	What is the primary focus of the National Mission on Edible Oils–Oil Palm (NMEO–OP)? राष्ट्रीय खाद्य तेल मिशन-तेल पाम (एनएमईओ-ओपी) का प्राथमिक फोकस क्या है?	
	Enhancing oilseed storage capacity तिलहन भंडारण क्षमता में वृद्धि	
	Promoting cultivation of a tropical oil-rich crop उष्णकटिबंधीय तेल समृद्ध फसल की खेती को बढ़ावा देना	
	Diversifying inland fisheries production अंतर्देशीय मत्स्य उत्पादन में विविधता लाना	
	Supporting aromatic plant-based biofuels सुगंधित पादप-आधारित जैव ईंधन का समर्थन	

Click Here to Challenge Question No.: 98		
Q.No: 98	Which of the following best explains why indirect taxes are considered regressive? निम्नलिखित में से कौन सा कथन सबसे अच्छे ढंग से बताता है कि अप्रत्यक्ष करों को प्रतिगामी क्यों माना जाता है?	
	They vary with income level वे आय स्तर के साथ भिन्न होते हैं	
	They apply only to the wealthy ये केवल धनी लोगों पर लागू होते हैं	
	They burden only corporations वे केवल निगमों पर बोझ डालते हैं	
	They impact all income groups equally वे सभी आय समूहों पर समान रूप से प्रभाव डालते हैं	

Click Here to Challenge Question No.: 99		
Q.No: 99	When is total revenue maximized in relation to elasticity? लोच के संबंध में कुल राजस्व कब अधिकतम होता है?	
	When elasticity is greater than one जब लोच एक से अधिक हो	
	When elasticity equals one जब लोच एक के बराबर हो	
	When elasticity is less than one जब लोच एक से कम हो	
	When marginal cost equals marginal revenue	

[Click Here to Challenge Question No.: 100](#)

Q.No: 100	Usha Mehta is famously known for which of the following contributions during the Quit India Movement? उषा मेहता भारत छोड़ो आंदोलन के दौरान निम्नलिखित में से किस योगदान के लिए प्रसिद्ध हैं?
	Leading armed struggle against British forces ब्रिटिश सेना के खिलाफ सशस्त्र संघर्ष का नेतृत्व करना
	Organizing the underground radio to broadcast nationalist messages राष्ट्रवादी संदेशों के प्रसारण के लिए भूमिगत रेडियो का आयोजन
	Being the first woman to be executed by the British for revolutionary activities क्रांतिकारी गतिविधियों के लिए अंग्रेजों द्वारा फाँसी दी जाने वाली पहली महिला होना
	Leading mass protests in Bombay बम्बई में बड़े पैमाने पर विरोध प्रदर्शनों का नेतृत्व करना



CANDIDATE RESPONSE SHEET/GRIEVANCE SYSTEM

[View Your Responses](#)[Click Here to View Grievance Questions](#)Admin loggedin. [[Logout](#)]

Roll No.

Candidate Name

Exam Level :

Test Date : 11 Dec 2025

Test Time and Shift : 10:00 AM (Shift-1)

Centre Name

Correct Option selected Wrong Option selected Correct Option Not Answered[Save / Print](#)**Undertaking by the candidate :**

I acknowledge that this saved question paper is for my personal use and self-analysis only. I understand that sharing, distributing, or using it for commercial or any other purposes is strictly prohibited and may lead to legal action as per applicable acts, rules and regulations.

Note:

The candidates may note that in the challenge module the sequence of the questions and the options may be different from how it appeared during the examination. This is because in the challenge module the sequence of the questions as well as the answers will be the same for all the candidates who appeared in a particular shift while during the actual examination these sequences were different for different candidates. However the answer key selected by the candidates during the examination will exactly be reflected in the challenge module.

[Click Here for PART-A](#)[Click Here for PART-B](#)[Click Here for PART-C](#)[Click Here for PART-D](#)**PART-C (Quantitative Aptitude)**[Click Here to Challenge Question No.: 101](#)

Q.No: 101	A student scores an average of 70 marks in the first 4 tests. What must he score in the 5th test to have an overall average of 75? एक छात्र पहले 4 टेस्ट में औसतन 70 अंक प्राप्त करता है। 5वें टेस्ट में उसे कितने अंक प्राप्त करने चाहिए ताकि उसका कुल औसत 75 हो जाए?
	90
	90
	95
	95
	85
	85
	80
	80

Q.No: 102	<p>A shopkeeper sells 5 types of fruits. The average cost of each fruit is ₹40.</p> <p>What is the total cost of all fruits?</p> <p>एक दुकानदार 5 प्रकार के फल बेचता है। प्रत्येक फल की औसत कीमत ₹40 है।</p> <p>सभी फलों की कुल कीमत क्या है?</p>
	₹210
	₹210
	₹180
	₹180
	₹200
	₹200
	₹220
	₹220

Q.No: 103	<p>A fruit seller mixes mangoes bought at ₹60/kg and ₹40/kg in equal quantity.</p> <p>What is the cost price per kg of the mixture?</p> <p>एक फल विक्रेता ₹60/किग्रा और ₹40/किग्रा की दर से खरीदे गए आमों को बराबर मात्रा में मिलाता है।</p> <p>मिश्रण की प्रति किग्रा लागत कीमत क्या है?</p>
	₹55
	₹55
	₹52
	₹52
	₹50
	₹50
	₹60
	₹60

Q.No: 104	<p>A tank in a Kolkata laboratory contains a solution of salt and water in the ratio 5:3.</p> <p>If 16 litres of water is added, the ratio becomes 5:4.</p> <p>Find the original quantity of solution.</p> <p>कोलकाता की एक प्रयोगशाला में एक टैंक में नमक और पानी का 5:3 के अनुपात में घोल है।</p> <p>अगर इसमें 16 लीटर पानी मिलाया जाए, तो अनुपात 5:4 हो जाता है।</p> <p>घोल की मूल मात्रा ज्ञात कीजिए।</p>
	164 litres
	164 लीटर
	128 litres
	128 लीटर
	110 litres
	110 लीटर
	92 litres

[Click Here to Challenge Question No.: 105](#)

Q.No: 105 A student scored 75% marks in an exam of 600 marks.

How many marks did the student obtain?

एक छात्र ने 600 अंकों की परीक्षा में 75% अंक प्राप्त किए।

छात्र ने कितने अंक प्राप्त किए?

450

450

475

475

400

400

460

460

[Click Here to Challenge Question No.: 106](#)

Q.No: 106 An article bought for ₹150 is sold for ₹135.

Find the loss percentage.

₹150 में खरीदी गई एक वस्तु को ₹135 में बेचा गया।

हानि प्रतिशत ज्ञात कीजिए।

8%

8%

12%

12%

15%

15%

10%

10%

[Click Here to Challenge Question No.: 107](#)

Q.No: 107 A shopkeeper bought an article for ₹2500 and sold it at a profit of 12%.

What is the selling price?

एक दुकानदार ने एक वस्तु ₹2500 में खरीदी और उसे 12% लाभ पर बेच दिया।

विक्रय मूल्य क्या है?

₹2700

₹2700

₹2805

₹2805

₹2800

₹2800

₹2850

₹2850

[Click Here to Challenge Question No.: 108](#)

Q.No: 108	<p>A man walking at 6 km/h reaches the market in 40 minutes.</p> <p>If he walks at 4 km/h, how long will he take to reach the market?</p> <p>एक आदमी 6 किमी/घंटे की गति से चलकर 40 मिनट में बाजार पहुँचता है।</p> <p>अगर वह 4 किमी/घंटे की गति से चले, तो उसे बाजार पहुँचने में कितना समय लगेगा?</p>
	<p>50 minutes</p> <p>50 मिनट</p>
	<p>60 minutes</p> <p>60 मिनट</p>
	<p>80 minutes</p> <p>80 मिनट</p>
	<p>70 minutes</p> <p>70 मिनट</p>

[Click Here to Challenge Question No.: 109](#)

Q.No: 109	<p>Rani can complete a stitching order in 24 days. After working for 6 days, her sister joins her, and they finish it in 10 more days.</p> <p>In how many days can her sister alone complete the work?</p> <p>रानी एक सिलाई का ऑर्डर 24 दिनों में पूरा कर सकती है। 6 दिन काम करने के बाद, उसकी बहन उसके साथ जुड़ जाती है, और वे इसे 10 और दिनों में पूरा कर लेते हैं।</p> <p>उसकी बहन अकेले कितने दिनों में काम पूरा कर सकती है?</p>
	<p>30</p> <p>30</p>
	<p>24</p> <p>24</p>
	<p>36</p> <p>36</p>
	<p>48</p> <p>48</p>

[Click Here to Challenge Question No.: 110](#)

Q.No: 110	<p>A and B together can do a piece of work in 8 days. B and C can do it in 12 days, and C and A can do it in 16 days.</p> <p>In how many days can A alone do the work?</p> <p>A और B मिलकर किसी काम को 8 दिन में पूरा कर सकते हैं। B और C इसे 12 दिन में पूरा कर सकते हैं, तथा C और A इसे 16 दिन में पूरा कर सकते हैं।</p> <p>A अकेले उस काम को कितने दिन में पूरा कर सकता है?</p>
	<p>19.2</p> <p>19.2</p>
	<p>21</p> <p>21</p>
	<p>24.5</p> <p>24.5</p>
	<p>30</p> <p>30</p>

[Click Here to Challenge Question No.: 111](#)

Q.No: 111	A copper sphere of diameter 12 cm is drawn into a wire of diameter 8 cm. Find the length of the wire. 12 सेंटीमीटर व्यास वाले एक तांबे के गोले को 8 सेंटीमीटर व्यास वाले तार में पिरोया गया है। तार की लंबाई ज्ञात कीजिए।
	18 cm 18 सेंटीमीटर
	38 cm 38 सेंटीमीटर
	20 cm 20 सेंटीमीटर
	28 cm 28 सेंटीमीटर

[Click Here to Challenge Question No.: 112](#)

Q.No: 112	A cuboid has length 7 cm, breadth 3 cm, and height 4 cm. Its surface area is: एक घनाभ की लंबाई 7 सेंटीमीटर, चौड़ाई 3 सेंटीमीटर और ऊँचाई 4 सेंटीमीटर है। इसका पृष्ठीय क्षेत्रफल है:
	122 cm ² 122 वर्ग सेंटीमीटर
	134 cm ² 134 वर्ग सेंटीमीटर
	142 cm ² 142 वर्ग सेंटीमीटर
	158 cm ² 158 वर्ग सेंटीमीटर

[Click Here to Challenge Question No.: 113](#)

Q.No: 113	The volume of a sphere is 288π cm ³ . Find the surface area of the sphere. एक गोले का आयतन 288π सेमी ³ है। गोले का पृष्ठीय क्षेत्रफल ज्ञात कीजिए।
	144π cm ² 144π सेमी ²
	72π cm ² 72π सेमी ²
	288π cm ² 288π सेमी ²
	576π cm ² 576π सेमी ²

[Click Here to Challenge Question No.: 114](#)

Q.No: 114	A fish tank has dimensions of 90 cm long, 50 cm width, and 40 cm height. How many liters of water can it hold when completely full? (Given: $1 \text{ m}^3 = 1000 \text{ liters}$, and $1 \text{ m} = 100 \text{ cm}$) एक मछली टैंक की लंबाई 90 सेमी, चौड़ाई 50 सेमी और ऊँचाई 40 सेमी है। पूरी तरह से भरा होने पर इसमें कितने लीटर पानी समा सकता है? (दिया गया है: $1 \text{ मीटर}^3 = 1000 \text{ लीटर}$, and $1 \text{ मीटर} = 100 \text{ सेमी}$)
	180 liters

	180 लीटर
	18 liters
	18 लीटर
	1800 liters
	1800 लीटर
	1.8 liters
	1.8 लीटर

[Click Here to Challenge Question No.: 115](#)

Q.No: 115	<p>What is the total number of square tiles, each with a side length of 10 cm, required to completely cover the surface area of a cuboid that measures 60 cm by 40 cm by 30 cm?</p> <p>60 सेमी x 40 सेमी x 30 सेमी माप वाले एक घनाभ के पृष्ठीय क्षेत्रफल को पूरी तरह से ढकने के लिए आवश्यक वर्गाकार टाइलों की कुल संख्या क्या है, जिनमें से प्रत्येक की भुजा की लंबाई 10 सेमी है?</p>
	54
	54
	108
	108
	216
	216
	1080
	1080

[Click Here to Challenge Question No.: 116](#)

Q.No: 116	<p>A small container for chemicals has dimensions 20 cm × 20 cm × 15 cm. If it is filled to 10% of its volume, what is the amount of liquid (in liters) inside?</p> <p>रसायनों के लिए एक छोटे कंटेनर का आयाम 20 सेमी × 20 सेमी × 15 सेमी है। यदि इसे इसके आयतन के 10% तक भरा जाए, तो इसके अंदर तरल की मात्रा (लीटर में) क्या है?</p>
	0.06 liters
	0.06 लीटर
	0.6 liters
	0.6 लीटर
	6 liters
	6 लीटर
	60 liters
	60 लीटर

[Click Here to Challenge Question No.: 117](#)

Q.No: 117	<p>A cone is cut by a plane parallel to its base, $\frac{1}{3}$rd from the top. What is the ratio of the volumes of the smaller top cone to the whole cone?</p> <p>एक शंकु को उसके आधार के समांतर एक समतल द्वारा शीर्ष से $\frac{1}{3}$ भाग पर काटा जाता है। शीर्ष पर स्थित छोटे शंकु के आयतन का पूरे शंकु के आयतन से अनुपात क्या है?</p>
	1 : 27
	1 : 27
	2 : 17
	2 : 17
	3 : 17

3 : 17

<https://sscstudy.com/>

5 : 27

5 : 27

[Click Here to Challenge Question No.: 118](#)

Q.No: 118 The height of a right circular cone is trisected by two planes parallel to its base. What is the ratio of the three volumes (top to bottom)?

एक लम्बवृत्तीय शंकु की ऊँचाई उसके आधार के समांतर दो तलों द्वारा समद्विभाजित की गई है। तीनों आयतनों (ऊपर से नीचे) का अनुपात क्या है?

1 : 7 : 19

1 : 7 : 19

1 : 8 : 28

1 : 8 : 28

1 : 3 : 10

1 : 3 : 10

None of the above

इनमें से कोई भी नहीं

Not Answered

[Click Here to Challenge Question No.: 119](#)

Q.No: 119 A right prism has a square base with side 10 cm. The height of the prism is 12 cm. What is the total surface area?

एक लम्ब प्रिज्म का आधार वर्गाकार है जिसकी भुजा 10 सेंटीमीटर है। प्रिज्म की ऊँचाई 12 सेंटीमीटर है। इसका कुल पृष्ठीय क्षेत्रफल क्या है?

1440 cm²

1440 वर्ग सेंटीमीटर

160 cm²

160 वर्ग सेंटीमीटर

680 cm²

680 वर्ग सेंटीमीटर

200 cm²

200 वर्ग सेंटीमीटर

Not Answered

[Click Here to Challenge Question No.: 120](#)

Q.No: 120 If $X + Y = 20$ and $XY = 120$; what is the value of $(X)^2 + (Y)^2 = ?$

अगर $X + Y = 20$ और $XY = 120$; $(X)^2 + (Y)^2 =$ का मान क्या है?

160

160

120

120

200

200

221

221

<https://sscstudy.com/>

Q.No: 121 What is the area of a rectangle if length = $4a^2b$ and breadth = $5ab^3$?

अगर लंबाई = $4a^2b$ और चौड़ाई = $5ab^3$ है, तो आयत का क्षेत्रफल क्या होगा?

$15b^3b^4$

$15b^3b^4$

$15a^2b^4$

$15a^2b^4$

$20a^3b^4$

$20a^3b^4$

$10a^3b^4$

$10a^3b^4$

Q.No: 122 A regular pyramid has a square base of side 10 cm and slant height 13 cm. Find the lateral surface area.

एक नियमित पिरामिड का वर्गाकार आधार 10 सेमी भुजा और तिर्यक ऊँचाई 13 सेमी है। पार्श्व पृष्ठीय क्षेत्रफल ज्ञात कीजिए।

260 cm^2

260 सेमी^2

200 cm^2

200 सेमी^2

160 cm^2

160 सेमी^2

100 cm^2

100 सेमी^2

Not Answered

Q.No: 123 The average of 3.25, $2\frac{1}{2}$ and 4.75 is:

3.25, $2\frac{1}{2}$ और 4.75 का औसत है:

3.5

3.5

3.6

3.6

3.25

3.25

3.75

3.75

Q.No: 124 Which of the following is a terminating decimal?

निम्नलिखित में से कौन सा एक सांत दशमलव है?

	$\frac{7}{20}$
	$\frac{7}{20}$
	$\frac{11}{30}$
	$\frac{11}{30}$
	$\frac{13}{45}$
	$\frac{13}{45}$
	$\frac{8}{33}$
	$\frac{8}{33}$
Not Answered	

[Click Here to Challenge Question No.: 125](#)

Q.No: 125	If a regular polygon has 44 diagonals, how many sides does it have? यदि एक समबहुभुज में 44 विकर्ण हैं, तो उसकी कितनी भुजाएँ होंगी?
	12
	12
	14
	14
	13
	13
	11
	11

[Click Here to Challenge Question No.: 126](#)

Q.No: 126	If the sum of the interior angles of a regular polygon is equal to the sum of its exterior angles, determine the number of sides in the polygon. यदि किसी सम बहुभुज के आंतरिक कोणों का योग उसके बाह्य कोणों के योग के बराबर है, तो बहुभुज में भुजाओं की संख्या ज्ञात कीजिए।
	5
	5
	6
	6
	4
	4
	3
	3

Not Answered

Q.No: 127	<p>If the sum of the interior angles of a regular polygon is 2520°, determine the number of sides and the total number of diagonals of the polygon.</p> <p>यदि एक नियमित बहुभुज के आंतरिक कोणों का योग 2520° है, तो बहुभुज की भुजाओं की संख्या और विकर्णों की कुल संख्या ज्ञात कीजिए।</p>
	<p>16 sides, 104 diagonals</p> <p>16 भुजाएँ, 104 विकर्ण</p>
	<p>14 sides, 94 diagonals</p> <p>14 भुजाएँ, 94 विकर्ण</p>
	<p>18 sides, 104 diagonals</p> <p>18 भुजाएँ, 104 विकर्ण</p>
	<p>14 sides, 84 diagonals</p> <p>14 भुजाएँ, 84 विकर्ण</p>
Not Answered	

Q.No: 128	<p>A quadrilateral is divided into two triangles by a diagonal of 13 cm. If both triangles have height 12 cm, find total area.</p> <p>एक चतुर्भुज को 13 सेमी विकर्ण द्वारा दो त्रिभुजों में विभाजित किया गया है। यदि दोनों त्रिभुजों की ऊँचाई 12 सेमी है, तो कुल क्षेत्रफल ज्ञात कीजिए।</p>
	<p>156 cm²</p> <p>156 सेमी²</p>
	<p>312 cm²</p> <p>312 सेमी²</p>
	<p>240 cm²</p> <p>240 सेमी²</p>
	<p>280 cm²</p> <p>280 सेमी²</p>
Not Answered	

Q.No: 129	<p>If the square root of a number is 0.25 times the number itself, find the number.</p> <p>यदि किसी संख्या का वर्गमूल स्वयं संख्या का 0.25 गुना है, तो वह संख्या ज्ञात कीजिए।</p>
	<p>4</p> <p>4</p>
	<p>16</p> <p>16</p>
	<p>25</p> <p>25</p>
	<p>36</p> <p>36</p>

Q.No: 130	A rectangular water tank has a length of 5 meters, a width of 3 meters, and a depth of 1.2 meters. What is the total volume of water the tank can hold in liters when completely filled? एक आयताकार पानी की टंकी की लंबाई 5 मीटर, चौड़ाई 3 मीटर और गहराई 1.2 मीटर है। पूरी तरह से भर जाने पर टंकी में पानी की कुल मात्रा (लीटर में) कितनी है?
	1800 liters 1800 लीटर
	18,000 liters 18,000 लीटर
	180 liters 180 लीटर
	18 liters 18 लीटर

[Click Here to Challenge Question No.: 131](#)

Q.No: 131	An iron triangle has a base 12 cm, height 8 cm. If the density is 7.8 g/cm^3 and thickness is 1 cm, find its mass. एक लोहे के त्रिभुज का आधार 12 सेमी और ऊँचाई 8 सेमी है। यदि घनत्व 7.8 ग्राम/सेमी^3 और मोटाई 1 सेमी है, तो इसका द्रव्यमान ज्ञात कीजिए।
	374.4 g 374.4 ग्राम
	748.8 g 748.8 ग्राम
	706.4 g 706.4 ग्राम
	620.6 g 620.6 ग्राम

[Click Here to Challenge Question No.: 132](#)

Q.No: 132	A man spends 30% of his salary on rent, 20% on groceries, and 25% on other expenses. If he saves Rs. 9,000, what is his salary? एक आदमी अपने वेतन का 30% किराये पर, 20% किराने के सामान पर और 25% अन्य खर्चों पर खर्च करता है। अगर वह 9,000 रुपये बचाता है, तो उसका वेतन क्या है?
	Rs. 24,000 24,000 रुपये
	Rs. 27,000 27,000 रुपये
	Rs. 30,000 30,000 रुपये
	Rs. 36,000 36,000 रुपये

[Click Here to Challenge Question No.: 133](#)

Q.No: 133	How many 2 cm radius spheres can be formed by melting and recasting a single 6 cm radius sphere? एक 6 सेंटीमीटर त्रिज्या वाले गोले को पिघलाकर और पुनः ढालकर 2 सेंटीमीटर त्रिज्या वाले कितने गोले बनाए जा सकते हैं?
	27 27

28
28
25
25
36
36

[Click Here to Challenge Question No.: 134](#)

Q.No: 134 What is the area of a trapezium whose parallel sides are 20 cm and 10 cm and height is 8 cm?
एक समलम्ब चतुर्भुज की समान्तर भुजाएँ 20 सेंटीमीटर और 10 सेंटीमीटर हैं तथा ऊँचाई 8 सेंटीमीटर है। इसका क्षेत्रफल कितना होगा?

120 cm²
120 वर्ग सेंटीमीटर
180 cm²
180 वर्ग सेंटीमीटर
200 cm²
200 वर्ग सेंटीमीटर
240 cm²
240 वर्ग सेंटीमीटर

[Click Here to Challenge Question No.: 135](#)

Q.No: 135 Prakash can do a job in 15 days. In how many days can Prakash and Jayesh together complete the job, if Jayesh is twice as fast as Prakash?
प्रकाश एक काम 15 दिनों में कर सकता है। प्रकाश और जयेश मिलकर उस काम को कितने दिनों में पूरा कर सकते हैं, अगर जयेश प्रकाश से दोगुना तेज़ है?

6 days
6 दिन
5 days
5 दिन
10 days
10 दिन
9 days
9 दिन

[Click Here to Challenge Question No.: 136](#)

Q.No: 136 A laptop is listed at Rs. 60,000. If a seller offers a festival discount of 20% followed by a cashback of Rs. 2,000, what is the effective price paid?
एक लैपटॉप की कीमत 60,000 रुपये है। अगर कोई विक्रेता 20% की त्यौहारी छूट के बाद 2,000 रुपये का कैशबैक देता है, तो प्रभावी मूल्य क्या होगा?

Rs. 46,000
46,000 रुपये
Rs. 48,000
48,000 रुपये
Rs. 48,800
48,800 रुपये
Rs. 47,000
47,000 रुपये

[Click Here to Challenge Question No.: 137](#)

Q.No: 137	<p>A retailer marked a jacket 60% above its cost price. During an off-season clearance, he offered a flat discount of Rs. 1800 and still made a profit of 20%. What was the cost price of the jacket?</p> <p>एक खुदरा विक्रेता ने एक जैकेट की कीमत उसके क्रय मूल्य से 60% अधिक अंकित की। ऑफ-सीज़न क्लीयरेंस के दौरान, उसने 1800 रुपये की सीधी छूट दी और फिर भी 20% का लाभ कमाया। जैकेट का क्रय मूल्य क्या था?</p>
	Rs. 3000 3000 रुपये
	Rs. 4000 4000 रुपये
	Rs. 3600 3600 रुपये
	Rs. 4500 4500 रुपये

[Click Here to Challenge Question No.: 138](#)

Q.No: 138	<p>convert $25\pi/4$ radians to degrees.</p> <p>$25\pi/4$ रेडियन को डिग्री में बदलें।</p>
	30° 30°
	1125° 1125°
	130° 130°
	370° 370°

[Click Here to Challenge Question No.: 139](#)

Q.No: 139	<p>If 5π radians = x degrees, find x.</p> <p>अगर 5π रेडियन = x डिग्री, तो x ज्ञात कीजिए।</p>
	9100° 9100°
	100° 100°
	90° 90°
	900° 900°

[Click Here to Challenge Question No.: 140](#)

Q.No: 140	<p>The complement of an angle is 5° less than the angle. Find the angle</p> <p>किसी कोण का पूरक कोण उस कोण से 5° कम है। कोण ज्ञात कीजिए</p>
	47.5°

48°

48°

52°

52°

50°

50°

[Click Here to Challenge Question No.: 141](#)

Q.No: 141 A hollow cylinder has outer radius 7 cm, inner radius 5 cm, and height 10 cm. Find volume of material.
 एक खोखले बेलन की बाहरी त्रिज्या 7 सेमी, आंतरिक त्रिज्या 5 सेमी और ऊँचाई 10 सेमी है। पदार्थ का आयतन ज्ञात कीजिए।

776.81 cm³776.81 cm³753.98 cm³753.98 cm³767.25 cm³767.25 cm³721.11 cm³721.11 cm³[Click Here to Challenge Question No.: 142](#)

Q.No: 142 A right prism is built on a triangular base with side lengths measuring 13 cm, 14 cm, and 15 cm. If the vertical height of the prism is 12 cm, what is the lateral surface area?
 एक समकोण प्रिज्म एक त्रिभुजाकार आधार पर बनाया गया है जिसकी भुजाओं की लंबाई क्रमशः 13 सेमी, 14 सेमी और 15 सेमी है। यदि प्रिज्म की ऊर्ध्वाधर ऊँचाई 12 सेमी है, तो पार्श्व पृष्ठीय क्षेत्रफल क्या है?

504 cm²504 सेमी²5040 cm²5040 सेमी²492 cm²492 सेमी²432 cm²432 सेमी²

Not Answered

[Click Here to Challenge Question No.: 143](#)

Q.No: 143 A rectangular garden measures 50 meters in length and 30 meters in width. If fencing costs ₹200 per meter, what is the total cost to fence the entire perimeter of this garden?
 एक आयताकार बगीचे की लंबाई 50 मीटर और चौड़ाई 30 मीटर है। यदि बाड़ लगाने की लागत ₹200 प्रति मीटर है, तो इस बगीचे की पूरी परिधि पर बाड़ लगाने की कुल लागत कितनी है?

₹10,000

₹10,000

₹32,000

₹32,000

	₹16,000
	₹16,000
	₹18,000
	₹18,000

[Click Here to Challenge Question No.: 144](#)

Q.No: 144	A and B together can do a piece of work in 20 days. A worked for 15 days and left. B finished the remaining work alone in 42 days. In how many days could B finish the whole work alone? A और B मिलकर एक काम 20 दिनों में कर सकते हैं। A ने 15 दिन काम किया और छोड़ दिया। B ने शेष काम अकेले 42 दिनों में पूरा किया। B अकेले पूरा काम कितने दिनों में पूरा कर सकता है?
	80
	80
	90
	90
	108
	108
	99
	99

Not Answered

[Click Here to Challenge Question No.: 145](#)

Q.No: 145	The chords AB and CD of a circle are equidistant from the center of the circle. If the length of the chord AB = 12 cm. What is the length of the chord CD? एक वृत्त की जीवाएँ AB और CD वृत्त के केंद्र से समान दूरी पर हैं। अगर जीवा AB की लंबाई 12 सेमी है, तो जीवा CD की लंबाई क्या है?
	4 cm
	4 सेमी
	6 cm
	6 सेमी
	8 cm
	8 सेमी
	12 cm
	12 सेमी

[Click Here to Challenge Question No.: 146](#)

Q.No: 146	Given that the curved surface area of a hemisphere is 2772 cm^2 , determine the radius of the hemisphere दिया गया है कि एक अर्धगोले का वक्र पृष्ठीय क्षेत्रफल 2772 वर्ग सेंटीमीटर है, अर्धगोले की त्रिज्या ज्ञात कीजिए।
	21 cm
	21 सेंटीमीटर
	31 cm
	31 सेंटीमीटर
	41 cm
	41 सेंटीमीटर
	20 cm
	20 सेंटीमीटर

[Click Here to Challenge Question No.: 147](#)

Q.No: 147	In triangle ABC, if the coordinates of the centroid are (3,4), and two vertices are (1,2) and (5,6), find the third vertex. त्रिभुज ABC में, अगर केन्द्रक के निर्देशांक (3,4) हैं, और दो शीर्ष (1,2) और (5,6) हैं, तो तीसरा शीर्ष ज्ञात कीजिए।
	(3,4)
	(3,4)
	(2,3)
	(2,3)
	(4,5)
	(4,5)
	(3,5)
	(3,5)
Not Answered	

[Click Here to Challenge Question No.: 148](#)

Q.No: 148	A cone is cut parallel to its base such that the upper part is $\frac{1}{3}$ of the original height. Find the ratio of volumes of the smaller cone to the original. एक शंकु को उसके आधार के समांतर इस प्रकार काटा गया है कि उसका ऊपरी भाग मूल ऊँचाई का $\frac{1}{3}$ है। छोटे शंकु के आयतन का मूल शंकु के आयतन से अनुपात ज्ञात कीजिए।
	1:27
	1:27
	1:9
	1:9
	1:8
	1:8
	1:3
	1:3

[Click Here to Challenge Question No.: 149](#)

Q.No: 149	In isosceles triangle ABC, where sides AB and AC are equal, the exterior angle at vertex B measures 130° . What is the measure of angle A? समद्विबाहु त्रिभुज ABC में, जहाँ भुजाएँ AB और AC बराबर हैं, शीर्ष B पर बना बाह्य कोण 130° है। कोण A का माप क्या है?
	50°
	50°
	65°
	65°
	80°
	80°
	130°
	130°

[Click Here to Challenge Question No.: 150](#)

Q.No: 150	In a circle with center O, a chord AB is drawn such that a tangent at A makes an angle of 30° with chord AB. Find $\angle AOB$.
-----------	---

	केंद्र O वाले एक वृत्त में, एक जीवा AB इस प्रकार खींची गई है कि A पर एक स्पर्श रेखा जीवा AB के साथ 30° का कोण बनाती है। https://sscstudy.com/
	60°
	60°
	90°
	90°
	120°
	120°
	30°
	30°
Not Answered	



CANDIDATE RESPONSE SHEET/GRIEVANCE SYSTEM

[View Your Responses](#)[Click Here to View Grievance Questions](#)Admin loggedin.[[Logout](#)]

Roll No.

Exam Level

:

Test Date

: 11 Dec 2025

Test Time and Shift

: 10:00 AM (Shift-1)

Correct Option selected

Wrong Option selected

Correct Option

Not Answered

[Save / Print](#)**Undertaking by the candidate :**

I acknowledge that this saved question paper is for my personal use and self-analysis only. I understand that sharing, distributing, or using it for commercial or any other purposes is strictly prohibited and may lead to legal action as per applicable acts, rules and regulations.

Note:

The candidates may note that in the challenge module the sequence of the questions and the options may be different from how it appeared during the examination. This is because in the challenge module the sequence of the questions as well as the answers will be the same for all the candidates who appeared in a particular shift while during the actual examination these sequences were different for different candidates. However the answer key selected by the candidates during the examination will exactly be reflected in the challenge module.

[Click Here for PART-A](#)[Click Here for PART-B](#)[Click Here for PART-C](#)[Click Here for PART-D](#)**PART-D (English Comprehension)**[Click Here to Challenge Question No.: 151](#)

Q.No: 151 Identify the correct spelling of the misspelled word.

☒ government☐ goverment☐ govornment☐ govenrment[Click Here to Challenge Question No.: 152](#)

Q.No: 152 Identify the correct spelling of the misspelled word.

☒ unforeseen☐ unforesen☐ unphorseen

[Click Here to Challenge Question No.: 153](#)

Q.No: 153 Select the most appropriate option to fill in the blank.
 She didn't want to talk about it, but he kept _____ the topic.

☒ bringing up

☐ backing out

☐ giving away

☐ putting off
[Click Here to Challenge Question No.: 154](#)

Q.No: 154 Choose the correct synonym for the word 'absolve'

☐ Ablute

☐ Abate

☒ Pardon

☐ Give away
[Click Here to Challenge Question No.: 155](#)

Q.No: 155 Select the correct passive form of the given sentence.

You ought to respect elders

☒ Elders ought to be respected by you

☐ Elders should be respected by you

☐ Elders respected by you

☐ Elders ought to be respected by me
[Click Here to Challenge Question No.: 156](#)

Q.No: 156 Select the correct Passive form of the given sentence.
 Will you teach chess to my daughter?

☒ Will my daughter be taught chess?

☐ Could my daughter be taught chess?

☐ Can my daughter be taught chess?

[Click Here to Challenge Question No.: 157](#)

Q.No: 157 Someone who enjoys being around people, sociable and outgoing is called?

☒ Gregarious

☐ Indelible

☐ Famous

☐ Extempore

[Click Here to Challenge Question No.: 158](#)

Q.No: 158 Someone who is unable to read or write is referred to as...

☒ Illiterate

☐ Literate

☐ Literature

☐ Reader

[Click Here to Challenge Question No.: 159](#)

Q.No: 159 Someone whose individual exhibiting excessive self-importance is called.

☒ Narcissist

☐ Egotist

☐ Misnomer

☐ Grunt

[Click Here to Challenge Question No.: 160](#)

Q.No: 160 Choose the word that means the same as "Magnificence".

☒ Grandeur

☐ Destroy

☐ Dismiss

☐ Enormous

[Click Here to Challenge Question No.: 161](#)

Q.No: 161	Choose the word that means the same as "Flattery".	https://sscstudy.com/
<input checked="" type="checkbox"/>	Adulation	
<input type="checkbox"/>	Delegate	
<input type="checkbox"/>	Friendly	
<input type="checkbox"/>	Cruelty	

[Click Here to Challenge Question No.: 162](#)

Q.No: 162	Choose the word that is opposite in meaning to the given word "Denial".	
<input checked="" type="checkbox"/>	Affirmation	
<input type="checkbox"/>	Opposition	
<input type="checkbox"/>	Refusal	
<input type="checkbox"/>	Liberal	

[Click Here to Challenge Question No.: 163](#)

Q.No: 163	Choose the word that is opposite in meaning to the given word "Differ".	
<input checked="" type="checkbox"/>	Conform	
<input type="checkbox"/>	Question	
<input type="checkbox"/>	Reject	
<input type="checkbox"/>	Ignore	

[Click Here to Challenge Question No.: 164](#)

Q.No: 164	Choose the word that is opposite in meaning to the given word "Clear".	
<input checked="" type="checkbox"/>	Obscure	
<input type="checkbox"/>	Open	
<input type="checkbox"/>	Bright	
<input type="checkbox"/>	Frank	

[Click Here to Challenge Question No.: 165](#)

Q.No: 165	Which sentence correctly uses confirm?	
<input checked="" type="checkbox"/>	Please confirm your attendance before Friday.	

	They conform the package before delivery.	https://sscstudy.com/
	He couldn't confirm to the crowd's pressure.	
	She confirmed with the regulations strictly.	

Click Here to Challenge Question No.: 166		
Q.No: 166	What is the meaning of "kind" in: "That was a very kind gesture."	
	Friendly or caring	
	Strong	
	Silent	
	A sort or category	

Click Here to Challenge Question No.: 167		
Q.No: 167	In the following, there are four different words, out of which only one word is correctly spelt. Find the correctly spelt word.	
	Desperation	
	Depresion	
	Jubleation	
	Fascinetion	

Click Here to Challenge Question No.: 168		
Q.No: 168	In the following, there are four different words, out of which only one word is correctly spelt. Find the correctly spelt word.	
	Flimsy	
	Funy	
	Irrational	
	Partisen	

Click Here to Challenge Question No.: 169		
Q.No: 169	Direction: Identify the segment that contains a grammatical error. Entire in my life(A)/one of the best gift (B)/ I have received (C)/ is the car(D).	
	one of the best gift (B)	
	Entire in my life(A)	
	I have received (C)	

is the car(D)

<https://sscstudy.com/>

[Click Here to Challenge Question No.: 170](#)

Q.No: 170 Direction: Identify the segment that contains a grammatical error. Rahul is(A) / taller(B) / than any boy(C)/ in his office(D).

than any boy(C)

in his office(D)

Rahul is(A)

taller(B)

[Click Here to Challenge Question No.: 171](#)

Q.No: 171 Direction: Identify the segment that contains a grammatical error. God did not (A)/create any(B)/ form in life (C)/without a purpose(D).

form in life (C)

without a purpose(D)

God did not (A)

create any(B)

[Click Here to Challenge Question No.: 172](#)

Q.No: 172 Select the most appropriate option to fill in the blanks: My grand father gets vegetables from the ----- , everyday.

market

dairy

daily

diary

[Click Here to Challenge Question No.: 173](#)

Q.No: 173 Select the most appropriate option to fill in the blanks: He went home and excitedly ----- his mother the story.

told

telling

tells

talking

<https://sscstudy.com/>

[Click Here to Challenge Question No.: 174](#)

Q.No: 174	Select the most appropriate option to fill in the blanks: The manager is very pleased with his new assistant, her work is of a high -----.
<input checked="" type="checkbox"/>	standard
<input type="checkbox"/>	degree
<input type="checkbox"/>	capacity
<input type="checkbox"/>	condition

[Click Here to Challenge Question No.: 175](#)

Q.No: 175	Select the most appropriate option to substitute the underlined segment in the given sentence. After a moment's thought, a brilliant idea <u>strike</u> him like lightning.
<input type="checkbox"/>	struck
<input type="checkbox"/>	striking
<input checked="" type="checkbox"/>	strikes
<input type="checkbox"/>	will struck

[Click Here to Challenge Question No.: 176](#)

Q.No: 176	Select the most appropriate option to substitute the underlined segment in the given sentence. My younger brother <u>will teaches</u> english language to the graduate students.
<input type="checkbox"/>	will teach
<input type="checkbox"/>	can teach
<input type="checkbox"/>	could teach
<input checked="" type="checkbox"/>	would have teach

[Click Here to Challenge Question No.: 177](#)

Q.No: 177	<p>Read the passage below and choose the correct word for each blank.</p> <p>A responsible citizen is not defined merely by legal obligations but also by their contribution to the community. Civic sense includes following rules, respecting public spaces, and participating in social causes. When citizens (1)_____ basic responsibilities, society begins to suffer. Littering, ignoring traffic rules, or staying silent in the face of injustice are signs of weak civic values. It is important to understand that progress depends on (2)_____ efforts. Educated individuals must not remain passive observers but take the lead in creating awareness. Acts like voting, volunteering, and speaking against wrongdoing can lead to meaningful change. Social responsibility is not just a duty—it is a (3)_____. When people unite with a shared vision, communities grow stronger. The real strength of democracy lies in an informed and (4)_____ citizenry that upholds justice, equality, and the (5)_____ good.</p> <p>(1)</p>
<input checked="" type="checkbox"/>	abandon

	overlook	https://sscstudy.com/
	demand	
	delay	

[Click Here to Challenge Question No.: 178](#)

Q.No: 178	<p>Read the passage below and choose the correct word for each blank.</p> <p>A responsible citizen is not defined merely by legal obligations but also by their contribution to the community. Civic sense includes following rules, respecting public spaces, and participating in social causes. When citizens (1)_____ basic responsibilities, society begins to suffer. Littering, ignoring traffic rules, or staying silent in the face of injustice are signs of weak civic values. It is important to understand that progress depends on (2)_____ efforts. Educated individuals must not remain passive observers but take the lead in creating awareness. Acts like voting, volunteering, and speaking against wrongdoing can lead to meaningful change. Social responsibility is not just a duty—it is a (3)_____. When people unite with a shared vision, communities grow stronger. The real strength of democracy lies in an informed and (4)_____ citizenry that upholds justice, equality, and the (5)_____ good.</p> <p>(2)</p>
	physical
	solo
	collective
	creative

[Click Here to Challenge Question No.: 179](#)

Q.No: 179	<p>Read the passage below and choose the correct word for each blank.</p> <p>A responsible citizen is not defined merely by legal obligations but also by their contribution to the community. Civic sense includes following rules, respecting public spaces, and participating in social causes. When citizens (1)_____ basic responsibilities, society begins to suffer. Littering, ignoring traffic rules, or staying silent in the face of injustice are signs of weak civic values. It is important to understand that progress depends on (2)_____ efforts. Educated individuals must not remain passive observers but take the lead in creating awareness. Acts like voting, volunteering, and speaking against wrongdoing can lead to meaningful change. Social responsibility is not just a duty—it is a (3)_____. When people unite with a shared vision, communities grow stronger. The real strength of democracy lies in an informed and (4)_____ citizenry that upholds justice, equality, and the (5)_____ good.</p> <p>(3)</p>
	burden
	privilege
	reaction
	complaint

[Click Here to Challenge Question No.: 180](#)

Q.No: 180	<p>Read the passage below and choose the correct word for each blank.</p> <p>A responsible citizen is not defined merely by legal obligations but also by their contribution to the community. Civic sense includes following rules, respecting public spaces, and participating in social causes. When citizens (1)_____ basic responsibilities, society begins to suffer. Littering, ignoring traffic rules, or staying silent in the face of injustice are signs of weak civic values. It is important to understand that progress depends on (2)_____ efforts. Educated individuals must not remain passive observers but take the lead in creating awareness. Acts like voting, volunteering, and speaking against wrongdoing can lead to meaningful change. Social responsibility is not just a duty—it is a (3)_____. When people unite with a shared vision, communities grow stronger. The real strength of democracy lies in an informed and (4)_____ citizenry that upholds justice, equality, and the (5)_____ good.</p> <p>(4)</p>
	passive
	indifferent
	responsible
	careless

[Click Here to Challenge Question No.: 181](#)

Q.No: 181	<p>Read the passage below and choose the correct word for each blank.</p> <p>A responsible citizen is not defined merely by legal obligations but also by their contribution to the community. Civic sense includes following rules, respecting public spaces, and participating in social causes. When citizens (1)_____ basic responsibilities, society begins to suffer. Littering, ignoring traffic rules, or staying silent in the face of injustice are signs of weak civic values. It is important to understand that progress depends on (2)_____ efforts. Educated individuals must not remain passive observers but take the lead in creating awareness. Acts like voting, volunteering, and speaking against wrongdoing can lead to meaningful change. Social responsibility is not just a duty—it is a (3)_____. When people unite with a shared vision, communities grow stronger. The real strength of democracy lies in an informed and (4)_____ citizenry that upholds justice, equality, and the (5)_____ good.</p> <p>(5)</p>
	total
	private
	higher
	common

[Click Here to Challenge Question No.: 182](#)

Q.No: 182	<p>A passage is given with five questions following it. Read the passage carefully and select the best answer to each question out of the given four alternatives.</p> <p>The integration of artificial intelligence (AI) into decision-making systems raises profound ethical dilemmas. Unlike humans, AI lacks consciousness or moral intent, yet it increasingly influences areas such as hiring, law enforcement, and healthcare. When algorithms are trained on biased data, they may perpetuate systemic inequalities under the guise of neutrality. Moreover, responsibility becomes diffuse—if an AI-driven system causes harm, who is accountable: the programmer, the user, or the company? Transparency, often lacking in proprietary models, further complicates public trust. Ethical AI development must therefore go beyond functionality; it requires fairness audits, explainability, and robust oversight mechanisms. Without these, we risk embedding opaque biases into institutions that shape human lives. The dilemma is not merely technical but philosophical—can machines, devoid of values, make morally sound choices, or are we outsourcing ethical responsibility to lines of code?</p> <p>What is the central ethical concern raised in the passage?</p>
	AI's ability to outperform humans
	Lack of data for AI training

AI replacing engineers in key jobs

[Click Here to Challenge Question No.: 183](#)

Q.No: 183	<p>A passage is given with five questions following it. Read the passage carefully and select the best answer to each question out of the given four alternatives.</p> <p>The integration of artificial intelligence (AI) into decision-making systems raises profound ethical dilemmas. Unlike humans, AI lacks consciousness or moral intent, yet it increasingly influences areas such as hiring, law enforcement, and healthcare. When algorithms are trained on biased data, they may perpetuate systemic inequalities under the guise of neutrality. Moreover, responsibility becomes diffuse—if an AI-driven system causes harm, who is accountable: the programmer, the user, or the company? Transparency, often lacking in proprietary models, further complicates public trust. Ethical AI development must therefore go beyond functionality; it requires fairness audits, explainability, and robust oversight mechanisms. Without these, we risk embedding opaque biases into institutions that shape human lives. The dilemma is not merely technical but philosophical—can machines, devoid of values, make morally sound choices, or are we outsourcing ethical responsibility to lines of code?</p> <p>What does the author imply by describing AI's neutrality as a guise?</p>
	AI systems are incapable of calculations
	The neutrality is often an illusion due to biased training data
	AI always requires human intervention
	AI refuses to learn from its environment

[Click Here to Challenge Question No.: 184](#)

Q.No: 184	<p>A passage is given with five questions following it. Read the passage carefully and select the best answer to each question out of the given four alternatives.</p> <p>The integration of artificial intelligence (AI) into decision-making systems raises profound ethical dilemmas. Unlike humans, AI lacks consciousness or moral intent, yet it increasingly influences areas such as hiring, law enforcement, and healthcare. When algorithms are trained on biased data, they may perpetuate systemic inequalities under the guise of neutrality. Moreover, responsibility becomes diffuse—if an AI-driven system causes harm, who is accountable: the programmer, the user, or the company? Transparency, often lacking in proprietary models, further complicates public trust. Ethical AI development must therefore go beyond functionality; it requires fairness audits, explainability, and robust oversight mechanisms. Without these, we risk embedding opaque biases into institutions that shape human lives. The dilemma is not merely technical but philosophical—can machines, devoid of values, make morally sound choices, or are we outsourcing ethical responsibility to lines of code?</p> <p>Why is accountability in AI decision-making described as "diffuse"?</p>
	Because outcomes are always beneficial
	Because many parties may share responsibility
	Because AI systems self-regulate completely
	Because data is usually open-source

[Click Here to Challenge Question No.: 185](#)

Q.No: 185	<p>A passage is given with five questions following it. Read the passage carefully and select the best answer to each question out of the given four alternatives.</p> <p>The integration of artificial intelligence (AI) into decision-making systems raises profound ethical dilemmas. Unlike humans, AI lacks consciousness or moral intent, yet it increasingly influences areas such as hiring, law enforcement, and healthcare. When algorithms are trained on biased data, they may perpetuate systemic inequalities under the guise of neutrality. Moreover, responsibility becomes diffuse—if an AI-driven system causes harm, who is accountable: the programmer, the user, or the company? Transparency, often lacking in proprietary models, further complicates public trust. Ethical AI development must therefore go beyond functionality; it requires fairness audits, explainability, and robust oversight mechanisms. Without these, we risk embedding opaque biases into institutions that shape human lives. The dilemma is not merely technical but philosophical—can machines, devoid of values, make morally sound choices, or are we outsourcing ethical responsibility to lines of code?</p> <p>What does the author suggest is required for ethical AI development?</p>
	Global deployment and faster algorithms
	Political lobbying and marketing strategies
	Technical precision and corporate growth
	Fairness checks, transparency, and oversight

[Click Here to Challenge Question No.: 186](#)

Q.No: 186	<p>A passage is given with five questions following it. Read the passage carefully and select the best answer to each question out of the given four alternatives.</p> <p>The integration of artificial intelligence (AI) into decision-making systems raises profound ethical dilemmas. Unlike humans, AI lacks consciousness or moral intent, yet it increasingly influences areas such as hiring, law enforcement, and healthcare. When algorithms are trained on biased data, they may perpetuate systemic inequalities under the guise of neutrality. Moreover, responsibility becomes diffuse—if an AI-driven system causes harm, who is accountable: the programmer, the user, or the company? Transparency, often lacking in proprietary models, further complicates public trust. Ethical AI development must therefore go beyond functionality; it requires fairness audits, explainability, and robust oversight mechanisms. Without these, we risk embedding opaque biases into institutions that shape human lives. The dilemma is not merely technical but philosophical—can machines, devoid of values, make morally sound choices, or are we outsourcing ethical responsibility to lines of code?</p> <p>Which of the following best captures the tone of the passage?</p>
	Alarmist and reactionary
	Reflective and cautionary
	Optimistic and promotional
	Satirical and dismissive

[Click Here to Challenge Question No.: 187](#)

Q.No: 187	<p>Choose the correct direct sentence of the following sentence. They said that they had completed the project.</p>
	They said, "We completed the project."
	They said, "We have completed the project."
	They said, "We had completed the project."
	They said, "They completed the project."

[Click Here to Challenge Question No.: 188](#)

Q.No: 188	Choose the correct Active Voice form of the given sentence: The keys are kept on the table by Rohan.
<input type="radio"/>	Rohan keeps the keys on the table.
<input type="radio"/>	Rohan kept the keys on the table.
<input type="radio"/>	The keys keep Rohan on the table.
<input type="radio"/>	Rohan is keeping the keys on the table.

[Click Here to Challenge Question No.: 189](#)

Q.No: 189	Choose the correct Active Voice form of the given sentence: The furniture is being shifted by workers to the other block.
<input type="radio"/>	Workers are shifting the furniture to the other block.
<input type="radio"/>	The furniture shifts the workers to the other block.
<input type="radio"/>	Workers were shifting the furniture to the other block.
<input type="radio"/>	Workers have shifted the furniture to the other block.

[Click Here to Challenge Question No.: 190](#)

Q.No: 190	Choose the correct direct sentence of the following sentence. He said that they had not been given any clear instructions.
<input type="radio"/>	He said, "They are not given any clear instructions."
<input type="radio"/>	He said, "They were not given any clear instructions."
<input type="radio"/>	He said, "They had not been given any clear instructions."
<input type="radio"/>	He said, "They haven't been given any clear instructions."

[Click Here to Challenge Question No.: 191](#)

Q.No: 191	Choose the correct option to rearrange the following sentences to form a coherent paragraph: A. Thunder cracked and lightning lit the sky. B. The child hid under the blanket. C. Rain lashed against the windows. D. A soft lullaby calmed her to sleep.
<input type="radio"/>	A C B D
<input type="radio"/>	B A C D
<input type="radio"/>	A B C D

[Click Here to Challenge Question No.: 192](#)

- Q.No: 192 Choose the correct option to rearrange the following sentences:
- A. Hunger drove him into the abandoned house.
 - B. Inside, shadows danced with the flickering candlelight.
 - C. Every creak under his foot sounded amplified.
 - D. But hunger muffled fear for the night.

A B C D

B A C D

A C B D

A D B C

[Click Here to Challenge Question No.: 193](#)

- Q.No: 193 Choose the correct option to rearrange the following sentences:
- A. The rules were clear, but the loopholes clearer.
 - B. Compliance meant obedience; strategy meant survival.
 - C. He chose the latter without regret.
 - D. And the system applauded him for it.

A B C D

B C A D

A C B D

D A B C

[Click Here to Challenge Question No.: 194](#)

- Q.No: 194 Choose the correct meaning of the idiom 'jump the gun' in the sentence:
You shouldn't jump the gun before getting confirmation.

Act too soon

Run faster

Ask a question

Fire a shot

[Click Here to Challenge Question No.: 195](#)

- Q.No: 195 Choose the meaning of the idiom 'hit the books' in the sentence:
I have exams tomorrow, so I need to hit the books.

Go to the library

Start studying seriously

<https://sscstudy.com/>

Buy new books

Tear the books

[Click Here to Challenge Question No.: 196](#)

Q.No: 196 Select the most appropriate meaning of the underlined idiom in the following sentence.
If you want to participate in the Olympics, you need to hit the ground running.

Started working energetically

Took a break

Made a mistake

Fell down

[Click Here to Challenge Question No.: 197](#)

Q.No: 197 Choose the correct meaning of the idiom 'hit below the belt' in the sentence:
That comment about his family was hitting below the belt.

A clever move

A fair insult

An unfair or unethical remark

A surprising compliment

[Click Here to Challenge Question No.: 198](#)

Q.No: 198 Choose the correct indirect speech of the sentence:
He said, "Whoever did this must be held accountable."

He said that whoever did it must be held to account.

He said that the one who did this must be accounted.

He said that whoever had done that must be held accountable.

He said that whoever did this must have held accountable.

[Click Here to Challenge Question No.: 199](#)

Q.No: 199 Choose the correct indirect speech of the sentence:
The man said, "Do you not realize how serious this is?"

The man asked if I did not realize how serious this was.

The man asked me did I not realize how serious it was.

<https://sscstudy.com/>

	The man told I don't realize how serious this is.	https://sscstudy.com/
	The man asked whether I did realize how serious this is.	

Click Here to Challenge Question No.: 200		
Q.No: 200	Choose the most suitable option to replace the underlined part of the sentence: The scientist explained the phenomenon <i>in layman's language</i> .	
	in the language of layman	
	using ordinary terms	
	in layman's terms	
	to ordinary people	