



## CANDIDATE RESPONSE SHEET/GRIEVANCE SYSTEM

[View Your Responses](#)[Click Here to View Grievance Questions](#)Admin logged in. [ [Logout](#) ]

Roll No.

Exam Level

: 

Test Date

: 12 Dec 2025

Test Time and Shift

: 10:00 AM (Shift-1)

Centre Name

Correct Option selected

Wrong Option selected

Correct Option

Not Answered

[Save / Print](#)[Click Here for PART-A](#)[Click Here for PART-B](#)[Click Here for PART-C](#)[Click Here for PART-D](#)

## PART-A (General Intelligence and Reasoning)

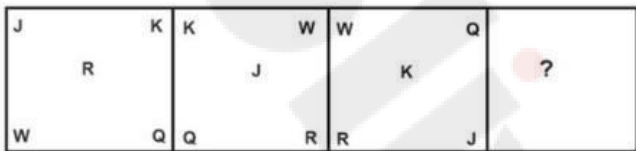
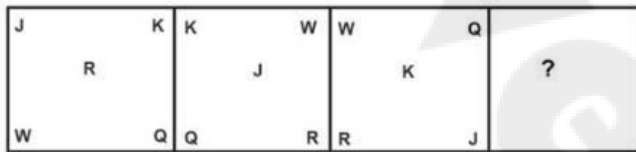
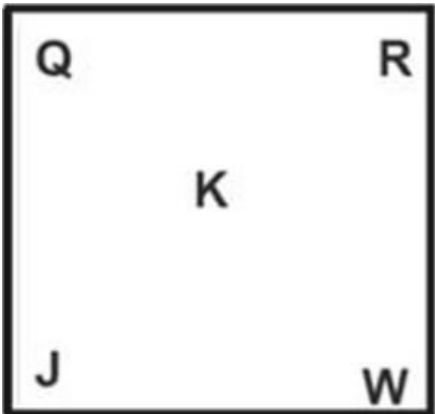
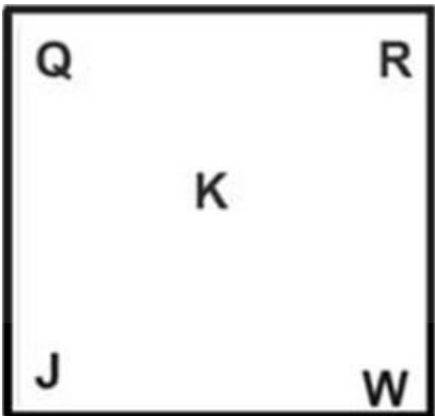
[Click Here to Challenge Question No.: 1](#)

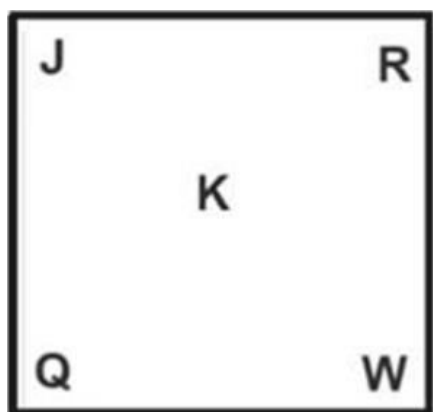
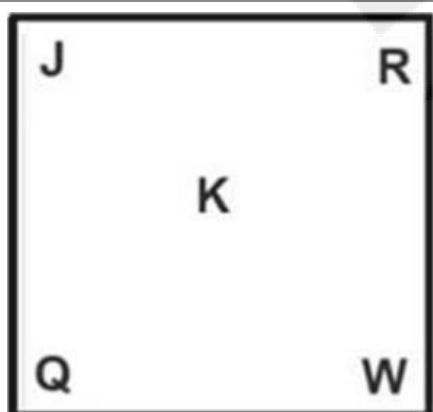
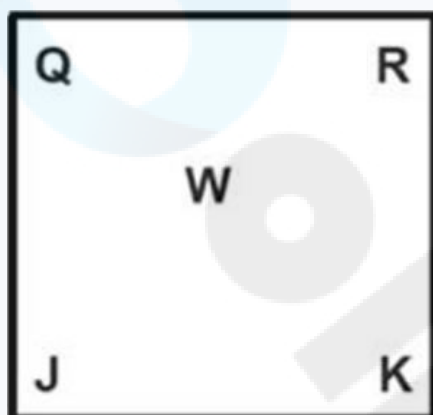
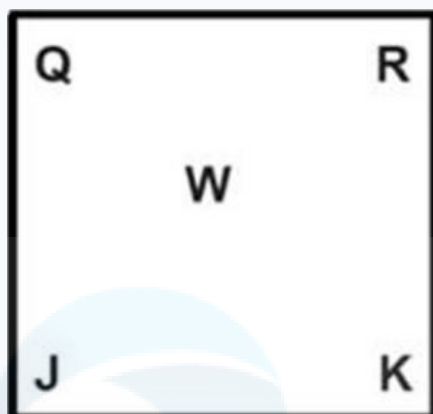
Q.No: 1	Choose the address that is the same as the one given below. Sample Address:Room No. 5, Block-B,Hostel 1, IIT Kanpur,Uttar Pradesh - 208016 वह पता चुनें जो नीचे दिए गए पते के समान हो। Sample Address:Room No. 5, Block-B,Hostel 1, IIT Kanpur,Uttar Pradesh - 208016
	Room No. 5, Block B, Hostel 1, IIT Kanpur, Uttar Pradesh - 208016 Room No. 5, Block B, Hostel 1, IIT Kanpur, Uttar Pradesh - 208016
	Room No. 5, Block-B, Hostel 1, IIT Kanpur, Uttar Pradesh - 208016 Room No. 5, Block-B, Hostel 1, IIT Kanpur, Uttar Pradesh - 208016
	Room No. 5, Block-B, Hostel I, IIT Kanpur, Uttar Pradesh - 208016 Room No. 5, Block-B, Hostel I, IIT Kanpur, Uttar Pradesh - 208016
	Room No. 6, Block-B, Hostel 1, IIT Kanpur, Uttar Pradesh - 208016 Room No. 6, Block-B, Hostel 1, IIT Kanpur, Uttar Pradesh - 208016

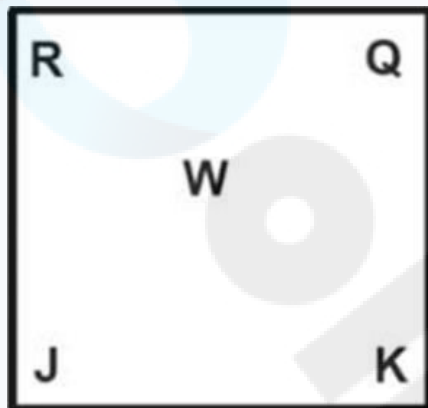
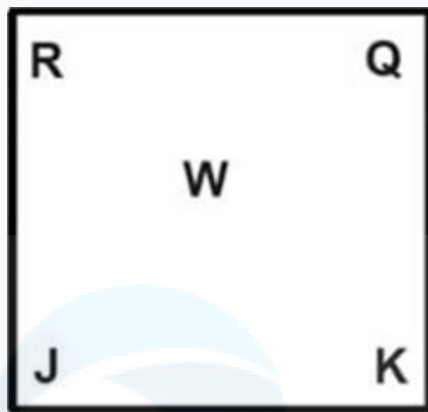
[Click Here to Challenge Question No.: 2](#)

Q.No: 2	What should come in place of the question mark '?' in the following number series? 12, 6, 9, 22.5, ? निम्नलिखित संख्या श्रृंखला में प्रश्न चिन्ह '?' के स्थान पर क्या आएगा? 12, 6, 9, 22.5, ?	<a href="https://sscstudy.com/">https://sscstudy.com/</a>
	79.75 79.75	
	77.75 77.75	
	78.75 78.75	
	76.75 76.75	

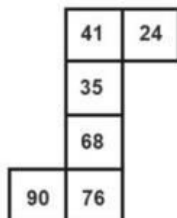
[Click Here to Challenge Question No.: 3](#)

Q.No: 3	In the following question, select the figure that can be placed at the sign of the question mark (?) from among the given alternatives.  निम्नलिखित प्रश्न में, दिए गए विकल्पों में से वह आकृति चुनिए जिसे प्रश्न चिन्ह (?) के स्थान पर रखा जा सकता है। 	
		
		

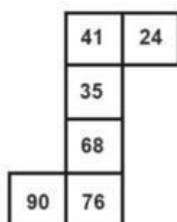



[Click Here to Challenge Question No.: 4](#)

Q.No: 4 A cube is formed by folding the given sheet. What would be the number on the opposite side of number '76'?



दी गई शीट को मोड़कर एक घन बनाया गया है। संख्या '76' के विपरीत पक्ष पर कौन सी संख्या होगी?



41

41

35

35

24

24

90

90

[Click Here to Challenge Question No.: 5](#)

Q.No: 5	Which of the following does not belong to the group? निम्नलिखित में से कौन समूह से संबंधित नहीं है?	<a href="https://sscstudy.com/">https://sscstudy.com/</a>
	Apple सेब	
	Rose गुलाब	
	Mango आम	
	Banana केला	

[Click Here to Challenge Question No.: 6](#)

Q.No: 6	A and B can do a job in 6 days. A alone can do it in 10 days. In how many days can B do it alone? A और B एक काम को 6 दिनों में कर सकते हैं। A अकेले इसे 10 दिनों में कर सकता है। B अकेले इसे कितने दिनों में कर सकता है?
	8 8
	20 20
	12 12
	15 15

[Click Here to Challenge Question No.: 7](#)

Q.No: 7	Read the following statement carefully and identify the action that follows.  Statement: A new strain of virus is spreading rapidly. Course of Action: 1. Lockdown must be imposed. 2. Mask-wearing and sanitizing must be reinforced.  निम्नलिखित कथन को ध्यानपूर्वक पढ़ें और उसके बाद की कार्यवाई की पहचान करें।  कथन: वायरस का एक नया प्रकार तेज़ी से फैल रहा है। कार्यवाई: 1. लॉकडाउन लागू किया जाना चाहिए। 2. मास्क पहनना और सैनिटाइज़ करना अनिवार्य किया जाना चाहिए।
	Only 1 केवल 1
	Only 2 केवल 2
	Both follow दोनों अनुसरण करते हैं
	Neither follows कोई भी अनुसरण नहीं करता है

[Click Here to Challenge Question No.: 8](#)

Q.No: 8	<p>Read the following statement carefully and identify the conclusion that follows.</p> <p>Statement: "Some responsible people make wrong decisions"</p> <p>Conclusion I: Only irresponsible people make wrong decisions.</p> <p>Conclusion II: Responsibility doesn't guarantee perfect decision-making.</p> <p>निम्नलिखित कथन को ध्यान से पढ़ें और निष्कर्ष निकालें।</p> <p>कथन: "कुछ जिम्मेदार लोग गलत निर्णय लेते हैं"</p> <p>निष्कर्ष I: केवल गैर-जिम्मेदार लोग ही गलत निर्णय लेते हैं।</p> <p>निष्कर्ष II: जिम्मेदारी सही निर्णय लेने की गारंटी नहीं देती है।</p>
	<p>Only I</p> <p>केवल I</p>
	<p>Only II</p> <p>केवल II</p>
	<p>Both follow</p> <p>दोनों अनुसरण करते हैं</p>
	<p>Neither follows</p> <p>कोई भी अनुसरण नहीं करता है</p>

[Click Here to Challenge Question No.: 9](#)

Q.No: 9	<p>Complete the series.</p> <p>13, 18, 23, __, 33</p> <p>निम्नलिखित श्रृंखला को पूरा करें।</p> <p>13, 18, 23, __, 33</p>
	<p>27</p> <p>27</p>
	<p>30</p> <p>30</p>
	<p>29</p> <p>29</p>
	<p>28</p> <p>28</p>

[Click Here to Challenge Question No.: 10](#)

Q.No: 10	<p>If 'ECONOMIC' is written as '#\$%#@%β&amp;\$' and 'CAREER' is written as '\$≤¥##¥', then 'CINEMA' will be written as?</p> <p>अगर 'ECONOMIC' को '#\$%#@%β&amp;\$' लिखा जाता है और 'CAREER' को '\$≤¥##¥' लिखा जाता है, तो 'CINEMA' को किस प्रकार लिखा जाएगा?</p>
	<p>&amp;\$%#β≤</p> <p>&amp;\$%#β≤</p>
	<p>#&amp;@β≤\$</p> <p>#&amp;@β≤\$</p>
	<p>\$β%μ&amp;@</p> <p>\$β%μ&amp;@</p>
	<p>\$&amp;@#β≤</p> <p>\$&amp;@#β≤</p>

[Click Here to Challenge Question No.: 11](#)

Q.No: 11 If **LOTUS** is coded as **SUTOL**, what is the code for **TULIP**?  
अगर LOTUS को SUTOL लिखा जाता है, तो TULIP का कोड क्या होगा?

PILUT  
PILUT

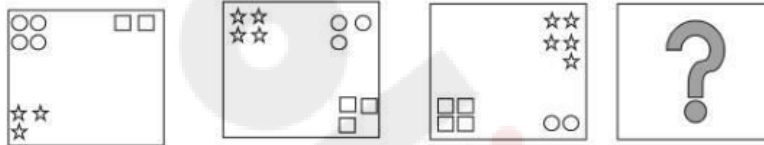
PULIT  
PULIT

PILTU  
PILTU

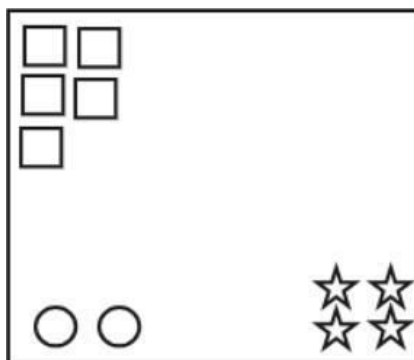
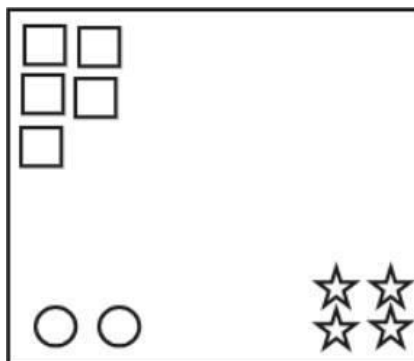
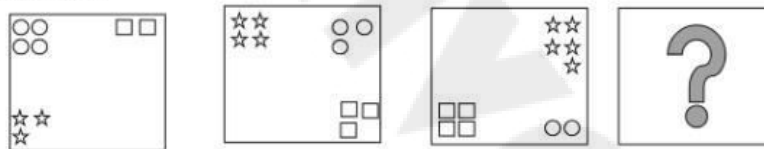
PILTI  
PILTI

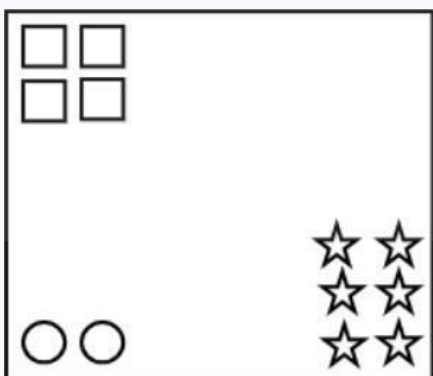
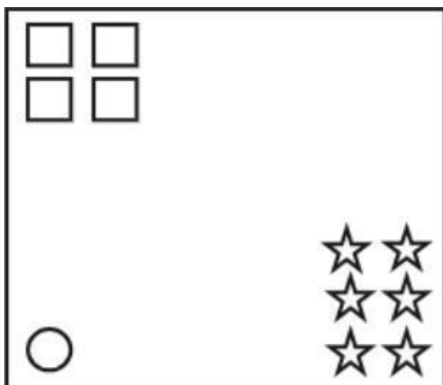
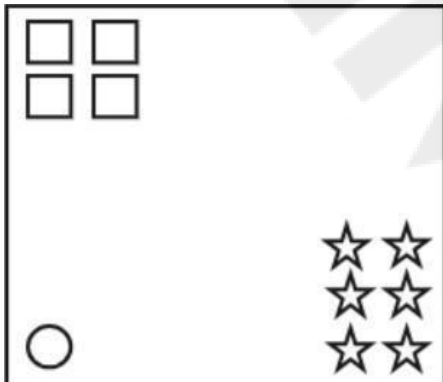
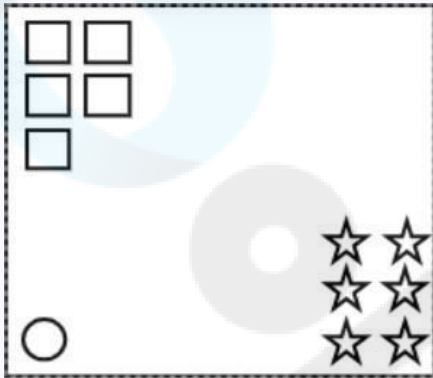
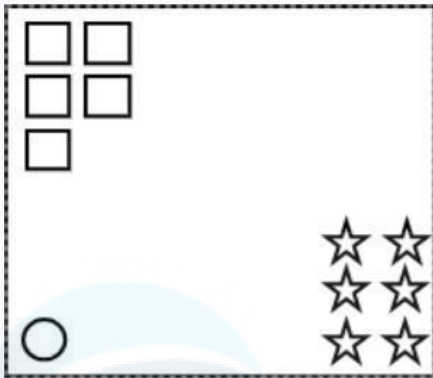
[Click Here to Challenge Question No.: 12](#)

Q.No: 12 Find the one which completes the series:  
Question figure:

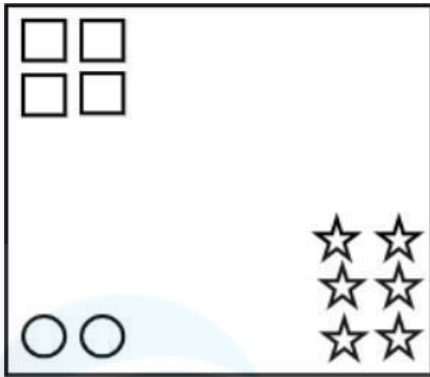


वह आकृति ज्ञात कीजिए जो श्रृंखला को पूरा करती है:  
प्रश्न आकृति:








[Click Here to Challenge Question No.: 13](#)

Q.No: 13 Figure 1 and 2 are related with each other in some particular way. Find the relationship and establish the same relationship between 3 and 4 from the given four alternatives.

Figure 1:

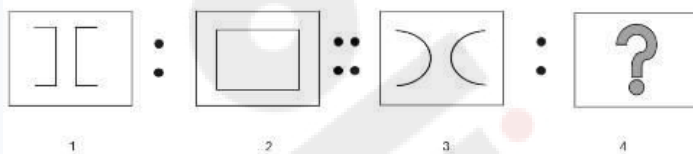
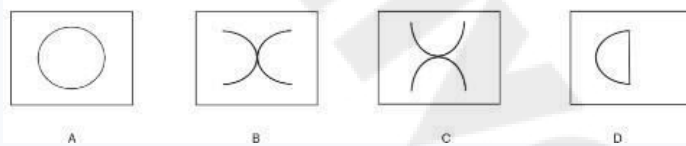
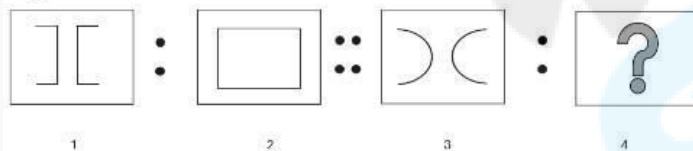


Figure 2:

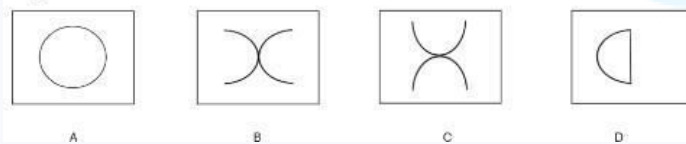


आकृति 1 और 2 किसी विशेष तरीके से एक-दूसरे से संबंधित हैं। दिए गए चार विकल्पों में से 3 और 4 के बीच संबंध ज्ञात कीजिए और समान संबंध स्थापित कीजिए।

आकृति 1:



आकृति 2:



A

A

B

B

C

C

D

D

[Click Here to Challenge Question No.: 14](#)

Q.No: 14	<p><b>Instruction:</b> Choose the inference that are clearly supported by the statement.</p> <p><b>Statement:</b> All successful candidates for the astronaut training program possess a doctoral degree in a STEM field, and a perfect physical fitness record is also required.</p> <p><b>Inferences:</b></p> <p>Inference I: A candidate with a doctoral degree in a STEM field who also has a perfect physical fitness record will be selected for the astronaut training program.</p> <p>Inference II: Achieving a perfect physical fitness record is not sufficient on its own for selection into the astronaut training program.</p> <p><b>निर्देश:</b> उस निष्कर्ष का चयन कीजिए जो कथन द्वारा स्पष्ट रूप से समर्थित हो।</p> <p><b>कथन:</b> अंतरिक्ष यात्री प्रशिक्षण कार्यक्रम के लिए सभी सफल उम्मीदवारों के पास STEM क्षेत्र में डॉक्टरेट की डिग्री होती है, और एक उत्तम शारीरिक फिटनेस रिकॉर्ड भी आवश्यक है।</p> <p><b>निष्कर्ष:</b></p> <p>निष्कर्ष I: STEM क्षेत्र में डॉक्टरेट की डिग्री प्राप्त उम्मीदवार, जिसका शारीरिक फिटनेस रिकॉर्ड भी उत्तम हो, को अंतरिक्ष यात्री प्रशिक्षण कार्यक्रम के लिए चुना जाएगा।</p> <p>निष्कर्ष II: अंतरिक्ष यात्री प्रशिक्षण कार्यक्रम में चयन के लिए केवल उत्तम शारीरिक फिटनेस रिकॉर्ड प्राप्त करना ही पर्याप्त नहीं है।</p>
	<p>Only Inference I follows</p> <p>केवल अनुमान I अनुसरण करता है</p>
	<p>Only Inference II follows</p> <p>केवल अनुमान II अनुसरण करता है</p>
	<p>Both Inferences I and II follow</p> <p>दोनों निष्कर्ष I और II अनुसरण करते हैं</p>
	<p>Neither Inference I nor II follows</p> <p>न तो अनुमान I और न ही II अनुसरण करता है</p>

[Click Here to Challenge Question No.: 15](#)

Q.No: 15	<p>In a group of students, 12 play Football, 8 play Hockey, and 5 play both. How many play only Football?</p> <p>छात्रों के एक समूह में, 12 फुटबॉल खेलते हैं, 8 हॉकी खेलते हैं, और 5 दोनों खेलते हैं। कितने छात्र केवल फुटबॉल खेलते हैं?</p>
	7
	7
	5
	5
	6
	6
	8
	8


[Click Here to Challenge Question No.: 16](#)

Q.No: 16	<p>Which of the following best represents the relationship among Doctors, Males, and Surgeons?</p> <p>निम्नलिखित में से कौन सा कथन डॉक्टरों, पुरुषों और सर्जनों के बीच के संबंध को सबसे अच्छे ढंग से दर्शाता है?</p>
	<p>All Surgeons are Doctors and some Doctors are Males</p> <p>सभी सर्जन डॉक्टर हैं और कुछ डॉक्टर पुरुष हैं</p>
	<p>All Surgeons are Males and some Males are Doctors</p> <p>सभी सर्जन पुरुष हैं और कुछ पुरुष डॉक्टर हैं</p>
	<p>All Surgeons are Doctors and all Doctors are Males</p> <p>सभी सर्जन डॉक्टर हैं और सभी डॉक्टर पुरुष हैं</p>
	<p>All Surgeons are Doctors; some Doctors are Males, and some Surgeons are Males</p> <p>सभी सर्जन डॉक्टर हैं; कुछ डॉक्टर पुरुष हैं, और कुछ सर्जन पुरुष हैं</p>

Q.No: 17	In a group of 15 people, each person shakes hands with every other person exactly once. How many handshakes take place? 15 लोगों के एक समूह में, प्रत्येक व्यक्ति दूसरे व्यक्ति से ठीक एक बार हाथ मिलाता है। कुल कितनी बार हाथ मिलाया जाता है?
	120
	120
	105
	105
	110
	110
	90
	90

Q.No: 18	3,9,27,81, _____. What number should come next? 3,9,27,81, ____। अगली संख्या कौन सी आनी चाहिए?
	240
	240
	242
	242
	243
	243
	241
	241

Q.No: 19	A subordinate confides about unethical activity in your department. What must you do? आपके विभाग में एक अधीनस्थ ने अनैतिक गतिविधि के बारे में बताया है। आपको क्या करना चाहिए?
	Ignore the confession स्वीकारोक्ति को अनदेखा करें
	Investigate and report to the higher authority जांच करें और उच्च प्राधिकारी को रिपोर्ट करें
	Keep it secret इसे गुप्त रखें
	Confront the accused directly अभियुक्त का सीधे सामना करें

Q.No: 20	Identify the image that does NOT belong to the group. 
----------	--

उस आकृति का चयन कीजिए, जो समूह से संबंधित नहीं है।

<https://sscstudy.com/>



A

A

B

B

C

C

D

D

[Click Here to Challenge Question No.: 21](#)

Q.No: 21

Select the option exactly similar to: 45 East 75th St, Unit 3B, New York, NY 10021-3401

बिल्कुल वैसा ही ऑप्शन चुनें: 45 East 75th St, Unit 3B, New York, NY 10021-3401

45 E 75th St, Unit 3B, New York, NY 10021-3401

45 E 75th St, Unit 3B, New York, NY 10021-3401

5 East 75th St, Unit 3B, New York, NY 10021-3401

5 East 75th St, Unit 3B, New York, NY 10021-3401

45 East 75th Street, Unit 3B, New York, NY 10021-3401

45 East 75th Street, Unit 3B, New York, NY 10021-3401

45 East 75th St, Unit 3B, New York, NY 10021-3401

45 East 75th St, Unit 3B, New York, NY 10021-3401

[Click Here to Challenge Question No.: 22](#)

Q.No: 22

Choose the correct alternative from the given ones that will complete the series:

4, 1, 16, 4, 36, 9, ?, 16

दिए गए विकल्पों में से वह सही विकल्प चुनें जो सीरीज़ को पूरा करेगा:

4, 1, 16, 4, 36, 9, ?, 16

64

64

<https://sscstudy.com/>

49

49

81

81

100

100

[Click Here to Challenge Question No.: 23](#)

Q.No: 23

Find the odd word:

विषम शब्द खोजें:

Train

Train

Bus

Bus

Car

Car

Bicycle

Bicycle

[Click Here to Challenge Question No.: 24](#)

Q.No: 24

In the given roll numbers, the first four digits represent the center code assigned to the examination center. Identify the roll number that does not belong to the Center Code 6119:

दिए गए रोल नंबर में, पहले चार अंक परीक्षा केंद्र को दिए गए सेंटर कोड को दिखाते हैं। उस रोल नंबर को पहचानें जो सेंटर कोड 6119 से संबंधित नहीं है:

611905531

611905531

611990001

611990001

619100000

619100000

611933445

611933445

[Click Here to Challenge Question No.: 25](#)

Q.No: 25

A roll number uses a variable structure based on the **Region Code** (first three digits):

**Rule A:** If the Region Code starts with '5' (e.g., 5XX), the Center Code is 5 digits long, immediately followed by a 2-digit Year Code.

**Rule B:** If the Region Code starts with '8' (e.g., 8XX), the Center Code is 4 digits long, immediately followed by a 3-digit Batch Code.

For the roll number 592123456723, what are the digits of the Center Code?

एक रोल नंबर, **रीजन कोड** (पहले तीन डिजिट) के आधार पर एक अलग-अलग स्ट्रक्चर का इस्तेमाल करता है:

**नियम A:** अगर रीजन कोड '5' से शुरू होता है (जैसे, 5XX), तो सेंटर कोड 5 डिजिट का होता है, जिसके ठीक बाद 2-डिजिट का ईयर कोड आता है।

**नियम B:** अगर रीजन कोड '8' से शुरू होता है (जैसे, 8XX), तो सेंटर कोड 4 डिजिट का होता है, जिसके ठीक बाद 3-डिजिट का बैच कोड आता है।

रोल नंबर 592123456723 के लिए, सेंटर कोड के डिजिट क्या हैं?

592

592

12345

12345

6723

6723

1234567

1234567

[Click Here to Challenge Question No.: 26](#)

Q.No: 26

If 'DOG' is coded as 'E2F', how is 'RUN' coded?

यदि 'DOG' को 'E2F' के रूप में कोडित किया गया है, तो 'RUN' को कैसे कोडित किया जाएगा?

	S2M
	S2M
	S1M
	S1M
	S2O
	S2O
	S1O
	S1O

[Click Here to Challenge Question No.: 27](#)

Q.No: 27	<p>Which of the following option supports, "The reasoning in the argument is flawed primarily because it."</p> <p><b>Argument:</b> "Every time our local soccer team wins a game, the stock market shows a slight increase the following day. Therefore, supporting our team is beneficial for the national economy."</p> <p>इनमें से कौन सा ऑप्शन इस बात को सपोर्ट करता है, "इस तर्क में मुख्य रूप से इसलिए गलती है क्योंकि यह।"</p> <p><b>तर्क:</b> "हर बार जब हमारी लोकल सॉकर टीम कोई गेम जीतती है, तो अगले दिन स्टॉक मार्केट में थोड़ी बढ़त होती है। इसलिए, हमारी टीम को सपोर्ट करना देश की इकॉनमी के लिए फायदेमंद है।"</p>
	<p>Fails to consider the effect of global financial news on the stock market.</p> <p>स्टॉक मार्केट पर ग्लोबल फाइनेंशियल न्यूज़ के असर पर विचार करने में नाकाम रहा।</p>
	<p>Draws a causal conclusion based only on correlation between two unrelated events.</p> <p>सिर्फ़ दो अलग-अलग घटनाओं के बीच कोरिलेशन के आधार पर एक कॉज़ल नतीजा निकालना।</p>
	<p>Does not define "slight increase" clearly enough to be meaningful.</p> <p>"थोड़ी सी बढ़ोतरी" को साफ़ तौर पर इतना मतलब वाला नहीं बताया गया है।</p>
	<p>Confuses the national economy with the local economy.</p> <p>नेशनल इकॉनमी को लोकल इकॉनमी के साथ कन्फ्यूज़ करता है।</p>

[Click Here to Challenge Question No.: 28](#)

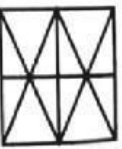
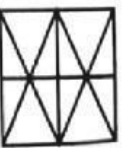



Q.No: 28	<p>Read the statement carefully. Identify the option that the statement depends upon for its conclusion to be valid. Select the option that best expresses this underlying assumption.</p> <p><b>Statement:</b> A new smartphone app designed to manage personal finances will be successful because it provides users with personalized budget recommendations.</p> <p>स्टेटमेंट को ध्यान से पढ़ें। उस ऑप्शन को पहचानें जिस पर स्टेटमेंट का नतीजा सही होने के लिए निर्भर करता है। वह ऑप्शन चुनें जो इस अंदरूनी सोच को सबसे अच्छे से बताता है।</p> <p>स्टेटमेंट: पर्सनल फाइनेंस को मैनेज करने के लिए डिज़ाइन किया गया एक नया स्मार्टफोन ऐप सफल होगा क्योंकि यह यूज़र्स को पर्सनलाइज़्ड बजट सुझाव देता है।</p>
	<p>Users are currently spending too much money on unnecessary purchases.</p> <p>यूज़र्स आजकल गैर-ज़रूरी खरीदारी पर बहुत ज़्यादा पैसा खर्च कर रहे हैं।</p>
	<p>Other existing financial apps do not offer any personalized budget recommendations.</p> <p>दूसरे मौजूदा फाइनेंशियल ऐप्स कोई पर्सनलाइज़्ड बजट सुझाव नहीं देते हैं।</p>
	<p>Users will be willing to follow the budget recommendations provided by the app.</p> <p>यूज़र्स ऐप से मिले बजट रिकमेंडेशन को मानने को तैयार होंगे।</p>
	<p>The app can securely store the financial data of a very large user base.</p> <p>यह ऐप बहुत बड़े यूज़र बेस का फाइनेंशियल डेटा सुरक्षित रूप से स्टोर कर सकता है।</p>

[Click Here to Challenge Question No.: 29](#)

Q.No: 29	<p>The following question figure is embedded in one of the answer choices. Select the answer that contains the question figure.</p> <p>Question figure:</p> <div data-bbox="231 1400 402 1583" data-label="Image"> </div> <p>नीचे दिया गया सवाल का चित्र जवाब के ऑप्शन में से एक में है। वह जवाब चुनें जिसमें सवाल का चित्र हो।</p> <p>सवाल का चित्र:</p> <div data-bbox="231 1740 402 1924" data-label="Image"> </div>
----------	---





[Click Here to Challenge Question No.: 30](#)

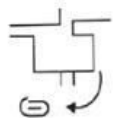
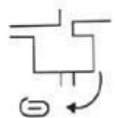
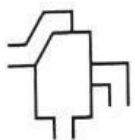
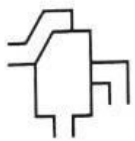

Q.No: 30

<https://sscstudy.com/>


The following question figure is embedded in one of the answer choices. Select the answer that contains the question figure.  
Question figure:



नीचे दिया गया सवाल का चित्र जवाब के ऑप्शन में से एक में है। वह जवाब चुनें जिसमें सवाल का चित्र हो।  
सवाल का चित्र:



<https://sscstudy.com/>


[Click Here to Challenge Question No.: 31](#)

Q.No: 31

If X means 'plus' (+), Y means 'divided by' ( $\div$ ), Z means 'multiplied by' ( $\times$ ), and W means 'minus' (-), then what is the value of the following expression?  
 $28 \text{ Y } 4 \text{ Z } 3 \text{ W } 5 \text{ X } 11$

अगर X का मतलब 'प्लस' (+) है, तो Y का मतलब 'से भाग' है ( $\div$ ), Z का मतलब है 'गुणा करके' ( $\times$ ), और W का मतलब 'माइनस' (-) है, तो नीचे दिए गए एक्सप्रेशन की वैल्यू क्या है?  
 $28 \text{ Y } 4 \text{ Z } 3 \text{ W } 5 \text{ X } 11$

34

34

31

31

27

27

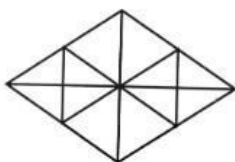
40

40

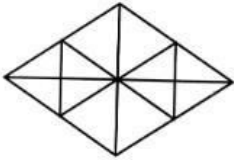
[Click Here to Challenge Question No.: 32](#)

Q.No: 32

Find the number of triangles in the given figure.



दी गई आकृति में त्रिभुजों की संख्या ज्ञात कीजिए।



16

16

22

22

28

28

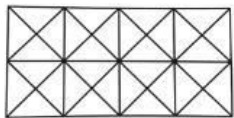
32

32

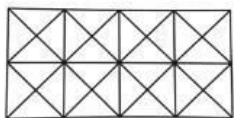
[Click Here to Challenge Question No.: 33](#)

Q.No: 33

Count the number of squares in the given figure.



दी गई आकृति में वर्गों की संख्या गिनें।



11

11

21

21

24

24

26

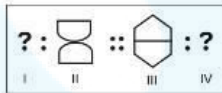
26

[Click Here to Challenge Question No.: 34](#)

Q.No: 34

Select a figure from the answer set, the contents of which may best substitute the question marks in problems, such that figure III is related to figure IV in the same way as figure I is related to figure II.

Problem figures:

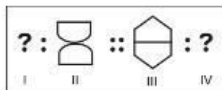


Answer figures:



आंसर सेट में से एक फिगर चुनें, जिसका कंटेंट प्रॉब्लम में सवाल के निशान की जगह सबसे अच्छा काम कर सके, जैसे कि फिगर III, फिगर IV से उसी तरह जुड़ा हो जैसे फिगर I, फिगर II से जुड़ा है।

प्रॉब्लम फिगर:



आंसर फिगर:



A

A

B

B

C

C

E

E

[Click Here to Challenge Question No.: 35](#)

Q.No: 35

Introducing Ram, Geeta said, "He is the son of the daughter of the father of my uncle." How is the Ram related to the Geeta?

राम का परिचय देते हुए गीता ने कहा, "वह मेरे चाचा के पिता की बेटी का बेटा है।" राम का गीता से क्या संबंध है?

Brother

भाई

Nephew

भतीजा

Uncle

चाचा

Son-in-law

दामाद

[Click Here to Challenge Question No.: 36](#)

Q.No: 36

Pointing to a person in an image, Rohit says, "She is the only daughter of the father of my brother's mother." How is the person in the image related to Rohit?

एक इमेज में एक व्यक्ति की ओर इशारा करते हुए, रोहित कहता है, "वह मेरे भाई की माँ के पिता की इकलौती बेटी है।" इमेज में दिख रहा व्यक्ति रोहित से किस तरह जुड़ा है?

Mother

माँ

Sister

बहन

Aunt

चाची

Grandmother

दादी

[Click Here to Challenge Question No.: 37](#)

Q.No: 37

Which of the following is the first element in the indexing system for the set {A, B, C, D, E}?

इनमें से कौन सा {A, B, C, D, E} सेट के लिए इंडेक्सिंग सिस्टम में पहला एलिमेंट है?

E

E

A

A

B

B

C

C

[Click Here to Challenge Question No.: 38](#)

Q.No: 38

What is the position of the word "PLANK" when the following words are arranged alphabetically?

- 1.PLAN
- 2.PLACARD
- 3.PLANK
- 4.PLAIN
- 5.PLANT

जब नीचे दिए गए शब्दों को अल्फाबेटिकल ऑर्डर में अरेंज किया जाता है, तो "PLANK" शब्द की जगह क्या होगी?

- 1.PLAN
- 2.PLACARD
- 3.PLANK
- 4.PLAIN
- 5.PLANT

3rd

3

4th

4

2nd

2

5th

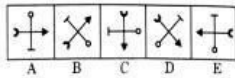
5

[Click Here to Challenge Question No.: 39](#)

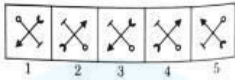
Q.No: 39

Analyze the five Problem Figures (A, B, C, D, E) to determine the established sequential pattern. Select the next figure in the series from the five Answer Figures (1, 2, 3, 4, 5).

Problem figures:

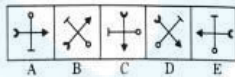


Answer figures:



स्थापित सीक्वेंशियल पैटर्न का पता लगाने के लिए पाँच प्रॉब्लम फिगर्स (A, B, C, D, E) को एनालाइज़ करें। पाँच आंसर फिगर्स (1, 2, 3, 4, 5) में से सीरीज़ में अगला फिगर चुनें।

प्रॉब्लम फिगर्स:



प्रॉब्लम फिगर्स:



1

1

2

2

3

3

4

4

[Click Here to Challenge Question No.: 40](#)

Q.No: 40

Find the word that **CANNOT** be formed from the letters in **COMMUNICATION**.

वह शब्द ढूँढें जो **COMMUNICATION** के अक्षरों से **CANNOT** बनाया जा सकता है।

ACTION

ACTION

MENTION

MENTION



MOTION

MOTION

MIMIC

MIMIC

[Click Here to Challenge Question No.: 41](#)

Q.No: 41

You observe a coworker using company time and resources (like the company printer and paper) to print a large volume of personal materials for a side business they run. What is the best way to address this?

आप देखते हैं कि एक साथ काम करने वाला अपने साइड बिज़नेस के लिए बहुत सारा पर्सनल सामान प्रिंट करने के लिए कंपनी का समय और रिसोर्स (जैसे कंपनी का प्रिंटर और पेपर) इस्तेमाल कर रहा है। इससे निपटने का सबसे अच्छा तरीका क्या है?

Instruct the coworker to refrain from using company resources for personal gain.

साथ काम करने वाले को बताएं कि वह कंपनी के रिसोर्स का इस्तेमाल अपने फायदे के लिए न करे।

Wait and see if the coworker's manager notices the excessive printing.

इंतज़ार करें और देखें कि क्या साथ काम करने वाले के मैनेजर को ज़्यादा प्रिंटिंग पर ध्यान जाता है।

Ignore the matter, as it is a small abuse of resources.

इस मामले को नज़रअंदाज़ करें, क्योंकि यह रिसोर्स का छोटा सा गलत इस्तेमाल है।

Report the misuse of company property to your supervisor or HR department.

कंपनी की प्रॉपर्टी के गलत इस्तेमाल की रिपोर्ट अपने सुपरवाइज़र या HR डिपार्टमेंट को करें।

[Click Here to Challenge Question No.: 42](#)

Q.No: 42

A big advertiser threatens to rescind their campaign unless you, as the editor-in-chief of a local newspaper, suppress an accurate and well-researched story about the unethical behaviour of a local business owner. The paper might suffer a significant financial loss if the story is published. What ought one to do?

एक बड़ा एडवरटाइज़र धमकी देता है कि अगर आप, एक लोकल अखबार के एडिटर-इन-चीफ के तौर पर, एक लोकल बिज़नेस मालिक के गलत व्यवहार के बारे में सही और अच्छी तरह से रिसर्च की गई कहानी को नहीं दबाते हैं, तो वह अपना कैंपेन कैसल कर देगा। अगर कहानी पब्लिश हो जाती है, तो अखबार को बड़ा फाइनेंशियल नुकसान हो सकता है। क्या करना चाहिए?

Pull the story, as the financial survival of the newspaper and its staff is the priority.

स्टोरी हटा लें, क्योंकि अखबार और उसके स्टाफ का फाइनेंशियल सर्वाइवल प्रायोरिटी है।

Publish the story and issue a statement reaffirming the paper's commitment to truth and journalistic integrity over commercial pressure.

स्टोरी पब्लिश करें और कमर्शियल प्रेशर के बावजूद सच्चाई और जर्नलिस्टिक इंटिग्रिटी के लिए पेपर के कमिटमेंट को कन्फर्म करने वाला एक स्टेटमेंट जारी करें।

Post the story on an anonymous blog instead of the newspaper's official website.

अखबार की ऑफिशियल वेबसाइट के बजाय किसी गुमनाम ब्लॉग पर स्टोरी पोस्ट करें।

Tell the reporter to rewrite the story to be less critical of the business owner.

रिपोर्टर से कहें कि वह कहानी को फिर से लिखे ताकि बिज़नेस ओनर की कम बुराई हो।

[Click Here to Challenge Question No.: 43](#)

Q.No: 43

Find the odd number-pair:

विषम संख्या-युग्म ज्ञात करें:

24:8

24:8

51:5

51:5

35:10

35:10

19:9

19:9

[Click Here to Challenge Question No.: 44](#)

Q.No: 44

Find the odd number out:

विषम संख्या ज्ञात करें:

625

625

144

144

168

168

196

196

[Click Here to Challenge Question No.: 45](#)

Q.No: 45

**Post: Sales Executive – Marketing Department**

Eligibility Criteria (as on 01-01-2025):

- Must have completed a Bachelor's degree in Business Administration (BBA) or any related field with at least 55% marks.
- Age should be between 22 and 28 years.
- Must have a good understanding of market trends and customer behaviour.
- Strong communication skills are required.

**Case:**

Neha is 26 years old, has completed her BBA with 60% marks, and has excellent communication skills but lacks experience in market research.

What should be done in Neha's case?

**पद: सेल्स एग्जीक्यूटिव – मार्केटिंग विभाग**

एलिजिबिलिटी क्राइटेरिया (01-01-2025 तक):

- बिजनेस एडमिनिस्ट्रेशन (BBA) या किसी संबंधित फील्ड में कम से कम 55% मार्क्स के साथ बैचलर डिग्री पूरी की होनी चाहिए।
- उम्र 22 से 28 साल के बीच होनी चाहिए।
- मार्केट ट्रेंड्स और कस्टमर बिहेवियर की अच्छी समझ होनी चाहिए।
- अच्छी कम्युनिकेशन स्किल्स ज़रूरी हैं।

**मामला:**

नेहा 26 साल की है, उसने 60% मार्क्स के साथ BBA पूरा किया है, और उसकी कम्युनिकेशन स्किल्स बहुत अच्छी हैं लेकिन मार्केट रिसर्च का अनुभव नहीं है। नेहा के मामले में क्या करना चाहिए?

Neha is eligible for the role.

नेहा इस रोल के लिए एलिजिबल हैं।

Neha is not eligible due to the lack of market research experience.

मार्केट रिसर्च का अनुभव न होने के कारण नेहा योग्य नहीं है।

Neha is ineligible because she has not completed her degree in Marketing.

नेहा अयोग्य है क्योंकि उसने मार्केटिंग में अपनी डिग्री पूरी नहीं की है।

Neha is not eligible as she is over the maximum age limit.

नेहा एलिजिबल नहीं है क्योंकि उसकी उम्र मैक्सिमम लिमिट से ज्यादा है।

[Click Here to Challenge Question No.: 46](#)

Q.No: 46

In each of the following questions, a statement is given followed by 2 conclusions .Read the statements carefully and answer the following questions:

**Statement:** Sealed tenders are invited from competent contractors experienced in executing construction jobs.

**Conclusions:**

- I. Tenders are invited only from experienced contractors.
- II. It is difficult to find competent tenderers in construction jobs.

नीचे दिए गए हर सवाल में एक स्टेटमेंट दिया गया है जिसके बाद 2 निष्कर्ष दिए गए हैं। स्टेटमेंट को ध्यान से पढ़ें और नीचे दिए गए सवालों के जवाब दें:

**स्टेटमेंट:** कंस्ट्रक्शन के काम करने में अनुभवी काबिल कॉन्ट्रैक्टर से सील्ड टेंडर मंगाए जाते हैं।

**निष्कर्ष:**

- I. टेंडर सिर्फ अनुभवी कॉन्ट्रैक्टर से ही मंगाए जाते हैं।
- II. कंस्ट्रक्शन के कामों में काबिल टेंडर देने वाले मिलना मुश्किल है।

Only conclusion I follows

केवल निष्कर्ष I अनुसरण करता है

Only conclusion II follows

केवल निष्कर्ष II अनुसरण करता है

Neither I nor II follows

न तो I और न ही II अनुसरण करता है

Both I and II follow

I और II दोनों अनुसरण करते हैं

[Click Here to Challenge Question No.: 47](#)

Q.No: 47

You are an electrical engineer hired by a government agency to evaluate bids for a public lighting project. You discover that the lowest bidder is a company owned by your spouse's cousin. Their bid is technically sound. What is your required ethical action?

आप एक इलेक्ट्रिकल इंजीनियर हैं, जिन्हें एक सरकारी एजेंसी ने पब्लिक लाइटिंग प्रोजेक्ट के लिए बिड्स को एवैल्यूएट करने के लिए हायर किया है। आपको पता चलता है कि सबसे कम बिड लगाने वाली कंपनी आपके पति/पत्नी के कज़िन की है। उनकी बिड टेक्निकली सही है। आपको क्या एथिकल एक्शन लेना चाहिए?

Approve the lowest bid immediately, as it saves the taxpayers' money.

सबसे कम बोली को तुरंत मंजूरी दें, क्योंकि इससे टैक्सपेयर्स का पैसा बचेगा।

Ignore the familial connection, as the bid is technically sound.

पारिवारिक कनेक्शन को नज़रअंदाज़ करें, क्योंकि बोली टेक्निकली सही है।

Disclose the conflict of interest, recuse yourself, and let another official review the bid.

कॉन्फ्लिक्ट ऑफ़ इंटरेस्ट के बारे में बताएं, खुद को इससे अलग रखें, और किसी दूसरे अधिकारी से बिड का रिव्यू करवाएं।

Disqualify the bid based on the conflict of interest without telling your superior.

अपने सीनियर को बताए बिना कॉन्फ्लिक्ट ऑफ़ इंटरेस्ट के आधार पर बिड को डिसक्वालिफ़ाई करें।

[Click Here to Challenge Question No.: 48](#)

Q.No: 48

In each of the following questions, a statement is given followed by 2 conclusions. Read the statements carefully and answer the following questions:

**Statement:** It is almost impossible to survive and prosper in this world without sacrificing ethics and morality.

**Conclusions:**

- I. World appreciates some concepts but may not uphold it.
- II. Concept of ethics and morality are not practicable in life.

नीचे दिए गए हर सवाल में एक स्टेटमेंट दिया गया है जिसके बाद 2 निष्कर्ष दिए गए हैं। स्टेटमेंट को ध्यान से पढ़ें और नीचे दिए गए सवालों के जवाब दें:

**स्टेटमेंट:** एथिक्स और मोरैलिटी को छोड़े बिना इस दुनिया में ज़िंदा रहना और तरक्की करना लगभग नामुमकिन है।

**निष्कर्ष:**

- I. दुनिया कुछ कॉन्सेप्ट को मानती है लेकिन शायद उन्हें मानती नहीं है।
- II. एथिक्स और मोरैलिटी का कॉन्सेप्ट ज़िंदगी में प्रैक्टिकल नहीं है।

Only conclusion I follows

केवल निष्कर्ष I. अनुसरण करता है

Only conclusion II follows

केवल निष्कर्ष II. अनुसरण करता है

Neither I nor II follows

न तो I और न ही II. अनुसरण करता है

Both I and II follow

I और II दोनों अनुसरण करते हैं

[Click Here to Challenge Question No.: 49](#)

Q.No: 49

Pointing to a girl, a man says, "She is the only daughter of the only child of my mother." How is the man related to the girl?

एक लड़की की ओर इशारा करते हुए एक आदमी कहता है, "वह मेरी माँ के इकलौते बच्चे की इकलौती बेटी है।" वह आदमी लड़की से किस तरह जुड़ा है?

Father

पिता

Brother

भाई

Grandfather

दादा

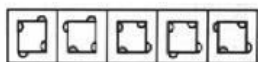
Uncle

चाचा

[Click Here to Challenge Question No.: 50](#)

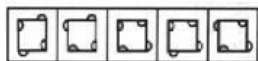
Q.No: 50

Choose the figure which is different from the rest.



1. 2. 3. 4. 5.

वह आकृति चुनें जो बाकी से अलग है।



1. 2. 3. 4. 5.

1

1

2

2

3

3

4

4







## CANDIDATE RESPONSE SHEET/GRIEVANCE SYSTEM

[View Your Responses](#)[Click Here to View Grievance Questions](#)Admin logged in. [ [Logout](#) ]

Roll No.

Exam Level : 

Test Date : 12 Dec 2025

Test Time and Shift : 10:00 AM (Shift-1)

[Correct Option selected](#) [Wrong Option selected](#) [Correct Option](#) [Not Answered](#)[Save / Print](#)**Undertaking by the candidate :**

I acknowledge that this saved question paper is for my personal use and self-analysis only. I understand that sharing, distributing, or using it for commercial or any other purposes is strictly prohibited and may lead to legal action as per applicable acts, rules and regulations.

**Note:**

The candidates may note that in the challenge module the sequence of the questions and the options may be different from how it appeared during the examination. This is because in the challenge module the sequence of the questions as well as the answers will be the same for all the candidates who appeared in a particular shift while during the actual examination these sequences were different for different candidates. However the answer key selected by the candidates during the examination will exactly be reflected in the challenge module.

[Click Here for PART-A](#)[Click Here for PART-B](#)[Click Here for PART-C](#)[Click Here for PART-D](#)**PART-B (General Knowledge and General Awareness)**[Click Here to Challenge Question No.: 51](#)

Q.No: 51	What does "expected years of schooling" measure? "स्कूली शिक्षा के अपेक्षित वर्ष" से क्या मापा जाता है?
	The total number of years of schooling in a country. किसी देश में स्कूली शिक्षा के कुल वर्षों की संख्या।
	The average number of years of schooling received by people ages 25 and older. 25 वर्ष और उससे ज्यादा आयु के लोगों द्वारा प्राप्त स्कूली शिक्षा के वर्षों की औसत संख्या।
	The number of years a child of school-entering age is expected to spend in school. स्कूल में प्रवेश लेने की आयु वाले बच्चे से स्कूल में बिताए जाने वाले वर्षों की संख्या।
	The projected past years of schooling. स्कूली शिक्षा के अनुमानित पिछले वर्ष।

[Click Here to Challenge Question No.: 52](#)

Q.No: 52	To assist businesses in complying with legal requirements, governments are; कानूनी ज़रूरतों के अनुपालन में व्यवसायों की सहायता के लिए, सरकारें;
----------	--



	Developing rules that are unique compared to other countries. ऐसे नियम विकसित करती है जो अन्य देशों की तुलना में अद्वितीय हों।	<a href="https://sscstudy.com/">https://sscstudy.com/</a>
	Harmonizing their laws with international standards. अपने कानूनों को अंतर्राष्ट्रीय मानकों के अनुरूप बनाती है।	
	Completely doing away with regulations. विनियमनों को पूरी तरह से समाप्त करती है।	
	Disregarding the implementation of legal rules. कानूनी नियमों के कार्यान्वयन की अवहेलना करती है।	

[Click Here to Challenge Question No.: 53](#)

Q.No: 53	Which of the following is NOT within the scope of macroeconomics? निम्नलिखित में से कौन सा समष्टि अर्थशास्त्र के दायरे में नहीं आता है?
	National income राष्ट्रीय आय
	Total investment कुल निवेश
	Wages of an establishment किसी प्रतिष्ठान का वेतन
	Total consumption कुल खपत

Not Answered

[Click Here to Challenge Question No.: 54](#)

Q.No: 54	What is the benefit of the NavIC system? नाविक (NavIC) सिस्टम का क्या लाभ है?
	Provides global internet services वैश्विक इंटरनेट सेवाएं प्रदान करता है
	Detects earthquakes before they occur भूकंप आने से पहले ही उसका पता लगा लेता है
	Offers regional navigation and positioning services क्षेत्रीय नेविगेशन और पोजिशनिंग सेवाएं प्रदान करता है
	Enables high-resolution space photography उच्च-रिज़ॉल्यूशन अंतरिक्ष फोटोग्राफी सक्षम करता है

[Click Here to Challenge Question No.: 55](#)

Q.No: 55	What does E in the PESTAL macroeconomic analysis stand for? PESTAL समष्टि आर्थिक विश्लेषण में E का क्या अर्थ है?
	Economic इकोनॉमिक
	Electronic इलेक्ट्रॉनिक

<https://sscstudy.com/>

	Exchange एक्सचेंज	<a href="https://sscstudy.com/">https://sscstudy.com/</a>
	Equal इक्वल	
Not Answered		

<a href="#">Click Here to Challenge Question No.: 56</a>		
Q.No: 56	What does the MGNREGA stand for? मनरेगा(MGNREGA) का क्या अर्थ है?	
	Mahatma Gandhi National Rural Employment Generation Act महात्मा गांधी राष्ट्रीय ग्रामीण रोजगार जनरेशन अधिनियम	
	Mahatma Gandhi National Rural Employment Guarantee Act महात्मा गांधी राष्ट्रीय ग्रामीण रोजगार गारंटी अधिनियम	
	Mahatma Gandhi National Regulated Employment Generation Act महात्मा गांधी राष्ट्रीय विनियमित रोजगार जनरेशन अधिनियम	
	Mahatma Gandhi National Regulated Employment Guarantee Act महात्मा गांधी राष्ट्रीय विनियमित रोजगार गारंटी अधिनियम	

<a href="#">Click Here to Challenge Question No.: 57</a>		
Q.No: 57	In 1576, the Battle of Haldighati was fought between: 1576 में हल्दीघाटी का युद्ध किसके बीच लड़ा गया था:	
	Akbar and Rana Kumbha अकबर और राणा कुंभा	
	Babur and Rana Sanga बाबर और राणा सांगा	
	Akbar and Maharana Pratap अकबर और महाराणा प्रताप	
	Humayun and Sher Shah हुमायूं और शेरशाह	

<a href="#">Click Here to Challenge Question No.: 58</a>		
Q.No: 58	Neither the Iqta system nor the Mansabdari system was prevalent under the: _____ के दौरान न तो इक्ता प्रणाली और न ही मनसबदारी प्रणाली प्रचलित थी:	
	Delhi Sultanate दिल्ली सल्तनत	
	Mughals मुगलों	
	Vijayanagara Empire विजयनगर साम्राज्य	
	Lodi Dynasty लोदी वंश	

[Click Here to Challenge Question No.: 59](#)

Q.No: 59 Who won India's first-ever gold medal in the Commonwealth Games?

राष्ट्रमंडल खेलों में भारत को पहला स्वर्ण पदक किसने दिलाया?

Milkha Singh

मिल्खा सिंह

Rashid Anwar

रशीद अनवर

Karnam Malleswari

कर्णम मल्लेश्वरी

Mirabai Chanu

मीराबाई चानू

[Click Here to Challenge Question No.: 60](#)

Q.No: 60 In which Olympic Games did Leander Paes win a bronze medal in tennis?

किस ओलंपिक खेलों में लिण्डर पेस ने टेनिस में कांस्य पदक जीता?

1992 Barcelona

1992 बार्सिलोना

1996 Atlanta

1996 अटलांटा

2000 Sydney

2000 सिडनी

2004 Athens

2004 एथेंस

Not Answered

[Click Here to Challenge Question No.: 61](#)

Q.No: 61 The National Sports Day in India is celebrated on which date?

भारत में राष्ट्रीय खेल दिवस किस तारीख को मनाया जाता है?

July 29

29 जुलाई

August 29

29 अगस्त

September 29

29 सितंबर

October 29

29 अक्टूबर

[Click Here to Challenge Question No.: 62](#)

Q.No: 62 Where did the final of the 2016 Hockey Junior World Cup take place?

2016 हॉकी जूनियर विश्व कप का फाइनल कहाँ हुआ?

	Lucknow लखनऊ	<a href="https://sscstudy.com/">https://sscstudy.com/</a>
	New Delhi नई दिल्ली	
	Mumbai मुंबई	
	Chennai चेन्नई	
Not Answered		

<a href="#">Click Here to Challenge Question No.: 63</a>		
Q.No: 63	In which Indian city was the inaugural Pro Wrestling League season's final match contested? प्रो रेसलिंग लीग सीज़न का फाइनल मैच किस भारतीय शहर में खेला गया?	
	New Delhi नई दिल्ली	
	Mumbai मुंबई	
	Bengaluru बेंगलुरु	
	Jaipur जयपुर	
Not Answered		

<a href="#">Click Here to Challenge Question No.: 64</a>		
Q.No: 64	Who built the famous Red Fort in Delhi? दिल्ली में प्रसिद्ध लाल किला किसने बनवाया था?	
	Babur बाबर	
	Akbar अकबर	
	Shah Jahan शाहजहाँ	
	Jahangir जहांगीर	

<a href="#">Click Here to Challenge Question No.: 65</a>		
Q.No: 65	In which district of Uttarakhand is the Jageshwar temple complex located? उत्तराखंड के किस जिले में जागेश्वर मंदिर परिसर स्थित है?	
	Tehri Garhwal टिहरी गढ़वाल	
	Almora अल्मोड़ा	
	Chamoli	

Not Answered

[Click Here to Challenge Question No.: 66](#)

Q.No: 66 In which year did Anita Desai's novel, Clear Light of Day, make the Booker Prize shortlist?

अनीता देसाई के उपन्यास, क्लियर लाइट ऑफ डे को किस वर्ष बुकर पुरस्कार के लिए शॉर्टलिस्ट किया गया?

1979

1979

1980

1980

1981

1981

1984

1984

Not Answered

[Click Here to Challenge Question No.: 67](#)

Q.No: 67 Which of the following Five-Year Plans marked a strategic transition in India's economic policy, shifting the primary focus from agriculture to the development of heavy industries and industrialization?

निम्नलिखित में से किस पंचवर्षीय योजना ने भारत की आर्थिक नीति में रणनीतिक परिवर्तन को चिह्नित किया, जिसने प्राथमिक ध्यान कृषि से हटाकर भारी उद्योगों और औद्योगीकरण के विकास पर केंद्रित कर दिया?

First Five-Year Plan

प्रथम पंचवर्षीय योजना

Second Five-Year Plan

दूसरी पंचवर्षीय योजना

Fourth Five-Year Plan

चौथी पंचवर्षीय योजना

Fifth Five-Year Plan

पांचवीं पंचवर्षीय योजना

[Click Here to Challenge Question No.: 68](#)

Q.No: 68 Which of the following Five-Year Plans in India was notably criticized for its substantial dependence on foreign loans to finance the import of machinery and capital goods?

भारत में निम्नलिखित में से किस पंचवर्षीय योजना की मशीनरी और पूंजीगत वस्तुओं के आयात के वित्तपोषण के लिए विदेशी ऋणों पर पर्याप्त निर्भरता के लिए विशेष रूप से आलोचना की गई थी?

Second Five-Year Plan

दूसरी पंचवर्षीय योजना

Fourth Five-Year Plan

चौथी पंचवर्षीय योजना

Sixth Five-Year Plan

छठी पंचवर्षीय योजना

Eighth Five-Year Plan

आठवीं पंचवर्षीय योजना

[Click Here to Challenge Question No.: 69](#)

Q.No: 69 Which novel by Kazuo Ishiguro won the Booker Prize in 1989 and was later adapted into an Oscar-nominated film?  
काजुओ इशिगुरो के किस उपन्यास ने 1989 में बुकर पुरस्कार जीता और बाद में इसे ऑस्कर-नामांकित फिल्म में रूपांतरित किया गया?

An Artist of the Floating World

एन आर्टिस्ट ऑफ़ द फ्लोटिंग वर्ल्ड

The Remains of the Day

द रिमेन्स ऑफ़ द डे

Never Let Me Go

नेवर लेट मी गो

A Pale View of Hills

ए पेल व्यू ऑफ़ हिल्स

Not Answered

[Click Here to Challenge Question No.: 70](#)

Q.No: 70 How many medals did India win at Tokyo 2020 Olympics?  
टोक्यो 2020 ओलंपिक में भारत ने कितने पदक जीते?

3

3

7

7

5

5

9

9

Not Answered

[Click Here to Challenge Question No.: 71](#)

Q.No: 71 What is the standard chessboard size in tournament play (in terms of rows and columns)?  
टूर्नामेंट खेल में मानक शतरंज बोर्ड की साइज़ (पंक्तियों और कॉलम्स के संदर्भ में) क्या है?

6x6

6x6

8x8

8x8

10x10

10x10

12x12

12x12

[Click Here to Challenge Question No.: 72](#)

Q.No: 72	Which harvest festival in Andhra Pradesh and Telangana is celebrated for four days with the Bhogi bonfire? आंध्र प्रदेश और तेलंगाना में कौन सा ऐसा फसल त्योहार है जो भोगी की अलाव के साथ चार दिन तक मनाया जाता है?
	Vinayaka Chaturthi विनायक चतुर्थी
	Sankranti संक्रांति
	Ugadi उगादि
	Bathukamma बतुकम्म

[Click Here to Challenge Question No.: 73](#)

Q.No: 73	The "Charter Act of 1833" made the Governor-General of Bengal the Governor-General of: "1833 के चार्टर एक्ट" ने बंगाल के गवर्नर-जनरल को निम्नलिखित का गवर्नर-जनरल बनाया:
	Madras मद्रास
	Bombay बम्बई
	India भारत
	Bengal Presidency बंगाल प्रेसीडेंसी

[Click Here to Challenge Question No.: 74](#)

Q.No: 74	The "Subsidiary Alliance" system, pioneered by Lord Wellesley, had a significant impact on the political map of India. What was a primary consequence for the Indian states that entered into this alliance? लॉर्ड वेलेजली द्वारा शुरू की गई "सहायक गठबंधन" प्रणाली का भारत के राजनीतिक मानचित्र पर महत्वपूर्ण प्रभाव पड़ा। इस गठबंधन में शामिल होने वाले भारतीय राज्यों के लिए प्राथमिक परिणाम क्या था?
	They gained greater military strength and autonomy in their external relations. उन्हें अपने विदेशी संबंधों में अधिक सैन्य शक्ति और स्वायत्तता प्राप्त हुई।
	They were effectively brought under British political influence and control, losing their independent foreign policy and often their military capacity. उन्हें प्रभावी रूप से ब्रिटिश राजनीतिक प्रभाव और नियंत्रण में लाया गया, जिससे उनकी स्वतंत्र विदेश नीति और अक्सर उनकी सैन्य क्षमता भी समाप्त हो गई।
	They experienced rapid economic growth due to British investment and administrative reforms. ब्रिटिश निवेश और प्रशासनिक सुधारों के कारण उन्हें तीव्र आर्थिक विकास का अनुभव हुआ।
	They formed a strong unified front against the expansion of British power in India. उन्होंने भारत में ब्रिटिश सत्ता के विस्तार के खिलाफ एक मजबूत एकीकृत मोर्चा बनाया।

[Click Here to Challenge Question No.: 75](#)

Q.No: 75	The "Simon Commission" of 1927 was intended to review the working of the Government of India Act of 1919. Why was it met with widespread protests and boycotts by Indian nationalist leaders?
----------	--

<https://sscstudy.com/>



	1927 के "साइमन कमीशन" का उद्देश्य 1919 के भारत सरकार अधिनियम के कामकाज की समीक्षा करना था। भारतीय राष्ट्रवादी नेताओं द्वारा इसका व्यापक विरोध और बहिष्कार क्यों किया गया?	<a href="https://sscstudy.com/">https://sscstudy.com/</a>
	It recommended the immediate granting of complete independence to India, which was deemed insufficient by some. इसमें भारत को तत्काल पूर्ण स्वतंत्रता देने की सिफारिश की गई थी, जिसे कुछ लोगों ने अपर्याप्त माना।	
	It proposed the complete dismantling of the existing legislative councils. इसमें मौजूदा विधान परिषदों को पूरी तरह से समाप्त करने का प्रस्ताव किया गया।	
	It did not include any Indian members in its composition, leading to accusations of being an imposition on India's future without Indian representation. इसमें किसी भी भारतीय सदस्य को शामिल नहीं किया गया, जिसके कारण इस पर आरोप लगे कि भारतीय प्रतिनिधित्व के बिना यह भारत के भविष्य पर थोपा जा रहा है।	
	It advocated for the strengthening of the system of separate electorates. इसने पृथक निर्वाचन प्रणाली को मजबूत करने की वकालत की।	

<a href="#">Click Here to Challenge Question No.: 76</a>		
Q.No: 76	In August 2024, who assumed office as India's Union Home Secretary? अगस्त 2024 में भारत के केंद्रीय गृह सचिव के रूप में किसने पदभार ग्रहण किया?	
	Ajay Kumar Bhalla अजय कुमार भल्ला	
	Govind Mohan गोविंद मोहन	
	Rajiv Gauba राजीव गौबा	
	Anil Baijal अनिल बैजल	
Not Answered		

<a href="#">Click Here to Challenge Question No.: 77</a>		
Q.No: 77	Where did Bharatanatyam originate? भरतनाट्यम की उत्पत्ति कहाँ हुई?	
	Maharashtra महाराष्ट्र	
	Tamil Nadu तमिलनाडु	
	Uttar Pradesh उत्तर प्रदेश	
	Kerala केरल	

<a href="#">Click Here to Challenge Question No.: 78</a>		
Q.No: 78	Who among the following secured India's first Paris 2024 Olympic quota in rowing? निम्नलिखित में से किसने रोइंग में भारत के लिए पहला पेरिस 2024 ओलंपिक कोटा हासिल किया?	
	Arjun Lal Jat	



Arvind Singh

अरविन्द सिंह

Balraj Panwar

बलराज पंवार

Satish Joshi

सतीश जोशी

[Click Here to Challenge Question No.: 79](#)

Q.No: 79 Who is the first English language writer to become a Jnanpith laureate?

ज्ञानपीठ पुरस्कार विजेता बनने वाले पहले अंग्रेजी भाषा के लेखक कौन हैं?

Amitav Ghosh

अमिताव घोष

Raghuveer Chaudhari

रघुवीर चौधरी

Kedarnath Singh

केदारनाथ सिंह

Shankha Ghosh

शंख घोष

[Click Here to Challenge Question No.: 80](#)

Q.No: 80 Which dance is performed with bamboo staves in Mizoram?

मिजोरम में बांस की डंडियों से कौन सा नृत्य किया जाता है?

Chang Lo

चांग लो

Maruni

मारुणी

Cheraw

चेरौ

Ghoomar

घूमर

[Click Here to Challenge Question No.: 81](#)

Q.No: 81 The First Jain Council was convened at Pataliputra by whom?

पाटलिपुत्र में प्रथम जैन संगीति किसके द्वारा बुलाई गई थी?

Bhadrabahu

भद्रबाहु

Sthulabahu

स्थूलबाहु

Moggallanna

मोगलान्ना

Rahula

राहुल

[Click Here to Challenge Question No.: 82](#)

Q.No: 82	Vichitrachitta, Chitrakarapuli, and Chaityakari are the titles given to which of the following rulers? विचित्रचित्त, चित्रकारपुली और चैत्यकारी निम्नलिखित में से किस शासक को दी गई उपाधियाँ हैं?
	Kirtivarman I कीर्तिवर्मन I
	Narasimhavarman II नरसिंहवर्मन II
	Mahendravarman I महेंद्रवर्मन I
	Parantaka I परांतका I

Not Answered

[Click Here to Challenge Question No.: 83](#)

Q.No: 83	Which of the given statements is/are CORRECT regarding Kochi port? कोच्चि बंदरगाह के संबंध में दिए गए कथनों में से कौन सा/से सही है/हैं?
	1. It is an artificial harbour situated on Willingdon Island. 2. It is located on the Arabian Sea, very close Suez-Colombo route. 3. It is located on islands within the Vembanad Lake, where it opens to the Arabian Sea. कोच्चि बंदरगाह के संबंध में दिए गए कथनों में से कौन सा/से सही है/हैं?
	1. यह विलिंगडन द्वीप पर स्थित एक कृत्रिम बंदरगाह है। 2. यह अरब सागर पर, स्वेज-कोलंबो मार्ग के बहुत करीब स्थित है। 3. यह वेम्बनाड झील के भीतर द्वीपों पर स्थित है, जहाँ से यह अरब सागर में खुलता है।
	1 and 3 only केवल 1 और 3
	2 and 3 only केवल 2 और 3
	1 and 2 only केवल 1 और 2
	1, 2, and 3 1, 2, और 3

[Click Here to Challenge Question No.: 84](#)

Q.No: 84	Which of these ragas is traditionally associated with the early morning and evokes a peaceful, meditative mood? इनमें से कौन सा राग पारंपरिक रूप से सुबह के समय से जुड़ा हुआ है और शांतिपूर्ण, ध्यानपूर्ण मनोदशा उत्पन्न करता है?
	Raga Bageshree राग बागेश्री
	Raga Hamsadhwani राग हंसध्वनि

[Click Here to Challenge Question No.: 85](#)

- Q.No: 85 Which of the following statements CORRECTLY defines Southern Oscillations?  
निम्नलिखित में से कौन सा कथन दक्षिणी दोलन को सही ढंग से परिभाषित करता है?
- Periodic changes in the pressure conditions in the Pacific Ocean and Indian Ocean.  
प्रशांत महासागर और हिंद महासागर में दबाव की स्थिति में आवधिक परिवर्तन।
- The reversal of jet streams during the monsoon season in India.  
भारत में मानसून के मौसम के दौरान जेट धाराओं का उलट जाना।
- The periodic reversal of winds in the Indian peninsula.  
भारतीय प्रायद्वीप में हवाओं का आवधिक उलटाव।
- The periodic changes in the pressure conditions of various parts of India due to shift in ITCZ.  
आईटीसीजेड में बदलाव के कारण भारत के विभिन्न भागों में दबाव की स्थिति में आवधिक परिवर्तन।

[Click Here to Challenge Question No.: 86](#)

- Q.No: 86 Read the statements about Bihu festivals in Assam and choose the **correct** option:  
1.) Goru Bihu of Kati Bihu involves sky lamps to attract pests.  
2.) Uruka before Magh Bihu features bonfires and feasting.  
3.) Manuh Bihu includes gifting Gamucha and traditional dishes.  
असम में बिहू त्यौहारों के बारे में कथनों को पढ़ें और **सही** विकल्प चुनें:  
1.) काटी बिहू के गोरू बिहू में कीटों को आकर्षित करने के लिए आकाशदीप जलाए जाते हैं।  
2.) माघ बिहू से पहले उरुका में अलाव जलाए जाते हैं और दावते दी जाती हैं।  
3.) मनुह बिहू में गमछा और पारंपरिक व्यंजन भेंट किए जाते हैं।

Only 2 and 3 are correct

केवल 2 और 3 सही हैं

Only 1 and 3 are correct

केवल 1 और 3 सही हैं

Only 2 is correct

केवल 2 सही है

1,2 and 3 are correct.

1,2 और 3 सही हैं.

Not Answered

[Click Here to Challenge Question No.: 87](#)

- Q.No: 87 Which term refers to a melodic framework in Indian classical music that consists of ascending (arohana) and descending (avarohana) notes?  
कौन सा शब्द भारतीय शास्त्रीय संगीत में एक मधुर ढांचे को संदर्भित करता है जिसमें आरोहण (अरोहण) और अवरोहण (अवरोहण) स्वर शामिल होते हैं?
- Talam  
तालम
- Alap  
आलाप

[Click Here to Challenge Question No.: 88](#)

Q.No: 88 What was the core theme of India's BRICS Chairship in 2021?

2021 में भारत की BRICS अध्यक्षता का मुख्य विषय क्या था?

Economic protectionism

आर्थिक संरक्षणवाद

BRICS continuity and consensus

ब्रिक्स निरंतरता और आम सहमति

Cultural heritage digitization

सांस्कृतिक विरासत का डिजिटलीकरण

Military coordination

सैन्य समन्वय

Not Answered

[Click Here to Challenge Question No.: 89](#)

Q.No: 89 Which of the following statements about the India-Nepal WASH MoU is/are correct?

1) It includes real-time glacial runoff tracking and privatized sanitation benchmarks.

2) It covers groundwater management, capacity building, and technology sharing.

भारत-नेपाल वाश समझौता जापान के बारे में निम्नलिखित में से कौन सा/से कथन सही है/हैं?

1) इसमें वास्तविक समय में हिमनद अपवाह ट्रैकिंग और निजीकृत स्वच्छता मानक शामिल हैं।

2) इसमें भूजल प्रबंधन, क्षमता निर्माण और प्रौद्योगिकी साझाकरण शामिल हैं।

Only 1 is correct

केवल 1 सही है

Only 2 is correct

केवल 2 सही है

Both 1 and 2 are correct

1 और 2 दोनों सही हैं

Neither 1 nor 2 is correct

न तो 1 और न ही 2 सही है

Not Answered

[Click Here to Challenge Question No.: 90](#)

Q.No: 90 Which of the following statements about South Asian Regional Standards Organization (SARSO) is/are correct?

1) SARSO began functioning in 1985 to regulate tariffs and pricing in SAARC.

2) SARSO aims to harmonize standards and conformity assessments to boost intra-SAARC trade and global access.

दक्षिण एशियाई क्षेत्रीय मानक संगठन (SARSO) के बारे में निम्नलिखित में से कौन सा/से कथन सही है/हैं?

1) SARSO ने 1985 में SAARC में टैरिफ और मूल्य निर्धारण को विनियमित करने के लिए कार्य करना शुरू किया।

2) SARSO का उद्देश्य SAARC के भीतर व्यापार और वैश्विक पहुँच को बढ़ावा देने के लिए मानकों और अनुरूपता मूल्यांकन में सामंजस्य स्थापित करना है।

Only 1

केवल 1

Only 2

केवल 2

1 and 2 Both are correct

1 और 2 दोनों सही हैं

Neither 1 nor 2 is correct

न तो 1 और न ही 2 सही है

Not Answered

[Click Here to Challenge Question No.: 91](#)

Q.No: 91	Who launched the climate action campaign Mission LIFE in October 2022, emphasizing that everyone can contribute to fighting climate change? अक्टूबर 2022 में जलवायु कार्रवाई अभियान मिशन लाइफ किसने शुरू किया, जिसमें इस बात पर जोर दिया गया कि हर कोई जलवायु परिवर्तन से लड़ने में योगदान दे सकता है?
	Jairam Ramesh जयराम रमेश
	Narendra Modi नरेंद्र मोदी
	Bhupender Yadav भूपेंद्र यादव
	Prakash Javadekar प्रकाश जावड़ेकर

Not Answered

[Click Here to Challenge Question No.: 92](#)

Q.No: 92	The Tapi River originates from which of the following ranges? तापी नदी निम्नलिखित में से किस पर्वतमाला से निकलती है?
	Aravalli अरावली
	Vindhya विंध्य
	Satpura सतपुड़ा
	Western Ghats पश्चिमी घाट

[Click Here to Challenge Question No.: 93](#)

Q.No: 93	Which of the following states or UTs had the smallest population in 2011? वर्ष 2011 में निम्नलिखित में से किस राज्य या केंद्र शासित प्रदेश की जनसंख्या सबसे कम थी?
	Sikkim सिक्किम
	Lakshadweep लक्षद्वीप
	Mizoram

[Click Here to Challenge Question No.: 94](#)

Q.No: 94 **Fill in the blank:**  
 RAMBHA-LP onboard Chandrayaan-3 is designed to probe lunar \_\_\_\_.

**रिक्त स्थान भरें:**  
 चंद्रयान-3 में लगा रम्भा-एलपी चंद्रमा की \_\_\_\_ जाँच के लिए डिज़ाइन किया गया है।

Plasma  
 प्लाज्मा

Gravity  
 गुरुत्वाकर्षण

Photons  
 फोटॉनों

Neutrons  
 न्यूट्रॉन

Not Answered

[Click Here to Challenge Question No.: 95](#)

Q.No: 95 Which of the following crops is characteristically associated with the post-monsoon Rabi agricultural cycle in India?  
 निम्नलिखित में से कौन सी फसल भारत में मानसून के बाद के रबी कृषि चक्र से विशेष रूप से जुड़ी हुई है?

Jowar  
 ज्वार

Rice  
 चावल

Gram  
 ग्राम

Maize  
 मक्का

[Click Here to Challenge Question No.: 96](#)

Q.No: 96 Which amino acid is considered essential in human diet?  
 मानव आहार में कौन सा अमीनो एसिड आवश्यक माना जाता है?

Alanine  
 एलानिन

Glycine  
 ग्लाइसिन

Lysine  
 लाइसिन

Serine  
 सेरीन

Not Answered

[Click Here to Challenge Question No.: 97](#)

Q.No: 97	Which part of the Indian Constitution includes the Directive Principle regarding a Uniform Civil Code? भारतीय संविधान के किस भाग में समान नागरिक संहिता के संबंध में नीति निर्देशक सिद्धांत शामिल हैं?
	Part III (Fundamental Rights) भाग III (मौलिक अधिकार)
	Part IV (Directive Principles of State Policy) भाग IV (राज्य नीति के निर्देशक सिद्धांत)
	Part V (The Union) भाग V (संघ)
	Part VI (The States) भाग VI (राज्य)

[Click Here to Challenge Question No.: 98](#)

Q.No: 98	Under the Direct Benefit Transfer (DBT) system in fertilizers, which of the following statements accurately reflects the actual implementation mechanism? उर्वरकों में प्रत्यक्ष लाभ हस्तांतरण (डीबीटी) प्रणाली के तहत, निम्नलिखित में से कौन सा कथन वास्तविक कार्यान्वयन तंत्र को सटीक रूप से दर्शाता है?
	States get direct benefit राज्यों को सीधा लाभ
	Farmers pay post-usage किसान उपयोग के बाद भुगतान करते हैं
	Real-time subsidy to farmer किसानों को वास्तविक समय पर सब्सिडी
	Subsidy is paid to companies post-sale बिक्री के बाद कंपनियों को सब्सिडी का भुगतान किया जाता है

Not Answered

[Click Here to Challenge Question No.: 99](#)

Q.No: 99	The Rashtriya Bal Swasthya Karyakram (RBSK) aims to screen and manage children up to what age? राष्ट्रीय बाल स्वास्थ्य कार्यक्रम (आरबीएसके) का लक्ष्य किस उम्र तक के बच्चों की स्क्रीनिंग और प्रबंधन करना है?
	5 years 5 साल
	10 years 10 साल
	18 years 18 साल
	21 years 21 साल

Not Answered

[Click Here to Challenge Question No.: 100](#)



Q.No: 100	Who is a renowned Santoor player from India, often credited with popularizing the instrument worldwide? <a href="https://sscstudy.com/">https://sscstudy.com/</a> भारत के एक प्रसिद्ध संतूर वादक कौन हैं, जिन्हें अक्सर इस वाद्य यंत्र को दुनिया भर में लोकप्रिय बनाने का श्रेय दिया जाता है?
	Shivkumar Sharma शिवकुमार शर्मा
	Zakir Hussain ज़ाकिर हुसैन
	Bhajan Sopori भजन सोपोरी
	Hariprasad Chaurasia हरिप्रसाद चौरसिया





## CANDIDATE RESPONSE SHEET/GRIEVANCE SYSTEM

[View Your Responses](#)[Click Here to View Grievance Questions](#)Admin loggedin.[ [Logout](#) ]

Roll No.

Exam Level

: 

Test Date

: 12 Dec 2025

Test Time and Shift

: 10:00 AM (Shift-1)

Correct Option selected

Wrong Option selected

Correct Option

Not Answered

[Save / Print](#)**Undertaking by the candidate :**

I acknowledge that this saved question paper is for my personal use and self-analysis only. I understand that sharing, distributing, or using it for commercial or any other purposes is strictly prohibited and may lead to legal action as per applicable acts, rules and regulations.

**Note:**

The candidates may note that in the challenge module the sequence of the questions and the options may be different from how it appeared during the examination. This is because in the challenge module the sequence of the questions as well as the answers will be the same for all the candidates who appeared in a particular shift while during the actual examination these sequences were different for different candidates. However the answer key selected by the candidates during the examination will exactly be reflected in the challenge module.

[Click Here for PART-A](#)[Click Here for PART-B](#)[Click Here for PART-C](#)[Click Here for PART-D](#)**PART-C (Quantitative Aptitude)**[Click Here to Challenge Question No.: 101](#)

Q.No: 101 The average of 5 numbers is 20.  
What is the sum of these numbers?  
5 संख्याओं का औसत 20 है।  
इन संख्याओं का योग क्या है?

90

90

80

80

100

100

120

120

[Click Here to Challenge Question No.: 102](#)

Q.No: 102	<p>The average age of a class of 30 students is 15 years. If the teacher's age is included, the average becomes 16 years.</p> <p>Find the teacher's age in years.</p> <p>30 छात्रों की एक कक्षा की औसत आयु 15 वर्ष है। अगर शिक्षक की आयु भी इसमें शामिल कर ली जाए, तो औसत आयु 16 वर्ष हो जाती है।</p> <p>शिक्षक की आयु वर्षों में ज्ञात कीजिए।</p>
	44
	44
	46
	46
	48
	48
	50
	50

[Click Here to Challenge Question No.: 103](#)

Q.No: 103	<p>A 60-litre mixture of kerosene and petrol contains 75% kerosene.</p> <p>How much petrol is in the mixture?</p> <p>केरोसिन और पेट्रोल के 60 लीटर मिश्रण में 75% केरोसिन है।</p> <p>मिश्रण में कितना पेट्रोल है?</p>
	20 litres
	20 लीटर
	15 litres
	15 लीटर
	45 litres
	45 लीटर
	10 litres
	10 लीटर

[Click Here to Challenge Question No.: 104](#)

Q.No: 104	<p>A mixture contains 36 litres of milk and water in the ratio 2:1.</p> <p>How much water must be added to make the ratio 1:1?</p> <p>एक मिश्रण में 36 लीटर दूध और पानी का अनुपात 2:1 है।</p> <p>अनुपात 1:1 करने के लिए कितना पानी मिलाना होगा?</p>
	12 litres
	12 लीटर
	8 litres
	8 लीटर
	15 litres
	15 लीटर
	10 litres
	10 लीटर

[Click Here to Challenge Question No.: 105](#)

Q.No: 105	<p>In an election, candidate A got 45% of the votes and candidate B got 30%.</p> <p>What percentage of votes did others get?</p> <p>एक चुनाव में, उम्मीदवार A को 45% वोट मिले और उम्मीदवार B को 30% वोट मिले।</p> <p>अन्य को कितने प्रतिशत वोट मिले?</p>
	15%
	15%
	35%
	35%
	20%
	20%
	25%
	25%

[Click Here to Challenge Question No.: 106](#)

Q.No: 106	<p>If a product price is decreased by 12% and then increased by 15%, what is the net percentage change in price?</p> <p>अगर किसी उत्पाद की कीमत में 12% की कमी की जाती है और फिर 15% की वृद्धि की जाती है, तो मूल्य में शुद्ध प्रतिशत परिवर्तन क्या है?</p>
	2.8% increase
	2.8% वृद्धि
	1.2% increase
	1.2% वृद्धि
	1.5% increase
	1.5% वृद्धि
	2.5% increase
	2.5% वृद्धि

[Click Here to Challenge Question No.: 107](#)

Q.No: 107	<p>A shopkeeper buys an article for ₹500 and sells it for ₹600.</p> <p>What is the profit percentage?</p> <p>एक दुकानदार एक वस्तु ₹500 में खरीदता है और उसे ₹600 में बेचता है।</p> <p>लाभ प्रतिशत क्या है?</p>
	10%
	10%
	15%
	15%
	20%
	20%
	25%
	25%

[Click Here to Challenge Question No.: 108](#)

Q.No: 108	<p>A trader sells an article at 15% profit. Had he sold it for ₹150 less, he would have incurred a 5% loss.</p> <p>Find the cost price.</p>
-----------	---

एक व्यापारी एक वस्तु को 15% लाभ पर बेचता है। अगर वह उसे ₹150 कम पर बेचता, तो उसे 5% हानि होती।  
क्रय मूल्य ज्ञात कीजिए।

<https://sscstudy.com/>

₹1000

₹1000

₹1200

₹1200

₹1300

₹1300

₹750

₹750

[Click Here to Challenge Question No.: 109](#)

Q.No: 109

A train takes 45 seconds to pass a platform and 30 seconds to pass a man standing on the platform.

If the train is 180 m long, what is the length of the platform?

एक रेलगाड़ी को एक प्लेटफॉर्म पार करने में 45 सेकंड लगते हैं और प्लेटफॉर्म पर खड़े एक आदमी को पार करने में 30 सेकंड लगते हैं।

अगर रेलगाड़ी 180 मीटर लंबी है, तो प्लेटफॉर्म की लंबाई क्या है?

100 m

100 मीटर

90 m

90 मीटर

180 m

180 मीटर

150 m

150 मीटर

[Click Here to Challenge Question No.: 110](#)

Q.No: 110

X can complete a work in 2 days and Y in 4 days.

How long will it take them to finish the work if they work together?

X एक काम 2 दिन में पूरा कर सकता है और Y 4 दिन में।

अगर वे साथ मिलकर काम करें तो उन्हें काम पूरा करने में कितना समय लगेगा?

1/2 days

½ दिन

4/3 days

4/3 दिन

3/4 days

¾ दिन

4/7 days

4/7 दिन

[Click Here to Challenge Question No.: 111](#)

<https://sscstudy.com/>

Q.No: 111	<p>A small construction firm has 6 workers who can complete a road patching job in 8 days.</p> <p>If 4 more workers are added, how many days will they take to finish the same work?</p> <p>एक छोटी निर्माण फर्म में 6 कर्मचारी हैं जो सड़क की मरम्मत का काम 8 दिनों में पूरा कर सकते हैं।</p> <p>अगर 4 और कर्मचारी जोड़े जाएँ, तो उन्हें वही काम पूरा करने में कितने दिन लगेंगे?</p>	<a href="https://sscstudy.com/">https://sscstudy.com/</a>
	<p>7 days</p> <p>7 दिन</p>	
	<p>6.5 days</p> <p>6.5 दिन</p>	
	<p>5 days</p> <p>5 दिन</p>	
	<p>4.8 days</p> <p>4.8 दिन</p>	

[Click Here to Challenge Question No.: 112](#)

Q.No: 112	<p>5 men or 8 women can do a job in 12 days.</p> <p>In how many days will 10 men and 4 women together complete the same job?</p> <p>5 पुरुष या 8 महिलाएँ किसी काम को 12 दिन में पूरा कर सकते हैं।</p> <p>10 पुरुष और 4 महिलाएँ मिलकर उसी काम को कितने दिन में पूरा करेंगे?</p>	
	<p>4 days</p> <p>4 दिन</p>	
	<p>4.8 days</p> <p>4.8 दिन</p>	
	<p>5 days</p> <p>5 दिन</p>	
	<p>7.5 days</p> <p>7.5 दिन</p>	

[Click Here to Challenge Question No.: 113](#)

Q.No: 113	<p>If the ratio of the diameters of two spheres is 5:7, then what is the ratio of their surface areas?</p> <p>यदि दो गोलों के व्यासों का अनुपात 5:7 है, तो उनके पृष्ठीय क्षेत्रफलों का अनुपात क्या होगा?</p>	
	<p>25:47</p> <p>25:47</p>	
	<p>49:25</p> <p>49:25</p>	
	<p>25:48</p> <p>25:48</p>	
	<p>25:49</p> <p>25:49</p>	

[Click Here to Challenge Question No.: 114](#)

Q.No: 114	<p>Find the surface area of a rectangular parallelepiped with <math>l = 3</math> cm, <math>b = 2</math> cm, and <math>h = 4</math> cm.</p>	<a href="https://sscstudy.com/">https://sscstudy.com/</a>
-----------	--	---

	एक आयताकार समांतर चतुर्भुज का पृष्ठीय क्षेत्रफल ज्ञात कीजिए जिसमें $l = 3$ सेंटीमीटर, $b = 2$ सेंटीमीटर, तथा $h = 4$ सेंटीमीटर। <a href="https://sscstudy.com/">https://sscstudy.com/</a>
<input type="radio"/>	52 cm <sup>2</sup> 52 वर्ग सेंटीमीटर
<input type="radio"/>	48 cm <sup>2</sup> 48 वर्ग सेंटीमीटर
<input type="radio"/>	46 cm <sup>2</sup> 46 वर्ग सेंटीमीटर
<input type="radio"/>	56 cm <sup>2</sup> 56 वर्ग सेंटीमीटर

[Click Here to Challenge Question No.: 115](#)

Q.No: 115	In a rectangular parallelepiped, if $l = b = h$ , it is called a: एक आयताकार समांतर चतुर्भुज में, यदि $l = b = h$ , तो इसे क्या कहते हैं?
<input type="radio"/>	Prism प्रिज्म
<input checked="" type="radio"/>	Cube घन
<input type="radio"/>	Pyramid पिरामिड
<input type="radio"/>	Sphere गोला

[Click Here to Challenge Question No.: 116](#)

Q.No: 116	If a rectangular parallelepiped has volume 1020 cm <sup>3</sup> and dimensions 8 cm and 15 cm, find its height. यदि एक आयताकार समांतर चतुर्भुज का आयतन 1020 घन सेंटीमीटर तथा आयाम 8 सेंटीमीटर तथा 15 सेंटीमीटर हैं, तो इसकी ऊँचाई ज्ञात कीजिए।
<input type="radio"/>	8.6 cm 8.6 सेंटीमीटर
<input type="radio"/>	7.8 cm 7.8 सेंटीमीटर
<input type="radio"/>	7.5 cm 7.5 सेंटीमीटर
<input checked="" type="radio"/>	8.5 cm 8.5 सेंटीमीटर

[Click Here to Challenge Question No.: 117](#)

Q.No: 117	A spherical balloon has a radius of 8 cm. What is the ratio of the volume of the balloon to the volume of a smaller balloon with a radius of 4 cm? एक गोलाकार गुब्बारे की त्रिज्या 8 सेमी है। गुब्बारे के आयतन का 4 सेमी त्रिज्या वाले छोटे गुब्बारे के आयतन से अनुपात क्या है?
<input type="radio"/>	1:4 1:4
<input checked="" type="radio"/>	8:1 8:1
<input type="radio"/>	1:16 1:16

[Click Here to Challenge Question No.: 118](#)

Q.No: 118 The length of a cuboid is doubled, breadth halved, and height unchanged. How is the volume affected?

एक घनाभ की लंबाई दोगुनी, चौड़ाई आधी और ऊँचाई अपरिवर्तित कर दी जाती है। आयतन पर क्या प्रभाव पड़ेगा?

increases

बढ़ जाती है

decreases

कम हो जाती है

unchanged

अपरिवर्तित

cannot be determined

तय नहीं किया जा सकता

[Click Here to Challenge Question No.: 119](#)

Q.No: 119 A cone and hemisphere have equal curved surface areas and the same radius. What is the ratio of their heights?

एक शंकु और अर्धगोले का वक्र पृष्ठीय क्षेत्रफल बराबर है और त्रिज्या भी समान है। उनकी ऊँचाइयों का अनुपात क्या है?

 $\sqrt{3} : 1$  $\sqrt{3} : 1$  $\sqrt{3} : 2$  $\sqrt{3} : 2$  $\sqrt{5} : 1$  $\sqrt{5} : 1$  $\sqrt{5} : 2$  $\sqrt{5} : 2$ 

Not Answered

[Click Here to Challenge Question No.: 120](#)

Q.No: 120 A right prism has a trapezoidal base with parallel sides 5 cm and 9 cm, and height 6 cm. The height of the prism is 18 cm. What is the volume?

एक समकोण प्रिज्म का आधार समलम्ब चतुर्भुजाकार है और समलम्ब चतुर्भुज की समांतर भुजाएँ क्रमशः 5 सेंटीमीटर और 9 सेंटीमीटर हैं, तथा ऊँचाई 6 सेंटीमीटर है। प्रिज्म की ऊँचाई 18 सेंटीमीटर है। इसका आयतन क्या है?

 $360 \text{ cm}^3$ 

360 घन सेंटीमीटर

 $380 \text{ cm}^3$ 

380 घन सेंटीमीटर

 $400 \text{ cm}^3$ 

400 घन सेंटीमीटर

 $756 \text{ cm}^3$ 

756 घन सेंटीमीटर

Q.No: 121	Simplify: $(a + b)^2 - (a - b)^2$ सरल करें: $(a + b)^2 - (a - b)^2$
	3ab
	3ab
	ab
	ab
	2ab
	2ab
	4ab
	4ab

Q.No: 122	The value of $(a - b)(a + b) + (b - c)(b + c) + (c - a)(c + a)$ is: $(a - b)(a + b) + (b - c)(b + c) + (c - a)(c + a)$ का मान है:
	2a-3b
	2a-3b
	a-c
	a-c
	0
	0
	a-b
	a-b

Q.No: 123	A square pyramid has total surface area $576 \text{ cm}^2$ and base side 12 cm. What is its lateral area? एक वर्गाकार पिरामिड का कुल पृष्ठीय क्षेत्रफल $576$ वर्ग सेमी और आधार भुजा $12$ सेमी है। इसका पार्श्व क्षेत्रफल क्या है?
	$260 \text{ cm}^2$
	260 वर्ग सेमी
	$200 \text{ cm}^2$
	200 वर्ग सेमी
	$400 \text{ cm}^2$
	400 वर्ग सेमी
	$432 \text{ cm}^2$
	432 वर्ग सेमी

Not Answered

Q.No: 124	If $x = 2.5$ and $y = \frac{5}{8}$ , then $(x - y) \times 4 = ?$ अगर $x = 2.5$ और $y = \frac{5}{8}$ , तो $(x - y) \times 4 = ?$
-----------	--



	6
	6
	7.5
	7.5
	5
	5
	4
	4

[Click Here to Challenge Question No.: 125](#)

Q.No: 125	A water tank is filled $\frac{3}{8}th$ in 15 minutes. How long to fill the full tank? एक पानी की टंकी 15 मिनट में $\frac{3}{8}th$ भर जाती है। पूरी टंकी को भरने में कितना समय लगेगा?
	30 mins 30 मिनट
	35 mins 35 मिनट
	40 mins 40 मिनट
	45 min 45 मिनट

[Click Here to Challenge Question No.: 126](#)

Q.No: 126	If the exterior angle of a regular polygon is $45^\circ$ , how many diagonals does the polygon have? यदि एक नियमित बहुभुज का बाह्य कोण $45^\circ$ है, तो बहुभुज में कितने विकर्ण होंगे?
	20 20
	22 22
	23 23
	24 24

[Click Here to Challenge Question No.: 127](#)

Q.No: 127	In a regular polygon, the difference between each interior and exterior angle is $60^\circ$ . Determine the number of sides of the polygon. एक समबहुभुज में, प्रत्येक आंतरिक और बाह्य कोण के बीच का अंतर $60^\circ$ है। बहुभुज की भुजाओं की संख्या ज्ञात कीजिए।
	6 6
	7 7
	8 8
	9 9

[Click Here to Challenge Question No.: 128](#)

Q.No: 128 If a regular polygon has 35 diagonals, what is the measure of each of its interior angles?

यदि एक समबहुभुज में 35 विकर्ण हैं, तो उसके प्रत्येक आंतरिक कोण का माप क्या है?

144°

144°

154°

154°

164°

164°

174°

174°

[Click Here to Challenge Question No.: 129](#)

Q.No: 129 The square root of a number is increased by 40%, and the result is 21. Find the original number.

किसी संख्या का वर्गमूल 40% बढ़ा दिया गया, और परिणाम 21 आया। मूल संख्या ज्ञात करें।

225

225

256

256

324

324

400

400

[Click Here to Challenge Question No.: 130](#)

Q.No: 130 A triangle with area 100 m<sup>2</sup> has height double its base. What are its dimensions?

100 वर्ग मीटर क्षेत्रफल वाले एक त्रिभुज की ऊँचाई उसके आधार की दोगुनी है। इसकी विमाएँ क्या हैं?

base = 10 m, height = 20 m

आधार = 10 मीटर, ऊँचाई = 20 मीटर

base = 12.5 m, height = 25 m

आधार = 12.5 मीटर, ऊँचाई = 25 मीटर

base = 8 m, height = 16 m

आधार = 8 मीटर, ऊँचाई = 16 मीटर

base = 20 m, height = 40 m

आधार = 20 मीटर, ऊँचाई = 40 मीटर

[Click Here to Challenge Question No.: 131](#)

Q.No: 131 A triangular tent has two identical triangular side panels, each with a base of 6 meters and height of 5 meters. The fabric required includes 10% extra material for stitching and cuts. If the fabric costs ₹200 per square meter, what is the total cost of the fabric used for both panels?

एक त्रिकोणीय तंबू में दो समान त्रिकोणीय पार्श्व पैनल हैं, जिनमें से प्रत्येक का आधार 6 मीटर और ऊँचाई 5 मीटर है। आवश्यक कपड़े में सिलाई और कटाई के लिए 10% अतिरिक्त सामग्री शामिल है। यदि कपड़े की लागत ₹200 प्रति वर्ग मीटर है, तो दोनों पैनलों के लिए उपयोग किए गए कपड़े की कुल लागत क्या है?

	₹6,000
	₹6,000
	₹6,200
	₹6,200
	₹6,400
	₹6,400
	₹6,600
	₹6,600

[Click Here to Challenge Question No.: 132](#)

Q.No: 132	If the perimeter of a square is 25 cm, then how long is each side? यदि एक वर्ग का परिमाप 25 सेंटीमीटर है, तो प्रत्येक भुजा की लंबाई कितनी है?
	6.25 cm 6.25 सेंटीमीटर
	10 cm 10 सेंटीमीटर
	7.5 cm 7.5 सेंटीमीटर
	5 cm 5 सेंटीमीटर

[Click Here to Challenge Question No.: 133](#)

Q.No: 133	If the lengths of the diagonals of a rhombus are 12 cm and 16 cm, what is its area? यदि एक समचतुर्भुज के विकर्णों की लंबाई 12 सेंटीमीटर और 16 सेंटीमीटर है, तो इसका क्षेत्रफल क्या है?
	96 cm <sup>2</sup> 96 वर्ग सेंटीमीटर
	48 cm <sup>2</sup> 48 वर्ग सेंटीमीटर
	72 cm <sup>2</sup> 72 वर्ग सेंटीमीटर
	60 cm <sup>2</sup> 60 वर्ग सेंटीमीटर

[Click Here to Challenge Question No.: 134](#)

Q.No: 134	The area of a rhombus is 240 cm <sup>2</sup> , and one of its diagonals is 20 cm. Find the length of the other diagonal. एक समचतुर्भुज का क्षेत्रफल 240 वर्ग सेंटीमीटर है और इसका एक विकर्ण 20 सेंटीमीटर है। दूसरे विकर्ण की लंबाई ज्ञात कीजिए।
	30 cm 30 सेंटीमीटर
	28 cm 28 सेंटीमीटर
	24 cm 24 सेंटीमीटर

26 cm  
26 सेंटीमीटर

<https://sscstudy.com/>

[Click Here to Challenge Question No.: 135](#)

Q.No: 135	<p>A cylindrical rod with a volume of <math>75\pi \text{ cm}^3</math> is melted and recast into a hollow cylindrical pipe with an inner radius of 1 cm and outer radius of 2 cm. What will be the length of the new pipe?</p> <p>75<math>\pi</math> घन सेंटीमीटर आयतन वाली एक बेलनाकार छड़ को पिघलाकर 1 सेंटीमीटर की आंतरिक त्रिज्या और 2 सेंटीमीटर की बाह्य त्रिज्या वाले एक खोखले बेलनाकार पाइप में ढाला जाता है। नए पाइप की लंबाई क्या होगी?</p>
	30 cm 30 सेंटीमीटर
	32 cm 32 सेंटीमीटर
	35 cm 35 सेंटीमीटर
	25 cm 25 सेंटीमीटर

[Click Here to Challenge Question No.: 136](#)

Q.No: 136	<p>A trader buys an item at Rs. 500 and marks it up by 60%. If he then offers a 25% discount on the marked price, what is his profit percentage?</p> <p>एक व्यापारी एक वस्तु ₹500 में खरीदता है और उस पर 60% अधिक मूल्य अंकित करता है। अगर वह अंकित मूल्य पर 25% की छूट देता है, तो उसका लाभ प्रतिशत क्या है?</p>
	20% 20%
	25% 25%
	30% 30%
	35% 35%

[Click Here to Challenge Question No.: 137](#)

Q.No: 137	<p>A trader offers a 30% discount on the marked price and still makes a 5% profit. If the item costs him Rs. 2100, what is the marked price?</p> <p>एक व्यापारी अंकित मूल्य पर 30% की छूट देता है और फिर भी 5% का लाभ कमाता है। अगर वस्तु की कीमत 2100 रुपये है, तो अंकित मूल्य क्या है?</p>
	Rs. 3150 3150 रुपये
	Rs. 2850 2850 रुपये
	Rs. 3000 3000 रुपये
	Rs. 2800 2800 रुपये

<https://sscstudy.com/>

Q.No: 138	Convert $240^\circ$ to radians. 240° को रेडियन में बदलें।
	$4\pi/3$ $4\pi/3$
	$5\pi/6$ $5\pi/6$
	$\pi/2$ $\pi/2$
	$3\pi/2$ $3\pi/2$

Q.No: 139	One angle is 5 less than 3 times its complement. Find the angle. एक कोण अपने पूरक कोण के 3 गुने से 5 कम है। कोण ज्ञात कीजिए।
	66.25° 66.25°
	65° 65°
	68° 68°
	70° 70°

Not Answered

Q.No: 140	Convert $540^\circ$ to radians. 540° को रेडियन में बदलें।
	3π radians 3π रेडियन
	$3\pi/4$ $3\pi/4$ रेडियन
	1 radians 1 रेडियन
	2π radians. 2π रेडियन

Q.No: 141	A cylindrical container has a diameter of 14cm and a height of 10cm. How much water (in litres) can it hold? एक बेलनाकार बर्तन का व्यास 14 सेमी और ऊँचाई 10 सेमी है। इसमें कितना पानी (लीटर में) आ सकता है?
	1.40 L 1.40 लीटर

1.54 L  
1.54 लीटर

1.60 L  
1.60 लीटर

1.75 L  
1.75 लीटर

[Click Here to Challenge Question No.: 142](#)

Q.No: 142 A right rectangular prism has dimensions 10 cm × 6 cm × 8 cm. What is its total surface area?  
एक समकोण आयताकार प्रिज्म की विमाएँ 10 सेमी × 6 सेमी × 8 सेमी हैं। इसका कुल पृष्ठीय क्षेत्रफल क्या है?

360 cm<sup>2</sup>  
360 सेमी<sup>2</sup>

376 cm<sup>2</sup>  
376 सेमी<sup>2</sup>

400 cm<sup>2</sup>  
400 सेमी<sup>2</sup>

448 cm<sup>2</sup>  
448 सेमी<sup>2</sup>

[Click Here to Challenge Question No.: 143](#)

Q.No: 143 A, B and C can do a piece of work in 20, 30 and 50 days, respectively. In how many days can A do the work, if he is assisted by B and C on every second day?  
A, B और C एक काम को क्रमशः 20, 30 और 50 दिनों में पूरा कर सकते हैं। अगर B और C हर दूसरे दिन A की सहायता करते हैं, तो वह काम कितने दिनों में पूरा कर सकता है?

13 days  
13 दिन

19 days  
19 दिन

15 days  
15 दिन

21 days  
21 दिन

[Click Here to Challenge Question No.: 144](#)

Q.No: 144 If the radius of the circle is 3cm. What is the length of the longest chord of the circle?  
अगर वृत्त की त्रिज्या 3 सेमी है, तो वृत्त की सबसे लंबी जीवा की लंबाई क्या है?

3 cm  
3 सेमी

6 cm  
6 सेमी

9 cm  
9 सेमी

12 cm  
12 सेमी

[Click Here to Challenge Question No.: 145](#)

Q.No: 145	Find the total surface area of a solid hemisphere whose radius is 10 cm. एक ठोस अर्धगोले का सम्पूर्ण पृष्ठीय क्षेत्रफल ज्ञात कीजिए जिसकी त्रिज्या 10 सेंटीमीटर है।
<input checked="" type="radio"/>	942 $cm^2$ 942 वर्ग सेंटीमीटर
<input type="radio"/>	842 $cm^2$ 842 वर्ग सेंटीमीटर
<input type="radio"/>	954 $cm^2$ 954 वर्ग सेंटीमीटर
<input type="radio"/>	865 $cm^2$ 865 वर्ग सेंटीमीटर

[Click Here to Challenge Question No.: 146](#)

Q.No: 146	A square pyramid has a base of side 14 cm. If the slant height from the apex to the center of one of the base edges is 17 cm, find the vertical height of the pyramid. एक वर्गाकार पिरामिड का आधार 14 सेंटीमीटर भुजा वाला है। यदि आधार के शीर्ष से किसी एक किनारे के केंद्र तक की तिर्यक ऊँचाई 17 सेंटीमीटर है, तो पिरामिड की ऊर्ध्वाधर ऊँचाई ज्ञात कीजिए।
<input type="radio"/>	14.49 cm 14.49 सेंटीमीटर
<input type="radio"/>	13.49 cm 13.49 सेंटीमीटर
<input type="radio"/>	16.49 cm 16.49 सेंटीमीटर
<input checked="" type="radio"/>	15.49 cm 15.49 सेंटीमीटर

Not Answered

[Click Here to Challenge Question No.: 147](#)

Q.No: 147	If the volume of a cone is 9856 $cm^3$ and the diameter of its base is 14 cm, what is the height of the cone? यदि एक शंकु का आयतन 9856 घन सेंटीमीटर है और इसके आधार का व्यास 14 सेंटीमीटर है, तो शंकु की ऊँचाई क्या है?
<input type="radio"/>	152 cm 152 सेंटीमीटर
<input type="radio"/>	165 cm 165 सेंटीमीटर
<input checked="" type="radio"/>	192 cm 192 सेंटीमीटर
<input type="radio"/>	265 cm 265 सेंटीमीटर

[Click Here to Challenge Question No.: 148](#)

Q.No: 148	If the centroid of a triangle is (5,5) and two vertices are (2,3) and (4,7), the third vertex is: अगर किसी त्रिभुज का केन्द्रक (5,5) है और दो शीर्ष (2,3) और (4,7) हैं, तो तीसरा शीर्ष है:	<a href="https://sscstudy.com/">https://sscstudy.com/</a>
	(5,9)	
	(5,9)	
	(9,5)	
	(9,5)	
	(7,5)	
	(7,5)	
	(5,7)	
	(5,7)	

[Click Here to Challenge Question No.: 149](#)

Q.No: 149	Two circles of radii 12.5 cm and 7.5 cm are concentric. The length of a chord of the outer circle which touches the inner circle is 12.5 सेमी और 7.5 सेमी त्रिज्याओं वाले दो वृत्त संकेन्द्रित हैं। बाहरी वृत्त की एक जीवा की लंबाई, जो आंतरिक वृत्त को स्पर्श करती है, है
	16 cm 16 सेमी
	18 cm 18 सेमी
	20 cm 20 सेमी
	22 cm 22 सेमी

[Click Here to Challenge Question No.: 150](#)

Q.No: 150	The exterior angles of a triangle are given as $2x$ , $3x$ , and $4x$ . What is the measure of the triangle's smallest interior angle? एक त्रिभुज के बाह्य कोण $2x$ , $3x$ और $4x$ दिए गए हैं। त्रिभुज के सबसे छोटे आंतरिक कोण का माप क्या है?
	$100^\circ$ $100^\circ$
	$80^\circ$ $80^\circ$
	$40^\circ$ $40^\circ$
	$20^\circ$ $20^\circ$





## CANDIDATE RESPONSE SHEET/GRIEVANCE SYSTEM

[View Your Responses](#)[Click Here to View Grievance Questions](#)Admin logged in. [ [Logout](#) ]

Roll No.

Exam Level

: 

Test Date

: 12 Dec 2025

Test Time and Shift

: 10:00 AM (Shift-1)

Correct Option selected

Wrong Option selected

Correct Option

Not Answered

[Save / Print](#)**Undertaking by the candidate :**

I acknowledge that this saved question paper is for my personal use and self-analysis only. I understand that sharing, distributing, or using it for commercial or any other purposes is strictly prohibited and may lead to legal action as per applicable acts, rules and regulations.

**Note:**

The candidates may note that in the challenge module the sequence of the questions and the options may be different from how it appeared during the examination. This is because in the challenge module the sequence of the questions as well as the answers will be the same for all the candidates who appeared in a particular shift while during the actual examination these sequences were different for different candidates. However the answer key selected by the candidates during the examination will exactly be reflected in the challenge module.

[Click Here for PART-A](#)[Click Here for PART-B](#)[Click Here for PART-C](#)[Click Here for PART-D](#)**PART-D (English Comprehension)**[Click Here to Challenge Question No.: 151](#)

Q.No: 151 Identify the correct spelling of the misspelled word.

☒ necessary☐ neccessary☐ nessessary☐ neccesary[Click Here to Challenge Question No.: 152](#)

Q.No: 152 Identify the correct spelling of the misspelled word.

☒ committee☐ commitee☐ commite

[Click Here to Challenge Question No.: 153](#)

Q.No: 153 Select the most appropriate option to fill in the blank.

I can't believe you \_\_\_\_\_ that old trick!

☒ fell for

☐ looked up

☐ took after

☐ came across
[Click Here to Challenge Question No.: 154](#)

Q.No: 154 Read the passage and answer the questions:

Once relegated to the peripheries of legitimate professional discourse, **YouTube content creation** has metamorphosed into a formidable and highly nuanced career avenue. Far beyond the superficial glitz of viral videos, contemporary content creators must navigate a labyrinthine ecosystem encompassing algorithmic unpredictability, audience analytics, intellectual property considerations, and brand partnership intricacies.

The platform's democratized nature ostensibly offers an egalitarian promise — anyone with a camera and an idea can, theoretically, ascend to prominence. However, the reality is far more Darwinian. Success on YouTube today demands not only creative ingenuity but also a keen acumen in digital marketing, search engine optimization (SEO), and an ever-evolving understanding of platform-specific trends. Consistency in output, meticulous engagement with viewer communities, and adaptability to sudden policy shifts have become indispensable skills.

Moreover, the psychological ramifications of tethering one's livelihood to fluctuating view counts and algorithmic favor should not be underestimated. Burnout, imposter syndrome, and a precarious sense of self-worth plague many full-time creators. Unlike traditional careers, YouTube offers no institutional safety nets; creators must independently negotiate contracts, secure health benefits, and plan for financial volatility.

Nonetheless, for those who can master this digital alchemy, the rewards are substantial — both financially and creatively. The platform enables unparalleled autonomy, offering a direct conduit between creator and audience, unmediated by corporate gatekeepers. In an era increasingly defined by the decentralization of media, YouTube content creation is not merely a trend but a harbinger of the future of work.

Identify the grammatical function of the phrase "offering a direct conduit between creator and audience" in the sentence:

"The platform enables unparalleled autonomy, offering a direct conduit between creator and audience, unmediated by corporate gatekeepers."

☐ Adjective Phrase

☒ Present participial phrase functioning as an adverb

☐ Noun phrase acting as an object

☐ Absolute phrase modifying the subject

Not Answered

[Click Here to Challenge Question No.: 155](#)

Q.No: 155	<p>Read the passage and answer the questions:</p> <p>Once relegated to the peripheries of legitimate professional discourse, <b>YouTube content creation</b> has metamorphosed into a formidable and highly nuanced career avenue. Far beyond the superficial glitz of viral videos, contemporary content creators must navigate a labyrinthine ecosystem encompassing algorithmic unpredictability, audience analytics, intellectual property considerations, and brand partnership intricacies.</p> <p>The platform's democratized nature ostensibly offers an egalitarian promise — anyone with a camera and an idea can, theoretically, ascend to prominence. However, the reality is far more Darwinian. Success on YouTube today demands not only creative ingenuity but also a keen acumen in digital marketing, search engine optimization (SEO), and an ever-evolving understanding of platform-specific trends. Consistency in output, meticulous engagement with viewer communities, and adaptability to sudden policy shifts have become indispensable skills.</p> <p>Moreover, the psychological ramifications of tethering one's livelihood to fluctuating view counts and algorithmic favor should not be underestimated. Burnout, imposter syndrome, and a precarious sense of self-worth plague many full-time creators. Unlike traditional careers, YouTube offers no institutional safety nets; creators must independently negotiate contracts, secure health benefits, and plan for financial volatility.</p> <p>Nonetheless, for those who can master this digital alchemy, the rewards are substantial — both financially and creatively. The platform enables unparalleled autonomy, offering a direct conduit between creator and audience, unmediated by corporate gatekeepers. In an era increasingly defined by the decentralization of media, YouTube content creation is not merely a trend but a harbinger of the future of work.</p> <p>In the sentence</p> <p>"Far beyond the superficial glitz of viral videos, contemporary content creators must navigate a labyrinthine ecosystem encompassing algorithmic unpredictability..."</p> <p>What is the function of the introductory phrase "<b>Far beyond the superficial glitz of viral videos</b>"?</p>
	Appositive phrase
	Adverbial phrase modifying "navigate"
	Prepositional phrase functioning as a noun
	Absolute phrase with implied verb
Not Answered	

[Click Here to Challenge Question No.: 156](#)

Q.No: 156	<p>Read the passage and answer the questions:</p> <p>Once relegated to the peripheries of legitimate professional discourse, <b>YouTube content creation</b> has metamorphosed into a formidable and highly nuanced career avenue. Far beyond the superficial glitz of viral videos, contemporary content creators must navigate a labyrinthine ecosystem encompassing algorithmic unpredictability, audience analytics, intellectual property considerations, and brand partnership intricacies.</p> <p>The platform's democratized nature ostensibly offers an egalitarian promise — anyone with a camera and an idea can, theoretically, ascend to prominence. However, the reality is far more Darwinian. Success on YouTube today demands not only creative ingenuity but also a keen acumen in digital marketing, search engine optimization (SEO), and an ever-evolving understanding of platform-specific trends. Consistency in output, meticulous engagement with viewer communities, and adaptability to sudden policy shifts have become indispensable skills.</p> <p>Moreover, the psychological ramifications of tethering one's livelihood to fluctuating view counts and algorithmic favor should not be underestimated. Burnout, imposter syndrome, and a precarious sense of self-worth plague many full-time creators. Unlike traditional careers, YouTube offers no institutional safety nets; creators must independently negotiate contracts, secure health benefits, and plan for financial volatility.</p> <p>Nonetheless, for those who can master this digital alchemy, the rewards are substantial — both financially and creatively. The platform enables unparalleled autonomy, offering a direct conduit between creator and audience, unmediated by corporate gatekeepers. In an era increasingly defined by the decentralization of media, YouTube content creation is not merely a trend but a harbinger of the future of work.</p> <p>What is the closest meaning of the word "labyrinthine" as used in the passage?</p>
	Superficial and obvious
	Mysterious and confusingly complex



[Click Here to Challenge Question No.: 157](#)

Q.No: 157 Read the passage and answer the questions:

Once relegated to the peripheries of legitimate professional discourse, **YouTube content creation** has metamorphosed into a formidable and highly nuanced career avenue. Far beyond the superficial glitz of viral videos, contemporary content creators must navigate a labyrinthine ecosystem encompassing algorithmic unpredictability, audience analytics, intellectual property considerations, and brand partnership intricacies.

The platform's democratized nature ostensibly offers an egalitarian promise — anyone with a camera and an idea can, theoretically, ascend to prominence. However, the reality is far more Darwinian. Success on YouTube today demands not only creative ingenuity but also a keen acumen in digital marketing, search engine optimization (SEO), and an ever-evolving understanding of platform-specific trends. Consistency in output, meticulous engagement with viewer communities, and adaptability to sudden policy shifts have become indispensable skills.

Moreover, the psychological ramifications of tethering one's livelihood to fluctuating view counts and algorithmic favor should not be underestimated. Burnout, imposter syndrome, and a precarious sense of self-worth plague many full-time creators. Unlike traditional careers, YouTube offers no institutional safety nets; creators must independently negotiate contracts, secure health benefits, and plan for financial volatility.

Nonetheless, for those who can master this digital alchemy, the rewards are substantial — both financially and creatively. The platform enables unparalleled autonomy, offering a direct conduit between creator and audience, unmediated by corporate gatekeepers. In an era increasingly defined by the decentralization of media, YouTube content creation is not merely a trend but a harbinger of the future of work.

Choose the most appropriate antonym for the word "harbinger" as used in the last line of the passage.

Catalyst

Precursor

Follower

Trailblazer

[Click Here to Challenge Question No.: 158](#)

Q.No: 158 Read the passage and answer the questions:

Once relegated to the peripheries of legitimate professional discourse, **YouTube content creation** has metamorphosed into a formidable and highly nuanced career avenue. Far beyond the superficial glitz of viral videos, contemporary content creators must navigate a labyrinthine ecosystem encompassing algorithmic unpredictability, audience analytics, intellectual property considerations, and brand partnership intricacies.

The platform's democratized nature ostensibly offers an egalitarian promise — anyone with a camera and an idea can, theoretically, ascend to prominence. However, the reality is far more Darwinian. Success on YouTube today demands not only creative ingenuity but also a keen acumen in digital marketing, search engine optimization (SEO), and an ever-evolving understanding of platform-specific trends. Consistency in output, meticulous engagement with viewer communities, and adaptability to sudden policy shifts have become indispensable skills.

Moreover, the psychological ramifications of tethering one's livelihood to fluctuating view counts and algorithmic favor should not be underestimated. Burnout, imposter syndrome, and a precarious sense of self-worth plague many full-time creators. Unlike traditional careers, YouTube offers no institutional safety nets; creators must independently negotiate contracts, secure health benefits, and plan for financial volatility.

Nonetheless, for those who can master this digital alchemy, the rewards are substantial — both financially and creatively. The platform enables unparalleled autonomy, offering a direct conduit between creator and audience, unmediated by corporate gatekeepers. In an era increasingly defined by the decentralization of media, YouTube content creation is not merely a trend but a harbinger of the future of work.

Which of the following best captures the primary tension described in the passage?

The tension between traditional media and decentralized platforms

	The tension between the glamorized perception of content creation and its actual challenges	<a href="https://sscstudy.com/">https://sscstudy.com/</a>
	The tension between corporate sponsorships and independent artistry	
	The tension between financial rewards and creative compromises	

<a href="#">Click Here to Challenge Question No.: 159</a>		
Q.No: 159	Choose the correct synonym for the word 'quarrel'	
	Barrel	
	Feud	
	Attack	
	Delusion	

<a href="#">Click Here to Challenge Question No.: 160</a>		
Q.No: 160	Select the correct passive form of the given sentence. Who tore the window curtains ?	
	By whom were the window curtains torn ?	
	By whom are the window curtains torn?	
	By whom were the window curtains tore?	
	By whom were the window curtains teared?	

<a href="#">Click Here to Challenge Question No.: 161</a>		
Q.No: 161	Select the correct Passive form of the given sentence. When will the manager attend the programme?	
	When will the programme be attended by the manager?	
	When would the programme be attended by the manager?	
	When can the programme be attended by the manager?	
	When should the programme be attended by the manager?	

<a href="#">Click Here to Challenge Question No.: 162</a>		
Q.No: 162	Someone who donates his money to the society as welfare is called.	
	Philanthropist	
	Capitalist	

	Donation	<a href="https://sscstudy.com/">https://sscstudy.com/</a>
	Honorary	

[Click Here to Challenge Question No.: 163](#)

Q.No: 163	What does the term property inherited from one's father or ancestors is called?
<input checked="" type="checkbox"/>	Patrimony
<input type="checkbox"/>	Manuscript
<input type="checkbox"/>	Forgery
<input type="checkbox"/>	Obsolete

[Click Here to Challenge Question No.: 164](#)

Q.No: 164	When someone used the fictitious name instead of his own name especially in writing is called?
<input checked="" type="checkbox"/>	Pseudonym
<input type="checkbox"/>	Manuscript
<input type="checkbox"/>	Omniscient
<input type="checkbox"/>	Ambidextrous

[Click Here to Challenge Question No.: 165](#)

Q.No: 165	Choose the word that means the same as "Puzzle".
<input checked="" type="checkbox"/>	Paradox
<input type="checkbox"/>	Paradise
<input type="checkbox"/>	Question
<input type="checkbox"/>	Challenge

[Click Here to Challenge Question No.: 166](#)

Q.No: 166	Choose the word that means the same as "Tremble".
<input checked="" type="checkbox"/>	Quiver
<input type="checkbox"/>	Infatuation
<input type="checkbox"/>	Grandeur
<input type="checkbox"/>	Paradox

[Click Here to Challenge Question No.: 167](#)

Q.No: 167 Choose the word that is opposite in meaning to the given word "Dependence".

☒ Autonomy☐ Slavery☐ Subordinate☐ Submissiveness[Click Here to Challenge Question No.: 168](#)

Q.No: 168 Choose the word that is opposite in meaning to the given word "Interesting".

☒ Monotonous☐ Terrible☐ Terrifying☐ Disastrous[Click Here to Challenge Question No.: 169](#)

Q.No: 169 Choose the word that is opposite in meaning to the given word "Degenerate".

☒ Flourish☐ Perish☐ Dismiss☐ Decay[Click Here to Challenge Question No.: 170](#)

Q.No: 170 Which sentence uses "borne" correctly?

☒ The cost was borne by the company.☐ She was borne in 2001.☐ He has borne arms for years.☐ The queen has born two sons.[Click Here to Challenge Question No.: 171](#)

Q.No: 171	What is the meaning of "bat" in: "The bat flew silently in the night sky."	<a href="https://sscstudy.com/">https://sscstudy.com/</a>
	A flying mammal	
	A sports tool	
	A stick	
	A butterfly	

[Click Here to Challenge Question No.: 172](#)

Q.No: 172	In the following, there are four different words, out of which only one word is correctly spelt. Find the correctly spelt word.
	Enigmatic
	Magnitic
	Autometic
	Puzling

[Click Here to Challenge Question No.: 173](#)

Q.No: 173	In the following, there are four different words, out of which only one word is correctly spelt. Find the correctly spelt word.
	Coddle
	Hudle
	Satisfes
	Protecat

[Click Here to Challenge Question No.: 174](#)

Q.No: 174	Direction: Identify the segment that contains a grammatical error. Pushpa is (A)/knows all (B)/the facts about (C)/the indicent (D).
	knows all (B)
	Pushpa is (A)
	the facts about (C)
	the indicent (D)

[Click Here to Challenge Question No.: 175](#)

Q.No: 175	Direction: Identify the segment that contains a grammatical error. This is the man(A) / who I think (B)/ had stolen the bag(C)/ in the train(D).
-----------	--



who I think (B)

This is the man(A)

had stolen the bag(C)

in the train(D)

[Click Here to Challenge Question No.: 176](#)

Q.No: 176 Direction: Identify the segment that contains a grammatical error. The rose tried (A)/to movethem (B)/roots away(C)/ from the cactus(D).

to movethem (B)

from the cactus(D)

roots away(C)

The rose tried (A)

[Click Here to Challenge Question No.: 177](#)

Q.No: 177 Select the most appropriate option to fill in the blanks: A lamb was grazing with ----- sheep one day.

a flock of

a grouo of

a mob of

a number of

[Click Here to Challenge Question No.: 178](#)

Q.No: 178 Select the most appropriate option to fill in the blanks: I -----you to plant the seed, water it and come back here.

want

wants

wanting

win

[Click Here to Challenge Question No.: 179](#)

Q.No: 179 Select the most appropriate option to fill in the blanks: He just kept waiting for his seed to-----.

grow

growing

	grows	<a href="https://sscstudy.com/">https://sscstudy.com/</a>
	is grew	

[Click Here to Challenge Question No.: 180](#)

Q.No: 180	Select the most appropriate option to substitute the underlined segment in the given sentence. He <u>returns</u> and diligently pursued knowledge.
<input checked="" type="checkbox"/>	returned
<input type="checkbox"/>	returning
<input type="checkbox"/>	will returning
<input type="checkbox"/>	can return

[Click Here to Challenge Question No.: 181](#)

Q.No: 181	Select the most appropriate option to substitute the underlined segment in the given sentence: There are <u>not lessing</u> than a hundred students in this school.
<input type="checkbox"/>	no less
<input type="checkbox"/>	no fewer
<input checked="" type="checkbox"/>	not less
<input type="checkbox"/>	only less

[Click Here to Challenge Question No.: 182](#)

Q.No: 182	<p>Read the passage below and choose the correct word for each blank.</p> <p>Cultural heritage reflects the values, traditions, and achievements of a community passed down through generations. It includes monuments, festivals, languages, art, and even traditional knowledge. Preserving heritage is essential, as it helps people stay (1)_____ to their roots and identity. However, modernization and urban development often lead to the neglect or destruction of historical sites. Many ancient structures are left unattended, while some cultural practices are forgotten. Governments and citizens must take joint (2)_____ to protect such legacies. Promoting local art, restoring monuments, and teaching indigenous history in schools are effective ways to keep heritage alive. Tourists should also behave (3)_____ when visiting culturally sensitive locations. Heritage preservation is not only about remembering the past, but also about inspiring future generations with a sense of (4)_____ and continuity. Losing heritage means losing the story of a people, and that is a loss that cannot be easily (5)_____.</p> <p>(1)</p>
<input type="checkbox"/>	restricted
<input checked="" type="checkbox"/>	connected
<input type="checkbox"/>	opposed
<input type="checkbox"/>	delayed

Q.No: 183 Read the passage below and choose the correct word for each blank.

Cultural heritage reflects the values, traditions, and achievements of a community passed down through generations. It includes monuments, festivals, languages, art, and even traditional knowledge. Preserving heritage is essential, as it helps people stay (1)\_\_\_\_\_ to their roots and identity. However, modernization and urban development often lead to the neglect or destruction of historical sites. Many ancient structures are left unattended, while some cultural practices are forgotten. Governments and citizens must take joint (2)\_\_\_\_\_ to protect such legacies. Promoting local art, restoring monuments, and teaching indigenous history in schools are effective ways to keep heritage alive. Tourists should also behave (3)\_\_\_\_\_ when visiting culturally sensitive locations. Heritage preservation is not only about remembering the past, but also about inspiring future generations with a sense of (4)\_\_\_\_\_ and continuity. Losing heritage means losing the story of a people, and that is a loss that cannot be easily (5)\_\_\_\_\_.

(2)

☒ measures

☐ statements

☐ complaints

☐ greetings

[Click Here to Challenge Question No.: 184](#)

Q.No: 184 Read the passage below and choose the correct word for each blank.

Cultural heritage reflects the values, traditions, and achievements of a community passed down through generations. It includes monuments, festivals, languages, art, and even traditional knowledge. Preserving heritage is essential, as it helps people stay (1)\_\_\_\_\_ to their roots and identity. However, modernization and urban development often lead to the neglect or destruction of historical sites. Many ancient structures are left unattended, while some cultural practices are forgotten. Governments and citizens must take joint (2)\_\_\_\_\_ to protect such legacies. Promoting local art, restoring monuments, and teaching indigenous history in schools are effective ways to keep heritage alive. Tourists should also behave (3)\_\_\_\_\_ when visiting culturally sensitive locations. Heritage preservation is not only about remembering the past, but also about inspiring future generations with a sense of (4)\_\_\_\_\_ and continuity. Losing heritage means losing the story of a people, and that is a loss that cannot be easily (5)\_\_\_\_\_.

(3)

☐ casually

☐ kindly

☒ responsibly

☐ formally

[Click Here to Challenge Question No.: 185](#)

Q.No: 185 Read the passage below and choose the correct word for each blank.

Cultural heritage reflects the values, traditions, and achievements of a community passed down through generations. It includes monuments, festivals, languages, art, and even traditional knowledge. Preserving heritage is essential, as it helps people stay (1)\_\_\_\_\_ to their roots and identity. However, modernization and urban development often lead to the neglect or destruction of historical sites. Many ancient structures are left unattended, while some cultural practices are forgotten. Governments and citizens must take joint (2)\_\_\_\_\_ to protect such legacies. Promoting local art, restoring monuments, and teaching indigenous history in schools are effective ways to keep heritage alive. Tourists should also behave (3)\_\_\_\_\_ when visiting culturally sensitive locations. Heritage preservation is not only about remembering the past, but also about inspiring future generations with a sense of (4)\_\_\_\_\_ and continuity. Losing heritage means losing the story of a people, and that is a loss that cannot be easily (5)\_\_\_\_\_.

(4)

regret

pride

authority

panic

[Click Here to Challenge Question No.: 186](#)

Q.No: 186 Read the passage below and choose the correct word for each blank.

Cultural heritage reflects the values, traditions, and achievements of a community passed down through generations. It includes monuments, festivals, languages, art, and even traditional knowledge. Preserving heritage is essential, as it helps people stay (1)\_\_\_\_\_ to their roots and identity. However, modernization and urban development often lead to the neglect or destruction of historical sites. Many ancient structures are left unattended, while some cultural practices are forgotten. Governments and citizens must take joint (2)\_\_\_\_\_ to protect such legacies. Promoting local art, restoring monuments, and teaching indigenous history in schools are effective ways to keep heritage alive. Tourists should also behave (3)\_\_\_\_\_ when visiting culturally sensitive locations. Heritage preservation is not only about remembering the past, but also about inspiring future generations with a sense of (4)\_\_\_\_\_ and continuity. Losing heritage means losing the story of a people, and that is a loss that cannot be easily (5)\_\_\_\_\_.

(5)

created

reversed

replaced

blamed

[Click Here to Challenge Question No.: 187](#)Q.No: 187 Choose the correct Active Voice form of the given sentence:  
The prize will be given by the judge.

The judge gives the prize.

The judge is giving the prize.

The judge will give the prize.

The prize gives the judge.

[Click Here to Challenge Question No.: 188](#)

Q.No: 188	Choose the correct direct sentence of the following sentence. The scientist said that the results had been surprising.
<input type="radio"/>	The scientist said, "The results have been surprising."
<input checked="" type="radio"/>	The scientist said, "The results had been surprising."
<input type="radio"/>	The scientist said, "The results are surprising."
<input type="radio"/>	The scientist said, "The results were surprising."

[Click Here to Challenge Question No.: 189](#)

Q.No: 189	Choose the correct direct sentence of the following sentence. He said that she had been trying to reach him for several days.
<input type="radio"/>	He said, "She has been trying to reach me for several days."
<input checked="" type="radio"/>	He said, "She had been trying to reach me for several days."
<input type="radio"/>	He said, "She was trying to reach me for several days."
<input type="radio"/>	He said, "She is trying to reach me for several days."

[Click Here to Challenge Question No.: 190](#)

Q.No: 190	Choose the correct Active Voice form of the given sentence: The roof had been painted by the workers before the rain started.
<input type="radio"/>	The workers painted the roof before the rain started.
<input checked="" type="radio"/>	The workers had painted the roof before the rain started.
<input type="radio"/>	The roof paints the workers before the rain started.
<input type="radio"/>	The workers were painting the roof before the rain started.

[Click Here to Challenge Question No.: 191](#)

Q.No: 191	Choose the correct option to rearrange the following sentences to form a coherent paragraph: A. The old watch ticked steadily on the shelf. B. It had survived generations of owners. C. Each scratch and dent told a different story. D. Time seemed frozen around it.
<input checked="" type="radio"/>	A B C D
<input type="radio"/>	B A D C
<input type="radio"/>	A C B D

[Click Here to Challenge Question No.: 192](#)

- Q.No: 192 Choose the correct option to rearrange the following sentences:
- A. The technician stared at the blinking server lights.
  - B. The system had crashed at the worst possible time.
  - C. Every second meant thousands in losses.
  - D. But panic wouldn't help now.

B C A D

A B C D

B A C D

A C B D

[Click Here to Challenge Question No.: 193](#)

- Q.No: 193 Choose the correct option to rearrange the following sentences:
- A. Every theory he proposed was dismissed as radical.
  - B. But centuries later, his equations solved modern problems.
  - C. He died penniless, never knowing his genius was real.
  - D. Time sometimes takes too long to apologize.

A C B D

C A B D

A B C D

D A C B

[Click Here to Challenge Question No.: 194](#)

- Q.No: 194 Choose the meaning of the idiom 'call it a day' in the sentence:  
Let's call it a day and resume work tomorrow.

Go for lunch

Stop working for the day

Make a phone call

Start the project

[Click Here to Challenge Question No.: 195](#)

- Q.No: 195 Choose the right meaning of the idiom 'take with a grain of salt' in the sentence:  
You should take his claims with a grain of salt.

Believe fully



	Ignore it completely	<a href="https://sscstudy.com/">https://sscstudy.com/</a>
	Accept with doubt	
	Add salt to it	

<a href="#">Click Here to Challenge Question No.: 196</a>		
Q.No: 196	Choose the correct meaning of the idiom 'play it by ear' in the sentence: We don't have a fixed plan—let's play it by ear.	
	Use a musical approach	
	Act spontaneously without planning	
	Misunderstand instructions	
	Avoid taking action	

<a href="#">Click Here to Challenge Question No.: 197</a>		
Q.No: 197	Choose the correct meaning of the idiom 'off one's rocker' in the sentence: Anyone who quits this job without a backup must be off their rocker.	
	Mentally unstable or irrational	
	Physically tired	
	Ready to retire	
	Emotionally strong	

<a href="#">Click Here to Challenge Question No.: 198</a>		
Q.No: 198	Choose the correct indirect speech of the sentence: The general said, "May our nation always remain free."	
	The general said our nation may always remain free.	
	The general expressed the wish that their nation might always remain free.	
	The general hoped that his nation will remain free.	
	The general wished the nation would stay free.	

<a href="#">Click Here to Challenge Question No.: 199</a>		
Q.No: 199	Choose the correct indirect speech of the sentence: He said to his brother, "Please stop playing loud music."	
	He requested his brother to stop playing loud music.	

	He asked his brother please to stop loud music.	<a href="https://sscstudy.com/">https://sscstudy.com/</a>
	He said his brother to stop playing music.	
	He told his brother that please stop the music.	

			<a href="#">Click Here to Challenge Question No.: 200</a>
Q.No: 200	Choose the most suitable option to replace the highlighted part of the sentence: The doctor advised <b>that he takes rest</b> .		
	that he rested		
	for him to take rest		
	that he take rest		
	that he should took rest		