



CANDIDATE RESPONSE SHEET/GRIEVANCE SYSTEM

[View Your Responses](#)[Click Here to View Grievance Questions](#)Admin loggedin.[[Logout](#)]

Roll No.

Exam Level

:

Test Date

: 12 Dec 2025

Test Time and Shift

: 03:00 PM (Shift-2)

[Correct Option selected](#) [Wrong Option selected](#) [Correct Option](#) [Not Answered](#)[Save / Print](#)[Click Here for PART-A](#)[Click Here for PART-B](#)[Click Here for PART-C](#)[Click Here for PART-D](#)

PART-A (General Intelligence and Reasoning)

[Click Here to Challenge Question No.: 1](#)

Q.No: 1	Choose the address that is the same as the one given below. Sample Address:Flat C-3, Phase 2,Golden Homes, Navi Mumbai,Maharashtra - 410210 वह पता चुनें जो नीचे दिए गए पते के समान हो। Sample Address:Flat C-3, Phase 2,Golden Homes, Navi Mumbai,Maharashtra - 410210
	Flat C3, Phase 2, Golden Homes, Navi Mumbai, Maharashtra - 410210 Flat C3, Phase 2, Golden Homes, Navi Mumbai, Maharashtra - 410210
	Flat C-3, Phase 2, Golden Homes, Navi Mumbai, Maharashtra - 410210 Flat C-3, Phase 2, Golden Homes, Navi Mumbai, Maharashtra - 410210
	Flat C-3, Phase II, Golden Homes, Navi Mumbai, Maharashtra - 410210 Flat C-3, Phase II, Golden Homes, Navi Mumbai, Maharashtra - 410210
	Flat C-3, Phase 2, Golden Home, Navi Mumbai, Maharashtra - 410210 Flat C-3, Phase 2, Golden Home, Navi Mumbai, Maharashtra - 410210

[Click Here to Challenge Question No.: 2](#)

Q.No: 2	Solve: $324 \div 18 \times 2 + 15 - ? = 36$
---------	--

हल करें:
 $324 \div 18 \times 2 + 15 - ? = 36$

<https://sscstudy.com/>

12

12

9

9

54

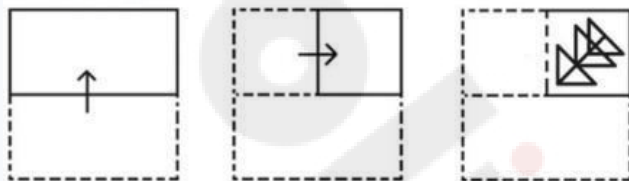
54

15

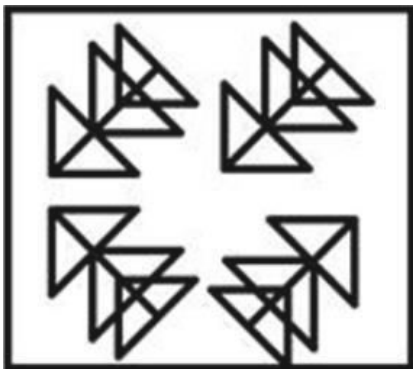
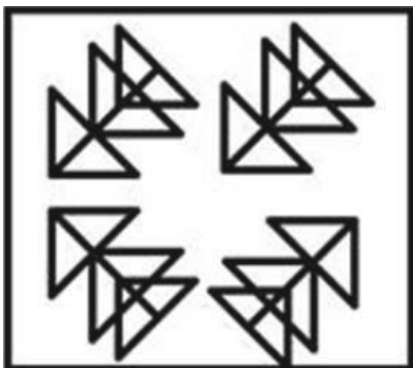
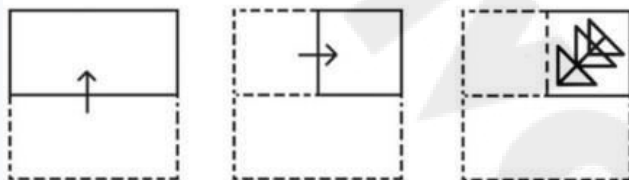
15

[Click Here to Challenge Question No.: 3](#)



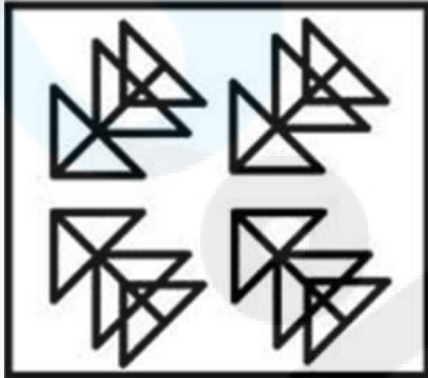
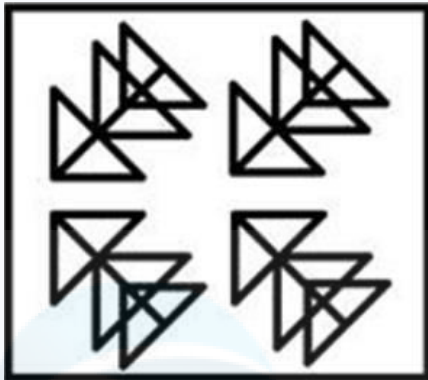
Q.No: 3 A paper is folded and cut as shown in the following figures. How will it appear when unfolded?

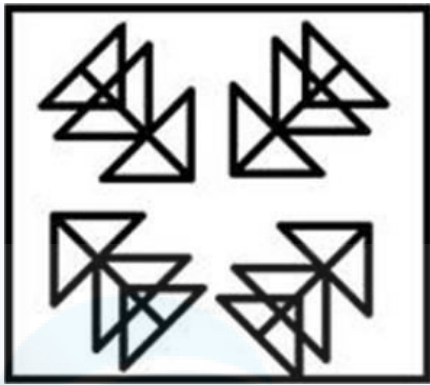


एक कागज़ को मोड़कर काटा गया है जैसा कि नीचे दी गई आकृति में दिखाया गया है। खोलने पर यह कैसा दिखाई देगा?



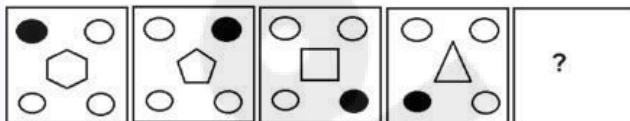
<https://sscstudy.com/>



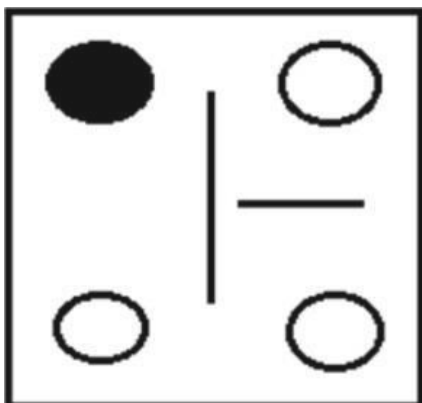
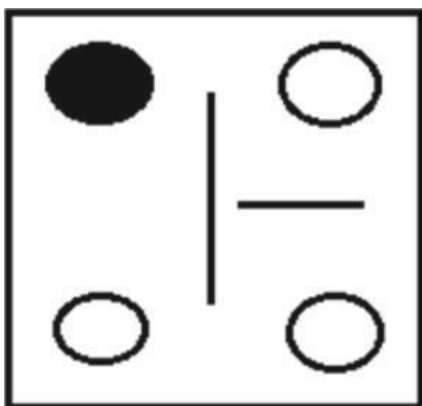
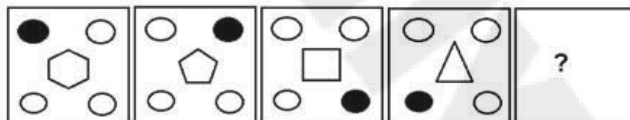


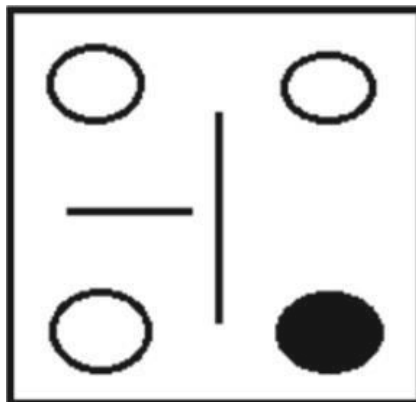
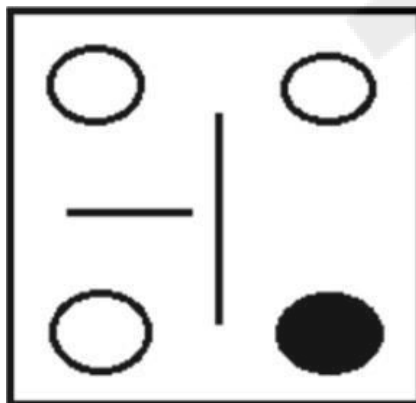
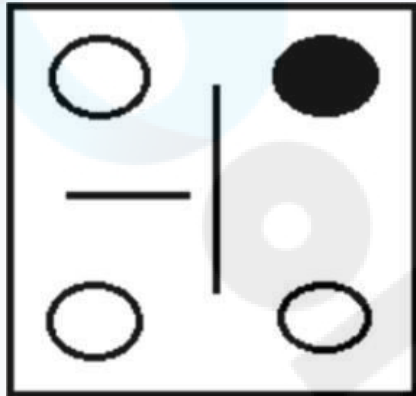
[Click Here to Challenge Question No.: 4](#)

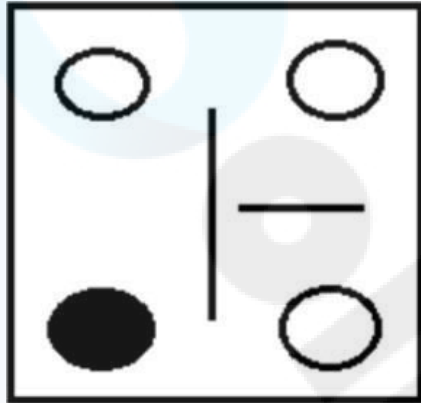
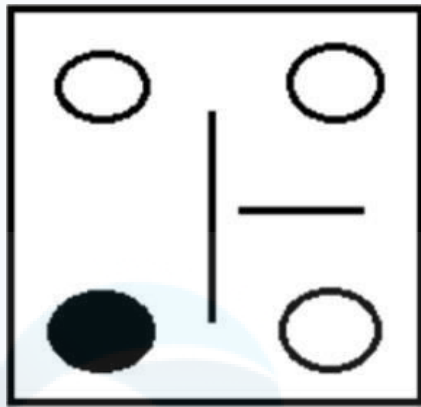
Q.No: 4 Select an appropriate figure from the four options that would complete the figure.



चार विकल्पों में से एक उपयुक्त आकृति का चयन करें जो आकृति को पूरा करेगी।






[Click Here to Challenge Question No.: 5](#)

Q.No: 5 Choose the odd one.

विषम चुनें।

Narmada

नर्मदा

Godavari

गोदावरी

Bay of Bengal

बंगाल की खाड़ी

Cauvery

कावेरी

[Click Here to Challenge Question No.: 6](#)

Q.No: 6 If 40% of a number is 80, what is the number?

अगर किसी संख्या का 40% 80 है, तो वह संख्या क्या है?

180

180

240

240

200

200

160

160

Q.No: 7 What is the common difference in the series given below?
102, 98, 94, 90, ...
नीचे दी गई श्रृंखला में सार्व अंतर क्या है?
102, 98, 94, 90, ...

-2

-2

-4

-4

-6

-6

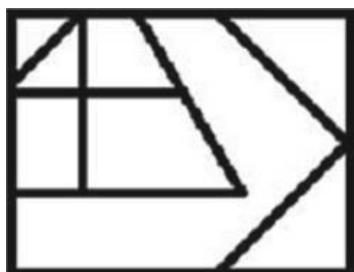
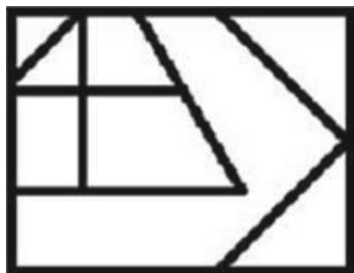
-8

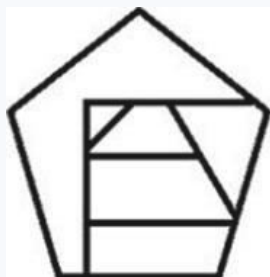
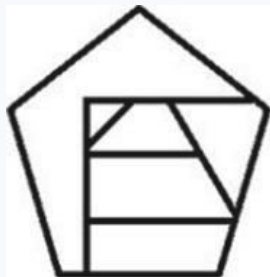
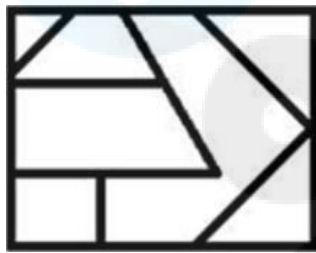
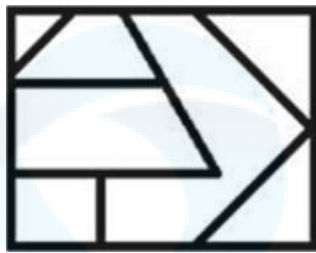
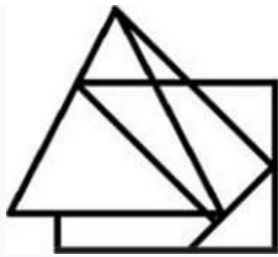
-8

Q.No: 8 Select the option that is embedded in the given figure (Rotation is NOT allowed).



दी गई छवि में सन्निहित विकल्प का चयन करें (घूमाव की अनुमति नहीं है)।




[Click Here to Challenge Question No.: 9](#)

Q.No: 9 If **ROSE** is coded as **ESOR**, how is **LILY** coded?

अगर ROSE को ESOR के रूप में कोड किया जाता है, तो LILY को किस प्रकार कोड किया जाएगा?

YILL
YILL

YLLI
YLLI

YLIL
YLIL

YLIY
YLIY

[Click Here to Challenge Question No.: 10](#)

Q.No: 10	<p>Instruction: Choose the inference that are clearly supported by the statement.</p> <p>Statement: Participants in the advanced mindfulness program reported significantly lower stress levels after completing the 8-week course compared to their pre-course assessments.</p> <p>Inferences:</p> <p>Inference I: The advanced mindfulness program is an effective method for reducing stress.</p> <p>Inference II: The reduction in stress levels among participants is solely due to the content of the 8-week course.</p> <p>निर्देश: उस निष्कर्ष का चयन कीजिए जो कथन द्वारा स्पष्ट रूप से समर्थित हो।</p> <p>कथन: उन्नत माइंडफुलनेस कार्यक्रम में प्रतिभागियों ने अपने पूर्व-पाठ्यक्रम मूल्यांकन की तुलना में 8-सप्ताह के पाठ्यक्रम को पूरा करने के बाद तनाव के स्तर में उल्लेखनीय कमी दर्ज की।</p> <p>निष्कर्ष:</p> <p>निष्कर्ष I: उन्नत माइंडफुलनेस कार्यक्रम तनाव कम करने का एक प्रभावी तरीका है।</p> <p>निष्कर्ष II: प्रतिभागियों में तनाव के स्तर में कमी पूरी तरह से 8-सप्ताह के पाठ्यक्रम की विषयवस्तु के कारण है।</p>
	<p>Only Inference I follows</p> <p>केवल अनुमान I अनुसरण करता है</p>
	<p>Only Inference II follows</p> <p>केवल अनुमान II अनुसरण करता है</p>
	<p>Both Inferences I and II follow</p> <p>दोनों निष्कर्ष I और II अनुसरण करते हैं</p>
	<p>Neither Inference I nor II follows</p> <p>न तो अनुमान I और न ही II अनुसरण करता है</p>

[Click Here to Challenge Question No.: 11](#)

Q.No: 11	<p>In a town, 200 people read newspaper A, 150 read newspaper B, and 50 read both. How many read only newspaper A?</p> <p>एक कस्बे में 200 लोग अखबार A पढ़ते हैं, 150 लोग अखबार B पढ़ते हैं, और 50 लोग दोनों अखबार पढ़ते हैं। कितने लोग केवल अखबार A पढ़ते हैं?</p>
	150
	150
	100
	100
	120
	120
	130
	130

[Click Here to Challenge Question No.: 12](#)

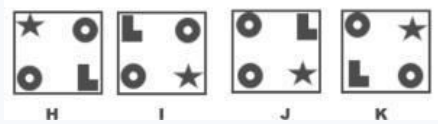
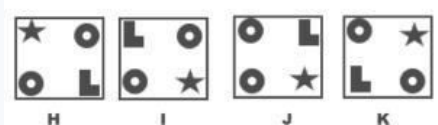
Q.No: 12	<p>Among 70 kids, 40 like drawing, 35 like painting, and 15 like both. How many like only drawing?</p> <p>70 बच्चों में से 40 को ड्राइंग पसंद है, 35 को पेंटिंग पसंद है, और 15 को दोनों पसंद हैं। कितने बच्चों को सिर्फ ड्राइंग पसंद है?</p>
	25
	25
	30
	30
	35
	35
	20
	20

[Click Here to Challenge Question No.: 13](#)

Q.No: 13	<p>If the sum of 25 and 28 is multiplied by 2, what is the result?</p>
----------	--

	यदि 25 और 28 के योग को 2 से गुणा किया जाए तो परिणाम क्या होगा?	https://sscstudy.com/
	102	
	102	
	104	
	104	
	106	
	106	
	112	
	112	

Click Here to Challenge Question No.: 14		
Q.No: 14	What will come at the place of question mark? 7,25,79,241,727,? प्रश्न चिन्ह के स्थान पर क्या आएगा? 7,25,79,241,727,?	
	2185	
	2185	
	2180	
	2180	
	2281	
	2281	
	2318	
	2318	

Click Here to Challenge Question No.: 15		
Q.No: 15	Identify the image that does NOT belong to the group.  उस आकृति का चयन कीजिए, जो समूह से संबंधित नहीं है। 	
	H	
	H	
	I	
	I	
	J	
	J	
	K	
	K	

Click Here to Challenge Question No.: 16		
https://sscstudy.com/		

Q.No: 16	<p>Team performance dropped after a new IT system was introduced.</p> <p>What will you do?</p> <p>नई आईटी प्रणाली लागू होने के बाद टीम का प्रदर्शन गिर गया।</p> <p>आप क्या करेंगे?</p>	https://sscstudy.com/
	<p>Remove IT system</p> <p>आईटी सिस्टम हटाएं</p>	
	<p>Ignore feedback</p> <p>प्रतिक्रिया पर ध्यान न दें</p>	
	<p>Train staff and identify system issues</p> <p>कर्मचारियों को प्रशिक्षित करें और सिस्टम संबंधी समस्याओं की पहचान करें</p>	
	<p>Reduce targets</p> <p>लक्ष्य कम करें</p>	

[Click Here to Challenge Question No.: 17](#)

Q.No: 17	<p>Select the option exactly similar to: 16th Floor, Alpha Tower, Near City Center Mall, Bangalore, KA 560001</p> <p>बिल्कुल वैसा ही ऑप्शन चुनें: 16th Floor, Alpha Tower, Near City Center Mall, Bangalore, KA 560001</p>	
	<p>16th Floor, Alpha Tower, Near City Center Mall, Bengalooru, KA - 560001</p> <p>16th Floor, Alpha Tower, Near City Center Mall, Bengalooru, KA - 560001</p>	
	<p>16 Floor, Alpha Tower, Near City Center Mall, Bangalore, KA 560001</p> <p>16 Floor, Alpha Tower, Near City Center Mall, Bangalore, KA 560001</p>	
	<p>16th Floor, Alpha Tower, Near City Center Mall, Bangalore, KA 560001</p> <p>16th Floor, Alpha Tower, Near City Center Mall, Bangalore, KA 560001</p>	
	<p>16th Floor, Alpha Tower, Near City Center Mall, Bangalore, Karnataka 560001</p> <p>16th Floor, Alpha Tower, Near City Center Mall, Bangalore, Karnataka 560001</p>	

[Click Here to Challenge Question No.: 18](#)

Q.No: 18	<p>Which number will come in place of the question mark (?) in the following series? 4, 10, 32, 130, ?</p> <p>निम्नलिखित सीरीज़ में प्रश्न चिह्न (?) की जगह कौन सी संख्या आएगी? 4, 10, 32, 130, ?</p>	
	602	

	602
	652
	652
	702
	702
	752
	752
Not Answered	

[Click Here to Challenge Question No.: 19](#)

Q.No: 19	Find the odd word: विषम शब्द खोजें:
	Winter Winter
	Summer Summer
	Autumn Autumn
	Climate Climate

[Click Here to Challenge Question No.: 20](#)

Q.No: 20	<p>A Candidate ID is a 13-digit number. The structure is non-standard: The first 3 digits are the Year, the next 2 digits are the Batch. The Center Code is formed by taking the 6th, 9th, and 12th digits of the entire ID. For the Candidate ID 2021543217654, what is the Center Code?</p> <p>कैंडिडेट ID एक 13-डिजिट का नंबर होता है। इसका स्ट्रक्चर नॉन-स्टैंडर्ड होता है: पहले 3 डिजिट साल होते हैं, अगले 2 डिजिट बैच होते हैं। सेंटर कोड पूरी ID के 6वें, 9वें और 12वें डिजिट को लेकर बनता है। कैंडिडेट ID 2021543217654 के लिए, सेंटर कोड क्या है?</p>
----------	--

	146
	146
	175
	175
	415
	415
	475
	475

[Click Here to Challenge Question No.: 21](#)

Q.No: 21	<p>If 'TIGER' is coded as 'S3F2Q', how is 'EAGLE' coded?</p> <p>यदि 'TIGER' को 'S3F2Q' के रूप में कोडित किया गया है, तो 'EAGLE' को कैसे कोडित किया जाएगा?</p>
	21FK2
	21FK2
	F12KQ
	F12KQ
	K12F2
	K12F2
	12FK2
	12FK2

[Click Here to Challenge Question No.: 22](#)

Q.No: 22	<p>Which of the following option, if true, would most undermine the conclusion?</p> <p>Observation: A large number of street vendors moved from the city market area to the main railway station area. Conclusion: The City Market Authority must have enforced stricter regulations, causing the vendors to relocate.</p>
----------	---

अगर यह सही है, तो नीचे दिए गए ऑप्शन में से कौन सा नतीजे को सबसे ज़्यादा कमज़ोर करेगा?

ऑब्ज़र्वेशन: बहुत सारे स्ट्रीट वेंडर शहर के मार्केट एरिया से मेन रेलवे स्टेशन एरिया में चले गए। **नतीजा:** सिटी मार्केट अथॉरिटी ने ज़रूर ज़्यादा सख्त नियम लागू किए होंगे, जिससे वेंडर दूसरी जगह चले गए।

Rent in the railway station area is significantly higher than in the city market area.

रेलवे स्टेशन एरिया में किराया शहर के मार्केट एरिया की तुलना में काफी ज़्यादा है।

The City Market Authority recently increased the daily fee for vendors by 50%.

सिटी मार्केट अथॉरिटी ने हाल ही में वेंडर्स के लिए डेली फीस 50% बढ़ा दी है।

A major new office complex recently opened near the railway station, significantly increasing foot traffic there.

हाल ही में रेलवे स्टेशन के पास एक बड़ा नया ऑफिस कॉम्प्लेक्स खुला है, जिससे वहां आने-जाने वालों की संख्या काफी बढ़ गई है।

Street vendors typically prefer locations with easy access to public transportation.

स्ट्रीट वेंडर आमतौर पर ऐसी जगहों को पसंद करते हैं जहां पब्लिक ट्रांसपोर्ट आसानी से मिल जाए।

[Click Here to Challenge Question No.: 23](#)

Q.No: 23

Which of the following option can be logically inferred from the statement?

Statement: Public education budget cuts have led to a 15% reduction in science lab funding across State Y, which limits the ability of schools to conduct practical experiments.

नीचे दिए गए ऑप्शन में से कौन सा इस स्टेटमेंट से लॉजिकली निकाला जा सकता है?

स्टेटमेंट: पब्लिक एजुकेशन बजट में कटौती की वजह से पूरे स्टेट Y में साइंस लैब फंडिंग में 15% की कमी आई है, जिससे स्कूलों की प्रैक्टिकल एक्सपेरिमेंट करने की क्षमता कम हो गई है।

Practical experiments are the only way to teach science effectively.

प्रैक्टिकल एक्सपेरिमेंट ही साइंस को अच्छे से सिखाने का एकमात्र तरीका है।

The quality of science education in State Y is likely to suffer due to the budget cuts.

बजट में कटौती के कारण राज्य Y में साइंस एजुकेशन की क्वालिटी पर असर पड़ने की संभावना है।

State Y prioritizes arts education over science education.

राज्य Y साइंस एजुकेशन के बजाय आर्ट्स एजुकेशन को प्राथमिकता देता है।

Teachers in State Y are strongly protesting the reduction in funding.

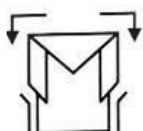
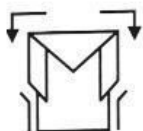
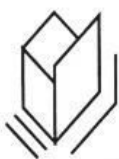
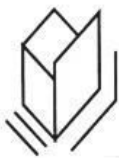
राज्य Y के शिक्षक फंडिंग में कटौती का कड़ा विरोध कर रहे हैं।


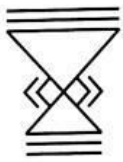
Q.No: 24

The following question figure is embedded in one of the answer choices. Select the answer that contains the question figure.



नीचे दिया गया सवाल का चित्र जवाब के ऑप्शन में से एक में है। वह जवाब चुनें जिसमें सवाल का चित्र हो।
सवाल का चित्र:




[Click Here to Challenge Question No.: 25](#)

Q.No: 25

Find the word that **CANNOT** be formed from the letters in **CONGRATULATIONS**.

वह शब्द ढूँढें जो **CONGRATULATIONS** के अक्षरों से नहीं बन सकता।

RATION

RATION

SALT

SALT

GUARD

GUARD

COAGULATION

COAGULATION

[Click Here to Challenge Question No.: 26](#)

Q.No: 26

If P means 'minus' (-), Q means 'plus' (+), R means 'multiplied by' (\times), and S means 'divided by' (\div), then what is the value of the following expression?
100 S 5 R 2 P 10 Q 4

अगर P का मतलब 'माइनस' (-) है, Q का मतलब 'प्लस' (+) है, R का मतलब 'मल्टीप्लाई' है (\times), और S का मतलब है 'से भाग दिया गया' (\div), तो नीचे दिए गए एक्सप्रेशन का मान क्या है?
100 S 5 R 2 P 10 Q 4

34

34

38

38

42

42

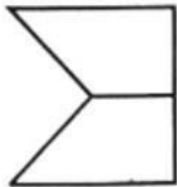
30

30

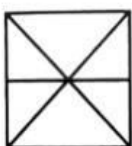
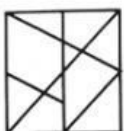
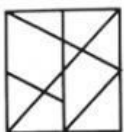
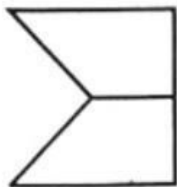
[Click Here to Challenge Question No.: 27](#)



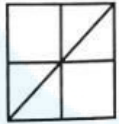
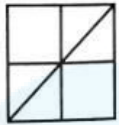
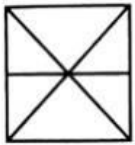
Q.No: 27

The following question figure is embedded in one of the answer choices. Select the answer that contains the question figure.
Question figure:




नीचे दिया गया सवाल का चित्र जवाब के ऑप्शन में से एक में है। वह जवाब चुनें जिसमें सवाल का चित्र हो।
सवाल का चित्र:



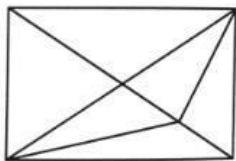

[Click Here to Challenge Question No.: 28](#)

Q.No: 28

Find the number of triangles in the given figure.



दी गई आकृति में त्रिभुजों की संख्या ज्ञात कीजिए।



11

11

13

13

15

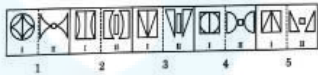
17

17

[Click Here to Challenge Question No.: 29](#)

Q.No: 29

In each of the following questions in four out of the given five pairs of figures figure I is related to Figure II in the same particular manner. What are the pair in which the relationship does not exist between figure I and II.



नीचे दिए गए हर सवाल में, दिए गए पाँच फिगर के जोड़ों में से चार में फिगर I, फिगर II से उसी खास तरीके से जुड़ा हुआ है। वह कौन सा जोड़ा है जिसमें फिगर I और II के बीच कोई रिश्ता नहीं है?



2

2

3

3

4

4

5

5

Not Answered

[Click Here to Challenge Question No.: 30](#)

Q.No: 30

Find the number of triangles in the given figure.



दी गई आकृति में त्रिभुजों की संख्या ज्ञात कीजिए।



22

22

24

24

26

26

28

28

Not Answered

[Click Here to Challenge Question No.: 31](#)

Q.No: 31

A woman introduces a man as her mother's only brother's son. How is the man related to the woman?

एक महिला एक आदमी को अपनी माँ के इकलौते भाई के बेटे के रूप में पेश करती है। वह आदमी उस महिला से कैसे संबंधित है?

Brother

भाई

Cousin

चचेरा

Father

पिता


Uncle

चाचा

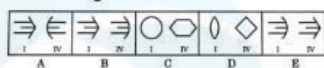
Q.No: 32

Select a figure from the answer set the contents of which may best substitute the question marks in problems at such that figure III is related to figure IV in the same way as figure I is related to figure II.

Problem figures:




Answer figures:

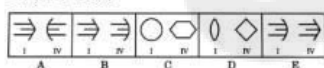


आंसर सेट में से एक फिगर चुनें जिसका कंटेंट प्रॉब्लम में सवाल के निशान की जगह सबसे अच्छे से ले सके, जैसे कि फिगर III, फिगर IV से उसी तरह जुड़ा हो जैसे फिगर I, फिगर II से जुड़ा है।

प्रॉब्लम फिगर:



आंसर फिगर:



A

A

B

B

C

C

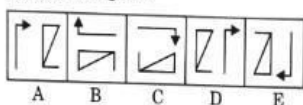
D

D

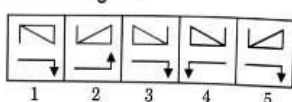
Q.No: 33

Analyze the five Problem Figures (A, B, C, D, E) to determine the established sequential pattern. Select the next figure in the series from the five Answer Figures (1, 2, 3, 4, 5).

Problem Figure:

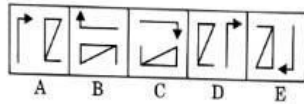


Answer Figure:

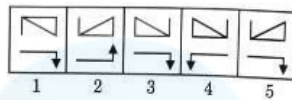


स्थापित सीक्वेंशियल पैटर्न का पता लगाने के लिए पाँच प्रॉब्लम फिगर (A, B, C, D, E) को एनालाइज़ करें। पाँच आंसर फिगर (1, 2, 3, 4, 5) में से सीरीज़ में अगला फिगर चुनें।

प्रॉब्लम फिगर:



आंसर फिगर:



5

5

4

4

3

3

1

1

[Click Here to Challenge Question No.: 34](#)

Q.No: 34

A man introduced a woman as, "She is the mother of the father of my son's father." How is the woman related to the man?

एक आदमी ने एक औरत का परिचय इस तरह कराया, "वह मेरे बेटे के पिता के पिता की माँ है।" औरत का उस आदमी से क्या रिश्ता है?

Wife

पत्नी

Mother

माँ

Paternal Grandmother

पैतृक दादी

Aunt

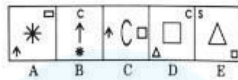
चाची

[Click Here to Challenge Question No.: 35](#)

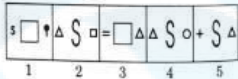
Q.No: 35

Analyze the five Problem Figures (A, B, C, D, E) to determine the established sequential pattern. Select the next figure in the series from the five Answer Figures (1, 2, 3, 4, 5).

Problem figures:

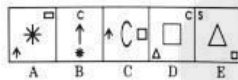


Answer figures:

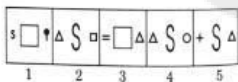


स्थापित सीक्वेंशियल पैटर्न का पता लगाने के लिए पाँच प्रॉब्लम फिगर्स (A, B, C, D, E) को एनालाइज़ करें। पाँच आंसर फिगर्स (1, 2, 3, 4, 5) में से सीरीज़ में अगला फिगर चुनें।

प्रॉब्लम फिगर्स:



आंसर फिगर्स:



1

1

2

2

3

3

4

4

[Click Here to Challenge Question No.: 36](#)

Q.No: 36

Find the odd number-pair:

विषम संख्या-युग्म ज्ञात करें:

2:5

2:5

5:26

5:26

7:48

7:48

10:101

10:101

[Click Here to Challenge Question No.: 37](#)

Q.No: 37

In a class, P's rank is 15th from the top, and Q's rank is 20th from the bottom. If there are 10 students between P and Q, what is the maximum number of students in the class?

एक क्लास में, P की रैंक ऊपर से 15वीं है, और Q की रैंक नीचे से 20वीं है। अगर P और Q के बीच 10 स्टूडेंट हैं, तो क्लास में ज़्यादा से ज़्यादा कितने स्टूडेंट हो सकते हैं?

45

45

44

44

35

35

48

48

[Click Here to Challenge Question No.: 38](#)

Q.No: 38

You observe a large amount of smoke billowing from a factory smokestack late at night, and you suspect they are illegally burning unauthorised waste because the smoke smells toxic. What is your primary course of action?

आप देर रात एक फैक्ट्री के धुएँ के ढेर से बहुत ज़्यादा धुआँ निकलता देखते हैं, और आपको शक होता है कि वे गैर-कानूनी तरीके से बिना इजाज़त वाला कचरा जला रहे हैं क्योंकि धुएँ से ज़हरीली गंध आती है। आप सबसे पहले क्या करेंगे?

Ignore it, as it's probably just steam from their machinery.

इसे इग्नोर करें, क्योंकि यह शायद उनकी मशीनरी से निकलने वाली भाप है।

<https://sscstudy.com/>

Call the fire department immediately since it involves fire/smoke.

आग/धुआं होने की वजह से तुरंत फायर डिपार्टमेंट को कॉल करें।

Call the factory security or the night manager to inquire about the situation.

स्थिति के बारे में पूछने के लिए फैक्ट्री सिक्योरिटी या नाइट मैनेजर को कॉल करें।

Collect evidence (like a photo) and report the incident to the local or state environmental quality agency.

सबूत (जैसे फोटो) इकट्ठा करें और घटना की रिपोर्ट लोकल या स्टेट एनवायरनमेंटल क्वालिटी एजेंसी को दें।

[Click Here to Challenge Question No.: 39](#)

Q.No: 39

Which row's elements are all prime numbers?

Row	1	2	3	4
I	3	5	7	9
II	2	3	5	7
III	1	2	3	4

किस रो के सभी एलिमेंट प्राइम नंबर हैं?

पंक्ति	1	2	3	4
I	3	5	7	9
II	2	3	5	7
III	1	2	3	4

Row I

पंक्ति I

Row II

पंक्ति II

Row III

पंक्ति III

None of the rows

<https://sscstudy.com/>

[Click Here to Challenge Question No.: 40](#)

Q.No: 40

You are in charge of a school cafeteria. The students are petitioning to switch from locally sourced, whole-grain bread to highly processed, nutrient-poor white bread because it tastes better and is more familiar to them. Switching would be cheaper and easier for the staff. How do you respond to the student body?

आप एक स्कूल कैफेटेरिया के इंचार्ज हैं। स्टूडेंट्स लोकल सोर्स से मिलने वाली, होल-ग्रेन ब्रेड की जगह बहुत ज़्यादा प्रोसेस्ड, कम न्यूट्रिएंट्स वाली व्हाइट ब्रेड लेने की अपील कर रहे हैं, क्योंकि इसका टेस्ट बेहतर होता है और वे इससे ज़्यादा परिचित हैं। यह बदलना स्टाफ के लिए सस्ता और आसान होगा। आप स्टूडेंट्स की बात पर क्या कहेंगे?

Agree to the switch, as student satisfaction is the primary measure of the cafeteria's success.

इस बदलाव के लिए राज़ी हो जाइए, क्योंकि स्टूडेंट सैटिस्फैक्शन ही कैफेटेरिया की सफलता का मुख्य पैमाना है।

Change the bread without any explanation to avoid confrontation.

झगड़े से बचने के लिए बिना किसी वजह के ब्रेड बदल दें।

Maintain the current menu and educate students on the health benefits of whole grains over processed options.

मौजूदा मेनू बनाए रखें और स्टूडेंट्स को प्रोसेस्ड ऑप्शन के बजाय साबुत अनाज के हेल्थ बेनिफिट्स के बारे में बताएं।

Offer both options and let students choose, knowing most will select the less healthy choice.

दोनों ऑप्शन दें और स्टूडेंट्स को चुनने दें, यह जानते हुए कि ज़्यादातर लोग कम हेल्दी ऑप्शन चुनेंगे।

[Click Here to Challenge Question No.: 41](#)

Q.No: 41

Find the odd number out:

विषम संख्या ज्ञात करें:

89

89

97

97

87

87

79

79

[Click Here to Challenge Question No.: 42](#)

Q.No: 42

You are the manager of a public library. You find a large group of teenagers studying together, but they are speaking loudly, disturbing other patrons who are reading. They refuse to lower their voices when asked by another librarian. How should you handle the situation?

आप एक पब्लिक लाइब्रेरी के मैनेजर हैं। आपको टीनएजर्स का एक बड़ा ग्रुप एक साथ पढ़ते हुए मिलता है, लेकिन वे ज़ोर-ज़ोर से बोल रहे हैं, जिससे पढ़ने वाले दूसरे लोगों को दिक्कत हो रही है। जब कोई दूसरा लाइब्रेरियन उनसे कहता है, तो वे अपनी आवाज़ कम करने से मना कर देते हैं। आपको इस सिचुएशन को कैसे हैंडल करना चाहिए?

Tell the teens to leave the library immediately.

टीनएजर्स से कहो कि वे तुरंत लाइब्रेरी से चले जाएं।

Ignore them, as they are at least studying.

उन्हें अनदेखा करें, क्योंकि वे कम से कम पढ़ाई तो कर रहे हैं।

Calmly explain the noise policy and offer a group study room if available.

शांति से नॉइज़ पॉलिसी समझाएं और अगर उपलब्ध हो तो ग्रुप स्टडी रूम ऑफ़र करें।

Call the police to remove them for causing a nuisance.

उपद्रव करने के कारण उन्हें हटाने के लिए पुलिस को बुलाएं।

[Click Here to Challenge Question No.: 43](#)

Q.No: 43

Read case carefully and evaluate the candidate's eligibility based on the criteria provided for the respective post. Choose the most appropriate option that accurately reflects the candidate's status and any necessary action.

Eligibility Criteria (as on 01-01-2025):

Must have a degree in Marketing or Business Administration with at least 50% marks.

Age should be between 21 and 30 years.

Must have knowledge of digital marketing and social media platforms.

Case:

Ravi is 27 years old, holds a degree in Marketing with 53% marks, and is familiar with social media marketing but lacks digital marketing knowledge. What should be done in Ravi's case?

केस को ध्यान से पढ़ें और उस पोस्ट के लिए दिए गए क्राइटेरिया के आधार पर कैंडिडेट की एलिजिबिलिटी को देखें। सबसे सही ऑप्शन चुनें जो कैंडिडेट के स्टेटस और किसी भी ज़रूरी एक्शन को सही तरह से दिखाता हो।

एलिजिबिलिटी क्राइटेरिया (01-01-2025 तक):

कम से कम 50% मार्क्स के साथ मार्केटिंग या बिज़नेस एडमिनिस्ट्रेशन में डिग्री होनी चाहिए।

उम्र 21 से 30 साल के बीच होनी चाहिए।

डिजिटल मार्केटिंग और सोशल मीडिया प्लेटफॉर्म की जानकारी होनी चाहिए।

केस:

रवि 27 साल का है, उसके पास 53% मार्क्स के साथ मार्केटिंग में डिग्री है, और वह सोशल मीडिया मार्केटिंग जानता है लेकिन उसे डिजिटल मार्केटिंग की जानकारी नहीं है। रवि के केस में क्या करना चाहिए?

Ravi is eligible but needs training in digital marketing.

रवि एलिजिबल है लेकिन उसे डिजिटल मार्केटिंग में ट्रेनिंग की ज़रूरत है।

Ravi is not eligible due to the lack of digital marketing knowledge.

डिजिटल मार्केटिंग की जानकारी की कमी के कारण रवि योग्य नहीं है।

Ravi is ineligible because his degree is not in Business Administration.

रवि अयोग्य है क्योंकि उसकी डिग्री बिज़नेस एडमिनिस्ट्रेशन में नहीं है।

Ravi is not eligible due to his age.

रवि अपनी उम्र के कारण योग्य नहीं है।

[Click Here to Challenge Question No.: 44](#)

Q.No: 44

In the question below one statement is given followed by two conclusions numbered I and II. You have to assume everything in the statement to be true, then consider the two conclusions together and decide which of them logically follows beyond a reasonable doubt from the information given in the statement.

Statement: Morning walks are good for health.

Conclusions:

I. All healthy people go for morning walks.

II. Evening walks are harmful.

नीचे दिए गए सवाल में एक स्टेटमेंट दिया गया है जिसके बाद I और II नंबर के दो निष्कर्ष दिए गए हैं। आपको स्टेटमेंट में दी गई हर बात को सच मानना है, फिर दोनों निष्कर्षों पर एक साथ विचार करें और तय करें कि उनमें से कौन सा स्टेटमेंट में दी गई जानकारी से बिना किसी शक के लॉजिकली सही है।

कथन: सुबह की सैर सेहत के लिए अच्छी होती है।

निष्कर्ष:

I. सभी हेल्दी लोग सुबह की सैर पर जाते हैं।

II. शाम की सैर नुकसानदायक होती है।

Only conclusion I follows

केवल निष्कर्ष I अनुसरण करता है

Only conclusion II follows

केवल निष्कर्ष II अनुसरण करता है

Both I and II follow

I और II दोनों अनुसरण करते हैं

Neither I nor II follows

न तो निष्कर्ष I और न ही II अनुसरण करता है।

[Click Here to Challenge Question No.: 45](#)

Q.No: 45

In each of the following questions, a statement is given followed by 2 conclusions. Read the statements carefully and answer the following questions:

Statement: Mr. X is one of the probable candidates short-listed for the post of Director of R.L.M. Institute.

Conclusions:

I. Mr. X will be selected as Director of R.L.M. Institute.

II. Mr. X will not be selected as Director of R.L.M. Institute.

नीचे दिए गए हर सवाल में एक स्टेटमेंट दिया गया है जिसके बाद 2 निष्कर्ष दिए गए हैं। स्टेटमेंट को ध्यान से पढ़ें और नीचे दिए गए सवालों के जवाब दें:

स्टेटमेंट: मिस्टर X, R.L.M. इंस्टीट्यूट के डायरेक्टर के पद के लिए शॉर्ट-लिस्ट किए गए संभावित कैंडिडेट में से एक हैं।

निष्कर्ष:

I. मिस्टर X को R.L.M. इंस्टीट्यूट के डायरेक्टर के तौर पर चुना जाएगा।

II. मिस्टर X को R.L.M. इंस्टीट्यूट के डायरेक्टर के तौर पर नहीं चुना जाएगा।

Only conclusion I follows

केवल निष्कर्ष I अनुसरण करता है

Only conclusion II follows

केवल निष्कर्ष II अनुसरण करता है

either I or II follows.

या तो I या II अनुसरण करता है।

Neither I nor II follows

न तो I और न ही II अनुसरण करता है

[Click Here to Challenge Question No.: 46](#)

Q.No: 46

You manage a busy retail store. A long-time, valued customer is requesting a refund for an item that falls outside the official 30-day return window, as they do not have the original receipt. They threaten to never shop at your store again if you refuse. How should you respond?

	<p>आप एक बिज़ी रिटेल स्टोर मैनेज करते हैं। एक पुराना, कीमती कस्टमर एक आइटम के लिए रिफंड मांग रहा है जो ऑफिशियल 30-दिन की रिटर्न विंडो से बाहर है, क्योंकि उनके पास ओरिजिनल रसीद नहीं है। अगर आप मना करते हैं तो वे आपके स्टोर से दोबारा कभी शॉपिंग न करने की धमकी देते हैं। आपको क्या जवाब देना चाहिए?</p>
	<p>Grant the refund immediately to retain the valued customer, ignoring the policy.</p> <p>पॉलिसी को नज़रअंदाज़ करते हुए, कीमती कस्टमर को बनाए रखने के लिए तुरंत रिफंड दें।</p>
	<p>Inform the customer that since they don't have the receipt, you cannot take any action.</p> <p>कस्टमर को बताएं कि उनके पास रसीद नहीं है, इसलिए आप कोई एक्शन नहीं ले सकते।</p>
	<p>Explain the 30-day policy, but offer store credit or an exchange as a goodwill gesture.</p> <p>30-दिन की पॉलिसी के बारे में बताएं, लेकिन गुडविल जेस्चर के तौर पर स्टोर क्रेडिट या एक्सचेंज ऑफ़र करें।</p>
	<p>Call security to escort the demanding customer out of the store.</p> <p>सिक््योरिटी को बुलाकर मांग करने वाले कस्टमर को स्टोर से बाहर निकालें।</p>

[Click Here to Challenge Question No.: 47](#)

Q.No: 47	<p>You are the head of the city's Disaster Response team. During a surprise, rapidly escalating flood, your team's standard operating procedure requires you to evacuate a retirement home first. However, a major hospital located near the retirement home reports an immediate, catastrophic power failure that requires diverting your limited rescue boats to save patients on life support. You only have enough resources for one location at a time. What is your judgment?</p> <p>आप शहर की डिज़ास्टर रिसपॉन्स टीम के हेड हैं। अचानक आई तेज़ी से बढ़ती बाढ़ के दौरान, आपकी टीम के स्टैंडर्ड ऑपरेटिंग प्रोसीजर के हिसाब से आपको पहले एक रिटायरमेंट होम खाली करना होता है। लेकिन, रिटायरमेंट होम के पास मौजूद एक बड़े हॉस्पिटल में तुरंत, बहुत बुरी तरह बिजली चली जाती है, जिसके लिए आपको अपनी कम रेस्क्यू बोट को दूसरी जगह भेजकर लाइफ सपोर्ट पर मौजूद मरीजों को बचाना पड़ता है। आपके पास एक समय में सिर्फ़ एक ही जगह के लिए ज़रूरी रिसोर्स हैं। आपका क्या फैसला है?</p>
	<p>Divert all available resources to the hospital immediately, as the need to sustain life support outweighs the risk to mobile individuals.</p> <p>सभी उपलब्ध रिसोर्स तुरंत हॉस्पिटल भेजें, क्योंकि लाइफ सपोर्ट बनाए रखने की ज़रूरत, मोबाइल लोगों के लिए रिस्क से ज्यादा है।</p>
	<p>Strictly follow the standard operating procedure (SOP) and evacuate the retirement home first.</p> <p>स्टैंडर्ड ऑपरेटिंग प्रोसीजर (SOP) का सख्ती से पालन करें और पहले रिटायरमेंट होम खाली करें।</p>
	<p>Attempt to contact the hospital to see if they can use backup generators before making a decision.</p> <p>कोई भी फैसला लेने से पहले हॉस्पिटल से संपर्क करके देखें कि क्या वे बैकअप जनरेटर इस्तेमाल कर सकते हैं।</p>
	<p>Divide the boats equally between the two locations, even though neither will have enough resources to complete the task effectively.</p> <p>नावों को दोनों जगहों पर बराबर-बराबर बांट दें, भले ही किसी के पास भी काम को अच्छे से पूरा करने के लिए काफ़ी रिसोर्स न हों।</p>

[Click Here to Challenge Question No.: 48](#)

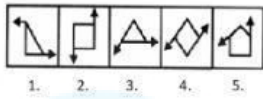
Q.No: 48	<p>Which code violates the pattern: Uppercase - Lowercase - Uppercase?</p> <p>कौन सा कोड पैटर्न का उल्लंघन करता है: Uppercase - Lowercase - Uppercase?</p>
	<p>AqA</p> <p>AqA</p>
	<p>BpB</p> <p>BpB</p>
	<p>dRd</p> <p>dRd</p>
	<p>GhG</p> <p>GhG</p>

[Click Here to Challenge Question No.: 49](#)

Q.No: 49	<p>If 'P @ Q' means 'P is the wife of Q', 'P # Q' means 'P is the son of Q', and 'P \$ Q' means 'P is the father of Q', then what is the relationship of K to H in the expression: H # I @ J # K?</p> <p>यदि 'P @ Q' का अर्थ है 'P, Q की पत्नी है', 'P # Q' का अर्थ है 'P, Q का पुत्र है', और 'P \$ Q' का अर्थ है 'P, Q का पिता है', तो H # I @ J # K व्यंजक में K का H से क्या संबंध है?</p>
	<p>Mother</p> <p>माँ</p>
	<p>Paternal Grandfather</p> <p>पैतृक दादाजी</p>
	<p>Paternal Grandmother</p> <p>पैतृक दादी</p>
	<p>Daughter</p> <p>बेटी</p>

Q.No: 50

Choose the figure which is different from the rest.



वह आकृति चुनें जो बाकी से अलग है।



1

1

2

2

3

3

4

4



CANDIDATE RESPONSE SHEET/GRIEVANCE SYSTEM

[View Your Responses](#)[Click Here to View Grievance Questions](#)Admin logged in. [[Logout](#)]

Roll No.

Exam Level :

Test Date : 12 Dec 2025

Test Time and Shift : 03:00 PM (Shift-2)

[Correct Option selected](#) [Wrong Option selected](#) [Correct Option](#) [Not Answered](#)[Save / Print](#)**Undertaking by the candidate :**

I acknowledge that this saved question paper is for my personal use and self-analysis only. I understand that sharing, distributing, or using it for commercial or any other purposes is strictly prohibited and may lead to legal action as per applicable acts, rules and regulations.

Note:

The candidates may note that in the challenge module the sequence of the questions and the options may be different from how it appeared during the examination. This is because in the challenge module the sequence of the questions as well as the answers will be the same for all the candidates who appeared in a particular shift while during the actual examination these sequences were different for different candidates. However the answer key selected by the candidates during the examination will exactly be reflected in the challenge module.

[Click Here for PART-A](#)[Click Here for PART-B](#)[Click Here for PART-C](#)[Click Here for PART-D](#)**PART-B (General Knowledge and General Awareness)**[Click Here to Challenge Question No.: 51](#)

Q.No: 51	A substantial limitation of the Human Development Index (HDI) is its inability to capture: मानव विकास सूचकांक (एचडीआई) की एक बड़ी सीमा यह है कि इसमें निम्नलिखित को शामिल करने में असमर्थता है:
	Economic growth. आर्थिक विकास।
	Life expectancy. जीवन प्रत्याशा।
	Educational attainment. शिक्षा प्राप्ति।
	Social inequality and income distribution. सामाजिक असमानता और आय वितरण।

[Click Here to Challenge Question No.: 52](#)

Q.No: 52	Which digital initiative improved India's Ease of Doing Business (EoDB) in "Starting a Business"? किस डिजिटल पहल ने "व्यवसाय शुरू करने" में भारत की व्यापार करने की आसानी (ईओडीबी) में सुधार किया?
	Digi Locker

	डिजिटल लॉकर	https://sscstudy.com/
	Udyam Portal	
	उद्यम पोर्टल	
	GST Portal	
	जीएसटी पोर्टल	
	MCA21	
	एमसीए21	

[Click Here to Challenge Question No.: 53](#)

Q.No: 53	Which of the following is the formula for elasticity of supply? निम्नलिखित में से कौन सा आपूर्ति की लोच का सूत्र है?
	% change in price / % change in quantity supplied कीमत में % परिवर्तन / आपूर्ति की गई मात्रा में % परिवर्तन
	% change in quantity supplied / % change in price आपूर्ति की गई मात्रा में % परिवर्तन / कीमत में % परिवर्तन
	Original price / change in price मूल कीमत / कीमत में परिवर्तन
	Change in quantity supplied / original quantity supplied आपूर्ति की गई मात्रा में परिवर्तन / आपूर्ति की गई मूल मात्रा

[Click Here to Challenge Question No.: 54](#)

Q.No: 54	Excluding borrowings, the excess of total expenditure over total receipts signifies which of the following? उधार को छोड़कर, कुल प्राप्तियों पर कुल व्यय की अधिकता निम्नलिखित में से किसका द्योतक है?
	Fiscal deficit राजकोषीय घाटा
	Revenue deficit राजस्व घाटा
	Budgetary deficit बजटीय घाटा
	Overall deficit कुल घाटा

Not Answered

[Click Here to Challenge Question No.: 55](#)

Q.No: 55	The difference between the Gross National Product (GNP) and the Net National Product (NNP) is: सकल राष्ट्रीय उत्पाद (जीएनपी) और शुद्ध राष्ट्रीय उत्पाद (एनएनपी) के बीच अंतर है:
	Taxes कर
	Interest ब्याज
	Depreciation मूल्यहास

[Click Here to Challenge Question No.: 56](#)

Q.No: 56 What is the major benefit of the Indian Data Relay Satellite System (IDRSS)?

भारतीय डेटा रिले सैटेलाइट सिस्टम (आईडीआरएसएस) का प्रमुख लाभ क्या है?

Solar energy from space

अंतरिक्ष से सौर ऊर्जा

Deep space exploration

गहन अंतरिक्ष अन्वेषण

Internet access in rural areas

ग्रामीण क्षेत्रों में इंटरनेट का उपयोग

Real-time communication with low Earth orbit satellites and astronauts

पृथ्वी की निचली कक्षा के उपग्रहों और अंतरिक्ष यात्रियों के साथ वास्तविक समय पर संचार

[Click Here to Challenge Question No.: 57](#)

Q.No: 57 The Chahalgani (Group of Forty) nobles were formed during the reign of:

चहलगानी (चालीस का समूह) रईसों का गठन निम्नलिखित के शासनकाल के दौरान हुआ था:

Balban

बलबन

Iltutmish

इल्तुतमिश

Alauddin Khalji

अलाउद्दीन खिलजी

Qutb-ud-din Aibak

कुतुबुद्दीन ऐबक

[Click Here to Challenge Question No.: 58](#)

Q.No: 58 Who among the following rulers is known to have translated the Mahabharata into Persian as Razmnama?

निम्नलिखित शासकों में से किसको महाभारत का फ़ारसी में रज़्मनामा के रूप में अनुवाद करने के लिए जाना जाता है?

Babur

बाबर

Akbar

अकबर

Jahangir

जहांगीर

Aurangzeb

औरंगजेब

Not Answered

[Click Here to Challenge Question No.: 59](#)

Q.No: 59	Which of the following is a key principle of the QUAD's (Quadrilateral Security Dialogue) approach to the Indo-Pacific region? निम्नलिखित में से कौन सा भारत-प्रशांत क्षेत्र के लिए QUAD (चतुर्भुज सुरक्षा वार्ता) दृष्टिकोण का एक प्रमुख सिद्धांत है?
	Inclusivity समावेशिता
	Exclusivity विशिष्टता
	Multilateralism बहुपक्षीय
	Bilateralism द्विपक्षीय

[Click Here to Challenge Question No.: 60](#)

Q.No: 60	What is the name of the Indian athlete who won an Olympic bronze medal in wrestling at the 2016 Rio Olympics? 2016 रियो ओलंपिक में कुश्ती में कांस्य पदक जीतने वाले भारतीय एथलीट का नाम क्या है?
	Sushil Kumar सुशील कुमार
	Yogeshwar Dutt योगेश्वर दत्त
	Sakshi Malik साक्षी मलिक
	Bajrang Punia बजरंग पुनिया

Not Answered

[Click Here to Challenge Question No.: 61](#)

Q.No: 61	The Kalinga Lancers represent which state in the Hockey India League? हॉकी इंडिया लीग में कलिंगा लांसर्स किस राज्य का प्रतिनिधित्व करते हैं?
	Punjab पंजाब
	Haryana हरियाणा
	Odisha ओडिशा
	Karnataka कर्नाटक

[Click Here to Challenge Question No.: 62](#)

Q.No: 62	The movie 'Chak De India' is based on which real-life Indian sports figure's story? फिल्म 'चक दे इंडिया' किस वास्तविक भारतीय खिलाड़ी की कहानी पर आधारित है?
	Dilip Tirkey दिलीप तिरकी
	Dhanraj Pillay

	धनराज पिल्ले	https://sscstudy.com/
	Mir Ranjan Negi मीर रंजन नेगी	
	Balbir Singh Sr. बलबीर सिंह सीनियर	

Click Here to Challenge Question No.: 63		
Q.No: 63	The 2010 Hockey World Cup final took place in which Indian city? 2010 हॉकी विश्व कप का फाइनल भारत के किस शहर में हुआ था?	
	Mumbai मुंबई	
	New Delhi नई दिल्ली	
	Chennai चेन्नई	
	Kolkata कोलकाता	
Not Answered		

Click Here to Challenge Question No.: 64		
Q.No: 64	Which Indian city served as the venue for the 2019 Indian Open Badminton Tournament? 2019 इंडियन ओपन बैडमिंटन टूर्नामेंट का आयोजन स्थल कौन सा भारतीय शहर था?	
	Hyderabad हैदराबाद	
	Mumbai मुंबई	
	New Delhi नई दिल्ली	
	Chennai चेन्नई	
Not Answered		

Click Here to Challenge Question No.: 65		
Q.No: 65	What kind of architectural feature are the Jain temples known for? जैन मंदिर किस प्रकार की स्थापत्य कला के लिए जाने जाते हैं?	
	Highly intricate marble carvings अत्यधिक जटिल संगमरमर नक्काशी	
	Enormous domes without any pillars बिना किसी स्तंभ के विशाल गुंबद	
	Bronze statues of horses घोड़ों की कांस्य मूर्तियाँ	
https://sscstudy.com/		

[Click Here to Challenge Question No.: 66](#)

Q.No: 66 For which architectural element is the Sidi Saiyyed Mosque in Gujarat famous for?

गुजरात में सिदी सैयद मस्जिद किस वास्तुशिल्प तत्व के लिए प्रसिद्ध है?

Mirror mosaic domes

दर्पण मोज़ेक गुंबद

Lattice windows (jalis)

जालीदार खिड़कियाँ (जालियाँ)

Spiral towers

सर्पिल मीनारें

Black marble minbars

काले संगमरमर के मिनबर

[Click Here to Challenge Question No.: 67](#)

Q.No: 67 Where was the Bhilai Steel Plant set up in 1959?

1959 में भिलाई इस्पात संयंत्र कहाँ स्थापित किया गया था?

Kolkata

कोलकाता

Chhattisgarh

छत्तीसगढ़

Odisha

ओडिशा

Jamshedpur

जमशेदपुर

[Click Here to Challenge Question No.: 68](#)

Q.No: 68 Which Booker-shortlisted Indian novel from 2008 examines the Bhopal gas tragedy through allegory?

2008 में बुकर पुरस्कार हेतु चयनित कौन सा भारतीय उपन्यास रूपक के माध्यम से भोपाल गैस त्रासदी की जांच करता है?

The White Tiger

द व्हाइट टाइगर

Animal's People

एनिमल'स पीपल

The Ministry of Utmost Happiness

द मिनिस्ट्री ऑफ अटमोस्ट हैप्पीनेस

Sea of Poppies

सी ऑफ पॉपीज़

Not Answered

[Click Here to Challenge Question No.: 69](#)

Q.No: 69	During India's Third Five-Year Plan, which of the following significant events posed major challenges to industrial and trade development? भारत की तीसरी पंचवर्षीय योजना के दौरान, निम्नलिखित में से किस महत्वपूर्ण घटना ने औद्योगिक और व्यापार विकास के लिए बड़ी चुनौतियाँ पेश कीं?
	Global economic recession, severely impacting Indian exports वैश्विक आर्थिक मंदी से भारतीय निर्यात पर बुरा असर
	Major wars and droughts leading to resource constraints बड़े युद्धों और सूखे के कारण संसाधनों की कमी
	Initiation of economic liberalization policies, attracting foreign investment आर्थिक उदारीकरण नीतियों की शुरुआत, विदेशी निवेश को आकर्षित करना
	Implementation of the Green Revolution has shifted in focus towards agriculture हरित क्रांति के कार्यान्वयन का ध्यान कृषि की ओर स्थानांतरित हो गया है

[Click Here to Challenge Question No.: 70](#)

Q.No: 70	Which Nobel Laureate in Literature refused the prize in 1964, only for it to still be recorded in his name? साहित्य के किस नोबेल पुरस्कार विजेता ने 1964 में पुरस्कार लेने से इनकार कर दिया था, ताकि वह पुरस्कार अभी भी उनके नाम पर दर्ज रहे?
	Gabriel Garcia Marquez गेब्रियल गार्सिया मार्केज़
	Jean-Paul Sartre जीन-पॉल सार्त्र
	Bob Dylan बॉब डायलन
	Samuel Beckett सैमुअल बेकेट

Not Answered

[Click Here to Challenge Question No.: 71](#)

Q.No: 71	Which Indian city is known as the hub for chess training? कौन सा भारतीय शहर शतरंज प्रशिक्षण के केंद्र के रूप में जाना जाता है?
	Pune पुणे
	Chennai चेन्नई
	Delhi दिल्ली
	Kolkata कोलकाता

[Click Here to Challenge Question No.: 72](#)

Q.No: 72	Who was India's first Olympic medalist in wrestling? कुश्ती में भारत का पहला ओलंपिक पदक विजेता कौन था?
	Sushil Kumar सुशील कुमार

	K. D. Jadhav के.डी. जाधव	https://sscstudy.com/
	Yogeshwar Dutt योगेश्वर दत्त	
	Bajrang Punia बजरंग पुनिया	
Not Answered		

Click Here to Challenge Question No.: 73		
Q.No: 73	The harvest festival known for the traditional boat race called Vallam Kali is: वल्लम काली नामक पारंपरिक नाव दौड़ के लिए जाना जाने वाला फसल उत्सव है:	
	Pongal पोंगल	
	Onam ओणम	
	Bihu बीहू	
	Gudi Padwa गुड़ी पड़वा	

Click Here to Challenge Question No.: 74		
Q.No: 74	The "Lahore Resolution" passed by the Muslim League in 1940 demanded: 1940 में मुस्लिम लीग द्वारा पारित "लाहौर प्रस्ताव" में ____ की मांग की गई थी:	
	Complete integration of all princely states with British India. सभी रियासतों का ब्रिटिश भारत में पूर्ण एकीकरण।	
	The creation of a separate state for Muslims in the northwestern and eastern parts of India. भारत के उत्तर-पश्चिमी और पूर्वी भागों में मुसलमानों के लिए एक अलग राज्य का निर्माण।	
	Equal representation for Muslims in all legislative bodies. सभी विधायी निकायों में मुसलमानों के लिए समान प्रतिनिधित्व।	
	The continuation of a united India with enhanced safeguards for minority rights. अल्पसंख्यकों के अधिकारों के लिए उन्नत सुरक्षा उपायों के साथ एकीकृत भारत की निरंतरता।	

Click Here to Challenge Question No.: 75		
Q.No: 75	The "Rowlatt Acts" of 1919 faced intense opposition from Indian nationalists for undermining fundamental legal principles. What was the most objectionable aspect of these Acts? 1919 के "रॉलेट अधिनियमों" को मौलिक कानूनी सिद्धांतों को कमजोर करने के लिए भारतीय राष्ट्रवादियों के तीव्र विरोध का सामना करना पड़ा। इन अधिनियमों का सबसे आपत्तिजनक पहलू क्या था?	
	They imposed heavy taxes on Indian businesses and traders. उन्होंने भारतीय व्यवसायों और व्यापारियों पर भारी कर लगा दिए।	
	They mandated the compulsory registration of all Indian citizens. उन्होंने सभी भारतीय नागरिकों के लिए अनिवार्य पंजीकरण का आदेश दिया।	

	They allowed the government to detain individuals without trial based on suspicion of revolutionary activities. उन्होंने सरकार को क्रांतिकारी गतिविधियों के संदेह के आधार पर व्यक्तियों को बिना मुकदमा चलाए हिरासत में रखने की अनुमति दे दी।
	They granted greater powers to local self-governing bodies. उन्होंने स्थानीय स्वशासी निकायों को अधिक शक्तियां प्रदान कीं।

[Click Here to Challenge Question No.: 76](#)

Q.No: 76	The "Indian Forest Act" of 1878 categorized forests into reserved and protected areas. What was a key difference in the treatment and rights of local communities between these two categories? 1878 के "भारतीय वन अधिनियम" ने वनों को आरक्षित और संरक्षित क्षेत्रों में वर्गीकृत किया। इन दो श्रेणियों के बीच स्थानीय समुदायों के व्यवहार और अधिकारों में मुख्य अंतर क्या था?
	Both categories granted complete autonomy to local communities in forest management. दोनों श्रेणियों ने वन प्रबंधन में स्थानीय समुदायों को पूर्ण स्वायत्तता प्रदान की।
	In reserved forests, all traditional rights of local communities were extinguished, while some limited rights were permitted in protected forests. आरक्षित वनों में स्थानीय समुदायों के सभी पारंपरिक अधिकार समाप्त कर दिए गए, जबकि संरक्षित वनों में कुछ सीमित अधिकार दिए गए।
	Protected forests were exclusively for commercial exploitation by the British, while reserved forests were for local use. संरक्षित वन केवल ब्रिटिशों द्वारा वाणिज्यिक उपयोग के लिए थे, जबकि आरक्षित वन स्थानीय उपयोग के लिए थे।
	There was no significant difference in the restrictions imposed on local communities between the two categories. दोनों श्रेणियों के बीच स्थानीय समुदायों पर लगाए गए प्रतिबंधों में कोई महत्वपूर्ण अंतर नहीं था।

[Click Here to Challenge Question No.: 77](#)

Q.No: 77	Which of the following offenses has been newly and clearly defined under the Bharatiya Nyaya Sanhita (BNS), 2023? निम्नलिखित में से किस अपराध को भारतीय न्याय संहिता (बीएनएस), 2023 के तहत नए और स्पष्ट रूप से परिभाषित किया गया है?
	Mob lynching भीड़ द्वारा हत्या
	Defamation मानहानि
	Theft चोरी
	Cheating बेईमानी करना

[Click Here to Challenge Question No.: 78](#)

Q.No: 78	Who is the 16th Attorney General of India? भारत के 16वें अटॉर्नी जनरल कौन हैं?
	R. Venkataramani आर. वेंकटरमणी
	Tushar Mehta तुषार मेहता
	Mukul Rohatgi मुकुल रोहतगी

Not Answered

[Click Here to Challenge Question No.: 79](#)

Q.No: 79 Chhau dance is practiced in which regions of India?

छऊ नृत्य भारत के किन क्षेत्रों में किया जाता है?

Northern India (Uttar Pradesh, Himachal Pradesh, Uttarakhand)

उत्तरी भारत (उत्तर प्रदेश, हिमाचल प्रदेश, उत्तराखंड)

Eastern India (Orissa, Jharkhand, West Bengal)

पूर्वी भारत (ओडिशा, झारखंड, पश्चिम बंगाल)

Southern India (Telangana, Andhra Pradesh, Tamil Nadu)

दक्षिणी भारत (तेलंगाना, आंध्र प्रदेश, तमिलनाडु)

Western India (Gujarat, Maharashtra, Rajasthan)

पश्चिमी भारत (गुजरात, महाराष्ट्र, राजस्थान)

[Click Here to Challenge Question No.: 80](#)

Q.No: 80 Who was the first woman to receive Jnanpith award?

ज्ञानपीठ पुरस्कार प्राप्त करने वाली प्रथम महिला कौन थी?

Mahasveta Devi

महाश्वेता देवी

Qurratulain Hyder

कुर्रतुलऐन हैदर

Amrita Pritam

अमृता प्रीतम

Ashapoorna Devi

आशापूर्णा देवी

[Click Here to Challenge Question No.: 81](#)

Q.No: 81 Who among the following did not receive a Padma award in 2024 for their contribution to Art?

निम्नलिखित में से किसे कला में उनके योगदान के लिए 2024 में पद्म पुरस्कार नहीं मिला?

Vyjayantimala Bali

वैजयंतीमाला बाली

Padma Subrahmanyam

पद्मा सुब्रह्मण्यम

Usha Uthup

उषा उत्थुप

Nithyashree Mahadevan

नित्याश्री महादेवन

Q.No: 82	Which traditional dance from Uttar Pradesh involves women carrying lighted oil lamps on their heads? उत्तर प्रदेश का कौन सा पारंपरिक नृत्य है जिसमें महिलाएं अपने सिर पर जलते हुए तेल के दीपक लेकर चलती हैं?
	Charkula चरकुला
	Raslila रासलीला
	Giddha गिद्धा
	Bhangra भांगड़ा

Q.No: 83	Who was the last ruler of the Sunga Dynasty? शुंग वंश का अंतिम शासक कौन था?
	Vasudeva वासुदेव
	Pushyamitra Sunga पुष्यमित्र शुंग
	Devabhuti देवभूति
	Agnimitra अगणिमित्रा

Q.No: 84	Which among the following statements is TRUE about the Rig Vedic Society? ऋग्वेदिक समाज के बारे में निम्नलिखित में से कौन सा कथन सत्य है?
	The Rig Vedic society was matrilineal. ऋग्वेदिक समाज मातृसत्तात्मक था।
	The head of the family was known as Vishaypati. परिवार के मुखिया को विषयपति कहा जाता था।
	Apala, Visvavara, Ghosa, and Lopamudra were prominent women poets of the Rig Vedic period. अपाला, विश्ववारा, घोषा और लोपामुद्रा ऋग्वेदिक काल की प्रमुख महिला कवयित्री थीं।
	Child marriage and the practice of Sati were prevalent. बाल विवाह और सती प्रथा प्रचलित थी।

Q.No: 85	Which of the following statements is/is NOT CORRECT regarding Manganese? 1. Andhra Pradesh has the largest reserves of Manganese in India. 2. Manganese is an important raw material for the smelting of iron ore, and it is also used for manufacturing ferro alloys.
----------	--

	मैंगनीज के संबंध में निम्नलिखित में से कौन सा कथन सही नहीं है? 1. भारत में मैंगनीज का सबसे बड़ा भंडार आंध्र प्रदेश में है। 2. मैंगनीज लौह अयस्क के प्रगलन के लिए एक महत्वपूर्ण कच्चा माल है, और इसका उपयोग फेरो मिश्र धातुओं के निर्माण के लिए भी किया जाता है।	https://sscstudy.com/
	1 only केवल 1	
	2 only केवल 2	
	Both 1 and 2 1 और 2 दोनों	
	Neither 1 nor 2 न तो 1, न ही 2	

Click Here to Challenge Question No.: 86		
Q.No: 86	In which state is the folk music of Lotia performed? लोटिया लोक संगीत किस राज्य में प्रस्तुत किया जाता है?	
	Maharashtra महाराष्ट्र	
	Rajasthan राजस्थान	
	Uttar Pradesh उत्तर प्रदेश	
	Manipur मणिपुर	
Not Answered		

Click Here to Challenge Question No.: 87		
Q.No: 87	In the alluvial plains of the Ganga, which of the following physical features will NOT be found? गंगा के जलोढ़ मैदानों में निम्नलिखित में से कौन सी भौतिक विशेषताएँ नहीं पाई जाएँगी?	
	Oxbow lakes ऑक्सबो झीलें	
	Rapids रैपिड्स	
	Meanders मेन्डर्स	
	Braided channels ब्रेडेड चैनलें	

Click Here to Challenge Question No.: 88		
Q.No: 88	What is the primary objective of the Angami Sekrenyi festival? अंगामी सेक्रेनी उत्सव का प्राथमिक उद्देश्य क्या है?	
	Cleanse body and soul शरीर और आत्मा को शुद्ध करें	

	Pray for abundant harvest भरपूर फ़सल के लिए प्रार्थना करें	https://sscstudy.com/
	Honor ancestral spirits only केवल पूर्वजों की आत्माओं का सम्मान करें	
	Pray for marriage and children विवाह और बच्चों के लिए प्रार्थना करें	

Click Here to Challenge Question No.: 89		
Q.No: 89	Which Hindustani classical gharana, founded by Ustad Alladiya Khan, is known for its melodic complexity and features exponents like Kesarbai Kerkar and Kishori Amonkar? उस्ताद अल्लादिया खान द्वारा स्थापित कौन सा हिंदुस्तानी शास्त्रीय घराना अपनी मधुर जटिलता और केसरबाई केरकर और किशोरी अमोनकर जैसे प्रतिपादकों के लिए जाना जाता है?	
	Gwalior Gharana ग्वालियर घराना	
	Agra Gharana आगरा घराना	
	Jaipur-Atrauli Gharana जयपुर-अतरौली घराना	
	Kirana Gharana किराना घराना	
Not Answered		

Click Here to Challenge Question No.: 90		
Q.No: 90	Which city hosted the 47th Board of Directors Meeting of the New Development Bank (NDB) on May 30, 2025? 30 मई, 2025 को न्यू डेवलपमेंट बैंक (एनडीबी) की 47वीं निदेशक मंडल बैठक की मेजबानी किस शहर ने की?	
	Beijing बीजिंग	
	Johannesburg जोहान्सबर्ग	
	Shanghai शंघाई	
	Brasília ब्रासीलिया	
Not Answered		

Click Here to Challenge Question No.: 91		
Q.No: 91	According to the 1950 India–Nepal Treaty of Peace and Friendship, what is one key provision agreed upon by both governments? 1950 की भारत-नेपाल शांति एवं मैत्री संधि के अनुसार, दोनों सरकारों द्वारा सहमत एक प्रमुख प्रावधान क्या है?	
	Nepal's army under Indian command भारतीय कमान के अधीन नेपाल की सेना	
	No diplomatic ties between India and Nepal भारत और नेपाल के बीच कोई राजनयिक संबंध नहीं	
https://sscstudy.com/		

निवास और व्यापार के पारस्परिक अधिकार

Nepal to follow Indian Constitution

नेपाल भारतीय संविधान का पालन करेगा

[Click Here to Challenge Question No.: 92](#)

Q.No: 92 Which of the following physiographic features acts as the principal water divide in Peninsular India?

निम्नलिखित में से कौन सी भौतिक विशेषता प्रायद्वीपीय भारत में प्रमुख जल विभाजक के रूप में कार्य करती है?

Vindhya Range

विंध्य पर्वतमाला

Aravalli Hills

अरावली पहाड़ियाँ

Western Ghats

पश्चिमी घाट

Eastern Ghats

पूर्वी घाट

[Click Here to Challenge Question No.: 93](#)

Q.No: 93 Which celebrated filmmaker, noted for globally acclaimed works like Bandit Queen and Elizabeth, received the Padma Bhushan in 2025?

बैंडिट क्वीन और एलिजाबेथ जैसी विश्व स्तर पर प्रशंसित कृतियों के लिए प्रसिद्ध किस प्रसिद्ध फिल्म निर्माता को 2025 में पद्म भूषण से सम्मानित किया जाएगा?

R Balki

आर बाल्की

Shekhar Kapur

शेखर कपूर

Mira Nair

मीरा नायर

Deepa Mehta

दीपा मेहता

[Click Here to Challenge Question No.: 94](#)

Q.No: 94 As per Census 2011, what was the population density of Bihar, the most densely populated state in India?

2011 की जनगणना के अनुसार, भारत में सबसे घनी आबादी वाले राज्य बिहार का जनसंख्या घनत्व क्या था?

918 persons/sq km

918 व्यक्ति/वर्ग किमी

1029 persons/sq km

1029 व्यक्ति/वर्ग किमी

1102 persons/sq km

1102 व्यक्ति/वर्ग किमी

1138 persons/sq km

1138 व्यक्ति/वर्ग किमी

[Click Here to Challenge Question No.: 95](#)

Q.No: 95	On which date was the second stage (GS2) for GSLV-F16 (launching NISAR) flagged off? जीएसएलवी-एफ16 (निसार प्रक्षेपण) के दूसरे चरण (जीएस2) को किस तारीख को खाना किया गया?
	January 2025 जनवरी 2025
	March 2025 मार्च 2025
	April 2025 अप्रैल 2025
	July 2023 जुलाई 2023

Not Answered

[Click Here to Challenge Question No.: 96](#)

Q.No: 96	Which of the following pairs correctly represents the cropping season and its corresponding time of sowing? निम्नलिखित में से कौन सा युग्म फसल के मौसम और उसके अनुरूप बुवाई के समय को सही ढंग से दर्शाता है?
	Rabi – Southwest Monsoon onset रबी – दक्षिण-पश्चिम मानसून की शुरुआत
	Zaid – October to November ज़ैद – अक्टूबर से नवंबर
	Kharif – June to September खरीफ – जून से सितंबर
	Rabi – May to June रबी - मई से जून

[Click Here to Challenge Question No.: 97](#)

Q.No: 97	Which pigment allows plants to absorb light mainly in the blue and red wavelengths? कौन सा वर्णक पौधों को मुख्यतः नीले और लाल तरंगदैर्घ्य में प्रकाश अवशोषित करने की अनुमति देता है?
	Chlorophyll a क्लोरोफिल ए
	Chlorophyll b क्लोरोफिल बी
	Carotenoids कैरोटीनॉयड
	Anthocyanins एंथोसायनिन्स

[Click Here to Challenge Question No.: 98](#)

Q.No: 98	<p>Consider the following:</p> <p>(1) DPIIT handles industrial promotion.</p> <p>(2) It implements Gati Shakti.</p> <p>Which of the above statements is/are correct?</p> <p>निम्नलिखित पर विचार करें:</p> <p>(1) डीपीआईआईटी औद्योगिक संवर्धन का कार्य संभालता है।</p> <p>(2) यह गति शक्ति का क्रियान्वयन करता है।</p> <p>उपरोक्त कथनों में से कौन सा/से सही है/हैं?</p>
	Only 1 केवल 1
	Only 2 केवल 2
	Both 1 and 2 1 और 2 दोनों
	Neither 1 nor 2 न तो 1 और न ही 2
Not Answered	

[Click Here to Challenge Question No.: 99](#)

Q.No: 99	<p>What is a key benefit provided under Janani Shishu Suraksha Karyakram (JSSK)?</p> <p>जननी शिशु सुरक्षा कार्यक्रम (जेएसएसके) के तहत प्रदान किया जाने वाला प्रमुख लाभ क्या है?</p>
	Free ration to pregnant women गर्भवती महिलाओं को मुफ्त राशन
	Free delivery and C-section services निःशुल्क प्रसव और सी-सेक्शन सेवाएं
	Paid ambulance transport सशुल्क एम्बुलेंस परिवहन
	Subsidized infant clothing अनुदानित शिशु वस्त्र

[Click Here to Challenge Question No.: 100](#)

Q.No: 100	<p>Which of the following statements about E. Sreedharan is factually correct?</p> <p>ई. श्रीधरन के बारे में निम्नलिखित में से कौन सा कथन तथ्यात्मक रूप से सही है?</p>
	He led the development of the Mumbai-Pune Expressway. उन्होंने मुंबई-पुणे एक्सप्रेसवे के विकास का नेतृत्व किया।
	He was popularly known as the 'Metro Man of India'. वे 'भारत के मेट्रो मैन' के नाम से लोकप्रिय थे।
	He drafted the Indian Road Safety Code. उन्होंने भारतीय सड़क सुरक्षा संहिता का मसौदा तैयार किया।
	He was responsible for launching the Swachh Bharat Mission. स्वच्छ भारत मिशन को शुरू करने का श्रेय उन्हें ही जाता है।



CANDIDATE RESPONSE SHEET/GRIEVANCE SYSTEM

[View Your Responses](#)[Click Here to View Grievance Questions](#)Admin loggedin. [[Logout](#)]

Roll No.

Exam Level :

Test Date : 12 Dec 2025

Test Time and Shift : 03:00 PM (Shift-2)

[Correct Option selected](#) [Wrong Option selected](#) [Correct Option](#) [Not Answered](#)[Save / Print](#)**Undertaking by the candidate :**

I acknowledge that this saved question paper is for my personal use and self-analysis only. I understand that sharing, distributing, or using it for commercial or any other purposes is strictly prohibited and may lead to legal action as per applicable acts, rules and regulations.

Note:

The candidates may note that in the challenge module the sequence of the questions and the options may be different from how it appeared during the examination. This is because in the challenge module the sequence of the questions as well as the answers will be the same for all the candidates who appeared in a particular shift while during the actual examination these sequences were different for different candidates. However the answer key selected by the candidates during the examination will exactly be reflected in the challenge module.

[Click Here for PART-A](#)[Click Here for PART-B](#)[Click Here for PART-C](#)[Click Here for PART-D](#)**PART-C (Quantitative Aptitude)**[Click Here to Challenge Question No.: 101](#)

Q.No: 101	The average weight of 5 boys is 60 kg. If one boy weighing 75 kg leaves, what is the new average weight? 5 लड़कों का औसत वजन 60 किलोग्राम है। अगर 75 किलोग्राम वजन वाला एक लड़का चला जाता है, तो नया औसत वजन क्या होगा?
	<input checked="" type="radio"/> 56.25 kg 56.25 किलोग्राम
	<input type="radio"/> 57.5 kg 57.5 किलोग्राम
	<input type="radio"/> 58.75 kg 58.75 किलोग्राम
	<input type="radio"/> 59 kg 59 किलोग्राम

[Click Here to Challenge Question No.: 102](#)

Q.No: 102	<p>The average weight of 7 boxes is 12 kg.</p> <p>What is the total weight?</p> <p>7 बक्सों का औसत वजन 12 किलोग्राम है।</p> <p>कुल वजन कितना है?</p>
	74 kg 74 किलोग्राम
	72 kg 72 किलोग्राम
	78 kg 78 किलोग्राम
	84 kg 84 किलोग्राम

[Click Here to Challenge Question No.: 103](#)

Q.No: 103	<p>A juice vendor mixes orange juice at ₹30/litre with water (free) to get a mixture worth ₹24/litre.</p> <p>What is the ratio of juice to water?</p> <p>एक जूस विक्रेता ₹30/लीटर वाले संतरे के जूस को पानी (मुफ्त) के साथ मिलाकर ₹24/लीटर का मिश्रण बनाता है।</p> <p>जूस और पानी का अनुपात क्या है?</p>
	5:2 5:2
	3:1 3:1
	4:1 4:1
	3:2 3:2

[Click Here to Challenge Question No.: 104](#)

Q.No: 104	<p>A man bought 30 pens at ₹12 each and 20 pens at ₹15 each. He sold all pens at ₹18 each.</p> <p>What is his total profit?</p> <p>एक आदमी ने 30 पेन ₹12 प्रति पेन की दर से और 20 पेन ₹15 प्रति पेन की दर से खरीदे। उसने सभी पेन ₹18 प्रति पेन की दर से बेचे।</p> <p>उसका कुल लाभ कितना है?</p>
	₹240 ₹240
	₹280 ₹280
	₹360 ₹360
	₹310 ₹310

[Click Here to Challenge Question No.: 105](#)

Q.No: 105	<p>The population of a village increased from 20,000 to 23,000 in a year.</p> <p>What is the percentage increase?</p> <p>एक गांव की जनसंख्या एक वर्ष में 20,000 से बढ़कर 23,000 हो गई।</p> <p>प्रतिशत वृद्धि क्या है?</p>
	13%
	13%
	12%
	12%
	10%
	10%
	15%
	15%

[Click Here to Challenge Question No.: 106](#)

Q.No: 106	<p>The price of petrol rises by 8%.</p> <p>If the old price was ₹80 per litre, what is the new price?</p> <p>पेट्रोल की कीमत 8% बढ़ जाती है।</p> <p>अगर पुरानी कीमत ₹80 प्रति लीटर थी, तो नई कीमत क्या है?</p>
	₹87.60
	₹87.60
	₹86.40
	₹86.40
	₹85.40
	₹85.40
	₹88.00
	₹88.00

[Click Here to Challenge Question No.: 107](#)

Q.No: 107	<p>A product is sold at 25% profit.</p> <p>If the cost price is ₹240, find the selling price.</p> <p>एक उत्पाद 25% लाभ पर बेचा जाता है।</p> <p>अगर क्रय मूल्य ₹240 है, तो विक्रय मूल्य ज्ञात कीजिए।</p>
	₹300
	₹300
	₹280
	₹280
	₹320
	₹320
	₹290
	₹290

[Click Here to Challenge Question No.: 108](#)

Q.No: 108	<p>A person bought an item for ₹1200 and sold it for ₹1320.</p> <p>Find the profit percentage.</p> <p>एक व्यक्ति ने एक वस्तु ₹1200 में खरीदी और उसे ₹1320 में बेचा।</p> <p>लाभ प्रतिशत ज्ञात कीजिए।</p>
	8%
	8%
	12%
	12%
	10%
	10%
	15%
	15%

[Click Here to Challenge Question No.: 109](#)

Q.No: 109	<p>A jeep covers a distance of 180 km at a certain speed. If the speed is increased by 15 km/h, it takes 1 hour less.</p> <p>Find the original speed.</p> <p>एक जीप एक निश्चित गति से 180 किमी की दूरी तय करती है। अगर गति 15 किमी/घंटा बढ़ा दी जाए, तो उसे 1 घंटा कम समय लगेगा।</p> <p>मूल गति ज्ञात कीजिए।</p>
	45 km/h
	45 किमी/घंटा
	50 km/h
	50 किमी/घंटा
	75 km/h
	75 किमी/घंटा
	60 km/h
	60 किमी/घंटा

[Click Here to Challenge Question No.: 110](#)

Q.No: 110	<p>Raju and Pintu together can clean a garden in 10 hours.</p> <p>If Raju alone can do it in 15 hours, how many hours will Pintu alone take?</p> <p>राजू और पिंटू मिलकर एक बगीचे को 10 घंटे में साफ कर सकते हैं।</p> <p>अगर राजू अकेले इसे 15 घंटे में साफ कर सकता है, तो पिंटू को अकेले कितने घंटे लगेंगे?</p>
	20 hours
	20 घंटे
	30 hours
	30 घंटे
	25 hours
	25 घंटे
	40 hours
	40 घंटे

Q.No: 111	<p>A and B together can complete a railway sleeper alignment in 10 days. B alone can do it in 15 days.</p> <p>In how many days can A alone complete the work?</p> <p>A और B मिलकर रेलवे स्लीपर संरेखण 10 दिनों में पूरा कर सकते हैं। B अकेले इसे 15 दिनों में कर सकता है।</p> <p>A अकेले इस काम को कितने दिनों में पूरा कर सकता है?</p>
	20
	20
	25
	25
	30
	30
	40
	40

Q.No: 112	<p>A job can be done by 18 women in 10 days. After working for 4 days, 6 women leave.</p> <p>How many more days will the remaining women take to finish the job?</p> <p>18 महिलाएँ एक काम 10 दिन में पूरा कर सकती हैं। 4 दिन काम करने के बाद 6 महिलाएँ काम छोड़ देती हैं।</p> <p>शेष महिलाओं को काम पूरा करने में और कितने दिन लगेंगे?</p>
	6
	6
	9
	9
	8
	8
	7
	7

Q.No: 113	<p>A hollow spherical shell is made of a metal with a density of 6 g/cm^3. If the internal and external radii of the shell are 8 cm and 9 cm respectively, find the weight of the shell in kilograms.</p> <p>एक खोखला गोलाकार खोल 6 ग्राम/घन सेंटीमीटर घनत्व वाली धातु से बना है। यदि खोल की आंतरिक और बाह्य त्रिज्याएँ क्रमशः 8 सेंटीमीटर और 9 सेंटीमीटर हैं, तो खोल का भार किलोग्राम में ज्ञात कीजिए।</p>
	7.456 kg
	7.456 किलोग्राम
	5.656 kg
	5.656 किलोग्राम
	6.456 kg
	6.456 किलोग्राम
	5.456 kg
	5.456 किलोग्राम

Not Answered

Q.No: 114	If the length, breadth, and height of a rectangular parallelepiped are 5 cm, 4 cm, and 3 cm, its volume is: यदि एक आयताकार समांतर चतुर्भुज की लंबाई, चौड़ाई और ऊँचाई 5 सेंटीमीटर, 4 सेंटीमीटर और 3 सेंटीमीटर है, तो इसका आयतन है:
	60 cm ³ 60 घन सेंटीमीटर
	12 cm ³ 12 घन सेंटीमीटर
	45 cm ³ 45 घन सेंटीमीटर
	20 cm ³ 20 घन सेंटीमीटर

Q.No: 115	The total number of edges in a rectangular parallelepiped is: एक आयताकार समांतर चतुर्भुज में भुजाओं की कुल संख्या है:
	12 12
	8 8
	6 6
	4 4

Q.No: 116	The area of the base of a rectangular parallelepiped is 30 cm ² , and its height is 10 cm. Find its volume. एक आयताकार समांतर चतुर्भुज के आधार का क्षेत्रफल 30 वर्ग सेंटीमीटर है और इसकी ऊँचाई 10 सेंटीमीटर है। इसका आयतन ज्ञात कीजिए।
	200 cm ³ 200 घन सेंटीमीटर
	250 cm ³ 250 घन सेंटीमीटर
	300 cm ³ 300 घन सेंटीमीटर
	350 cm ³ 350 घन सेंटीमीटर

Q.No: 117	The sum of the lengths of all edges of a cuboid is 64 cm. If its length is 8 cm and breadth is 4 cm, find the height. एक घनाभ के सभी भुजाओं की लंबाइयों का योग 64 सेंटीमीटर है। यदि इसकी लंबाई 8 सेंटीमीटर और चौड़ाई 4 सेंटीमीटर है, तो ऊँचाई ज्ञात कीजिए।
	4 cm 4 सेंटीमीटर
	5 cm 5 सेंटीमीटर

6 cm 6 सेंटीमीटर	
8 cm 8 सेंटीमीटर	

[Click Here to Challenge Question No.: 118](#)

Q.No: 118	A sphere is inscribed in a cube. If the total surface area of the cube is 600 cm^2 , what is the volume of the sphere? एक घन के अंदर एक गोला अंकित है। यदि घन का कुल पृष्ठीय क्षेत्रफल 600 सेमी^2 , तो गोले का आयतन क्या है?
	$\frac{500\pi}{3} \text{ cm}^3$ $\frac{500\pi}{3} \text{ सेमी}^3$
	$100\pi \text{ cm}^3$ $100\pi \text{ सेमी}^3$
	$\frac{1000\pi}{3} \text{ cm}^3$ $\frac{1000\pi}{3} \text{ सेमी}^3$
	$250\pi \text{ cm}^3$ $250\pi \text{ सेमी}^3$

[Click Here to Challenge Question No.: 119](#)

Q.No: 119	A cone is cut by a plane parallel to its base, dividing it into two parts: an upper, smaller cone and a lower frustum. If the height of the upper, smaller cone is half the height of the original cone, what is the ratio of the volume of the upper cone to the volume of the lower frustum? एक शंकु को उसके आधार के समांतर एक समतल द्वारा काटा जाता है, जिससे वह दो भागों में विभाजित हो जाता है: एक ऊपरी, छोटा शंकु और एक निचला छिन्नक। यदि ऊपरी, छोटे शंकु की ऊँचाई मूल शंकु की ऊँचाई की आधी है, तो ऊपरी शंकु के आयतन और निचले छिन्नक के आयतन का अनुपात क्या है?
	7 : 1 7 : 1
	1 : 7 1 : 7
	5 : 1 5 : 1
	6 : 1 6 : 1

Not Answered

[Click Here to Challenge Question No.: 120](#)

Q.No: 120	A right prism has a hexagonal base with an area of 80 cm^2 and a height of 12 cm . Find the lateral surface area. एक लम्ब प्रिज्म का आधार षट्कोणीय है, जिसका क्षेत्रफल 80 वर्ग सेंटीमीटर और ऊँचाई 12 सेंटीमीटर है। इसका पार्श्व पृष्ठीय क्षेत्रफल ज्ञात कीजिए।
	480 cm^2 480 वर्ग सेंटीमीटर
	500 cm^2 500 वर्ग सेंटीमीटर

520 cm²
520 वर्ग सेंटीमीटर

400 cm²
400 वर्ग सेंटीमीटर

Not Answered

[Click Here to Challenge Question No.: 121](#)

Q.No: 121 The product of $5xy^2z$ and $7xz^2$ is:
5xy²z और 7xz² का गुणनफल है:

12xyz
12xyz

$35x^2z^3$
 $35x^2z^3$

$32x^2y^2z^3$
 $32x^2y^2z^3$

$35x^2y^2z^3$
 $35x^2y^2z^3$

[Click Here to Challenge Question No.: 122](#)

Q.No: 122 If we multiply $(-6ab)$ and $(11ab^2c)$, then we get:
अगर हम $(-6ab)$ और $(11ab^2c)$ को गुणा करें, तो हमें प्राप्त होता है:

$66a^2b^3c$
 $66a^2b^3c$

$-66a^2b^3c$
 $-66a^2b^3c$

$-11a^2b^3c$
 $-11a^2b^3c$

$-66abc$
 $-66abc$

[Click Here to Challenge Question No.: 123](#)

Q.No: 123 Simplify: $(2.1 + 3\frac{1}{5}) \div 1.1$
सरल करें: $(2.1 + 3\frac{1}{5}) \div 1.1$

5
5

4.5
4.5

4.8
4.8

6
6

[Click Here to Challenge Question No.: 124](#)

Q.No: 124	If the exterior angle of a regular polygon is equal to its interior angle, how many sides does the polygon have? यदि एक नियमित बहुभुज का बाह्य कोण उसके आंतरिक कोण के बराबर है, तो बहुभुज में कितनी भुजाएँ होंगी?
	4
	4
	5
	5
	6
	6
	7
	7

[Click Here to Challenge Question No.: 125](#)

Q.No: 125	A cylindrical rod is 1.6 meters long. It is cut into pieces each $\frac{3}{5}$ meter long. How many such full pieces can be made, and what length remains? एक बेलनाकार छड़ 1.6 मीटर लंबी है। इसे $\frac{3}{5}$ मीटर लंबे टुकड़ों में काटा जाता है। ऐसे कितने पूरे टुकड़े बनाए जा सकते हैं, और कितनी लंबाई बचती है?
	2 pieces, $\frac{2}{5}$ m left 2 टुकड़े, $\frac{2}{5}$ मीटर बचती है
	2 pieces, $\frac{3}{5}$ m left 2 टुकड़े, $\frac{3}{5}$ मीटर बचती है
	3 pieces, $\frac{1}{5}$ m left 3 टुकड़े, $\frac{1}{5}$ मीटर बचती है
	3 pieces, $\frac{2}{5}$ m left 3 टुकड़े, $\frac{2}{5}$ मीटर बचती है

[Click Here to Challenge Question No.: 126](#)

Q.No: 126	A polygon has a total of 35 diagonals. How many sides does the polygon have? एक बहुभुज में कुल 35 विकर्ण हैं। बहुभुज में कितनी भुजाएँ हैं?
	12
	12
	13
	13
	11
	11
	10
	10

Not Answered

[Click Here to Challenge Question No.: 127](#)

Q.No: 127	The number of sides of two regular polygons are in the ratio 4:3. If the difference between their exterior angles is 10° , find the number of sides in each polygon. दो सम बहुभुजों की भुजाओं की संख्या 4:3 के अनुपात में है। यदि उनके बाह्य कोणों का अंतर 10° है, तो प्रत्येक बहुभुज में भुजाओं की संख्या ज्ञात कीजिए।
	7, 9 7, 9
	16, 18 16, 18
	12, 9 12, 9
	14, 8 14, 8

[Click Here to Challenge Question No.: 128](#)

Q.No: 128	A man walks at a speed of \sqrt{x} km/hr. After 2 hours, he has covered the same number of kilometers as the value of x . What is the value of x ? एक आदमी \sqrt{x} किमी/घंटे की गति से चलता है। 2 घंटे बाद, वह x के मान के बराबर किमी तय कर लेता है। x का मान क्या है
	4 4
	9 9
	16 16
	25 25

[Click Here to Challenge Question No.: 129](#)

Q.No: 129	What is the area of a triangle with vertices at (1,2), (5,8), and (10,3)? (1,2), (5,8) और (10,3) शीर्षों वाले त्रिभुज का क्षेत्रफल क्या है?
	10 square units 10 वर्ग इकाइयाँ
	15 square units 15 वर्ग इकाइयाँ
	20 square units 20 वर्ग इकाइयाँ
	25 square units 25 वर्ग इकाइयाँ

Not Answered

[Click Here to Challenge Question No.: 130](#)

Q.No: 130	An equilateral triangle has a side length of 24 cm. What is the radius of its circumcircle? एक समबाहु त्रिभुज की भुजा की लंबाई 24 सेमी है। इसके परिवृत्त की त्रिज्या क्या है?
	11.68 cm 11.68 सेमी

	13.28 cm 13.28 सेमी	https://sscstudy.com/
	13.86 cm 13.86 सेमी	
	14.22 cm 14.22 सेमी	
Not Answered		

Click Here to Challenge Question No.: 131		
Q.No: 131	A rhombus whose diagonals are 12 cm and 15 cm. Find the area of the rhombus. यदि एक समचतुर्भुज के विकर्ण की लंबाई 12 सेंटीमीटर और 15 सेंटीमीटर हैं, तो समचतुर्भुज का क्षेत्रफल ज्ञात कीजिए।	
	90 cm ² 90 वर्ग सेंटीमीटर	
	48 cm ² 48 वर्ग सेंटीमीटर	
	72 cm ² 72 वर्ग सेंटीमीटर	
	64 cm ² 64 वर्ग सेंटीमीटर	

Click Here to Challenge Question No.: 132		
Q.No: 132	What is the width of a rectangle which has a 60 cm perimeter and length of 20 cm? यदि एक आयत का परिमाप 60 सेंटीमीटर और लंबाई 20 सेंटीमीटर है, तो इसकी चौड़ाई कितनी है?	
	10 cm 10 सेंटीमीटर	
	5 cm 5 सेंटीमीटर	
	15 cm 15 सेंटीमीटर	
	20 cm 20 सेंटीमीटर	

Click Here to Challenge Question No.: 133		
Q.No: 133	A solid cone with a radius of 6 cm and a height of 8 cm is melted and recast into small spheres, each having a radius of 2 cm. How many such spheres can be formed? 6 सेंटीमीटर त्रिज्या और 8 सेंटीमीटर ऊँचाई वाले एक ठोस शंकु को पिघलाकर छोटे गोले बनाए जाते हैं, जिनमें से प्रत्येक की त्रिज्या 2 सेंटीमीटर है। ऐसे कितने गोले बनाए जा सकते हैं?	
	8 8	
	9 9	
	10 10	
	11 11	

[Click Here to Challenge Question No.: 134](#)

Q.No: 134	<p>If a customer gets a discount of Rs. 144 on a product originally priced at Rs. 960, and is later charged 18% GST on the discounted price, what is the final bill amount?</p> <p>अगर किसी ग्राहक को 960 रुपये की मूल कीमत वाले उत्पाद पर 144 रुपये की छूट मिलती है, और बाद में उससे रियायती मूल्य पर 18% जीएसटी वसूला जाता है, तो अंतिम बिल राशि क्या है?</p>
	<p>Rs. 742.88</p> <p>742.88 रुपये</p>
	<p>Rs. 834.88</p> <p>834.88 रुपये</p>
	<p>Rs. 882.88</p> <p>882.88 रुपये</p>
	<p>Rs. 962.88</p> <p>962.88 रुपये</p>

[Click Here to Challenge Question No.: 135](#)

Q.No: 135	<p>If the sides of a parallelogram are in the ratio 3:4 and its perimeter is 84 cm, the longer side is:</p> <p>यदि एक समांतर चतुर्भुज की भुजाओं का अनुपात 3:4 है और इसका परिमाप 84 सेंटीमीटर है, तो लंबी भुजा क्या होगी?</p>
	<p>24 cm</p> <p>24 सेंटीमीटर</p>
	<p>35 cm</p> <p>35 सेंटीमीटर</p>
	<p>26 cm</p> <p>26 सेंटीमीटर</p>
	<p>25 cm</p> <p>25 सेंटीमीटर</p>

[Click Here to Challenge Question No.: 136](#)

Q.No: 136	<p>A store advertises, "Buy items worth Rs. 3000, get Rs. 500 off instantly." What is the effective discount percentage?</p> <p>एक स्टोर विज्ञापन देता है, "3000 रुपये की वस्तुएँ खरीदें, तुरंत 500 रुपये की छूट पाएँ।" प्रभावी छूट प्रतिशत क्या है?</p>
	<p>16.67%</p> <p>16.67%</p>
	<p>15.67%</p> <p>15.67%</p>
	<p>14.67%</p> <p>14.67%</p>
	<p>13.67%</p> <p>13.67%</p>

[Click Here to Challenge Question No.: 137](#)

Q.No: 137	<p>Convert 60° to radians.</p> <p>60° को रेडियन में बदलें।</p>
-----------	--

	$\pi/4$ $\pi/4$
	$\pi/3$ $\pi/3$
	$\pi/2$ $\pi/2$
	$\pi/6$ $\pi/6$

[Click Here to Challenge Question No.: 138](#)

Q.No: 138	Convert 150° to radians. 150° को रेडियन में बदलें।
	5π 5π
	$5\pi/6$ $5\pi/6$
	$5\pi/4$ $5\pi/4$
	π π

[Click Here to Challenge Question No.: 139](#)

Q.No: 139	The radii of two right circular cylinders are in the ratio 2:5, and their heights are in the ratio 3:2. What is the ratio of their curved surface areas? दो लम्बवृत्तीय बेलनों की त्रिज्याएँ 2:5 के अनुपात में हैं और उनकी ऊँचाइयों का अनुपात 3:2 है। उनके वक्र पृष्ठीय क्षेत्रफलों का अनुपात क्या है?
	1:2 1:2
	3:5 3:5
	4:25 4:25
	9:4 9:4

[Click Here to Challenge Question No.: 140](#)

Q.No: 140	A right prism with a rectangular base has a perimeter of 28 cm and height 12 cm. What is its lateral surface area? एक आयताकार आधार वाले लम्ब प्रिज्म का परिमाप 28 सेमी और ऊँचाई 12 सेमी है। इसका पार्श्व पृष्ठीय क्षेत्रफल क्या है?
	312 cm^2 312 सेमी ²
	288 cm^2 288 सेमी ²
	360 cm^2 360सेमी ²
	336 cm^2

Not Answered

[Click Here to Challenge Question No.: 141](#)

Q.No: 141	20 girls can complete a work in 16 days. 16 boys can complete the same work in 15 days. What is the ratio between the capacity of a boy and a girl? 20 लड़कियाँ एक काम को 16 दिनों में पूरा कर सकती हैं। 16 लड़के उसी काम को 15 दिनों में पूरा कर सकते हैं। एक लड़के और एक लड़की की क्षमता के बीच का अनुपात क्या है?
	2:3
	2:3
	3:2
	3:2
	4:3
	4:3
	3:4
	3:4

[Click Here to Challenge Question No.: 142](#)

Q.No: 142	How much space does a hemisphere with a 7 cm radius occupy? 7 सेंटीमीटर त्रिज्या वाला एक अर्धगोला कितना स्थान घेरता है?
	618.66 cm ³ 618.66 घन सेंटीमीटर
	912.66cm ³ 912.66 घन सेंटीमीटर
	716.66cm ³ 716.66 घन सेंटीमीटर
	718.66 cm ³ 718.66 घन सेंटीमीटर

[Click Here to Challenge Question No.: 143](#)

Q.No: 143	If a cone has a base radius of 5 cm and a perpendicular height of 12 cm, what is the volume? यदि एक शंकु के आधार की त्रिज्या 5 सेंटीमीटर तथा लंबवत ऊंचाई 12 सेंटीमीटर है, तो इसका आयतन कितना है?
	250π cm ² 250π वर्ग सेंटीमीटर
	120π cm ² 120π वर्ग सेंटीमीटर
	90π cm ² 90π वर्ग सेंटीमीटर
	100π cm ² 100π वर्ग सेंटीमीटर

[Click Here to Challenge Question No.: 144](#)

Q.No: 144	Find the radius of the circle if the length of the chord is 8 cm and the perpendicular distance from the center of the circle is 3 cm अगर जीवा की लंबाई 8 सेमी है और वृत्त के केंद्र से लंबवत दूरी 3 सेमी है, तो वृत्त की त्रिज्या ज्ञात कीजिए।
	4 cm 4 सेमी
	5 cm 5 सेमी
	6 cm 6 सेमी
	7 cm 7 सेमी

[Click Here to Challenge Question No.: 145](#)

Q.No: 145	In a right-angled triangle, where is the orthocenter located? एक समकोण त्रिभुज में लंबकेन्द्र कहाँ स्थित होता है?
	Outside the triangle त्रिभुज के बाहर
	Midpoint of the hypotenuse कर्ण के मध्यबिंदु
	At the centroid केन्द्रक पर
	At the right-angled vertex समकोण शीर्ष पर

[Click Here to Challenge Question No.: 146](#)

Q.No: 146	A cone is cut parallel to its base at half its height. What is the ratio of volumes of the two parts? एक शंकु को उसके आधार के समानांतर उसकी आधी ऊँचाई पर काटा गया है। दोनों भागों के आयतन का अनुपात क्या है?
	1 : 7 1 : 7
	1 : 3 1 : 3
	1 : 4 1 : 4
	1 : 5 1 : 5

Not Answered

[Click Here to Challenge Question No.: 147](#)

Q.No: 147	What is the ratio of the volume of a cone to that of a cylinder having the same base radius and height? एक शंकु और एक बेलन की आधार त्रिज्या और ऊँचाई समान है। शंकु और बेलन के आयतन का अनुपात कितना होगा?
	2 : 3 2 : 3
	3 : 5 3 : 5

1 : 3
1 : 3
1 : 4
1 : 4

[Click Here to Challenge Question No.: 148](#)

Q.No: 148	The radius of a circle is 12 cm. The length of a tangent drawn to this circle from a point at a distance of 15 cm from its center is एक वृत्त की त्रिज्या 12 सेमी है। वृत्त के केंद्र से 15 सेमी की दूरी पर स्थित एक बिंदु से इस वृत्त पर खींची गई स्पर्श रेखा की लंबाई क्या है?
	15 cm 15 सेमी
	12 cm 12 सेमी
	9 cm 9 सेमी
	6 cm 6 सेमी

[Click Here to Challenge Question No.: 149](#)

Q.No: 149	How many distinct triangles can be formed by selecting any three vertices of a hexagon? एक षट्भुज के किन्हीं तीन शीर्षों का चयन करके कितने भिन्न त्रिभुज बनाए जा सकते हैं?
	20 20
	30 30
	60 60
	120 120

Not Answered

[Click Here to Challenge Question No.: 150](#)

Q.No: 150	$\cos \theta = \frac{3}{5}$, find $\tan \theta$ $\cos \theta = 3/5$, $\tan \theta$ का मान ज्ञात कीजिए।
	$\frac{4}{3}$ $\frac{4}{3}$
	$\frac{2}{3}$

$$\frac{2}{3}$$

$$\frac{2}{5}$$
$$\frac{2}{5}$$

$$\frac{5}{2}$$
$$\frac{2}{5}$$
$$\frac{5}{2}$$



CANDIDATE RESPONSE SHEET/GRIEVANCE SYSTEM

[View Your Responses](#)[Click Here to View Grievance Questions](#)Admin loggedin.[[Logout](#)]

Roll No.

Exam Level

:

Test Date

: 12 Dec 2025

Test Time and Shift

: 01:30 PM (Shift-2)

Correct Option selected

Wrong Option selected

Correct Option

Not Answered

[Save / Print](#)**Undertaking by the candidate :**

I acknowledge that this saved question paper is for my personal use and self-analysis only. I understand that sharing, distributing, or using it for commercial or any other purposes is strictly prohibited and may lead to legal action as per applicable acts, rules and regulations.

Note:

The candidates may note that in the challenge module the sequence of the questions and the options may be different from how it appeared during the examination. This is because in the challenge module the sequence of the questions as well as the answers will be the same for all the candidates who appeared in a particular shift while during the actual examination these sequences were different for different candidates. However the answer key selected by the candidates during the examination will exactly be reflected in the challenge module.

[Click Here for PART-A](#)[Click Here for PART-B](#)[Click Here for PART-C](#)[Click Here for PART-D](#)**PART-D (English Comprehension)**[Click Here to Challenge Question No.: 151](#)

Q.No: 151 Identify the correct spelling of the misspelled word.

☒ assets☐ assests☐ assetts☐ asests[Click Here to Challenge Question No.: 152](#)

Q.No: 152 Identify the correct spelling of the misspelled word "convincable".

☐ convincing☒ convincible☐ convinciable

[Click Here to Challenge Question No.: 153](#)

Q.No: 153 Select the most appropriate option to fill in the blank.

He was late because he _____ heavy traffic on the way to work.

☒ ran into

☐ looked into

☒ got through

☐ kept up
[Click Here to Challenge Question No.: 154](#)

Q.No: 154 Read the passage and answer the questions:

The genesis of railway transportation marks one of humanity's most transformative engineering feats, profoundly reshaping industrial, social, and economic landscapes. Early prototypes, such as horse-drawn wagonways in 16th-century Europe, represented rudimentary precursors to modern trains, utilizing wooden rails to minimize friction and facilitate the movement of goods across short distances.

The true revolution, however, ignited in the early 19th century with the advent of steam locomotives. Pioneers like George Stephenson, whose famous "Rocket" epitomized technological prowess, demonstrated the unprecedented potential of steam power to move both people and cargo efficiently. This innovation catalyzed the Industrial Revolution, knitting distant regions into cohesive economic fabrics and accelerating urbanization at an unparalleled pace.

Throughout the 20th century, the ascendancy of diesel and electric locomotives superseded steam technology, offering greater efficiency, reliability, and environmental benefits. Bullet trains, inaugurated in Japan as the Shinkansen in 1964, redefined expectations regarding speed, safety, and technological sophistication, inspiring global high-speed rail networks. In the contemporary era, magnetic levitation (maglev) trains and hyperloop prototypes promise to further erode the barriers of distance and time, potentially rendering conventional rail obsolete.

Yet, amid this rapid evolution, trains remain emblematic not merely of mechanical ingenuity but of societal progression — testaments to human ambition to connect, accelerate, and transcend physical limitations. The trajectory of railway innovation encapsulates a narrative of relentless adaptation, one wherein each epochal shift reflects broader socio-technological metamorphoses.

Identify the tense and voice used in the sentence:

"Early prototypes, such as horse-drawn wagon ways in 16th-century Europe, represented rudimentary precursors to modern trains..."

☒ Past Perfect Passive

☒ Simple Past Active

☐ Present Perfect Active

☐ Past Continuous Passive
[Click Here to Challenge Question No.: 155](#)

Q.No: 155	<p>Read the passage and answer the questions:</p> <p>The genesis of railway transportation marks one of humanity's most transformative engineering feats, profoundly reshaping industrial, social, and economic landscapes. Early prototypes, such as horse-drawn wagonways in 16th-century Europe, represented rudimentary precursors to modern trains, utilizing wooden rails to minimize friction and facilitate the movement of goods across short distances.</p> <p>The true revolution, however, ignited in the early 19th century with the advent of steam locomotives. Pioneers like George Stephenson, whose famous "Rocket" epitomized technological prowess, demonstrated the unprecedented potential of steam power to move both people and cargo efficiently. This innovation catalyzed the Industrial Revolution, knitting distant regions into cohesive economic fabrics and accelerating urbanization at an unparalleled pace.</p> <p>Throughout the 20th century, the ascendancy of diesel and electric locomotives superseded steam technology, offering greater efficiency, reliability, and environmental benefits. Bullet trains, inaugurated in Japan as the Shinkansen in 1964, redefined expectations regarding speed, safety, and technological sophistication, inspiring global high-speed rail networks. In the contemporary era, magnetic levitation (maglev) trains and hyperloop prototypes promise to further erode the barriers of distance and time, potentially rendering conventional rail obsolete.</p> <p>Yet, amid this rapid evolution, trains remain emblematic not merely of mechanical ingenuity but of societal progression — testaments to human ambition to connect, accelerate, and transcend physical limitations. The trajectory of railway innovation encapsulates a narrative of relentless adaptation, one wherein each epochal shift reflects broader socio-technological metamorphoses.</p> <p>What grammatical function does the phrase <i>"utilizing wooden rails to minimize friction"</i> serve in the sentence?</p> <p>"Early prototypes, such as horse-drawn wagon ways in 16th-century Europe, represented rudimentary precursors to modern trains, utilizing wooden rails to minimize friction and facilitate the movement of goods..."</p>
	Adjective clause modifying "wagon ways"
	Adverbial phrase explaining the manner
	Noun clause functioning as object
	Gerund phrase acting as the subject

[Click Here to Challenge Question No.: 156](#)

Q.No: 156	<p>Read the passage and answer the questions:</p> <p>The genesis of railway transportation marks one of humanity's most transformative engineering feats, profoundly reshaping industrial, social, and economic landscapes. Early prototypes, such as horse-drawn wagonways in 16th-century Europe, represented rudimentary precursors to modern trains, utilizing wooden rails to minimize friction and facilitate the movement of goods across short distances.</p> <p>The true revolution, however, ignited in the early 19th century with the advent of steam locomotives. Pioneers like George Stephenson, whose famous "Rocket" epitomized technological prowess, demonstrated the unprecedented potential of steam power to move both people and cargo efficiently. This innovation catalyzed the Industrial Revolution, knitting distant regions into cohesive economic fabrics and accelerating urbanization at an unparalleled pace.</p> <p>Throughout the 20th century, the ascendancy of diesel and electric locomotives superseded steam technology, offering greater efficiency, reliability, and environmental benefits. Bullet trains, inaugurated in Japan as the Shinkansen in 1964, redefined expectations regarding speed, safety, and technological sophistication, inspiring global high-speed rail networks. In the contemporary era, magnetic levitation (maglev) trains and hyperloop prototypes promise to further erode the barriers of distance and time, potentially rendering conventional rail obsolete.</p> <p>Yet, amid this rapid evolution, trains remain emblematic not merely of mechanical ingenuity but of societal progression — testaments to human ambition to connect, accelerate, and transcend physical limitations. The trajectory of railway innovation encapsulates a narrative of relentless adaptation, one wherein each epochal shift reflects broader socio-technological metamorphoses.</p> <p>In the passage, what is the closest meaning of the word "superseded"?</p>
	Upgraded
	Replaced
	Abandoned
	Destroyed

Q.No: 157 Read the passage and answer the questions:

The genesis of railway transportation marks one of humanity's most transformative engineering feats, profoundly reshaping industrial, social, and economic landscapes. Early prototypes, such as horse-drawn wagonways in 16th-century Europe, represented rudimentary precursors to modern trains, utilizing wooden rails to minimize friction and facilitate the movement of goods across short distances.

The true revolution, however, ignited in the early 19th century with the advent of steam locomotives. Pioneers like George Stephenson, whose famous "Rocket" epitomized technological prowess, demonstrated the unprecedented potential of steam power to move both people and cargo efficiently. This innovation catalyzed the Industrial Revolution, knitting distant regions into cohesive economic fabrics and accelerating urbanization at an unparalleled pace.

Throughout the 20th century, the ascendancy of diesel and electric locomotives superseded steam technology, offering greater efficiency, reliability, and environmental benefits. Bullet trains, inaugurated in Japan as the Shinkansen in 1964, redefined expectations regarding speed, safety, and technological sophistication, inspiring global high-speed rail networks. In the contemporary era, magnetic levitation (maglev) trains and hyperloop prototypes promise to further erode the barriers of distance and time, potentially rendering conventional rail obsolete.

Yet, amid this rapid evolution, trains remain emblematic not merely of mechanical ingenuity but of societal progression — testaments to human ambition to connect, accelerate, and transcend physical limitations. The trajectory of railway innovation encapsulates a narrative of relentless adaptation, one wherein each epochal shift reflects broader socio-technological metamorphoses.

What is the meaning of the word "epochal" as used in the context:

"...each epochal shift reflects broader socio-technological metamorphoses."

Ancient

Minor

Highly significant or defining

Predictable

[Click Here to Challenge Question No.: 158](#)

Q.No: 158 Read the passage and answer the questions:

The genesis of railway transportation marks one of humanity's most transformative engineering feats, profoundly reshaping industrial, social, and economic landscapes. Early prototypes, such as horse-drawn wagonways in 16th-century Europe, represented rudimentary precursors to modern trains, utilizing wooden rails to minimize friction and facilitate the movement of goods across short distances.

The true revolution, however, ignited in the early 19th century with the advent of steam locomotives. Pioneers like George Stephenson, whose famous "Rocket" epitomized technological prowess, demonstrated the unprecedented potential of steam power to move both people and cargo efficiently. This innovation catalyzed the Industrial Revolution, knitting distant regions into cohesive economic fabrics and accelerating urbanization at an unparalleled pace.

Throughout the 20th century, the ascendancy of diesel and electric locomotives superseded steam technology, offering greater efficiency, reliability, and environmental benefits. Bullet trains, inaugurated in Japan as the Shinkansen in 1964, redefined expectations regarding speed, safety, and technological sophistication, inspiring global high-speed rail networks. In the contemporary era, magnetic levitation (maglev) trains and hyperloop prototypes promise to further erode the barriers of distance and time, potentially rendering conventional rail obsolete.

Yet, amid this rapid evolution, trains remain emblematic not merely of mechanical ingenuity but of societal progression — testaments to human ambition to connect, accelerate, and transcend physical limitations. The trajectory of railway innovation encapsulates a narrative of relentless adaptation, one wherein each epochal shift reflects broader socio-technological metamorphoses.

Which of the following best captures the overall tone of the passage?

Nostalgic and critical

Analytical and celebratory

Indifferent and factual

Cautionary and skeptical

[Click Here to Challenge Question No.: 159](#)

Q.No: 159 Choose the correct synonym for the word 'Ambiguous'

Clear

Specific

Mysterious

Vague

[Click Here to Challenge Question No.: 160](#)

Q.No: 160 Select the correct passive form of the given sentence.

We threw away the rubbish

The rubbish was thrown away

The rubbish thrown away

The rubbish was being thrown away

The rubbish will be thrown away

[Click Here to Challenge Question No.: 161](#)

Q.No: 161 Select the correct Passive form of the given sentence.
Where did you find my luggage?

Where was my luggage found?

Where do you found my luggage?

Where is my luggage found?

Where will my luggage be found?

[Click Here to Challenge Question No.: 162](#)

Q.No: 162 What is the system of government in which one person holds absolute and unrestricted power is called?

Autocracy

Autonomy

Bureaucracy

Democracy

Q.No: 163	Someone who dislike men is called.
<input checked="" type="checkbox"/>	Misandrist
<input type="checkbox"/>	Misogynist
<input type="checkbox"/>	Philanthropist
<input type="checkbox"/>	Manuscript

Q.No: 164	When some people or things are existing at the same time period in the society is called.
<input checked="" type="checkbox"/>	Contemporaries
<input type="checkbox"/>	Periods
<input type="checkbox"/>	Historical events
<input type="checkbox"/>	History

Q.No: 165	Choose the word that means the same as "Respect".
<input checked="" type="checkbox"/>	Deference
<input type="checkbox"/>	Vigorous
<input type="checkbox"/>	Blame
<input type="checkbox"/>	Criticize

Q.No: 166	Choose the word that means the same as "Criticize".
<input checked="" type="checkbox"/>	Censure
<input type="checkbox"/>	Abuse
<input type="checkbox"/>	Appreciate
<input type="checkbox"/>	Blame

Q.No: 167	Choose the word that is opposite in meaning to the given word "Lengthy".
-----------	--

	Concise
	Extended
	Elongated
	Protracted

[Click Here to Challenge Question No.: 168](#)

Q.No: 168	Choose the word that is opposite in meaning to the given word "Bashful".
	Loquacious
	Talkative
	Taciturn
	Diffident

[Click Here to Challenge Question No.: 169](#)

Q.No: 169	Choose the word that is opposite in meaning to the given word "Acquitted".
	Convicted
	Pardoned
	Exempted
	Liberated

[Click Here to Challenge Question No.: 170](#)

Q.No: 170	Which sentence uses "row" to mean a fight or noisy argument?
	We had a terrible row last night.
	He rowed the boat across the lake.
	They sat in the front row.
	There were ten chairs in each row.

[Click Here to Challenge Question No.: 171](#)

Q.No: 171	What does "bark" mean in: "The dog barked loudly at the stranger."
	A loud sound made by a dog
	Outer part of a tree
	A wooden texture

[Click Here to Challenge Question No.: 172](#)

Q.No: 172 In the following, there are four different words, out of which only one word is correctly spelt. Find the correctly spelt word.

☒ Fabulous

☐ Beautifal

☐ Marvelous

☐ Charmeng
[Click Here to Challenge Question No.: 173](#)

Q.No: 173 In the following, there are four different words, out of which only one word is correctly spelt. Find the correctly spelt word.

☒ Debacle

☐ Declini

☐ Downfal

☐ Discomfetur
[Click Here to Challenge Question No.: 174](#)

Q.No: 174 Direction: Identify the segment that contains a grammatical error. Milk products (A)/was provide protein (B)/for a nutritionally (C)/balalnced diet to everyone(D).

☒ was provide protein (B)

☐ Milk products (A)

☐ balalnced diet to everyone(D)

☐ for a nutritionally (C)
[Click Here to Challenge Question No.: 175](#)

Q.No: 175 Direction: Identify the segment that contains a grammatical error. The old man (A)/ died for(B) / a heart attack(C)/today(D).

☒ died for(B)

☐ The old man (A)

☐ a heart attack(C)

☐ today(D)

[Click Here to Challenge Question No.: 176](#)

Q.No: 176 Direction: Identify the segment that contains a grammatical error. It seems (A)/the I am themost(B)/ beautiful plant(C)/ in this forest(D).

the I am themost(B)

It seems (A)

in this forest(D).

beautiful plant(C)

[Click Here to Challenge Question No.: 177](#)

Q.No: 177 Select the most appropriate option to fill in the blanks: The other youths ----- to talk about their seeds and the plants.

began

begins

beginning

is began

[Click Here to Challenge Question No.: 178](#)

Q.No: 178 Select the most appropriate option to fill in the blanks: Lingaiah told his mother that he wasn't ----- take an empty box.

going to

going

goes

gone

[Click Here to Challenge Question No.: 179](#)

Q.No: 179 Select the most appropriate option to fill in the blanks: If you plant hard work, you will reap -----.

success

failure

time pass

knowledge

[Click Here to Challenge Question No.: 180](#)

Q.No: 180	Select the most appropriate option to substitute the underlined segment in the given sentence. A professor <u>begins</u> class by holding up a glass of water.
<input checked="" type="checkbox"/>	began
<input type="checkbox"/>	beginning
<input type="checkbox"/>	is began
<input type="checkbox"/>	was begins

[Click Here to Challenge Question No.: 181](#)

Q.No: 181	Select the most appropriate option to substitute the underlined segment in the given sentence. Now, the maid <u>is clean</u> the floor which is in the second stair.
<input checked="" type="checkbox"/>	is cleaning
<input type="checkbox"/>	cleaning
<input type="checkbox"/>	has cleaned
<input type="checkbox"/>	cleans

[Click Here to Challenge Question No.: 182](#)

Q.No: 182	<p>Read the passage below and choose the correct word for each blank.</p> <p>The rapid adoption of digital tools has revolutionized the field of education. Online platforms, interactive modules, and virtual classrooms have made learning more accessible and (1)_____ for students around the world. These technologies allow learners to progress at their own pace, revisit difficult concepts, and explore subjects beyond traditional syllabi. However, digital learning also brings certain challenges. Not all students have equal access to reliable internet or digital (2)_____, which creates a significant learning gap. Moreover, prolonged screen time and lack of real-world interaction can affect both physical health and social development. To address these issues, institutions must adopt a blended approach—one that combines the flexibility of digital content with the structure of face-to-face learning. Teachers must also be trained to effectively integrate technology into the classroom, ensuring that it enhances rather than (3)_____ the learning process. When used responsibly, digital education has the potential to (4)_____ barriers and bring quality instruction to even the most remote corners of the world. But for it to be truly effective, students must stay disciplined, motivated, and (5)_____ in their learning journey.</p> <p>(1)</p>
<input type="checkbox"/>	demanding
<input checked="" type="checkbox"/>	personalized
<input type="checkbox"/>	expensive
<input type="checkbox"/>	structured

[Click Here to Challenge Question No.: 183](#)

Q.No: 183

Read the passage below and choose the correct word for each blank.

<https://sscstudy.com/>

The rapid adoption of digital tools has revolutionized the field of education. Online platforms, interactive modules, and virtual classrooms have made learning more accessible and (1)_____ for students around the world. These technologies allow learners to progress at their own pace, revisit difficult concepts, and explore subjects beyond traditional syllabi. However, digital learning also brings certain challenges. Not all students have equal access to reliable internet or digital (2)_____, which creates a significant learning gap. Moreover, prolonged screen time and lack of real-world interaction can affect both physical health and social development. To address these issues, institutions must adopt a blended approach—one that combines the flexibility of digital content with the structure of face-to-face learning. Teachers must also be trained to effectively integrate technology into the classroom, ensuring that it enhances rather than (3)_____ the learning process. When used responsibly, digital education has the potential to (4)_____ barriers and bring quality instruction to even the most remote corners of the world. But for it to be truly effective, students must stay disciplined, motivated, and (5)_____ in their learning journey.

(2)

curriculum

storage

devices

textbooks

[Click Here to Challenge Question No.: 184](#)

Q.No: 184

Read the passage below and choose the correct word for each blank.

The rapid adoption of digital tools has revolutionized the field of education. Online platforms, interactive modules, and virtual classrooms have made learning more accessible and (1)_____ for students around the world. These technologies allow learners to progress at their own pace, revisit difficult concepts, and explore subjects beyond traditional syllabi. However, digital learning also brings certain challenges. Not all students have equal access to reliable internet or digital (2)_____, which creates a significant learning gap. Moreover, prolonged screen time and lack of real-world interaction can affect both physical health and social development. To address these issues, institutions must adopt a blended approach—one that combines the flexibility of digital content with the structure of face-to-face learning. Teachers must also be trained to effectively integrate technology into the classroom, ensuring that it enhances rather than (3)_____ the learning process. When used responsibly, digital education has the potential to (4)_____ barriers and bring quality instruction to even the most remote corners of the world. But for it to be truly effective, students must stay disciplined, motivated, and (5)_____ in their learning journey.

(3)

disrupts

ignores

replicates

delays

[Click Here to Challenge Question No.: 185](#)<https://sscstudy.com/>

Q.No: 185	<p>Read the passage below and choose the correct word for each blank.</p> <p>The rapid adoption of digital tools has revolutionized the field of education. Online platforms, interactive modules, and virtual classrooms have made learning more accessible and (1)_____ for students around the world. These technologies allow learners to progress at their own pace, revisit difficult concepts, and explore subjects beyond traditional syllabi. However, digital learning also brings certain challenges. Not all students have equal access to reliable internet or digital (2)_____, which creates a significant learning gap. Moreover, prolonged screen time and lack of real-world interaction can affect both physical health and social development. To address these issues, institutions must adopt a blended approach—one that combines the flexibility of digital content with the structure of face-to-face learning. Teachers must also be trained to effectively integrate technology into the classroom, ensuring that it enhances rather than (3)_____ the learning process. When used responsibly, digital education has the potential to (4)_____ barriers and bring quality instruction to even the most remote corners of the world. But for it to be truly effective, students must stay disciplined, motivated, and (5)_____ in their learning journey.</p> <p>(4)</p>
	strengthen
	reinforce
	break
	challenge

[Click Here to Challenge Question No.: 186](#)

Q.No: 186	<p>Read the passage below and choose the correct word for each blank.</p> <p>The rapid adoption of digital tools has revolutionized the field of education. Online platforms, interactive modules, and virtual classrooms have made learning more accessible and (1)_____ for students around the world. These technologies allow learners to progress at their own pace, revisit difficult concepts, and explore subjects beyond traditional syllabi. However, digital learning also brings certain challenges. Not all students have equal access to reliable internet or digital (2)_____, which creates a significant learning gap. Moreover, prolonged screen time and lack of real-world interaction can affect both physical health and social development. To address these issues, institutions must adopt a blended approach—one that combines the flexibility of digital content with the structure of face-to-face learning. Teachers must also be trained to effectively integrate technology into the classroom, ensuring that it enhances rather than (3)_____ the learning process. When used responsibly, digital education has the potential to (4)_____ barriers and bring quality instruction to even the most remote corners of the world. But for it to be truly effective, students must stay disciplined, motivated, and (5)_____ in their learning journey.</p> <p>(5)</p>
	passive
	disengaged
	focused
	delayed

[Click Here to Challenge Question No.: 187](#)

Q.No: 187	<p>Choose the correct Active Voice form of the given sentence: The call was being made by Shyam.</p>
	Shyam makes the call.
	Shyam was making the call.
	Shyam made the call.
	The call made Shyam.

[Click Here to Challenge Question No.: 188](#)

Q.No: 188	Choose the correct direct sentence of the following sentence. He said that the lights had gone off during the storm.
	He said, "The lights go off during the storm."
	He said, "The lights had gone off during the storm."
	He said, "The lights went off during the storm."
	He said, "The lights have gone off during the storm."

[Click Here to Challenge Question No.: 189](#)

Q.No: 189	Choose the correct Active Voice form of the given sentence: The flight announcement was being made by the staff when I entered.
	The staff made the flight announcement when I entered.
	The flight announcement made the staff when I entered.
	The staff was making the flight announcement when I entered.
	The staff has made the flight announcement when I entered.

[Click Here to Challenge Question No.: 190](#)

Q.No: 190	Choose the correct direct sentence of the following sentence. He said that the committee had decided to postpone the event.
	He said, "The committee has decided to postpone the event."
	He said, "The committee had decided to postpone the event."
	He said, "The event was postponed by the committee."
	He said, "The committee would postpone the event."

[Click Here to Challenge Question No.: 191](#)

Q.No: 191	Choose the correct option to rearrange the following sentences to form a coherent paragraph: A. The new recruit saluted with nervous energy. B. The sergeant nodded with a knowing smile. C. He remembered his own first day on duty. D. Time had taught him both discipline and patience.
	A B C D
	C B D A
	A C D B

[Click Here to Challenge Question No.: 192](#)

- Q.No: 192 Choose the correct option to rearrange the following sentences:
- A. His voice cracked as he addressed the crowd.
 - B. The room was filled with faces of people he once knew.
 - C. Not all were welcoming.
 - D. But he had something important to say.

B A C D

A B C D

A C B D

D A B C

[Click Here to Challenge Question No.: 193](#)

- Q.No: 193 Choose the correct option to rearrange the following sentences:
- A. The experiment had failed for the third time.
 - B. Colleagues began whispering behind closed doors.
 - C. Still, she believed in the data.
 - D. Truth, she knew, wasn't always popular.

A B C D

B A C D

A C B D

C A D B

[Click Here to Challenge Question No.: 194](#)

- Q.No: 194 Choose the right meaning of the idiom 'go the extra mile' in the sentence:
The team went the extra mile to meet the client's needs.

Took a long route

Made additional effort

Spent more money

Traveled abroad

[Click Here to Challenge Question No.: 195](#)

- Q.No: 195 Select the correct meaning of the idiom 'kick the bucket' as used in the sentence below:
He passed on all his belongings to his nephew before he kicked the bucket.

Went on vacation

Died

	Bought a farm	https://sscstudy.com/
	Got angry	

Click Here to Challenge Question No.: 196		
Q.No: 196	Choose the correct meaning of the idiom 'burned the midnight oil' as used in the sentence below: Jonathan and his friends burned the midnight oil to complete their final project.	
	Worked late at night	
	Slept well	
	Celebrated	
	Lit candles	

Click Here to Challenge Question No.: 197		
Q.No: 197	Choose the correct meaning of the idiom 'go the extra mile' in the sentence: She always goes the extra mile to support her students.	
	Travels more	
	Puts in extra effort	
	Avoids work	
	Gives directions	

Click Here to Challenge Question No.: 198		
Q.No: 198	Choose the correct indirect speech of the sentence: She said, "Why didn't anyone inform me about the change?"	
	She asked why had no one informed her about the change.	
	She said why was no one informing her.	
	She asked why no one had informed her about the change.	
	She asked why didn't anyone inform her about the change.	

Click Here to Challenge Question No.: 199		
Q.No: 199	Choose the correct indirect speech of the sentence: She said, "Don't you understand the seriousness of the matter?"	
	She asked why I didn't understand the serious matter.	
	She asked whether I didn't understand the seriousness of the matter.	
	She asked if I understood the seriousness of the matter.	

[Click Here to Challenge Question No.: 200](#)

Q.No: 200 Choose the most suitable option to replace the highlighted part of the sentence:
He is *more wiser than his brother*.

very wise than

more wise than

wiser to his brother

wiser than his brother